

چرا اقتصاد قاره‌ی اروپا پیشرفته است؟



شکل ۶۵ - کشاورزی پیشرفته در اروپا

انگور به عمل آید.

هم‌چنین در این منطقه، دامداری و دام‌پروری نیز با شیوه‌های علمی انجام می‌شود و میزان تولید محصولات گوشتی و لبنی زیاد است. بسیاری از فراورده‌های گوشتی و لبنی کشورهای چون هلند و دانمارک به خارج اروپا صادر می‌شود. صنعت ماهیگیری نیز به سبب دسترسی به دریاها و اقیانوس اطلس در اروپا رونق دارد و نروژ از کشورهای است که در این صنعت فعالیت چشمگیر دارد.

● قاره‌ی اروپا دارای منابع زیرزمینی از قبیل معادن زغال‌سنگ و نفت (در دریای شمال) است اما این منابع نمی‌تواند پاسخ‌گوی صنایع عظیم این قاره باشد؛ از این رو، اروپا برای ادامه‌ی حیات صنایع خود به منابع معدنی و مواد اولیه‌ی کشورهای دیگر نیاز دارد و واردکننده‌ی این مواد است. در گذشته، کشورهای اروپایی برای برآوردن نیاز خود به استعمار قاره‌های دیگر روی می‌آوردند؛ همان‌طور که می‌دانید توسعه‌ی کشورهای قاره‌ی اروپا بدون غارت منابع کشورهای دیگر جهان از جمله در آسیا و آفریقا ممکن نبود.

امروزه اروپا با استفاده از علم و فناوری جدید توانسته است از بزرگ‌ترین مناطق صنعتی جهان باشد. کالاهای صنعتی کشورهایی چون آلمان، انگلستان و فرانسه به سراسر جهان صادر می‌شود.

● کشاورزی تقریباً در همه‌جای اروپا رایج است و با استفاده از ماشین‌آلات مدرن و شیوه‌های علمی صورت می‌گیرد. در جنوب اروپا، آب و هوای مدیترانه‌ای سبب شده است که محصولات ویژه‌ای چون زیتون، مرکبات و



شکل ۶۶ - اروپا دارای حمل و نقل پیشرفته‌ای است؛ قطار فرانسوی T.G.V یکی از تندروترین قطارهای جهان است.



● قاره‌ی اروپا به دلیل داشتن مراکز فرهنگی و تاریخی فراوان نظیر موزه‌ها، کلیساها و دانشگاه‌ها، از گذشته مورد توجه گردشگران بوده است. جاذبه‌های طبیعی مانند سواحل زیبا و آفتابی اطراف دریای مدیترانه و ورزش‌های زمستانی در کوه‌های آلپ پیوسته مورد بازدید جهانگردان سراسر دنیا قرار می‌گیرند. اسپانیا، ایتالیا و فرانسه از جمله کشورهایی‌اند که از طریق ورود جهانگردان درآمدهای بسیار زیادی کسب می‌کنند.

شکل ۶۷ - برج ساعت بیگ‌بن در کنار رود تایمز - لندن



شکل ۶۸ - کوه‌های آلپ - ورزش‌های زمستانی



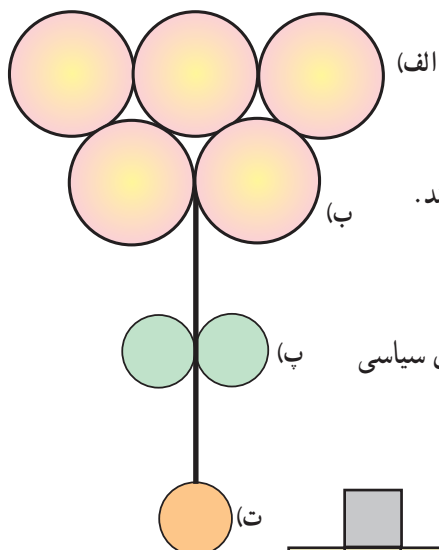
ب - صنایع فولاد ، ایتالیا



الف - صنعت کاغذ سازی ، سوئد

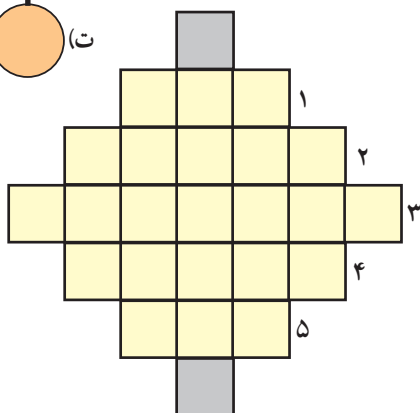
شکل ۶۹ - مراکز صنعتی در اروپا

- ۱ - چرا کشورهای اروپایی در گذشته به استعمار کشورهای دیگر می پرداختند؟
- ۲ - چرا کشاورزی اروپا پیشرفته است؟
- ۳ - در اروپا گردشگری رونق بسیار دارد. آیا می دانید چرا؟



۴ - پاسخ صحیح را در دایره‌ها بگذارید :

- الف - سه کشور اروپایی که صادرکننده‌ی کالاهای صنعتی‌اند.
- ب - دو کشور اروپایی که گردشگران و جهانگردان زیادی را جلب می‌کنند.
- پ - دو کشور اروپایی که صادرکننده‌ی لبنیات‌اند.
- ت - از فعال‌ترین کشورهای اروپایی در زمینه‌ی ماهیگیری صنعتی است.
- ۵ - نام کشورهایی را که در پاسخ به سؤال ۴ آورده می‌شود، روی نقشه‌ی سیاسی اروپا (شکل ۷۰) با علامت * مشخص کنید.



۶ - جدول زیر را کامل کنید :

- ۱ - از منابع زیرزمینی مهم دریای شمال
- ۲ - کشوری صنعتی در اروپا
- ۳ - یکی از کشورهای دیدنی در اروپا
- ۴ - محصول مهم مدیترانه‌ای
- ۵ - رشته کوه معروف اروپا برای ورزش‌های زمستانی

* تحقیق: با راهنمایی دبیر خود، به‌طور گروهی، درباره‌ی یکی از کشورهای اروپا یا یکی از موضوعات و مسائل جغرافیایی قاره‌ی اروپا تحقیق کنید و نتیجه را به صورت گزارش یا روزنامه‌ی دیواری به کلاس بیاورید.
چند موضوع پیشنهادی: رود دانوب، جاذبه‌های جهانگردی اروپا، نفت دریای شمال، آلودگی رودهای اروپا و صنایع اروپا.

اقیانوس منجمد شمالی

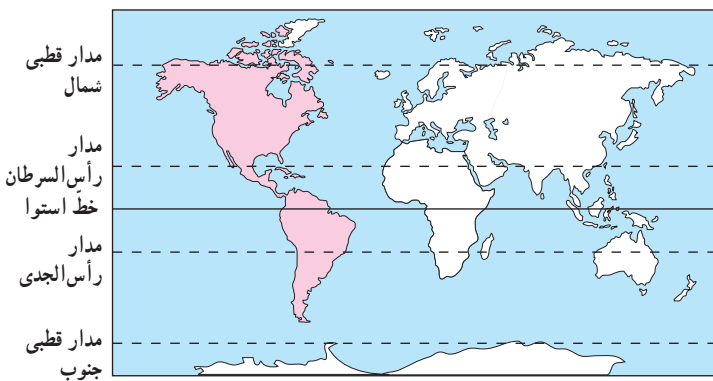


شکل ۷۱ - نقشه‌ی مصور اقتصادی اروپا

راه‌ها

	توتون		چغندر		معدن		گندم		چاه نفت		زیتون
	ماهیگیری		گاو شیری		معدن زغال‌سنگ		ذرت		استخراج نفت از کف دریا		کارخانه
	مرکبات		گوسفند		گاو گوشتی		انگور		چوب		

قاره‌ی آمریکا کجاست؟



شکل ۷۲ - نقشه‌ی موقعیت جغرافیایی قاره‌ی آمریکا

سه قاره‌ی آسیا، آفریقا و اروپا از گذشته‌های دور محل زندگی انسان‌ها بوده است؛ از این رو، به آن‌ها برّ قدیم می‌گویند اما به قاره‌ی آمریکا برّ جدید می‌گویند؛ چون، خیلی دیرتر از سایر قاره‌ها کشف و شناخته شد.

موقعیت جغرافیایی

قاره‌ی آمریکا بین کدام اقیانوس‌ها قرار گرفته است؟ تنگه‌ی برینگ مانند پلی است که آسیا را به آمریکا مربوط می‌کند. در گذشته‌های بسیار دور برخی از مردم آسیایی از آن گذشته، به آمریکا رفته و در آن‌جا ساکن شده‌اند. جزیره‌ی یخ‌بسته‌ی گرینلند در کدام سمت این قاره قرار دارد؟

● به شکل ۷۳ نگاه کنید. قاره‌ی آمریکا که از قطب شمال تا نزدیکی قطب جنوب کشیده شده، به دو بخش تقریباً مساوی تقسیم شده است: آمریکای شمالی و آمریکای جنوبی. این دو قسمت، خود به وسیله‌ی خشکی باریکی که آمریکای مرکزی نامیده می‌شود به یکدیگر متصل‌اند.

● پیش از حفر کانال پاناما، کشتی‌ها برای عبور از اقیانوس اطلس به اقیانوس آرام، مجبور بودند آمریکای جنوبی را دور بزنند ولی بعدها با حفر این کانال، دو اقیانوس به هم مرتبط شدند.

ناهمواری‌ها

* چین خوردگی‌های جوان و مرتفع: به شکل ۷۳ دقت کنید. رشته‌کوه‌های جوان و مرتفع آمریکا در امتداد کناره‌های کدام اقیانوس‌ها کشیده شده است؟

رشته‌کوه‌های راکی (روشوز) در آمریکای شمالی و رشته‌کوه‌های آند در آمریکای جنوبی، چین خوردگی‌های جوان آمریکا هستند. در این مناطق به دلیل ناآرام بودن پوسته‌ی زمین، آتش‌فشان‌ها و زمین‌لرزه‌های فراوانی رخ می‌دهد.

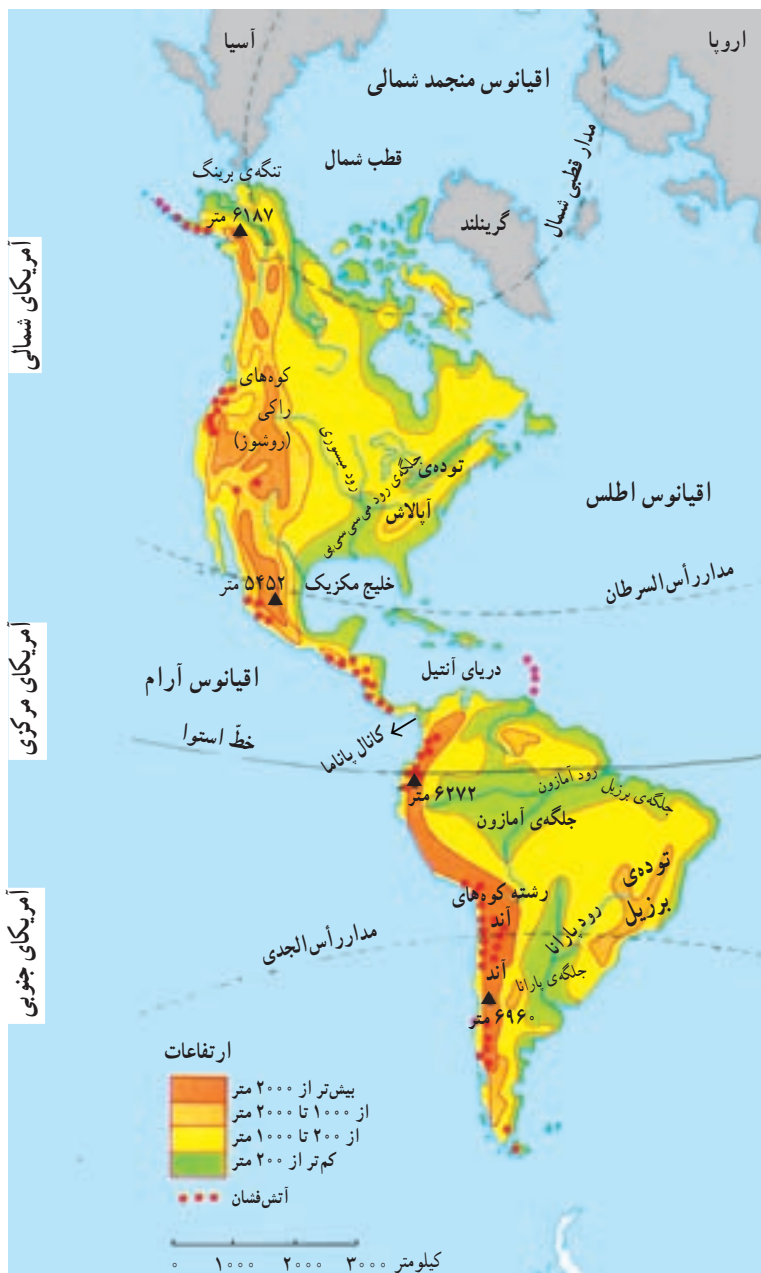


بیش‌تر بدانیم

کریستف کلمب

قاره‌ی آمریکا، برخلاف سایر قاره‌ها، تا اوایل قرن شانزدهم میلادی ناشناخته بود. در سال‌های ۱۵۰۶-۱۴۹۲ میلادی یک دریانورد ایتالیایی به نام کریستف کلمب که برای دربار پادشاهی اسپانیا کار می‌کرد، کوشید راه کوتاه‌تری برای رسیدن به هند و ثروت‌های آن بیابد. او آب‌های اقیانوس اطلس را با کشتی پیمود و به سواحل قاره‌ی آمریکا رسید ولی فکر می‌کرد که به هند رسیده است؛ از این رو، وی بومیان آن‌جا را هندی نامید.

بعدها، این قاره‌ی نو یافته را به‌خاطر نام آمریکو و سپس آمریکا نامیدند؛ زیرا، این دریانورد ایتالیایی وقتی به آن‌جا رسید، متوجه شد که به قاره‌ی جدیدی دست یافته است.



آمریکای مرکزی و جزایر دریای آنتیل نیز سرزمین آتش فشان‌ها و زمین‌لرزه‌هاست.

* کوه‌های کم ارتفاع قدیمی: در شرق آمریکای شمالی، توده‌ی کوهستانی قدیمی آپالاش و در شرق آمریکای جنوبی، توده‌ی فرسوده‌ی برزیل قرار دارد.

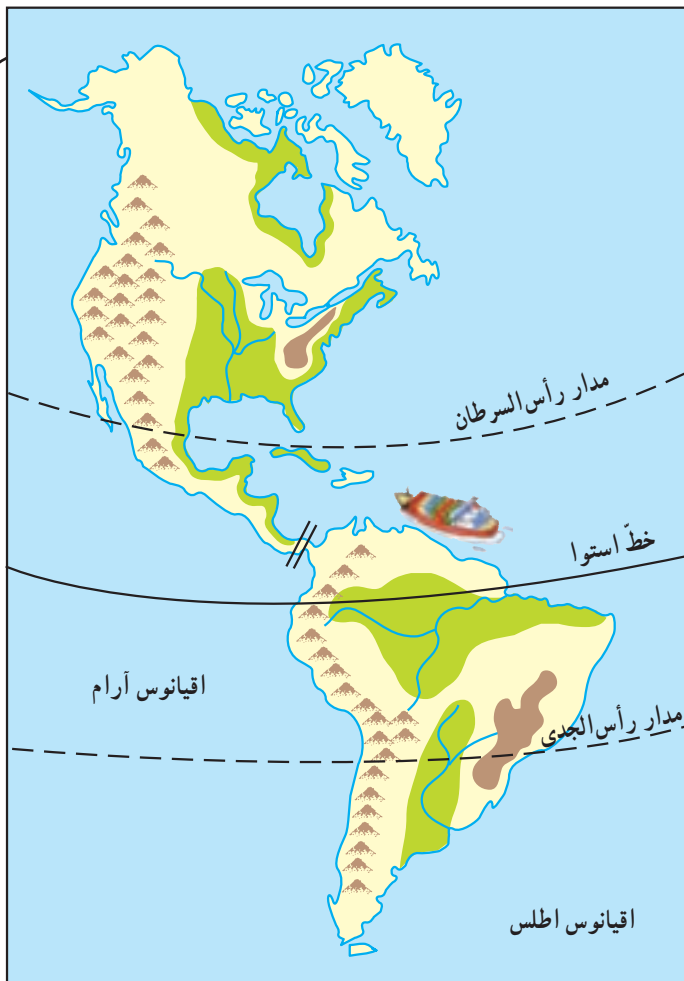
* جلگه‌ها: کدام رودها در آمریکای شمالی و جنوبی، جلگه‌هایی را پدید آورده‌اند؟ از به جای ماندن آبرفت‌های رود پرآب می‌سی‌سی‌پی در آمریکای شمالی، جلگه‌ی می‌سی‌سی‌پی به وجود آمده است و در آمریکای جنوبی نیز جلگه‌ی آمازون و جلگه‌ی پارانا از آبرفت این دو رود تشکیل شده‌اند. رود آمازون پرآب‌ترین رود جهان است.

شکل ۷۳ - ناهمواری‌های قاره‌ی آمریکا



شکل ۷۴ - کشتیرانی در کانال پاناما

فعالیت



- ۱ - چرا به قاره‌ی آمریکا برّ جدید می‌گویند؟
- ۲ - بر روی نقشه‌ی مقابل، موارد زیر را بیابید و شماره‌گذاری کنید:
 - ۱ - رشته‌کوه راکی، ۲ - توده‌ی برزیل،
 - ۳ - توده‌ی آپالاش، ۴ - رود آمازون، ۵ - رود پارانا،
 - ۶ - جلگه‌ی برزیل، ۷ - جلگه‌ی پارانا، ۸ - رود می‌سی‌سی‌پی، ۹ - رشته‌کوه آند، ۱۰ - جلگه‌ی می‌سی‌سی‌پی، ۱۱ - کانال پاناما، ۱۲ - اقیانوس اطلس، ۱۳ - اقیانوس آرام، ۱۴ - خلیج مکزیک.
- ۳ - چرا کانال پاناما حفر شده است؟
- ۴ - فرض کنید یک کشتی می‌خواهد از آب‌های اقیانوس اطلس به آب‌های اقیانوس آرام برود. کشتی می‌تواند از دو مسیر حرکت کند. این دو مسیر را روی نقشه ترسیم کنید. کدام مسیر کوتاه‌تر است؟ چرا؟



شکل ۷۶ - آتش‌فشان سنت‌هلن؛ که چندی قبل، پس از مدت‌ها خاموشی دوباره فعال شد و آتش‌فشان کرد.



شکل ۷۵ - رود آمازون از میان جنگل‌های انبوه استوایی می‌گذرد.

چرا آب و هوا و پوشش گیاهی قاره‌ی آمریکا از شمال به جنوب تغییر می‌کند؟



در درس‌های قبل آموختید که قاره‌ی آمریکا از قطب شمال تا نزدیکی قطب جنوب کشیده شده است. به همین سبب انواع آب و هوا و پوشش گیاهی در این قاره به چشم می‌خورد.

- به نقشه‌ی پوشش گیاهی (شکل ۷۷) توجه کنید.

در شمال آمریکای شمالی و جنوب آمریکای جنوبی، پوشش گیاهی توندرا وجود دارد. این مناطق به دلیل مجاورت با قطب شمال و قطب جنوب، آب و هوای قطبی دارند.

- در آمریکای شمالی پس از توندرا به جنگل‌های مخروطی (سوزنی‌برگ‌ها) می‌رسیم. این منطقه که در جنوب توندرا قرار گرفته است، آب و هوای سرد دارد. جنگل‌های مخروطی و آب و هوای سرد بیش‌تر در کشور کانادا مشاهده می‌شود.

- پس از این منطقه، در قسمت نسبتاً وسیعی از آمریکای شمالی، جنگل‌های پهن‌برگ منطقه‌ی معتدل روئیده است. وجود این نوع پوشش گیاهی به دلیل آب و هوای معتدل اقیانوسی است که در این بخش از آمریکا حکم فرماست.
- چنان‌که در نقشه مشاهده می‌کنید، اطراف استوا در آمریکای جنوبی پوشیده از جنگل‌های انبوه است. آب و هوای گرم و مرطوب استوایی، مناطقی چون آمریکای مرکزی و جزایر دریای آنتیل و بخش‌های شمالی، آمریکای جنوبی را دربر می‌گیرد.

- در آمریکای شمالی و آمریکای جنوبی بیابان‌هایی



بیش‌تر بدنیم

لاک پشت‌های غول‌پیکری در جزایر گالاپاگوس زندگی می‌کنند که طول قد برخی از آن‌ها تا ۱/۵ متر نیز می‌رسد. چون در گذشته آن‌ها را به منظور تهیه‌ی غذا زیاد شکار کرده‌اند، امروزه نسل آن‌ها در خطر انقراض قرار گرفته است.

شکل ۷۷- نقشه‌ی انواع پوشش گیاهی در آمریکا

راهنما:

<p>چمنزار علف‌های کوتاه قد و بوته‌ها که هم در کشورهای سردسیر و هم در کشورهای گرمسیر وجود دارند.</p>	<p>جنگل‌های پهن برگ درختان پهن برگ‌اند که بیش‌تر در نواحی معتدل می‌رویند؛ مانند: بلوط، سیب‌دار و ...</p>	<p>جنگل‌های انبوه گرمسیری (استوایی) این جنگل‌ها در نواحی‌ای که در تمامی طول سال گرما و رطوبت دارند، می‌رویند و برای حیات وحش خیلی غنی‌اند.</p>	<p>توندرا در مجاورت مدار قطبی، زمین‌ها به شدت یخ زده‌اند. در تابستان که برف‌های سطحی کمی ذوب می‌شود، خز و گل‌سنگ و گیاهان کوتاه‌قد می‌رویند.</p>
<p>ساوان علفزارهای بلند همراه با درختان پراکنده در منطقه‌ی گرمسیری. در این ناحیه یک فصل بارانی و یک فصل خشک وجود دارد.</p>	<p>جنگل‌های مخروطی (تایگا) درختانی که در سرمای زیاد قادر به بقا هستند؛ مانند سرو، کاج و سوزنی‌برگان</p>	<p>استپ بیابانی بیابان‌ها گرم‌ترین و خشک‌ترین نواحی دنیایند. در برخی از آن‌ها، استپ با گیاهان خاردار با فاصله از هم روئیده‌اند.</p>	<p>کوهستان‌ها در ارتفاعات هرچه بالاتر می‌رویم، هوا سردتر می‌شود و نوع پوشش گیاهی هم تغییر می‌کند.</p>

وجود دارد. نام این بیابان‌ها چیست؟
 هنگام روز، درجه‌ی حرارت در این بیابان‌ها به ۵۰ درجه‌ی سانتی‌گراد می‌رسد و در شب به صفر درجه‌ی سانتی‌گراد کاهش می‌یابد. چون کوه‌های بلند راکی و آنداز نفوذ رطوبت اقیانوس‌ها به این مناطق جلوگیری می‌کنند، میزان بارش در این بیابان‌ها بسیار ناچیز است.

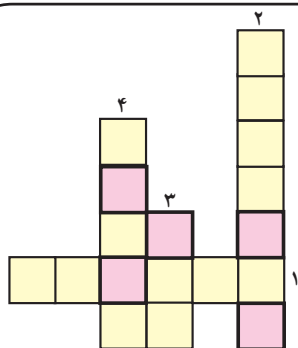


شکل ۷۹ - جنگل‌های سوزنی‌برگ، کبک کانادا



شکل ۷۸ - درختان گول‌پیکر صنوبر (چوب قرمز) کالیفرنیا، ایالات متحده‌ی آمریکا

فعالیت



* جدول را کامل کنید.

- ۱ - این نوع جنگل‌ها در آمریکای شمالی و کانادا دیده می‌شود.
- ۲ - نام بیابانی که در آمریکای جنوبی قرار گرفته است.
- ۳ - مناطق شمالی آمریکا دارای این نوع آب و هواست.
- ۴ - جنگل‌ها در مجاورت خط استوا به این صورت‌اند.

* حروفی را که در مربع‌های قرمز قرار دارند، کنار هم بگذارید تا کلمه‌ای به دست آید. کلمه‌ی به دست آمده رمز جدول خواهد بود که نام نوعی پوشش گیاهی است. این پوشش گیاهی در آمریکای شمالی دیده می‌شود یا آمریکای جنوبی؟ این نوع پوشش گیاهی بیانگر چه نوع آب و هوایی است؟

۵ - به دانش‌آموز برزیلی پاسخ دهید.



انسان‌ها در هر دقیقه، ۱۴ هکتار از جنگل‌های استوایی را از بین می‌برند. در آمریکای جنوبی و برزیل $\frac{1}{5}$ جنگل‌های آمازون در سی سال اخیر از بین رفته است. به جنگل‌های آمازون ریه‌های زمین می‌گویند؛ زیرا، این جنگل‌ها اکسیژن تولید کرده و گازکربنیک را جذب می‌کنند. اگر این جنگل‌ها از بین بروند، تولید گازکربنیک افزایش می‌یابد و تغییرات نامطلوبی در آب و هوا به وجود می‌آید، خاک‌ها فرسایش می‌یابد، حیات وحش از بین می‌رود و ...

آیا می‌توانید...

طرحی بکشید که در آن مردم را به مواظبت از جنگل‌ها و از بین نبردن آن‌ها تشویق کند. ما می‌خواهیم این طرح را به صورت پوستر چاپ کنیم.



دانش‌آموز برزیلی

جنگل‌های بارانی استوایی - برزیل

آیا آمریکا قاره‌ای با دو فرهنگ و تمدن مختلف است؟

* مردم قاره‌ی آمریکا از نژادها و تیره‌های گوناگون تشکیل شده‌اند. مهم‌ترین آن‌ها عبارت‌اند از:

● **بومیان:** سرخ‌پوستان ساکنان اصلی و قدیمی آمریکا است.



شکل ۸۰ - نقشه‌ی پراکنندگی نژادها در قاره‌ی آمریکا



شکل ۸۱ - مقر سازمان ملل متحد، نیویورک

● **سفیدپوستان:** از قرن شانزدهم میلادی به بعد، به تدریج مهاجران سفیدپوست اروپایی به آمریکا آمدند و در آن‌جا زندگی کردند و روز به روز بر تعداد آن‌ها افزوده شد. امروزه عده‌ی زیادی از مردم قاره‌ی آمریکا دورگه‌اند که از اختلاط نژاد و ملیت‌های گوناگون به‌وجود آمده‌اند.

● **سیاهان:** سیاه‌پوستان آمریکایی در واقع فرزندان و نوادگان بردگان آفریقایی‌اند که در دوران استعمار به وسیله‌ی سفیدپوستان اروپایی برای کار در مزارع کشاورزی و معادن به اجبار به این قاره آورده شدند. امروزه عده‌ی زیادی سیاه‌پوست در آمریکای شمالی و آمریکای جنوبی زندگی می‌کنند.

در ایالات متحده‌ی آمریکا، سیاه‌پوستان بیش‌تر در جنوب شرقی این کشور و نیز در شهرهای بزرگی چون شیکاگو و نیویورک زندگی می‌کنند و شرایط زندگی آنان از نظر اقتصادی و اجتماعی در مقایسه با سفیدپوستان نامناسب است.

* در قاره‌ی آمریکا دو فرهنگ متفاوت وجود دارد: در آمریکای شمالی به سبب مهاجرت انگلیسی‌ها، فرهنگ آنگلساکسون غلبه دارد و زبان مردم، انگلیسی است. دو کشور کانادا و ایالات متحده‌ی آمریکا، در این بخش واقع شده‌اند.

آمریکای مرکزی و جنوبی به سبب مهاجرت اسپانیایی‌ها و پرتغالی‌ها به این بخش، فرهنگ لاتینی دارند؛ از این‌رو، به آمریکای مرکزی



شکل ۸۵ - نقشه‌ی سیاسی کشورهای قاره‌ی آمریکا



شکل ۸۲ - رشد شهرها در آمریکای جنوبی، برزیل، ساؤپائولو




شکل ۸۳ - چهره‌ی سرخ‌پوست



شکل ۸۴ - چهره‌ی سیاه‌پوست

فعالیت

- ۱ - آمریکای لاتین به کدام بخش از قاره‌ی آمریکا گفته می‌شود؟ چرا؟
- ۲ - به نقشه‌ی پراکندگی نژادها در قاره‌ی آمریکا توجه کنید. دو رگه‌ها بیش‌تر در آمریکای شمالی پراکنده شده‌اند یا در آمریکای مرکزی و جنوبی؟
- ۳ - منشأ سیاه‌پوستانی که امروزه در قاره‌ی آمریکا زندگی می‌کنند، کجاست؟ توضیح دهید.
- ۴ - با توجه به نقشه‌ی بالا پاسخ دهید:



- * نام یک کشور در آمریکای مرکزی
- * نام دو کشور در آمریکای شمالی
- * نام سه کشور در آمریکای جنوبی

* پایتخت ایالات متحده‌ی آمریکا کدام شهر است؟ مقرّ سازمان ملل متحد در کدام شهر آمریکاست؟ این شهرها در کدام سمت آمریکا قرار دارند؟

چه عواملی موجب پیشرفت اقتصادی آمریکای شمالی شده است؟

آمریکای شمالی

دو کشور آمریکای شمالی (ایالات متحدهی آمریکا و کانادا) به دلایل مختلف از پیشرفته‌ترین کشورهای صنعتی دنیا هستند؛ از جمله:

● آمریکای شمالی معادن زیرزمینی فراوانی دارد و نیز دارای منابع طبیعی فراوانی مانند زمین‌های وسیع، خاک‌های قابل کشت، رودهای پرآب و آب و هواهای گوناگون است.

● پیشرفت و توسعهی آمریکای شمالی، به‌ویژه ایالات متحدهی آمریکا، هم‌چنین به‌دلیل مهاجرت اروپاییان به آمریکاست. آن‌ها سرمایه‌هایی را که با خود آورده بودند و نیز مهارت‌ها و استعدادهای خود را در این سرزمین‌ها به کار گرفتند و در مدت چند قرن تمدن جدیدی را به وجود آوردند.

● عوامل دیگری نیز در توسعهی اقتصادی آمریکای شمالی تأثیر داشته است؛ مثلاً، در جنگ جهانی دوم صنایع کشورهای اروپایی اغلب ویران شد ولی ایالات متحدهی آمریکا به دلیل دور بودن از منطقهی جنگ آسیبی ندید و توانست از رقیبان خود جلو بیفتد.

پس از جنگ جهانی دوم و افول قدرت‌های اروپایی، ایالات متحده آمریکا جانشین این کشورها در مناطق مختلف جهان

شد. آمریکا با تسلط و غارت منابع انرژی، مانند نفت و گاز، منطقهی خلیج فارس و خاورمیانه توانست به توسعهی اقتصادی فراوانی دست یابد.

● دو کشور ایالات متحدهی آمریکا و کانادا طی سال‌های طولانی با جذب نیروهای متخصص و دانشمندان سایر کشورها، توانسته‌اند صنعت و اقتصاد پیشرفته‌ای داشته باشند و البته این اقدام سبب عقب‌ماندگی کشورهای در حال توسعه شده است.

کشورهای آمریکای شمالی، هم از نظر کشاورزی و دامداری و هم از نظر صنعت، پیشرفته‌اند. ایالات متحدهی آمریکا صادرکنندهی محصولات کشاورزی نظیر گندم، انواع کالاهای صنعتی و به‌ویژه اسلحه به سایر نواحی جهان است که این موضوع باعث ایجاد جنگ‌های زیادی در برخی کشورهای دنیا شده است.

آمریکای لاتین

کشورهای آمریکای لاتین به دلیل سیاست‌های استعماری، همانند دو کشور آمریکا و کانادا پیشرفته و صنعتی نیستند بلکه بیش‌تر تولیدکننده و صادرکنندهی مواد اولیهی صنعتی و محصولات کشاورزی‌اند.



شکل ۸۷ - مزرعهی نیشکر - کوبا



شکل ۸۶ - مرکز تجارت و بازرگانی، ونکوور - کانادا

بیش تر بدانیم



بعضی از انواع مواد غذایی که امروزه در سراسر جهان مصرف می شود نخستین بار در آمریکا کشف شد و از آن جا به سایر نواحی جهان انتقال یافت. سبب زمینی، گوجه فرنگی، ذرت، دانه های کاکائو که انواع شکلات ها از آن تهیه می شود و نیز کدوتنبل و میوه ی آووکادو- که شبیه گلابی است- از آن جمله است.

بیش تر بدانیم



بیش تر مردم آمریکای جنوبی به فعالیت های کشاورزی مشغول اند. بزرگ ترین و غنی ترین مزارع جهان در کشورهایی چون آرژانتین، برزیل، پاراگوئه و اروگوئه وجود دارد. در این نواحی قهوه، موز، نیشکر و گندم کشت شده و گاو و گوسفند نیز پرورش داده می شود.

فعالیت

- ۱- به نقشه ی مصور اقتصادی توجه کنید و به سؤال ها پاسخ دهید :
 - الف- در آمریکای شمالی (کانادا و ایالات متحده ی آمریکا) کدام محصولات کشاورزی تولید می شود؟
 - ب- در آمریکای شمالی کدام معادن زیرزمینی و منابع طبیعی وجود دارد؟
 - پ- چند محصول مهم کشاورزی آمریکای لاتین را نام ببرید.
- ۲- صادرات ایالات متحده ی آمریکا چیست؟
- ۳- کشورهای آمریکای لاتین را از نظر پیشرفت صنعتی و اقتصادی با کشورهای آمریکای شمالی مقایسه کنید.
- ۴- چه عواملی موجب پیشرفت و توسعه ی اقتصادی آمریکای شمالی شده است؟ جدولی دو ستونی رسم کنید و در یک ستون، آن عوامل طبیعی و در ستون دیگر، عوامل انسانی مربوط به آن را بنویسید.

عوامل انسانی	عوامل طبیعی
	- معادن زیرزمینی فراوان (زغال سنگ، نفت ...)

*** تحقیق:** با راهنمایی دبیر خود و به طور گروهی درباره ی یکی از کشورهای قاره ی آمریکا یا یکی از موضوعات و مسائل جغرافیایی قاره ی آمریکا تحقیق کنید و نتیجه را به صورت گزارش یا روزنامه ی دیواری به کلاس بیاورید.

چند موضوع پیشنهادی: کاشفان قاره ی آمریکا، جزیره ی گرینلند، سرخ پوستان، جنگل های آمازون، کانال پاناما، رود می سی سی پی و رشد شهرها در برزیل.



شکل ۸۹ - نقشه‌ی مصور اقتصادی آمریکای مرکزی و جنوبی

راهنما

