

« فصل ششم »

تقویت کننده‌ی تفاضلی و عملیاتی

(مطابق فصل ششم و هفتم کتاب الکترونیک عمومی ۲)

هدف کلی:

آزمایش تقویت کننده‌ی عملیاتی و تفاضلی با استفاده از نرم‌افزار مولتی‌سیم نسخه‌ی ۱۰/۱

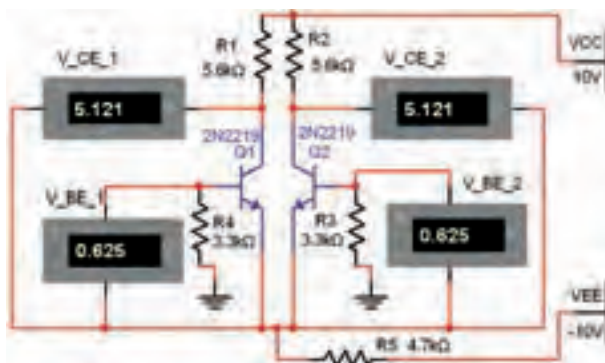
هدف های رفتاری:

در پایان این آزمایش که با استفاده از نرم‌افزار مولتی‌سیم اجرا می‌شود از فراگیرنده انتظار می‌رود که:

- ۱- مدار تقویت کننده‌ی تفاضلی را ببندد و عملکرد آن را تحلیل کند.
- ۲- مدار جدا کننده‌ی فاز را ببندد و عملکرد آن را تحلیل کند.
- ۳- تقویت کننده‌ی عملیاتی را با Op Amp ببندد و عملکرد آن را مشاهده کند.
- ۴- مدار جمع کننده را با استفاده از Op Amp ببندد و عملکرد آن را مشاهده کند.
- ۵- مدار انتگرال گیر را با Op Amp ببندد و عملکرد آن را مشاهده کند.

۱۹۴

۲-۱-۶ مدار شکل ۱-۶ را روی میز کار آزمایشگاه مجازی مولتی‌سیم ببندید. دقت کنید که اندازه‌ی مقاومت‌ها صحیح انتخاب شود.



شکل ۱-۶ تقویت کننده‌ی تفاضلی

توجه:

آزمایش‌های این فصل با نرم‌افزار مولتی‌سیم نسخه‌ی ۱۰/۱ اجرا شده است.

۱-۶ آزمایش ۱: تقویت کننده‌ی تفاضلی

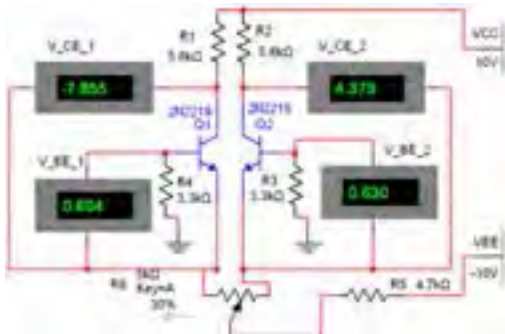
۱-۱-۶ یکی از مدارهای پر کاربرد در صنعت الکترونیک، تقویت کننده‌ی تفاضلی است. تقویت کننده‌ی تفاضلی در بسیاری از مدارهای الکترونیکی مورد استفاده قرار می‌گیرد. در این آزمایش می‌خواهیم با استفاده از نرم‌افزار مولتی‌سیم، این نوع مدارها را شبیه‌سازی کنیم.

ترانزیستورها را اندازه گیری کنید و در جدول ۶-۳ بنویسید. این پروب در نوار ابزار Instrument قرار دارد.

جدول ۶-۳ اندازه گیری جریان و ولتاژ پایه های ترانزیستور با پروب اندازه گیری

پایه	B		C		E	
	V	I	V	I	V	I
کمیت	Volt	mA	Volt	mA	Volt	mA
Q_1						
Q_2						

۶-۱-۷ مدار شکل ۶-۱ را به مدار ۶-۲ تغییر دهید. اثر تغییرات پتانسیومتر را روی ولتاژ پایه های ترانزیستورها بررسی کنید. در شرایط تعادل باید ولتاژ پایه های ترانزیستورها با هم برابر باشند. برای این منظور از پروب اندازه گیری استفاده نمائید. برای مشاهده مقادیر ولتاژ روی پروب در کلکتور ترانزیستورها کلیک کنید تا بتوانید ولتاژ لحظه ای را ببینید.



شکل ۶-۲ بررسی اثر پتانسیومتر روی مدار تقویت کننده ی تفاضلی

نکته :

در مدار تقویت کننده ی تفاضلی به دلیل این که ترانزیستورها و مقاومت ها دارای تولرانس هستند، معمولاً مقادیر ولتاژها در کلکتور ترانزیستورهای Q_1 و Q_2 با هم برابر می شود.

۶-۱-۳ در شکل ۶-۱ روی ولت مترها علامت گذاری شده است. برای مثال ولتاژ V_{BE} ترانزیستور Q_1 ، V_{BE-1} نام گذاری شده است. نام گذاری را تغییر دهید. در مورد اجرای کار توضیح دهید.



۶-۱-۴ ولتاژ پایه های هر یک از ترانزیستورها را با ولت متر موجود در مدار اندازه گیری کنید و در جدول ۶-۱ بنویسید.

جدول ۶-۱ اندازه گیری ولتاژ پایه های ترانزیستور

	Q_1	Q_2
V_{BE}		
V_{CE}		
V_C		
V_E		

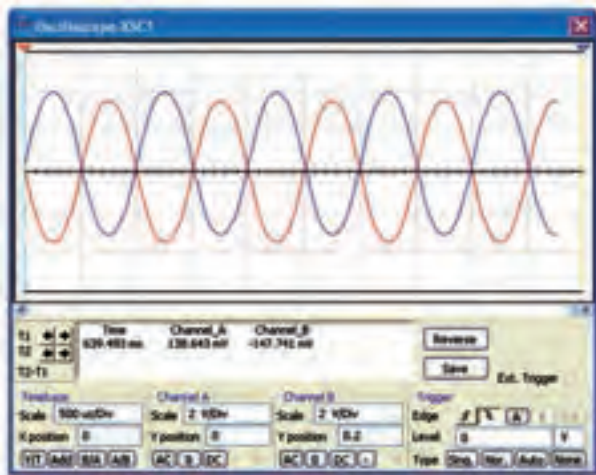
۶-۱-۵ هر یک از ترانزیستورها در چه وضعیتی قرار دارند (اشباع - قطع - فعال)؟ نتیجه را در جدول ۶-۲ بنویسید و دلیل آن را توضیح دهید.

جدول ۶-۲ وضعیت ترانزیستورها

ترانزیستور	وضعیت
Q_1	
Q_2	



۶-۱-۶ با استفاده از پروب اندازه گیری در نرم افزار مولتی سیم (measurement probe) ولتاژ و جریان پایه های




شکل ۶-۴ شکل موج خروجی تقویت کننده‌ی تفاضلی در حالتی که ورودی Q_2 زمین شده است.

۶-۱-۱۱ دامنه‌ی ورودی را در حدی تنظیم کنید که شکل موج خروجی با حداکثر دامنه و بدون اعوجاج باشد. مقادیر ولتاژ خروجی‌ها را یادداشت کنید.

$$V_{C_{Q_1}} = \dots\dots\dots V \quad V_{C_{Q_2}} = \dots\dots\dots V$$

۶-۱-۱۲ با توجه به شکل موج ترسیم شده روی اسیلوسکوپ اختلاف فاز بین ولتاژهای $V_{C_{Q_1}}$ و $V_{C_{Q_2}}$ چند درجه است؟ توضیح دهید.

$$\phi = \dots\dots\dots$$




۶-۱-۱۳ با توجه به سیگنال ورودی و ولتاژهای به دست آمده در مرحله‌ی قبل، مقدار A_{V_1} و A_{V_2} را از رابطه‌های:

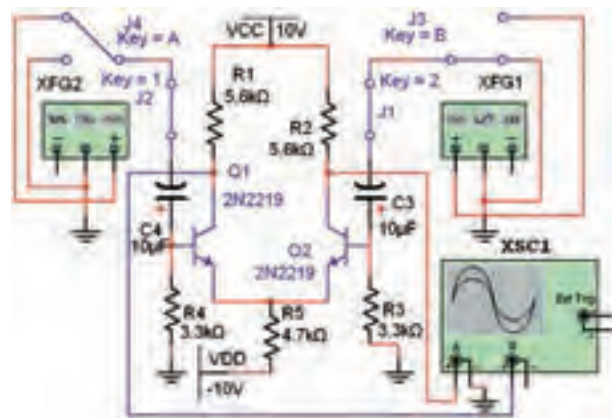
$$A_{V_1} = \frac{V_{O_1}}{V_i} \quad \text{و} \quad A_{V_2} = \frac{V_{O_2}}{V_i}$$

$$A_{V_1} = \frac{V_{O_1}}{V_i} = \dots\dots\dots \quad A_{V_2} = \frac{V_{O_2}}{V_i} = \dots\dots\dots$$

۶-۱-۸ مقدار پتانسیومتر را تغییر دهید و اثر آن را روی ولتاژ کلکتور ترانزیستورها مشاهده کنید و درباره‌ی آن توضیح دهید.



۶-۱-۹ مدار شکل ۶-۳ را ببندید.



شکل ۶-۳ عمل تقویت در تقویت کننده‌های تفاضلی



کلیدهای ۱ و ۲ برای بستن مسیر سیگنال و کلیدهای ۳ و ۴ برای انتخاب اتصال مشترک زمین و سیگنال ژنراتور است.

۶-۱-۱۰ سیگنال ژنراتور صوتی را روی سیگنال سینوسی با دامنه‌ی ۵۰ میلی ولت پیک تو پیک و فرکانس ۱ کیلوهرتز تنظیم کنید. کلید ۳ را به زمین و کلید ۴ را به سیگنال ژنراتور متصل کنید. در این شرایط کلیدهای ۱ و ۲ در حالت بسته قرار می‌گیرند. در این حالت شکل موج خروجی‌ها باید مشابه شکل ۶-۴ باشد.

تمرین ۱: نوع ترانزیستورها را به BC107 تغییر دهید و کلیه مراحل این قسمت را تکرار کنید.

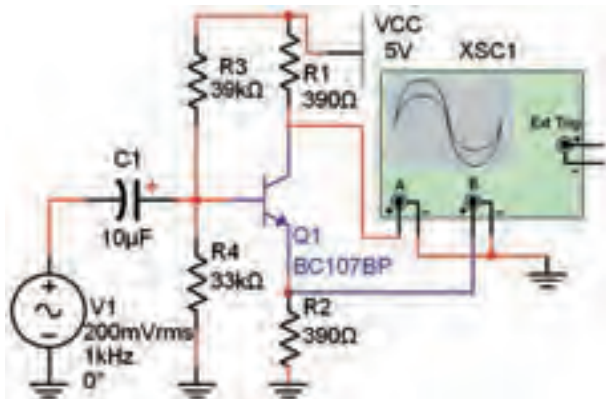
نکته:

این که بتوانیم دو سیگنال با اختلاف فاز ۱۸۰ درجه داشته باشیم، به مدار جداکننده‌ی فاز نیاز داریم. در بخش بعدی به شرح مدار جداکننده‌ی فاز می‌پردازیم.

۶-۲ آزمایش ۲: مدار جداکننده‌ی فاز

۶-۲-۱ مدار جداکننده‌ی فاز برای تهیه‌ی دو سیگنال با دامنه‌ی مساوی و اختلاف فاز ۱۸۰ درجه به کار می‌رود. با استفاده از ترانسفورماتور سه سر نیز می‌توانیم مدارهای ترانزیستوری با اختلاف فاز ۱۸۰ درجه ایجاد کنیم.

۶-۲-۲ مدار شکل ۶-۵ را ببندید.



شکل ۶-۵ مدار جداکننده‌ی فاز

۶-۲-۳ شکل موج خروجی در کلکتور و امیتر را مشاهده و بررسی کنید. این شکل موج باید مشابه شکل ۶-۶ باشد.

۶-۱-۱۴ مقدار ΔA_V را محاسبه کنید.

$$\Delta A_V = A_{V_2} - A_{V_1} = \dots\dots$$

۶-۱-۱۵ اختلاف فاز بین دو سیگنال خروجی را به کمک اسیلوسکوپ و در حالت X/Y و از طریق منحنی لیسازور به دست آورید.

$$\varphi = \dots\dots$$

۶-۱-۱۶ در مدار شکل ۶-۳ ورودی مدار را از طریق کلید B به سیگنال ژنراتور و کلید A را به زمین وصل کنید. مراحل آزمایش ۶-۱-۱۰ تا ۶-۱-۱۶ را با این شرایط تکرار کنید و نتایج را با هم مقایسه نمایید. در باره‌ی نتایج به دست آمده توضیح دهید.




۶-۱-۱۷ هر دو ورودی Q_1 و Q_2 را به وسیله‌ی کلیدهای A و B به سیگنال ژنراتور وصل کنید. خروجی‌های V_{CQ_1} و V_{CQ_2} را مشاهده نمایید. آیا سیگنال خروجی وجود دارد؟ توضیح دهید.



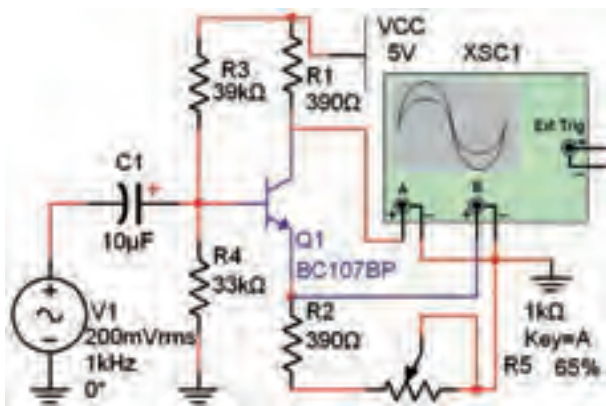
۶-۱-۱۸ نتایج حاصل از این آزمایش را تحلیل کنید و به طور خلاصه بنویسید.



ولتاژ کانال‌های ۱ و ۲ را بنویسید.




۸-۲-۶ مطابق شکل ۸-۶ یک پتانسیومتر $1K\Omega$ با مقاومت 390Ω با پایه‌ی امیتر مدار جداکننده‌ی فاز سری کنید. منبع V_1 را به دستگاه اسیلوسکوپ وصل نمایید. پتانسیومتر را تغییر دهید و اثر آن را روی شکل موج‌های خروجی مشاهده کنید.

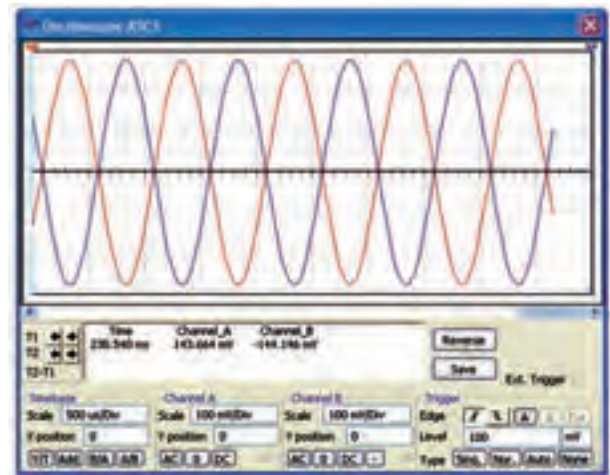



شکل ۸-۶ اثر تغییر پتانسیومتر روی شکل موج در مدار جداکننده‌ی فاز

۹-۲-۶ با افزایش ۲۵٪ مقاومت شکل موج خروجی چه تغییری می‌کند؟ تجربه کنید و توضیح دهید.



۱۰-۲-۶ با کاهش ۲۵٪ مقاومت اثر تغییرات را بر روی شکل موج خروجی بنویسید.



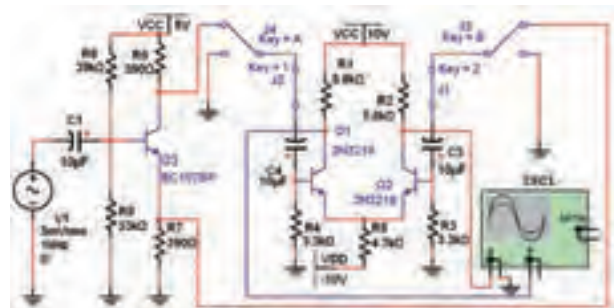
شکل ۶-۶ شکل موج خروجی‌های مدار جداکننده‌ی فاز

۴-۲-۶ بهره‌ی ولتاژ هر یک از خروجی‌ها را محاسبه کنید.

$$A_{V_1} = \frac{V_{O_1}}{V_i} = \dots\dots A$$

$$A_{V_2} = \frac{V_{O_2}}{V_i} = \dots\dots$$

۵-۲-۶ خروجی V_1 و V_2 در مدار شکل ۵-۶ را به ترتیب به ورودی‌های مدار شکل ۳-۶ وصل کنید. تمام کلیدهای شکل ۳-۶ را به صورت بسته مشابه شکل ۷-۶ در آورید.

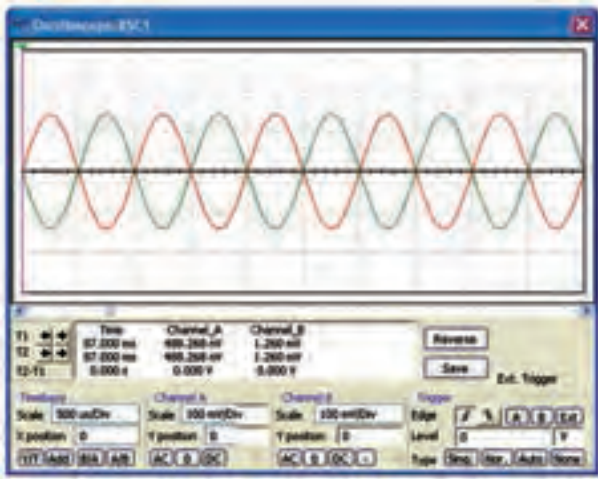


شکل ۶-۷ مدار تقویت‌کننده‌ی تفاضلی با مدار جداکننده‌ی فاز

۶-۲-۶ اسیلوسکوپ را به V_{O_1} و V_{O_2} متصل کنید. منبع V_1 را طوری تغییر دهید که V_{O_1} و V_{O_2} بدون اعوجاج و در بیش‌ترین مقدار خود باشد.

۷-۲-۶ شکل موج خروجی را رسم کنید و حوزه‌ی کار

۲-۳-۶ مدار را راه‌اندازی کنید و با استفاده از اسیلوسکوپ مطابق شکل ۱۰-۶ دامنه‌ی V_i و V_o را به دست آورید و مقدار بهره‌ی مدار را محاسبه کنید.



شکل ۱۰-۶ شکل موج‌های ورودی و خروجی Op Amp


$$A_v = \frac{V_o}{V_i} = \dots\dots$$

۳-۳-۶ با توجه به رابطه‌ی $\frac{V_o}{V_i} = -\frac{R_f}{R_1}$ بهره‌ی مدار

را محاسبه کنید.

$$A_v = \frac{V_{O_i}}{V_i} = -\frac{R_f}{R_1} \dots\dots$$

۴-۳-۶ آیا مقادیر به دست آمده از طریق اندازه‌گیری با مقادیر محاسبه شده برابر است؟ توضیح دهید.




۵-۳-۶ مقاومت R_f را در مدار به $20\text{K}\Omega$ تغییر دهید و شکل موج ورودی و خروجی را در مدار شکل ۹-۶ مشاهده نمایید. مقدار A_v را از طریق عملی و تئوری به دست آورید.


$$A_v = \dots\dots \text{ عملی}$$

$$A_v = \dots\dots \text{ تئوری}$$


سؤال ۱. نقش پتانسیومتر در مدار جداکننده‌ی فاز را شرح دهید.



سؤال ۲. مدار جداکننده‌ی فاز علاوه بر تقویت‌کننده‌ی تفاضلی چه کاربرد دیگری دارد؟ توضیح دهید.

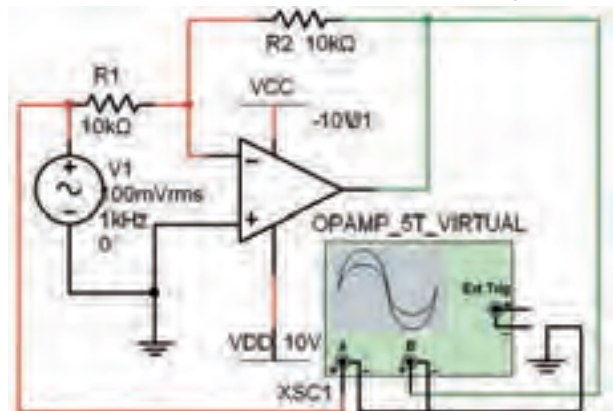


تمرین ۲: آزمایش مربوط به تقویت‌کننده‌ی تفاضلی را با ترانزیستور ۲N۲۲۲۲ تکرار کنید و نتایج را با هم مقایسه نمایید. آیا نتایج مشابه است؟ چرا؟ توضیح دهید.



۳-۶ آزمایش ۳: تقویت‌کننده‌ی عملیاتی

۱-۳-۶ مدار شکل ۹-۶ یک مدار تقویت‌کننده‌ی عملیاتی با ضریب منفی است. مدار را روی میز کار آزمایشگاه مجازی ببینید. توجه داشته باشید که Op Amp انتخاب شده از نوع Virtual است.



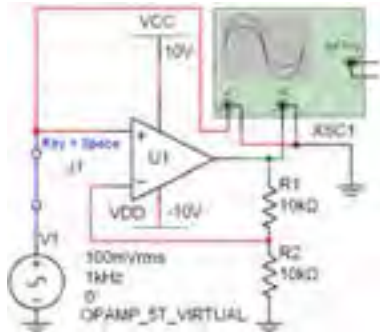
شکل ۹-۶ مدار تقویت‌کننده‌ی عملیاتی با ضریب منفی

دست می‌آید. در مدار شکل ۱۱-۶ مقدار A_V را محاسبه کنید.

$$A_V = \dots\dots$$

۹-۳-۶ مطابق شکل ۱۲-۶ یک کلید به ورودی وصل

کنید تا بتوانید سیگنال ژنراتور را قطع و وصل کنید.



شکل ۱۲-۶ اتصال کلید به مدار Op Amp

۱۰-۳-۶ ولتاژ DC پایه‌های Op Amp در حالتی که

کلید باز و مدار بدون سیگنال است را با پروب مخصوص

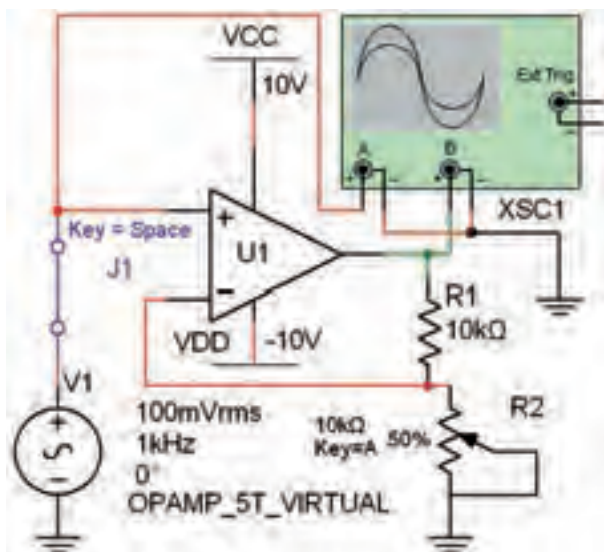
اندازه‌گیری مشخص کنید و در جدول ۴-۶ بنویسید.

جدول ۴-۶ ولتاژ پایه‌های Op Amp

پایه	۱	۲	۳	۴	۵	۶	۷
ولتاژ							

۱۱-۳-۶ مقاومت R_p را با توجه به شکل ۱۳-۶ با یک

پتانسیومتر $10K\Omega$ تعویض نمایید.



شکل ۱۳-۶ اثر تغییرات R_p روی بهره‌ی مدار

۱۲-۳-۶ بهره‌ی مدار را در شرایطی که پتانسیومتر روی

مقادیر ۰٪، ۲۰٪، ۴۰٪، ۶۰٪، ۸۰٪ و ۱۰۰٪ (حالت ۶) قرار

سؤال ۳ آیا مقادیر به دست آمده در دو حالت عملی و

تئوری هم برابر است؟ توضیح دهید.



۶-۳-۶ مقاومت R_1 را به ۵۰ کیلو اهم و مقاومت R_p

را به ۱۵۰ کیلو اهم تغییر دهید. شکل موج‌های ورودی و

خروجی را مشاهده کنید و ضریب بهره را از روی شکل موج

محاسبه نمایید. آیا مقادیر به دست آمده در دو روش تئوری و

عملی با هم انطباق دارد؟ شرح دهید.

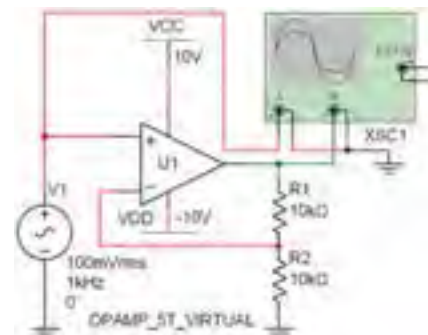


۲۰۰

۷-۳-۶ مدار شکل ۱۱-۶ یک مدار تقویت کننده‌ی

عملیاتی با ضریب مثبت است. مدار را روی میز کار آزمایشگاه

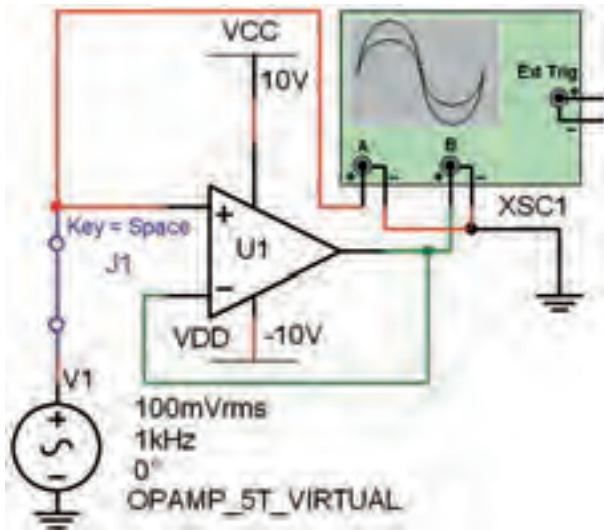
مجازی ببندید.



شکل ۱۱-۶ مدار تقویت کننده‌ی عملیاتی با ضریب مثبت

۸-۳-۶ می‌دانیم در تقویت کننده‌ی عملیاتی با ضریب

تقویت مثبت مقدار A_V از رابطه‌ی: $A_V = \frac{V_{O_r}}{V_i} = 1 + \frac{R_2}{R_1}$ به



شکل ۱۴-۶ مدار بافر مثبت

۱۷-۳-۶ در مدار شکل ۱۴-۶ کلید J1 را باز کنید تا سیگنال AC از مدار قطع شود. ولتاژ DC پایه‌های Op Amp را به کمک پروب اندازه‌گیری به دست آورید و نتایج را در جدول ۶-۶ بنویسید. جدول ۶-۶ اندازه‌گیری ولتاژهای DC مدار بافر مثبت

ولتاژ	پایه
	مثبت
	منفی
	خروجی

۱۸-۳-۶ شکل موج ورودی و خروجی مدار بافر مثبت

را مشاهده و رسم نمائید.



سؤال ۵ با توجه به شکل موج، مدار بافر مثبت است یا

منفی؟ با ذکر دلیل توضیح دهید.



دارد به کمک اسیلوسکوپ اندازه بگیرید و در جدول ۵-۶ بنویسید.

جدول ۵-۶ تغییر پتانسیومتر و اثر آن روی بهره

R_p درصد	A_v		R_1 اندازه‌گیری با اهم‌تر
	اندازه‌گیری	تئوری	
۰٪			
۲۰٪			
۴۰٪			
۶۰٪			
۸۰٪			
۱۰۰٪			

۱۳-۳-۶ با استفاده از اهم‌تر مقاومت هر یک از حالات را اندازه‌گیری و در جدول ۵-۶ بنویسید.

۱۴-۳-۶ بهره‌ی مدار را با استفاده از رابطه‌ی تئوری به دست آورید و در جدول ۵-۶ بنویسید.

۱۵-۳-۶ جدول ۵-۶ را بررسی کنید و در باره‌ی نتایج حاصل از آن توضیح دهید.



سؤال ۴: آیا با افزایش مقاومت R_p ، مقدار بهره‌ی مدار

تغییر می‌کند؟ چرا؟ توضیح دهید.



۱۶-۳-۶ مدار شکل ۱۴-۶ یک بافر مثبت است. مدار را

روی میز کار آزمایشگاه مجازی ببندید.

۶-۴-۴ مقدار ولتاژ خروجی مدار را با استفاده از رابطه‌ی


مربوط به مدار محاسبه کنید. $V_o = \dots\dots$

سؤال ۲: مقادیر به دست آمده از طریق اندازه‌گیری و محاسبه را مقایسه کنید و نتیجه را توضیح دهید.



۶-۴-۵ اگر مقاومت فیدبک دو برابر شود، ولتاژ

خروجی چه تغییری می‌کند؟ روی نرم‌افزار تجربه کنید و نتایج را توضیح دهید.




تمرین ۳: فرض کنید یک منبع ۱۰ ولتی داریم و با استفاده از مدار جمع‌کننده می‌خواهیم ولتاژ خروجی را به ۲۳ ولت برسانیم. مقادیر مقاومت‌ها را محاسبه کنید.

$$R_1 = \dots\dots\dots\Omega \quad R_2 = \dots\dots\dots\Omega$$

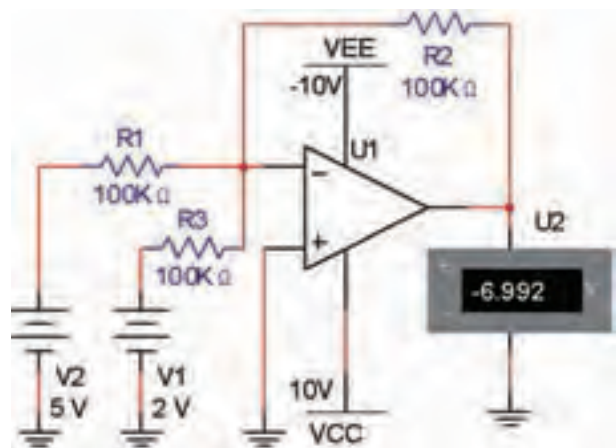
$$R_3 = \dots\dots\dots\Omega \quad R_4 = \dots\dots\dots\Omega$$

۶-۴-۶ مدار جمع‌کننده‌ی تمرین ۳ را در فضای نرم‌افزاری ببینید و در باره‌ی نتایج آن توضیح دهید.



۶-۴ آزمایش ۴: مدار جمع‌کننده

۶-۴-۱ یکی از نیازها در مدارهای الکترونیک جمع کردن چند سیگنال با یکدیگر است. برای این کار می‌توانیم از یک مدار جمع‌کننده که با Op - Amp ساخته می‌شود استفاده کنیم. برای این منظور هر یک از منابع تغذیه را با یک مقاومت به پایه‌ی منفی Op - Amp وصل می‌کنیم و یک مقاومت فیدبک نیز بین ورودی و خروجی قرار می‌دهیم، هم‌چنین پایه‌ی مثبت ورودی را مطابق شکل ۱۵-۶ به زمین وصل می‌کنیم.



شکل ۱۵-۶ مدار جمع‌کننده

۶-۴-۲ اگر پایه‌ی منفی را به عنوان یک گره در نظر بگیریم، طبق قانون KCL خواهیم داشت:

$$V_o = -R_f \left(\frac{V_1}{R_1} + \frac{V_2}{R_2} + \frac{V_3}{R_3} + \dots \right)$$

سؤال ۶: اگر $R_3 = R_2 = R_1$ باشد، چه رابطه‌ای بین ولتاژ ورودی و ولتاژ خروجی برقرار خواهد شد؟ توضیح دهید.



۶-۴-۳ مدار شکل ۱۵-۶ را در فضای آزمایشگاه مجازی ببینید. نرم‌افزار را فعال کنید و مقدار ولتاژ نشان داده شده توسط مولتی‌متر را بنویسید.

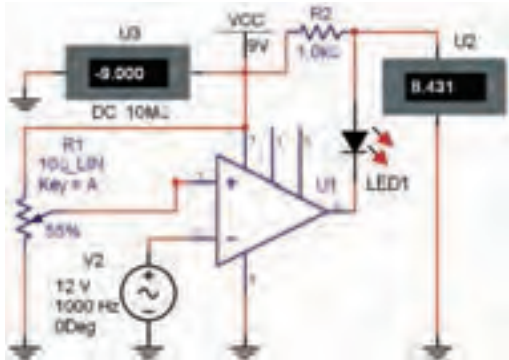
$$V_o = \dots\dots\dots$$

ورودی مثبت و ورودی منفی، چگونه با هم مقایسه می‌شود؟
توضیح دهید.



۶-۵-۶ مدار شکل ۶-۱۷ را روی میز آزمایشگاه مجازی

ببندید.



شکل ۶-۱۷ نمونه‌ی دیگری از مدار مقایسه‌کننده



در این مدار حتماً از آی‌سی شماره‌ی ۷۴۱ استفاده کنید. چنانچه از آی‌سی Virtual استفاده نمائید، باید تنظیم‌های آن را دقیقاً مشابه آی‌سی ۷۴۱ تغییر دهید تا مدار عمل کند.

۶-۵-۷ مولد سیگنال سینوسی را روی ۱۲ ولت پیک تو پیک و فرکانس ۱۰۰۰ هرتز بگذارید. تولرانس مقدار مقاومت متغیر را روی ۵ درصد قرار دهید. مدار را روشن کنید. مقدار مقاومت R_1 را به گونه‌ای تغییر دهید تا مطابق جدول ۶-۷ ولتاژ V_r تغییر کند. در هر مرحله مقدار V_O را در جدول بنویسید.

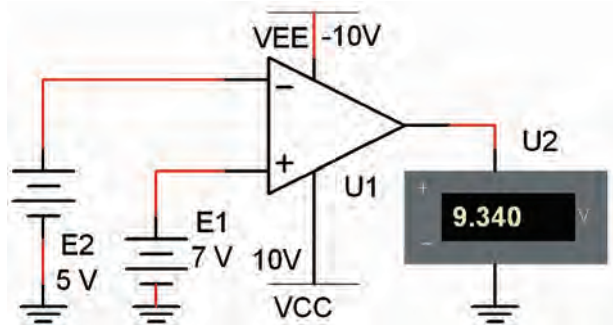
جدول ۶-۷ تغییر ولتاژ V_r و تاثیر آن روی V_O

V_r	۰	۲	۳	۴	۶	۷	۹
V_O							
وضعیت LED							

۶-۵-۸ با توجه به مقادیر به دست آمده در جدول ۶-۱

۶-۵-۵: مدار مقایسه‌کننده

۶-۵-۱ مدارهای مقایسه‌کننده مدارهایی هستند که برای مقایسه‌ی دو سطح ولتاژ به کار می‌روند. در شکل ۶-۱۶ یک نمونه مدار مقایسه‌کننده را ملاحظه می‌کنید. در این مدار دو منبع ولتاژ E_1 و E_2 با هم مقایسه می‌شود و فرمان لازم را به خروجی می‌دهد.



شکل ۶-۱۶ مقایسه‌ی دو ولتاژ E_1 و E_2 توسط Op - Amp

۶-۵-۲ مدار شکل ۶-۱۶ را روی میز آزمایشگاه مجازی ببندید. ولتاژ E_1 را روی ۷ ولت بگذارید و ولتاژ E_2 را روی ۵ ولت تنظیم کنید. مقدار ولتاژ خروجی را اندازه بگیرید. ۶-۵-۳ مقدار ولتاژ E_1 را روی ۵ ولت بگذارید و ولتاژ E_2 را روی ۷ ولت تنظیم کنید. مقدار ولتاژ خروجی را در این حالت اندازه بگیرید.

۶-۵-۴ مقادیر اندازه‌گیری شده در مراحل ۶-۵-۲ و ۶-۵-۳ را با هم مقایسه کنید. در کدام حالت Op - Amp فرمان مثبت دریافت کرده و خروجی مثبت است؟ توضیح دهید.




۶-۵-۵ رفتار مدار را با ولتاژهای متفاوت تکرار کنید و نتایج حاصل را بنویسید.



سؤال ۸: در مدار Op - Amp ولتاژهای داده شده به

۲-۶-۶ مدار شکل ۱۹-۶ را روی میز آزمایشگاه مجازی ببینید.




شکل ۱۹-۶ مدار انتگرال گیر


۳-۶-۶ طبق شکل ۱۹-۶ یک کلید با سیگنال ژنراتور سری کنید و آن را در حالت باز بگذارید. ولتاژ DC خروجی را با ولت متر یا پروب اندازه گیری، اندازه بگیرید. آیا ولتاژ خروجی صفر است؟ چرا؟ توضیح دهید.



۴-۶-۶ سیگنال ژنراتور را روی دامنه‌ی ۵ ولت و فرکانس یک کیلو هرتز تنظیم کنید. مقاومت $1M\Omega$ را با خازن $1\mu F$ موازی نمایید. شکل موج ورودی و خروجی را مشاهده و رسم نمایید. در باره‌ی نتایج حاصل توضیح دهید.



۵-۶-۶ جای خازن و مقاومت را عوض کنید و مقاومت $1M\Omega$ حذف نمایید. سیگنال ژنراتور را به موج مثلثی تغییر دهید. شکل موج خروجی را مشاهده و رسم نمایید.

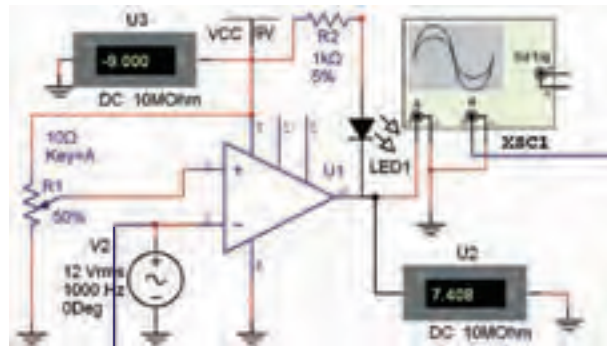


۶-۶-۶ نتایج به دست آمده را تحلیل کنید و در باره‌ی

در کدام مراحل LED روشن یا خاموش است؟ شرایط را در جدول ۱-۶ بنویسید و در باره‌ی چگونگی روشن شدن LED توضیح دهید.




۹-۵-۶ اسیلوسکوپ را به خروجی مدار مطابق شکل ۱۸-۶ متصل کنید و شکل موج خروجی (دو سر LED) و ورودی را به طور هم‌زمان ببینید.



شکل ۱۸-۶ مدار مقایسه‌کننده برای مشاهده‌ی شکل موج

۱۰-۵-۶ در باره‌ی نتایج حاصل شده توضیح دهید.



۶-۶ آزمایش ۶: مدار انتگرال گیر یا

تغییردهنده‌ی شکل موج

۱-۶-۶ مدار انتگرال گیر مداری است که می‌تواند شکل موج ورودی را به گونه‌ای تغییر دهد که خروجی آن انتگرال موج ورودی باشد. برای مثال اگر سیگنال ورودی سیگنال مربعی باشد، شکل موج سیگنال خروجی مثلث خواهد بود. هم‌چنین در صورتی که موج ورودی سینوسی باشد، در خروجی موج سینوسی با 90° درجه تقدم فاز خواهیم داشت.

آن توضیح دهید.



۶-۶-۷ با استفاده از نرم افزار مولتی سیم ۹ یا ۱۰ مدار بافر منفی را ببینید و درباره‌ی نتایج حاصل شده توضیح دهید.



۶-۶-۸ با استفاده از نرم افزار مولتی سیم ۹ یا ۱۰ مدار مشتق گیر را ببینید و درباره‌ی نتایج حاصل شده توضیح دهید.

