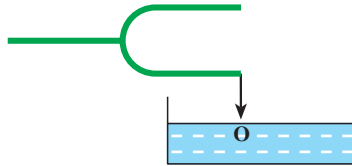


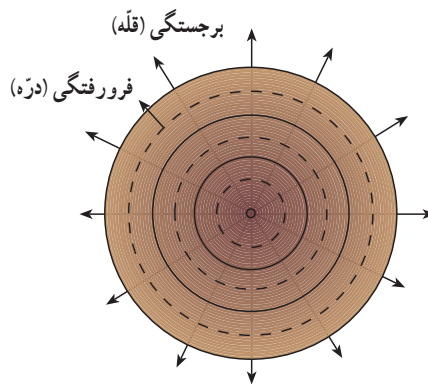
۴-۴- انتشار موج در دو و سه بُعد

اگر مطابق شکل ۱۵-۴ به کمک یک سوزنی که به انتهای یک شاخهٔ دیاپازون نصب شده است، ضربه‌هایی را در راستای قائم بر سطح آب درون تشتک وارد کنیم، موج‌های ایجاد شده به صورت دایره‌هایی به مرکز چشمهٔ موج، در سطح آب، یعنی در دو بُعد منتشر می‌شوند.



شکل ۱۵-۴

در شکل ۱۶-۴ دو دسته دایره می‌بینید. دایره‌های توپر، برجستگی‌ها و دایره‌های خط‌چین، فرورفتگی‌ها را در سطح آب نشان می‌دهند. به این دایره‌های در حال انتشار جبههٔ موج می‌گوییم و آن را چنین تعریف می‌کنیم: جبههٔ موج مکان هندسی نقطه‌هایی از محیط است که در آن نقطه‌ها تابع موج دارای فاز یکسانی است. بنابراین، اختلاف فاز نقطه‌های واقع بر یک جبههٔ موج همواره برابر صفر است.

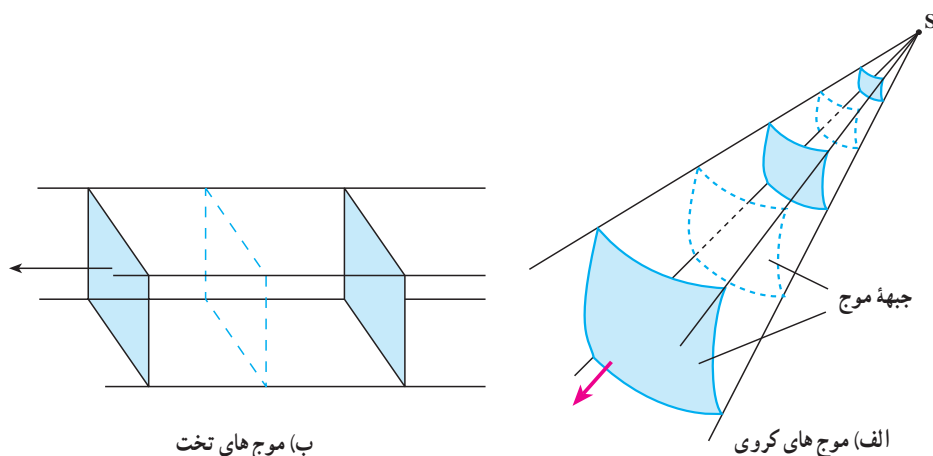


شکل ۱۶-۴

موج‌های سطح آب، نمونه‌ای از انتشار موج در دو بُعد است. موج‌هایی نیز هستند که در سه بُعد منتشر می‌شوند؛ انتشار موج‌های صوتی و انتشار موج‌های الکترومغناطیسی، نمونه‌هایی از انتشار

موج در سه بُعدند. اگر یک چشمه موج نقطه‌ای را در یک محیط همسانگرد سه بُعدی قرار دهیم (مثلاً بلندگوی کوچکی در هوای درون اتاق)، جبهه موج به صورت کره‌هایی خواهد بود که مرکز همه آنها، چشمه موج است و از چشمه موج در سه بُعد منتشر می‌شوند و شعاع آنها با انتشار موج به تدریج افزایش می‌یابد. به این موج‌ها، موج کروی می‌گوییم. شکل ۴-۱۷-الف قسمت‌های کوچکی از سطح موج‌ها را که از چشمه موج نقطه‌ای S گسیل می‌شوند نشان می‌دهد.

در فاصله بسیار دور از یک چشمه موج نقطه‌ای، قسمت‌های کوچکی از جبهه موج‌های کروی، همان گونه که در شکل ۴-۱۷-ب نشان داده شده است، به صورت صفحه‌هایی موازی یکدیگر درمی‌آیند. در این صورت به آنها موج تخت می‌گوییم.



شکل ۴-۱۷

موج حامل انرژی است: موج‌ها با خود انرژی را از نقطه‌ای به نقطه دیگر منتقل می‌کنند. اگر یک سر طنابی در دست شما باشد و از سر دیگر آن موجی به طرف شما منتشر شود، وقتی موج به دست شما می‌رسد، ضربه موج می‌خواهد طناب را از دست شما خارج کند.

در فصل ۳ در بحث انرژی مکانیکی نوسانگر ساده دیدیم انرژی مکانیکی نوسانگر ساده با مجذور دامنه و مجذور بسامد نوسانگر متناسب است.

وقتی یک موج سینوسی با دامنه A و بسامد f در طناب بلند و کشیده شده‌ای پیش می‌رود، همراه با پیشروی موج، انرژی نیز در طناب پیش می‌رود. توان انتقال انرژی از هر نقطه طناب تابعی از زمان است و با گذشت زمان تغییر می‌کند. مقدار متوسط توان انتقال انرژی از هر نقطه طناب در مدت زمان

یک دوره (T) از رابطه زیر به دست می آید

$$\bar{P} = 2\pi^2 A^2 f^2 \mu v \quad (17-4)$$

که در آن، μ ، جرم واحد طول طناب و v سرعت انتشار موج در طناب است. اینکه مقدار متوسط توان انتقال انرژی از هر نقطه طناب با مجذور دامنه و مجذور بسامد موج متناسب است، در مورد انتشار موج سینوسی در سایر محیطها نیز درست است (مثلاً انتشار امواج سینوسی روی سطح آب یا انتشار امواج صوتی سینوسی در هوا).

بازتاب موج: فرض کنید موجی در یک محیط در حال انتشار است. به نظر شما وقتی این موج

به انتهای محیط، یعنی مرز این محیط با محیط دیگر می رسد، چه پدیده ای رخ می دهد؟

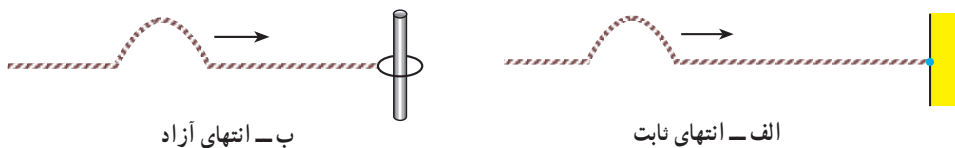
وقتی موج، به انتهای محیط می رسد، مقداری از انرژی این موج از مرز مشترک دو محیط عبور می کند و وارد محیط دوم می شود و بقیه آن از مرز مشترک بازتاب شده و به محیط اول برمی گردد.

برای بررسی پدیده بازتاب، باید اولاً، فرض کنیم که تمام انرژی موج از مرز مشترک دو محیط بازتاب شده و به محیط اول برمی گردد؛ ثانیاً، اصطکاک ناچیز است و انرژی موج هم تلف نمی شود. این بررسی ساده تر و آموزنده است.

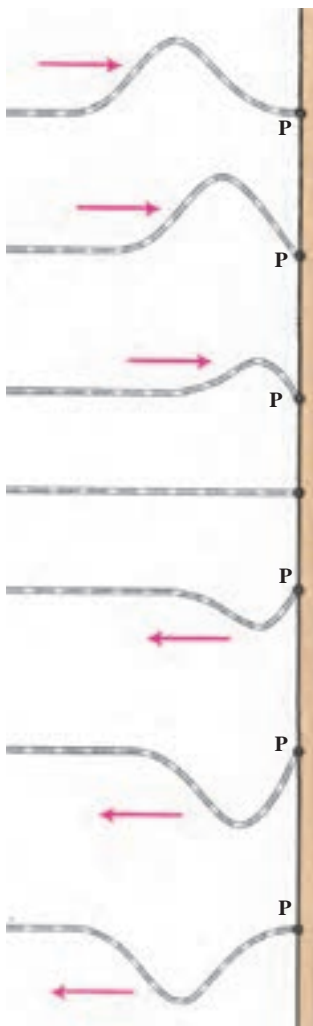
نتیجه به دست آمده در این مورد و در مورد دیگر موج های مکانیکی، نظیر موج های صوتی و موج های الکترومغناطیسی، نیز درست است.

بازتاب تپ (موج) از انتهای طناب به نحوه اتصال انتهای طناب بستگی دارد. انتهای طناب، ممکن است به یک دیوار، محکم ثابت شده باشد. در این صورت، انتهای طناب را انتهای ثابت یا بسته می نامیم (شکل ۱۸-۴ الف) و همچنین ممکن است انتهای طناب به حلقه بسیار سبکی وصل شده باشد و روی میله قائمی بدون اصطکاک بتواند، بالا و پایین برود (شکل ۱۸-۴ ب). در این حالت، انتهای طناب انتهای آزاد نامیده می شود.

بدین ترتیب، انتهای ثابت نمی تواند نوسان کند، در صورتی که انتهای آزاد برای نوسان آزاد است.



شکل ۱۸-۴



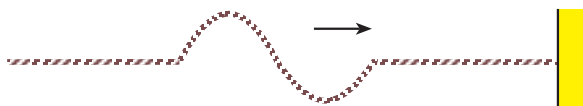
بازتاب از انتهای ثابت: وقتی تپ مطابق شکل ۱۹-۴

به انتهای ثابت P می‌رسد، جزء کوچکی از طناب که در مجاورت نقطه P قرار دارد، به آن نیرویی رو به بالا وارد می‌کند تا نقطه P را به نوسان وادارد. نقطه P از طناب، روی دیوار ثابت است و نمی‌تواند جابه‌جا شود. بنا به قانون سوم نیوتون، نقطه P (انتهای ثابت) به طناب، نیرویی رو به پایین وارد می‌کند. این، درست مانند آن است که انتهای طناب را با دست گرفته و رو به پایین بکشیم و در آن تپی رو به پایین ایجاد کنیم. یعنی، انتهای ثابت، در بازتاب تپ، مانند یک چشمه موج عمل می‌کند و یک تپ در خلاف جهت تپ تابشی (فرودی) در طناب ایجاد می‌کند که برجستگی را به فرورفتگی و فرورفتگی را به برجستگی تبدیل می‌کند (به حالت‌های مختلف شکل ۱۹-۴ توجه کنید). تپ باز تابیده، در خلاف جهت تپ تابشی، روی طناب منتشر می‌شود.

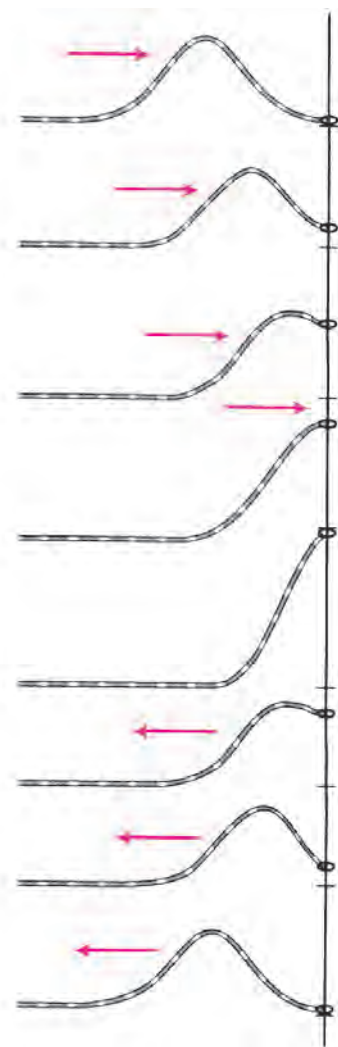
شکل ۱۹-۴ - انتهای طناب ثابت است.

تمرین ۴-۷

در شکل ۲۰-۴ تپی روی طنابی در حال انتشار است. شکل تپ بازتاب آن را از انتهای ثابت طناب، رسم کنید.



شکل ۲۰-۴

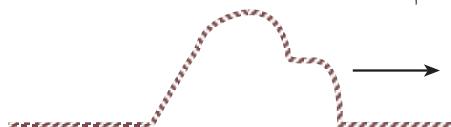


شکل ۴-۲۱- انتهای طناب آزاد است.

بازتاب از انتهای آزاد: اگر انتهای طناب آزاد باشد، وقتی تپ به آن می‌رسد، انتهای طناب را در جهت خود به حرکت درمی‌آورد. در شکل ۴-۲۱ تپ تابشی، انتهای طناب را بالا می‌کشد. در این حالت همان طور که شکل نشان می‌دهد، انتهای طناب به قله‌ای می‌رسد که جابه‌جایی آن از وضع تعادل، دو برابر جابه‌جایی سایر نقطه‌های طناب است. در این حالت، انتهای طناب، مانند چشمه موجی عمل می‌کند که در طناب، تپی در جهت تپ تابشی ایجاد می‌کند که در خلاف جهت آن در طناب منتشر می‌شود. درست مانند آن که انتهای طناب را با دست گرفته و بالا برده و به جای اول برگردانیم؛ بنابراین، در انتهای آزاد، برجستگی به صورت برجستگی و فرورفتگی به صورت فرورفتگی، بازتاب می‌شود.

تمرین ۷-۴

تپی مانند شکل ۴-۲۲ در طنابی در حال انتشار است. شکل تپ بازتابی آن را از انتهای آزاد طناب، رسم کنید.



شکل ۴-۲۲

۴-۵- اصل برهم نهی موج ها

وقتی در یک مکان شلوغ و پرسر و صدا در حال حرکت هستید، صداهاى مختلفی از چشمه های صوتی متفاوت به گوش شما می رسد. هرچند انسان قادر است، گوش خود را روی صدای خاصی متمرکز کند و آن صدا را بشنود، اما صداهاى مختلف همگی و با هم در هوا منتشر می شوند و انتشار یک صوت، مانع انتشار صوت های دیگر نمی شود.



شکل ۴-۲۳

به شکل ۴-۲۳ نگاه کنید، در سطح آب دریاچه، موج هایی هم زمان در حال انتشارند. این موج ها، هر یک به طور مستقل به انتشار خود ادامه می دهند. مثال های بالا به طور عملی نشان دهنده اصلی به نام اصل برهم نهی هستند. مطابق این اصل:

هر موج در حال انتشار، بدون

آنکه برای انتشار سایر موج ها

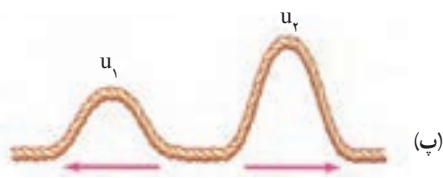
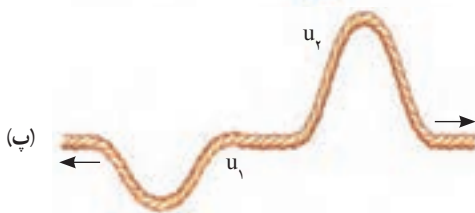
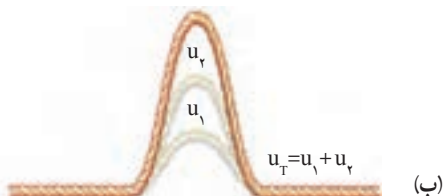
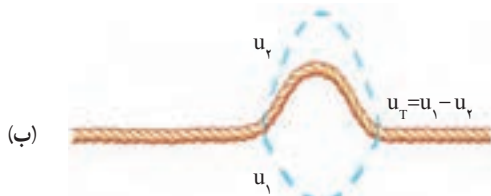
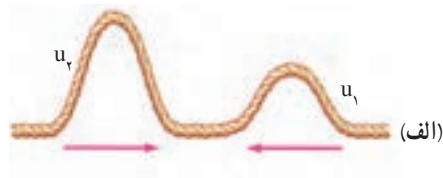
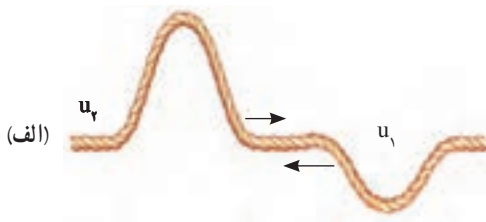
مزاحمتی ایجاد کند، از آنها عبور کرده و به انتشار خود ادامه می دهد. درست مانند آنکه هیچ موج دیگری در محیط منتشر نمی شود. در نقطه ای که دو و یا چند موج با هم تلاقی می کنند، جابه جایی ذره ای از محیط که در آن نقطه است، برابر برابند جابه جایی های حاصل از هر یک از موج هاست.

$$\vec{u}_T = \vec{u}_1 + \vec{u}_2 + \dots$$

(۴-۱۸)

به حالت های مختلف شکل ۴-۲۴ نگاه کنید. در حالت (الف) دو تپ عرضی در طول طناب به طرف یکدیگر در حال انتشارند. این دو تپ در حالت (ب) به یکدیگر رسیده اند و چون جابه جایی حاصل از دو تپ، هم جهت اند، برابند آنها برابر مجموع اندازه جابه جایی های حاصل از هر یک شده است. در حالت (ب) می گوئیم: برهم نهی موج ها سازنده است. در حالت (پ) دو تپ از یکدیگر عبور کرده و به انتشار خود ادامه داده اند.

در حالتی که جابه جایی ها در خلاف جهت یکدیگر باشند جابه جایی برابند برابر تفاضل اندازه جابه جایی هایی است که هر تپ به تنهایی در جزیی از طناب که با هم به آن رسیده اند، ایجاد می کند. به حالت های مختلف شکل ۴-۲۵ توجه کنید. در حالت (ب) می گوئیم: برهم نهی موج ها، ویرانگر است.



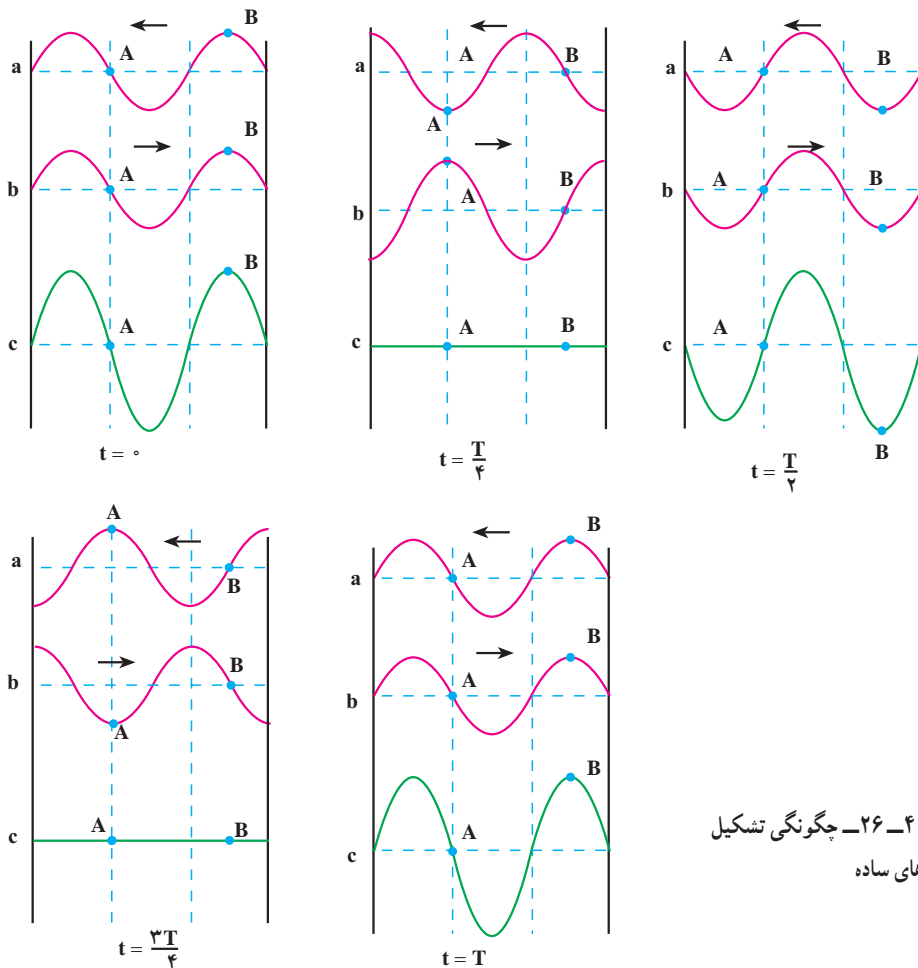
شکل ۲۵-۴

شکل ۲۴-۴

برهم نهی موج ها در یک بُعد؛ موج های ایستاده : فرض کنید که دو چشمه موج با دامنه و بسامد یکسان A و f یکی در ابتدا و دیگری در انتهای یک طناب کشیده شده، شروع به نوسان کرده و نوسان هایی هم راستا ایجاد کنند. موج های حاصل از این دو چشمه یکسان، به سوی یکدیگر، منتشر می شوند. وقتی هر یک از دو موج در تمام طول طناب گسترده شده باشد، به هر جزء طناب در هر لحظه دو موج می رسد. بنا به اصل برهم نهی، جابه جایی هر جزء طناب در هر لحظه، برابر برابند جابه جایی های است که هر یک از دو موج در آن لحظه در آن جزء ایجاد می کنند. وضعیت نوسانی هر نقطه بستگی به مکان آن نقطه در طناب دارد. از برهم نهی چنین دو موجی در طناب، شکل خاصی به وجود می آید که به آن **موج ایستاده** گفته می شود.

گره و شکم : به بعضی از نقطه های طناب در هر لحظه دو موج می رسد که در آن نقطه جابه جایی های یکسان اما در خلاف جهت ایجاد می کنند. در نتیجه برهم نهی دو موج در چنین نقطه هایی ویرانگر و جابه جایی آنها از وضع تعادل صفر است. به این نقطه ها که همواره ساکن می مانند گره می گویند و آنها را با N نشان می دهند. جای گره ها در طول طناب، ثابت است.

به حالت‌های مختلف شکل ۴-۲۶ توجه کنید. در این حالت‌ها و در هر یک از لحظه‌های مشخص شده، موجی را که از راست به چپ منتشر می‌شود با a و موجی را که از چپ به راست در حال انتشار است با b و حاصل برهم نهی این دو موج را با c نشان داده و هر یک را جداگانه رسم کرده‌ایم. در واقع، حالت‌های c وضعیت طناب را هنگامی که موج‌های a و b روی آن منتشر می‌شوند، در بازه‌های زمانی $\frac{T}{4}$ (دوره موج است) نشان می‌دهد.



شکل ۴-۲۶ چگونگی تشکیل موج‌های ساده

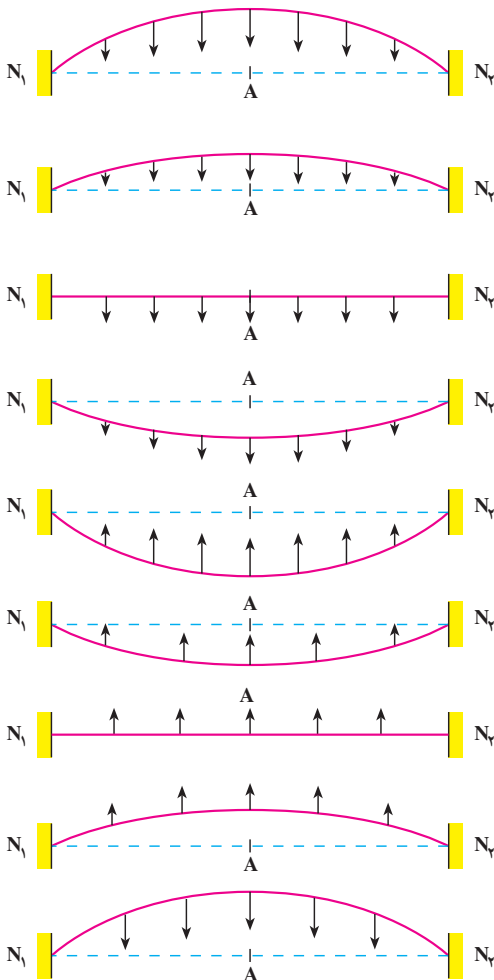
در حالت‌های مختلف شکل ۴-۲۶ به نقطه A توجه کنید. موج‌های a و b در هر لحظه به این نقطه، جابه‌جایی‌هایی هم اندازه اما در خلاف جهت می‌دهند. در نتیجه، همان‌گونه که حالت‌های c در لحظه‌های مختلف نشان می‌دهد، نقطه A همواره ساکن می‌ماند. نقطه A یک گره است.

در شکل ۴-۲۶ گره‌های دیگری نیز وجود دارند. آنها را مشخص کنید.

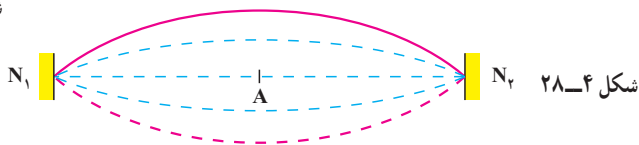
به بعضی نقطه‌های دیگر طناب نیز در هر لحظه دو موج می‌رسد، با این تفاوت که در این نقطه‌ها برهم نهی به گونه‌ای است که باعث می‌شود موج برآیند، با بیشینه دامنه نوسان کند. به این نقطه‌ها شکم، یا پادگره، می‌گویند و آنها را با A نشان می‌دهند. جای شکم‌ها نیز، مانند گره‌ها، ثابت است. در حالت‌های مختلف شکل ۴-۲۶ یکی از شکم‌ها را با نام B مشخص کرده‌ایم. نقطه B در مکانی واقع شده است که برهم نهی حاصل از دو موج a و b آن را با بیشینه دامنه به نوسان وا می‌دارد. نقطه B یک شکم است.

آیا در حالت‌های مختلف شکل ۴-۲۶ شکم دیگری نیز وجود دارد؟ اگر پاسخ شما مثبت است، آن را مشخص کنید.

محاسبه نشان می‌دهد که وقتی در طنابی یک موج ایستاده تشکیل می‌شود، فاصله دو گره متوالی برابر فاصله دو شکم متوالی و برابر نصف طول موج است. همچنین فاصله یک گره و شکم متوالی برابر ربع طول موج است. به همین دلیل برای آن که موج ایستاده در طناب ایجاد شود باید بین طول طناب و طول موج رابطه معینی برقرار باشد. این رابطه به بسامد نوسان‌ها، سرعت انتشار موج در طناب (در نتیجه به نیروی کشش طناب و جرم واحد طول آن) و طول طناب بستگی دارد. علاوه بر این کمیت‌ها، این رابطه به ثابت و یا آزاد بودن انتهای طناب نیز بستگی دارد. در ادامه سعی می‌کنیم این رابطه را به دست آوریم. یکی از روش‌های ایجاد دو موج کاملاً یکسان که در خلاف جهت یکدیگر در طناب کشیده شده منتشر شوند، آن است که یک سر طناب را به کمک یک دیپازون به نوسان درآوریم. این نوسان‌ها از انتهای طناب، بازتاب شده و با موج‌های فرودی برهم نهاده می‌شوند و موج ایستاده را به وجود می‌آورند. برای بررسی، می‌توان دو حالت الف) دو سر طناب ثابت و ب) یک سر ثابت و سر دیگر آزاد را در نظر گرفت. در این کتاب تنها وضعیتی که دو سر طناب ثابت است بررسی می‌شود. در این بررسی فرض شده است که تعداد گره‌ها و شکم‌ها در طول طناب کمترین تعداد ممکن باشد.



شکل ۴-۲۷



شکل ۴-۲۸

چون انتهای ثابت نمی‌تواند نوسان کند، در دو انتهای (دو سر) طناب، همواره گره ایجاد می‌شود. حالت‌های مختلف شکل ۴-۲۷ وضعیت طناب را در لحظه‌های مختلف و در یک دوره نشان می‌دهد.

در این شکل‌ها خط چین N_1AN_2 ، وضعیت تعادل طناب را نشان می‌دهد.

در شکل ۴-۲۸ حالت‌های مختلف شکل ۴-۲۷ نشان داده شده است.

اگر طول طناب L باشد، با توجه به آنچه که بیان شد، فاصله دو گره متوالی برابر نصف طول موج است. در این حالت می‌توان نوشت:

$$L = \frac{\lambda}{2} \quad (4-19)$$

اگر بسامد نوسان f و سرعت انتشار موج در طناب v باشد، با استفاده از رابطه $\lambda = \frac{v}{f}$ خواهیم

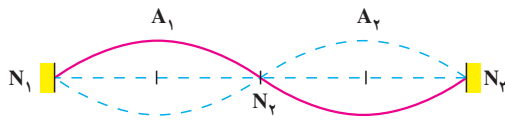
داشت:

$$2L = \frac{v}{f}$$

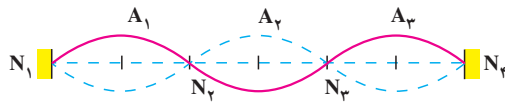
$$f_1 = \frac{v}{2L}$$

(۴-۲۰)

در آلات موسیقی سیمی (زهی) مانند تار، ویلون و... ارتعاش‌های ایجاد شده توسط مضراب و یا آرشه و... در سیم منتشر می‌شود و از دو انتهای ثابت تار بازتاب می‌یابد که از برهم نهی آنها در طول سیم موج ایستاده تشکیل می‌شود. اگر یک سیم (تار مرتعش)، به گونه‌ای مرتعش شود که مانند شکل ۴-۲۷ یک شکم در وسط و دو گره در طرفین آن تشکیل شود، گفته می‌شود که تار بسامد اصلی خود را تولید کرده است. این بسامد از رابطه ۴-۲۰ به دست می‌آید. یک طناب (یا یک تار) را می‌توان به گونه‌ای به نوسان درآورد که تعداد گره‌ها و شکم‌های تشکیل شده در طول آن از حالت اصلی بیشتر باشد. شکل‌های ۴-۲۹ و ۴-۳۰ وضعیت‌هایی را نشان می‌دهد که در آنها به ترتیب دو و یا سه شکم تشکیل شده است.



شکل ۴-۲۹



شکل ۴-۳۰

با کمی دقت معلوم می‌شود که: وقتی روی طنابی موج ایستاده تشکیل می‌شود، در حالی که دو انتهای آن ثابت است، طول طناب مضرب صحیحی از نصف طول موج است.

$$L = n \frac{\lambda_n}{2} \quad (21-4)$$

$$n = 1, 2, 3, \dots$$

رابطهٔ اخیر را می‌توان برحسب بسامد به صورت زیر نوشت:

$$f_n = \frac{nv}{2L} = nf_1 \quad (22-4)$$

روشن است که به ازای $n = 1$ ، بسامد اصلی به دست می‌آید. اگر $n = 2$ باشد ($f_2 = 2f_1$) به آن همهانگ و یا مُد دوم و به همین ترتیب سوم، چهارم و... گفته می‌شود.

دو سر طنابی ثابت شده است. وقتی طناب را به ارتعاش درمی آوریم، در آن موج ایستاده تشکیل می شود. اگر طول طناب 60 cm و در آن ۳ گره ایجاد شده باشد؛ الف) طول موج و ب) بسامد نوسان طناب را به دست آورید. سرعت انتشار موج در طناب 240 m/s است.

پاسخ

الف) شکل ۴-۳۱ وضعیت نوسانی طناب را نشان می دهد. با توجه به شکل، معلوم

می شود که $n = 2$ است. با استفاده از رابطه ۴-۲۱ داریم:

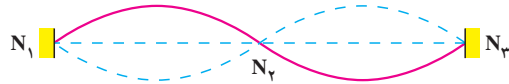
$$L = n \frac{\lambda_n}{2}$$

$$60 = 2 \frac{\lambda_2}{2}$$

$$\Rightarrow \lambda_2 = 60\text{ cm}$$

$$240 / 60 = \frac{240}{f}$$

$$\Rightarrow f = 400\text{ Hz}$$



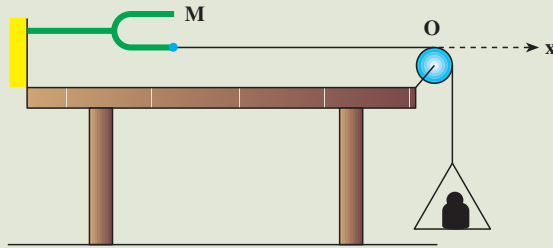
شکل ۴-۳۱

ب) با استفاده از رابطه $\lambda = \frac{v}{f}$ داریم:

همان طور که دیدیم برای آنکه در طول طناب موج ایستاده تشکیل شود، باید رابطه ۴-۲۱ برقرار شود. برای برقراری این رابطه می توان طول طناب و یا نیروی کششی طناب و در نتیجه سرعت انتشار موج در طناب را تغییر داد.

اگر در آزمایشگاه دبیرستان شما، دیاپازونی با نوسان پایدار (مانند آنچه که بیشتر توضیح داده شد) موجود است، آزمایش زیر را انجام دهید و موج ایستاده را در طناب مشاهده کنید.

مطابق شکل ۴-۳۲ یک سر طناب نازکی را به دیاپازون وصل کنید و سر دیگر آن را از روی قرقره ثابتی بگذرانید و به آن کفه ای آویزان کنید. وزن کفه و وزنه درون آن، نیروی کشش را در طناب ایجاد می کند. وقتی دیاپازون را به نوسان درمی آورید، در



شکل ۴-۳۲

طناب موج ایجاد می‌شود. موج‌ها از انتهای ثابت O بازتاب می‌یابند و با موج‌های فرودی، برهم‌نهاد می‌شوند. با تغییر وزن درون کفه، می‌توانید نیروی کشش طناب و در نتیجه سرعت انتشار موج را در آن تغییر دهید. با این کار، بیشترین مقدار وزن را که به ازای آن در نقطه‌های O و M گره و در وسط آنها شکم تشکیل می‌شود، به دست آورید. با کاهش وزن درون کفه، حالت‌هایی را به وجود آورید که تعداد گره و شکم‌ها بیشتر شوند. با جایگزین کردن دیپازونی که بسامد دیگری دارد چه تغییری در آزمایش رخ می‌دهد؟ نتیجه این آزمایش را چگونه توجیه می‌کنید؟

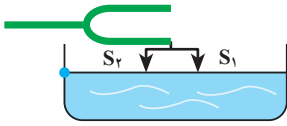
۴-۶- برهم‌نهی موج‌ها در دو بُعد - تداخل موج‌ها در سطح آب

در بخش قبل، برهم‌نهی دو موج کاملاً یکسان را در طناب یا تار بررسی کردیم. در این بخش به بررسی برهم‌نهی موج‌هایی می‌پردازیم که در دو بُعد، مثلاً در سطح آب، منتشر می‌شوند. با یک دیپازون، دو چشمه موج S_1 و S_2 را ایجاد می‌کنیم (شکل ۴-۳۳). طول سوزن‌های S_1 و S_2 با هم برابرند.



شکل ۴-۳۳

اکنون دیافازون را مطابق شکل ۴-۳۴ با سطح آب درون تشتکی در تماس قرار می‌دهیم و برای جلوگیری از بازتاب موج از روی دیواره‌های تشتک، دور تا دور دیواره را اسفنج نازکی می‌چسبانیم. در این صورت، موج‌ها وقتی به دیواره می‌رسند، توسط اسفنج، جذب می‌شوند. حال اگر دیافازون را به نوسان درآوریم، موج‌های دایره‌ای




شکل ۴-۳۴

حاصل از هر یک از دو چشمه S_1 و S_2 در سطح آب منتشر می‌شوند. در نتیجه به هر ذره آب که در سطح آب تشتک قرار دارد، هم‌زمان دو موج می‌رسد. بنابراین وضعیت نوسانی ذره‌های آب، حاصل برهم‌نهی دو موجی است که با هم به هر ذره می‌رسند. در اینجا هم مانند تشکیل موج‌های ایستاده روی طناب، بعضی از ذره‌های سطح آب در هر لحظه دو موج دریافت می‌کنند که این دو موج می‌خواهند در هر ذره جابه‌جایی‌های هم‌اندازه اما در خلاف جهت یکدیگر ایجاد کنند، در نتیجه، برهم‌نهی دو موج در این نقاط، ویرانگر است و این ذره‌ها مانند گره‌ها، ساکن می‌مانند. مکان بعضی ذره‌ها طوری است که برهم‌نهی دو موجی که در هر لحظه به آنها می‌رسند، سازنده است و ذره‌های واقع در این مکان‌ها مانند شکم‌ها در موج ایستاده روی طناب، با بیشینه دامنه، نوسان می‌کنند. در طناب که محیطی یک‌بُعدی است، تعدادی نقطه گره و شکم به طور متوالی تشکیل می‌شود، اما در اینجا که سطح آن دو بُعدی است، نقطه‌های گره مشابه و نیز نقطه‌های شکم مشابه بی‌شماری وجود دارد.

شکل ۴-۳۵ تصویری را نشان می‌دهد که حاصل برهم‌نهی آزمایشی مشابه آزمایش یادشده بالا است.

این پدیده را تداخل موج‌ها می‌نامیم. شرط ایجاد چنین وضعیتی، یعنی شرط ایجاد تداخل موج‌ها آن است که دو چشمه موج، هم‌بسامد و هم‌فاز باشند.



شکل ۴-۳۵

۱- موج طولی و عرضی را تعریف کنید. تحقیق کنید که چه نوع موجی می‌تواند در جامد، مایع و یا گاز منتشر شود.

۲- نوسان‌های حاصل از چشمه موجی با بسامد 200 Hz با سرعت 100 m/s در یک محیط منتشر می‌شود. اگر چشمه موج دیگری با بسامد 150 Hz را جایگزین چشمه اولی کنیم، نوسان‌های آن با چه سرعتی در این محیط منتشر می‌شود؟ برای پاسخ خود دلیل بیاورید.

۳- شکل ۴-۳۶ موجی عرضی را در یک لحظه نشان می‌دهد که در جهت مثبت محور x در امتداد طناب تحت کششی در حال انتشار است. روی این شکل چند نقطه از طناب با حروف مشخص شده است.

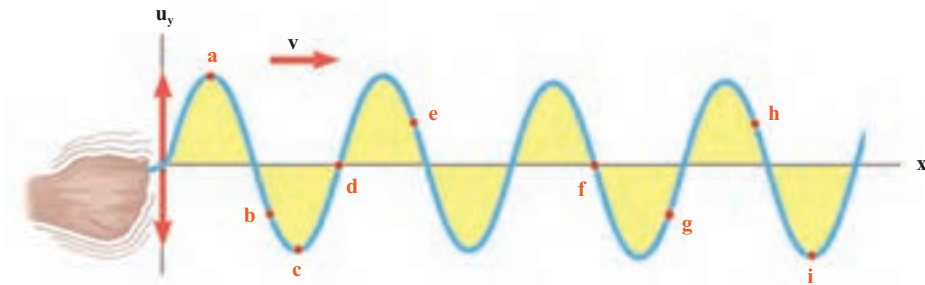
(الف) نقاط هم‌فاز را بنویسید.

(ب) نقاط با فاز مخالف را بنویسید.

(پ) شتاب نوسانی در کدام یک از نقاط صفر است؟

(ت) جهت سرعت نوسانی کدام یک از نقاط برخلاف مثبت محور y است؟

(ث) دست کم یک نقطه با نام O روی شکل مشخص کنید که با سرعت بیشینه در جهت $+y$ در نوسان است.



شکل ۴-۳۶

۴- سرعت انتشار موج در طنابی به طول L با نیروی کشش F برابر v است. اگر طول طناب را نصف کنیم، اما نیروی کشش را ثابت نگه داریم سرعت انتشار در آن چند برابر می‌شود؟

۵- شکل ۴-۳۷، نقش یک موج را در یک لحظه نشان می‌دهد. این شکل را در دفتر خود کپی کنید و بر روی آن موج دیگری رسم کنید که طول موج آن دو برابر و دامنه آن نصف باشد. دامنه و طول موج را روی شکل مشخص کنید.



شکل ۴-۳۷

۶- سیمی به چگالی $7/8 \text{ g/cm}^3$ و سطح مقطع 5 mm^2 بین دو نقطه با نیروی 156 N کشیده شده است. سرعت انتشار موج را در این سیم محاسبه کنید.

۷- دو موج با بسامدهای 5 Hz و 75 Hz در یک محیط منتشر می‌شوند.

الف) سرعت انتشار موج دوم چند برابر سرعت انتشار موج اول است؟

ب) طول موج برای موج دوم چند برابر طول موج برای موج اول است؟

۸- جرم سیم پیانویی به طول $8/10$ متر برابر 6 گرم و نیروی کشش آن 432 N است. این سیم به گونه‌ای مرتعش می‌شود که در طول آن، دو شکم تشکیل می‌شود، بسامد صوتی را که ایجاد می‌شود محاسبه کنید. بسامد اصلی این سیم چند هرتز است؟