

بِسْمِ اللَّهِ الرَّحْمَنِ الرَّحِيمِ

اَللّٰهُمَّ صَلِّ عَلٰى مُحَمَّدٍ وَّآلِ مُحَمَّدٍ وَّعَجِّلْ فَرَجَهُمْ



مطالعات اجتماعی

ششم دبستان

دانش آموزان گرامی می توانند نرم افزار آموزشی این کتاب را از طریق کتابخانه مدرسه و یا شبکه ملی مدارس ایران (رشد) به آدرس **Roshd.ir** تهیه نمایند.




وزارت آموزش و پرورش سازمان پژوهش و برنامه‌ریزی آموزشی



نام کتاب :	مطالعات اجتماعی - ششم دبستان - ۶۰۷
پدیدآورنده :	سازمان پژوهش و برنامه‌ریزی آموزشی
مدیریت برنامه‌ریزی درسی و تألیف :	دفتر تألیف کتاب‌های درسی عمومی و متوسطه نظری
شناسه افزوده برنامه‌ریزی و تألیف :	محمّدباقر آرام، نادر جهان‌آرا، محمّدرضا سنگری، لیلا شایانی، ناهید فلاحیان، محمّدشریف متولی‌الموتی، منصور ملک‌عبّاسی، محمود معافی، زهرا سادات یاسینی و عصمت یوسفی (اعضای شورای برنامه‌ریزی) ناهید فلاحیان، مسعود جوادیان (مؤلفان) - محمّد دانشگر (ویراستار)
مدیریت آماده‌سازی هنری :	اداره‌ی کل نظارت بر نشر و توزیع مواد آموزشی
شناسه افزوده آماده‌سازی :	احمد رضا امینی (مدیر امور فنی و چاپ) - مجید ذاکری یونسی (مدیر هنری) - مجید کاظمی، محمّد عبّاسی (طراح گرافیک و صفحه‌آرا) - ریحانه رحیم‌پور (طراح جلد) - حسین آسیوند، محمّدرضا دوست‌محمّدی، مرتضی یزدانی و مهدی مقدادی (تصویرگران) - محمّد نوروزی، حامد نیرومند، عرفان دادخواه، مهری رحیم‌زاده، بهنام مؤذن، رضا بختیاری، ساتیار امامی، جاش همباندی، علی کنعانی و آذین حقیقی (عکاسان) - فاطمه باقری‌مهر، رعنا فرج‌زاده دروئی، سیف‌الله بیک‌محمّد دلپوند، فاطمه پزشکی و ناهید ختّام‌باشی (امور آماده‌سازی)
نشانی سازمان :	تهران : خیابان ایرانشهر شمالی - ساختمان شماره‌ی ۴ آموزش و پرورش (شهید موسوی) تلفن : ۸۸۸۳۱۱۶۱-۹، دورنگار : ۸۸۳۰۹۲۶۶، کد پستی : ۱۵۸۴۷۴۷۳۵۹
ناشر :	شرکت افست : تهران - کیلومتر ۴ جاده آبعلی، پلاک ۸، تلفن : ۷۷۳۳۹۰۹۳، دورنگار : ۷۷۳۳۹۰۹۷، صندوق پستی : ۱۱۱۵۵-۴۹۷۹
چاپخانه :	شرکت افست «سهامی عام» (WWW.Offset.ir)
سال انتشار و نوبت چاپ :	چاپ چهاردهم ۱۴۰۴
برای دریافت فایل pdf کتاب‌های درسی به پایگاه کتاب‌های درسی به نشانی www.chap.sch.ir و برای خرید کتاب‌های درسی به سامانه فروش و توزیع مواد آموزشی به نشانی www.irtextbook.ir یا www.irtextbook.com مراجعه نمایید.	

کلیه‌ی حقوق مادی و معنوی این کتاب متعلق به سازمان پژوهش و برنامه‌ریزی آموزشی وزارت آموزش و پرورش است و هرگونه استفاده از کتاب و اجزای آن به‌صورت چاپی و الکترونیکی و ارائه در پایگاه‌های مجازی، نمایش، اقتباس، تلخیص، تبدیل، ترجمه، عکس‌برداری، نقاشی، تهیه فیلم و تکثیر به هر شکل و نوع بدون کسب مجوز از این سازمان ممنوع است و متخلفان تحت پیگرد قانونی قرار می‌گیرند.



امام خمینی بسیار مرتب بودند، یعنی از آن ساعت صبح که از خواب بیدار می شدند هیچ کارشان بدون برنامه نبود، هیچ وقت بدون برنامه زندگی نکردند. مطالعه شان سر ساعت بود، استراحتشان سر ساعت، خوابشان سر ساعت، به رادیو گوش کردنشان سر ساعت و خلاصه تمام کارهایشان حتی عبادتشان سر ساعت بود.

سخنی با معلمان عزیز

خداوند متعال را سپاس می‌گوییم که به لطف او توانستیم کتاب مطالعات اجتماعی پایه‌ی ششم ابتدایی را تألیف و به شما تقدیم کنیم. مطالعات اجتماعی یک حوزه‌ی مهم یادگیری است که از انسان و تعامل او با محیط‌های گوناگون در زمان‌های مختلف (حال، گذشته و آینده) و جنبه‌های گوناگون این تعامل (سیاسی، اقتصادی، اجتماعی، فرهنگی، محیطی و...) بحث می‌کند. به همین دلیل این حوزه، مفاهیم رشته‌های متعدد و مختلفی چون تاریخ، جغرافیا، علوم اجتماعی، اقتصاد، علوم سیاسی، حقوق، مردم‌شناسی و نظایر آن را در بر می‌گیرد. در برنامه‌ی درسی مطالعات اجتماعی کشور ما به منظور سازماندهی تلفیقی محتوا، پنج حوزه‌ی موضوعی انتخاب شده است:

۱- فضا و مکان

۲- زمان، تداوم و تغییر

۳- فرهنگ و هویت

۴- نظام اجتماعی

۵- منابع و فعالیت‌های اقتصادی

هریک از این حوزه‌ها به تعدادی از این رشته‌های مذکور ناظر است و تعدادی از مفاهیم کلیدی مربوط را پوشش می‌دهد.^۱ به‌علاوه، مطالعات اجتماعی یکی از دروس مهم حامل «آداب و مهارت‌های زندگی» به شمار می‌رود.

برنامه‌ی درسی مطالعات اجتماعی با توجه به رویکرد کلی برنامه‌ی درسی ملی مبنی بر فطرت‌گرایی توحیدی و اهتمام به شکوفایی آن، سعی می‌کند زمینه‌های تربیت فردی و اجتماعی کودکان و نوجوانان را فراهم آورد. از این رو، هدف غایی مطالعات اجتماعی

۱- برای مطالعه‌ی بیشتر درباره‌ی ماهیت و ویژگی‌های این حوزه رجوع کنید به <http://socialstudies-dept.talif.sch.ir>

تربیت افرادی مؤمن، مسئول، آگاه و توانمند در زندگی فردی و اجتماعی، پایبند به اخلاق و ارزش‌های دینی و علاقه‌مند به ایران و هویت اسلامی – ایرانی است.

به منظور کاربردی کردن دروس و پیوند آن با زندگی واقعی لازم است شما معلم عزیز به اهداف اصلی این درس توجه و تأکید کنید و دانستنی‌ها و اطلاعات کتاب را به عنوان بستری برای تحقق اهداف اصلی و منبع کاوشگری دانش‌آموزان قلمداد کنید. این توجه بدون شک بر الگوهای تدریس، انتظارات یادگیری و شیوه‌های ارزشیابی شما تأثیر خواهد گذاشت.

این کتاب درسی شامل ۱۲ فصل است که در هر فصل، دو یا چند حوزه‌ی موضوعی – که در بالا اشاره شد – و مفاهیم کلیدی مربوط به آنها، با یکدیگر تلفیق می‌شود.

این کتاب، همچنین شامل کاربرگ‌های فعالیت است که در پایان هر فصل آورده شده است. این کاربرگ‌ها جزء کتاب درسی و دربرگیرنده‌ی بخشی از محتوا است که باید هنگام تدریس، فعالیت‌های آن توسط دانش‌آموزان انجام شود. اغلب این کاربرگ‌ها در کلاس تکمیل می‌شود.

برای تدریس کتاب به این موارد توجه کنید :

- به همراه این کتاب، راهنمای معلم تألیف شده است. به شما توصیه می‌کنیم این راهنما را به دقت مطالعه کنید.
- به انجام دادن فعالیت‌های کتاب اهتمام بورزید : فعالیت‌های دروس و کاربرگ‌ها طوری طراحی شده‌اند تا فضای لازم برای پرورش مهارت‌ها و نگرش‌ها به وجود بیاید. در صورتی که این فعالیت‌ها به خوبی و درستی انجام شود، اهداف برنامه محقق می‌گردد. توجه کنید که انجام ندادن فعالیت‌ها و تبدیل متون درس‌ها به سؤال و جواب‌های کلیشه‌ای برخلاف رویکرد برنامه است. اطلاعات دروس نیز به جهت انجام دادن فعالیت‌ها ارائه شده است؛ بنابراین از تأکید بر حفظ کردن آنها پرهیزید.

● شیوه‌های مناسب ارزشیابی را به کار ببندید : توجه کنید که ارزشیابی مستمر به معنای آزمون‌های مکرر کتبی نیست؛ بلکه تمام فعالیت‌های دانش‌آموزان در کلاس و خارج از کلاس را شامل می‌شود. شایسته است تهیه‌ی سیاهه‌های ثبت مشاهدات، بررسی پوشه‌ی کار و کاربرگ‌ها و روش‌های گوناگون در دستور کار قرار گیرد. ارزشیابی باید به منظور اصلاح نواقص آموزش صورت بگیرد. در این زمینه از هرگونه فشار بر دانش‌آموزان که موجب سرخوردگی در این درس شود، پرهیز گردد.

در آزمون‌های کتبی از بخش‌هایی که با برچسب «مطالعه برای انجام فعالیت» مشخص شده‌اند، سؤال طرّاحی نشود. در همین راستا با توجه به تأکید بر فعالیت‌های کتاب درسی و کاربرگ‌ها، به کتاب‌های تست و تمرین متداول در بازار نیازی نیست.



● اگرچه بخش اعظم کتاب و محتوای آن به موضوعات مشترک و ضروری برای همه‌ی دانش‌آموزان اختصاص دارد، کتاب تنها الگو و کلیاتی را در اختیار شما قرار می‌دهد. از شما معلم عزیز انتظار می‌رود که تدریس موضوعات را با شرایط محلی و بومی منطبق کنید و با طرّاحی فعالیت‌های مناسب به نیازهای خاص مناطق پاسخ دهید.

● مشارکت خانواده‌ها را جلب کنید : با توجه به ماهیت دروس و لزوم آموزش مهارت‌های زندگی، بدون همراهی و همکاری خانواده‌ها، اهداف برنامه‌ی درسی تحقق نمی‌یابد؛ لذا با استفاده از روش‌های مختلف مانند تشکیل جلسات منظم، نوشتن یادداشت برای خانواده و... از مشارکت خانواده‌ها در آموزش و حتی ارزشیابی استفاده کنید.

● فعالیت‌های مربوط به نقشه و نمودار تنها در محدوده‌ی کتاب و کاربرگ‌ها انجام می‌گیرد. دانش‌آموزان را به ترسیم نقشه یا فعالیت‌های اضافی در این زمینه وادار نکنید.

● همکار گرامی رمزینه‌های سریع پاسخ به‌عنوان ابزاری برای دسترسی سریع به اطلاعات آموزشی می‌باشد. با هدایت دانش‌آموزان و اسکن نمودن رمزینه‌های هر درس دانش‌آموزان را برای استفاده از محتوای آن یاری نمایید. امید است شما معلمان عزیز با به‌کارگیری روش‌های مناسب، فضایی پرنشاط و دلپذیر در کلاس‌های این درس فراهم کنید.



گروه مطالعات اجتماعی

فهرست

۱۱	★ فصل اوّل: دوستان ما
۱۲	۱- دوستی
۱۵	۲- آداب دوستی
۲۱	★ فصل دوم: تصمیم‌گیری
۲۲	۳- تصمیم‌گیری چیست؟
۲۴	۴- چگونه تصمیم بگیریم؟
۳۱	★ فصل سوم: کشاورزی در ایران
۳۲	۵- عوامل مؤثر در کشاورزی
۳۴	۶- محصولات کشاورزی، از تولید تا مصرف
۴۵	★ فصل چهارم: ایران و منابع انرژی
۴۶	۷- طلای سیاه
۵۱	۸- انرژی را بهتر مصرف کنیم

★ فصل پنجم: پیشرفت علوم و فنون در دوره‌ی اسلامی

- ۵۹
۶۰ - پیشرفت‌های علمی مسلمانان
۶۶ - چه عواملی موجب گسترش علوم و فنون در دوره‌ی اسلامی شد؟

★ فصل ششم: سفری به اصفهان

- ۷۱
۷۲ - اصفهان، نصف جهان
۷۷ - چرا فرهنگ و هنر در دوره‌ی صفویه شکوفا شد؟

★ فصل هفتم: اوقات فراغت

- ۸۳
۸۴ - برنامه‌ی روزانه‌ی متعادل
۸۷ - برنامه‌ریزی برای اوقات فراغت

★ فصل هشتم: پوشاک ما

- ۹۵
۹۶ - انواع لباس
۱۰۰ - لباس از تولید تا مصرف

۱۰۷

۱۰۸

۱۱۲

★ فصل نهم: دریا‌های ایران

۱۷- ویژگی‌های دریا‌های ایران

۱۸- دریا، نعمت خداوندی

۱۱۹

۱۲۰

۱۲۵

★ فصل دهم: ایران و همسایگان

۱۹- همسایگان ما

مطالعه‌ی موردی

۱۳۱

۱۳۲

۱۳۶

★ فصل یازدهم: ایستادگی در برابر بیگانگان

۲۰- استعمار چیست؟

۲۱- مبارزه‌ی مردم ایران با استعمار

۱۴۱

۱۴۲

۱۴۷

★ فصل دوازدهم: آزادی خرّمشهر

۲۲- خرّمشهر در چنگال دشمن

۲۳- خرّمشهر در دامان میهن

دوستان ما

۱

فصل اول

حوزه‌های موضوعی
نظام اجتماعی
فرهنگ و هویت



همه‌ی ما دوستانی داریم.

آیا تاکنون به موضوع دوستی فکر کرده‌اید؟ صمیمی‌ترین
دوستان شما چه کسانی هستند؟
در یک هفته‌ی گذشته درباره‌ی چه چیزهایی با دوستانتان گفت‌وگو
کرده‌اید؟ در چه موضوعاتی همفکری و یا در چه کارهایی به هم کمک
کرده‌اید؟ آیا تاکنون از خود پرسیده‌اید که چرا ما دوستانی برای
خود انتخاب می‌کنیم؟
دوست خوب چه ویژگی‌هایی دارد و چگونه می‌توانیم دوستان خوب
را حفظ کنیم؟

موضوع این فصل دوستی است. امید است شما با
آموختن مطالب این فصل و انجام دادن فعالیت‌های آن
بتوانید پاسخ پرسش‌های خودتان را پیدا کنید.

دوستی

دوستی یک نیاز است



انسان موجودی اجتماعی است و نمی تواند تنها زندگی کند. تنهایی برای انسان ها احساس ناخوشایندی است. دوستی یکی از مهم ترین نیازهای ما به شمار می رود. همه ی ما نیاز داریم که دوستانی داشته باشیم تا هم به آنها محبت کنیم و هم مورد توجه و مهربانی قرار بگیریم. خداوند در سرشت ما انسان ها میل به محبت کردن و محبت دیدن و نیاز به برقراری ارتباط با دیگران را قرار داده است.

اهمیت دوستی

داشتن دوستان خوب مزایا و فواید زیادی دارد :

انسان از صحبت کردن و همنشینی با دوستان خوب لذت می برد. هر یک از ما گاهی با موضوعاتی برخورد می کنیم که می خواهیم درباره ی آنها با دیگران صحبت و همفکری کنیم.

همه ی ما در زندگی به کمک دیگران نیاز داریم. دوستان به ما در مشکلات یاری می کنند.



همه ی ما دوست داریم گاهی شادی ها یا ناراحتی های خود را با دوستانمان در میان بگذاریم. صحبت کردن با دوست عاقل و صبور باعث می شود احساس سبکی و آرامش کنیم.

یکی دیگر از فواید مهم دوستی این است که انسان از طریق همنشینی و گفت و گو با دیگران چیزهای جدیدی یاد می گیرد و به آگاهی های خود می افزاید.

فعالیت ۱

- نام یک یا چند نفر از بهترین دوستانی را که تا به حال داشته‌اید، روی یک ورق کاغذ بنویسید؛ بعد در مقابل نام هر کدام بنویسید که چرا دوستی با این افراد برای شما مهم بوده است یا چرا می‌خواستید با آنها دوست باشید؟ نتیجه را در کلاس بخوانید.
- در باره‌ی یک یا دو نفر از صمیمی‌ترین دوستانتان خوب فکر کنید. در چند جمله بنویسید که دوستی با آنها چه تأثیرات مثبت یا منفی روی شما گذاشته است (برای مثال روی لباس پوشیدن، علاقه‌مندی‌ها، هدف‌ها، وضعیت تحصیلی و...). لازم نیست نام دوستان را بگویید.

چرا انتخاب دوست یک موضوع مهم است؟

یکی از موضوعات مهم در روابط دوستی، انتخاب دوست است. رفتار و اخلاق دوستان در ما تأثیر می‌گذارد و ما نیز تأثیراتی بر دوستان خود داریم.

اگرچه دوست خوب مایه‌ی آرامش انسان است، با هر کسی نمی‌توان دوستی کرد و همه‌ی افراد برای دوستی و رفاقت شایستگی ندارند. گاه ممکن است یک دوست، مسیر آینده و زندگی دوستش را به سوی موفقیت و سعادت تغییر دهد و گاه ممکن است در شرایطی، یک دوست موجب ناراحتی و سرشکستگی دوست خود شود؛ به همین دلیل باید در انتخاب دوست بسیار دقت کنیم.

ویژگی‌های دوست خوب

گفت و گو با پدر و مادر



دوست خوب
کیست؟ چگونه دوستان
خود را انتخاب کنیم؟



فرزندان عزیز

برای شناخت و انتخاب درست دوست خوب، باید ملاک‌هایی داشته باشیم:

امیر مؤمنان حضرت علی بن ابی طالب (ع) در نامه‌ی خود به فرزندشان امام حسن (ع) فرمودند:

با نیکان همدلی و رفاقت کن تا از آنان باشی و از بدان جدا شو تا از آنان نباشی.

به سخنان ایشان بیشتر دقت کنیم و بیندیشیم.

سخنان امام علی (ع) درباره‌ی دوست

نتیجه می‌گیریم

- کسی را برای دوستی انتخاب کن که تو را از بدی‌ها و کارهای نامناسب بازدارد؛ زیرا چنین دوستانی به تو یاری می‌رسانند و سبب پیشرفت تو می‌شوند.
- دوست کسی است که در پشت سر هم، صادق باشد؛ یعنی حقوق دوست خود را صادقانه رعایت کند و با او یکترو باشد.
- هرکس ادب ندارد، عقل هم ندارد. دوست خوب خوش اخلاق و با ادب است. همان‌طور که پیشوایان بزرگ دینی به ما توصیه می‌کنند که با افراد عاقل، با ایمان و نیکوکار دوستی کنیم، آنها از ما می‌خواهند که از دوستی با افراد دروغگو، بخیل و سخن‌چین خودداری کنیم.
- پیامبر عزیز ما حضرت محمد (صلی‌الله‌علیه‌وآله) می‌فرمایند: بدترین افراد کسانی هستند که میان مردم سخن‌چینی می‌کنند و بین دوستان جدایی می‌اندازند.

فعالیت ۲

استفاده‌ی نادرست از اینترنت باعث شده است که عده‌ای از آن برای دوست‌یابی استفاده کنند. به‌نظر شما می‌توان به افراد ناشناس در اینترنت اعتماد کرد؟

فعالیت ۳

به‌طور گروهی، خصوصیات دوست خوب را فهرست کنید و روی یک مقوّا بنویسید و به دیوار کلاس بزنید.

فعالیت ۴

معنی این ابیات چیست؟ گفت و گو کنید و معنی آنها را توضیح دهید.

من آن‌گه بگویم که تو کیستی تو اوّل بگو با کیان زیستی




همنشین تو از تو به باید تا تو را عقل و دین بیفزاید

(سعدی)

فعالیت ۵

در گروه خود بخوان و ببیندیش «دوستان هم‌دل» و درس «دوستی» کتاب فارسی ششم را بررسی کنید و درباره‌ی ویژگی‌های دوست بایکدیگر گفت و گو کنید.

آداب دوستی



آیا تا به حال این عبارت را شنیده‌اید که می‌گویند: پیدا کردن دوست آسان است اما نگهداری آن مشکل!
منظور از این ضرب‌المثل چیست؟

چگونه با دوستانمان رفتار کنیم؟

حفظ و نگهداری دوستی یک موضوع مهم است. حفظ دوستی یعنی اینکه ما با دوستانمان چه رفتارهایی داشته باشیم تا دوستی ادامه پیدا کند؟ چه کنیم تا دوستی‌ها به هم نخورد و محکم‌تر شود؟

فعالیت ۱

به‌طور گروهی رفتارهایی را که موجب ناراحتی دوستان از یکدیگر و برهم خوردن دوستی‌ها می‌شود، فهرست کنید و در کلاس بخوانید.



شما با این فعالیت توانستید برخی از کارهایی را که به رابطه‌ی دوستی آسیب می‌رساند، پیدا کنید.

به این توصیه‌ها توجه کنید :

- ★ به دوست وفادار باشیم و در غیاب دوستان هم از او دفاع کنیم.
- ★ کاری نکنیم که دوستان ما به خاطر خواسته‌های ما به در دسر و زحمت بیفتند.
- ★ اگر خطایی از دوستان دیدیم، عیب‌جویی نکنیم؛ بلکه با رفتار محبت‌آمیز و در خلوت به او تذکر دهیم.
- ★ اگر دوستان کار اشتباهی انجام داده است و عذر می‌خواهد، او را ببخشیم.
- ★ با یکدیگر با احترام برخورد کنیم و بیش از حد شوخی نکنیم.
- ★ در مسائل و مشکلات با هم احساس همدردی و خیرخواهی داشته باشیم و به هم کمک کنیم.

حد و مرز دوستی

هر چیزی حد و مرزی دارد. دوستی‌ها هم حد و مرز مشخصی دارند که اگر از حدّ خود خارج شوند، مشکلاتی به وجود می‌آورند. گاهی ممکن است بعضی از دوستان خیلی به هم وابسته بشوند؛ به طوری که اگر حتی یک روز همدیگر را نبینند، ناراحت شوند. این نوع وابستگی زیاد از حد به دوست، آرامش روانی افراد را برهم می‌زند. پس باید از دوستی‌های افراطی پرهیز کرد. درباره‌ی موقعیت ۲ در کار برگه‌ی ۱، گفت‌وگو کنید.

نه گفتن

گاهی در روابط با دوستان یا حتی بزرگ‌ترها، موقعیت‌هایی پیش می‌آید که افراد از مادرخواست‌های نابجایی دارند. در این موارد ما با اینکه میل نداریم خواسته‌ی آنها را بپذیریم برای ما خیلی سخت است که به آنها «نه» بگوییم. ممکن است احساس کنیم که با نه گفتن، آنها از دست ما ناراحت می‌شوند یا از اینکه نظر واقعی مان را بگوییم خجالت بکشیم. گاهی هم تصور می‌کنیم که اگر به آنها «نه» بگوییم، ما را مسخره می‌کنند یا فکر می‌کنند ما بچه هستیم.





به این مثال توجه کنید :

رضا و مجید در خانه‌ی احسان رفته‌اند و از او می‌خواهند که همراهشان به پارک برود تا با هم بازی کنند. احسان می‌گوید : مادرم برای خرید از خانه بیرون رفته و از من خواسته است تا مواظب برادر کوچکم باشم. دوستان احسان باز هم اصرار می‌کنند و حتی به او می‌گویند : خوب برادرت را هم به پارک بیاور. اما احسان قاطعانه و محترمانه می‌گوید : نه بچه‌ها، دلم می‌خواهد با شما بازی کنم ولی امروز نمی‌توانم بیایم. چون باید به حرف مادرم گوش کنم؛ ان شاء الله یک روز دیگر.

آیا شما تاکنون در موقعیت‌هایی مانند احسان قرار گرفته‌اید؟ تعریف کنید.

اگر انسان برخلاف عقیده‌ی خودش، همه‌ی خواسته‌های دیگران را قبول کند و بخواهد آنها را راضی نگه دارد، ممکن است حتی برای خود و خانواده‌اش دردسر درست کند.

- وقتی کسی از شما چیزی یا کاری را می‌خواهد که به نظر شما نادرست است، باید قاطعانه و محکم «نه» بگویید.
- از «نه» گفتن خجالت نکشید؛ اما سعی کنید محترمانه «نه» بگویید.
- اگر لازم دانستید دلیل «نه» گفتن خودتان را هم بگویید.

فعالیت ۲

اگر دوستان از شما بخواهند که اطلاعات شخصی یا خانوادگی‌تان (مانند عکس و...) را در اینترنت برایشان ارسال کنید چه پاسخی می‌دهید؟

فعالیت ۳

کاربرگه‌ی شماره‌ی (۱) و (۲) را انجام دهید.

فعالیت ۴

معنی این شعر چیست؟ مربوط به کدام یک از توصیه‌های مربوط به دوستی در صفحه‌ی قبل است؟

دوست آن باشد که گیرد دست دوست

در پریشان حالی و درماندگی

(سعدی)

اکنون که این فصل را به پایان رساندید، روی یک برگ کاغذ بنویسید چه سؤال‌های دیگری در مورد دوستی و دوست دارید؟

دوستی

بحث گروهی - موقعیت‌های زیر را بخوانید و درباره‌ی کارهای افراد گفت‌وگو کنید. کار کدام یک از آنها درست یا نادرست است؟ بهتر است هریک از آنها در این موقعیت چگونه رفتار کنند؟

موقعیت ۱

حسن و پوریا در همسایگی هم زندگی می‌کنند و با هم دوست و همکلاس هستند. آنها فردا امتحان ریاضی دارند. پوریا نتوانسته است بعضی از مطالب را خوب یاد بگیرد و از حسن خواهش می‌کند که به خانه‌ی آنها بیاید و به او ریاضی یاد بدهد. از طرفی حسن می‌خواهد بهترین نمره‌ی کلاس را بگیرد و نفر اول باشد و نمی‌داند چه تصمیمی بگیرد.

موقعیت ۲

سارا و نرگس دوستان صمیمی هستند. آنها هر روز با هم به مدرسه می‌روند، با هم درس می‌خوانند و گاهی در روزهای تعطیل نیز به خانه‌ی یکدیگر می‌روند. خانواده‌ی نرگس خانه‌ی جدیدی در یک محله‌ی دیگر شهر خریده‌اند و قرار است به آنجا اسباب‌کشی کنند. نرگس هم باید در مدرسه‌ی دیگری ثبت‌نام کند. سارا خیلی گریه می‌کند و نمی‌تواند درس‌هایش را خوب بخواند.

موقعیت ۳

مریم و لیلا با هم دوست هستند. مریم متوجه می‌شود که گاهی لیلا پشت سر یکی از همکلاسی‌هایشان بدگویی می‌کند. مریم با مهربانی به لیلا می‌گوید: همان‌طور که ما دوست نداریم کسی پشت سر ما حرف بزند، پس ما هم نباید عیب دیگران را بازگو کنیم؛ اقا لیلا اخم‌هایش را در هم می‌کشد و ناراحت می‌شود و

نه گفتن

۱- تمرین «نه گفتن»: همفکری کنید و جمله ای مناسب بنویسید.

یکی از همکلاسی‌هایتان، شما را به جشن تولدش دعوت کرده است. پدر و مادرتان، همکلاسی شما و خانواده‌اش را نمی‌شناسند و به شما اجازه نمی‌دهند در این مهمانی شرکت کنید. همکلاسی شما دوباره تلفن می‌زند و به شما اصرار می‌کند که حتماً بیایید. شما چه می‌گویید؟ چگونه؟

یکی از دوستان شما، تشویقتان می‌کند که با هم در امتحان تقلب کنید و شیوه‌ای را هم برای این کار به شما نشان می‌دهد. اما نظر شما این است که هر نمره‌ای بگیرید، بهتر از این است که این کار نادرست را انجام بدهید. شما چه می‌گویید؟ چگونه نظر خود را مطرح می‌کنید؟

حمید با عجله در حال رفتن به مدرسه است. پسری با موتور به او نزدیک می‌شود و می‌گوید: می‌خواهی تو را سریع به مدرسه برسانم؟ سوار شو. حمید آن پسر را نمی‌شناسد؛ اگرچه چند بار او را در آن کوچه دیده است. به نظر شما حمید چه باید بگوید؟ چرا؟

نرگس و نسترن در حال برگشتن از مدرسه هستند. خانمی به آنها نزدیک می‌شود و می‌گوید در کوچه‌ی مجاور، در خانه‌ای نمایشگاه لباس‌های قشنگ و ارزان قیمت برپا شده است. او به نرگس و نسترن اصرار می‌کند که همراهش بروند و اگر لباس‌ها را پسندیدند، بعداً با خانواده‌هایشان برای خرید بیایند. به نظر شما نرگس و نسترن چه پاسخی باید بدهند؟ چرا؟

در یک بند به طور مختصر بنویسید.

۲- شما به عنوان یک دوست خوب چه کارهایی برای دوستانتان انجام می دهید و چگونه رفتار می کنید؟

۳- این عبارت ها را به دلخواه کامل کنید :

● دوست من کسی است که

● من به دوستانم احترام می گذارم، زیرا

● هرگاه از دوستم خطایی مشاهده کنم

تصمیم‌گیری

۲

فصل دوم

حوزه‌های موضوعی

نظام اجتماعی

فرهنگ و هویت



آیا تاکنون دقت کرده‌اید که ما هر روز تصمیم‌های زیادی می‌گیریم؟ مثلاً صبح وقتی می‌خواهیم به مدرسه برویم، ممکن است تصمیم بگیریم به جای پیاده رفتن از اتوبوس استفاده کنیم یا وقتی از مدرسه به خانه برمی‌گردیم، تصمیم بگیریم اول تکالیف درسی مان را انجام دهیم و بعد بازی کنیم. در عصر یک روز تعطیل تصمیم می‌گیریم که به اتفاق خانواده سری به فامیل بزنیم یا در خانه تلویزیون تماشا کنیم. بعضی از تصمیمات ساده و کم اهمیت هستند، اما برخی از تصمیمات خیلی مهم هستند. آیا می‌توانید چند نمونه از تصمیمات مهم زندگی را نام ببرید؟

چرا تصمیم‌گیری کار مهمی است؟ چگونه باید تصمیم بگیریم و از کجا بفهمیم تصمیمی که گرفته‌ایم، درست است؟

موضوع این فصل تصمیم‌گیری است. امید است شما با آموختن مطالب این فصل و انجام دادن فعالیت‌های آن بتوانید پاسخ پرسش‌های خودتان را پیدا کنید.

تصمیم‌گیری چیست؟



وقتی ما تصمیم می‌گیریم، از بین دو یا چند چیز، مواردی را انتخاب می‌کنیم و مواردی را کنار می‌گذاریم. برای مثال وقتی به کتابفروشی یا فروشگاه‌های بازی‌های فکری سرگرم‌کننده دارد، می‌روید و یکی از آنها را می‌خرید، چیزی را انتخاب کرده‌اید یا بهتر بگوییم تصمیم‌گیری کرده‌اید. اما همان‌طور که قبلاً گفته شد، همه‌ی تصمیمات ساده نیستند و گاهی موقعیت‌هایی پیش می‌آید که در آن راه‌های مختلف و متعددی وجود دارد و انتخاب یکی از آنها مشکل است. به موقعیت‌های ۱، ۲، ۳ و ۴ توجه کنید و بگویید در هر یک از این موقعیت‌ها چه راه‌حل‌هایی وجود دارد؟ به چند روش می‌توان انتخاب یا تصمیم‌گیری کرد؟ گفت‌وگو کنید.

موقعیت ۲

معلم یک کار تحقیقی به شما داده است که فردا باید تحویل بدهید و شما به یک کتاب نیاز دارید و می‌دانید آن کتاب را یکی از همکلاسی‌های شما دارد که با شما قهر است.

موقعیت ۱

فرض کنید فردا امتحان دارید و مادرتان هم می‌خواهد خواهر کوچک‌تان را پیش پزشک ببرد و از شما می‌خواهد همراهش بروید و به او کمک کنید.

● موقعیت ۳

فرض کنید پولی برای خریدن وسیله‌ای که خیلی دوستش دارید، پس‌انداز کرده‌اید. اما برادر شما یک بازی سرگرم‌کننده و فکری جالب پیدا کرده است و از شما می‌خواهد برای خریدن آن با او شریک بشوید و شما باید نصف پول پس‌اندازتان را بدهید.

● موقعیت ۴

اگر تجربه‌ای مانند موقعیت‌های ۲، ۱ و ۳ را داشته‌اید، برای دوستانتان تعریف کنید.

چرا تصمیم‌گیری کار مهمی است؟

همه‌ی تصمیماتی که ما می‌گیریم، نتایج و آثاری دارند. ممکن است این آثار خوب یا بد باشند. البته بعضی از تصمیمات تأثیر زیادی بر زندگی ما دارند. تصمیمات مهم در اخلاق و رفتار، سلامتی، وضع تحصیل و آینده‌ی ما اثر می‌گذارند. اکنون برای اینکه بهتر به آثار خوب و بد (مثبت و منفی) تصمیم‌گیری‌هایی ببریم، فعالیت‌های ۱ و ۲ را انجام دهید.

فعالیت ۱

- همفکری کنید و بگویید به نظر شما هر کدام از این تصمیم‌ها مثبت است یا منفی؟ چرا؟
- هر تصمیم چه نتیجه‌ای دارد و بر چه چیزهایی اثر می‌گذارد؟
- حسن تصمیم گرفته است با دوستانش خوش اخلاق باشد و پشت سر کسی بدگویی نکند.
 - فرهاد تصمیم می‌گیرد فردا با دوستانش ترقه‌بازی کند.
 - زهره تصمیم می‌گیرد هر روز یک ساعت، درسی را که در آن ضعیف است، بخواند.
 - امید تصمیم گرفته است که دیگر خوراکی‌های زیان‌آور مانند نوشابه نخورد.
 - الهام فردا امتحان دارد اما تصمیم می‌گیرد همه‌ی برنامه‌های مورد علاقه‌اش را در تلویزیون تماشا کند.
 - بهروز تصمیم گرفته است که در خانه منظم باشد، وسایلش را در جای خود بگذارد و به مادرش در مرتب کردن اتاق کمک کند.
 - فرید تصمیم گرفته، تا دو ساعت قبل از خواب از تلفن همراه و تلویزیون استفاده نکند.

فعالیت ۲

خاطره‌ای کوتاه درباره‌ی یکی از تصمیم‌های خودتان و آثار خوب یا بد آن تعریف کنید یا بنویسید.

چگونه تصمیم بگیریم؟

انتخاب بهترین راه

بررسی راه‌حل‌ها و پیش‌بینی
نتایج هر انتخاب

خوب فکر کردن و
پرس و جو



در درس گذشته، یاد گرفتید که ما هنگام تصمیم‌گیری با انتخاب‌های مختلفی روبه‌رو می‌شویم. برای اینکه خوب تصمیم‌گیری کنیم، باید نتایج هر انتخاب را پیش‌بینی کنیم. نتیجه یعنی چیزی که بعد از هر تصمیم‌گیری اتفاق می‌افتد. با انجام دادن فعالیت‌های درس قبل، شما فهمیدید که همه‌ی تصمیم‌ها یک نتیجه ندارند و از روی نتایج هر تصمیم می‌فهمیم که آیا تصمیم خوبی بوده است یا نه؟

تصمیم‌گیری چه مراحل دارد؟

خوب فکر کنیم

هنگام تصمیم‌گیری اولین کاری که باید انجام دهیم این است که درباره‌ی موضوع خوب فکر و اطلاعاتی درباره‌ی آن جمع‌آوری کنیم.

گاهی اوقات تصمیماتی که ناگهانی و با عجله گرفته می‌شود زبان‌هایی به بار می‌آورد؛ زیرا درباره‌ی آن تصمیم، خوب فکر نشده است. موقعیت (۱) را بخوانید.

نظر شما درباره‌ی تصمیم داوود چیست؟ آیا تصمیم‌گیری با عصبانیت، کار درستی است؟ قبل از این تصمیم، داوود باید به چه انتخاب‌ها یا راه‌حل‌هایی فکر می‌کرد؟

موقعیت ۱

داوود از یکی از دوستانش می‌شنود که سعید پشت سر او حرف‌هایی زده است. داوود هم تصمیم می‌گیرد که دیگر با سعید حرف نزند و جواب سلام او را ندهد. او همان روز اسم سعید را از تیم مسابقه‌شان خط می‌زند...

نتیجه‌ی هر انتخاب را پیش‌بینی کنیم

بعد از اینکه فهمیدیم راه‌حل‌های متفاوتی وجود دارد، باید نتیجه‌ی هر انتخاب را پیش‌بینی کنیم.
به نظر شما چه نتایج یا آثاری برای هر انتخاب داوود وجود دارد؟

○ موقعیت ۲

داوود از یکی از دوستانش می‌شنود که سعید پشت سر او حرف‌هایی زده است. به فکر فرو می‌رود. راه‌حل‌های مختلفی به ذهنش می‌رسد.....

اگر با دوستانش جمع شوند و با سعید دعوای کنند.....؟... اگر جواب سلام او را ندهد و دیگر با او صحبت نکنند.....؟... اگر برود و به آرامی از او بپرسد که علت این خبر چه بوده و آیا این موضوع درست است؟.....

بهترین راه را انتخاب کنیم

در آخرین مرحله، بهترین راه را انتخاب می‌کنیم. یعنی آن انتخاب‌هایی را که نتایج بدی دارند کنار می‌گذاریم و آن انتخابی را که نتیجه‌ی مثبت دارد، برمی‌گزینیم.
البته هنگام بهترین انتخاب باید این سؤال‌ها را از خودتان بپرسید و اگر پاسخ یکی از آنها هم «بله» بود، نباید آن کار را انجام بدهید.

○ آیا این تصمیم

- ★ برخلاف دستورهای دینی است؟
- ★ برخلاف مقررات و قوانین خانه، مدرسه و اجتماع است؟
- ★ باعث نگرانی و نارضایتی خانواده‌ام می‌شود؟
- ★ به سلامت من یا دیگران آسیب می‌زند؟
- ★ برای دیگران یا خودم مشکل و دردسر به وجود می‌آورد؟

فعالیت ۱

تصمیم‌گیری کنید.
کاربرگ‌های شماره‌ی ۳ و ۴ را در کلاس انجام دهید.



موقع تصمیم‌گیری به چه نکاتی توجه کنیم؟

مشورت کنیم

یکی از نکات مهم در تصمیم‌گیری‌ها این است که از فکر و تجربه‌ی دیگران استفاده کنیم. به این کار «مشورت» می‌گویند. در سال گذشته، شما مطالبی درباره‌ی اهمیت مشورت آموختید و با دستور قرآن کریم در این موضوع آشنا شدید. آیا می‌توانید بگویید خداوند در قرآن کریم درباره‌ی مشورت چه فرموده است؟

با چه کسانی مشورت کنیم؟

هرچند ما درباره‌ی برخی از موضوعات با دوستانمان همفکری می‌کنیم، در مورد مسائل زندگی و تصمیم‌گیری‌های مهم خودمان باید با بزرگ‌ترها مانند پدر و مادر، معلم و مشاور مدرسه مشورت کنیم؛ چرا؟

فعالیت ۲

نام چند نفر از افرادی را که صلاحیت و تجربه دارند و شما می‌توانید در مسائل و مشکلات زندگی یا تصمیم‌گیری‌های مهم با آنها مشورت کنید، جست‌وجو کنید و روی یک برگ کاغذ بنویسید. نام این افراد را به معلم نشان بدهید.

تحت تأثیر فشارهای روانی دوستان قرار نگیریم

گاهی ممکن است یک فرد نظرات و عقایدی داشته باشد که می داند درست است و می خواهد به آنها پایبند باشد؛ اما هنگام تصمیم گیری تحت تأثیر نظر و صحبت های دوستانش قرار بگیرد به عبارت دیگر آنها بخواهند با فشار و اصرار، خواسته های نادرست خودشان را به او بقبولانند. موقعیت شماره ۳ را بخوانید.

جواد می داند که اگر به دوستانش پاسخ مثبت بدهد، تصمیمی گرفته است که برخلاف مقررات است، باعث نگرانی خانواده اش می شود و به سلامت خودش و دیگران لطمه می زند. پس تصمیم می گیرد که با آنها بازی نکند ولی دوستان جواد با سخنانشان او را تحت فشار قرار می دهند.

به نظر شما آیا جواد باید تحت تأثیر فشارهای دوستانش تصمیم خود را عوض کند؟ چرا؟

به موقع تصمیم بگیریم

همان طور که تصمیم های ناگهانی و بدون فکر کار نادرستی است، تصمیم نگرفتن یا تصمیم گیری را به زمان آینده موکول کردن نیز کار صحیحی نیست. بعضی وقت ها هم، تصمیم های خوبی می گیریم ولی آن را اجرا نمی کنیم. برای مثال اگر در یکی از درس ها ضعیف هستیم باید هر چه زودتر تصمیم بگیریم که برای حل این مشکل چه کنیم تا آن را به آینده موکول نکنیم یا اگر تصمیم گرفته ایم هر روز چند دقیقه نرمش کنیم، تصمیم خودمان را اجرا کنیم.

● موقعیت ۳

دوستان جواد با هم قرار گذاشته اند که ترقه بازی کنند و از جواد هم می خواهند ترقه بخرد و با خودش بیاورد. جواد تصمیم می گیرد که به آنها «نه» بگوید ولی.....

.....



فعالیت ۳

درباره‌ی تصمیماتی که طی یک هفته گرفته‌اید، فکر کنید. کدام یک از آنها درست و کدام یک نادرست بوده‌اند؟ چرا؟

فعالیت ۴

با یکی از افراد خانواده، فامیل یا معلمان و کارکنان مدرسه مصاحبه کنید و از او بخواهید یکی از تصمیمات مهم زندگی خود و آثار آن را برای شما تعریف کند و نتیجه را در کلاس بگوید.

اکنون که این فصل را به پایان رساندید، فکر کنید و بگویید
درباره‌ی تصمیم‌گیری چه سؤال‌های دیگری دارید؟

تصمیم‌گیری

به‌طور گروهی موقعیت‌های زیر را بخوانید و تصمیم‌گیری کنید. درباره‌ی انتخاب‌های مختلف و نتایج آنها در کلاس بحث کنید. هنگام تصمیم‌گیری، این سؤال‌ها را از خودتان پرسید :

آیا این تصمیم:

- ★ برخلاف دستور دینی است؟
- ★ برخلاف مقررات و قوانین خانه، مدرسه و اجتماع است؟
- ★ باعث نگرانی و نارضایتی خانواده‌ام می‌شود؟
- ★ به سلامتی من یا دیگران لطمه می‌زند؟
- ★ برای دیگران یا خودم مشکل و دردسر به‌وجود می‌آورد؟

موقعیت ۱

امیر و آریا به آزمایشگاه مدرسه رفته‌اند تا چیزی را به کلاس ببرند. آریا وسط آزمایشگاه می‌دود و ناگهان به یک وسیله‌ی گر انقیمت برخورد می‌کند و آن وسیله می‌شکند. آریا تصمیم می‌گیرد زود از آنجا فرار کند و در جایی مخفی بشود و به امیر هم می‌گوید: به کسی نگو من این کار را کردم...

موقعیت ۲

پروین با برادر کوچک سه‌ساله‌اش به مغازه رفته است. در راه برگشتن از مغازه متوجه می‌شود که او یک بسته شکلات را از مغازه برداشته و همراه خودش آورده است...

موقعیت ۳

روز جمعه فرهاد به اتفاق خانواده و چند نفر از پسرهای فامیل به یک باغ رفته بودند. پسرعموهایش به او پیشنهاد می‌کنند از پل چوبی قدیمی روی رودخانه که بعضی قسمت‌های آن خراب شده است، عبور کنند.

تصمیم‌گیری

درباره‌ی موقعیت‌های زیر تصمیم‌گیری کنید. فراموش نکنید هنگام تصمیم‌گیری، «سؤال‌های مهم» را درباره‌ی آن تصمیم از خودتان بپرسید. نتیجه، دلایل و مراحل تصمیم‌گیری خودتان را در کلاس بیان کنید.

موقعیت ۱

مدرسه تعطیل شده است و شما می‌خواهید به خانه برگردید. در چند قدمی مدرسه می‌بینید که یک کیف کوچک روی زمین افتاده است. آن را برمی‌دارید و مشاهده می‌کنید مقداری پول در آن است اما نام و نشانی صاحب کیف در آن نیست. چه تصمیمی می‌گیرید؟

موقعیت ۲

یکی از دوستان شما، کتابی را به امانت به شما داده است. دوست دیگری این کتاب را در دست شما می‌بیند و خواهش می‌کند تا به او بدهید که بخواند. او اصرار می‌کند که تا دو روز دیگر آن را می‌خواند و به شما پس می‌دهد. چه تصمیمی می‌گیرید؟

موقعیت ۳

شما به یک سالن ورزشی رفته‌اید. فردی در آنجا لباس‌های ورزشی حراجی پهن کرده است و می‌فروشد. دوستان شما از او خرید می‌کنند. شما پول کافی همراه ندارید و به لباس جدید هم نیاز ندارید اما دوستان به شما اصرار می‌کنند و حاضرند به شما پول قرض بدهند....

موقعیت ۴

مدرسه تعطیل شده است و شما و دوستانتان می‌خواهید به خانه بروید. دوستان از شما خواهش می‌کند که با هم به یک فروشگاه لوازم ورزشی بروید تا وسیله‌ای بخرید و فروشگاه هم از آنجا خیلی دور است....

کشاورزی در ایران

۳

فصل سوم

حوزه‌های موضوعی

فضا و مکان

منابع و فعالیت‌های

اقتصادی

فرهنگ و هویت



همه‌ی موجودات زنده به غذا نیاز دارند و بدون آن قادر به ادامه‌ی زندگی نیستند. ما انسان‌ها غذای مورد نیاز خود را از گیاهان و جانوران تأمین می‌کنیم. در هفته‌ی گذشته کدام مواد غذایی را مصرف کرده‌اید؟
حتماً تاکنون به تنهایی یا با اعضای خانواده برای خرید میوه یا سبزیجات به بازار رفته‌اید. آیا می‌دانید چه کسانی برای تولید این محصولات کار و تلاش می‌کنند؟ این محصولات در کجا کشت می‌شوند و چه مرحله‌ی را طی می‌کنند تا به دست ما برسند؟

موضوع این فصل «کشاورزی» است. امید است شما با آموختن مطالب این فصل و انجام دادن فعالیت‌های آن پاسخ پرسش‌های خود را بیابید.

عوامل مؤثر در کشاورزی

ما بخش عمده‌ای از غذای خود را از راه کشاورزی به دست می‌آوریم. کشاورزی سه مرحله‌ی عمده دارد: کاشت، داشت و برداشت. آیا می‌توانید بگویید منظور از هر مرحله چیست؟

فعالیت ۱

فرض کنید شما و گروهی از دوستانتان تصمیم گرفته‌اید یک محصول کشاورزی تولید کنید. کتاب را ببندید و همفکری کنید به چه چیزهایی نیاز دارید؟ آنها را روی یک کاغذ بنویسید و در کلاس بخوانید.

چه عواملی در کشاورزی مؤثرند؟ ۱- عوامل طبیعی ۲- عوامل انسانی



آب و هوا

هر محصول با یک نوع شرایط آب و هوایی سازگاری دارد. درخت خرما در مناطق



گرمسیری رشد می‌کند و نمی‌تواند سردی هوا را تحمل کند. سیب زمینی گیاهی سردسیری است. برنج به آب و هوای معتدل و مرطوب نیاز دارد. آب و هوا در کشور ما متنوع است و به همین دلیل محصولات مختلفی در کشور به دست می‌آید.



خاک

همه‌ی زمین‌ها قابل کشت نیستند. بخشی از کشور ما را کوه‌های بلند و مرتفع پوشانده است.

زمین‌های پرشیب و سنگلاخ برای کشاورزی مناسب نیستند. خاک‌های آهکی یا نمکی در نواحی خشک، استعداد کشاورزی ندارند. اما از دشت‌های هموار یا جلگه‌ها که خاک‌های آبرفتی و حاصلخیز دارند، می‌توان محصول فراوان به دست آورد.





آب

آب مورد نیاز کشاورزی از آب باران و رودها تأمین می‌شود. در بعضی نواحی هم آب‌های

زیرزمینی را از راه کندن چاه یا قنات به مزرعه‌ی کشاورزی هدایت می‌کنند.

بخش وسیعی از کشور ما در منطقه‌ی خشک و نیمه‌خشک قرار دارد. کشور ما جزء کشورهای کم باران جهان است. امروزه کشاورزان به علت کمبود منابع آب از روش‌های آبیاری نوین استفاده می‌کنند.





ابزار و وسایل


به ابزار و وسایل مخصوص کشاورزی برای شخم زدن، آبیاری، درو کردن، کندن علف‌های هرز و ... نیاز داریم.



عوامل انسانی

نیروی کار

به افرادی نیاز داریم که مهارت دارند و می‌توانند کارهای مربوط به کشاورزی را انجام بدهند؛ مانند کشاورز، آبیار، علف‌چین، مهندس کشاورزی و ...



مواد

به بذر، کود و سم نیاز داریم.



سرمایه

باید پول داشته باشیم تا مواد و ابزار مورد نیازمان را بخریم. البته اگر سرمایه‌ی ما کم بود، می‌توانیم با دیگران شریک شویم یا وام بگیریم.



فعالیت ۲

کاربرگ‌های شماره‌ی ۵ را در کلاس انجام دهید.

فعالیت ۳

غذای محلی شما چیست و کدام محصولات کشاورزی در آن به‌کار رفته است؟ کاربرگ‌های شماره‌ی ۶ را انجام دهید.



به راستی میوه‌های کشور ما خوش‌طعم هستند. ما ترجیح می‌دهیم میوه‌های ایرانی بخریم و بخوریم. با این کار از کشاورزان خوب کشورمان هم حمایت می‌کنیم.

★ نکته: چون ایران کشوری آفتابی است، میوه‌ها و سبزیجات آن نسبت به بسیاری از کشورهای دیگر، خوش‌عطرتر و خوشمزه‌تر است.

محصولات کشاورزی از تولید تا مصرف

زراعت و باغداری دو فعالیت مهم کشاورزی هستند.
 زراعت یعنی کشت و پرورش گیاهانی که بعد از کاشت دانه، حداکثر تا یک سال محصول می‌دهند؛ مانند گندم، جو، گوجه‌فرنگی و هویج.
 باغداری، کشت و پرورش نهال درختان است که بعد از گذشت یک یا چند سال محصول می‌دهند؛ مانند درخت خرما، پرتقال و انار.

زراعت

فعالیت ۱

غلات، حبوبات و محصولات جالیزی سه گروه مهم از گیاهان زراعی هستند. همفکری کنید و از هر گروه چند محصول نام ببرید.



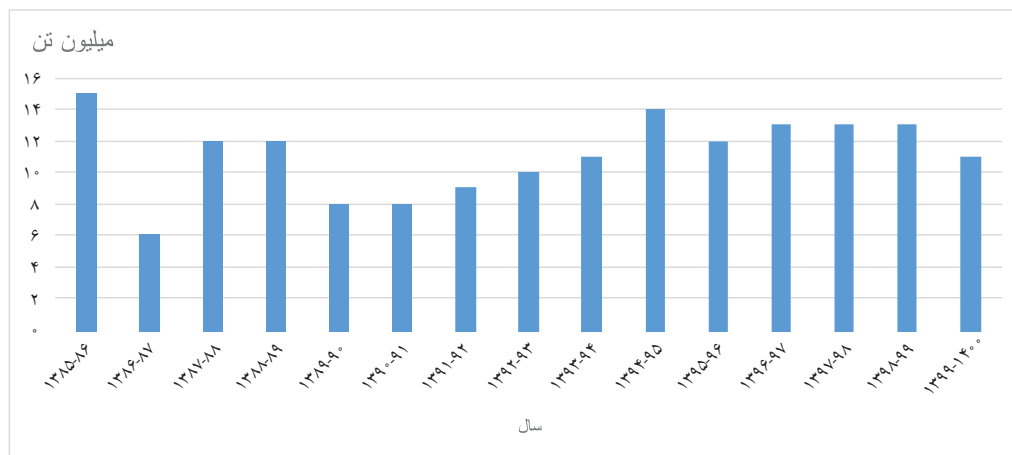
گندم و برنج

گندم و برنج، خوراک روزانه و غذای اصلی مردم کشور ما است.

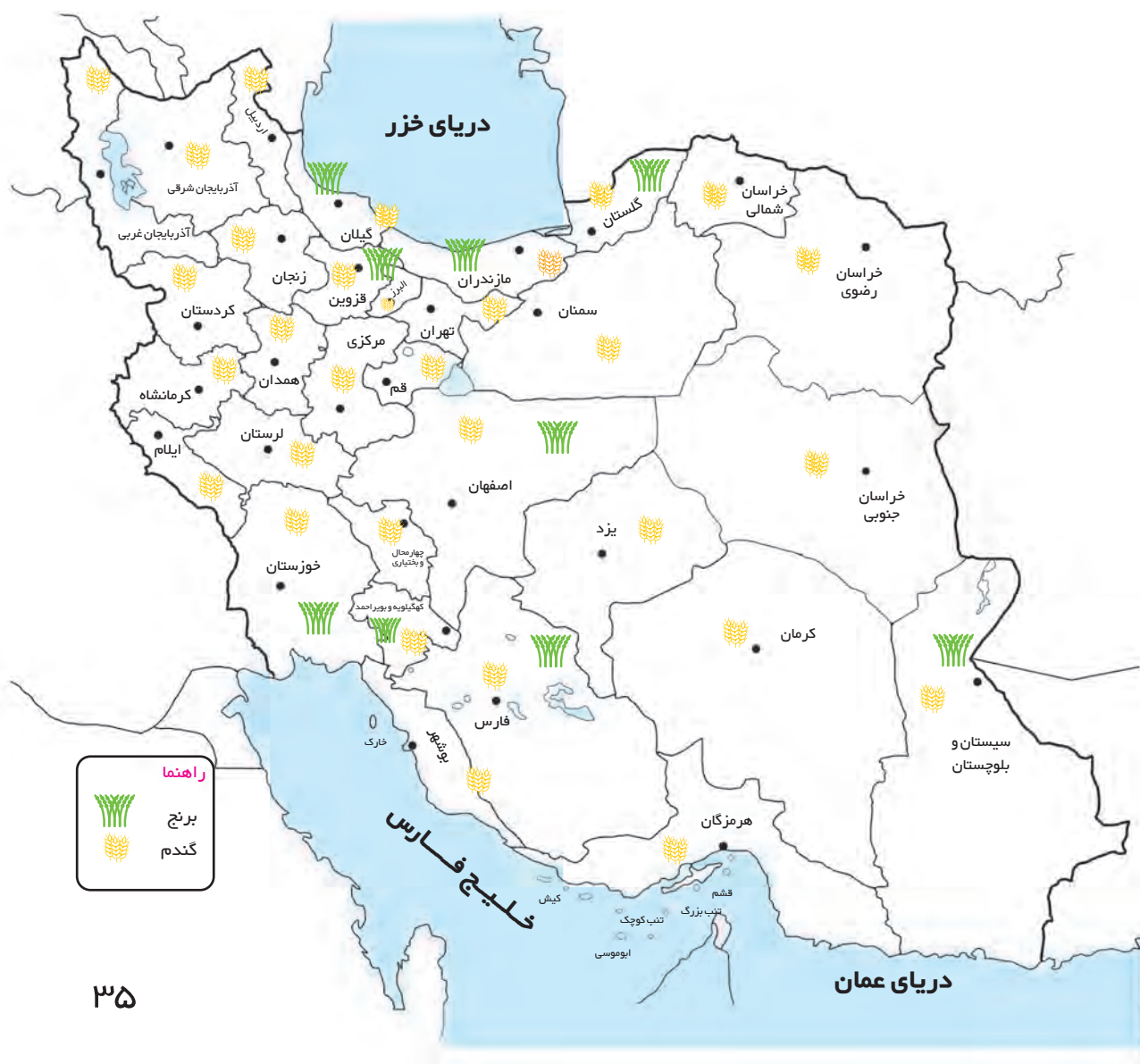
از گندم، آرد و سپس نان تهیه می‌شود. آیا می‌توانید بگویید علاوه بر نان، چه خوراکی‌های دیگری از آرد گندم درست می‌شود؟

گندم گیاهی یک ساله است و به دو شکل پاییزه و بهاره کشت می‌شود و کشت آن در همه‌ی استان‌های کشور ما رایج است.

به نمودار زیر توجه کنید. این نمودار میزان تولید گندم کشور را در سال‌های مختلف نشان می‌دهد.
 - بیشترین میزان تولید گندم در چه سالی بوده است؟
 - از این نمودار چه چیزهایی می‌فهمید؟



۱۵	۱۳۸۵-۸۶
۶	۱۳۸۶-۸۷
۱۲	۱۳۸۷-۸۸
۱۲	۱۳۸۸-۸۹
۸	۱۳۸۹-۹۰
۸	۱۳۹۰-۹۱
۹	۱۳۹۱-۹۲
۱۰	۱۳۹۲-۹۳
۱۱	۱۳۹۳-۹۴
۱۴	۱۳۹۴-۹۵
۱۲	۱۳۹۵-۹۶
۱۳	۱۳۹۶-۹۷
۱۳	۱۳۹۷-۹۸
۱۳	۱۳۹۸-۹۹
۱۱	۱۳۹۹-۱۴۰۰



برنج نیز گیاهی یک ساله است که از نظر شرایط طبیعی در نواحی مرطوب و نسبتاً معتدل به دست می آید. بیش از نیمی از برنج کشور ما در استان های شمال کشور تولید می شود؛ اگرچه در بعضی استان های دیگر نیز در صورت وجود آب کافی، برنج کشت می شود. با توجه به نقشه ی صفحه ی قبل استان های تولید کننده ی برنج را نام ببرید.

دانش آموزان از یک مزرعه ی کشت برنج دیدن کردند. آنها با یک «شالی کار» گفت و گو کردند. شالی کار برای بچه ها درباره ی شرایط و چگونگی کشت برنج توضیح داد و به آنها گفت: برنج ایرانی بسیار معطر و مرغوب است. در شمال ایران، غذای مردم خیلی به برنج وابسته است. در این ناحیه انواع شیرینی ها و نان های خوشمزه با برنج تهیه می شود.



حبوبات و محصولات جالیزی

بعد از غلات، مهم ترین منبع غذایی، حبوبات و محصولات جالیزی است که تقریباً در همه ی استان های کشور ما کشت می شود.

باغداری



کشت و پرورش انواع درختان میوه در ایران از قدیم رایج بوده است. بخشی از میوه های سردسیری و هسته دار مانند هلو، زردآلو، آلو و آلبالو به صورت خشکبار و بعضی محصولات گرمسیری مانند خرما و پسته ی ایران به دلیل مرغوب بودن به خارج از کشور صادر می شود.



کشت گلخانه‌ای



امروزه یکی از روش‌های نو در کشاورزی، ایجاد گلخانه یا محیط مصنوعی برای کشت گیاهان است. با ایجاد گلخانه می‌توانیم هر محصول را در هر منطقه‌ی آب و هوایی و در همه‌ی فصول سال کشت کنیم؛ زیرا آب و هوای گلخانه و گرما و نور و رطوبت را می‌توانیم با دستگاه‌های مختلف، متناسب با نوع محصول تنظیم نماییم. کشت گلخانه‌ای در مقایسه با سایر کشت‌ها از نظر صرفه‌جویی در مصرف آب بسیار بهتر است. در گلخانه‌ها انواع میوه‌ها و محصولات جالیزی، سبزیجات و قارچ‌های خوراکی را کشت می‌کنند و یا گل و گیاهان زینتی پرورش می‌دهند.

مصاحبه

**امام جعفر صادق (علیه‌السلام)
فرمودند:**

کشاورزی و درختکاری کنید؛ به خدا قسم
هیچ کاری برای مردم، حلال‌تر و پاکیزه‌تر از
آن نیست.



دانش‌آموزان از یک باغ مرکبات در استان کرمان دیدن و با مالک باغ مصاحبه کردند. آقای رضوانی مالک باغ برای آنها توضیح داد: وسعت باغ ما دو هکتار است. من و برادرانم شریک شدیم و این باغ را خریدیم. در آن زمان نهال‌ها خیلی کوچک بودند و ما برای پرورش آنها خیلی زحمت کشیدیم تا به این درختان تبدیل شدند.

حدود شش سال است که محصول پرتقال و نارنگی خوبی برداشت می‌کنیم. فقط یک سال محصول ما به علت سرمازدگی کم بود. البته ما محصولات کشاورزی را در برابر آفت‌ها، سیل، سرمازدگی و ... بیمه می‌کنیم.

سال زراعی	۱۰ تن پرتقال =
۱۳۹۵-۹۶	۵ پرتقال
۱۳۹۶-۹۷	۴ پرتقال
۱۳۹۷-۹۸	۵ پرتقال
۱۳۹۸-۹۹	۱ پرتقال
۱۳۹۹-۱۴۰۰	۵ پرتقال
۱۴۰۰-۱۴۰۱	۴ پرتقال

فعالیت ۲

با همراهی خانواده یکی از دو فعالیت زیر را انجام دهید.

الف - از یک یا چند مغازه‌ی برنج فروشی، نام انواع (گونه‌های) برنج ایرانی و قیمت آنها را بپرسید و به کلاس بیاورید.

ب - از یک فروشنده‌ی میوه و سبزی بپرسید کدام محصولات مغازه‌ی او کشت گلخانه‌ای است و آنها را از کجا تهیه می‌کند؟

پ - از بزرگترها درباره‌ی «جهادسازندگی» که پس از پیروزی انقلاب اسلامی در روستاها فعالیت می‌کرد، پرس و جو کنید و چند مورد از اقدامات جهاد را در کلاس بیان کنید.

فعالیت ۳

الف - درباره‌ی معنی و مفهوم آنچه امام صادق (علیه السلام) در مورد کشاورزی فرمودند، گفت و گو کنید.

ب - از بزرگترها بپرسید بیمه کردن محصولات کشاورزی چگونه است و چه فایده‌هایی دارد؟

پ - با راهنمایی معلم خود تحقیق کنید کشاورزان چگونه می‌توانند خود را بیمه کنند و حقوق بازنشستگی دریافت کنند؟

فعالیت ۴

الف - مساحت باغ آقای رضوانی دو هکتار است؛ یعنی چند متر مربع؟ نمودار محصول باغ آقای رضوانی را روی کاربرگی شماره‌ی ۷ ترسیم کنید.

ب - فرض کنید شما می‌خواهید با یک باغدار مصاحبه کنید. فکر کنید و پرسش‌های خودتان را روی یک برگ کاغذ بنویسید و به معلم بدهید.

فعالیت ۵

روی نقشه‌ی ایران در کاربرگی شماره‌ی ۸، نواحی کشت مرکبات، پسته و خرما را معین کنید.

محصولات کشاورزی چگونه به دست ما می‌رسد؟



ما باید این گوجه‌ها را
زودتر به بازار برسانیم
وگرنه خراب می‌شوند.

کشاورزان پس از برداشت، باید محصول خود را به دست مشتری برسانند.

بعضی از محصولات باید زودتر به بازار مصرف برسند. آیا می‌توانید

چند مثال بزنید؟

بعضی از محصولات برای فروش به بازارهای نزدیک مزارع کشاورزی

برده می‌شوند. بعضی دیگر را در انبارها یا سردخانه‌ها نگهداری و ذخیره

می‌کنند و سپس با کامیون و وانت به میدان‌های میوه و تره‌بار و شهرهای دور

و نزدیک می‌برند.

درست مصرف کنیم

نظر این افراد را بخوانید و در کلاس گفت‌وگو کنید.



ما پس از هر بار غذا خوردن به درگاه خداوند شکر می‌کنیم.



ما باید به اندازه‌ای که مصرف می‌کنیم، بخریم. بعضی اوقات خانواده‌ها زیاد خرید می‌کنند و میوه‌ها و سبزی‌ها را در یخچال انبار می‌کنند. ممکن است این مواد، خراب و دور ریخته شوند. ما نباید اسراف کنیم. در بعضی از مهمانی‌ها و مجالس غذا بیشتر از نیاز مهمان تهیه می‌شود. خداوند در قرآن کریم درباره‌ی کسانی که اسراف می‌کنند، چه فرموده است؟



من در اخبار شنیده‌ام که در بعضی از نقاط دنیا مثل کشورهای آفریقایی، مردم و کودکان گرسنه هستند و هر روز عده‌ای از آنها از گرسنگی می‌میرند. وظیفه‌ی ما در مورد گرسنگان چیست؟



فعالیت ۶

اگر قرار باشد کشاورزی کنید، دوست دارید چه محصولی بکارید؟ چرا؟

فعالیت ۷

کاربرگه‌ی شماره‌ی ۹ را کامل کنید.

فعالیت ۸

به‌طور گروهی یکی از فعالیت‌های زیر را انتخاب کنید و انجام دهید:

- پوستری (اعلانی*) درباره‌ی مصرف غذا (شکرگزاری، اسراف نکردن، کمک به گرسنگان و ...)
- طراحی کنید و به تابلو بزنید.
- چند خبر درباره‌ی کشاورزی از روزنامه پیدا کنید و در ایستگاه خبر مدرسه پخش کنید.

اکنون که این فصل را به پایان رساندید، روی یک برگ کاغذ بنویسید درباره‌ی موضوع کشاورزی چه سؤال‌های دیگری دارید؟

عوامل مؤثر در کشاورزی

۱- این اخبار از روزنامه‌ها برداشته شده است. هر یک از آنها به کدام عوامل مؤثر بر کشاورزی مربوط است، طبیعی یا انسانی؟

انسانی

طبیعی

۱- هجوم آفت سن* در مزارع گندم در ناحیه‌ی کرمان خسارات زیادی به محصول کشاورزان وارد نمود
* سن حشره‌ای است که می‌تواند به محصولات کشاورزی آسیب برساند.

مثال: ۱

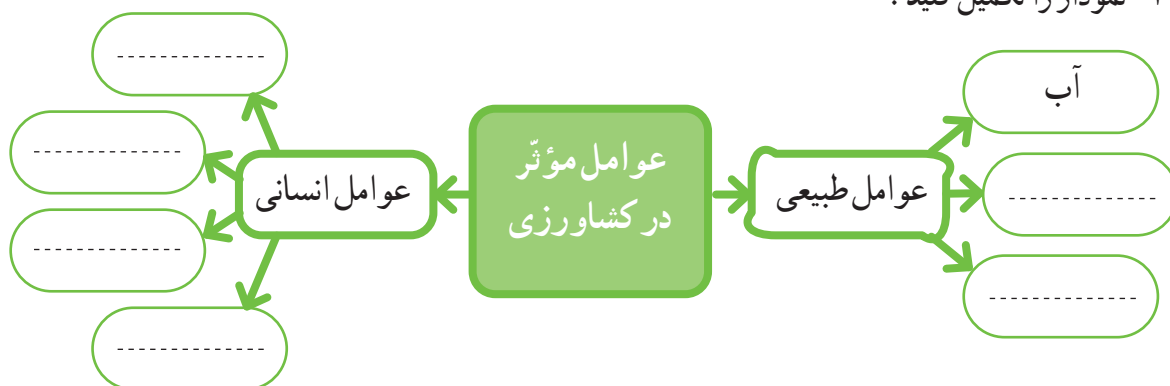
۲- سازمان غله‌ی کشور اعلام کرد که محصول گندم کشاورزان به موقع خریداری می‌شود.

۳- اداره‌ی کشاورزی ورامین از کشاورزان خواست برای تهیه‌ی سم و کود به قیمت تعاونی، به این اداره مراجعه کنند

۴- بارش ناگهانی تگرگ در اردبیل به شکوفه‌های درختان میوه آسیب جدی وارد نموده است

۵- رئیس اداره‌ی کشاورزی فیروزآباد به خبرنگار گفت: «وجود آب و آفتاب کافی در این ناحیه، امکان دو بار برداشت محصول در سال را به ما می‌دهد»

۲- نمودار را تکمیل کنید :



غذای محلی

شما هم غذای محلی خودتان و محصولات زراعی یا باغی را که در آن به کار رفته است، بنویسید.

من در لاهیجان زندگی می‌کنم. میرزا قاسمی غذای معروفی است. برای تهیهی این غذا بادمجان تنوری با گوجه‌فرنگی و سیر و تخم‌مرغ در روغن تفت داده، و سپس با برنج خورده می‌شود.



من اهوازی هستم. خورش بامیه غذای خوشمزه‌ای است. ماده‌ی اصلی این غذا گیاه بامیه است و از گوشت و پیاز، زردچوبه و رب گوجه‌فرنگی درست می‌شود.



من در مراغه در استان آذربایجان شرقی زندگی می‌کنم. حتماً اسم کوفته تبریزی را شنیده‌اید. در این غذا برنج، گوشت، پیاز، آلو، آردنخودچی، تخم‌مرغ، لپه و گردوی خرد شده به کار رفته است.



من در زندگی می‌کنم.

.....

.....







.....

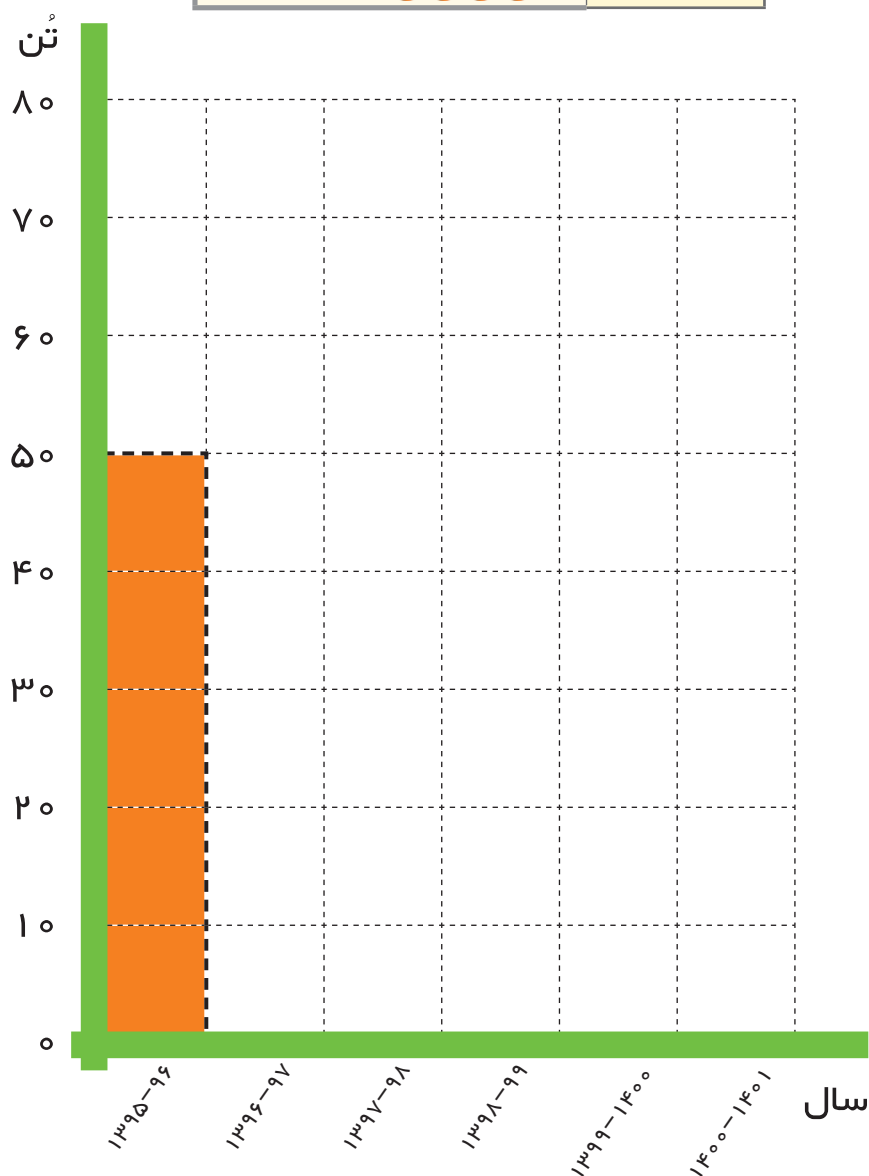
.....



نمودار ستونی

۱- نمودار محصول مرکبات باغ آقای رضوانی را با توجه به اطلاعات این جدول تکمیل و رنگ آمیزی کنید.

سال زراعی	۱۰ = ۱ تن پرتقال
۱۳۹۵-۹۶	
۱۳۹۶-۹۷	
۱۳۹۷-۹۸	
۱۳۹۸-۹۹	
۱۳۹۹-۱۴۰۰	
۱۴۰۰-۱۴۰۱	



نقشه‌ی محصولات کشاورزی



ابتدا نمادهایی برای راهنما ترسیم کنید. سپس نمادها را طبق جدول روی نقشه بگذارید.

- نماد پسته را در استان‌های کرمان، یزد، سمنان، خراسان جنوبی و خراسان رضوی بگذارید.
- نماد خرما را در استان‌های کرمان، هرمزگان، فارس، بوشهر، سیستان و بلوچستان و خوزستان بگذارید.
- نماد مرکبات را در استان‌های مازندران، کرمان، فارس، هرمزگان، گیلان و خوزستان بگذارید.
- نماد محصول بومی استان خود را ترسیم و بر روی نقشه بگذارید.

از تولید به مصرف

۱- مراحل تولید نان را به ترتیب شماره‌گذاری کنید :



۲- اکنون تابلوی مربوط به کاشت را بارنگ سبز، داشت را بارنگ زرد و برداشت را بارنگ قهوه‌ای مشخص کنید.

ایران و منابع انرژی

۴

فصل چهارم

حوزه‌های موضوعی

مکان و فضا

منابع و فعالیت‌های

اقتصادی

نظام اجتماعی

زمان، تداوم و تغییر



اگر برق خانه‌ی شما قطع شود در آن لحظه چه می‌کنید؟ شما در روشنایی کم نمی‌توانید تکالیف درسی خود را به خوبی انجام بدهید. نمی‌توانید تلویزیون را تماشا یا از وسایل برقی در خانه استفاده کنید. حتی ممکن است همه‌ی اعضای خانواده، کارشان متوقف شود و صبر کنند تا دوباره برق وصل شود. همین اتفاق را برای نفت، گاز و بنزین در نظر بگیرید. اگر این منابع انرژی نباشند، چه اتفاقی می‌افتد؟ آیا با خود فکر کرده‌اید چرا انرژی یک موضوع مهم است و چرا ما باید درباره‌ی آن بیشتر بدانیم؟

موضوع این فصل منابع انرژی ایران است. امید است شما با آموختن این فصل و انجام دادن فعالیت‌های آن پاسخ پرسش‌های خودتان را بیابید.

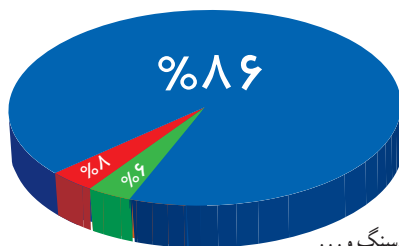
طلای سیاه

منابع انرژی

انرژی به شکل‌های گوناگون در طبیعت وجود دارد. اما در دنیای امروز از بعضی از شکل‌ها و منابع انرژی بیشتر استفاده می‌شود. برای اینکه بهتر به این موضوع پی ببرید، فعالیت ۱ را انجام دهید.

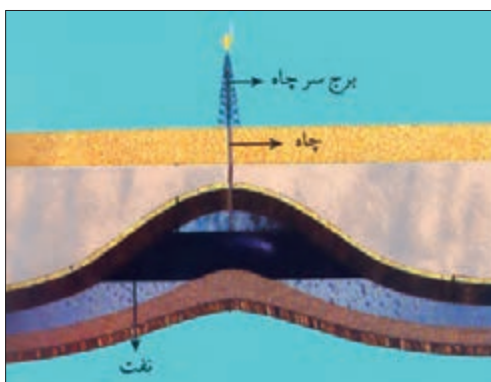
فعالیت ۱

همفکری کنید و کاربرگ‌های شماره‌ی ۱۰ را در کلاس کامل کنید.



از انجام دادن این فعالیت چه نتیجه‌ای گرفتید؟
 به نمودار مقابل توجه کنید. این نمودار مهم‌ترین منابع تأمین انرژی را در جهان امروز نشان می‌دهد.
 سه گروه عمده‌ی انرژی را نام ببرید و بگویید بیشترین انرژی مورد نیاز ما از کدام گروه به دست می‌آید؟
 به زغال‌سنگ، نفت و گاز و مشتقات آنها نظیر گازوئیل و بنزین، سوخت‌های فسیلی می‌گویند.
 سوخت‌های فسیلی نفت، گاز، زغال‌سنگ و...
 انرژی هسته‌ای
 انرژی‌های نو یا قابل تجدید (انرژی خورشیدی، باد، آب و...)

سوخت‌های فسیلی



نفت و گاز، میراثی از گذشته

کشور ما از بزرگ‌ترین دارندگان منابع نفت و گاز در جهان است. سوخت‌های فسیلی چون نفت و گاز، میراث طبیعی هستند و میلیون‌ها سال طول می‌کشد تا این منابع در زیرزمین تشکیل شوند. بیشتر دانشمندان معتقدند نفت از انباشته شدن بقایای جانوران و گیاهان در کف دریاها و قدیمی به وجود آمده است. این مواد بین

▲ لایه‌های رسوبی

لایه‌های رسوبی قرار گرفته و بر اثر گرما و فشار زیاد و تغییرات شیمیایی طی میلیون‌ها سال به نفت تبدیل شده‌اند.

فعالیت ۲

بحث گروهی: نفت میراثی طبیعی است که بر اثر استفاده تمام می‌شود. به نظر شما، چرا تمام شدن نفت باعث نگرانی می‌شود؟ صادرات نفت برای کشور ما چه اهمیتی دارد؟ چرا ایران تلاش می‌کند به صادرات نفت وابسته نباشد و سایر کالاها را به خارج صادر کند؟ آیا ما حق داریم همه‌ی نفت و گاز را استخراج کنیم و به فکر آیندگان نباشیم؟

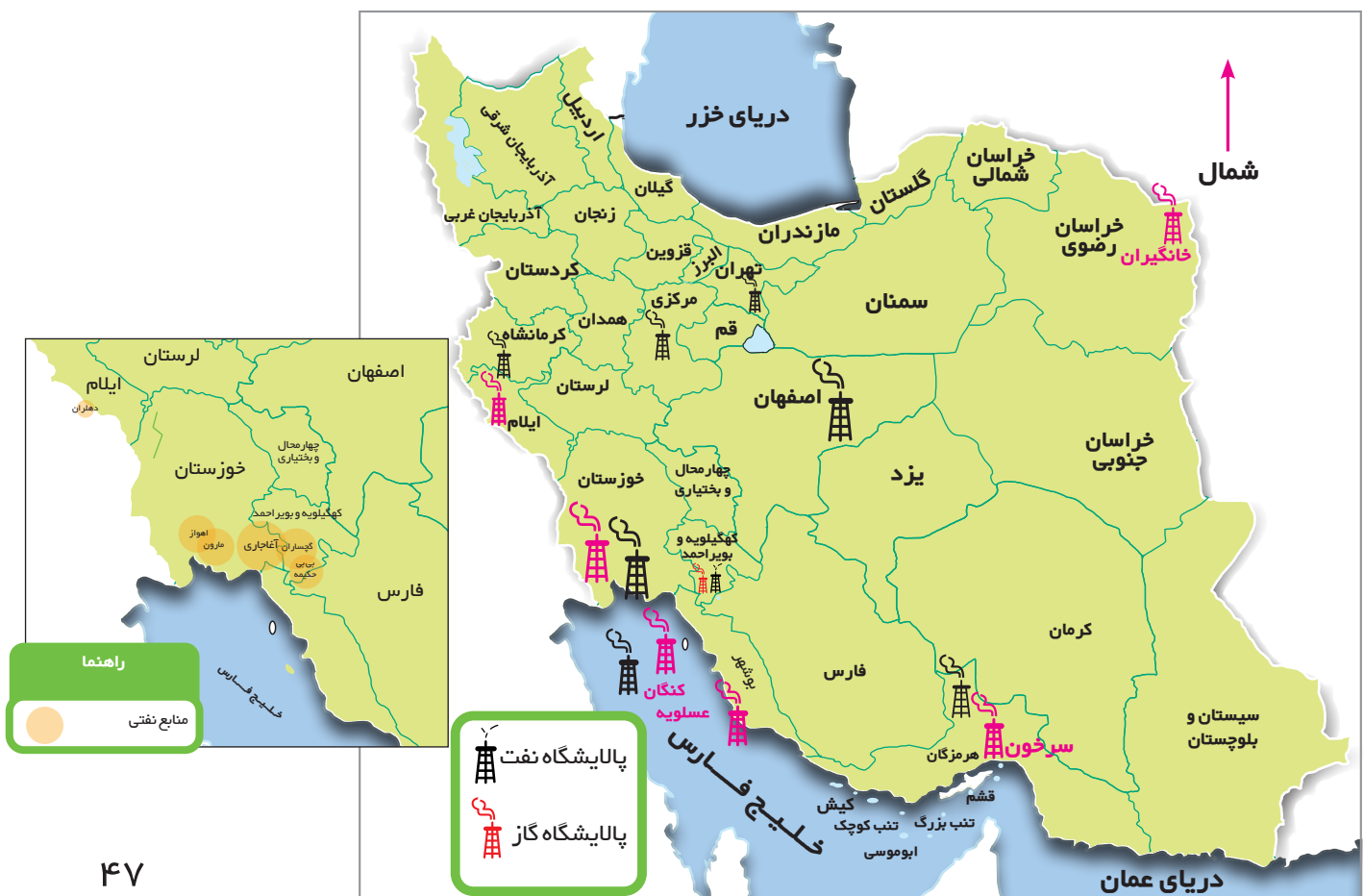
فعالیت ۳

پرس و جو کنید: سوختی که در خانه‌ی شما برای گرما و پخت و پز استفاده می‌شود، چیست؟ این سوخت از کجا تأمین می‌شود و چگونه به دست شما می‌رسد؟

پراکندگی منابع نفت و گاز در ایران

نفت

به نقشه توجه کنید. بیشتر منابع نفتی ایران در جنوب غربی و غرب کشور وجود دارد؛ این منابع در جنوب غربی در استان خوزستان و خلیج فارس و در غرب کشور در ایلام و کرمانشاه ذخیره شده است. علاوه بر این در بخش‌های دیگری از کشور مانند اطراف تهران و قم نیز نفت کشف شده است.





بچه‌ها از عمر اولین چاه نفت ایران که در مسجد سلیمان استان خوزستان حفر شد و به نفت رسید، حدود ۱۰۰ سال می‌گذرد. از زمان کشف و استخراج نفت در ایران، توجه بیگانگان به منابع کشور ما جلب شد. کشورهای خارجی قدرتمند تا مدت‌های طولانی از طریق شرکت‌های نفتی خودشان در استخراج و پالایش نفت ما دخالت می‌کردند و با قراردادهایی که با ایران می‌بستند، منافع زیادی از نفت ایران می‌بردند.

امروزه، پس از انقلاب اسلامی، همه‌ی کارهای استخراج و پالایش نفت توسط متخصصان ایرانی انجام می‌شود. شما در فصل یازدهم با مبارزات مردم ایران برای ملی شدن نفت آشنا می‌شوید.

نفت خام پس از استخراج از طریق لوله به پالایشگاه‌ها منتقل می‌شود. روی نقشه‌ی صفحه‌ی قبل، مکان مهم‌ترین پالایشگاه‌های نفت را پیدا کنید.

بیشتر نفت تصفیه شده و فراورده‌های نفتی تولید شده در پالایشگاه از طریق خطوط لوله به نقاط مختلف کشور منتقل می‌شود و برای رفع نیازهای خانگی یا کارخانه‌ها و وسایل حمل و نقل مورد استفاده قرار می‌گیرد.



خطوط لوله‌ی نفت



تلمبه‌خانه

کارکنان شرکت خطوط لوله و مخابرات نفت ایران با تلاش شبانه‌روزی، نفت و فراورده‌های نفتی را به سراسر کشور انتقال می‌دهند.

گاز



پالایشگاه نفت آبادان



میدان گاز پارس جنوبی، عسلویه، استان بوشهر

به نقشه‌ی صفحه‌ی ۴۷ توجه کنید. بیشتر منابع گاز ایران از جنوب و شمال شرقی کشور به دست می‌آید.
جنوب: استان خوزستان و منابع گاز عسلویه و کنگان در استان بوشهر و سرخون در استان هرمزگان.
شمال شرقی: منابع گاز خانگیران سرخس که در استان خراسان رضوی قرار دارد.
ایران دارای یک شبکه‌ی گازرسانی است و گاز از طریق خط لوله‌ی سراسری به اغلب شهرهای ایران می‌رسد.
هر ساله مقدار این خطوط لوله و گازرسانی به مناطق مختلف کشور بیشتر می‌شود.

صادرات نفت و گاز



صادرات و واردات نفت و گاز بزرگ‌ترین تجارت در جهان امروزی است. کشورهایی که نفت و گاز ندارند برای فعالیت‌های خود مانند حمل و نقل و کارخانه‌هایشان نیازمند نفت و گاز کشورهای نفت خیز مانند ایران هستند.
بخش عمده‌ای از نفت ایران به کشورهای خارجی صادر می‌شود.
ایران نیز پولی را که از راه صادرات نفت به دست می‌آورد در فعالیت‌های مختلف کشور استفاده می‌کند.

برق

همان‌طور که از انجام دادن فعالیت ۱ پی بردید، علاوه بر نفت و گاز، بیشترین انرژی‌ای که ما از آن استفاده می‌کنیم، برق است. اما برق از کجا می‌آید؟ بیشتر برق (انرژی الکتریکی) مورد نیاز ما از طریق سوزاندن نفت کوره، گاز و گازوئیل در نیروگاه‌ها تولید می‌شود.

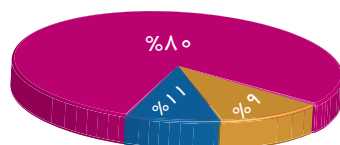



برق حرارتی

در این نیروگاه‌ها با سوزاندن سوخت‌های فسیلی، آب را به بخار تبدیل می‌کنند. فشار بخار را به حرکت درمی‌آورد و برق (انرژی الکتریکی) تولید می‌شود.

برق آبی

سال گذشته خواندید که با بستن سد روی رودهای پرآب و با استفاده از فشار آب ذخیره شده، توربین‌ها به حرکت درمی‌آیند و برق (انرژی الکتریکی) تولید می‌شود.



بچه‌ها به این موضوع خوب فکر کنید.
در سال ۱۴۰۲ در کشور ما حدود ۸۰ درصد برق یا انرژی الکتریکی از برق حرارتی به دست آمده است؛ یعنی برای تولید آن میلیون‌ها بشکه نفت* و گاز سوزانده شده است.

فعالیت ۴

با توجه به آنچه درباره‌ی آب و هوا و رودهای ایران می‌دانید، بگویید چرا در کشور ما تولید برق آبی از برق حرارتی بسیار کمتر است؟

فعالیت ۵

برای حفظ محیط زیست، استفاده از برق حرارتی بهتر است یا برق آبی؟ چرا؟

* هر بشکه نفت معادل ۱۵۹ لیتر است.

انرژی را بهتر مصرف کنیم

در درس گذشته پی بردید که سوخت‌های فسیلی، مهم‌ترین منابع مصرف انرژی در دنیای امروز هستند. به این منابع «غیر قابل تجدید» می‌گویند؛ یعنی با استخراج تمام می‌شوند. سوخت‌های فسیلی در اعماق زمین وجود دارند و میلیون‌ها سال طول می‌کشد تا تشکیل شوند. به همین دلیل امروزه همه‌ی کشورها تلاش می‌کنند انرژی‌های نو را جایگزین سوخت‌های فسیلی کنند.



صفحاتی که انرژی خورشید را جمع و متمرکز می‌کنند.

نیروگاه خورشیدی - شیراز



استفاده از آبگرمکن خورشیدی برای حمام در یک روستای یزد



نیروگاه بادی منجیل

انرژی‌های نو (قابل تجدید)

انرژی‌های نو آن دسته از منابع انرژی هستند که تمام نمی‌شوند و همواره می‌توان از آنها استفاده کرد؛ مانند انرژی خورشید، انرژی آب و انرژی باد. انرژی‌های نو برخلاف سوخت‌های فسیلی محیط‌زیست را آلوده نمی‌کنند؛ اما حمل و نقل نفت و گاز موجب آلودگی محیط می‌شود و سوزاندن آنها نیز هوا را آلوده می‌کند.

استفاده از انرژی‌های نو در ایران

متخصصان کشور ما تلاش می‌کنند با مطالعه و تحقیق و ساختن دستگاه‌ها و ابزارها از انرژی‌های نو هرچه بیشتر استفاده کنند. به همین دلیل، تاکنون در بعضی مناطق کشور طرح‌هایی اجرا شده است.

کشور ما از روزهای آفتابی زیادی برخوردار است. از انرژی خورشیدی می‌توان برای گرم کردن هوا یا آب استفاده کرد و یا از آن انرژی الکتریکی به‌دست آورد.

آیا شما نیز دوست دارید در پشت‌بام خانه‌تان آبگرمکن خورشیدی داشته باشید؟ چرا؟

از انرژی باد می‌توان در جاهایی که در بیشتر اوقات سال باد می‌وزد به خوبی استفاده کرد. انرژی باد توربین‌ها را به حرکت درمی‌آورد و انرژی الکتریکی تولید می‌کند.



انرژی هسته‌ای (اتمی)

انرژی هسته‌ای از شکافتن هسته‌ی اتم‌های بعضی عناصر مثل اورانیوم پدید می‌آید. سنگ اورانیوم در طبیعت وجود دارد؛ برای مثال در کشور ما استان یزد دارای معادن اورانیوم است.

نیروگاه اتمی بوشهر

انرژی هسته‌ای قابل تجدید نیست؛ چون

روزی معادن آن تمام می‌شود؛ اما یک فرق مهم با انرژی‌های دیگر دارد و آن این است که با سوخت کم، انرژی بسیار زیادی تولید می‌کند؛ برای مثال یک کیلوگرم اورانیوم معادل سوختن ۱۲۰۰۰ بشکه نفت، انرژی تولید می‌کند. در ایران، نیروگاه اتمی در بوشهر ساخته شده است و متخصصان و دانشمندان ایرانی در حال بهره‌برداری از این نیروگاه برای تولید برق هستند.

تولید برق، مهم‌ترین کاربرد انرژی هسته‌ای است. شیرین کردن آب دریا، تولید رادیوداروهای مختلف برای درمان بیماری‌های خاص، فیزیک لیزر، اکتشافات فضایی و پژوهش‌های علمی تنها بعضی از کاربردهای فناوری هسته‌ای هستند.

فعالیت ۱

آیا تاکنون از وسایلی که با انرژی خورشیدی کار می‌کنند مانند ماشین حساب نوری استفاده کرده‌اید؟ اگر از این نمونه وسایل دارید به کلاس بیاورید و آنها را با وسایلی که با باتری کار می‌کنند، مقایسه کنید و مزیت آنها را بگویید.

فعالیت ۲

کاربرگی شماره‌ی ۱۱ را کامل و انواع انرژی‌ها را با هم مقایسه کنید.

فعالیت ۳

اگر به اینترنت دسترسی دارید، بار اهنمایی معلّم، به پایگاه «سازمان انرژی‌های تجدیدپذیر و بهره‌وری انرژی برق (ساتبا)» بروید (www.satba.gov.ir) و در بخش «کودک و انرژی» از جورچین، قصّه، بازی‌های رایانه‌ای و انواع سرگرمی‌های مربوط به انرژی استفاده کنید.

درست مصرف کنیم

فعالیت ۴

با افراد سالمند خانواده یا فامیل گفت و گو کنید و بپرسید در زمان گذشته، گرم کردن خانه، پخت و پز و حمل و نقل چه تفاوت‌هایی با امروز داشته است و آیا آنها نیز از این همه وسایل خانگی برقی استفاده می‌کرده‌اند؟ از این مصاحبه چه نتیجه‌ای گرفتید؟ در کلاس بیان کنید.

اخبار روزنامه‌ها را بخوانید.
از خواندن این اخبار به چه چیزهایی پی می‌بریم؟ در کلاس گفت و گو کنید.

با توجه به تولید خودرو میزان مصرف بنزین و گازوئیل در ایران هر ده سال دو برابر می‌شود

سرانه مصرف بنزین در ایران دو برابر کشورهای جهان است

نفت سرمایه ملی است چرا این سرمایه را هدر دهیم؟

اصلاح الگوی مصرف ضروری است

مصرف برق ایرانی‌ها سه برابر میانگین جهانی است

در صورت مصرف بی‌رویه گاز، مشکل قطع گاز خواهیم داشت

برق مشتری کین پرمصرف قطع خواهد شد

چه طور مصرف کنیم؟
ما چه کمکی می‌توانیم بکنیم؟

مصرف سوخت‌های فسیلی

★ زمانی که بخاری روشن است، درها و پنجره‌ها را باز نگذاریم.

★ اگر شومینه (هیمة سوز*) داریم، بهتر است آن را روشن نکنیم. شومینه هم سوخت زیادی مصرف می‌کند و هم موجب آلودگی هوای خانه می‌شود.

★ زمانی که هوا سرد است، به جای اینکه درجه‌ی بخاری را زیاد کنیم و تنها یک پیراهن بپوشیم، لباس‌های گرم‌تر بپوشیم و درجه‌ی بخاری را کم کنیم (اگر هر یک از ما دمای خانه را فقط چند درجه سانتی‌گراد کمتر کنیم، روزانه در مصرف مقدار زیادی سوخت صرفه‌جویی کرده‌ایم).



مصرف برق



لامپ‌های کم مصرف غیر جیوه‌ای

★ عادت کنیم در خانه یا مدرسه، لامپ‌های اضافی را خاموش کنیم؛ مثلاً اگر در اتاق هستیم و در آشپزخانه کاری نداریم، لامپ آنجا را خاموش کنیم.

★ در یخچال را زیاد باز و بسته نکنیم. با هر بار باز و بسته کردن یخچال، برق بیشتری مصرف می‌شود.

★ از لامپ‌های کم مصرف استفاده کنیم.

★ به ساعت ۷ تا ۱۱ شب، ساعت پیک یا اوج بار می‌گویند، چون در این زمان هوا تاریک می‌شود و همه‌ی مردم چراغ‌ها را روشن می‌کنند، مصرف برق خیلی زیاد می‌شود. در این زمان سعی کنیم از وسایل برقی کمتری استفاده کنیم و از وسایل برقی پرمصرف مثل اتو، جاروبرقی و لباسشویی اصلاً استفاده نکنیم.

برچسب انرژی



A+++

به پدر و مادرمان بگوییم موقع خریدن لوازم خانگی مثل یخچال و ماشین لباسشویی به برچسب انرژی توجه کنند.

برچسب انرژی هفت رنگ دارد. در وسیله‌ای که می‌خریم، هرچه فلش آن به سمت رنگ سبز پررنگ (A+++) نزدیک تر باشد، آن وسیله بهتر است؛ یعنی انرژی کمتری مصرف می‌کند و کارایی آن بیشتر است.

برچسب انرژی

فعالیت ۵

کاربرگه‌ی شماره‌ی ۱۲ را انجام دهید.

فعالیت ۶

- ☐ با کمک خانواده، قبض گاز و قبض برق خانه‌تان را در چند نوبت بخوانید و مقایسه کنید.
- ☐ نکات مربوط به مصرف درست سوخت‌های فسیلی و برق را بنویسید و در جای مناسب در خانه نصب کنید.
- ☐ با کمک خانواده، قبض گاز و قبض برق خانه‌تان را به صورت اینترنتی پرداخت کنید.
- ☐ در پرداخت اینترنتی به چه نکاتی باید توجه کنید؟
- ☐ قبض‌های پرداختی آب، گاز و برق خانه‌تان را با توجه به مبلغ قبض به صورت نمودار دایره‌ای رسم کنید.

فعالیت ۷







- ☐ تصور کنید شما ۵۰ سال بعد به دنیا آمده‌اید و سوخت‌های فسیلی تمام شده و انرژی‌های جدید جایگزین آنها شده است. یک روز زندگی خودتان را با توجه به انرژی‌های نو شرح دهید و بنویسید.

منابع انرژی

همفکری کنید و پاسخ مناسب بنویسید.

— چند وسیله یا ماشین برای هریک از این موارد مثال بزنید.

— بنویسید در هر مورد، از کدام منابع یا اشکال انرژی استفاده می‌شود.

انرژی	وسایل	
گاز، برق، نفت	مثال: اجاق گاز، پلوپز، مخلوط‌کن، چراغ خوراک‌پزی	 پخت و پز
		 حمل و نقل
		 گرم کردن ساختمان
		 کشاورزی
		 وسایل خانگی
		 کارخانه‌ها

آیا می‌توانید بگویید در بیشتر فعالیت‌های روزانه‌ی زندگی از کدام منبع یا شکل انرژی استفاده می‌شود؟

مقایسه‌ی انواع انرژی‌ها

انواع انرژی را با هم مقایسه و جدول را کامل کنید.

● انرژی بسیار زیادی تولید می‌کند.

● موجب آلودگی محیطی می‌شود.

● آلودگی ندارد.







● تمام نمی‌شود و قابل تجدید است.

● هزینه‌ی تحقیقات و وسایل نصب آن گران است.

● زباله‌های اتمی برای محیط زیست خطرناک است.

● ارزان است.

● ذخیره‌ی آن تمام می‌شود و غیر قابل تجدید است.

انرژی	خوبی‌ها (مزایا)	بدی‌ها (معایب)
نفت 	مثال: ● ارزان است.	● ذخیره‌ی آن تمام می‌شود و غیر قابل تجدید است. ● موجب آلودگی محیط می‌شود.
خورشیدی 		
گاز 		
باد 		
آب جاری 		
انرژی هسته‌ای (اتمی) 		

مراقبت از مصرف انرژی

همراه با اعضای خانواده در مصرف درست انرژی همکاری کنید و در مدت یک هفته کارهایی را که در این زمینه انجام داده‌اید، در جدول بنویسید.

مثال

روز و تاریخ	کارهایی که برای مصرف صحیح انرژی انجام دادیم
روز جمعه ۱۳۹۳/۱۰/۲۶	<ul style="list-style-type: none"> - مراقب بودیم درها باز نماند تا گرمای بخاری به هدر نرود. - لامپ‌های اضافی را خاموش کردیم.
شنبه / /	
یکشنبه / /	
دوشنبه / /	
سه شنبه / /	
چهارشنبه / /	
پنج شنبه / /	
جمعه / /	

پیشرفت علوم و فنون در دوره‌ی اسلامی

۵

فصل پنجم

حوزه‌های موضوعی

زمان، تداوم و تغییر

فرهنگ و هویت

فضا و مکان




مجسم کنید با یک ماشین جادویی زمان، هزار سال به عقب رفته‌اید. شما در سرزمین‌های اسلامی هستید. چشمانتان را باز می‌کنید. یک هفته از جاهای مختلف دیدن می‌کنید؛ شهرهای پرجمعیت، مردمانی که مشغول داد و ستد و بازرگانی هستند؛ بازارهای پیچ در پیچ، کاروان‌هایی با ده‌ها شتر که کالاها را از جایی به جای دیگر حمل می‌کنند؛ مساجد زیبا، کتابخانه‌ها و مدارس علمی، دانشمندان و جهانگردان، بناهایی با معماری باشکوه، کاخ‌های مجلل و ... با خود فکر می‌کنید:

راستی، علت این همه پیشرفت‌های شگفت‌انگیز چیست؟ مسلمانان سرزمین‌های اسلامی به چه علوم و فنونی دست یافته‌اند؟ آنها چه اختراعات و ابداعاتی کرده و به مردم جهان چه خدماتی نموده‌اند؟

موضوع این فصل، شکوفایی علوم و فنون در دوره‌ی اسلامی است. امید است شما با آموختن مطالب و انجام دادن فعالیت‌های آن، پاسخ پرسش‌های خود را بیابید.

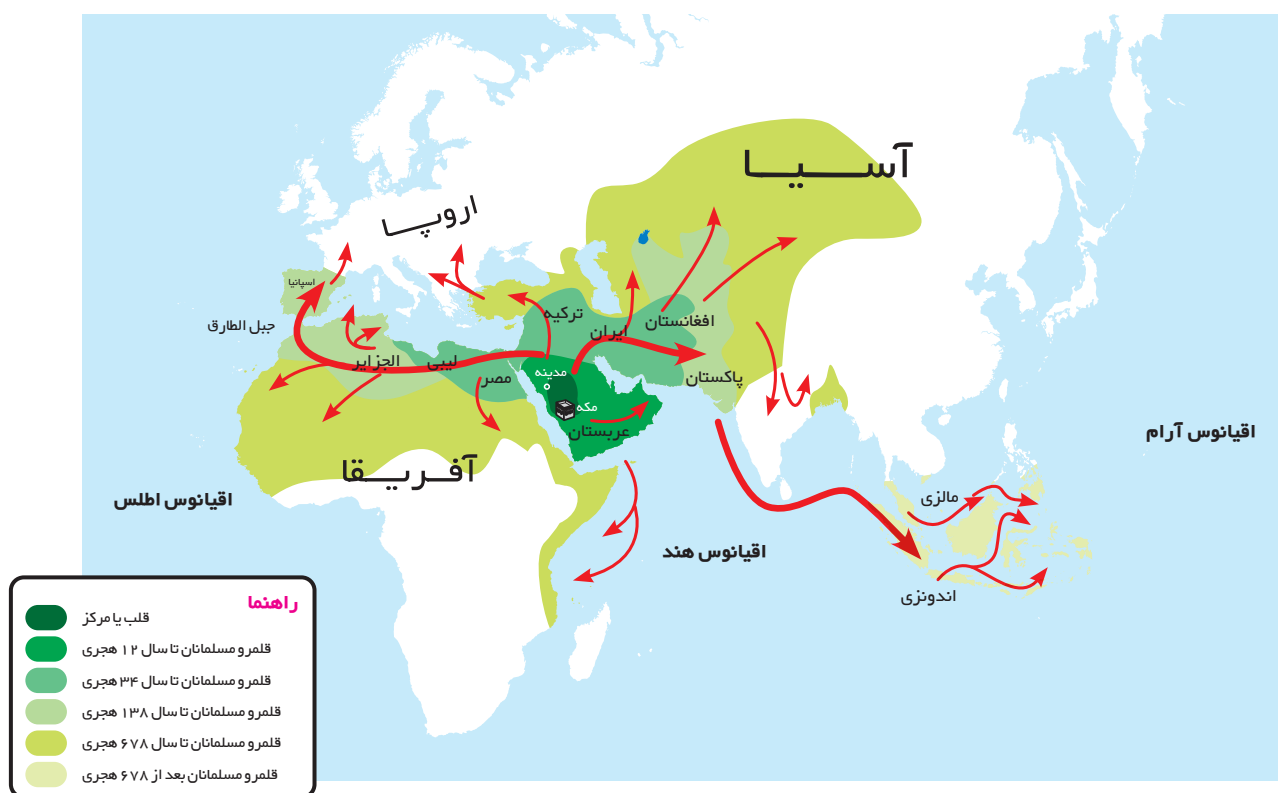
پیشرفت‌های علمی مسلمانان



ظهور و گسترش اسلام

سال گذشته خواندید که دین اسلام از سرزمین عربستان طلوع کرد. پیامبر گرامی اسلام، حضرت محمد (صلی الله علیه و آله) پس از هجرت از مکه به مدینه، حکومت اسلامی تشکیل دادند و از آن زمان به بعد دعوت به اسلام هر روز با استقبال بیشتری روبه‌رو شد و گسترش یافت.

پس از رحلت پیامبر (ص)، مسلمانان، اسلام را در خارج از شبه جزیره عربستان گسترش دادند و در هر دوره سرزمین‌های زیادی از جمله ایران را به قلمرو اسلامی افزودند و بسیاری از کشورهای قدرتمند آن روز را به تصرف درآوردند.



نقشه‌ی گسترش اسلام در دوره‌های مختلف

فعالیت ۱

به نقشه توجه کنید. دین اسلام در کدام قاره‌ها گسترش یافت؟ در هر قاره، یک یا دو کشور را که اسلام در آنها راه یافته است، نام ببرید.

شکوفایی علوم و فنون

دین اسلام بین ملت‌های مختلف با فرهنگ‌ها و آداب و رسوم متفاوت گسترش یافت. مسلمانان تحت تأثیر قرآن و آموزه‌های دینی اسلام که به تفکر و آموختن علم اهمیت زیادی می‌داد در زمینه‌های مختلف پیشرفت کردند. آنها از بخش‌هایی از دانش و فناوری که از گذشته در کشورشان بر جای مانده بود نیز استفاده کردند و در پرتو دین اسلام آنها را گسترش دادند. به تدریج سرزمین‌های اسلامی به کانون علمی جهان تبدیل شدند.

در این دوره هنرمندان، صنعتگران، دانشمندان، فیلسوفان و مهندسان زیادی ظهور کردند و ابداعات و اختراعات مهمی پدید آوردند. در این میان، ایرانیان سهم بسیار بزرگی در گسترش اسلام و پیشرفت‌های علمی داشتند.



بچه‌ها، شرح این پیشرفت‌ها خیلی مفصل است؛ اما من نمونه‌هایی را برایتان می‌گویم.

ما دوست داریم درباره‌ی اختراعات و پیشرفت‌های مسلمانان بیشتر بدانیم.



مطالعه برای انجام فعالیت



○ مهندسان مسلمان، اختراعات زیادی کردند؛ برای مثال اسماعیل جزری که در قرن ششم هجری زندگی می‌کرد، معروف‌ترین مهندس مسلمان آن دوره بود. جزری در کتاب خود، پنجاه دستگاه را که خودش ساخته، شرح داده است؛ مانند ساعت آبی، ساعت شمعی، دستگاه‌های خودکار برای ریختن آب و شستن دست و وضو، وسایل اندازه‌گیری خون، تلمبه و ... او به علم مکانیک آشنایی کامل داشته است.

نقاشی از ساعت شمعی، جزری

○ مسلمانان چرخاب یا چرخ آب‌کشی را اختراع کرده بودند. این چرخ در مسیر رودخانه نصب می‌شد و از آن برای آبیاری و آب‌کشی استفاده می‌کردند. بسیاری از دانشمندان امروز، مهارت مسلمانان ایرانی را در ساختن دستگاه‌های آبی، تحسین می‌کنند. این چرخ‌ها در جهان به چرخ ایرانی معروف است. نوعی از چرخاب نیز چرخ چاه بود که برای آب‌کشی از چاه به کار می‌رفت.



چرخ آب‌کشی



نقاشی چرخاب



○ پزشکی : ایرانیان در دانش پزشکی بسیار پیشرفت کرده بودند. زکریای رازی و ابوعلی سینا در این زمینه شهرت جهانی دارند. رازی کتاب معروفی درباره‌ی نقش غذا در سلامت و درمان بیماری‌ها نوشته است. او بسیاری از داروها را ابتدا روی حیوانات آزمایش می‌کرده است.

ابوعلی سینا که در ده سالگی تمام قرآن را آموخته بود و ریاضی نیز می‌دانست در پزشکی استاد بود. مهم‌ترین کتاب او در پزشکی قانون نام دارد که تا سال‌ها در دانشگاه‌های بزرگ اروپایی تدریس می‌شد.



○ شیمی : کلمه‌ی شیمی از کلمه‌ی کیمیا گرفته شده است. ایرانیان مسلمان در علم کیمیاگری پیشرفت زیادی کردند. رازی کاشف الکل است و جابر بن حیان ده‌ها کتاب درباره‌ی علم شیمی نوشته است و شهرت جهانی دارد.



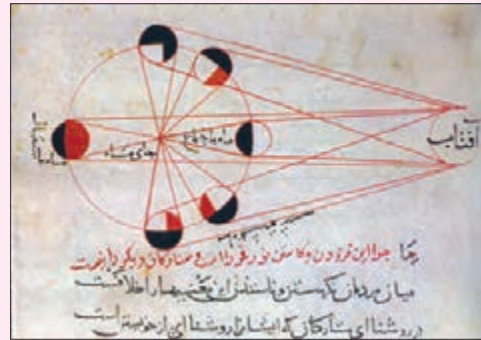
○ ریاضیات : ایرانیان مسلمان دانش ریاضی را گسترش دادند. خوارزمی و خیّام از ریاضی‌دان‌های ایرانی معروف در دوره‌ی اسلامی هستند. آنها درباره‌ی اعداد و حل کردن مسائل ریاضی و شکل‌های هندسی، مطالب جدیدی مطرح کردند.

○ ستاره‌شناسی (نجوم)

ابوریحان بیرونی دانشمند بزرگ ایرانی که فیلسوف و ریاضی‌دان بود در تاریخ و جغرافیا نیز مهارت داشت. او ستاره‌شناس بزرگی نیز بود و درباره‌ی تقویم و محاسبه‌ی سال و ماه و اندازه‌گیری حرکت ماه و سیارات و فاصله‌ی آنها کتاب‌های زیادی نوشت.



♥ مجسمه‌ی ابوریحان بیرونی
در پارک لاله‌ی تهران



فعالیت ۲

الف - در دوره‌ی اسلامی به دانشمندان، حکیم می‌گفتند. چون آنها علوم مختلف را می‌دانستند و در چند علم، استاد بودند. آیا می‌توانید با توجه به مطالب این درس چند مثال بزنید؟

ب - در دوره‌ی اسلامی، اغلب دانشمندان کتاب‌های خود را به زبان عربی می‌نوشتند. به نظر شما چرا چنین کاری می‌کردند؟

فعالیت ۳

به چند گروه تقسیم شوید و هر گروه درباره‌ی یکی از حکیمان مسلمان و آثار او اطلاعاتی جمع‌آوری کنید و روی یک یا دو برگ بنویسید. شما می‌توانید بار اهنمایی معلم از دانشنامه‌ی رشد (شبکه‌ی رشد www.daneshnameh.roshd.ir) یا کتاب‌های مناسبی استفاده کنید که در این باره برای کودکان و نوجوانان نوشته شده است.

نام حکیم یا دانشمند:

محل تولد یا زندگی:

در چه قرن‌ی می‌زیسته است:

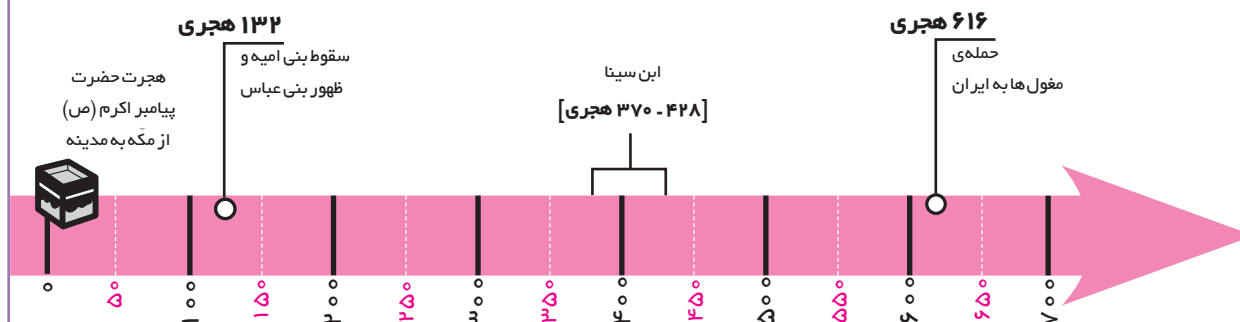
آثار:

در چه علوم و فنونی مهارت داشته است:

...

خط زمان

خط زمان نشان می‌دهد که هر واقعه در چه زمانی اتفاق افتاده است. این خط زمان بر اساس قرن (صد سال) تنظیم شده است:



در سال گذشته خواندید که مبدأ تاریخ ما مسلمانان، هجرت پیامبر اکرم (ص) از مکه به مدینه است. به هر صدسال یک قرن یا یک سده می‌گویند.

از سال یکم تا صدم را قرن اول هجری می‌گویند و از ۱۰۱ تا ۲۰۰ قرن دوم، از ۲۰۱ تا ۳۰۰ قرن سوم و ... از سال یکم تا پنجاه، نیمه اول قرن است و از پنجاه و یکم تا صدم نیمه دوم قرن. ابن سینا در ۳۷۰ هجری به دنیا آمده است؛ یعنی در نیمه دوم قرن چهارم. ابن سینا در ۴۲۸ هجری از دنیا رفته است؛ یعنی نیمه اول قرن پنجم.

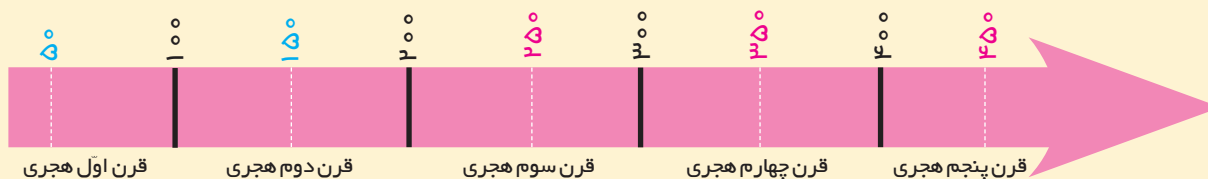
فعالیت ۴

با راهنمایی معلم، موارد زیر را روی خط زمان نشان دهید و بگویید هریک از این افراد در چه زمانی زندگی می‌کرده‌اند؟

ابوریحان بیرونی ۴۴۰ - ۳۶۲ هجری ← نیمه دوم قرن چهارم - نیمه اول قرن پنجم

زکریای رازی ۳۱۳ - ۲۵۱ هجری ←

خیام ۵۱۷ - ۴۲۹ هجری ←



چه عواملی موجب گسترش علوم و فنون در دوره‌ی اسلامی شد؟

آموزه‌های دین اسلام

مهم‌ترین علت پیشرفت علمی مسلمانان، تعلیم دین اسلام بود. آیات قرآن کریم انسان‌ها را به تفکر درباره‌ی آفرینش جهان، حرکت ستارگان و سیارات، زندگی جانوران و گیاهان و نظایر آن، دعوت می‌کند. پیامبر گرامی اسلام (ص) فرمودند: به دنبال کسب علم باشید؛ حتی اگر در چین باشد. امامان، عالمان بزرگی بودند و مردم برای یافتن پاسخ‌های علمی نزد آنها می‌رفتند. امام محمدباقر (ع) و امام جعفر صادق (ع) کلاس‌های درس داشتند و شاگردان زیادی در کلاس‌های آنها حاضر می‌شدند.

نیازهای جدید جوامع مسلمان

مسلمانان برای کارهایی چون تعیین جهت قبله (جهت رو به خانه‌ی کعبه) پی بردن به ساعت طلوع و غروب خورشید و تقویم و برای انجام دادن عبادت‌ها، کشتیرانی در دریا و نظایر آن به علم ریاضیات و ستاره‌شناسی نیاز داشتند. آنها با **اسطرلاب**، موقعیت ستاره‌ها را مطالعه می‌کردند. مسلمانان در ساختن و هدایت کشتی‌ها مهارت داشتند و با توجه به جهت ستاره‌ی قطبی در آسمان، مسیر خودشان را در دریا پیدا می‌کردند.



اسطرلاب

ترجمه



وقتی مسلمانان، سرزمین‌های پهناور آن روز را فتح کردند، علوم و فنون این سرزمین‌ها در اختیار آنها قرار گرفت. آنها آثار علمی ملت‌های دیگر چون ایران و یونان را از زبان فارسی (پهلوی) و یونانی به زبان عربی ترجمه کردند تا از آنها استفاده کنند. در آن دوره حتی مراکزی برای ترجمه‌ی کتاب‌ها به وجود آمده بود.

حمایت فرمانروایان از دانشمندان

بعضی از فرمانروایان از دانشمندان و هنرمندان حمایت می‌کردند و خودشان برای ایجاد کتابخانه، مدارس و مراکز علمی پیشقدم می‌شدند.



تجارت و بازرگانی

بازرگانان در سراسر سرزمین‌های اسلامی، کالاها را از جایی به جای دیگر حمل می‌کردند. تجارت و بازرگانی هم از طریق راه‌های خشکی و هم راه‌های دریایی رونق داشت. در این سفرها و آمد و رفت‌ها، علوم و فنون نیز از جایی به جای دیگر منتقل می‌شد.

کاغذسازی



مسلمانان فن کاغذسازی را از چینی‌ها آموخته بودند و آن را گسترش دادند و کامل کردند. در آن دوره، صدها مغازه‌ی کتاب‌فروشی در شهرهایی چون بغداد، نیشابور، بخارا و ... وجود داشت.

مراکز علمی جهان اسلام

دانشگاه و کتابخانه



یکی از مهم‌ترین مراکز علمی آن دوره، دانشگاه جندی شاپور بود. دانشگاه جندی شاپور در اهواز در زمان ساسانیان تأسیس شده بود اما تا سیصد سال بعد از ورود اسلام به ایران به کار خود ادامه داد. در بسیاری از شهرهای اسلامی، کتابخانه‌های بزرگی وجود داشت؛ برای مثال سامانیان در بخارا کتابخانه‌ی عظیمی داشتند که ابن سینا سال‌ها در آنجا مشغول تحقیق و مطالعه بود.

نظامیه

نظامیه‌ها مدارس بودند که عده‌ی زیادی از افراد در آنها علم می‌آموختند و همان‌جا زندگی می‌کردند و حکومت، خرج تحصیل و زندگی آنها را می‌داد. یکی از وزیران معروف ایرانی به نام خواجه نظام‌الملک، این نوع مدرسه را تأسیس کرده بود. نظامیه‌های نیشابور و بغداد معروف بودند. دانشگاه‌های امروز جهان تقلیدی از مدارس نظامیه است.

رصدخانه

رصدخانه‌ها محل تحقیق درباره‌ی ستارگان بودند. شهرهایی چون بغداد، اصفهان، مراغه و ری رصدخانه داشتند.

بیمارستان

نخستین بیمارستانی که از آن اطلاعی در دست است، بیمارستان و مدرسه‌ی پزشکی دانشگاه جندی شاپور است. معروف‌ترین بیمارستان دوره‌ی اسلامی، بیمارستانی بود که عضدالدوله دیلمی در بغداد بنا کرده بود که داروخانه‌ای نیز داشت.

علت و معلول



علت یعنی چرا یک چیز اتفاق می‌افتد؟
معلول یعنی نتیجه‌ای که در اثر آن علت‌ها به وجود آمده است.

درس را بخوانید و علت‌های پیشرفت‌های مسلمانان را به‌طور خلاصه بنویسید.

معلول (نتیجه)	علت
پیشرفت‌های علمی مسلمانان و شکوفایی علوم و فنون در دوره‌ی اسلامی	
	تجارت و
	مسلمانان در کاغذسازی پیشرفت کرده بودند.

سفری به اصفهان



فصل ششم

حوزه‌های موضوعی

زمان، تداوم و تغییر

مکان و فضا

فرهنگ و هویت



در دنیا هزاران شهر کوچک و بزرگ وجود دارد اما فقط تعداد کمی از آنها در جهان مشهور هستند. اصفهان یکی از شهرهای معروف جهان است. آیا تاکنون به اصفهان سفر کرده‌اید؟ اگر آری، چه خاطره‌ای از سفر به این شهر دارید؟ آیا می‌دانید هر ساله هزاران نفر از مردم کشور در بهترین روزهای تعطیلات خود به این شهر سفر می‌کنند؟ هر گردشگر خارجی هم که به ایران سفر می‌کند، سراغ اصفهان را می‌گیرد و می‌خواهد از این شهر دیدن کند. راستی چرا اصفهان شهرت جهانی دارد؟ کدام بناها و آثار تاریخی باشکوه در این شهر وجود دارد؟ این آثار در چه دوره‌ای به وجود آمده‌اند و چه ویژگی‌هایی دارند؟

موضوع این فصل «اصفهان» است. امید است شما با آموختن مطالب و انجام دادن فعالیت‌های آن پاسخ پرسش‌های خود را بیابید.

اصفهان، نصف جهان

گردش در اصفهان



شهر اصفهان، مرکز استان اصفهان است. شهر اصفهان در کوهپایه‌های زاگرس قرار دارد و رود زاینده رود از وسط آن عبور می‌کند. جمعیت شهر اصفهان حدود دو میلیون نفر است. این شهر بعد از تهران و مشهد پرجمعیت‌ترین شهر ایران است. به نقشه‌ی زیر توجه کنید. این نقشه، شهر اصفهان را نشان می‌دهد. به این نوع نقشه، نقشه‌ی گردشگری می‌گویند. نقشه‌ی گردشگری، نقشه‌ای است که روی آن، مکان‌های دیدنی و آثار تاریخی نشان داده می‌شود.



↑
شمال

فعالیت ۱

شما و دوستانتان می‌خواهید از اصفهان دیدن کنید و نقشه‌ی صفحه‌ی قبل را خریده‌اید. همفکری کنید و روی نقشه، مکان‌های تاریخی و دیدنی، مساجد، بازار و... را پیدا کنید و نام ببرید.

فعالیت ۲

اگر بخواهید مهمان‌سرای انتخاب کنید که به آثار تاریخی نزدیک باشد، کدام را انتخاب می‌کنید؟



اهمیت شهر اصفهان در دوره‌های مختلف تاریخی

آثار تاریخی نشان می‌دهد که شهر اصفهان از گذشته‌های دور اهمیت داشته است. در دوره‌ی اسلامی، این شهر چندبار در زمان‌های مختلف به پایتختی انتخاب شده است؛ اما اوج شکوفایی شهر اصفهان به دوره‌ی صفویه مربوط است.

در این دوره به دلیل حمایت شاهان صفوی، تعداد زیادی از صنعتگران، معماران، هنرمندان و دانشمندان به اصفهان آمدند و چنان آثار باشکوه و زیبایی به وجود آوردند که این شهر به نصف جهان معروف شد.

مکان‌های تاریخی و دیدنی

در شهر اصفهان ده‌ها اثر تاریخی و دیدنی وجود دارد.
در اینجا چند نمونه‌ی مهم معرفی می‌شود:

میدان امام (نقش جهان)

این میدان به فرمان شاه عباس صفوی در مرکز شهر اصفهان ساخته شده و در آن زمان از بزرگ‌ترین میدان‌های جهان بوده است.

در اطراف این میدان که حدود ۵۰۰ متر طول دارد، بناهای بزرگ و باشکوه‌ی قرار گرفته‌اند.
با توجه به شکل بالا، این بناها را نام ببرید.



مسجد شیخ لطف الله



مسجد شیخ لطف الله

این مسجد به فرمان شاه عباس ساخته شد تا شیخ لطف الله که عالم بزرگی بود در آن نماز جماعت برگزار کند و به تربیت و تدریس شاگردان بپردازد. ساختن این مسجد حدود ۱۸ سال طول کشید. مسجد شیخ لطف الله گنبد بسیار زیبایی دارد که روی آن کاشی‌های بی نظیری دیده می‌شود. گنبد یکی از نشانه‌های معماری اسلامی است.



مسجد امام

۴۰ متر؟ چطور در آن زمان که ابزار و وسایل امروزی را نداشتند این کار را انجام می‌دادند؟!



مسجد امام (مسجد جامع عباسی)

این مسجد نیز از شاهکارهای معماری اسلامی به‌شمار می‌رود. مسجد امام چهار ایوان در چهار جهت جغرافیایی دارد.



هریک از مناره‌های مسجد بیش از ۴۰ متر ارتفاع دارد. داخل این مناره‌ها یا گلدسته‌ها، پلکان‌های مارپیچ وجود دارد که از آن بالا می‌رفتند تا اذان بگویند یا خبررسانی کنند.

مشهور است همزمان با ساختن مسجد امام، معادن سنگ مرمر، اطراف این شهر کشف شده است که از این سنگ‌ها در بنای مسجد استفاده کرده‌اند.

در این مساجد کتیبه‌هایی روی گنبد، محراب و مناره‌ها دیده می‌شود.

کتیبه‌نوشته‌هایی روی سنگ، کاشی و مانند آن است. معمولاً در کتیبه‌های دوره‌ی اسلامی، آیات قرآن، دعا و نام امامان بزرگوار را با خط خوش نوشته‌اند.

برخی کتیبه‌های مسجد امام به قلم استاد علیرضا عباسی خطاط مشهور نوشته شده است. در سقف ایوان، گچ‌بری‌های تزئینی زیبایی دیده می‌شود.



نمونه‌هایی از کتیبه، خط و کاشی کاری



مینیاتور داخل کاخ عالی قاپو



کاخ عالی قاپو

کاخ عالی قاپو

این کاخ در شش طبقه ساخته شده است و حدود پنجاه اتاق دارد. شاه عباس در این مکان به امور کشور می پرداخت و دستورهای لازم را صادر، و در تالارهای آن از مهمانان پذیرایی می کرد. شاه و درباریان از ایوان این کاخ، چوگان بازی، جشن ها یا رژه های سربازان را در میدان امام (نقش جهان)، تماشا می کردند. در داخل تالارها و اتاق ها، نقاشی های مینیاتور (خرده نگاره*) زیبایی دیده می شود که کار استاد رضا عباسی است.

فعالیت ۳

به تصاویر مسجد امام و مسجد شیخ لطف الله دقت کنید. مهم ترین تفاوتی که در این دو مسجد مشاهده می کنید، چیست؟

فعالیت ۴

به تصاویر مسجد امام و مسجد شیخ لطف الله در این درس با دقت نگاه کنید. حتماً در محل زندگی شما مساجدی وجود دارند که کمتر از ۵۰ سال از ساخت آنها می گذرد. چه تفاوت هایی میان این دو مسجد با مساجد جدید شهر یا روستای شما وجود دارد؟ به نظر شما چرا امروزه مساجدی با طراحی مشابه این دو مسجد را کمتر می بینیم؟

فعالیت ۵

با توجه به مطالبی که در این درس آموختید، انواع فنون و هنرهایی را که در ساختن بناهای تاریخی اصفهان به کار رفته است، فهرست کنید؛ مثال: کاشی کاری،.....

فعالیت ۶

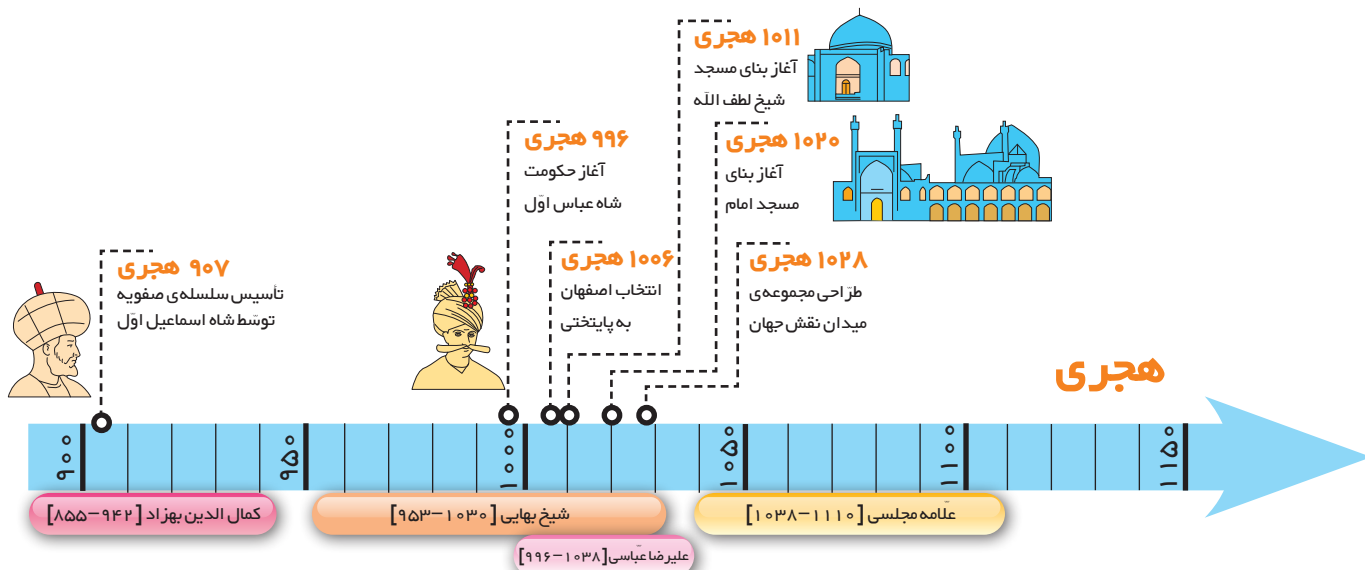
فرض کنید دوستی در خارج از ایران دارید که می خواهد به ایران بیاید و از اصفهان دیدن کند. به طور گروهی یک کارت پستال با نشانه هایی از شهر اصفهان درست، و او را به دیدن اصفهان دعوت کنید. کارت دعوت گروه خود را به تابلوی کلاس نصب کنید.

چرا فرهنگ و هنر در دوره‌ی صفویه شکوفا شد؟

تشکیل حکومت صفویه



در اوایل قرن دهم هجری، اوضاع سیاسی و اجتماعی ایران نابسامان بود. حکومت قدرتمندی در کشور وجود نداشت و هر بخش آن در اختیار حکومتی بود. در چنین اوضاع آشفته‌ای شاه اسماعیل صفوی سلسله‌ی صفویه را تأسیس کرد. مشهورترین پادشاه صفوی شاه عباس اول است که اصفهان را به پایتختی انتخاب کرد. صفویان، مذهب شیعه را مذهب رسمی کشور اعلام کردند. آنها از عالمان دینی و مراسم مذهبی حمایت می‌کردند و به ساختن مساجد علاقه‌مند بودند.



عصر صفویه، عصر شکوفایی دانش و معماری هنر در ایران است. بسیاری از دانشمندان، نویسندگان و هنرمندان در این دوره ظهور کردند.

گسترش هنر و معماری در دوره ی صفویه

حکومت قدرتمند و یکپارچه

صفویان توانستند مخالفان خود را در داخل کشور سرکوب کنند. آنها با دشمنان قدرتمند خود مانند عثمانی ها در غرب و ازبکان در شرق نیز جنگیدند و پیروزی هایی به دست آوردند. بدین ترتیب آنها حکومتی قدرتمند و یکپارچه به وجود آوردند.

رونق تجارت

در دوره ی صفویه، تجارت و داد و ستد رونق زیادی پیدا کرد. کالاهای صادراتی مهم ایران در آن زمان، ابریشم و پارچه های زربفت و سنگ های قیمتی و خشکبار بود که هم از راه خشکی با کاروان ها و هم از راه دریا با کشتی به کشورهای دیگر فرستاده می شد. از این تجارت، ثروت و درآمد خوبی به دست می آمد.

برقراری امنیت در راه ها و شهرها

حکومت صفویه، به ساختن راه ها و کاروانسراها اهمیت زیادی می داد. کاروانسراها محل استراحت و تأمین آذوقه ی مسافران و چهارپایانی بود که راه های طولانی را از شهری به شهری دیگر طی می کردند. صفویان امنیت را در راه ها و شهرها برقرار کردند و همین امنیت باعث می شد کاروان ها با آسودگی سفر کنند.

حمایت از هنرمندان

حاکمان صفوی به ویژه شاه عباس از هنرمندان و صنعتگران و دانشمندان حمایت می کردند. آنها برای ساختن بناهای باشکوه، پول زیادی خرج می کردند. شاهان صفوی مانند سایر شاهان ثروتمند بودند. آنها زمین های زیادی را در کشور به ملک شخصی خود درآورده بودند. درآمد حکومت و مخارج شاه و درباریان از راه مالیات هایی که از ولایات می گرفتند، تأمین می شد. کشاورزان، بازرگانان و صنعتگران و همه ی مردم مجبور بودند بخشی از درآمد خود را به مأموران حکومت بدهند.



کاروانسرای شاه عباسی، سمنان



اصفهان در سفرنامه‌ها

در گذشته‌های دور، سفر از سرزمینی به سرزمین دیگر بسیار دشوار بود؛ چرا؟ اما در آن زمان گاهی افرادی پیدا می‌شدند که برای آشنایی با شهرهای دیگر و مردمان آنها یا به قصد زیارت یا تحصیل علوم دینی با همه‌ی رنج و مشقت، سفر می‌کردند و سفر آنها گاهی روزها، ماه‌ها یا سال‌ها طول می‌کشید.

گاهی نیز بعضی حکومت‌ها، افرادی را به سفرهای دور و دراز به کشورهای دیگر روانه می‌کردند تا اطلاعاتی از آن کشورها به دست بیاورند؛ چرا؟

بسیاری از این جهانگردان، دیده‌ها و شنیده‌ها و خاطرات خود را از سفرهایشان می‌نوشتند و گاهی با نقاشی نیز تصویر می‌کردند. به این نوشته‌ها «سفرنامه» می‌گویند.

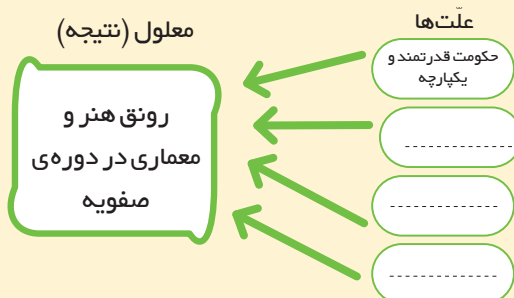
در دوره‌های مختلف تاریخی، جهانگردان زیادی از اصفهان دیدن کرده، و در سفرنامه‌های خود درباره‌ی این شهر مطالبی نوشته‌اند.



نقاشی خانم ژان دیولافوا، باستان‌شناس فرانسوی، قرن ۱۹

فعالیت ۲

به‌طور گروهی روی یک برگه‌ی کاغذ، نمودار علت و معلول را رسم کنید؛ سپس علت‌های رونق هنر و معماری را در دوره‌ی صفویه خلاصه در محل مناسب بنویسید.



فعالیت ۳

کاربرگه‌های ۱۵ و ۱۶ را کامل کنید.

خط زمان

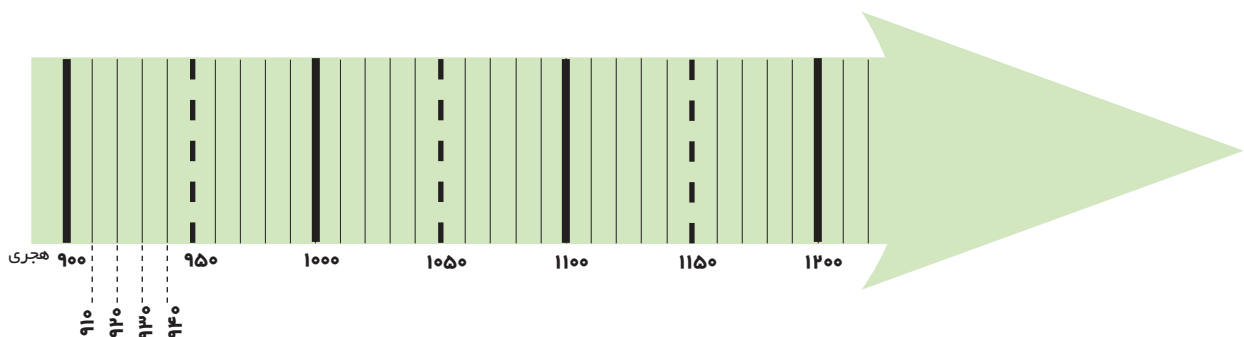
تمرین

این موارد را به طور تقریبی با علامت ✕ روی خط زمان نشان دهید.

★ تأسیس سلسله‌ی صفویه (در سال ۹۰۷ هجری)

★ انتخاب اصفهان به پایتختی صفویه (در سال ۱۰۰۶ هجری)

★ سقوط سلسله‌ی صفویه (در سال ۱۱۳۵ هجری)



دقت در آثار تاریخی



۱- کاخ چهلستون یکی از کاخ‌های صفویان در اصفهان است. سقف این تالار بر بیست ستون استوار شده است و جلوی آن یک استخر بزرگ وجود دارد. در تالار اصلی آن نقاشی‌های زیبایی به چشم می‌خورد. چرا با اینکه این کاخ بیست ستون دارد به آن چهلستون می‌گویند؟



۲- نقاشان روی گنبد مساجد و مینیاتورهای داخل کاخ‌ها، بیشتر چه نقش‌هایی کشیده‌اند؟

۳- شهر اصفهان پل‌های مشهوری دارد که در زمان صفویه ساخته شده است. پرس وجو کنید و نام آنها را بنویسید.
اگر توانستید عکس یکی از پل‌ها را هم در این محل بچسبانید.

سفرنامه

این دو صفحه از دو سفرنامه برداشته شده است. آنها را بخوانید و مقایسه کنید. نکات مشترک و متفاوت آنها را بنویسید.



ب

... زیبایی شهر اصفهان به خصوص در کاخ‌های
باشکوه بی‌شمار، ساختمان‌های مجلل و فرح‌افزا،
کاروان‌سراهای وسیع، بازارهای بسیار زیبا،
جدول‌های آب و نهرها و خیابان‌هایی است که در دو
طرف آراسته به درخت چنار است در صورتی که
کوی و برزن‌های دیگر آن به‌طور کلی بسیار تنگ و
ناهموار است.

این شهر دارای هشت دروازه است که هیچ‌گاه بسته
نمی‌شود. اگرچه درها پوشیده از آهن است، همیشه
خوب مواظبت و نگهداری می‌شود.

صفحه‌ی ۶۱



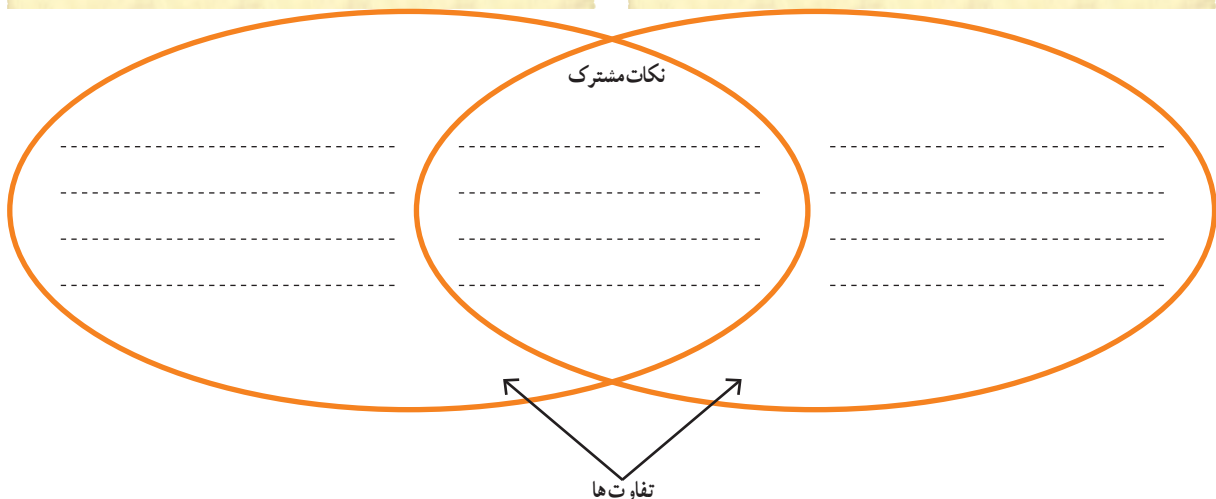
الف

... کوچه‌های اصفهان همه تنگ و کج و معوج و
اغلب تاریک است. تمام شهر اصفهان، گذشته از
میدان بزرگ و چند بازار سرپوشیده، حالت یک ده
را دارد. به شهر شبیه نیست.

چند سال است که شروع کرده‌اند به ساختن بناهای
خوب ...

دیوار اطراف اصفهان از خاک است و چند برج
بسیار بد دارد.

صفحه‌ی ۵۸۲



آیا می‌توانید بگویید کدام یک از این دو مسافر قبل از دیگری به ایران آمده است؟ الف یا ب؟



۷

فصل هفتم

حوزه‌های موضوعی

نظام اجتماعی

فرهنگ و هویت

زمان، تداوم و تغییر

مکان و فضا



اوقات فراغت

آیا تاکنون به برنامه‌ی روزانه‌ی زندگی خودتان فکر کرده‌اید؟
شما چند ساعت در شبانه‌روز می‌خواهید؟ چند ساعت را در مدرسه
می‌گذرانید؟ چه مدت در روز تلویزیون تماشا و یا بازی می‌کنید؟
چه مدت از وقت خودتان را به عبادت و خواندن قرآن اختصاص می‌دهید؟
راستی وقتی از تکالیف درسی و وظایف روزانه فارغ می‌شوید، دوست
دارید چه کارهایی انجام بدهید؟
به نظر شما آیا بهتر نیست که برای فعالیت‌های روزانه و اوقات فراغت
خودمان برنامه‌ریزی داشته باشیم؟ شما برای روزهای تعطیل سال یا تعطیلات
تابستان خود چه برنامه‌ای در نظر گرفته‌اید؟

موضوع این فصل اوقات فراغت و برنامه‌ی زندگی
است. امید است شما با آموختن مطالب این فصل و
انجام دادن فعالیت‌های آن، پاسخ پرسش‌های خود را بیابید.

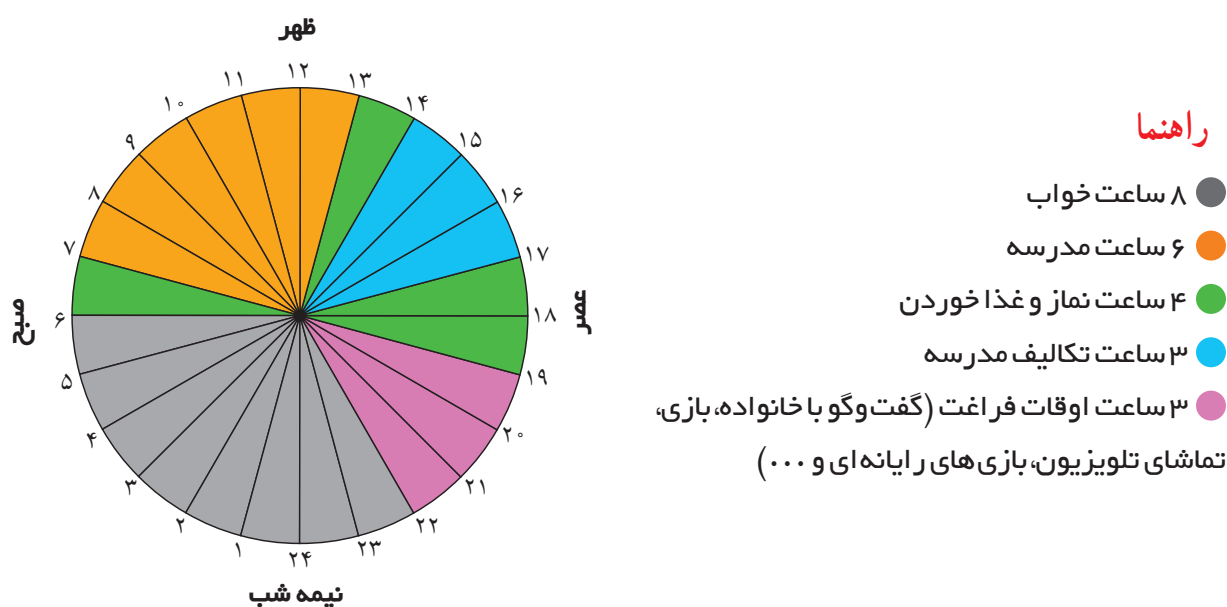
برنامه‌ی روزانه‌ی متعادل

نمودار زندگی روزانه

شاید تا به حال این ضرب‌المثل را شنیده باشید که «وقت طلاست». منظور از این عبارت چیست؟ زندگی انسان، مدت زمانی است که در اختیار دارد. این زمان به ثانیه‌ها و روزها و هفته‌ها و سال‌ها تقسیم شده است که در اصطلاح به آن «وقت» یا «اوقات» می‌گوییم.

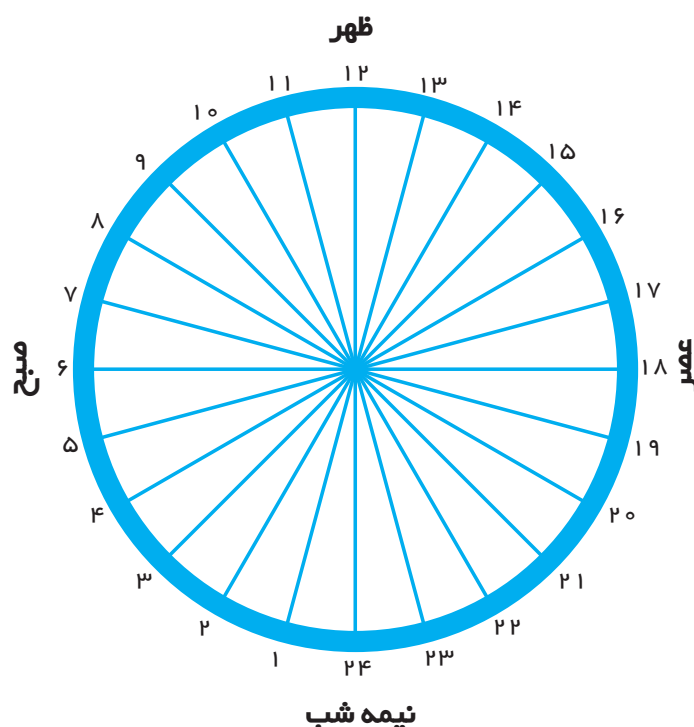
ممکن است شما تا به حال دقت نکرده باشید که در یک شبانه‌روز چند ساعت را به چه کاری اختصاص می‌دهید. اگر درباره‌ی فعالیت‌های یک روز خودمان به دقت فکر کنیم، ممکن است به این نتیجه برسیم که کارهایی را بیش از حد یا کمتر از حد لازم انجام می‌دهیم. یک راه مناسب برای فهم بهتر این موضوع این است که نمودار زندگی روزانه‌ی خودمان را ترسیم کنیم.

به نمودار پایین توجه کنید. این نمودار، فعالیت‌های یک شبانه‌روز امیر را نشان می‌دهد. هر یک از فعالیت‌ها چه مدتی را به خود اختصاص داده است؟ امیر برای چه فعالیت‌هایی زمان بیشتر و برای کدام فعالیت‌ها زمان بسیار کمی صرف می‌کند؟
نظر شما درباره‌ی برنامه‌ی زندگی روزانه‌ی امیر چیست؟



چگونه نمودار زمانی زندگی روزانه را ترسیم کنیم؟

یک شبانه‌روز چند ساعت است؟ یک دایره رسم، و آن را به ۲۴ قسمت مساوی تقسیم کرده‌ایم. هر قسمت نشان‌دهنده‌ی یک ساعت است. فعالیت‌های یک شبانه‌روز خود را در نظر بگیرید؛ برای مثال، شب گذشته چه ساعتی خوابیدید و صبح چه ساعتی از خواب بیدار شدید؟ یعنی چند ساعت خواب؟ به همان میزان، تعداد ساعات را روی نمودار جدا کنید و رنگ بزنید.



فعالیت ۱

نمودار خودتان را با نمودار همکلاسی‌هایتان مقایسه کنید؛ چه شباهت‌ها و تفاوت‌هایی دارد؟

فعالیت ۲

حال که نمودار فعالیت‌های روزانه‌ی خودتان را رسم کردید، بگویید آیا از برنامه‌ی زندگی خودتان راضی هستید یا خیر. اگر قرار باشد نمودار دیگری رسم کنید، کدام قسمت‌های آن را تغییر می‌دهید؟ با راهنمایی معلم این کار را انجام دهید و نمودار جدیدی روی کاربرگ‌ی شماره‌ی ۱۷ رسم کنید.

برنامه‌ی متعادل



در برنامه‌ای متعادل، استراحت و خواب، درس خواندن، عبادت کردن و تفریح و سرگرمی به اندازه‌ی کافی وجود دارد و هر کاری در موقع مناسب انجام می‌شود؛ به عکس در برنامه‌ی نامتعادل به بعضی از بخش‌های زندگی، کمتر یا بیشتر از حد لازم توجه می‌شود.

همه‌ی ما نیاز داریم که از طریق نماز، دعا و خواندن قرآن با خداوند ارتباط برقرار کنیم و باید بخشی از زندگی روزانه‌ی خود را به این کار اختصاص بدهیم. در برنامه‌ای متعادل، استراحت و خواب کافی وجود دارد. دیر خوابیدن و کمبود خواب بر سلامت جسم و روان ما تأثیرات بدی به جای می‌گذارد.

کم خوابی می‌تواند موجب خستگی، بداخلاقی و کندی یادگیری بشود. در برنامه‌ای متعادل، ساعات درس خواندن و ساعات کار کردن نیز باید به اندازه‌ی کافی باشد؛ یعنی فرد نه آن قدر تنبلی کند که درس یا کار را فراموش یا به آنها کم توجهی کند و نه آن قدر در درس و کار غرق شود که هیچ وقتی برای تفریح یا ارتباط با خانواده و دوستان و خویشان نداشته باشد. تفریح و سرگرمی نیز برای انسان لازم است؛ چون باعث می‌شود دوباره برای فعالیت‌های دیگر انرژی و نشاط پیدا کنیم.

فعالیت ۳

در گروه، گفت‌وگو کنید و نتیجه را در کلاس بگویید.

الف - به نظر شما ارتباط با خداوند از طریق نماز، دعا و تلاوت قرآن چه تأثیری بر زندگی روزانه‌ی ما دارد؟

ب - به نظر شما چه کارهایی هدر دادن وقت است؟ برای چه کارهایی دوست دارید وقت بیشتری بگذارید؟ در چند سطر بنویسید و در کلاس بخوانید.

فعالیت ۴

حضرت علی بن ابیطالب (ع) فرموده‌اند: «از دست دادن فرصت موجب پشیمانی و اندوه است»
الف - منظور از این حدیث چیست؟ در کلاس گفت‌وگو کنید. ب - این سخن امام (ع) را با خط خوش بنویسید و آن را با نقش‌های زیبا تزئین، و به دیوار کلاس یا خانه تان نصب کنید.

برنامه‌ریزی برای اوقات فراغت

انسان‌ها، اغلب اوقات خود را برای کار یا تحصیل یا وظایف و تکالیفی که بر عهده دارند، صرف می‌کنند. به اوقاتی که فرد از این کارها فارغ یا آسوده است، اوقات فراغت می‌گویند. فراغت زمانی است که پس از کار یا تکالیف درسی، فرصت پیدا می‌کنیم تا به فعالیت‌های دلخواه خودمان مانند کارهای هنری، ورزش و بازی و سرگرمی‌های مفید یا آموختن مهارت‌های مختلف بپردازیم. برای دانش‌آموزان، روزهای تعطیل و همچنین تعطیلات تابستان، فرصت خوبی برای این فعالیت‌هاست.

فعالیت ۱

الف - روی یک کاغذ، کارها و فعالیت‌هایی را که تاکنون برای پر کردن روزهای تعطیل یا تعطیلات تابستان انجام داده‌اید، فهرست کنید.

ب - اکنون برگه‌ی خودتان را در گروه با پاسخ‌های دوستانتان مقایسه کنید؛ چه تفاوت‌ها و شباهت‌هایی دارد؟ بیان کنید.

راه‌های استفاده از اوقات فراغت



برای استفاده از اوقات فراغت چه راه‌هایی وجود دارد؟ چه برنامه‌هایی می‌توانیم داشته باشیم؟



مطالعه برای انجام فعالیت

برای استفاده از اوقات فراغت باید برنامه‌ریزی مناسب داشته باشیم تا بتوانیم بهترین و مفیدترین استفاده را از این اوقات ببریم. راه‌ها و شیوه‌های گوناگونی برای گذراندن اوقات فراغت وجود دارد. به نمونه‌ها توجه کنید:

اخلاق و معنویت

شرکت در نماز جماعت، مشارکت در امور خیریه و کمک به همنوعان، کلاس‌های انس باقرآن، حضور در مجالس و کلاس‌های آموزشی دینی، شرکت در مراسم مذهبی و هیئت‌های مذهبی



مطالعه

مطالعه‌ی کتاب‌های سودمند، مجلات و روزنامه‌ها



مشارکت‌های اجتماعی

دید و بازدید اقوام و دوستان، حضور در انجمن‌های مختلف و قبول مسئولیت‌های اجتماعی مانند بسیج، سازمان جوانان هلال احمر و ...



هنر و سرگرمی

انجام دادن فعالیت‌های هنری مانند طراحی، نقاشی، هنرهای دستی، سفالگری، نمایش، نویسندگی و موسیقی شرکت در کلاس‌های آموزشی هنری، بازدید از نمایشگاه‌های هنری، پرورش گل و گیاه، رفتن به تئاتر و سینما



سیر و سفر

زیارت مکان‌های مقدس، حرم اهل بیت (ع) و امامزاده‌ها، سفر به شهرها و روستاها، بازدید از موزه‌ها و بناهای تاریخی، رفتن به بوستان‌ها و گردشگاه‌ها، شرکت در اردوهای تفریحی و سیاحتی.



مهارت‌آموزی

شرکت در کلاس‌های مهارت‌آموزی (مانند خیاطی، آشپزی، زبان خارجی، رایانه، تایپ و ...)



بازی و ورزش

بازی‌های دوستانه و محلی، شرکت در کلاس‌های ورزشی و بدن‌سازی، حضور در ورزشگاه‌ها و تماشای مسابقات، بازی‌های فکری و بازی‌های رایانه‌ای





● شما می‌توانید برای اوقات فراغت خود، فردی یا گروهی برنامه‌ریزی کنید؛ مثلاً بعضی از کارها مانند مطالعه یا حل کردن جدول، ساختن کاردستی، پرورش حیوانات یا جمع‌آوری مجموعه‌های سنگ، تمبر و نظایر آن را ممکن است به تنهایی انجام دهید؛ اما برای رفتن به سفرهای زیارتی یا دیدار اقوام یا رفتن به گردشگاه‌ها با خانواده و دوستانتان همراهی کنید.

● برای پر کردن اوقات فراغت، علاوه بر علاقه‌مندی‌های خودمان، شرایط و امکانات را هم در نظر بگیریم. ممکن است در محل زندگی ما برخی از امکانات نباشد یا پول کافی برای دسترسی به آنها نداشته باشیم. در این صورت بهتر است از روش‌های دیگری استفاده کنیم که با امکانات و هزینه‌ی کمتری قابل اجرا است.

فعالیت ۲

با راهنمایی معلم، یک جدول هفتگی برای زمان حال یا ایام تابستان طراحی کنید و در جلوی هر یک از روزهای هفته، برنامه‌های خود را بنویسید و آن را به معلم نشان بدهید.

فعالیت ۳

فکر کنید و چند شیوه‌ی خوب و جالب برای پر کردن اوقات فراغت پیشنهاد کنید که کمترین هزینه و امکانات را نیاز داشته باشد.

بازی‌های قدیمی

با گذشت زمان به تدریج شیوه‌های گذران اوقات فراغت تغییر کرده است. در هر دوره‌ی تاریخی، گروه‌های مختلف مردم، شیوه‌های متفاوتی برای اوقات فراغت خود داشته‌اند. برای مثال در گذشته‌ی نه‌چندان دور، مردم با شرکت در مراسم و جشن‌ها، شرکت در مسابقات زورآزمایی و تیراندازی، مجالس نقالی و بازی‌های گروهی خود را سرگرم و اوقات فراغت خود را پر می‌کرده‌اند. بعضی از این بازی‌ها و سرگرمی‌ها تا امروز بین مردم باقی مانده است.



چوگان بازی قدیم



شهر بازی و وسایل متحرک برقی



ما روی زمین، مستطیلی رسم می کردیم و آن را شش قسمت می کردیم. در انتهای شش قسمت یک نیم دایره می کشیدیم که نشانه‌ی جهنم بود. بعد، از خانه‌ی یک شروع می کردیم و سنگ را در آن می انداختیم و با یک پا به صورت لی لی، سنگ را از همه‌ی خانه‌ها عبور می دادیم. بعد از پایان همه‌ی خانه‌ها باید چشم‌هایمان را می بستیم و بدون پا گذاشتن روی خط و جهنم از همه‌ی خانه‌ها عبور می کردیم. هر وقت سنگ روی خط قرار می گرفت یا از خانه خارج می شد، نوبت فرد دیگر بود که بازی را ادامه بدهد.

مادر مریم درباره‌ی یکی از بازی‌های دوره‌ی نوجوانی خودش توضیح می دهد.

آیاشما تاکنون نام بازی‌هایی چون قایم باشک (قایم موشک)، نون بیار کباب بیر، عموزنجیر یاف، الک و دولک، بادبادک بازی و طناب بازی را شنیده‌اید یا در این بازی‌ها شرکت کرده‌اید؟ این بازی‌ها از گذشته تاکنون در بیشتر نواحی ایران رایج بوده است. در گذشته، بچه‌ها بیشتر بازی‌های گروهی انجام می دادند. این بازی‌ها اغلب جنبه‌ی حرکتی یا قدرتی داشتند. امروزه بازی‌های رایانه‌ای بین بچه‌ها رواج پیدا کرده است.



فعالیت ۴



به نظر شما هنگام انجام بازی‌های رایانه‌ای با توجه به گروه سنی به چه نکاتی باید توجه کرد؟ به ترتیب اهمیت آن را شماره گذاری کنید.

میزان بازی: انتخاب بازی:
ابزار و وسیله‌ی بازی: تهیه و خرید بازی:

فعالیت ۵

با پدر بزرگ یا مادر بزرگ یا یک نفر از افراد سالخورده‌ی فامیل مصاحبه کنید و از او بخواهید درباره‌ی چگونگی گذراندن اوقات فراغت در گذشته بر ای شما صحبت کند. گفته‌های او را بنویسید و به کلاس بیاورید.

فعالیت ۶

نام چند بازی محلی را از بزرگ‌ترها پرس وجو کنید و چگونگی انجام دادن آن را در کلاس تعریف کنید و نمایش دهید.

مکان‌های عمومی گذران اوقات فراغت

همه‌ی فعالیت‌های مربوط به اوقات فراغت در منزل انجام نمی‌شود. ما برای بسیاری از فعالیت‌ها از مکان‌های عمومی استفاده می‌کنیم.

- کتابخانه‌های عمومی ○ کتابخانه‌های مدارس ○ سالن‌های تئاتر و سینما ○ نمایشگاه‌ها
- بوستان‌ها (پارک‌ها) ○ مجموعه‌های شهرسازی ○ اردوگاه‌ها ○ مجتمع‌های فرهنگی – هنری
- باشگاه‌ها و سالن‌های ورزشی ○ موزه‌ها (گنجینه‌ها) ○ فرهنگسراها ○ نگارخانه‌ها
- مساجد (پایگاه‌های مقاومت بسیج، کتابخانه‌ی مساجد، کلاس‌های آموزشی، کانون‌های فرهنگی – هنری)



کانون پرورش فکری کودکان و نوجوانان



فرهنگسرای خاوران

فعالیت ۷

به چند گروه تقسیم شوید و همفکری کنید. در محل زندگی شما چه امکانات عمومی برای گذران اوقات فراغت وجود دارد؟ پرس‌وجو کنید و نام و نشانی آنها را بنویسید.

فعالیت ۸

فرض کنید قرار است مسئولان شهری یا روستایی در محل زندگی شما امکاناتی برای گذراندن اوقات فراغت نوجوانان فراهم کنند و از شما خواسته‌اند اظهار نظر کنید. چه پیشنهادهایی می‌دهید؟

رفتارهای مناسب در مکان‌های عمومی گذران اوقات فراغت

مکان‌های عمومی گذران اوقات فراغت به همه‌ی مردم متعلق است. وظیفه‌ی ما است که در حفاظت از این مکان‌ها و وسایل و امکانات داخل آنها بکوشیم.

هر یک از مکان‌های گذراندن اوقات فراغت، مقررات مخصوص به خود را دارد. در این مکان‌ها چه آداب و مقرراتی را رعایت می‌کنیم؟



در بوستان‌ها (پارک‌ها)

- روی چمن‌ها راه نرویم و فقط از پیاده‌روها استفاده کنیم.
- گل‌ها را نچینیم.
- زباله‌ها را در سطل‌های مخصوص بریزیم.
- بدون اجازه‌ی دیگران از آنها عکس نگیریم.
- ... و

- برخی از مؤسّسات و سازمان‌هایی که در امور اوقات فراغت فعالیت می‌کنند:
- کانون پرورش فکری کودکان و نوجوانان
 - سازمان دانش‌آموزی
 - سازمان فرهنگی هنری شهرداری
 - وزارت ورزش و جوانان
 - سازمان آموزش فنی و حرفه‌ای
 - وزارت فرهنگ و ارشاد اسلامی
 - ... و



در ورزشگاه‌ها

- برای تهیه‌ی بلیت، نوبت در صف را رعایت کنیم.
- از مسخره کردن یک تیم یا هواداران آن خودداری، و فقط تیم مورد علاقه‌مان را تشویق کنیم.
- از اموال عمومی حفاظت کنیم.
- با نظم و آرامش به سالن‌ها وارد یا از آنجا خارج شویم.
- با انتظامات یا کارکنان ورزشگاه همکاری کنیم.
- ... و

فعالیت ۹

به‌طور گروهی، کاربرگ‌های شماره‌ی ۱۸ را درباره‌ی آداب و مقررات برخی مکان‌های عمومی‌گذران اوقات فراغت، کامل کنید.

فعالیت ۱۰

اگر به اینترنت دسترسی دارید با راهنمایی و نظارت معلّم به پایگاه اینترنتی یکی از مؤسّسات و سازمان‌های جدول بالا بروید و ببینید آیا می‌توانید برنامه‌های قابل استفاده برای خودتان پیدا کنید.

اکنون که این فصل را به پایان رساندید، فکر کنید و بگویید درباره‌ی برنامه‌ی متعادل یا اوقات فراغت چه سؤال‌های دیگری دارید.

نمودار زندگی روزانه

نمودار فعالیت‌های یک شبانه‌روز خودتان را ترسیم و رنگ‌آمیزی کنید. ابتدا دایره را به ۲۴ قسمت تقسیم کنید و از ساعت ۱ تا ۲۴ را کنار آن بنویسید. سپس با توجه به رنگ‌هایی که به کار می‌برید، راهنمای مناسب برای نمودار طرّاحی کنید.

۱۲ ظهر

۶ صبح

۱۸ عصر

۲۴ نیمه شب

☐
☐
☐

راهنما

خواب

.....

.....

مقرّرات مکان‌های گذران اوقات فراغت

به‌طور گروهی همفکری کنید و چند مورد از مقرّرات استفاده از این مکان‌ها را بنویسید.

سالن‌های تئاتر و نمایش و سینما

..... ●

..... ●

..... ●

..... ●

..... ●

..... ●

..... ●

..... ●

..... ●

..... ●

کتابخانه‌ها و کانون‌های فرهنگی-هنری

..... ●

..... ●

..... ●

..... ●

..... ●

..... ●

..... ●

..... ●

..... ●

..... ●

موزه‌ها و گنجینه‌ها

..... ●

..... ●

..... ●

..... ●

..... ●

..... ●

..... ●

..... ●

..... ●

..... ●

پوشاک ما



فصل هشتم

حوزه‌های موضوعی

منابع و فعالیت‌های

اقتصادی

فرهنگ و هویت

زمان، تداوم، تغییر

نظام اجتماعی

مکان و فضا



آیا شما برای رفتن به مدرسه لباس مخصوصی به تن می‌کنید؟
پوشاک یا لباس مدرسه‌ای شما چه رنگی است و چه مشخصاتی دارد؟
آیا گروه‌های اجتماعی دیگری را می‌شناسید که لباس مخصوصی داشته باشند؟
وقتی با پدر و مادر و یا دیگر اعضای خانواده برای خرید لباس به فروشگاه می‌روید، چگونه لباس مورد نظر خودتان را انتخاب می‌کنید؟
راستی پوشاک مورد نیاز ما چگونه تولید می‌شود و به دست ما می‌رسد؟

موضوع این فصل پوشاک است. امید است شما با آموختن مطالب این فصل و انجام دادن فعالیت‌های آن، پاسخ پرسش‌های خودتان را پیدا کنید.

انواع لباس

گروه‌ها، فعالیت‌های اجتماعی و انواع لباس

به این عکس‌ها توجه کنید. هریک از این لباس‌ها، کدام گروه اجتماعی یا شغلی یا کدام فعالیت‌ها یا مراسم را نشان می‌دهد؟

گروه اجتماعی



گروه شغلی



آیا تاکنون دقت کرده‌اید که مادر موقعیت‌های مختلف، لباس‌های مختلفی به تن می‌کنیم؟ برای مثال لباس منزل ما با لباس مدرسه و با لباسی که در مهمانی می‌پوشیم، فرق دارد. وقتی می‌خواهیم ورزش کنیم از لباس‌های ورزشی یا لباس‌های راحت استفاده می‌کنیم. بعضی از لباس‌ها را نیز در مراسم مختلف اجتماعی می‌پوشیم؛ برای مثال در مراسم عزاداری برای حضرت اباعبدالله الحسین (ع) لباس سیاه بر تن می‌کنیم.

گروه‌های مختلف اجتماعی و شغلی نیز لباس‌های بخصوصی به تن می‌کنند. لباس‌های این گروه‌ها بسته به کار و نقش آنها در اجتماع، متفاوت است. ما می‌توانیم از روی لباس این گروه‌ها پی ببریم که شغل و حرفه‌ی این افراد چیست یا چه خدمتی به اجتماع می‌کنند.

همفکری کنید و به جز مواردی که در تصویرها می بینید، سه گروه اجتماعی یا شغلی دیگر نام ببرید که لباس مخصوصی به تن می کنند و بگویید لباس های هر گروه چه ویژگی هایی دارد.

آب و هوا و انواع لباس

در فصل های مختلف سال نیز لباس های ما متفاوت است. در زمستان بیشتر چه نوع لباس هایی می پوشیم؟ پوشاک ما در تابستان و زمستان چه تفاوت هایی با هم دارد؟ چرا در زمستان بیشتر از رنگ های تیره و در تابستان از رنگ های روشن استفاده می کنیم؟ پوشاک مردم در نواحی مختلف آب و هوایی از نظر شکل، جنس و رنگ با هم فرق می کند. در سال های گذشته خواندید که در کشور عزیز و پهناورمان ایران، تنوع آب و هوایی وجود دارد؛ یعنی نوع آب و هوا در همه جایکسان نیست. در بعضی جاها آب و هوا گرم و خشک، در بعضی جاها سرد، در بعضی مکان ها گرم و مرطوب و در بعضی نواحی معتدل است. به این عکس ها توجه کنید. آیا می توانید با توجه به نوع پوشاک، حدس بزنید که آب و هوای ناحیه ای که این افراد در آن زندگی می کنند، چگونه است؟





▲ در کرانه‌ی دریای خزر، زنان قاسم‌آبادی، دامن‌های بلند می‌پوشند که تا روی کفش می‌افتد و با نوارهای رنگی تزیین شده است. پهنای دامن گاه بیش از ده متر است.



▲ لباس مرد گُرد



▲ مجسمه‌ای با لباس محلی در موزه‌ی مردم‌شناسی

لباس‌های محلی

در کشور پهناور ما اقوام مختلفی مانند فارس، ترک، لر، گیلک، کرد، بلوچ و ... زندگی می‌کنند. هریک از این اقوام لباس‌های مخصوص به خود دارند.

لباس‌های محلی اقوام ایرانی بسیار زیبا است. البته این لباس‌ها در گذشته بیشتر مورد استفاده قرار می‌گرفته است به‌طوری که در قدیم هر کس از روی شکل لباس فرد دیگر می‌توانست حدس بزند که او اهل کدام منطقه‌ی ایران است. امروزه لباس‌های محلی اغلب در مراسم یا جشن‌های خاص پوشیده می‌شوند. این عکس‌ها، چند نمونه از لباس‌های محلی اقوام مختلف را نشان می‌دهد.

اگر روزی سری به یک «موزه‌ی مردم‌شناسی» بزنید در آنجا می‌توانید انواع لباس‌های محلی را مشاهده کنید.



▲ لباس مرد بلوچ



▲ لباس محلی مرد ترکمن



فعالیت ۲

شما در کدام استان زندگی می‌کنید؟ از بزرگ‌ترها درباره‌ی لباس محلی استان خودتان پرس و جو کنید و بگویید لباس مردان و زنان چه ویژگی‌هایی دارد؟ اگر لباس محلی استان خود یا عکس آن را دارید به کلاس بیاورید.

فعالیت ۳

به نظر شما چرا لباس‌های محلی را در موزه‌ی مردم‌شناسی حفظ و نگهداری می‌کنند؟

پوشاک ایرانیان در گذشته

در دوره‌های مختلف تاریخی، پوشاک مردم تغییراتی کرده است. البته در زمان‌های گذشته نیز گروه‌های مختلف اجتماعی مانند شاهزادگان، روحانیون، نظامیان و ... لباس‌های مخصوص به خود می‌پوشیدند.

این عکس‌ها چند نمونه لباس را در دوران‌های مختلف تاریخی نشان می‌دهد. برخی از جلوه‌های لباس‌ها طی زمان همچنان ثابت مانده، و برخی از آنها تغییراتی کرده‌اند.

برای مثال اگر در تصاویر دوره‌های مختلف تاریخی دقت کنیم، می‌بینیم که مردان همواره سرپوش داشته‌اند و این سرپوش انواع کلاه، عمامه، دستار و مانند آن بوده است.



مجسمه‌ی مرد اشکانی با کلاه و شلوار گشاد تاروی پا



طرحی از پیراهن‌های زنان در دوره‌ی اشکانی



لباس مردان در دوره‌ی هخامنشی



لباس زنان در دوره‌ی قاجار



لباس مردان در دوره‌ی صفویه



تصویر مردی با کلاه نادری

فعالیت ۴

کاربرگ‌های شماره‌ی ۱۹ «بررسی لباس‌های تاریخی» را در منزل انجام دهید.

لباس از تولید تا مصرف



تولید لباس در گذشته و حال

در گذشته‌ی نه چندان دور، بیشتر مردم برای تهیه‌ی لباس به خیاط مراجعه می‌کردند و خیاط نیز اندازه‌ی آنها را می‌گرفت و با پارچه‌ای که مشتری‌ها به او می‌دادند و به سلیقه‌ی آنها، لباسی برایشان می‌دوخت. اگرچه امروزه نیز در هر شهری، خیاط‌هایی هستند که به سفارش افراد لباس می‌دوزند و مزدی دریافت می‌کنند، بیشتر مردم، پوشاک مورد نیاز خود را به صورت آماده از فروشگاه‌های مختلف می‌خرند.

با گذشت زمان و افزایش جمعیت، چون دیگر یک یا چند خیاط نمی‌توانستند نیازهای تعداد زیادی از مردم را برآورده کنند، کم‌کم کارگاه‌های تولید لباس به وجود آمد. در این کارگاه‌ها انواع لباس به تعداد زیاد تولید می‌شود. به تولید یک کالا به یک شکل و به تعداد زیاد، «تولید انبوه» می‌گویند. امروزه کارگاه‌های تولید لباس، تولید انبوه دارند. به عکس‌های صفحه‌ی بعد توجه کنید.

فعالیت ۱

فکر کنید و چند کالا یا محصول دیگر نام ببرید که در گذشته به تعداد کم و توسط یک نفر تولید می‌شد؛ اما امروزه به صورت انبوه در کارگاه‌ها و کارخانه‌ها تولید می‌شود.

یک کارگاه تولیدی برای دوختن لباس به پارچه نیاز دارد. پارچه از نخ درست می‌شود. نخ ممکن است طبیعی یا مصنوعی باشد. پس از تولید نخ در کارخانه‌های نخ‌ریسی، نخ‌ها به کارخانه‌ی پارچه‌بافی (نساجی) فرستاده می‌شود. در ایران، تعداد زیادی کارخانه‌ی نساجی وجود دارد. بخش دیگری از پارچه‌های مورد نیاز از خارج از کشور وارد می‌شود.



این همه لباس چگونه تولید می‌شود و چگونه به دست ما می‌رسد؟



صاحبان کارگاه‌های تولید لباس، پارچه را از «عمده‌فروشان» خریداری می‌کنند. در هر کارگاه تولیدی لباس، تعدادی افراد مشغول به کار هستند. تعداد کارکنان کارگاه‌های کوچک کمتر است اما کارگاه‌های بزرگ ممکن است ده‌ها نفر نیروی کار داشته باشند. در این کارگاه‌ها هر یک از افراد مهارت خاصی دارند و بخشی از کار تولید را انجام می‌دهند. «برش‌کار» از روی الگوهایی که دارد، پارچه‌ها را می‌برد. الگو در اندازه‌های مختلف تهیه می‌شود. اندازه‌ها معمولاً با شماره مشخص شده است. اندازه‌های کوچک، بزرگ و متوسط برای افراد با قد و اندازه‌های مختلف به کار می‌رود.

سپس هر یک از خیاط‌هایی که در کارگاه هستند، یک بخش از لباس را می‌دوزند؛ برای مثال یک نفر فقط آستین می‌دوزد و لباس‌ها را به دیگری می‌دهد. نفر بعدی یقه‌ها را متصل می‌کند. فرد دیگری دگمه و زیپ به لباس می‌دوزد.




۳



۲



۱



۶



۵



۴

در پایان، یک نفر درزهای لباس و جای دوخت‌ها را اتو می‌کند.
بدین ترتیب در کارگاه همه با یکدیگر همکاری می‌کنند و هر بخش، قسمتی از کار تولید را انجام می‌دهد تا کالا به صورت نهایی آماده شود. به مجموعه‌ی این بخش‌ها «خط تولید» گفته می‌شود.



بدین ترتیب در یک کارگاه تولیدی ممکن است روزانه ده‌ها دست لباس دوخته شود.
سپس صاحب کارگاه لباس‌های دوخته شده را به فروشگاه‌ها و مغازه‌ها می‌فروشد و صاحبان فروشگاه‌ها نیز دوباره به کارگاه تولیدی سفارش دوخت می‌دهند.

فعالیت ۲

مغازه‌دارها، لباس‌ها را با مبلغی بیشتر از آنچه از کارگاه تولیدی خریده‌اند به مردم می‌فروشند؛ چرا؟

فعالیت ۳

فعالیت کاربرگ‌های شماره‌ی ۲۰ را انجام دهید.

فعالیت ۴

به همراه معلم و همکلاسی‌ها از یک کارگاه تولید پوشاک بازدید کنید و گزارش‌های این باره بنویسید.

خرید لباس



چگونه لباس مناسب را
انتخاب کنیم و بخریم؟



لباسی که انتخاب می‌کنیم، باید با
باورهای دینی و ارزش‌های اجتماعی ما تناسب داشته باشد.

همان‌طور که مادر موقعیت‌های مختلف مانند منزل، مدرسه، محل کار، ورزش و مراسم گوناگون، لباس‌های مختلف می‌پوشیم، موقع حضور افراد نامحرم نیز باید لباس مناسب به تن داشته باشیم. لباس باید پوشش مناسب را برای زن یا مرد مسلمان فراهم کند. رعایت حجاب و عفاف، موجب وقار و متانت شخص می‌شود.

فعالیت ۵

بار اهنمایی معلم درباره‌ی موضوع حجاب و پوشش مناسب در کلاس گفت‌وگو کنید.

لباسی را که انتخاب می‌کنیم، باید
کیفیت خوب و قیمت مناسب داشته باشد.

هنگام خرید باید لباسی را انتخاب کنیم که هم جنس آن خوب باشد و هم از نظر قیمت مناسب باشد؛ یعنی با بودجه‌ی ما تناسب داشته باشد. همان‌طور که در سال چهارم خواندید بودجه یعنی درآمد و هزینه. بنابراین باید ببینیم مقدار پولی که می‌توانیم برای انجام یک کار یا خرید یک چیز پردازیم چقدر است. هنگام خرید لباس باید هم پرس و جو و قیمت‌ها را با هم مقایسه کنیم و هم ببینیم خانواده چقدر می‌تواند برای لباس مورد نظر ما پول پردازد. برخی از خانواده‌ها خریده‌های خود را به وسیله‌ی اینترنت انجام می‌دهند، خرید پوشاک از فروشگاه‌های اینترنتی دقت زیادی لازم دارد. در این مورد در کلاس گفت‌وگو کنید. نظر شما چیست؟



بعضی وقت‌ها هیچ ضرورتی ندارد که لباس نو بخریم. اگر لباس‌های قدیمی هنوز قابل استفاده است چه اشکالی دارد که آنها را بپوشیم؟ ما می‌توانیم حتی لباس‌های قدیمی را تعمیر کنیم. من امسال رویوش سال گذشته‌ام را پوشیدم و فقط دگمه‌هایش را عوض کردم.



من ترجیح می‌دهم لباس‌های ایرانی بپوشم؛ یعنی پوشاکی که تولیدکنندگان کشور ما آن را تهیه کرده‌اند.

برای خرید لباس دلخواه هم مانند چیزهای دیگر می‌توانیم پول توجیبی مان را پس‌انداز کنیم.



من فکر می‌کنم آراستگی و تمیز بودن لباس مهم است نه پیروی از مد. ضمناً ما باید در پاکیزگی و شستن لباس‌هایمان با خانواده همکاری کنیم. من هر شب جوراب‌هایم را می‌شویم.



فعالیت ۶

در کلاس گفت‌وگو کنید. بعضی بچه‌ها بدون در نظر گرفتن میزان درآمد خانواده، تقاضای لباس‌های جدید یا گران قیمت می‌کنند. آیا به نظر شما این کار درست است؟ چگونه باید تصمیم‌گیری کرد؟

فعالیت ۷

اگر هر یک از کارهای زیر را تاکنون انجام داده‌اید در کلاس تعریف کنید.

- ★ پس‌انداز برای خرید لباس
- ★ همکاری در شست‌وشوی لباس‌هایمان
- ★ استفاده از لباس‌های قدیمی و نخریدن لباس جدید
- ★ خرید لباس از فروشگاه‌های اینترنتی


فعالیت ۸

فرض کنید مبلغی را پس‌انداز کرده‌اید تا با آن پوشاک بخرید؛ با این پول چه می‌خرید و در موقع خرید به چه نکاتی توجه می‌کنید؟ پاسخ را هفته‌ی آینده به کلاس بیاورید.


اکنون که این فصل را به پایان رساندید، روی یک کاغذ بنویسید چه سؤال‌های دیگری درباره‌ی پوشاک دارید؟

انواع لباس در دوره‌های تاریخی


از کتاب‌های تاریخ سال‌های گذشته یا کتاب‌ها و مجلات دیگر، چند تصویر از پوشاک مردم ایران مربوط به دوره‌های تاریخی انتخاب کنید و در این صفحه بچسبانید. چه ویژگی‌هایی در لباس‌های هر دوره مشاهده می‌کنید؟ زیر هر تصویر توضیح کوتاهی بنویسید.




.....
.....



.....
.....



.....
.....



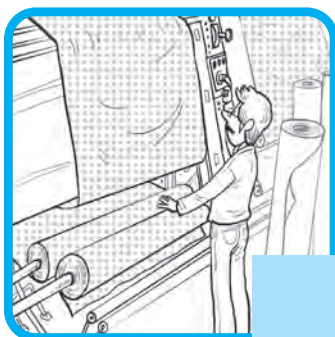
.....
.....

از تولید تا مصرف

۱- مراحل تولید تا مصرف پوشاک را با شماره‌گذاری روی تصاویر نشان دهید.



۱



۲



۲- هر یک از عبارت‌های زیر را به کلمه‌ی مناسب وصل کنید.

خط تولید

★ توان مالی یا مقدار پولی که می‌توانیم برای تهیه‌ی یک چیز بپردازیم.

عمده فروش

★ به تولید کالاها به مقدار زیاد و به صورت یک شکل و همسان گفته می‌شود.

تولید انبوه

★ به همکاری افراد مختلف برای تولید یک کالا گفته می‌شود به طوری که

هر کدام از آنها مهارت تولید یک بخش از کالا را دارند.

بودجه

★ فروشندگانی که کالاها را به تعداد زیاد و یکجا به مغازه‌داران دیگر می‌فروشند.

دریاهای ایران

۹

فصل نهم

حوزه‌های موضوعی

مکان و فضا

منابع و فعالیت‌های

اقتصادی

فرهنگ و هویت



بخشی از جمعیت کشور ما در سواحل دریا زندگی می‌کنند. آیا شما جزء این گروه هستید؟ شاید هم شما در کنار دریا ساکن نباشید؛ اما به کنار دریا سفر کرده باشید یا بخواهید در آینده سفر کنید. خداوند به کشور ما ثروت‌ها و نعمت‌های زیادی بخشیده است. یکی از این ثروت‌ها دسترسی به دریا است. ایران از شمال و جنوب به دریا راه دارد. راستی چرا دریا برای هر کشور، ثروت به حساب می‌آید؟ دریاهای ایران چه ویژگی‌هایی دارند و ما از این منبع ثروت چه استفاده‌هایی می‌کنیم؟

موضوع این فصل دریاهای ایران است. امید است شما با آموختن مطالب و انجام دادن فعالیت‌ها پاسخ پرسش‌های خود را پیدا کنید.

ویژگی های دریا های ایران



در سال های گذشته آموختید که ایران از شمال و جنوب به دریاها دسترسی دارد.

دریاها گودال های پر از آبی هستند که به اقیانوس ها راه دارند. اقیانوس ها پهنه های بسیار بزرگ آبی کره ی زمین هستند. با کمک معلّم، یک کره ی جغرافیایی را به کلاس بیاورید و دریاها و اقیانوس ها را روی آن پیدا کنید و نشان دهید.



دریای خزر



دریای خزر در واقع یک دریاچه است؛ اما به آن دریا می‌گویند آیا می‌دانید چرا؟

دریای خزر در طول تاریخ، نام‌های گوناگونی مانند دریای گیلان، دریای مازندران، دریای قزوین و دریای گرگان ... داشته است. در نقشه‌های خارجی این دریا کاسپین نامیده می‌شود.

عمق دریای خزر در نواحی شمالی آن بسیار کم است به طوری که در بعضی نواحی به کمتر از ۱۰ متر می‌رسد اما در نواحی جنوبی نزدیک به ایران، عمق آن بیش از ۱۰۰۰ متر است. میزان شوری آب دریای خزر از دیگر دریاها و اقیانوس‌ها کمتر است. رودهایی که از

ایران به این دریا می‌ریزند، جلگه‌ی حاصلخیزی را در طول ساحل دریا به وجود آورده‌اند. به نقشه توجه کنید و پاسخ دهید:

— چند رود که به دریای خزر می‌ریزند، نام ببرید.

— دریای خزر، ایران را به کدام کشورها مربوط می‌کند؟



خلیج فارس



خور موسی

به پیشروی آب دریاها در خشکی خلیج می‌گویند. به نقشه دقت کنید؛ خلیج فارس، پیشروی آب دریای عمان و اقیانوس هند در خشکی‌های ایران و عربستان است. ساحل خلیج فارس از دهانه‌ی اروندرود تا بندرعباس امتداد یافته است. در کناره‌های خلیج فارس بریدگی‌های عمیقی وجود دارد که ساکنان اطراف به آنها خور می‌گویند. خورها برای ایجاد بندر و پهلو گرفتن کشتی‌ها بسیار مناسب هستند.

شوری آب خلیج فارس از دریای عمان بیشتر است؛ اما عمق خلیج فارس از دریای عمان بسیار کمتر است و به‌طور متوسط ۳۰ متر عمق دارد. در خلیج فارس جزیره‌های بزرگ و کوچکی سر از آب بیرون آورده‌اند که بسیاری از آنها متعلق به ایران هستند.

دریای عمان

ساحل دریای عمان از بندرعباس تا بندر گواتر امتداد دارد. دریای عمان به اقیانوس هند راه دارد. عمق این دریا به سمت اقیانوس بیشتر می‌شود و در اطراف چابهار به حدود ۳۰۰۰ متر می‌رسد. خلیج فارس از طریق یک آبراهه به دریای عمان وصل می‌شود.

- به آبراهه‌ای که دو دریا را به هم وصل می‌کند، تنگه می‌گویند.
- به نقشه توجه کنید و پاسخ دهید :
- تنگه‌ای که خلیج فارس را به دریای عمان مربوط می‌کند؟
- چند رود که به دریاها می‌ریزند؟



- جزیره‌های کشور ما در خلیج فارس و بزرگ‌ترین جزیره را نشان دهید و نام ببرید.
- خلیج فارس و دریای عمان، کشور ما را به همسایگان جنوبی مربوط می‌کنند.
- ایران از طریق خلیج فارس با کدام کشورها همسایه است؟
- فعالیت ۲ را انجام دهید.

مطالعه برای انجام فعالیت



نقشه‌ی خلیج فارس در قرن هشتم هجری



نقشه‌ی خلیج فارس در دوره‌ی صفویه

نام خلیج فارس

خلیج فارس یکی از مهم‌ترین مناطق کره‌ی زمین است. از گذشته‌های بسیار دور مردمان این منطقه به تجارت و دریانوردی مشغول بوده‌اند. قوم پارس این دریا را دریای پارس نامیدند. در کتیبه‌ای که از داریوش، پادشاه هخامنشی به دست آمده از این محل به نام دریای پارس یاد شده است. بعدها بسیاری از دانشمندان و جغرافی‌دانان مسلمان چون ابوریحان بیرونی نیز در کتاب‌هایشان نام خلیج فارس و دریای پارس را آورده‌اند. روی نقشه‌های اروپاییان هم که از عصر اکتشافات جغرافیایی به جا مانده است، نام خلیج فارس مشاهده می‌شود.

فعالیت ۱

روز ۱۰ اردیبهشت در تقویم، روز ملی خلیج فارس نامیده شده است. علت چیست؟ پرس و جو کنید.

فعالیت ۲

کاربرگه‌ی شماره‌ی ۲۱ و ۲۲ را انجام دهید.

فعالیت ۳ (اختیاری)

به طور گروهی و با راهنمایی معلم و با استفاده از چوب یا کاغذ، مقوا، گچ و مانند آنها، یک مدل خلیج فارس و دریای عمان بسازید. جزیره‌ها و بندرها را روی آن نشان دهید.



دریا، نعمت خداوندی

و او (خداوند) کسی است که دریا را برای شمارام کرد تا از آن، گوشت تازه بخورید و زیوری برای پوشیدن (مانند مروارید) از آن استخراج کنید و کشتی‌ها را می‌بینی که سینه‌ی دریا را می‌شکافند تا شما از فضل خدا بهره‌گیرید؛ شاید شکر نعمت‌های او را به‌جا آورید. (سوره نحل، آیه ۱۴)

فعالیت ۱

یک کره‌ی جغرافیایی یا نقشه‌ی جهان‌نما به کلاس بیاورید و به کمک معلم، مسیر کشتیرانی از خلیج فارس و تنگه‌ی هرمز تا اقیانوس‌ها را دنبال کنید. کشورهای مهم نفت‌خیز اطراف خلیج فارس را به یکدیگر نشان دهید.



دریا و منابع انرژی

یکی از مهم‌ترین دلایل اهمیت خلیج فارس، وجود منابع سرشار نفت و گاز است. مقدار این منابع در خلیج فارس آن‌قدر زیاد است که به این منطقه «انبار نفت جهان» می‌گویند. نفت و گاز از کف خلیج فارس در ناحیه‌ی کم‌عمق نزدیک به ساحل استخراج می‌شود. همه‌روزه نفتکش‌های عظیمی از خلیج فارس و تنگه‌ی هرمز عبور می‌کنند و نفت کشورهای نفت‌خیز را به سایر کشورهای جهان انتقال می‌دهند.


فعالیت ۲

چرا خلیج فارس از دیرباز مورد توجه کشورهای قدرتمند بوده است و آنها همواره در پی نفوذ به این منطقه هستند؟ در کلاس گفت‌وگو کنید.



دریای خزر نیز دارای منابع نفت و گاز است و کشورهای اطراف این دریا به کشف و استخراج نفت از آن مشغول‌اند.

دریا و منابع غذایی



در دریا‌های ایران صدها نوع ماهی زندگی می‌کنند که هر یک ارزش غذایی و طعم خاصی دارند و بعضی هم زینتی هستند. شما تا به حال کدام نوع ماهی شمال یا جنوب را مصرف کرده‌اید؟ خانواده‌ی شما دوست دارند بیشتر از کدام نوع ماهی

بخرند؟ شما دوست دارید کدام نوع ماهی جدول مقابل را امتحان کنید؟

میگویکی از آبزیان مهم دریاهای جنوب است. با نزدیک شدن به ماه مهر، ماهیگیران جنوب، خود را برای صید میگو آماده می‌کنند.

دریای خزر بزرگ‌ترین منبع ماهیان خاویاری در جهان است. خاویار یا تخم ماهیان خاویاری دریای خزر به مروراید سیاه مشهور و از گران‌ترین غذاهای جهان است.




خاویار

ایران همه‌ساله، مقدار زیادی میگو و خاویار به کشورهای دیگر صادر می‌کند و از این راه درآمدی به دست می‌آورد.

صید ماهی در دریا قوانین و مقرراتی دارد؛ برای مثال صید ماهی در دریای خزر از اوایل بهار تا اوایل پاییز ممنوع است. آیا می‌دانید چرا؟

هرچند برای ماهیگیری در آب‌های اطراف سواحل از کشتی‌ها و لنج‌های کوچک استفاده می‌شود اما صیادان برای ماهیگیری در آب‌های عمیق به کشتی‌های مجهز نیاز دارند.

در این کشتی‌ها لوازم پیشرفته‌ی ماهیگیری و سردخانه وجود دارد. به نظر شما چرا کشتی‌ها و کامیون‌های حمل ماهی باید یخچال و سردخانه داشته باشند؟



بازار ماهی فروشان در شمال

مطالعه برای انجام فعالیت

خلیج فارس و دریای عمان



سرخو



ماهی کولی




سنگسر



ماهی سفید



زبیده



سوف



قباد



کپور



شوریده



کفال



حلوا



کیلکا



میگو



ماهیان خاویاری
(تاس ماهی،
اوزون برون،
در اکول، فیل ماهی)



ماهی شیر

بخشی از ماهی‌های صید شده به کارخانه‌های کنسروسازی منتقل می‌شوند.



دانش‌آموزان از یک کارخانه‌ی تولید کنسرو در بندرعباس بازدید و با کارشناسان و کارگران گفت‌وگو کردند. یکی از کارشناسان توضیح داد: بچه‌ها، ماهی‌ها را پس از صید با کامیون‌های یخچال‌دار به اینجا حمل می‌کنند. در اینجا ماهی را به قطعات بزرگ برش می‌دهند و در دیگ‌های مخصوص می‌ریزند تا در مدت معینی بپزد. بعد دستگاه خودکار، تکه‌های پخته شده را درون قوطی می‌ریزد و نمک و روغن به آن اضافه می‌کند. هوای قوطی‌ها خارج می‌شود تا فاسد نشوند...

فعالیت ۳

یک کنسرو ماهی را به کلاس بیاورید و با راهنمایی معلم برچسب مشخصات (تاریخ مصرف، نوع ماهی، طریقه‌ی مصرف، محل تولید و ...) آن را بررسی کنید. چگونه می‌توانیم کنسرو ماهی فاسد شده را تشخیص بدهیم؟



بارگیری کشتی‌ها در بندر خلیج فارس



دریا و بازرگانی

بخش عمده‌ای از صادرات و واردات کشور ما از طریق بندرها صورت می‌گیرد.

در شهرهای بندری، عده‌ای از مردم به بارگیری و باراندازی کالاهای کشتی‌ها مشغول‌اند. در این مناطق انبارهایی نیز برای نگهداری کالاها به‌وجود آمده است و برخی از مردم به شغل انبارداری مشغول‌اند.

با توجه به تنوع فعالیت‌ها در دریا، انواع کشتی‌های ماهیگیری، تفریحی، تجاری و نفتکش در کارخانه‌های کشتی‌سازی تولید می‌شود. کارخانه‌های کشتی‌سازی و لنج‌سازی در اطراف بندرعباس، بوشهر و چابهار در جنوب و نکا در سواحل دریای خزر نمونه‌ای از این مراکز هستند. در این نواحی، مراکزی نیز برای تعمیر کشتی‌ها به‌وجود آمده است. در نتیجه دریا شغل‌های گوناگونی را برای مردم به‌خصوص ساحل‌نشینان فراهم آورده است.



کارگاه کشتی‌سازی در جنوب



قایقرانی در چابهار



اوقات فراغت در کنار دریای خزر

دریا و گردشگری

همه ساله عده‌ی زیادی از مردم کشور ما برای تفریح و گذراندن تعطیلات تابستان به سواحل شمالی ایران سفر می‌کنند. سواحل زیبای جنوبی ایران و جزایر کیش، قشم، بندرعباس و چابهار نیز برای گردشگری در فصل زمستان مناسب هستند و مسافران از دریا، بناهای تاریخی و بازارهای این نواحی دیدن می‌کنند.

فعالیت ۴

همفکری کنید و ده شغل را فهرست کنید که با دریا سر و کار دارد. یکی از دو فعالیت زیر را انتخاب کنید و پاسخ دهید:

فعالیت ۵

الف - فرض کنید شما و دوستانتان برنده‌ی جایزه‌ی سفر دو روزه به دریا شده‌اید؛ اما محل دقیق آن را باید خودتان انتخاب کنید. با همفکری یکدیگر مکانی را روی نقشه انتخاب کنید و برای نظر خود دلیل بیاورید.

ب - به این دو تصویر، توجه و پرس و جو کنید هر یک از این سازمان‌ها چه وظیفه‌ای دارند و در چه زمینه‌ای فعالیت می‌کنند؟



سازمان بنادر و دریانوردی



سازمان شیلات جمهوری اسلامی ایران



▲ اعماق آب‌های خلیج فارس



▲ نفتکش و خروج نفت

از دریا حفاظت کنیم

خلیج فارس و دریای عمان از بزرگ‌ترین زیستگاه‌های موجودات دریایی هستند. ماهی‌های تزئینی، مرجان‌ها، صدف‌ها و لاک پشت‌های کمیاب و پستاندارانی چون دلفین‌ها و نهنگ‌ها در آنها زندگی می‌کنند. دریای خزر نیز محل زندگی انواع ماهیان و پرندگان مهاجر است. متأسفانه این موجودات در معرض خطر نابودی قرار گرفته‌اند و هر ساله تعداد آنها کاهش می‌یابد؛ چرا؟

فعالیت ۶

یکی از دو فعالیت زیر را انتخاب کنید و انجام دهید.
 الف – با راهنمایی معلم و به‌طور گروهی پوستری درباره‌ی حفاظت از دریا طراحی و رنگ آمیزی کنید و روی آن یک پیام هشدار بنویسید.
 ب – همفکری کنید و فعالیت‌هایی را که به محیط زیست دریا آسیب می‌رساند، بیان کنید. اگر شما مسئول یک منطقه‌ی ساحلی بودید برای حفظ دریا – این نعمت خداوندی – چه کارهایی می‌کردید؟

اکنون که این فصل را به پایان رساندید، روی یک کاغذ بنویسید
 درباره‌ی دریا چه سؤال‌های دیگری دارید؟

نقشه‌ی دریاهای ایران

- ۱- روی نقشه، نام خلیج فارس، دریای عمان و دریای خزر را بنویسید.
- ۲- نام تنگه‌ی هرمز را بنویسید.
- ۳- نام کشورهای اطراف خلیج فارس و دریای خزر را که با علامت ؟ مشخص شده‌اند، روی نقشه بنویسید.



- ۴- با استفاده از مطالب متن درس، ویژگی‌های خلیج فارس و دریای عمان را در جدول بنویسید و آنها را با هم مقایسه کنید.
(شباهت‌ها و تفاوت‌ها)

خلیج فارس	دریای عمان
شوری آب آن از دریای عمان بیشتر است.	شوری آب آن از خلیج فارس کمتر است.
.....
.....
.....

- ۵- جای خالی را با کلمات مناسب پر کنید.

دریاچه

خلیج

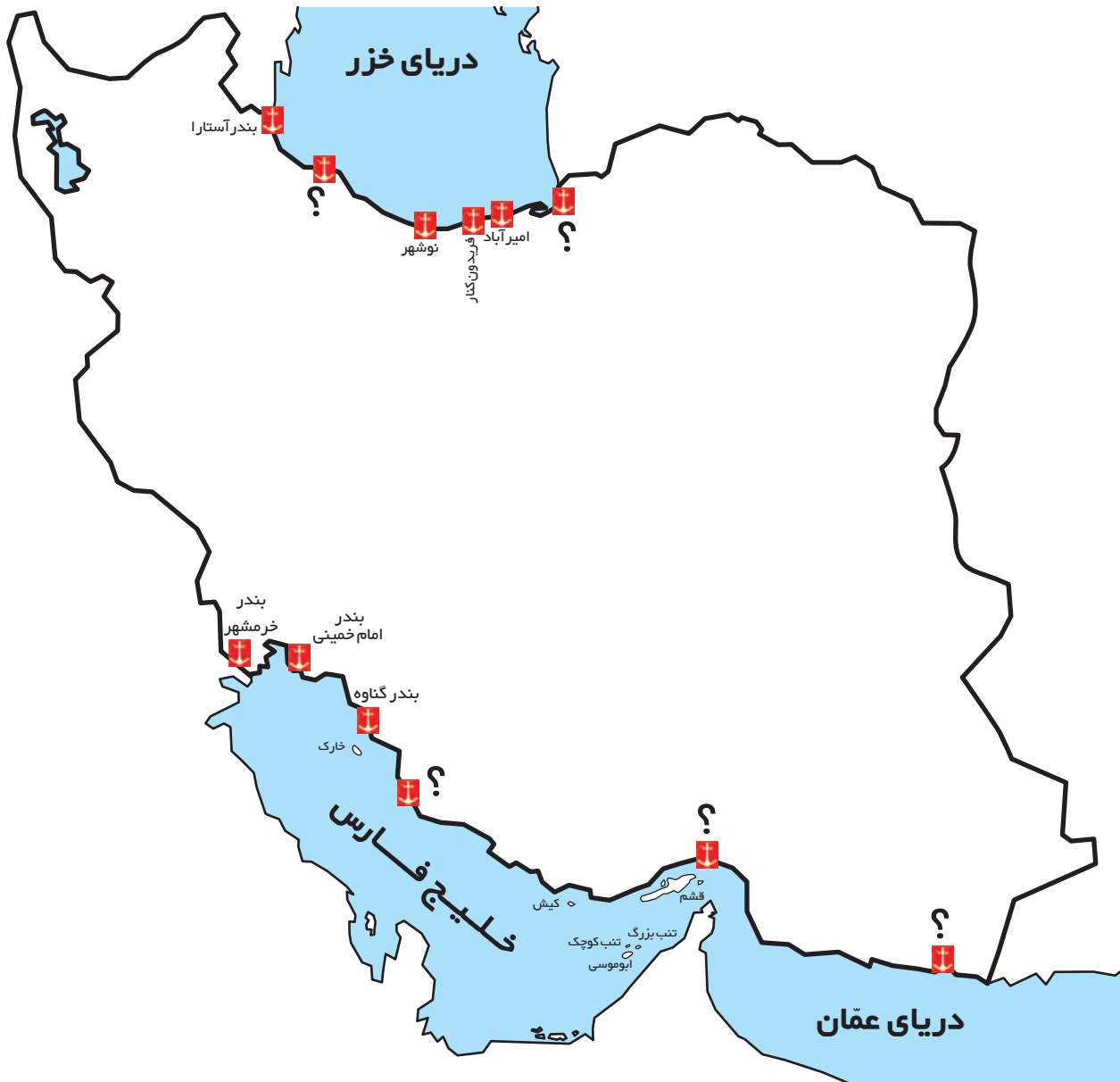
تنگه

دریا

- گودال‌های آبی وسیع در سطح زمین است که به اقیانوس راه ندارد.
- به پیشروی آب دریاها در داخل خشکی‌ها می‌گویند.
- باریکه یا آبراهه‌ای که دو دریا را به هم وصل می‌کند، نامیده می‌شود.

بندرها

الف - نام بندرهایی را که روی نقشه نوشته نشده است، بنویسید.



ب - در بندرها چه فعالیت‌هایی صورت می‌گیرد؟ سه مورد بنویسید.

ایران و همسایگان

۱۰

فصل دهم

حوزه‌های موضوعی

فضا و مکان

فرهنگ و هویت

نظام اجتماعی



سال گذشته آموختید که کشور ما با کشورهای دیگر همسایه است. به نقشه توجه کنید. برخی از این کشورها از طریق خشکی و برخی دیگر از طریق دریا با ما هم‌مرز هستند. آیا می‌دانید مرز چیست؟ مرز چگونه ایجاد می‌شود؟ راستی، ما چه روابطی با کشورهای همسایه داریم؟

موضوع این فصل ایران و همسایگان است. امید است شما با آموختن مطالب و انجام دادن فعالیت‌ها پاسخ پرسش‌های خود را پیدا کنید.

همسایگان ما

مرز چیست؟

به این عکس‌ها توجه کنید. چه چیزی این مزرعه را از مزرعه‌ی مجاور جدا می‌کند؟ بین این دو باغ چه چیزی وجود دارد؟

چرا بین این دو مزرعه یا باغ چنین مانعی ایجاد کرده‌اند؟ خانه‌ای که شما در آن زندگی می‌کنید، بادیوار از خانه‌ی همسایه جدا شده است. این مکان به شما تعلق دارد و کسی نمی‌تواند بدون اجازه یا موافقت شما به خانه‌تان وارد شود.



تعیین مرز کشورها

بین کشورها نیز مرز وجود دارد. مرز، خط مشخصی است که کشوری را از کشور دیگر جدا می‌کند.

● برای تعیین مرز، ابتدا کشورها بر سر خطوط مرزی به توافق می‌رسند و میان خود خطوطی را معین می‌کنند؛ سپس نقشه‌کش‌ها با دقت نقشه‌هایی از مرزها ترسیم می‌کنند.

در مرحله‌ی بعد طبق آن نقشه، روی زمین در محل خطوط مرزی علامت‌گذاری می‌کنند. این علامت‌ها معمولاً میله‌ها یا تیرک‌هایی است که در زمین فرو می‌کنند.

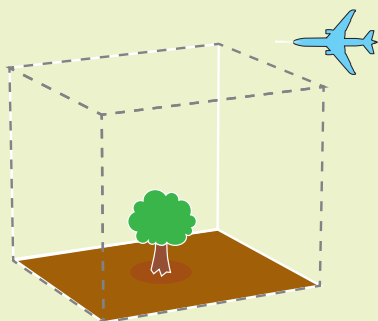


در بعضی از مناطق مرزی، پاسگاه‌های مرزی مستقر می‌شوند. در این پاسگاه‌ها، افرادی مشغول دیده‌بانی و حفاظت از مرزها هستند تا عبور غیرقانونی از مرز صورت نگیرد. مرزبانان پرتلاش از این راه به کشور خدمت می‌کنند.

پاسگاه دیده‌بانی مرزی

نکته

خط مرزی تنها روی زمین نیست؛ بلکه فضای بالای مرز زمینی هم جزء آن است؛ یعنی در بالای مرزهای زمینی، یک دیوار فرضی وجود دارد. خلبانان هنگام عبور از مرز هوایی یا آسمان هر کشور باید به آن کشور اطلاع بدهند و برای ورود از آنها اجازه بگیرند.



▲ میله‌ی مرزی بر روی زمین

اکنون به نقشه توجه کنید. این نقشه مرزهای خشکی ایران را با کشورهای همسایه نشان می‌دهد.

○ ایران با کدام کشور، طولانی‌ترین مرز را دارد؟

○ کوتاه‌ترین مرز ایران با کدام کشور است؟ گاهی یک پدیده‌ی طبیعی مانند رودخانه، کوه، بیابان و دریاچه بین دو کشور قرار دارد و از همان پدیده‌ها برای تعیین مرز استفاده می‌کنند؛ مثلاً کوه‌های آارات بخشی از مرز ایران و ترکیه را تشکیل می‌دهد.

به نقشه توجه کنید و چند رود مرزی ایران را نام ببرید. این رودها ایران را از کدام کشورها جدا می‌کنند؟



فعالیت ۱

کاربرگهی شماره‌ی ۲۳ را در کلاس کامل کنید.

ما فقط به وسیله‌ی مرزهای خشکی از کشورهای همسایه جدا نمی‌شویم بلکه از طریق دریا نیز با بعضی کشورها همسایه هستیم. کدام کشورها از طریق دریا با ما همسایه هستند؟ نام ببرید.



روابط ما با همسایگان

ما با کشورهای همسایه‌ی خود روابط مختلفی داریم.

✳ بخشی از روابط ما روابط بازرگانی است؛ یعنی ما به این کشورها کالاهایی را صادر می‌کنیم و از آنها کالاهایی را می‌خریم.

✳ ما همچنین با کشورهای همسایه روابط فرهنگی داریم. همه‌ساله عده‌ی زیادی از مردم کشور ما برای زیارت خانه‌ی

کعبه و مرقد مطهر پیامبر گرامی اسلام (ص) به کشور عربستان سفر می‌کنند.

همچنین زائران حرم حضرت علی بن ابیطالب (ع)، امام حسین (ع) و حضرت ابوالفضل (ع) به کشور عراق سفر می‌کنند.

عده‌ای از مسلمانان کشورهای همسایه‌ی ایران نیز برای زیارت مرقد امام هشتم امام رضا (ع) و حضرت معصومه (س)

به ایران سفر می‌کنند.



حرم مطهر حضرت امام حسین (ع) و حضرت ابوالفضل (ع) در کربلا



مدینه ی منوره، مرقد مطهر پیامبر اکرم (ص)

★ علاوه بر سفرهای زیارتی، عده‌ای از مردم کشورهای همسایه برای دیدن آثار و بناهای تاریخی و مناطق زیبای ایران به کشور ما سفر می‌کنند. مردم ایران هم به منظور بازدید آثار تاریخی و مناطق تفریحی به کشورهای همسایه سفر می‌کنند.



نکته

- ① برای اینکه یک فرد از کشور خارج بشود به «گذرنامه» یا پاسپورت نیاز دارد؛ برای مثال وقتی یک فرد ایرانی می‌خواهد به کشور دیگر برود، باید از دولت ایران گذرنامه بگیرد. گذرنامه مانند شناسنامه‌ی خارجی فرد است و در آن مشخصات فرد و ایرانی بودن او ذکر شده است.
- ② برای مسافرت به کشور دیگر باید از سفارتخانه‌ی آن کشور اجازه گرفت. به این اجازه «روادید» یا ویزا می‌گویند. وقتی یک کشور به یک فرد ویزا می‌دهد به او اجازه یا پذیرش داده است تا به آنجا سفر کند.

فعالیت ۲

خانه‌ی کعبه؛ حرم مطهر پیامبر گرامی اسلام (ص)؛ حرم حضرت علی بن ابیطالب (ع)؛ امام حسین (ع) و حضرت ابوالفضل (ع) در کدام شهرهای کشورهای همسایه قرار دارند؟ روی نقشه دور این شهرها خط بکشید.

شباهت‌های ما و همسایگان

بین ما و کشورهای همسایه شباهت‌هایی وجود دارد. به برخی از این شباهت‌ها دقت کنید.

دین: مردم همه‌ی کشورهای همسایه‌ی ایران به جز ارمنستان مسلمان هستند.

مردم کشور ارمنستان مسیحی هستند.

زبان: در کشوری مانند افغانستان زبان فارسی رایج است و مردم کشورهای افغانستان و پاکستان به زبان و ادبیات

فارسی علاقه‌مندند.



برگزاری مراسم عید فطر در یکی از کشورهای همسایه



برگزاری جشن نوروز در یکی از کشورهای همسایه

جشن‌ها و اعیاد

نوروز یکی از کهن‌ترین جشن‌های به جا مانده از دوران ایران باستان است که در کشورهای همسایه نیز جشن گرفته می‌شود. در افغانستان سال رسمی با نوروز شروع می‌شود. در بعضی کشورهای دیگر نوروز به عنوان آغاز فصل بهار جشن گرفته می‌شود. هنگام نوروز در ایران سفره‌ی هفت‌سین می‌چینند.

در کابل و مرزهای شمال افغانستان و برخی شهرهای پاکستان چیدن سفره‌ی هفت میوه رواج دارد. در جمهوری آذربایجان، روی سفره‌های نوروزی آجیل می‌گذارند. در پاکستان نوروز را «عالم افروز» می‌نامند. در ترکمنستان اجرای مراسم ورزشی و بازی‌های مختلف و طبیعت‌گردی هنگام نوروز رایج است. برخی از مردم شمال کشور ترکیه نیز نوروز را جشن می‌گیرند.

از آنجا که مردم کشورهای همسایه‌ی ما مسلمان هستند، مراسم و اعیاد دینی مانند عید فطر و عید قربان در همه‌ی این کشورها با شکوه برگزار می‌شود و این روزها تعطیل هستند.

فعالیت ۳

آیا تاکنون به یکی از کشورهای همسایه سفر کرده‌اید؟ اگر پاسخ شما بلی است در کلاس تعریف کنید.

فعالیت ۴

اگر قرار باشد از یکی از کشورهای همسایه‌ی ایران دیدن کنید، کدام را انتخاب می‌کنید؟ دلایل شما برای سفر به آن کشور چیست؟

فعالیت ۵

فکر کنید چرا نوروز که یک جشن ایرانی است در کشورهای همسایه‌ی ما نیز وجود دارد؟

مطالعه‌ی موردی

همان طور که می‌دانید ایران با کشورهای مختلفی همسایه است. در این درس یک همسایه‌ی شرقی و یک همسایه‌ی غربی را برای مطالعه انتخاب کرده ایم. این مطالب را مطالعه کنید و به فعالیت‌ها پاسخ دهید.

مطالعه برای انجام فعالیت



(۱)

ترکیه

ترکیه در دوره‌های مختلف تاریخی، فراز و نشیب‌های زیادی داشته است. در گذشته‌های دور این سرزمین به تصرف امپراتوری هخامنشی درآمده بود. ترکیه سال‌ها تحت نفوذ امپراتوری روم شرقی بود. بعدها در دوره‌ی اسلامی مرکز امپراتوری عثمانی شد. به همین دلیل در این کشور آثار و بناهای تاریخی زیادی از هر دوره به جا مانده است. مسجد ایاصوفیه که امروزه به موزه تبدیل شده است و مسجد سلطان احمد در استانبول از بناهای باشکوه این کشور هستند.

ترکیه از کشورهایی است که همه ساله، هم به دلیل مناطق طبیعی زیبا و سواحل آفتابی و هم بناهای تاریخی، گردشگران زیادی را از سراسر جهان جذب می‌کند. این کشور از راه گردشگری درآمد زیادی به دست می‌آورد.


موقعیت مکانی: قسمت بیشتر آن در جنوب غربی آسیا و قسمت کوچکی از آن در قاره‌ی اروپا است.
ناهمواری: بیشتر نواحی آن کوهستانی و در کناره‌های دریاها، پست و جلگه‌ای است.
آب و هوا: در سواحل، ملایم و مرطوب و در نواحی داخلی نسبتاً خشک و در شمال شمال شرقی کوهستانی
مساحت: ۷۸۲ هزار کیلومتر مربع
جمعیت: ۷۳ میلیون نفر
۶۵ درصد شهرنشین
پایتخت: آنکارا
زبان رسمی: ترکی (استانبولی)
دین: اسلام
شهرهای مهم: استانبول، آنکارا، ازمیر، آدانا، بورسا
واحد پول: لیر



مسجد ایاصوفیه، استانبول



چهره‌ی نوجوانان ترکیه



مسجد سلطان احمد، استانبول



صنایع دستی



غذا: کباب ترکی



موقعیت مکانی: در آسیای میانه قرار دارد و محصور در خشکی است.

ناهمواری: بیشتر نواحی آن کوهستانی است. آب و هوا: زمستان های سرد و تابستان های گرم (قاره ای)

مساحت: ۶۵۲ هزار کیلومتر مربع

جمعیت: حدود ۳۰ میلیون نفر

۲۱ درصد شهرنشین

پایتخت: کابل

زبان رسمی: فارسی دری و پشتو

دین: اسلام

شهرهای مهم: کابل، قندهار، مزار شریف،

جلال آباد

واحد پول: افغانی




غذا: قابلی پلو



مقبره ی گوهرشاد



ارگ هرات



صنایع دستی افغانستان



چهره ی کودکان افغانستان

(۲)

افغانستان

افغانستان از دیرباز به دلیل قرار گرفتن در مسیر جاده ی ابریشم، محل پیوند فرهنگ های گوناگون بوده است. در این منطقه، شاعران و نویسندگان و دانشمندان بزرگی تحت تأثیر فرهنگ اسلامی نمایان شده اند.

در افغانستان بناهای تاریخی مهمی وجود دارد که از نظر معماری بسیار باشکوه هستند. مسجد آبی در مزار شریف، درّه ی بامیان و مناره ی جم از مکان های تاریخی و دیدنی معروف در این کشور هستند.

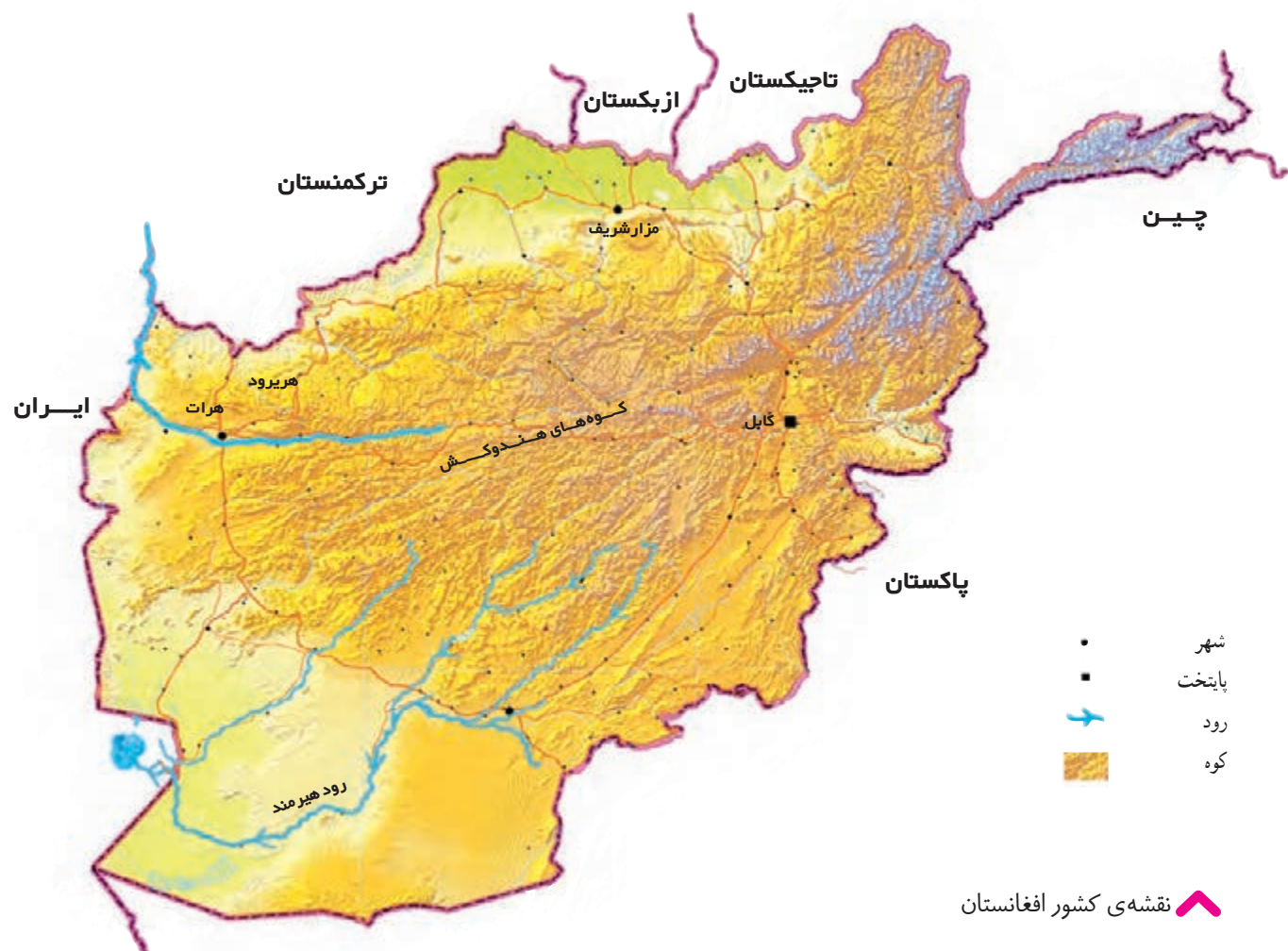
از چند دهه ی پیش مردم افغانستان جنگ ها و مشکلات زیادی را تحمل کرده اند. ابتدا ارتش شوروی این کشور را اشغال کرد. مجاهدان افغانستانی، اشغالگران را از خاک خود بیرون کردند؛ اما حکومت طالبان روی کار آمد و خرابی های زیادی در این کشور به بار آورد. سپس این کشور به اشغال نظامی آمریکا درآمد. هم اکنون مردم افغانستان آرزو دارند و تلاش می کنند که مشکلات را از میان بردارند و کشورشان را بسازند.



باغ بابور



نقشه‌ی کشور ترکیه



نقشه‌ی کشور افغانستان

فعالیت ۱

مقایسه کنید:

- ★ ترکیه به کدام کشورها و دریاها دسترسی دارد؟ افغانستان چطور؟
- به نظر شما کدام کشور، موقعیت مکانی بهتری دارد؟ چرا؟ دلیل بیاورید.
- ★ آب و هوای ترکیه و افغانستان را با هم مقایسه کنید.
- ★ جمعیت ترکیه و افغانستان را با هم مقایسه کنید.
- ★ ترکیه و افغانستان چه اشتراکاتی با هم دارند؟
- ★ از نظر فرهنگی (دین، زبان، بناهای تاریخی) ترکیه و افغانستان را با هم مقایسه کنید.
- ★ چرا با اینکه در افغانستان بناهای تاریخی و مکان‌های دیدنی وجود دارد در این کشور گردشگری رونقی ندارد؟
- ★ چرا عده‌ای از مردم کشور افغانستان به کشورهای دیگر از جمله ایران مهاجرت کرده‌اند؟ شما برای مردم افغانستان چه آرزویی دارید؟

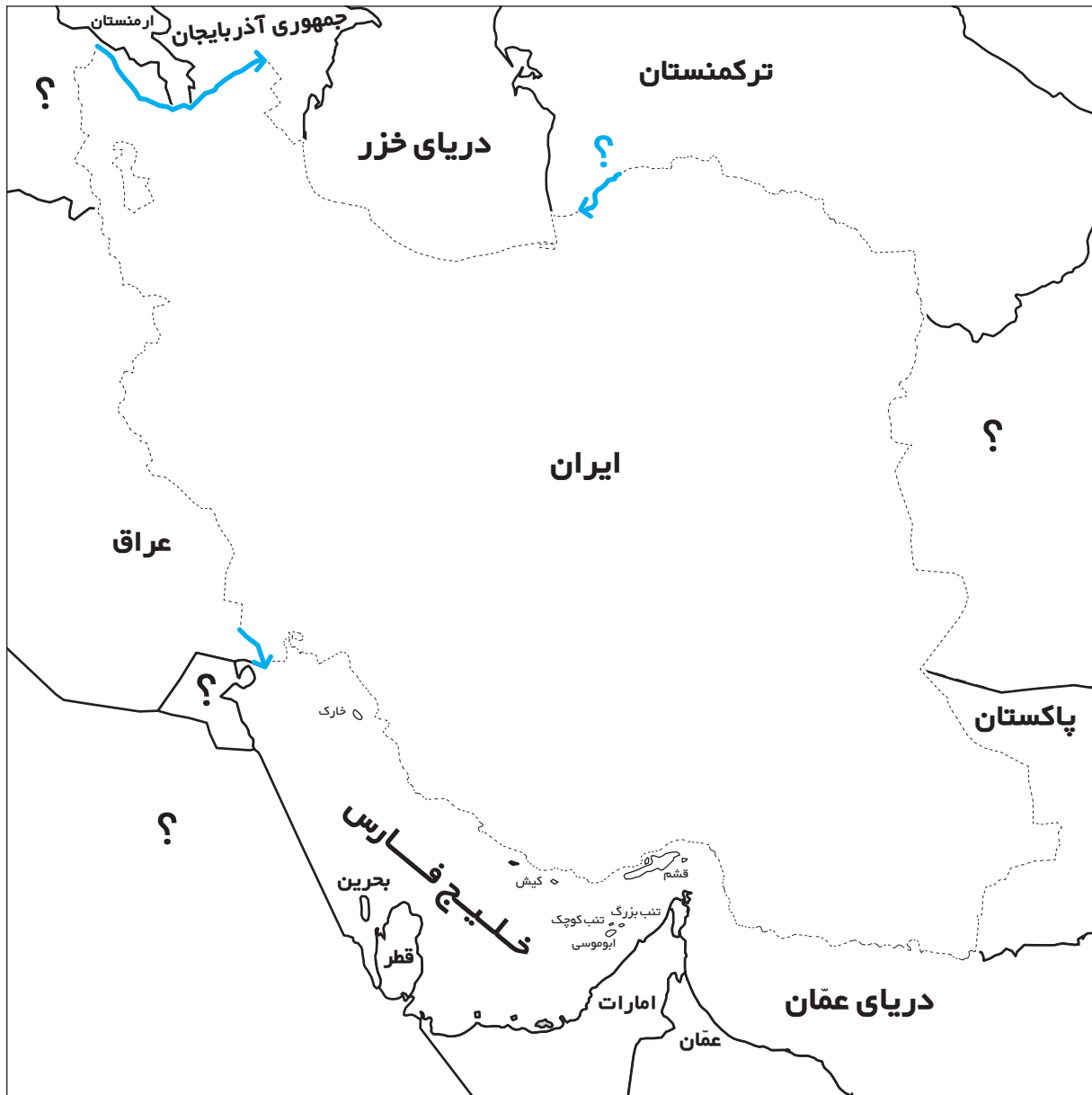
فعالیت ۲

یکی از دو فعالیت زیر را انتخاب کنید و انجام دهید.

- الف - فرض کنید دوستی در یکی از کشورهای همسایه دارید که می‌خواهد به ایران سفر کند و از شما خواسته است درباره‌ی ایران برایش توضیح دهید. نامه‌ای در کاربرگ‌های شماره‌ی ۲۴ به او بنویسید و کشور خود را معرفی کنید.
- ب - به‌طور گروهی با کمک معلم و استفاده از کتابخانه‌ی مدرسه یا سایر منابع درباره‌ی یکی از کشورهای همسایه، مطالبی جمع‌آوری و یک روزنامه‌دیواری درست کنید. در روزنامه‌ی خودتان نقشه و تصاویری از آن کشور به‌کار ببرید.

اکنون که به پایان این فصل رسیدید، روی یک برگ کاغذ بنویسید
چه سؤال‌های دیگری درباره‌ی همسایگان ایران دارید؟

همسایگان ما



- ۱- روی نقشه، خطوط مرزی ایران را با کشورهای همسایه پررنگ کنید و نام رودهای مرزی را بنویسید.
- ۲- نام کشورهای همسایه را که با علامت ؟ مشخص شده است، بنویسید.
- ۳- دریاها را آبی و سایر کشورها را به دلخواه رنگ کنید.

کشور ایران را معرفی کنید

نامه‌ای به یک دوست فرضی در کشور همسایه بنویسید و کشور خودتان ایران را معرفی کنید.



به نام خدا

دوست خوبم

This image shows a single sheet of white paper with horizontal ruling lines. The lines are evenly spaced and run across the width of the page. There are no margins or other markings on the paper.

ایستادگی در برابر بیگانگان



▲ تابلوی نقاشی از جنگ ایران و روس در زمان فتحعلی شاه قاجار

این بار ماشین زمان، شما را حدود صد سال به عقب برده است. شما در ایران هستید. مردم را پریشان و اندوهگین می‌بینید. با آنها گفت‌وگو می‌کنید. از سفرهای شاه و شاهزادگان به اروپا، رفت و آمد بیگانگان در دربار و دخالت آنها در امور کشور مطالبی می‌شنوید و می‌فهمید که نظامیان روسیه، شمال ایران را اشغال کرده‌اند و انگلیس‌ها از جنوب هجوم آورده‌اند. گروهی از مردم فداکار در حال مبارزه و جنگ با آنها هستند. فقر و بدبختی همه‌جا را گرفته... از خود می‌پرسید چرا بیگانگان به این کشور هجوم آورده‌اند؟ آنها چه می‌خواهند؟ چرا مردم در چنین وضعیتی زندگی می‌کنند؟ چه کسانی به استعمارگران اجازه می‌دهند تا در کشور دخالت کنند؟

موضوع این فصل استعمار و ایستادگی در برابر بیگانگان است. امید است شما با آموختن مطالب این فصل و انجام دادن فعالیت‌های آن بتوانید پاسخ پرسش‌های خودتان را پیدا کنید.

فصل یازدهم

حوزه‌های موضوعی

زمان، تداوم و تغییر

مکان و فضا

فرهنگ و هویت



استعمار چیست؟



بچه‌ها
برای اینکه با این موضوع
آشنا شویم، بیایید قدری به
عقب برگردیم...

استعمار یعنی چه؟
استعمارگر کیست؟



تغییر و تحول در اروپا

در درس‌های گذشته خواندید در دوره‌ای که مسلمانان در عصر شکوفایی علم و فرهنگ زندگی می‌کردند، اروپاییان در عصر تاریکی به سر می‌بردند. به تدریج تغییر و تحولاتی در اروپا به وجود آمد و اروپاییان قدرتمند شدند. راستی چه عواملی موجب قدرتمندی آنها شد؟

۱- علوم و فنون از جهان اسلام به اروپا انتقال یافت.



ساختن شهرها در اروپا

حدود چهار قرن پیش، تجارت و داد و ستد میان اروپاییان و مسلمانان گسترش یافته بود. اروپاییان از طریق دریای مدیترانه و شمال آفریقا، محصولات نظیر شکر، قهوه، کاغذ، قطب‌نما، داروی گیاهی و ادویه را از مسلمانان خریداری می‌کردند. در این رفت و آمدها، علوم و فنون مسلمانان مورد توجه آنها قرار می‌گرفت. اروپاییان کتاب‌های پزشکی جهان اسلام و بسیاری کتاب‌های دیگر علوم اسلامی را به زبان خودشان ترجمه کردند و توانستند از این علوم استفاده کنند. به تدریج علوم و فنون مسلمانان به شیوه‌های مختلف به اروپا انتقال یافت.

۲- تجارت و بازرگانی در اروپا رونق یافت.

تجارت موجب شد ثروت اروپاییان بیشتر شود. شهر و شهرنشینی رشد کرد و شکل زندگی مردم را تغییر داد. به تدریج کارگاه‌های صنعتی افزایش یافت.

۳- اروپاییان در علم و هنر پیشرفت کردند.



یک کارگاه چاپ در اروپا

اروپاییان در علوم و فنون پیشرفت‌هایی کردند. اختراع دستگاه چاپ به وسیله‌ی گوتنبرگ و تلسکوپ به وسیله‌ی گالیله، نمونه‌هایی از اختراعات آن دوره است.

از بین علومی که در آن دوره بسیار مورد علاقه‌ی اروپاییان قرار گرفت، جغرافیا و ستاره‌شناسی (نجوم) بود. این دو علم به شناخت سرزمین‌ها و راه‌های دریایی و تجارت کمک می‌کرد.

۴- اروپاییان با اکتشافات جغرافیایی، استعمارگری را آغاز کردند.

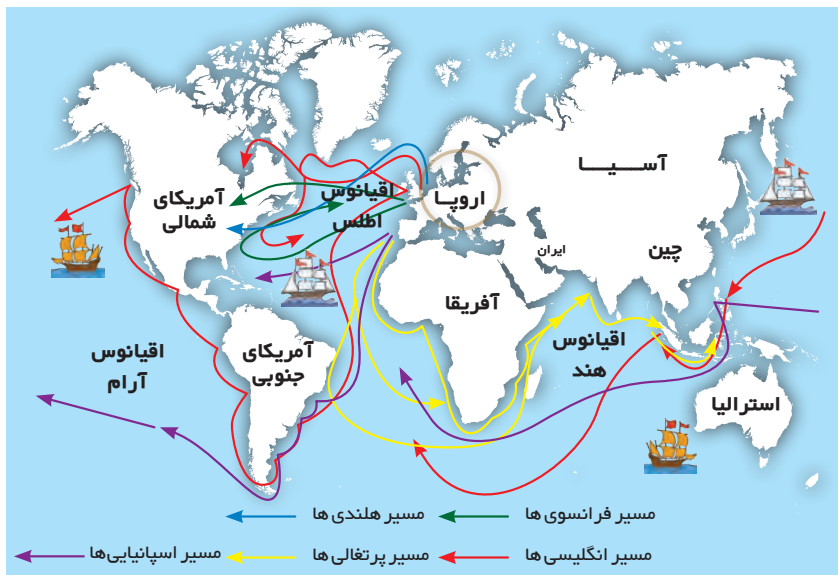


دریانوردان اروپایی

بشر امروز می‌داند که زمین کروی است. او همه‌ی قاره‌ها و سرزمین‌های کره‌ی زمین را می‌شناسد و می‌تواند به راحتی به همه جا سفر کند. اما حدود چهارصد سال پیش چنین چیزی نبود، انسان‌ها از سایر مناطق کره‌ی زمین اطلاع اندکی داشتند. در آن زمان اروپاییان از کتاب‌هایی که جغرافی‌دانان و ستاره‌شناسان مسلمان نوشته بودند، استفاده کردند و با ساخت کشتی‌های محکم‌تر و پرسرعت‌تر و استفاده از مهارت دریانوردی به کشف سرزمین‌های جدید پرداختند. پرتغالی‌ها و اسپانیایی‌ها پیشگام بودند و در ادامه

سایر کشورهای اروپایی با عبور از اقیانوس‌ها، سرزمین‌های جدیدی از جمله قاره‌ی آمریکا را کشف کردند.

وقتی دریانوردان سرزمین‌های جدید را کشف می‌کردند، راه برای هجوم دولت‌های اروپایی به آن سرزمین‌ها باز می‌شد، این سرزمین‌ها را میان خود تقسیم می‌کردند، ساکنان بومی را می‌کشتند یا به صورت برده درمی‌آوردند و منابع و ثروت‌های آنها را غارت می‌کردند، بدین ترتیب استعمارگری آغاز شد.



نقشه‌ی مسیرهای اکتشافات جغرافیایی



کلمه‌ی استعمار به معنی آباد کردن است؛ اما اگر کشوری به بهانه‌ی آباد کردن در کشورهای دیگر دخالت و نفوذ کند تا منابع و ثروت آن کشور را غارت کند به آن کشور استعمارگر می‌گویند. به سرزمین‌هایی که استقلال سیاسی و اقتصادی نداشته باشند و تابع حکومت استعمارگر باشند، مستعمره می‌گویند.

فعالیت ۱

همفکری کنید و از روی نقشه، مسیرهای دریایی را دنبال کنید و بگویید در هر مسیر، دریانوردان به کدام سرزمین‌ها یا قاره‌ها رسیده‌اند؟ کدام کشورها به دریانوردی و کشف سرزمین‌های جدید مشغول بودند؟

فعالیت ۲

به‌طور گروهی کار برگه‌ی شماره‌ی ۲۵ را در کلاس کامل کنید.

نفوذ استعمار در ایران

از آن زمان تاکنون استعمارگران در کشورهای دیگر از راه‌های مختلف نفوذ کرده‌اند: آنها گاهی به سرزمین‌های دیگر حمله‌ی نظامی، و آنها را اشغال کرده‌اند؛ سپس گفته‌اند که هدفشان آباد کردن این کشورها است درحالی که هدف اصلی آنها غارت منابع این کشورها است. گاهی نیز سعی کرده‌اند از کشورهای دیگر امتیازاتی بگیرند یا روابطی با آنها برقرار کنند که به نفع خودشان باشد؛ به عبارت دیگر در آن کشورها نفوذ کنند.



استعمارگران به‌جز غارت منابع و ثروت کشورها از رسانه‌ها نیز برای نفوذ و دخالت در کشورهای دیگر استفاده می‌کنند. راه مبارزه با این نوع دخالت، تقویت رسانه‌های داخلی و افزایش سواد رسانه‌ای و آگاهی مردم است.



آیا استعمارگران در سال‌های اخیر به کشور ما هم نفوذ کردند؟

بچه‌ها،

تا قبل از پیروزی انقلاب اسلامی، استعمارگران به شیوه‌های مختلف در کشور ما نفوذ کرده بودند. انقلاب اسلامی دست بیگانگان را از کشور کوتاه کرد. بیشتر نفوذ و دخالت بیگانگان در کشور ما در دوره‌ی حکومت‌های قاجار و پهلوی بوده است.



مطالعه برای انجام فعالیت

نمونه‌هایی از امتیازات و دخالت‌های بیگانگان در کشور مادر دوره‌ی قاجاریه و پهلوی

- ★ طبق عهدنامه‌های گلستان و ترکمانچای، بخش‌هایی از شمال کشور ایران جدا و توسط روس‌ها گرفته شد؛ برای مثال، باکو، شیروان، نخجوان و قفقاز.
- ★ طبق قرارداد روترز حقّ احداث راه‌آهن و بهره‌برداری از معادن و منابع جنگل‌ها و قنات‌های ایران به مدت ۷۰ سال به انگلیسی‌ها داده شد.
- ★ طبق یک قرارداد، روسیه و انگلیس ایران را بین خود تقسیم کردند. مناطق شمال تا مرکز ایران تحت نفوذ روسیه و مناطق جنوبی تحت نفوذ انگلیس قرار گرفت.
- ★ انگلیسی‌ها رضاخان را به قدرت رساندند و او را شاه کردند تا دست‌نشانده‌ی آنها باشد و هر کاری به او بگویند، انجام دهد.
- ★ طبق قراردادهایی با دولت انگلیس، این کشور از نفت ایران بهره‌می‌برد و نفت متعلّق به خود ما نبود.
- ★ آمریکا، محمّدرضا شاه پهلوی را به قدرت رساند تا او برنامه‌هایی را که آمریکا می‌خواست در ایران اجرا کند.

فعالیت ۳

الناز به تازگی متوجّه شده است که شجره‌نامه‌ی خانوادگی دارد. بعد از بررسی‌های او و برادرش محمّد و سؤالاتی که از پدر بزرگ و مادر بزرگ خود پرسیدند، فهمیدند که اجدادشان در شهر باکو زندگی می‌کردند. البته پدر بزرگش می‌گفت که آن زمان باکو قسمتی از سرزمینمان ایران بود!

چرا شهر باکو از کشورمان جدا شد؟

چرا ایران مورد توجّه کشورهای استعمارگر بود؟

کدام کشورها در امور ایران دخالت می‌کردند؟

این امتیازات و دخالت‌ها چه ضررهایی به ایران وارد کرد؟

به نظر شما چرا شاهان قاجار و پهلوی به استعمارگران اجازه‌ی دخالت می‌دادند؟

مبارزه‌ی مردم ایران با استعمار

در درس گذشته بی‌پدید که کشور ایران مورد توجه استعمارگران بود. دولت‌های قدرتمند بر سر نفوذ در ایران با یکدیگر رقابت می‌کردند. اگرچه حکومت‌های نالایق در ایران به بیگانگان اجازه‌ی دخالت و نفوذ می‌دادند، مردم کشور ما همواره با استعمارگران مبارزه می‌کردند. از هر منطقه‌ی کشور ما انسان‌های بزرگ و فداکاری برخاستند و برای کوتاه کردن دست بیگانگان از کشور تلاش کردند و در این راه رنج زیادی را تحمل کردند؛ حتی از جان خود گذشتند.



تعداد این شخصیت‌های بزرگ، زیاد و شرح کارهایشان مفصل است. من چند نمونه برایت می‌گویم.

چه کسانی با استعمارگران مبارزه کردند؟



فعالیت ۱

شرح حال شخصیت‌های این درس را بخوانید. چه ویژگی‌های مشترکی در همه‌ی آنها وجود دارد؟ فهرست کنید. گفت و گو کنید.

از مطالعه‌ی این سرگذشت‌ها چه نتیجه‌ای می‌گیرید؟ اگر در آن زمان به دنیا می‌آمدید، دوست داشتید در کنار کدامیک از این شخصیت‌ها قرار می‌گرفتید و چطور او را یاری می‌کردید؟

مطالعه برای انجام فعالیت



نقاشی امیر کبیر

● **امیر کبیر**، میرزا تقی‌خان فراهانی مشهور به امیر کبیر در روستایی در اراک به دنیا آمد. او صدراعظم یا نخست‌وزیر ناصرالدین شاه بود. امیر کبیر وقتی به این مقام رسید، آرزو داشت ایران را به کشوری مستقل و آباد تبدیل کند. در زمان او دولت‌های روس و انگلیس به شدت در امور کشور دخالت می‌کردند. امیر کبیر از دخالت شاهزادگان و درباریان در کشور جلوگیری نمود. او مدرسه‌ای تأسیس کرد تا افراد با علوم و فنون جدید آشنا شوند؛ روزنامه منتشر کرد و چندین کارخانه نیز تأسیس کرد. او از دخالت نمایندگان خارجی در امور داخلی ایران جلوگیری می‌کرد و می‌گفت: «نه به انگلیس امتیاز می‌دهیم و نه به روسیه». بیگانگان که فهمیده بودند با مردی روبه‌رو شده‌اند که نمی‌گذارد به اهدافشان برسند با بعضی از درباریان همدست شدند و آن قدر علیه او نزد شاه بدگویی کردند که شاه او را از صدراعظمی برکنار کرد و سپس با دستور ناجوانمردانه‌ی شاه، او را در فین کاشان به شهادت رساندند.

○ **میرزا کوچک خان جنگلی** : یونس معروف به میرزا کوچک در رشت دیده به جهان گشود. او چندی در مدارس علمیه به تحصیل علوم دینی مشغول شد. در اواخر دوره ی قاجار بخش هایی از کشور ما توسط نظامیان روسیه و انگلیس اشغال شده بود. بیگانگان به مردم ستم می کردند و حکومت نیز ناتوان بود. در این شرایط میرزا کوچک خان که مردی مؤمن، شجاع و حامی مظلومان بود در گیلان قیام کرد و بسیاری از مردم به او پیوستند. پیروان میرزا هم با مأموران حکومتی و هم با قوای روسی و انگلیسی جنگیدند؛ اما سرانجام بسیاری از آنها دستگیر شدند و میرزا کوچک خان به همراه دوستش در برف و سرمای کوهستان گرفتار شد و به شهادت رسید.



▲ آرامگاه میرزا کوچک خان ▲ میرزا کوچک خان جنگلی در رشت

○ **رئیس علی دلواری** : رئیس علی دلواری در اطراف شهر بوشهر چشم به جهان گشود. رئیس علی مردی شجاع بود و ایمانی قوی داشت. او در تیراندازی و سوارکاری ماهر بود. با شروع جنگ جهانی اول، انگلیسی ها جنوب ایران به ویژه بوشهر را اشغال کرده، و پرچم خودشان را در آنجا افراشته بودند. او درباره ی اشغال نظامی ایران به چند تن از روحانیون بوشهر نامه نوشت و آنها نیز در جواب گفتند که جنگیدن با اشغالگران واجب است. رئیس علی و هوادارانش که به آنها دلبران تنگستان می گفتند، قهرمانانه با انگلیسی ها جنگیدند اما در یکی از این نبردها، رئیس علی تیر خورد و به شهادت رسید.

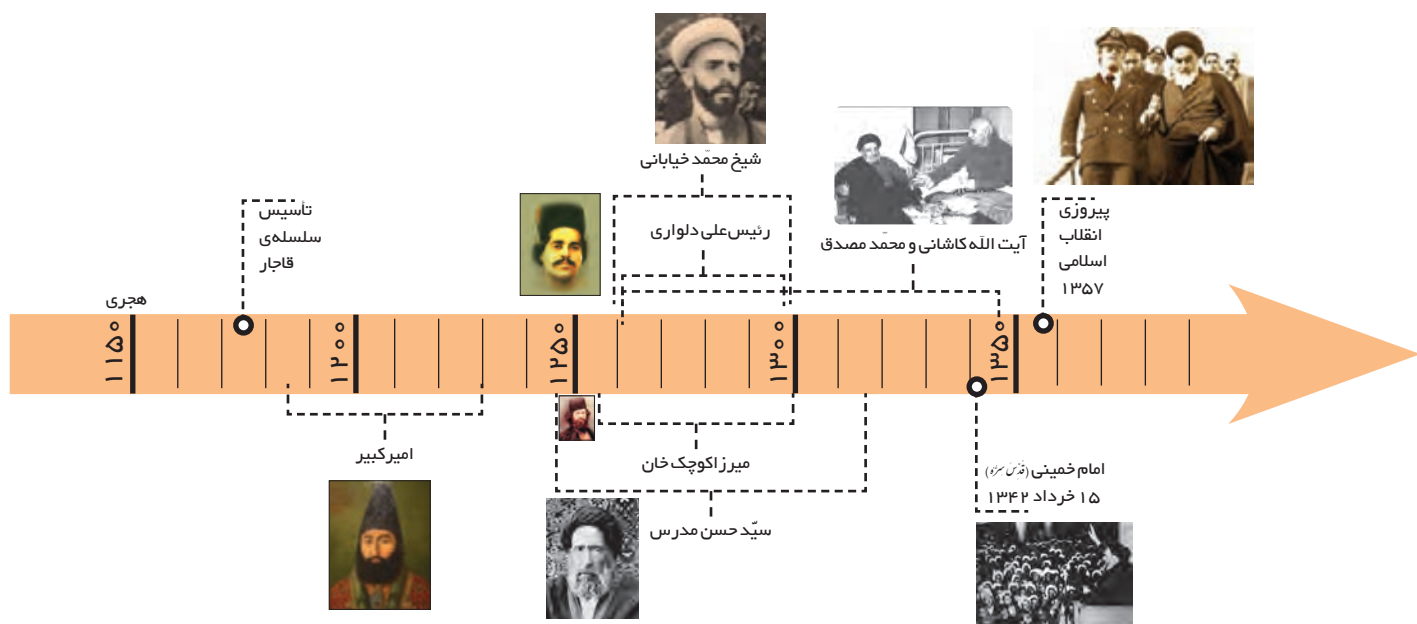


▲ مجسمه ی رئیس علی دلواری ▲ رئیس علی در بوشهر

○ **دکتر محمد مصدق و آیت الله سید ابوالقاسم کاشانی** از آغاز کشف و استخراج نفت در ایران، دولت انگلستان که از محصول نفت ایران درآمد زیادی کسب می کرد با بستن قراردادهایی منابع نفتی ما را غارت می کرد. دکتر محمد مصدق که در زمان حکومت پهلوی نماینده ی مجلس بود، شجاعانه در مقابل استعمار انگلیس ایستاد و برای ملی کردن نفت به مبارزه برخاست. در همان زمان آیت الله کاشانی نیز که از علمای مبارز و مخالف شدید استعمارگران بود از نهضت ملی شدن نفت ایران حمایت کرد و در این کار نقش بسیار مهمی داشت. سرانجام در اسفندماه سال ۱۳۲۹ شمسی مجلس شورای ملی قانون ملی شدن نفت را تصویب کرد تا دست بیگانگان را از نفت ایران کوتاه کند. محمدرضا شاه پهلوی با توطئه ی آمریکا و انگلیس، دکتر مصدق را به روستای احمدآباد تبعید، و او تا آخر عمر مانند یک زندانی زندگی کرد.



▲ دکتر مصدق و آیت الله کاشانی



فعالیت ۲

به نظر شما چرا امیرکبیر چند کارخانه تأسیس کرد؟

فعالیت ۳

کاربرگه‌ی شماره‌ی ۲۶ را در کلاس تکمیل کنید.

فعالیت ۴

یکی از سه فعالیت زیر را انتخاب کنید و انجام دهید.

الف - پیروزی انقلاب اسلامی به رهبری امام خمینی (قدس سره) دست بیگانگان را از کشور ما کوتاه کرد. پرس‌وجو کنید و یک جمله از امام (قدس سره) درباره‌ی قدرت‌های استعمارگر پیدا کنید و به کلاس بیاورید.

ب - به‌طور گروهی درباره‌ی یکی از قهرمانان مبارزه با استعمار (غیر از آنهایی که در این درس خواندید) تحقیق کنید و شرح حال مختصری از کارهای او را بنویسید. شما می‌توانید با راهنمایی معلم از کتاب‌های مناسبی که برای کودکان و نوجوانان نوشته شده است یا دانشنامه‌ی شبکه‌ی رشد (daneshnameh.roshd.ir) استفاده کنید.

ج - پرس‌وجو کنید آیا در شهر یا مکان‌های نزدیک به محل زندگی شما، کوچه یا خیابان یا میدانی را می‌شناسید که به نام شخصیت‌های این درس نام‌گذاری شده باشد.

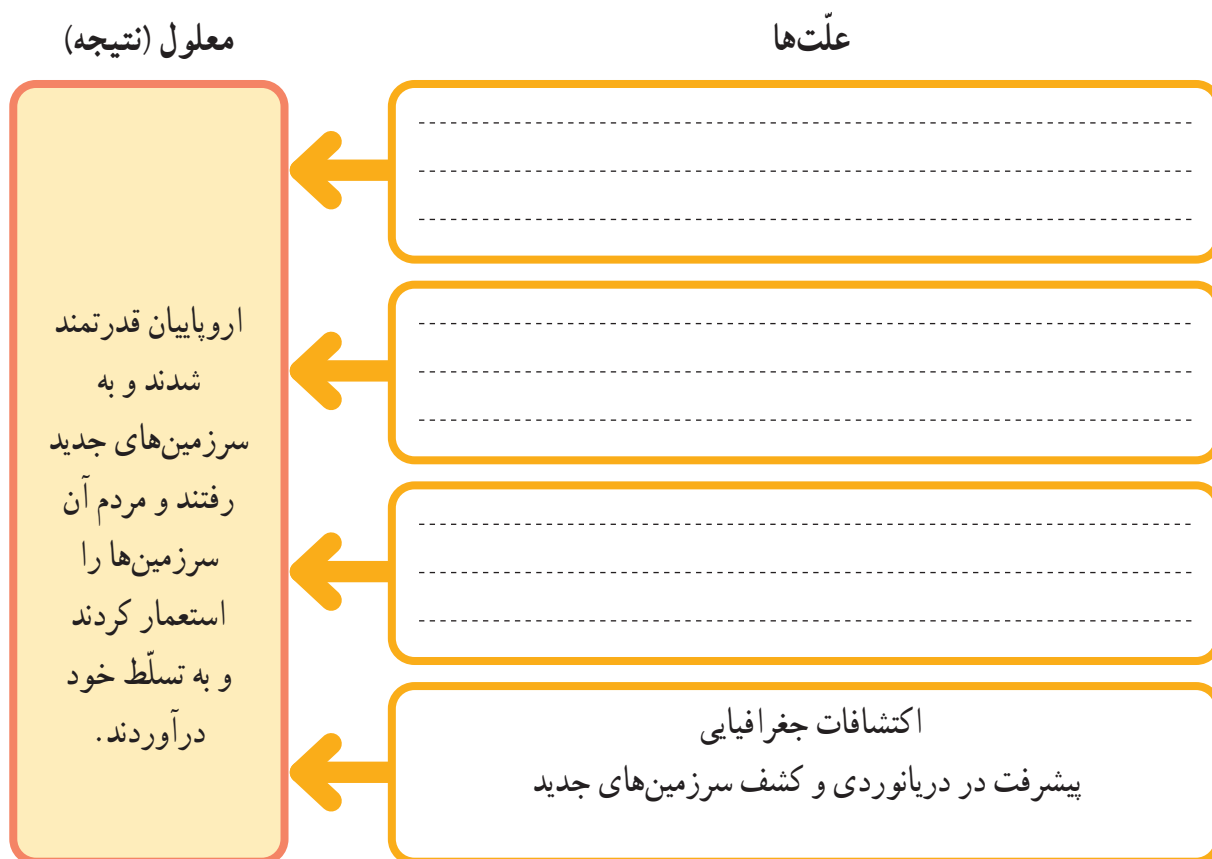
فعالیت ۵

به تقویم مراجعه، و روز ملی شدن صنعت نفت را در آن پیدا کنید. چرا این روز تعطیل رسمی است؟

علت‌های پیدایش استعمارگری

جدول را کامل کنید.

علت یعنی چرا یک چیز اتفاق می‌افتد؟
معلول یعنی نتیجه‌ای که در اثر آن علت‌ها به وجود می‌آید.



قلمرو ایران و قراردادهای استعماری

این نقشه قلمرو ایران کنونی و سرزمین‌هایی را که به موجب قراردادهای استعماری از ایران جدا شدند، نشان می‌دهد. روی نقشه جهت‌های اصلی و فرعی را بنویسید. سپس بگویید:



- در شرق و شمال شرق کدام مناطق قبلاً جزء قلمرو ایران بوده‌اند؟ چند مورد نام ببرید.
- در شمال غرب ایران، کدام مناطق قبلاً جزء قلمرو ایران بوده‌اند؟ چند نمونه نام ببرید.

آزادی خرمشهر

۱۲

فصل دوازدهم

حوزه‌های موضوعی

زمان، تداوم و تغییر

فضا و مکان

فرهنگ و هویت

نظام اجتماعی



در سال ۱۳۵۹ آن وقت که شما هنوز به دنیا نیامده بودید، کشور عزیز ما ایران مورد هجوم رژیم بعثی عراق قرار گرفت و جنگی رخ داد که پدران و مادران و بزرگ‌ترهای شما آن را به خوبی به یاد دارند. شما در کتاب‌ها و فیلم‌ها مطالبی در باره‌ی این جنگ خوانده یا دیده‌اید. شاید تاکنون در باره‌ی معنی و مفهوم کلماتی چون **جنگ تحمیلی و دفاع مقدس** فکر کرده‌اید و پرسش‌هایی برای شما پیش آمده باشد. دفاع مقدس از جنبه‌های مختلف برای مردم کشور ما اهمیت دارد. چرا این جنگ به وقوع پیوست و دشمن به ایران حمله کرد؟ مردم کشور ما چگونه با متجاوزان جنگیدند و از میهن دفاع کردند؟ چرا روز سوم خرداد، سالروز آزادی خرمشهر را گرامی می‌داریم؟ و....

موضوع این فصل آزادی خرمشهر و دفاع مقدس است. امید است شما با آموختن مطالب و انجام دادن فعالیت‌ها پاسخ پرسش‌های خود را پیدا کنید.

خرمشهر در چنگال دشمن

روز ۳۱ شهریور ۱۳۵۹ در حالی که مردم به زندگی خود مشغول بودند و دانش آموزان و خانواده‌هایشان برای شروع سال تحصیلی آماده می‌شدند، ناگهان صداهاى مهیبی همه را وحشت‌زده کرد. هواپیماهای عراقی در آسمان خرمشهر و تعدادی دیگر از شهرهای ایران ظاهر شدند و بمب‌های خود را بر سر مردم فرو ریختند. به نقشه‌های زیر توجه کنید. همان‌طور که می‌بینید، پس از حمله‌ی هواپیماهای عراقی به بعضی از شهرهای کشور، هجوم زمینی ارتش این کشور نیز به سرزمین جمهوری اسلامی آغاز شد. این حملات سرآغاز جنگ تحمیلی و هشت سال دفاع مقدس مردم ایران در مقابل دشمنان بود.



فعالیت ۱

با توجه به نقشه‌ی بالا چند شهر را که مورد هجوم زمینی ارتش عراق قرار گرفتند، نام ببرید.

فعالیت ۲

با کمک معلّم و با استفاده از یک نقشه‌ی استان‌های کشور، استان‌های هم‌مرز عراق را پیدا کنید و بنویسید.

علت‌های حمله‌ی نظامی عراق به ایران

در سال‌های گذشته آموختید که انقلاب اسلامی ایران در بهمن‌ماه ۱۳۵۷ به رهبری امام خمینی (قدس سره) به پیروزی رسید. امام خمینی (قدس سره) طی سال‌ها مردم را به مبارزه علیه حکومت استبدادی پهلوی دعوت و هدایت کردند.

امام (قدس سره) همچنین شخصیتی ضد استعماری بودند. ایشان همواره به جلوگیری از نفوذ بیگانگان در این کشور و استقلال ایران تأکید می‌کردند و می‌گفتند مردم باید خودشان سرنوشت کشور را به دست بگیرند.

● پس از انقلاب اسلامی، جمهوری اسلامی به‌وجود آمد و مردم ایران سرنوشت خود را به‌دست گرفتند و کشورهای استعمارگر متوجه شدند که منافع آنها در ایران قطع شده است.

● با تشکیل جمهوری اسلامی، ایران یاور مظلومان در جهان شد و از مبارزه‌ی مردم فلسطین حمایت کرد و همین موضوع برای دشمنان خوشایند نبود.

● در اوایل پیروزی انقلاب، سپاه پاسداران انقلاب اسلامی تازه شکل گرفته بود و ارتش و سپاه در حال مجهز شدن و نیرو گرفتن بودند و هنوز آمادگی کافی برای دفاع نداشتند. در همین زمان، صدام، حاکم ستمگر عراق از اوضاع سوء استفاده، و حمله‌ی نظامی را به ایران آغاز کرد.

اشغال خرمشهر

خرمشهر یکی از شهرهای زیبای جنوب غربی ایران و جزء بندرهای مهم بازرگانی در منطقه‌ی خلیج فارس به شمار می‌آید. این بندر در محل برخورد رود کارون و اروندرود قرار دارد. نزدیک‌ترین شهر به خرمشهر، آبادان است. ارتش عراق در هفته‌ی اول جنگ، بعضی از شهرهای مرزی ایران را اشغال کرد و در همه‌ی شهرها با مقاومت سرسختانه‌ی مردم روبه‌رو شد.

وقتی جنگ آغاز شد، امام خمینی (قدس سره) فرمودند:

من از ملت بزرگ ایران خواهانم که در هر مسئله‌ای که پیش می‌آید قوی باشند، قدرتمند باشند، متکی به خدای تبارک و تعالی باشند و از هیچ چیز باک نداشته باشند. ما از آن قدرت‌های بزرگ نترسیدیم. این (صدام) که قدرتی ندارد، عراق که چیزی نیست.



عکس خرمشهر بعد از حمله‌ی نظامی



عکس خرمشهر قبل از حمله‌ی نظامی



یکی از رؤیاهای صدام و فرماندهان عراقی این بود که خوزستان را به تصرف خود دریاورند و مالک خرمشهر و اروندرود بشوند. مقاومت مردم قهرمان خرمشهر در مقابل هجوم ناگهانی دشمن به درازا کشید و آنها ۳۴ روز در حالی که سلاح و مهمات کمی برای دفاع داشتند در مقابل ارتش مجهز به توپ و تانک عراقی‌ها جنگیدند.



صحنه‌هایی از دفاع رزمندگان



نماز مدافعان خرمشهر در حومه‌ی دارخوین

مطالعه برای انجام فعالیت

زندگینامه‌ی شهید محمد جهان آرا



شهید محمد جهان آرا در سال ۱۳۳۳ در خرمشهر به دنیا آمد. قبل از انقلاب او تحت تأثیر مبارزات امام با گروهی از دوستانش به فعالیت سیاسی علیه حکومت پهلوی پرداخت. حکومت شاه، او و دوستانش را دستگیر و به زندان محکوم کرد.

پس از گرفتن دیپلم در کنکور شرکت کرد و وارد دانشگاه شد. وی پس از پیروزی انقلاب، فرماندهی سپاه خرمشهر را به عهده گرفت و همزمان جهاد سازندگی را در خرمشهر ایجاد کرد.

با شروع جنگ، او دوش به دوش مردم خرمشهر علیه دشمن جنگید. بعد از اشغال خرمشهر، جنگ وارد مرحله‌ی تازه‌ای شد. رزمندگان اسلام در اولین گام، محاصره‌ی آبادان را شکستند. این پیروزی مهمی بود. جهان آرا و تعدادی از فرماندهان برای گزارش این خبر به امام خمینی و انجام یک مأموریت راهی تهران شدند اما هواپیمای آنها درین راه سقوط کرد و جهان آرا و همراهانش به شهادت رسیدند.

در آن زمان، محمد جهان آرا فرماندهی سپاه پاسداران خرمشهر بود. او و دیگر یارانش شجاعانه در کنار مردم با نیروهای متجاوز جنگیدند. خاطره‌ی فداکاری‌های آنها هرگز از یاد مردم ایران نخواهد رفت.

سرانجام، پس از این همه مقاومت، دشمن با سربازان بیشتر و سلاح فراوان به پیشروی ادامه داد و خرمشهر سقوط کرد و به دست ارتش صدام افتاد. دشمن شهر را غارت کرد و مردم زیادی را به شهادت رساند. به همین دلیل این شهر را خونین شهر نامیدند. پس از سقوط خرمشهر، ارتش صدام به قصد تصرف آبادان، این شهر را محاصره کرد.

پس از اشغال خرمشهر، صدام با موشک، توپ و هواپیما به شهرهای دیگر ایران حمله کرد. اما در بسیاری از شهرها مردم مقاومت و از شهر دفاع کردند. یکی از مقاوم‌ترین شهرهای ایران در هشت سال دفاع مقدس، شهر دزفول بود. شهر دزفول بیشترین حملات هوایی را تحمل کرد. مردم دزفول آن چنان مقاومت و دلیری از خود نشان دادند که این شهر به عنوان نمونه‌ی مقاومت و پایداری ایران عزیز انتخاب شد.

فعالیت ۳

خرّمشهر در کدام استان قرار دارد؟ روی نقشه، موقعیت آن را نشان دهید.

فعالیت ۴

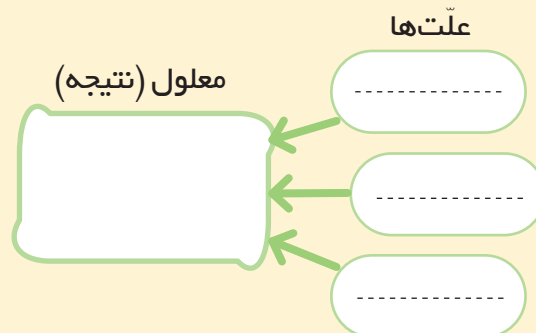
پیام امام خمینی (ره) را در آغاز جنگ تحمیلی بخوانید و بگویید معنی و مفهوم این پیام چه بود؟

فعالیت ۵

شعر معروف «مَدّ نبودی» را که به شهید جهان آرا اشاره می‌کند در کلاس پخش کنید و به‌طور دسته‌جمعی بخوانید.

فعالیت ۶

ابتدا روی یک برگه نمودار علت و معلول را رسم کنید؛ سپس علت‌های جنگ تحمیلی را به‌طور خلاصه روی آن بنویسید.



فعالیت ۷

در یک تقویم، روز سوم خرداد را پیدا کنید و بگویید چرا این روز به‌عنوان روز مقاومت و پایداری انتخاب شده است؟

خرمشهر در دامن میهن

آزادسازی خرمشهر



تصویر عملیات بیت المقدس



مسجد جامع — پس از آزادسازی خرمشهر

در جبهه‌ها، رزمندگان اسلام (ارتش، سپاه پاسداران انقلاب اسلامی و بسیج) به دعا و راز و نیاز با خدا مشغول بودند و سخت می‌جنگیدند. آنها آماده‌ی هرگونه فداکاری بودند. در سخت‌ترین شرایط به هم کمک می‌کردند و با یکدیگر مهربان بودند و به هم روحیه و امیدواری می‌دادند.

صدام پس از اشغال خرمشهر ده‌ها تانک و ابزار جنگی و چندین لشکر را در مناطق اطراف شهر مستقر کرده بود و می‌خواست شهرهای دیگر خوزستان را تصرف کند و به حملات خود به شهرهای دیگر ادامه دهد.

در این زمان ارتش و سپاه با پشتیبانی مردم تقویت شدند. نیروهای مردمی که به آنها بسیج می‌گویند به یاری ارتش و سپاه آمدند. فرماندهان، نقشه‌ای را برای آزادسازی خرمشهر طراحی کردند.

سرانجام رزمندگان اسلام با همکاری خلبانان شجاع نیروی هوایی ارتش در عملیات بیت المقدس توانستند نیروی دشمن را در هم بشکنند. در آخرین مرحله، ارتش بعثی صدام با تلفات زیاد و شکست بزرگی روبه‌رو شد. رزمندگان ایرانی درحالی که از شوق گریه می‌کردند، بر خاک خرمشهر قدم گذاشتند و خود را به مسجد جامع رساندند؛ بدین ترتیب خرمشهر در سوم خردادماه ۱۳۶۱ از چنگال دشمن بعثی آزاد شد.



مردم ایران در جریان عملیات بیت المقدس منتظر شنیدن اخبار جنگ بودند. ساعت ۴ بعد از ظهر گوینده‌ی رادیو اعلام کرد:
توجه فرمایید، شنوندگان عزیز! توجه فرمایید، خرمشهر، شهر خون آزاد شد! الله اکبر. الله اکبر.
مردم سراسر ایران با شنیدن این خبر به خیابان‌ها آمدند و به شادمانی پرداختند. خیابان‌ها پر از جمعیتی بود که اشک شوق بر چشم داشتند.

**امام خمینی (قدس سره) پس
از آزادی خرمشهر به دست
رزندگان اسلام، فرمودند:
خرمشهر را خدا آزاد کرد.**

فعالیت ۱

برای بزرگداشت و شادی روح همه‌ی شهدای دفاع مقدس در کلاس فاتحه بخوانید.

فعالیت ۲

به‌طور گروهی یکی از تحقیق‌های زیر را انتخاب کنید و انجام دهید:
الف - درباره‌ی زندگی یکی از شهدای جنگ تحمیلی شهر، روستا یا محله‌ی خود تحقیق کنید و نتیجه را به کلاس بیاورید.
ب - درباره‌ی شهید بهنام محمدی که هنگام هجوم نیروهای عراقی به خرمشهر با آنها جنگید، تحقیق کنید. شما می‌توانید با کمک معلم از مجموعه کتاب‌هایی که در این باره برای کودکان و نوجوانان نوشته شده است یا پایگاه اینترنتی شبکه‌ی رشد، دانشنامه‌ی رشد استفاده کنید.



دانش‌آموز شهید - بهنام محمدی

مطالعه برای انجام فعالیت

پس از آزادی
خرمشهر چه شد؟

هشت سال دفاع مقدّس

پس از آزادی خرمشهر حکومت صدام سعی کرد با گرفتن کمک‌های مالی و اسلحه از کشورهای قدرتمند قوای خود را تقویت کند و همچنان به هجوم خود ادامه بدهد. رزمندگان شجاع میهن ما در عملیات‌های متعدّد، بخش‌های دیگری از مناطق اشغال شده‌ی کشورمان را از دشمن بازپس گرفتند و آن‌گاه در سال ۱۳۶۷ ایران آمادگی خود را برای پذیرش قطعنامه‌ی صلح اعلام کرد و جنگ هشت ساله به پایان رسید. در هشت سال دفاع مقدّس مردم ایران اجازه ندادند حتّی یک وجب از خاک میهن در اشغال تجاوزگران باقی بماند.

در مقابل هجوم دشمن به کشور ما، همه‌ی ملت ایران از اقوام و گروه‌های مختلف، زن و مرد و پیر و جوان ایستادگی و از میهن دفاع کردند. آن عده از مردم هم که نمی‌توانستند در جبهه‌های جنگ شرکت کنند باروش‌های دیگر به رزمندگان کمک می‌کردند.

برای بازپس گرفتن مناطق اشغال شده‌ی ایران هزاران نفر از مردم شجاع کشور ما شهید شدند و خانواده‌ها مشکلات زیادی را تحمّل کردند تا استقلال میهن اسلامی حفظ شود.



کمک‌های مردمی در پشت جبهه‌ها

فعالیت ۳

چرا امام خمینی (قدس سره) پس از فتح خرمشهر به دست رزمندگان اسلام فرمودند: «خرمشهر را خدا آزاد کرد».

فعالیت ۴

اگر شما در زمان جنگ تحمیلی به دنیا آمده بودید و با حمله دشمن به خاک ایران روبه‌رو می‌شدید، چه کارهایی می‌کردید؟

فعالیت ۵

- با همکلاسی‌هایتان گفت‌وگو کنید:
- الف) رسانه‌ها چه تأثیرات مثبت و منفی در طول ۸ سال دفاع مقدس داشتند؟
 - ب) دشمن همیشه از طریق اسلحه و مهمات حمله نمی‌کند:
 - انتشار اخبار دروغ در هنگام جنگ چه تأثیراتی دارد؟
 - معمولاً این اخبار در کجا منتشر می‌شود؟
 - راه‌های شناسایی اخبار جعلی چیست؟

فعالیت ۶

کاربرگ‌های شماره‌ی ۲۷ (خط زمان دفاع مقدس) را کامل کنید.

فعالیت ۷

از عکس‌های (۱) و (۲) صفحه‌ی قبل چه می‌فهمید؟

اکنون که این فصل را به پایان رساندید، روی یک برگ کاغذ بنویسید
درباره‌ی دفاع مقدس چه سؤال‌های دیگری دارید؟

دفاع مقدس

تمرین : خواندن خطّ زمان

۱- حمله‌ی نظامی رژیم بعثی عراق به ایران در چه سالی صورت

گرفت؟

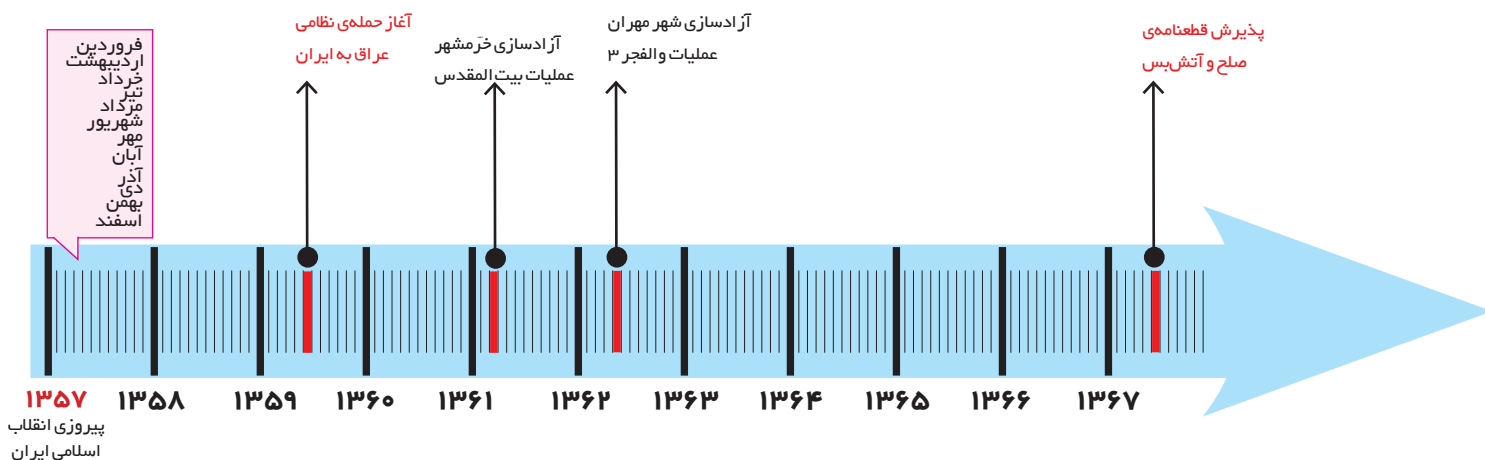
۲- آزادسازی خرمشهر، (عملیات بیت‌المقدس) در چه سالی

صورت گرفت؟

۳- عملیات والفجر ۳ در چه سالی اتفاق افتاد؟ در این عملیات

کدام شهر آزاد شد؟

۴- دفاع مقدس چند سال طول کشید؟ روی خطّ زمان بشمارید.



معلمان محترم، صاحب نظران، دانش آموزان عزیز و اولیای آنان می توانند نظر اصلاحی خود را درباره مطالب کتاب های درسی از طریق سامانه «نظر سنجی از محتوای کتاب درسی» به نشانی «nazar.roshd.ir» یا نامه به نشانی تهران - صندوق پستی ۴۸۷۴ - ۱۵۸۷۵ ارسال کنند.



سازمان پژوهش و برنامه ریزی آموزشی