

بِسْمِ اللّٰهِ الرَّحْمٰنِ الرَّحِیْمِ

زیست شناسی و آزمایشگاه (۱)

سال دوم آموزش متوسطه

رشته علوم تجربی

وزارت آموزش و پرورش سازمان پژوهش و برنامه‌ریزی آموزشی

برنامه‌ریزی محتوا و نظارت بر تألیف: دفتر برنامه‌ریزی و تألیف کتابهای درسی

نام کتاب: زیست‌شناسی و آزمایشگاه (۱) - ۲۳۱/۱

مؤلفان: محمد کرام‌الدینی، علی حائری روحانی، وحید نیکنام و سیدعلی آل‌محمد

بازبینی و اصلاح: بهمن ذخریان، الهه علوی و مریم انصاری

آماده‌سازی و نظارت بر چاپ و توزیع: اداره کل چاپ و توزیع کتابهای درسی

تهران: خیابان ایرانشهر شمالی - ساختمان شماره ۴ آموزش و پرورش (شهید موسوی)

تلفن: ۹-۸۸۸۳۱۱۶۱، دورنگار: ۹۲۶۶-۸۸۳۰، کد پستی: ۱۵۸۴۷۴۷۳۵۹

وب‌سایت: www.chap.sch.ir

مدیر امور فنی و چاپ: سید احمد حسینی

طراح جلد: علیرضا رضائی‌کُر

صفحه‌آرا: سمیه قنبری

حروفچین: فاطمه باقری‌مهر

مصصح: فاطمه گیتی‌جبین، رعنا فرج‌زاده‌دروئی

امور آماده‌سازی خیر: زهرا محمدنظامی

امور فنی رایانه‌ای: حمید ثابت‌کلاچاهی، مریم دهقان‌زاده

ناشر: شرکت چاپ و نشر کتابهای درسی ایران - تهران - کیلومتر ۱۷ جاده مخصوص کرج - خیابان ۶۱ (داروبخش)


تلفن: ۵-۴۴۹۸۵۱۶۱، دورنگار: ۴۴۹۸۵۱۶۰، صندوق پستی: ۱۳۹-۳۷۵۱۵

چاپخانه: شرکت چاپ و نشر کتابهای درسی ایران («سهامی خاص»)

سال انتشار و نوبت چاپ: چاپ سیزدهم ۱۳۹۱

حق چاپ محفوظ است.

شابک ۹۶۴-۰۵-۰۷۲۶-۱ ISBN 964-05-0726-1



نهضت برای اسلام نمی تواند محصور باشد در یک کشور و نمی تواند محصور باشد در حتی کشورهای اسلامی. نهضت برای اسلام همان دنباله نهضت انبیاست. نهضت انبیا برای یک محل نبوده است، پیغمبر اکرم اهل عربستان است لیکن دعوتش مال عربستان نبوده، محصور نبوده به عربستان، دعوتش مال همه عالم است.

امام خمینی

فهرست

سخنی با دانش‌آموزان عزیز

۱	درس ۱ مولکول‌های زیستی
۱۶	درس ۲ سفری به درون سلول
۴۲	درس ۳ سازمان‌بندی سلول‌ها
۵۴	درس ۴ تغذیه و گوارش
۶۸	درس ۵ تبادل گازها
۷۵	درس ۶ گردش مواد
۱۰۲	درس ۷ تنظیم محیط داخلی و دفع مواد زاید
۱۱۰	درس ۸ حرکت
۱۲۶	فهرست منابع

سخنی با دانش آموزان عزیز

فکر می‌کنید روزی چند خبر دربارهٔ زیست‌شناسی در رسانه‌های گروهی جهان منتشر می‌شود؟ اگر به اخبار یک روز این رسانه‌ها توجه کنید، حتماً خبری دربارهٔ زیست‌شناسی در آنها خواهید یافت.

گرم‌تر شدن تدریجی هوای کرهٔ زمین، آلودگی هوا، آلودگی آب‌ها، انقراض گونه‌های جانداران، مهندسی ژنتیک، کودکان آزمایشگاهی، تغذیه، تنظیم وزن بدن، بیماری‌ها و پیشرفت‌های پزشکی و بسیاری خبرهای خوب یا بد دیگر، نمونه‌ای از خبرهایی از زیست‌شناسی هستند که دائماً دربارهٔ آنها مطالبی می‌خوانیم یا می‌شنویم. در شکل زیر تصویری از بریدهٔ خبرهایی را که مربوط به زیست‌شناسی هستند، و فقط در یک شماره از روزنامه‌ای چاپ شده‌اند، مشاهده می‌کنید.



یک شماره از یک روزنامه و خبرهای مربوط به زیست‌شناسی که در آن به چاپ رسیده است. (روزنامه و روز انتشار آن به طور اتفاقی انتخاب شده است).

امیدهایی که این خبرها برمی‌انگیزانند و حل دشواری‌های مربوط به آنها و بسیاری از موضوع‌های مشابه دیگر، در حیطه کار زیست‌شناسان است. بنابراین، زیست‌شناسی نقش بسیار مهمی در زندگی امروز انسان دارد.

زیست‌شناسی در دنیای امروز بیشتر به این دلیل مشهور شده است که زیست‌شناسان امروزی در پیشبرد فناوری و علوم پزشکی دارویی و غذایی نیز سهم عمده‌ای دارند. در نتیجه بسیاری از کشفیات زیست‌شناسان، در زندگی روزمره ما کاربرد دارد. مثلاً یکی از جدیدترین کاربردهای دانش زیست‌شناسی، فناوری انتقال ژن از جاندار به جاندار دیگر و به وجود آوردن جاندارانی جدید است. ژنتیک مولکولی پایه‌های این فناوری نوین را تشکیل می‌دهد. امروزه پژوهشگران از این فناوری که مهندسی ژنتیک نیز نامیده می‌شود، در کشاورزی و دامپروری، برای تولید داروهای جدید، درمان بعضی بیماری‌های ارثی، بهبود گیاهان و جانوران، استفاده می‌کنند.

یکی از مهم‌ترین کاربردهای زیست‌شناسی، حل مسایل زیست‌محیطی است. امروزه انسان با مسایل مهمی در رابطه با محیط‌زیست خود روبه‌روست؛ تغییر آب و هوای کره زمین، یکی از این مسایل است. همه ساله بخش عظیمی از جنگل‌های جهان بی‌درخت می‌شوند. قطع درختان جنگل عمده‌تاً برای استفاده از چوب آنها، یا انجام کشاورزی در زمین‌هایی که روزگاری جنگل بوده‌اند، باعث نابودی تعداد بی‌شماری گونه گیاهی و جانوری و نیز افزایش دی‌اکسیدکربن هوا و در نتیجه گرم‌تر شدن جو، می‌شود. خطر بزرگ گرم‌تر شدن هوای کره زمین، ذوب شدن یخ‌های قطبی، بالا آمدن آب‌های دریاها و کره زمین و در نتیجه بروز مسایل دیگر زیست‌محیطی است.

برای به حداقل رساندن این مشکلات، آشنایی با علم زیست‌شناسی ضروری است. بدون داشتن دانش پایه درباره آن، نمی‌توان در دنیای امروز مسئولانه زندگی کرد. مثلاً برای کسب سلامتی و حفظ آن، آشنایی با مولکول‌ها، سلول، شناخت گیاهان، جانوران مفید و زیان‌مند و نیز شناخت ساختار و کار بخش‌های بدن آدمی، لازم است.

برای پی بردن به اثرهای نامطلوب خرابی محیط زیست، شناخت گیاهان، جانوران، اکوسیستم‌ها، چرخه‌های مواد، سلول، مولکول‌ها و فتوسنتز لازم است. آشنایی با چرخه‌های آب، کربن و نیتروژن، رشد جمعیت آدمی و اثرهای آب و هوا بر پراکندگی جانداران کره زمین نیز از مطالبی است که به جلوگیری از تشدید این مسایل و نیز به حل آنها کمک می‌کند.

زیست‌شناسی، از مولکول‌های زیستی سازنده پیکر جانداران تا اکوسیستم‌ها و زیست‌کره را شامل می‌شود و لذا، به‌طور مستقیم زندگی روزمره ما را تحت تأثیر قرار می‌دهد. این علم به ما کمک می‌کند تا بر بسیاری مسایل زیست‌محیطی، تغذیه‌ای، پزشکی و بهداشتی، پیروز شویم. زیست‌شناسی به ما کمک می‌کند، خود و دنیای پیرامونمان را بهتر بشناسیم.

کتابی که در دست دارید نخستین کتاب از مجموعه کتاب‌های زیست‌شناسی دوره دبیرستان، ویژه دانش‌آموزان رشته علوم تجربی است. در این کتاب‌ها نیز، مانند کتاب علوم زیستی و بهداشت که سال اول خواندید، سعی شده است در کنار مطالب علمی، فعالیت‌هایی برای شما در نظر گرفته شود. این فعالیت‌ها برای افزایش درک شما از زیست‌شناسی و ارتقای توانایی شما در حل مسایل زیستی طراحی شده‌اند. معلم‌تان به شما کمک خواهد کرد تا این فعالیت‌ها را انجام دهید. به یاد داشته باشید که زیست‌شناسی، علمی تجربی است و فقط با حفظ کردن مطالب آن، بدون داشتن مهارت لازم در زمینه آندیشیدن و پژوهش در دنیای پیرامون، نمی‌توان سهم شایسته‌ای در پیشبرد آن برعهده گرفت.

برای انجام فعالیت‌هایی که در این کتاب برای شما پیش‌بینی شده است، عمده‌تاً باید یک یا چند مورد زیر را انجام دهید: در بعضی از فعالیت‌ها از شما خواسته شده است با توجه به دانشی که در متن درس به دست آورده‌اید، پاسخ یک یا چند سؤال را بدهید.

در بعضی دیگر از فعالیت‌ها، موضوعی برای بحث بین شما و همکلاسی‌هایتان مطرح شده است. شما باید در زمینه موضوع پیشنهادی با یکدیگر بحث کنید و به تبادل نظر بپردازید و سرانجام نتیجه بحث خود را ارائه دهید.

در بعضی از فعالیت‌ها باید براساس دستورالعملی که به شما داده شده است، آزمایشی را انجام دهید. برای انجام این آزمایش‌ها باید سعی کنید براساس آنچه برایتان شرح داده شده است، عمل کنید و نتیجه را به معلم گزارش دهید.

مشاهده، مهارتی است که در بعضی از فعالیت‌ها باید انجام دهید. منظور از مشاهده کردن در روش علمی فقط نگاه کردن نیست. اگرچه هنگام مشاهده بیشتر از چشم استفاده می‌کنیم، اما استفاده مناسب از همه حواس به درک ما از اشیا و پدیده‌های پیرامونمان کمک می‌کند.

یکی از مهم‌ترین کارها و مهارت‌هایی که هنگام پژوهش و تحقیق مطرح می‌شود، تفسیر کردن نتایجی است که از تحقیقات و آزمایش‌ها به دست می‌آید. در این نوع فعالیت‌ها از شما خواسته شده است با کمک قوه استدلال از حقایقی که به صورت داده به شما ارائه می‌شود، نتیجه‌گیری کنید.

گاهی لازم است اطلاعاتی جمع‌آوری کنید. برای این کار به کتاب‌ها، مجلات، روزنامه‌ها و غیره مراجعه کنید یا از افرادی که تشخیص می‌دهید در این زمینه مفید و آگاه هستند، پرسید. اطلاعاتی را که به دست می‌آورید، منظم کنید و آنهایی را که تشخیص می‌دهید قابل ارائه است، به کلاس گزارش دهید. گاه لازم است برای جمع‌آوری اطلاعات به مشاهده و بررسی موجودات زنده یا پدیده‌های مربوط به آنها بپردازید.

توجه داشته باشید همه آنچه شرح داده شد برای تحقیق و پژوهش لازم است. به طور کلی همه موارد بالا در چهار مرحله پژوهش جای داده می‌شود.

۱- طراحی آزمایش ۲- اجرای آزمایش ۳- تفسیر نتایج حاصل از آزمایش ۴- ارائه گزارش

یکی از اهداف آموزش زیست‌شناسی تقویت این مهارت‌ها در شماست. فراگیری این مهارت‌ها همراه با دانشی که به صورت واقعیت‌های علمی در این کتاب ارائه شده است و نگرش‌هایی که در ضمن یادگیری به دست می‌آورید، در مجموع برای رسیدن به اهداف آموزش زیست‌شناسی و مشارکت در کوشش‌های پژوهشگران زیست‌شناسی ضروری است.

علم زیست‌شناسی در سده بیست و یکم میلادی، به شکوفاترین حد خود رسیده است. پیشرفت‌های سریع زیست‌شناسی که در سال‌های اخیر روی داده است، اگر چه به بسیاری از سؤالات پاسخ داده، اما مجهولات و مسائلی را نیز روبه‌روی ما قرار داده است که کشف و حل بسیاری از آنها بر عهده شماست!

بر عهده شما دانش‌آموزان میهن اسلامی است که با تلاش خود، در کوشش جهانی پژوهشگران عرصه علم سهیم شوید و با شرکت در توسعه علمی و اجتماعی کشورمان بر افتخارات سرزمین اسلامی مان که یکی از گهواره‌های تمدن و فرهنگ انسانی است، بیفزایید.

سایت گروه زیست‌شناسی <http://biology-dept.talif.sch.ir>

گروه زیست‌شناسی

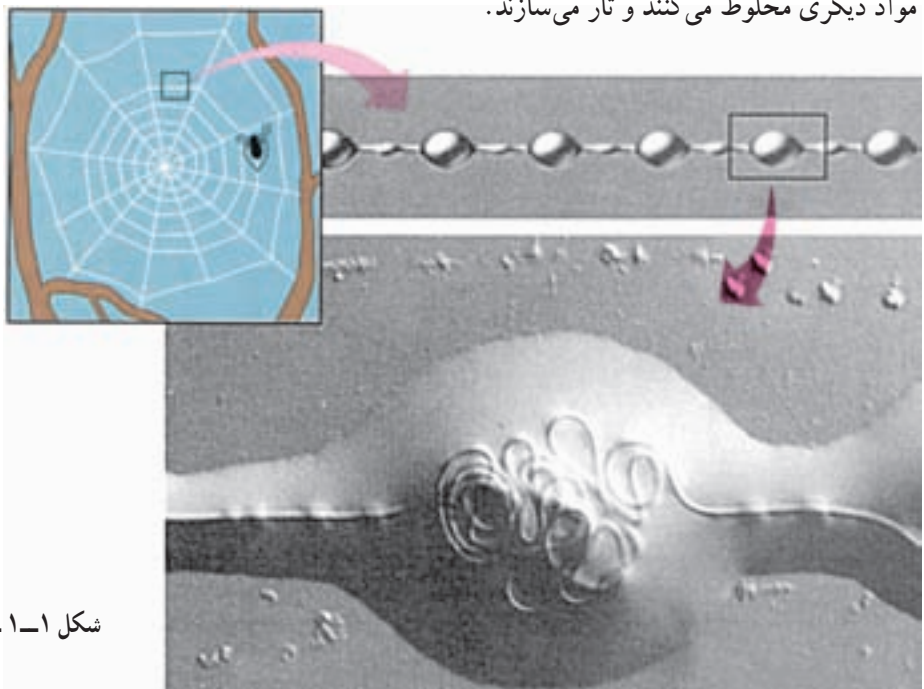
دفتر برنامه‌ریزی و تألیف کتب درسی



مولکول‌های زیستی

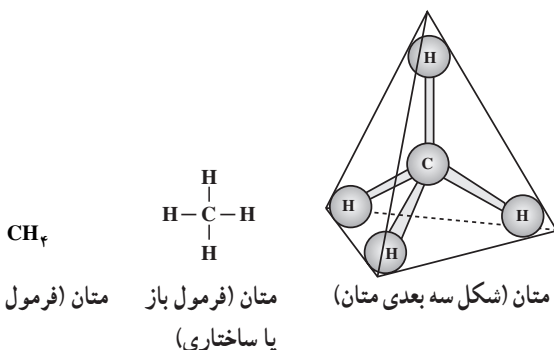
پروتئین‌های تشکیل‌دهندهٔ تار عنکبوت استحکام، چسبندگی و کشسانی بسیار دارند، به طوری که حشره‌ای که در دام می‌افتد، نمی‌تواند دام را بگسلد و فرار کند. رشته‌های موجود در تار عنکبوت که درون اجسام مهره مانند (شکل ۱-۱) روی یکدیگر پیچ و تاب خورده‌اند، چسبناک و کشسان هستند. در اثر نیرویی که به این قسمت از رشته‌ها وارد می‌شود، پیچ و تاب‌های آنها باز

تار عنکبوت همیشه برای آدمی جالب توجه بوده است. مقاومت هر یک از این تارها، نسبت به قطری که دارند، بسیار زیاد و بی‌همتاست. عنکبوت تنیدن تار را با سرعت بسیار انجام می‌دهد. توانایی تنیدن تار ارثی است و عنکبوت اطلاعات مربوط به این توانایی را به شکل مولکول‌های DNA از والدین خود به ارث برده است. غده‌های مربوط به تنیدن تار در زیر سطح شکمی جانور قرار گرفته‌اند. این غده‌ها پروتئین ویژه‌ای را با مواد دیگری مخلوط می‌کنند و تار می‌سازند.



شکل ۱-۱ - ساختار یک تار عنکبوت

در شکل ۱-۲ ساختار اتم‌های کربن و هیدروژن و تمایل آنها برای ترکیب با یکدیگر، نشان داده شده است. هر اتم کربن می‌تواند با چهار اتم هیدروژن پیوند برقرار سازد (شکل ۱-۳).



شکل ۱-۳- پیوند بین یک اتم کربن و چهار اتم هیدروژن یک مولکول متان به وجود می‌آورد.

هر یک از خط‌هایی که در شکل ۱-۳ در مولکول متان اتم‌های کربن را به هیدروژن متصل کرده است، نشان‌دهنده یک پیوند کووالانسی است که از به اشتراک گذاشتن دو الکترون ساخته شده است: یک الکترون مربوط به کربن و الکترون دیگر مربوط به اتم هیدروژن. مولکول متان (CH_4) یک مولکول چهار وجهی است و چهار اتم هیدروژن متان در چهار گوشه این چهار وجهی قرار گرفته‌اند.

متان و سایر مولکول‌هایی که در ساختار خود فقط کربن و هیدروژن دارند، هیدروکربن نام دارند. در شکل ۱-۴ چند نوع هیدروکربن می‌بینید.

زنجیره کربنی مولکول‌های آلی، اسکلت کربنی نامیده می‌شود.

می‌شود. در این حالت طول رشته‌ها به چهار برابر افزایش می‌یابد. پس از قطع کشش یا رانش، بار دیگر رشته‌ها پیچ و تاب می‌خورند و به حالت اول باز می‌گردند. این توانایی برای نگه داشتن حشراتی که به دام افتاده‌اند و نیز برای دارا بودن انعطاف در برابر باد و سایر نیروها، مانند وزن قطره‌های باران یا شبنم، لازم است. قابلیت پیچ خوردگی و باز شدن مجدد این پیچ خوردگی‌ها خاصیت کشسانی فراوانی به تارها می‌دهد.

شبکه تارهای عنکبوت، نشانگر کاربرد مولکول‌های زیستی در جانداران هستند: پروتئین‌های موجود در تار و DNA جاندار که توانایی تولید تار را از والدین به فرزندان منتقل می‌کند، دو گروه از مولکول‌های مهم زیستی هستند. گوناگونی این دو نوع مولکول زیستی، زمینه گوناگونی جانداران است.

ویژگی‌های عنصر کربن به ایجاد گوناگونی مولکول‌های زیستی کمک کرده است.

تقریباً همه مولکول‌هایی که در سلول‌ها ساخته می‌شوند، کربن دارند. کربن در این مولکول‌ها با سایر اتم‌ها پیوند برقرار می‌کند. بعد از آب، مولکول‌های کربن دار، بیشترین ترکیب‌های بدن جانداران را تشکیل می‌دهند.

مواد کربن‌داری که در سلول ساخته می‌شوند، مواد آلی نام دارند. اتم کربن در ترکیب با عناصر دیگر می‌تواند حداکثر ۴ پیوند کووالانسی تشکیل دهد. به عبارت دیگر، ظرفیت عنصر کربن ۴ است، یعنی این عنصر می‌تواند با چهار عنصر یک ظرفیتی دیگر پیوند برقرار کند.



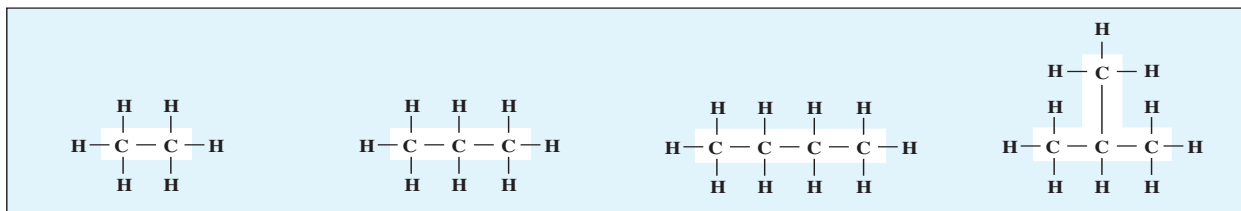
شکل ۱-۲- کربن چهار ظرفیتی و هیدروژن یک ظرفیتی است.

خودآزمایی ۱-۱

۱- اصطلاحات زیر را تعریف کنید:

ماده آلی هیدروکربن اسکلت کربنی

۲- اتم کربن با چند اتم دیگر می‌تواند پیوند کووالانسی تشکیل دهد؟



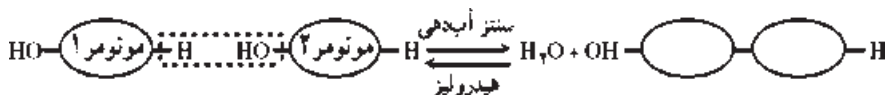
شکل ۴-۱- فرمول ساختاری چند هیدروکربن. آیا می‌توانید چند نوع هیدروکربن دیگر با اتم‌های کربن و هیدروژن بسازید؟

بین افراد یک گونه از جانداران وجود دارد، به علت نوع ترکیب مونومرهای مختلف با یکدیگر و در نتیجه تولید پلی‌مرهای مختلف است. یکی از اصول اساسی حیات و جانداران این است: مولکول‌های کوچک که در همه جانداران یکسان‌اند، به صورت درشت مولکول‌هایی درمی‌آیند که در افراد مختلف جانداران، متفاوت‌اند.

هیدرولیز و سنتز آب‌دهی دو واکنش مهم زیستی هستند

می‌دانیم که فرمول شیمیایی آب، H_2O یا HOH است. بعضی از گروه‌های $-H$ و $-OH$ که در مونومرها حضور دارند، تمایل دارند با یکدیگر ترکیب و به صورت H_2O از مونومرها جدا شوند. نتیجه آن می‌شود که آن دو مونومر با هم ترکیب می‌شوند و یک مولکول آب، از بین آن دو، آزاد می‌شود (شکل ۵-۱). این نوع واکنش سنتز آب‌دهی نام دارد.

عکس چنین واکنشی هنگام تجزیه یک پلی‌مر به مونومرهای آن اتفاق می‌افتد؛ یعنی هنگام تجزیه یک پلی‌مر به مونومرهای سازنده آن، مولکول‌های آب به صورت $-H$ و $-OH$ در می‌آیند و بدین ترتیب یک مولکول پلی‌مر را به مونومر تبدیل می‌کنند. چنین واکنشی هیدرولیز نام دارد (شکل ۶-۱).



شکل ۵-۱- سنتز آب‌دهی و هیدرولیز

سلول‌ها از چند نوع مولکول کوچک، انواع بسیاری درشت مولکول می‌سازند

بسیاری از مولکول‌های زیستی نسبت به مولکول‌های غیرزیستی بسیار بزرگ‌اند و بنابراین درشت مولکول نامیده می‌شوند. مثلاً، هر مولکول پروتئین از هزاران اتم ساخته شده است که با پیوندهای کووالانسی به یکدیگر متصل شده‌اند. نوکلئیک اسیدها و کربوهیدرات‌ها (هیدرات‌های کربن) نیز درشت مولکول‌اند.

بسیاری از این درشت مولکول‌ها در سلول، به صورت پلی‌مر ساخته می‌شوند. پلی‌مر مولکولی است که از واحدهایی کم و بیش یکسان تشکیل شده باشد. مثلاً سلولز یک پلی‌مر است که از واحدهایی مشابه (گلوکز) ساخته شده است. هر یک از واحدهای سازنده یک مولکول پلی‌مر، مونومر نامیده می‌شود.

گوناگونی پلی‌مرها در دنیای جانداران بسیار گسترده است. مثلاً جانداران می‌توانند انواع بسیاری پروتئین تولید کنند و جالب توجه این است که سلول‌ها این تنوع را تنها با ۲۰ نوع آمینواسید (اسید آمینه) می‌سازند. مونومرهای تشکیل‌دهنده مولکول‌های DNA (نوکلئوتیدها) در دنیای زنده فقط ۴ نوع هستند.

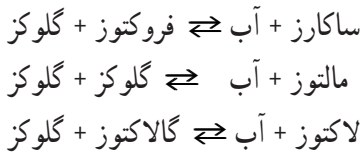
تفاوت‌های بین جانداران، از جمله اختلاف‌های فردی که

خودآزمایی ۲-۱

- ۱- پلی‌مر چیست؟
- ۲- پروتئین‌ها از چند نوع آمینواسید ساخته شده‌اند؟
- ۳- تفاوت جانداران با یکدیگر به سبب تفاوت در مولکول‌های کوچک است یا تفاوت در درشت مولکول‌ها؟
- ۴- تجزیه و تشکیل یک پلی‌مر به کمک چه واکنش‌هایی انجام می‌گیرد؟

بسیاری از میوه‌های خوراکی وجود دارد و گالاکتوز مونوساکاریدی است که از هیدرولیز لاکتوز (قند شیر) حاصل می‌شود. هرگاه دو مونوساکارید با واکنش سنتز آب‌دهی با یکدیگر ترکیب شوند، مولکولی به نام دی‌ساکارید به وجود می‌آورند (شکل ۱-۷).

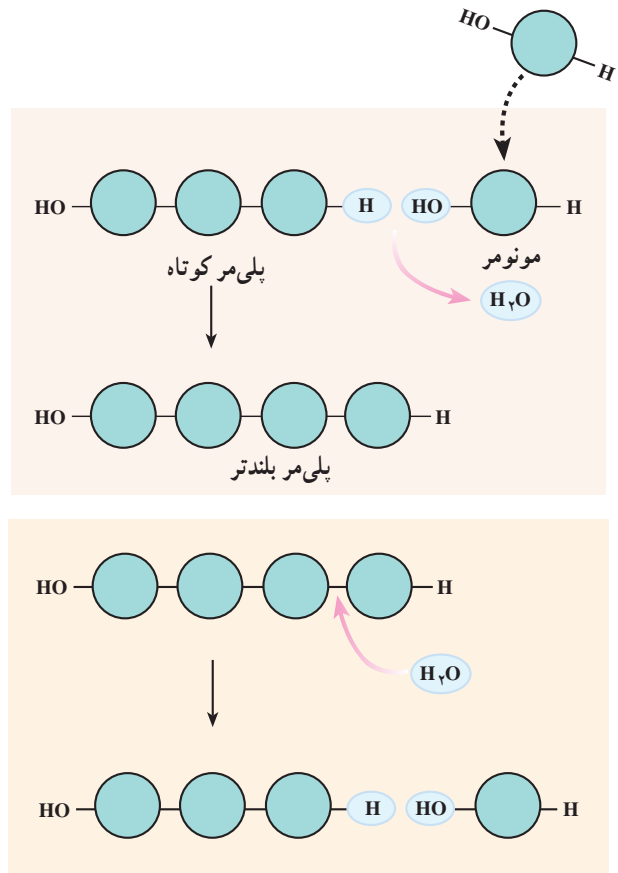
ساکارز، مالتوز و لاکتوز، سه نوع دی‌ساکارید هستند. ساکارز همان قند یا شکر است، مالتوز قندی است که در جوانه جو، به فراوانی یافت می‌شود و لاکتوز قند شیر است:



پلی‌ساکاریدها زنجیره‌های طولی از مونوساکاریدها هستند: چند صد تا چند هزار مونوساکارید با واکنش سنتز آب‌دهی به هم می‌پیوندند و یک مولکول پلی‌ساکارید به وجود می‌آورند. نشاسته یک پلی‌ساکارید ذخیره‌ای است. در شکل ۱-۸ مشاهده می‌کنید که این مولکول از مونومرهای گلوکز ساخته شده است.

سلول‌های گیاهی همیشه برای آزاد کردن انرژی به گلوکز نیاز دارند. گیاهان مولکول‌های گلوکز را به صورت پلی‌مر نشاسته در می‌آورند و آن را ذخیره می‌کنند. سلول‌های گیاه، هنگام نیاز، پیوندهای بین مولکول‌های گلوکز موجود در نشاسته را به روش هیدرولیز قطع می‌کنند و گلوکز آزاد می‌کنند. دستگاه گوارش انسان و بسیاری از جانوران آنزیم هیدرولیزکننده نشاسته را دارد. سیب‌زمینی و دانه‌هایی مانند گندم، برنج و ذرت، مقدار زیادی نشاسته دارند.

سلول‌های جانوری گلوکز اضافی خود را به صورت گلیکوژن ذخیره می‌کنند. گلیکوژن به نشاسته شباهت بسیار دارد.

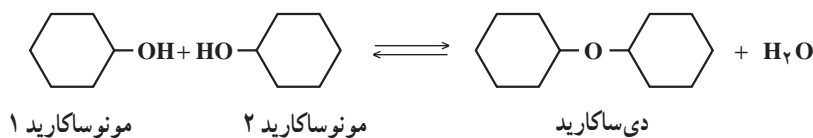


شکل ۱-۶- سنتز آب‌دهی (بالا) و هیدرولیز (پایین)

کربوهیدرات‌ها

مونوساکاریدها ساده‌ترین کربوهیدرات‌ها هستند: مونوساکاریدها، مونومرهای پلی‌ساکاریدها هستند. مهم‌ترین مونوساکاریدها هگوزها (۶ کربنی) و پنتوزها (۵ کربنی) هستند. مهم‌ترین مونوساکاریدهای ۶ کربنی گلوکز، فروکتوز و گالاکتوز هستند. مهم‌ترین مونوساکاریدهای ۵ کربنی ریبوز و دئوکسی ریبوز نام دارند.

گلوکز در گیاهان ساخته می‌شود و به صورت غذا به بدن ما می‌رسد. این مونوساکارید در خون ما گردش می‌کند و به عنوان سوخت اصلی سلول‌ها مصرف می‌شود. فروکتوز و گلوکز در



شکل ۱-۷- سنتز آب‌دهی و هیدرولیز دی‌ساکاریدها

می‌آورند. در شکل ۸-۱ ساختار سه پلی ساکارید نشاسته، گلیکوژن و سلولز با یکدیگر مقایسه شده است.

جانوران آتریمی را که بتواند پیوندهای بین مولکول‌های گلوکز را در مولکول سلولز هیدرولیز کند، نمی‌سازند، بنابراین سلولزی که در مواد غذایی وجود دارد، بدون گوارش یافتن دفع می‌شود. رشته‌های سلولزی که در غذاها وجود دارند، الیاف نامیده می‌شوند. الیاف سلولزی برای کار منظم روده‌ها و جلوگیری از بعضی بیماری‌های گوارشی مورد نیاز هستند. غذای اصلی بعضی جانوران، مانند گاو و موریانه سلولز است. در لوله گوارش این جانداران، میکروب‌های مفیدی زندگی می‌کنند که می‌توانند سلولز را هیدرولیز کنند و مورد استفاده خود و جانور میزبان قرار دهند.

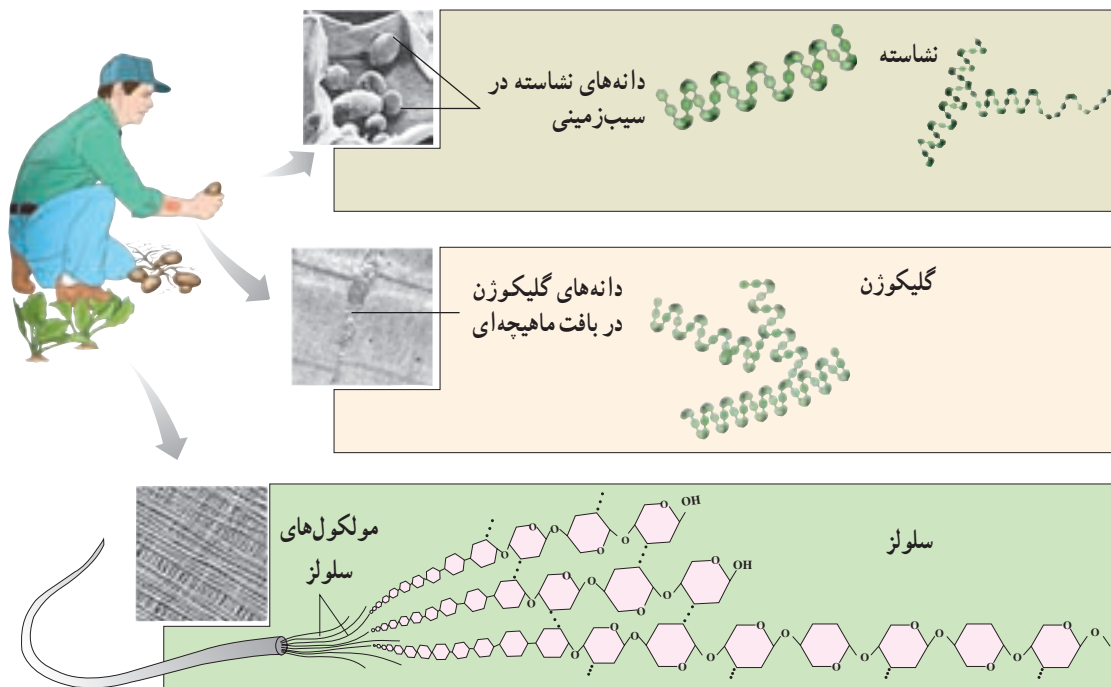
گلیکوژن در بدن ما به صورت ذره‌هایی در سلول‌های جگر و ماهیچه‌ای ذخیره شده است و در صورت نیاز به گلوکز تجزیه می‌شود. گلیکوژنی که در غذاهای جانوری وجود دارد، در دستگاه گوارش ما به گلوکز هیدرولیز می‌شود.

پلی ساکاریدها بیشتر در ساختار سلول‌ها و نیز استحکام آنها نقش دارند. سلولز که بیشترین ترکیب آلی طبیعت را تشکیل می‌دهد، به صورت رشته‌هایی محکم در ساختار دیواره سلولی گیاهان شرکت دارد. مولکول سلولز رشته‌ای و بدون اشعاب است. چند هزار از این رشته‌ها در کنار یکدیگر قرار می‌گیرند و یک فیبریل سلولزی تشکیل می‌دهند. لایه‌های سلولزی در دیواره‌های سلولی با سایر مواد ترکیب می‌شوند و ساختاری محکم را به وجود

خودآزمایی ۳-۱

- ۱- سه نوع دی ساکارید نام ببرید و بگویید که هر کدام از چه مونوساکاریدهایی تشکیل شده‌اند؟
- ۲- شکل ذخیره‌ای گلوکز در جانوران و گیاهان کدام است؟
- ۳- چرا انسان نمی‌تواند سلولز را تجزیه کند؟
- ۴- رشته‌های سلولزی موجود در غذاها چه نام و چه اهمیتی دارد؟

بیشتر بدانید



شکل ۸-۱- مقایسه ساختار سه پلی ساکارید نشاسته، گلیکوژن و سلولز



فعالیت ۱-۱

روزنامه های خوراکی

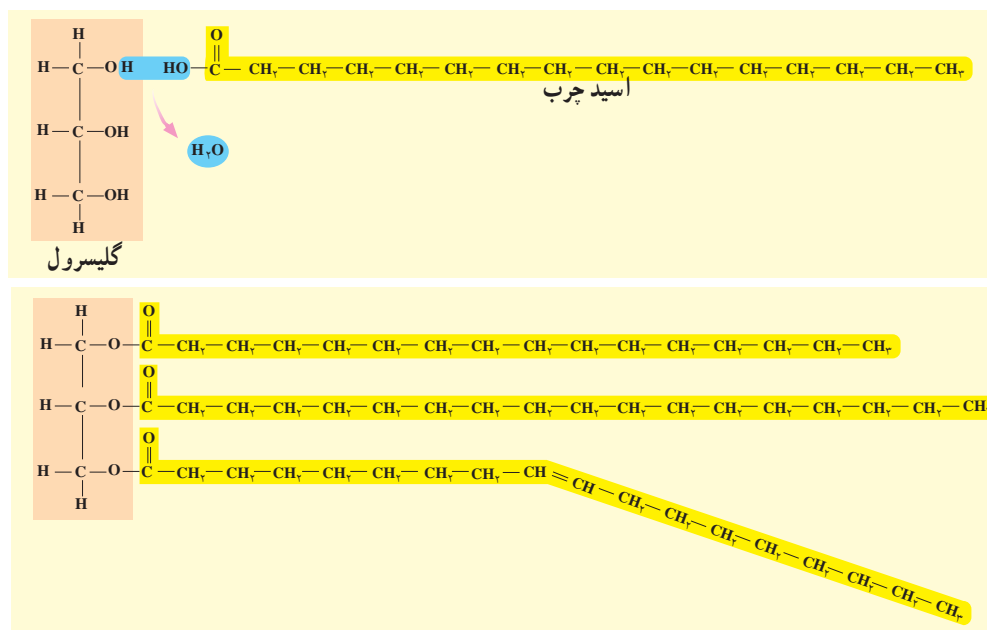
کاغذ عمدتاً از سلولز تشکیل شده است. روشی برای تبدیل روزنامه های باطله به قند پیشنهاد کنید. پیش بینی می کنید چه مشکلاتی در این راه وجود خواهد داشت؟ چه کارهای احتیاطی باید برای این کار انجام داد؟

نگاه کنید، در آنجا پیوندی دوگانه بین دو اتم کربن می بینید. به چنین مولکولی، مولکول سیرنشده گفته می شود. مولکول سیرنشده مولکولی است که حداقل یک پیوند دو یا سه گانه دارد، یعنی تعداد اتم های هیدروژن موجود در آن کمتر از حدی است که آن مولکول می تواند در حالت حداکثر داشته باشد. خمیدگی هایی که در اسیدهای چرب سیرنشده وجود دارد، باعث می شود بخشی از این مولکول ها از یکدیگر فاصله بگیرند و در نتیجه این مولکول ها در دمای معمولی اتاق مایع و روان هستند. روغن ذرت، روغن آفتاب گردان، روغن زیتون و سایر روغن های گیاهی، سیرنشده هستند. چربی هایی که حداکثر تعداد هیدروژن را دارند، سیر شده نام دارند. روی بعضی از قوطی های روغن های خوراکی نوشته شده است: «روغن نباتی جامد هیدروژنه». روغن های نباتی مایع را با افزودن هیدروژن به مولکول آنها، به حالت جامد درمی آورند.

ترکیب های بسیار متفاوتی در گروه لیپیدها قرار می گیرند ویژگی همه لیپیدها آب گریز بودن آنهاست. روغن ها و چربی ها انواعی از لیپیدها هستند و ساختار آنها از مولکول های اسید چرب و گلیسرول ساخته شده است. یکی از مهم ترین وظایف مولکول های چربی درون سلول ها، ذخیره انرژی است. یک گرم چربی بیش از دو برابر یک گرم پلی ساکارید، مانند نشاسته، انرژی آزاد می کند. به مولکول های چربی، تری گلیسرید نیز گفته می شود. سه اسید چربی که در ساختار هر مولکول تری گلیسرید حضور دارند، ممکن است با یکدیگر متفاوت باشند. در بسیاری از چربی ها چنین است.

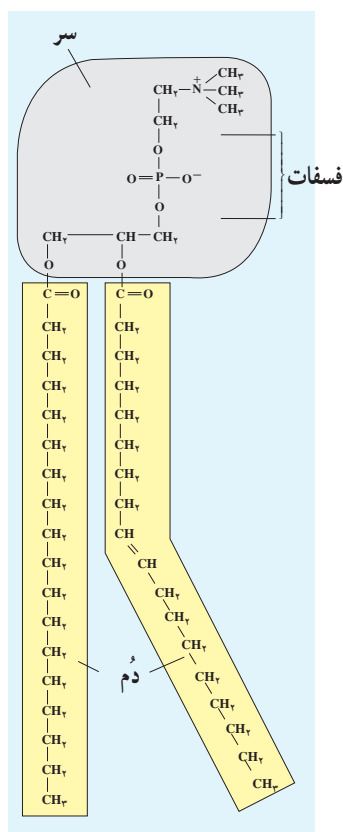
پایین ترین اسید چرب مولکول چربی شکل ۹-۱ به سمت پایین خمیده شده است. اگر بادقت به محل خمیدگی

بیشتر بدانید



شکل ۹-۱. یک مولکول تری گلیسرید و چگونگی ساخته شدن آن

بیشتر بدانید



شکل ۱۰-۱- یک مولکول فسفولیپید

آمینواسید تشکیل شده‌اند. هریک از ما، ده‌ها هزار نوع پروتئین در بدنمان داریم که هرکدام از آنها ساختار سه‌بُعدی خاصی دارد و کار ویژه‌ای انجام می‌دهد. پروتئین‌ها در ساختار سلول‌ها و بدن جانداران شرکت دارند و باعث انجام همه‌کارهای درون سلول‌ها می‌شوند.

بیشتر چربی‌های جانوری سیرشده و در نتیجه جامد هستند. خوردن این‌گونه چربی‌ها احتمال سخت شدن دیواره‌ی رگ‌ها و ابتلا به بیماری‌های قلب و رگ‌ها را افزایش می‌دهد.

فسفولیپیدها، موم‌ها و استروئیدها نیز لیپید هستند

چربی‌ها تنها یک گروه از لیپیدها هستند. لیپیدهای دیگری نیز در سلول‌ها وجود دارند که هرکدام نقش مهمی ایفا می‌کنند. فسفولیپیدها، موم‌ها و استروئیدها از این گروه هستند.

فسفولیپیدها: اجزای اصلی غشاهای سلولی هستند. ساختار این لیپیدها بسیار به تری‌گلیسریدها شباهت دارد. تفاوت مهم این دو در آن است که مولکول گلیسرول در فسفولیپیدها به دو اسیدچرب و یک گروه فسفات متصل است.

موم‌ها: موم‌ها از چربی‌ها آب‌گریزترند. این ویژگی سبب شده است تا موم‌ها پوشش مناسبی برای بخش‌های جوان گیاهان، میوه‌ها و غیره باشند. بسیاری جانوران، از جمله حشرات مانند زنبور عسل نیز موم تولید می‌کنند.

استروئیدها: کلسترول یک استروئید است که در غشاهای سلولی جانوری یافت می‌شود. سلول‌ها از این ماده برای ساختن سایر استروئیدها، مثلاً هورمون‌های استروئیدی استفاده می‌کنند. افزایش کلسترول خون ممکن است موجب بیماری مربوط به رگ‌ها شود. ساختار همه‌ی استروئیدها یکسان و شبیه مولکول کلسترول است.

پروتئین‌ها در ساختار و کار سلولی نقش اساسی دارند

پروتئین‌ها: پلی‌مرهایی هستند که از مونومرهایی به نام

خودآزمایی ۴-۱

- ۱- ویژگی عمومی لیپیدها چیست؟
- ۲- تری‌گلیسرید چیست؟
- ۳- اسیدهای چرب سیر نشده چه تفاوتی با اسیدهای چرب سیر شده دارند؟
- ۴- چرا روغن‌های گیاهی در دمای اتاق، مایع‌اند؟
- ۵- فسفولیپیدها چه تفاوتی با تری‌گلیسریدها دارند؟
- ۶- دو لیپید نام ببرید که در غشای سلول یافت شود.
- ۷- کدام استروئید مخصوص غشای سلول‌های جانوری است؟

آمینو اسیدها با پیوندهای پپتیدی به یکدیگر متصل می شوند

سلولها آمینواسیدهای مختلف را با واکنش سنتز آبدهی به یکدیگر متصل می کنند. وقتی دو آمینواسید به این طریق به یکدیگر متصل می شوند، پیوندی به نام پیوند پپتیدی بین آنها به وجود می آورند.

مولکولی که با ایجاد یک پیوند پپتیدی بین دو آمینواسید به وجود می آید، دی پپتید نام دارد. دی پپتیدها با برقراری پیوندهای پپتیدی دیگر با سایر آمینواسیدها ترکیب می شوند و سرانجام پلی پپتید را به وجود می آورند. پلی پپتیدها پلی مرهایی هستند که از اتصال چند عدد تا چند هزار آمینواسید تشکیل شده اند. هرگاه یک یا چند پلی پپتید پیچ و تاب بخورند و شکل فضایی خاصی به وجود بیاورند، مولکول حاصل یک پروتئین است.

انواع پروتئین ها

پروتئین ها، از نظر کاری که در بدن انجام می دهند، در هفت گروه اصلی جای می گیرند:

۱- پروتئین های ساختاری: تار عنکبوت، ابریشم و حتی موها و ناخن های ما از آن جمله اند. همچنین رشته های موجود در رباط ها و زردپی ها از پروتئین های ساختاری هستند.

۲- پروتئین های منقبض شونده: رشته های پروتئینی که باعث حرکت ماهیچه ها می شوند، از این نوع پروتئین ها هستند.

۳- پروتئین های ذخیره ای: مانند سفیده تخم مرغ که آلبومین نامیده می شود. سفیده تخم مرغ منبع مناسبی از آمینواسیدهاست و جنین جوجه، در حال رشد و نمو خود از آن استفاده می کند.

۴- پروتئین های دفاعی: نوع دیگر پروتئین ها هستند.

بیشتر بدانید



شکل ۱۱-۱- برقراری پیوند پپتیدی بین دو آمینواسید و آزاد شدن یک مولکول آب

فعالیت ۲-۱



خواص برخی از ترکیبات شیمیایی مهم بدن

- ۱- مقداری گلوکز جامد و ساکارز را در آب حل کنید. آیا این دو به یک نسبت در آب حل می شوند؟ چه تفاوت هایی از این نظر بین آنها وجود دارد؟ توضیح دهید.
- ۲- سعی کنید مقداری نشاسته را در آب حل کنید. چه اتفاقی می افتد؟ چرا حل شدن نشاسته در آب مشکل تراز سایر کربوهیدرات ها است؟
- ۳- حل شدن چربی و روغن را در آب بررسی کنید. چه اتفاقی می افتد؟ خصوصیات چربی ها با نقشی که در بدن برعهده دارند، چه تناسبی دارد؟
- ۴- مقداری پروتئین محلول، همانند آلبومین را در آب حل کنید. آیا این ماده به راحتی در آب حل می شود؟ اگر به آرامی آب را گرم کنید، چه اتفاقی می افتد؟
- ۵- حل شدن پروتئین های جامد مثل مو در آب چگونه است؟ تفاوت هایی که در ویژگی های این دو پروتئین موجود است، چه ارتباطی با نقش آنها در بدن دارد؟

است و بنابراین باید فوری تجزیه شود. کاتالاز آنزیمی است که با سرعت بسیار H_2O_2 را به آب و اکسیژن تبدیل می‌کند: یک مولکول کاتالاز در مدت یک دقیقه، شش میلیون مولکول پراکسید هیدروژن را تجزیه می‌کند.

در هر سلول بدن ما هزاران نوع آنزیم وجود دارد

آنزیم‌ها درون سلول‌ها ساخته می‌شوند. بعضی از آنها پس از تولید شدن از سلول به بیرون رانده می‌شوند و کار خود را در خارج از سلول انجام می‌دهند. چنین آنزیم‌هایی، آنزیم‌های برون سلولی نامیده می‌شوند. آنزیم‌های گوارشی که به درون معده و روده ما ترشح می‌شوند، از این گونه آنزیم‌ها هستند.

سایر آنزیم‌ها درون سلول فعالیت دارند. چنین آنزیم‌هایی، آنزیم‌های درون سلولی نام دارند. این آنزیم‌ها نه تنها به بیشتر واکنش‌های زیستی درون سلول‌ها سرعت می‌بخشند، بلکه در تنظیم کار آنزیم‌های دیگر نیز مؤثرند.

هم‌اکنون هزاران واکنش شیمیایی، همراه با یکدیگر، در بدن ما در حال انجام است. انجام هر واکنش را آنزیم ویژه‌ای تنظیم می‌کند. آنزیم‌ها انجام واکنش‌هایی را که لازم است صورت بگیرند، در زمان مشخصی، عملی می‌کنند.

پادتن‌ها از این گروه پروتئین‌ها هستند و به بدن برای دفاع از خود، کمک می‌کنند.

۵- پروتئین‌های انتقال دهنده: نوع دیگر پروتئین‌ها هستند. هموگلوبین که پروتئینی آهن‌دار است، اکسیژن و دی‌اکسید کربن را در خون منتقل می‌کند.

۶- پروتئین‌های نشانه‌ای: مانند بعضی هورمون‌ها که پیام‌هایی را از بخشی از بدن به بخش دیگر می‌رسانند.

۷- آنزیم‌ها: مهم‌ترین پروتئین‌ها هستند. این مواد به واکنش‌های درون سلول‌ها سرعت می‌بخشند یا آنها را به انجام می‌رسانند.

آنزیم‌ها مهم‌ترین ابزارهای سلول هستند

آنزیم‌ها واکنش‌دهنده‌های زیستی هستند و بسیاری از واکنش‌های شیمیایی را که در سلول‌ها انجام می‌شوند، عملی می‌کنند. بدون آنزیم‌ها، واکنش‌های زیستی به اندازه‌ای آهسته صورت می‌گیرند که ادامه زندگی با این حالت، ممکن نیست.

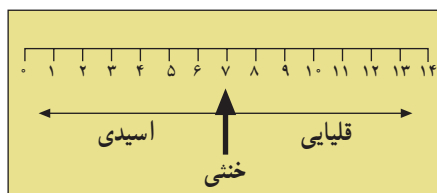
آنزیم‌ها وظایفی را که برعهده دارند، با کارایی بالایی به انجام می‌رسانند. مثلاً یکی از محصولات جانبی که در سلول‌های جگر ساخته می‌شود، پراکسید هیدروژن (H_2O_2) است. این ماده سمی

بیشتر بدانید

pH

pH نشان دهنده این است که یک محلول اسیدی، قلیایی، یا خنثی است. مواد ترش مزه مانند آب‌لیمو و سرکه اسیدی، اما محلول جوش شیرین در آب قلیایی است. pH همچنین میزان اسیدی یا قلیایی بودن محلول‌ها را بازگو می‌کند. مقیاس pH از صفر تا ۱۴ است:

- pH ۷ خنثی است، یعنی نه اسیدی است و نه قلیایی، مانند آب خالص
- pH کمتر از ۷ اسیدی است، هر قدر pH از ۷ کمتر باشد، درجه اسیدی بودن آن بیشتر است.
- pH بالاتر از ۷ نشان دهنده قلیایی بودن محیط است. هر قدر pH از ۷ بیشتر باشد، قلیایی بودن آن بیشتر است.

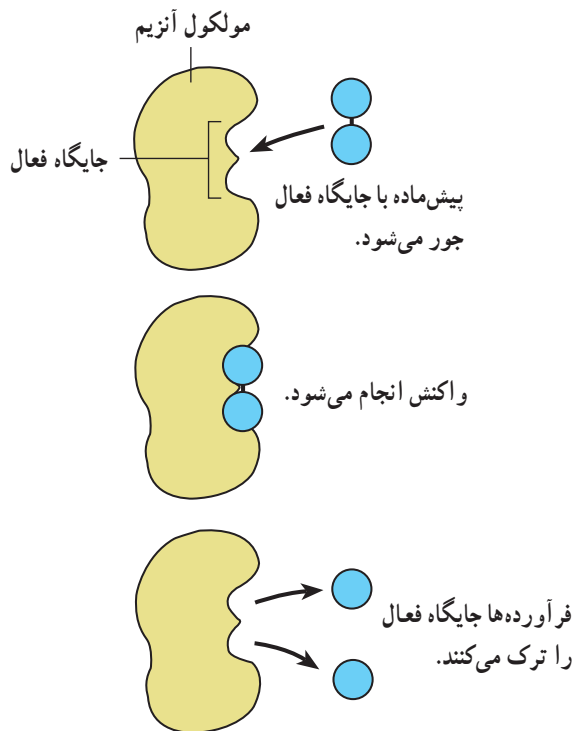


شکل ۱۲-۱

آنزیم‌ها ویژگی‌های متعدد دارند

آنزیم‌ها پنج ویژگی دارند:

- ۱- بیشتر آنها پروتئینی هستند، امروزه چند آنزیم غیرپروتئینی نیز کشف شده است.
- ۲- عمل اختصاصی دارند، هر کدام از آنها واکنش خاصی را انجام می‌دهند.
- ۳- سلول از هر کدام از آنها بارها استفاده می‌کند، چون آنزیم‌ها در واکنش‌هایی که انجام می‌دهند، هیچ تغییری نمی‌کنند. البته مقدار آنزیم، پس از تولید، رو به کاهش می‌گذارد و برای انجام همیشگی واکنشی خاص، سلول باید دائماً آن را تولید کند.
- ۴- به تغییرات شدید دما حساس‌اند. آنزیم‌ها نیز همانند سایر پروتئین‌ها به گرما حساس‌اند و در گرمای زیاد خواص خود را از دست می‌دهند. بسیاری از آنزیم‌های بدن ما در دمای بالاتر از 45°C غیرفعال می‌شوند.
- ۵- به تغییرات شدید pH محیط حساس‌اند. بسیاری از آنزیم‌های درون بدن ما در محیط خنثی فعالیت دارند. محیط خنثی محیطی است که نه اسیدی باشد و نه بازی (قلیایی).



شکل ۱۳-۱- چگونه عمل آنزیم

را با یکدیگر افزایش دهد، باعث سرعت بخشیدن به عمل آنزیم می‌شود. مثلاً افزایش دما باعث افزایش سرعت عمل آنزیم می‌شود. گرما به حرکت مولکول سرعت می‌بخشد و احتمال برخورد تصادفی آنزیم را با پیش‌ماده مربوط به آن افزایش می‌دهد. البته می‌دانید که گرمای بیش از حد بر فعالیت آنزیم‌ها اثر منفی دارد. بعضی ویتامین‌ها و مواد معدنی اتصال آنزیم را به پیش‌ماده آسان‌تر می‌کنند و بدین‌سان باعث افزایش سرعت انجام واکنش‌های آنزیمی می‌شوند. از سوی دیگر بعضی سم‌ها، مانند سیانید و آرسنیک و حشره‌کش‌ها محل جایگاه فعال آنزیم‌ها را اشغال و از فعالیت آنها جلوگیری می‌کنند. اثر بعضی از سم‌ها دائمی و بعضی دیگر موقتی است. در این حالت پیش‌ماده نمی‌تواند به آنزیم متصل شود.

از آنزیم‌ها استفاده‌های زیادی می‌شود

آنزیم را می‌توان از سلول‌ها استخراج کرد و مورد استفاده قرار داد. از پروتئازها، یعنی آنزیم‌های تجزیه‌کننده پروتئین‌ها و نیز لیپازها، یعنی آنزیم‌های تجزیه‌کننده لیپیدها، در پودرهای لباس‌شویی استفاده می‌شود.

آنزیم‌ها چگونه عمل می‌کنند

برای نشان دادن چگونگی عمل آنزیم‌ها، ساده‌ترین راه، طرحی است که در شکل ۱۳-۱ مشاهده می‌کنید. آنزیم‌ها نیز مانند سایر پروتئین‌ها شکل سه‌بعدی ویژه‌ای دارند. بخشی از مولکول آنزیم قالبی است برای چسبیدن به بخشی از پیش‌ماده. آن بخش از آنزیم که به پیش‌ماده ملحق می‌شود، جایگاه فعال نام دارد. پس از اتصال پیش‌ماده به جایگاه فعال، واکنش انجام می‌شود. سپس پیش‌ماده که اکنون فرآورده نام دارد، از آن جدا می‌شود. اکنون می‌توانید حدس بزنید چرا هر آنزیم واکنش خاصی را انجام می‌دهد. بخشی از مولکول آنزیم قالبی است برای مولکول پیش‌ماده و تنها با آن جفت می‌شود. گرما و تغییرات اسیدی بودن محیط شکل سه‌بعدی آنزیم را تغییر می‌دهد و اتصال پیش‌ماده را به آن غیرممکن می‌سازد.

می‌توان عمل آنزیم‌ها را سریع‌تر یا کندتر کرد

هر عاملی که باعث شود که احتمال برخورد پیش‌ماده و آنزیم

۲- آمیلازها: نشاسته را به قندهای شیرین تبدیل می‌کند. از این آنزیم برای تهیه آب‌میوه، شکلات و سایر مواد مشابه استفاده می‌کنند.

۳- سلولاز: سلولز موجود در مواد گیاهی را تجزیه می‌کند. برای نرم کردن مواد گیاهی و خارج کردن پوسته‌دانه‌ها در کشاورزی از این آنزیم استفاده می‌کنند.

۴- کاتالاز: برای ساختن اسفنج کاربرد دارد. امروز آنزیم‌هایی که در خانه و صنعت کاربرد دارند، از میکروب‌ها استخراج می‌شوند. برای این کار میکروب‌ها را در بشکه‌های بزرگ و مخصوصی، کشت می‌دهند.

یکی از ویژگی‌های آنزیم‌های موجود در پودرهای لباس‌شویی آن است که این آنزیم‌ها در دمای پایین کار خود را به خوبی انجام می‌دهند، بنابراین به آب گرم نیاز ندارند. بعضی افراد به این پودرها حساسیت نشان می‌دهند.

استفاده از آنزیم‌ها در پودرهای لباس‌شویی، مثالی از کاربرد آنزیم‌ها در خانه است. از آنزیم‌ها در صنعت نیز استفاده می‌شود. مهم‌ترین کاربردهای آنزیم‌ها در صنعت، عبارت‌اند از:

۱- پروتئازها: برای نرم کردن گوشت، پوست‌کنند ماهی، زدودن موهای روی پوست جانوران و تجزیه پروتئین‌های موجود در غذای کودکان خردسال کاربرد دارند.

بیشتر بدانید

نام‌گذاری آنزیم‌ها

آنزیم‌ها معمولاً با افزودن پسوند ... ـاز به نام یا بخشی از نام ماده یا موادی که آنزیم بر آن تأثیر می‌گذارد، نام‌گذاری می‌شوند. بنابراین:

- آنزیم‌هایی که بر کربوهیدرات‌ها تأثیر می‌گذارند، کربوهیدرازها نامیده می‌شوند.
 - آنزیم‌هایی که بر لیپیدها تأثیر می‌گذارند، لیپازها نامیده می‌شوند.
 - آنزیم‌هایی که بر پروتئین‌ها تأثیر می‌گذارند، پروتئازها نامیده می‌شوند.
- هر یک از سه گروه عمده آنزیم‌ها، یعنی کربوهیدرازها، لیپازها و پروتئازها دارای آنزیم‌هایی هستند که بر مواد خاصی اثر می‌گذارند. مثلاً آمیلاز نوعی کربوهیدراز است که واکنش تجزیه‌ی نشاسته (آمیلاوز) را به مالتوز تسهیل می‌کند و مالتاز نوعی کربوهیدراز است که واکنش تجزیه‌ی مالتوز به گلوکز را تسهیل می‌کند.

فعالیت ۳-۱



کدام نوع پودرهای لباس‌شویی مناسب‌ترند

آزمایشی طراحی کنید که اثر پودرهای لباس‌شویی بدون آنزیم و پودرهای لباس‌شویی دارای آنزیم را بر لکه‌های روی لباس‌ها، مورد مقایسه قرار دهد. از درستی مقایسه‌ای که انجام خواهید داد، مطمئن شوید. قبل از شروع آزمایش طرح خود را با معلمان در میان بگذارید و سپس در صورت تأیید، آن را انجام دهید. گزارش کاملی از کار خود را به معلم ارائه دهید.

فعالیت ۴-۱



یک آنزیم صنعتی به یکی از دو روش زیر با ماده اولیه در تماس قرار می‌گیرد. در روش نخست، محلولی از آنزیم ساخته و سپس با محلول ماده اولیه مخلوط می‌شود. در روش دوم، مولکول‌های آنزیم به‌طور دائمی به سطح ثابتی مانند ذرات پلاستیک متصل می‌شوند و سپس آن‌ها را در محلول ماده اولیه قرار می‌دهند.

– فکر می‌کنید از سطح ثابت به چه منظوری استفاده می‌شود؟

مجموع واکنش‌هایی که درون سلول‌ها انجام می‌شود، متابولیسم نام دارد

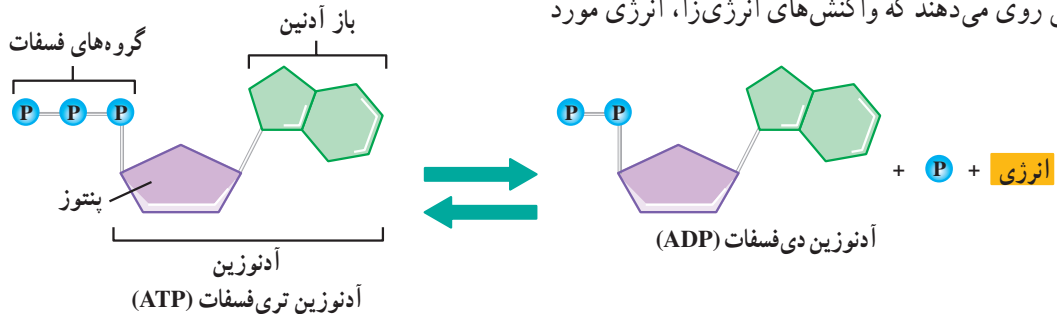
نیاز آنها را فراهم کنند.

ATP انرژی را ذخیره و آزاد می‌کند

بخشی از انرژی‌ای که در واکنش‌های انرژی‌زا آزاد می‌شود، به صورت گرما درمی‌آید، اما بخش دیگر آن برای تولید موادی که می‌توانند انرژی را در خود ذخیره و در مواقع لزوم آن را آزاد کنند، مصرف می‌شود. ATP یا آدنوزین تری فسفات چنین ماده‌ای است.

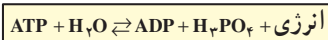
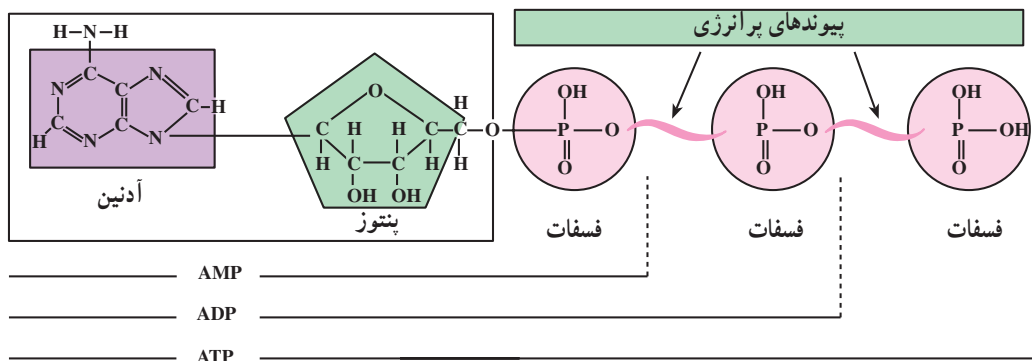
مولکول آدنوزین تری فسفات از دو بخش تشکیل شده است. بخشی از آن که آدنوزین نام دارد، خود از یک مولکول پنتوز و یک مولکول آدنین ساخته شده است. آدنین نوعی باز آلی است که در ساختار نوکلئوتیدها شرکت دارد و با علامت A نشان داده می‌شود (کتاب علوم زیستی سال اول).

بخش دیگر ATP از سه مولکول فسفات ساخته شده است نحوه تولید و مصرف ATP در سلول‌ها به شرح زیر است:



شکل ۱۴-۱- تولید و مصرف ATP

بیشتر بدانید

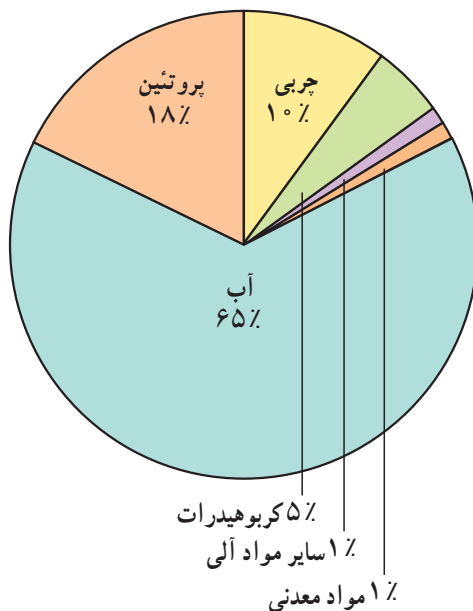


شکل ۱۵-۱- ساختار ATP، ADP و AMP



بدن شما از چه ساخته شده است

- ۱- خودتان را وزن کنید و وزن خود را به کیلوگرم یادداشت کنید.
- ۲- به شکل زیر توجه کنید. در این شکل نسبت مواد مختلفی را که در بدن یک انسان وجود دارند، نشان می‌دهد. فرض کنید درصد مواد تشکیل دهنده بدن شما نیز مشابه مقادیری است که در این شکل نشان داده شده‌اند.
- ۳- مقدار مواد مختلف تشکیل دهنده بدن خود را محاسبه کنید.



شکل ۱۶-۱- درصد مواد تشکیل دهنده بدن

خودآزمایی ۵ - ۱

- ۱- پروتئین‌ها چه کارهایی را انجام می‌دهند؟
- ۲- آنزیم‌ها از نظر محل اثر خود، به چند گروه تقسیم می‌شوند؟ نام ببرید.
- ۳- ویژگی مشترک آنزیم‌ها کدام است؟
- ۴- چرا آنزیم‌ها عمل اختصاصی دارند؟
- ۵- پیوند پپتیدی بین چه مولکول‌هایی برقرار می‌شود؟
- ۶- پلی پپتید چیست؟
- ۷- منظور از متابولیسم چیست؟
- ۸- واکنش‌های انرژی‌خواه، کدام‌اند؟
- ۹- انرژی و واکنش‌های انرژی‌خواه چگونه تأمین می‌شود؟
- ۱۰- انرژی چگونه در ATP ذخیره و آزاد می‌شود؟

میکروب‌ها با ترشح آنزیم‌های خارج سلولی از مواد غذایی استفاده می‌کنند.

مواد لازم: ۱- یک عدد ظرف پتری سترون با گنجایش ۱۵ تا ۲۰ میلی لیتر محلول ۰/۲ درصد نشاسته که به آگار سترون اضافه شده است.

۲- یک گرم خاک خشک که از عمق ۱۰ سانتی متری باغچه برداشته‌اید.

۳- مقداری محلول یددار (یک گرم بلور ید و ۲ گرم یدید پتاسیم که در ۳۰۰ میلی لیتر آب مقطر حل شده‌اند)

۴- ۱۵ میلی لیتر آب مقطر سترون

۵- یک عدد سواب سترون پنبه‌ای

روش کار: یک گرم خاک خشک را در ۱۵ میلی لیتر آب مقطر استریل بریزید و به هم بزنید، تا کاملاً با آب مخلوط شود. سواب را به خاک آغشته کنید و مطابق شکل روی آگاری که در ظرف پتری قرار دارد، بکشید. تاریخ شروع آزمایش را روی در ظرف پتری بنویسید و ۲ تا ۳ روز آن را در دمای 30°C قرار دهید. پس از آن، با دقت، مقداری محلول یددار را بر سطح ظرف پتری بریزید، به طوری که سطح آن را به طور کامل تا عمق یک میلی متر بپوشاند.

- آنچه مشاهده می‌کنید شرح دهید. چرا این اتفاق افتاده است؟



۲

یک ظرف پتری دارای نشاسته و آگار تهیه کنید.



۱

یک گرم خاک را در ۱۵ میلی لیتر آب مقطر بریزید.



۴

ظرف را به مدت ۲ تا ۳ روز در دمای حدود 30°C قرار دهید.



۳

خاکی را که در آب معلق شده است به درون یک ظرف پتری منتقل کنید.




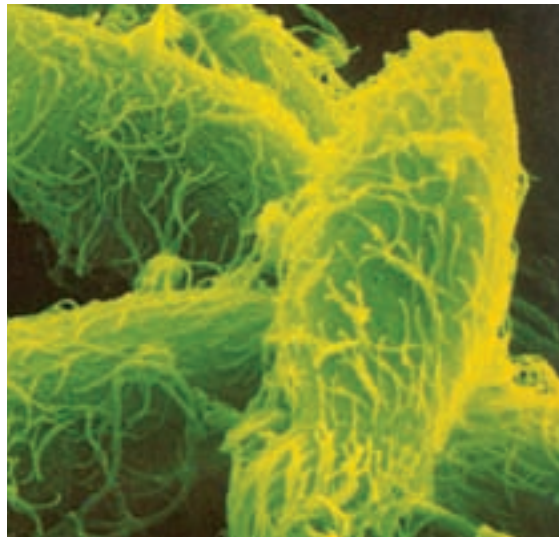
۵

محلول یددار را روی محیط کشت بریزید و نتیجه را مشاهده کنید.

شکل ۱۷-۱- جستجوی آمیلاز در میکروب‌های خاک

- ۱- چه عواملی به ایجاد گوناگونی جانداران کمک می‌کنند؟
- ۲- بین اتم‌های موجود در مولکول‌های آلی ممکن است یک یا چند پیوند برقرار باشد. به تصاویر مربوط به مولکول‌های آلی این فصل دقت کنید و تعداد این پیوندها و نیز نوع عناصر مربوطه را پیدا کنید.
- ۳- مثال‌هایی غیر زیستی برای مونومر و پلی‌مر پیدا کنید.
- ۴- دو واکنش هیدرولیز و سنتز آب‌دهی را با استفاده از جدولی دو ستونی، با یکدیگر مقایسه کنید.
- ۵- چرا لیپیدها را که از نظر ویژگی‌ها با یکدیگر تفاوت‌های بسیاری دارند، در یک گروه جای می‌دهند؟
- ۶- اصطلاحات زیر را توضیح دهید: الف. جایگاه فعال آنزیم ب. تخصصی بودن کار آنزیم
- ۷- ۵۱ آمینواسید با واکنش سنتز آب‌دهی با یکدیگر ترکیب شده‌اند و یک پلی‌پپتید به وجود آورده‌اند. در این واکنش‌ها چند مولکول آب آزاد شده است؟
- ۸- در شکل زیر دو نوع تری‌گلیسرید نشان داده شده است. تعیین کنید گوارش کدام یک آسان‌تر است. چرا؟





پارامسی (×۱۰۰۰)

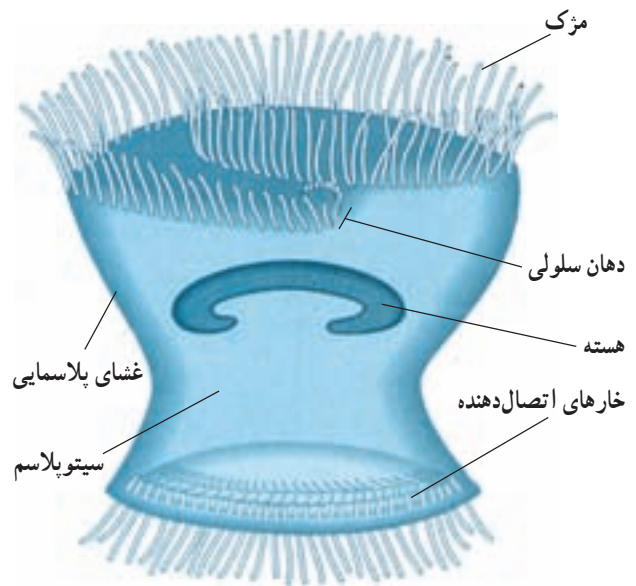
سفری به درون سلول

متصل می‌کنند. این ویژگی‌ها، یعنی داشتن مژک، دهان سلولی و خارهای اتصال‌دهنده موجب می‌شوند تا این جاندار، سلولی بسیار تخصص یافته باشد.

بدن انسان از اشتراک تعداد زیادی سلول تشکیل شده است. سلول‌های بدن ما تخصصی هستند و هر گروه بر حسب وظیفه‌ای که برعهده دارد، شکل و ساختار ویژه‌ای پیدا کرده است. سلول‌های بدن انسان دهان سلولی ندارند، اما بعضی از آنها، مانند سلول‌های پوشاننده لوله‌های تنفسی، همانند تریکودینا مژک دارند. بین تریکودینا و سلول‌های سازنده بدن ما یک همانندی دیگر نیز وجود دارد: هر دو، هسته‌ای محتوی DNA دارند. می‌دانید که برخی ژن‌های موجود در DNA تریکودینا شکل و ویژگی‌های ریخت‌شناختی سلول را تعیین و برخی ژن‌های دیگر با تنظیم تولید پروتئین‌های اختصاصی شکل و کار سلول را اختصاصی می‌کنند.

همه سلول‌ها، از جمله تریکودینا، غشای پلاسمایی دارند. غشای پلاسمایی محتویات سلول را از محیط بیرون جدا می‌کند و در واقع، مرز بین سلول و دنیای خارج از سلول است. این غشا به سلول کمک می‌کند تا مواد مورد نیاز خودش را از محیط اطراف بگیرد و مواد زاید را به محیط دفع کند. غشای پلاسمایی

جانداری تک‌سلولی که در شکل ۱-۲ می‌بینید، تریکودینا نام دارد و آبی‌ری است. این جاندار همانند فرفره روی بدن لغزنده ماهی‌ها حرکت و از باکتری‌ها تغذیه می‌کند.



شکل ۱-۲ - تریکودینا

مژک‌های این تک‌سلولی، با زنبش‌های خود، هم باکتری‌ها را به سوی دهان سلولی خود می‌رانند و هم موجب حرکت جاندار می‌شوند. در بخش پایینی شکل، خارهای اتصال‌دهنده را می‌بینید که این خارها جاندار را به تکیه‌گاه خود، یعنی روی بدن ماهی،

سیتوپلاسم را احاطه کرده است.

است تریکودینای زنده یا برشی از بافت جانوری یا گیاهی باشد. میکروسکوپ نوری می تواند تصویر نمونه را تا $1000\times$ برابر بزرگ کند. بزرگ کردن تصویر یک جسم را بزرگ‌نمایی می نامند. عکسی که به وسیله میکروسکوپ از نمونه گرفته می شود، ریزنگار نام دارد. اگر تصویری $100\times$ برابر بزرگ شده باشد، این بزرگ‌نمایی را به این صورت در کنار آن می نویسیم: $100\times$ در شکل ۲-۲ ریزنگارهایی از تریکودینا نشان داده شده است. بزرگ‌نمایی این تصویرها چقدر است؟

بزرگ‌نمایی، فقط یکی از عوامل مهم در میکروسکوپی است («میکروسکوپی» یعنی استفاده از میکروسکوپ). از عوامل مهم دیگر در این مورد قدرت تفکیک است. قدرت تفکیک عبارت است از توانایی یک ابزار نوری در نشان دادن دو جسم به صورت مجزا از یکدیگر. مثلاً اگر شب‌هنگام با چشم غیر مسلح به آسمان نگاه کنیم، آنچه به چشم ما یک ستاره می آید، با تلسکوپ ممکن است به صورت دو ستاره نزدیک به هم دیده شود. بنابراین می گوئیم، قدرت تفکیک تلسکوپ بیشتر از قدرت تفکیک چشم انسان است به همین علت هم هست که از آن برای دیدن اجسام دور استفاده می کنیم.

توانایی هر ابزار نوری به قدرت تفکیک آن بستگی دارد. مثلاً میکروسکوپ نوری نمی تواند اجسام کوچک‌تر از $2/0$ میکرومتر را نشان دهد. بنابراین، با میکروسکوپ نوری هیچ‌گاه نخواهیم توانست ساختار درونی سلول باکتری را به وضوح مشاهده کنیم.

تا اواسط قرن بیستم، زیست‌شناسان برای مطالعه سلول، فقط میکروسکوپ نوری در اختیار داشتند که با آن، به اکتشافات ارزشمندی نیز دست یافتند. مثلاً تریکودینا حدود 200 سال پیش کشف شد. همچنین، زیست‌شناسان با میکروسکوپ نوری توانستند بعضی از بخش‌های درون سلول را نیز کشف کنند.

با اختراع میکروسکوپ الکترونی در دهه 1950 ، دانش ما درباره ساختار سلول به طور چشمگیری افزایش یافت. در میکروسکوپ الکترونی به جای نور از الکترون استفاده می شود. قدرت تفکیک میکروسکوپ الکترونی، از قدرت تفکیک میکروسکوپ نوری به مراتب بیشتر است. قوی‌ترین میکروسکوپ‌های الکترونی مدرن می توانند اجسام ریزی به اندازه

اندامک‌های مختلفی در آن جای دارند. هسته و هرنوع از اندامک‌های سیتوپلاسمی وظیفه خاصی برعهده دارند: هسته برای تنظیم فعالیت‌های سلول تخصص یافته است، مژک‌ها موجب حرکت سلول یا حرکت مایع در اطراف سلول می شوند. در این فصل ساختار و کار سلول و اندامک‌های آن را بررسی می کنیم؛ اما پیش از آن لازم است با میکروسکوپ آشنا شویم.

بدون میکروسکوپ مشاهده اغلب سلول‌ها و اندامک‌های آنها ممکن نیست

برای مشاهده اشیای ریز، یا جزئیات یک شیء، می توان از ذره بین استفاده کرد. ذره بین‌های معمولی می توانند تصویر اشیای را تا حدود $10\times$ برابر بزرگ کنند. بزرگ‌نمایی این نوع ذره بین‌ها را به صورت $10\times$ نمایش می دهیم.

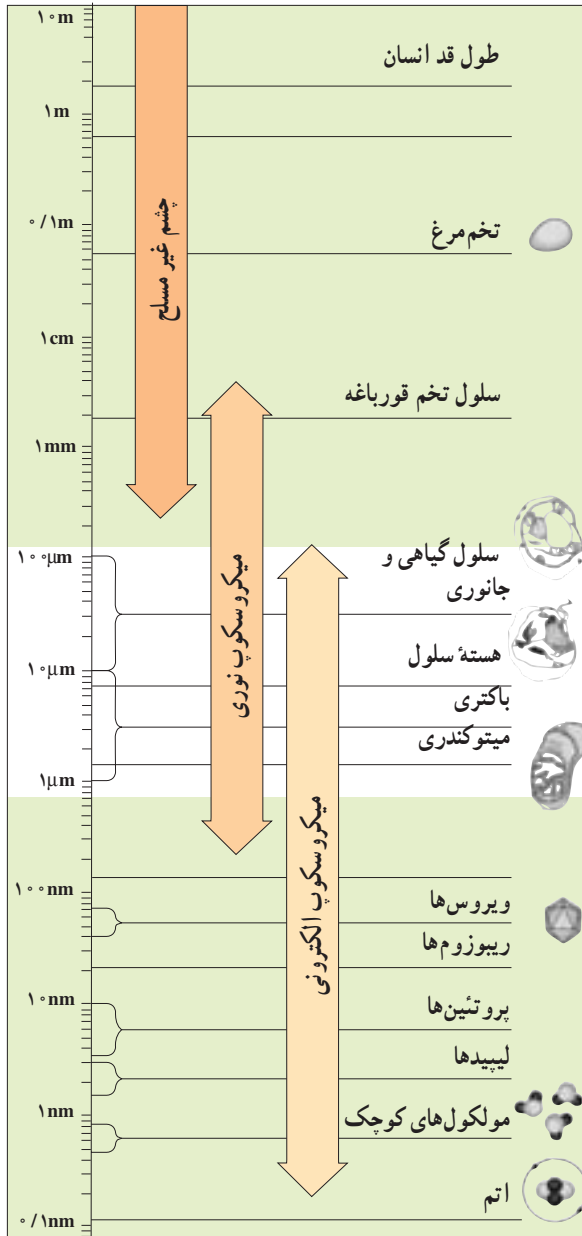
برای دیدن اشیای بسیار ریز، که با ذره بین دیده نمی شوند، از میکروسکوپ استفاده می کنیم. میکروسکوپ‌هایی که در آزمایشگاه‌های مدارس وجود دارند، از نوع میکروسکوپ نوری هستند (شکل ۴-۲). فعالیت ۱-۲ را با دقت انجام دهید تا با میکروسکوپ و طرز کار با آن بیشتر آشنا شوید. با انجام فعالیت ۲-۲ نیز طریقه به دست آوردن میزان بزرگ‌نمایی میکروسکوپ را تمرین کنید.

واحد اندازه‌گیری سلول و اجزای آن میکرومتر (میکرون) است. میکرومتر را با علامت μm نشان می دهند ($1\text{mm} = 1000\mu\text{m}$).

از زمانی که میکروسکوپ برای اولین بار مورد استفاده قرار گرفت، بیش از 330 سال می گذرد. تا قبل از آن هیچ کس نمی دانست که جانداران از سلول ساخته شده‌اند. اولین میکروسکوپ‌ها، همانند میکروسکوپ‌هایی که شما در آزمایشگاه زیست‌شناسی از آنها استفاده می کنید، میکروسکوپ‌های نوری بودند. در میکروسکوپ نوری نور مرئی از نمونه مورد نظر عبور می کند، از عدسی‌های شیشه‌ای مختلفی می گذرد و به این ترتیب تصویر بزرگ‌شده‌ای از نمونه حاصل می آید. آنچه را که با میکروسکوپ می خواهیم مطالعه کنیم، نمونه می نامیم. نمونه ممکن

میکروسکوپ‌های نوری نشدند. یکی از علل این امر، آن است که با میکروسکوپ‌های الکترونی که نام برده شد، نمی‌توان سلول زنده را بررسی کرد. از این رو، برای مطالعه سلول زنده، همچنان به میکروسکوپ نوری نیاز است. آیا شما می‌توانید علل دیگری را نیز بیان کنید؟

بیشتر بدانید

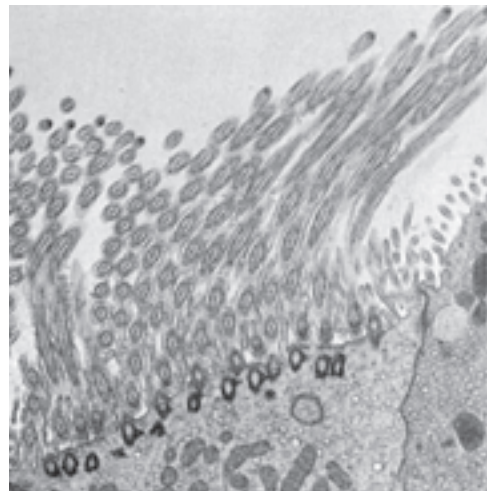


شکل ۲-۳- دامنه کاربرد میکروسکوپ‌های نوری و الکترونی.


۲/ نانومتر ($1 \text{ nm} = 10^{-9} \text{ m}$) را نشان دهند. با این میکروسکوپ‌ها اندامک‌های سلول و حتی مولکول‌های بزرگی چون DNA و پروتئین‌ها، قابل مشاهده‌اند (شکل ۲-۳).

زیست‌شناسان از دو نوع میکروسکوپ الکترونی بیشتر استفاده می‌کنند (شکل ۲-۲): میکروسکوپ الکترونی نگاره که با آن سطح اجسام را مشاهده می‌کنند. این میکروسکوپ تصویری سه‌بعدی از سطح نمونه را فراهم می‌کند و میکروسکوپ الکترونی گذاره که با آن ساختار درونی سلول را مطالعه می‌کنند.

اگرچه میکروسکوپ‌های الکترونی، حقیقتاً انقلابی عظیم در بررسی و شناخت سلول پدید آوردند، اما جایگزین



$\times 13,200$

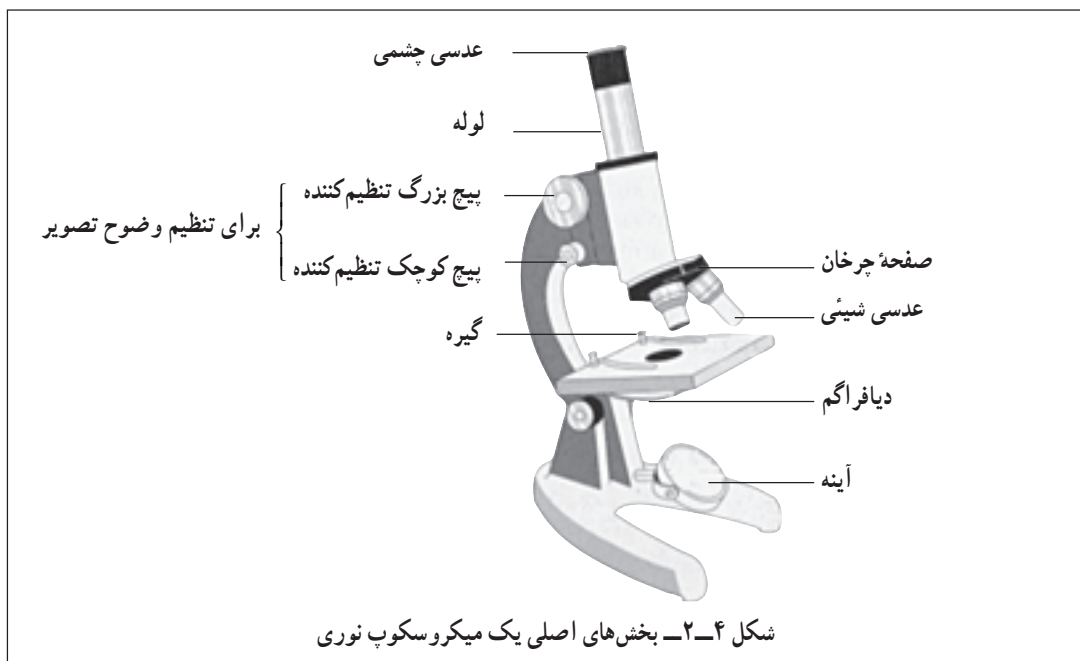


شکل ۲-۲- بالا: تصویری از مژک‌های نای خرگوش با میکروسکوپ الکترونی گذاره؛ پایین: همان شیء با میکروسکوپ الکترونی نگاره.



کار با میکروسکوپ

- ۱- به میکروسکوبی که در اختیار شما قرار می‌گیرد یا به تصویر آن، خوب نگاه کنید و آن را با شکل ۲-۴ مقایسه کنید، چه تفاوتی مشاهده می‌کنید؟ قبل از کار با میکروسکوپ، نام بخش‌های مختلف آن را به خاطر بسپارید.
- ۲- برای آن که اشیاء را زیر میکروسکوپ ببینید، باید ابتدا آنها را روی تیغه شیشه‌ای مخصوصی قرار دهید و روی آن را با تیغک شیشه‌ای بپوشانید. معلم شما یک نمونه آماده شده را در اختیار شما قرار خواهد داد.



- ۳- نمونه آماده را روی صفحه میکروسکوپ بگذارید. به طوری که نمونه در وسط صفحه میکروسکوپ قرار گیرد.
- ۴- با کمک دو گیره، تیغه را روی صفحه میکروسکوپ ثابت نگهدارید.
- ۵- صفحه چرخان عدسی‌های شیئی را بچرخانید تا کوچکترین عدسی شیئی روی نمونه قرار بگیرد. اطمینان حاصل کنید که عدسی شیئی درست در محل خود قرار گرفته است.
- ۶- یک چراغ مطالعه را جلو میکروسکوپ قرار دهید. آینه میکروسکوپ را طوری تنظیم کنید که نور چراغ به درون لوله میکروسکوپ هدایت شود.
- ۷- از طریق عدسی‌های چشمی به درون میکروسکوپ نگاه کنید. دایره‌ای روشن یا خاکستری خواهید دید که میدان دید نامیده می‌شود. با کمک دیافراگم، میدان دید میکروسکوپ را روشن کنید به طوری که درخشندگی آن زیاد نباشد.
- ۸- از پهلو به صفحه میکروسکوپ نگاه کنید. پیچ بزرگ تنظیم کننده را طوری بچرخانید که لوله میکروسکوپ به سمت پایین حرکت کند.
- ۹- پیچ بزرگ تنظیم کننده را به اندازه‌ای بچرخانید که عدسی شیئی در پایین‌ترین موقعیت خود و در نزدیکی تیغه قرار گیرد.
- ۱۰- حالا مجدداً به داخل میکروسکوپ نگاه کنید. به آرامی پیچ بزرگ تنظیم کننده را در جهت عکس بچرخانید به طوری که لوله میکروسکوپ به تدریج به سمت بالا حرکت کند و سرانجام نمونه روی تیغه در میدان دید شما قرار گیرد.
- ۱۱- با کمک پیچ‌های بزرگ و کوچک تنظیم، فاصله نمونه و عدسی شیئی را طوری تنظیم کنید که نمونه به بهترین وجه دیده شود.

۱۲- در صورت نیاز می‌توانید با تنظیم دیافراگم، روشنایی نمونه را تنظیم کنید. در صورتی که نور ورودی به میکروسکوپ چندان زیاد نباشد، تصویر بهتری بدست خواهید آورد.

اکنون شما نمونه را با کمترین درشت‌نمایی می‌بینید. برای دیدن آن با بزرگ‌نمایی بیشتر، مراحل زیر را انجام دهید.

۱۳- صفحه چرخان عدسی را بچرخانید تا عدسی‌های شیئی بزرگ‌تر روی نمونه قرار بگیرند. همان‌طور که گفته شد، باید سعی کنید که عدسی شیئی درست در محل خود قرار بگیرد.

۱۴- برای آن‌که نمونه را بهتر ببینید، از پیچ کوچک تنظیم‌کننده استفاده کنید. دقت کنید که رأس عدسی‌های شیئی به تیغک برخورد نکند.

۱۵- در صورت نیاز می‌توانید با تنظیم دیافراگم میزان روشنایی را تغییر دهید. شما نمونه را با بزرگ‌نمایی، بیشتر می‌بینید. اندازه نمونه چه تغییری کرده است؟

به‌خاطر داشته باشید: که همیشه با احتیاط کامل با میکروسکوپ کار کنید، چون این وسیله حساس، دقیق و گران‌قیمت است. همواره برای حمل آن از دو دست خود استفاده کنید. وقتی که با آن کار نمی‌کنید روی آن را با روپوش ببوشانید. آن را هرگز روی کتاب یا لبه میز قرار ندهید. دقت کنید که به عدسی‌های آن آسیب وارد نشود و برای تمیز کردن آن از معلم خود کمک بخواهید.

فعالیت ۲-۲



مشاهده پُر با کمک میکروسکوپ

از معلم خود یک پُر پرنده، مانند پُر کبوتر، بگیرید.

۱- با کمک قیچی قطعاتی به ابعاد تقریبی 5 mm^2 از آن تهیه کنید.

۲- یک قطعه پُر را روی تیغه میکروسکوپ قرار دهید (شکل ۲-۵).



شکل ۲-۵

۳- با کمک قطره‌چکان یا وسیله

مشابهی، یک قطره روغن سدر یا روغن زیتون

روی نمونه بریزید.



شکل ۲-۶

۴- روی قطعه پُر را با تیغک ببوشانید و

به آرامی روی آن فشار وارد آورید، تا روغن

به‌طور کامل در زیر تیغه پخش شود.



شکل ۲-۷

۵- اکنون ساختار پُر را زیر میکروسکوپ بررسی کنید. تصویری از آنچه در میکروسکوپ می‌بینید، رسم کنید

به‌طوری که جزئیات ساختار پُر را نشان دهد.

۶- برای تصویر خود مقیاس تهیه کنید. برای این کار یک خط کش شفاف را روی صفحه میکروسکوپ قرار دهید و با کمک میکروسکوپ، قطر میدان دید میکروسکوپ را در بزرگ‌نمایی مورد نظر بر حسب میلی‌متر اندازه‌گیری و با اندازه تصویری که رسم کرده‌اید، مقایسه کنید.

سلول‌های مختلف اندازه‌های متفاوتی دارند

کوچک‌ترین سلول‌ها، باکتری‌هایی هستند که اندازه آنها بین $1\ \mu\text{m}$ و $10\ \mu\text{m}$ است. درازترین سلول‌ها بعضی از سلول‌های عصبی و ماهیچه‌ای هستند. اندازه کوچک‌ترین سلول‌های گیاهی و جانوری در حدود $10\ \mu\text{m}$ و اندازه بزرگ‌ترین آنها (صرف نظر از سلول‌های دراز عصبی و ماهیچه‌ای و سلول‌های تخم بسیاری از جانوران) در حدود $100\ \mu\text{m}$ است. تریکودینا $50\ \mu\text{m}$ قطر دارد.

اندازه و شکل هر سلول، به کار آن سلول بستگی دارد. تخمک پرندگان حجیم است چون مقدار زیادی مواد غذایی را برای رشد جنین، در خود جای داده است. سلول‌های ماهیچه‌ای درازند در نتیجه می‌توانند قسمت‌های مختلف بدن را به یکدیگر نزدیک کنند. سلول‌های عصبی نیز درازند، در نتیجه می‌توانند پیام‌های عصبی را به سرعت از یک نقطه بدن به نقطه‌ای دیگر منتقل کنند. از سوی دیگر، کوچک بودن اندازه سلول نیز فواید زیادی دارد. مثلاً گلبول‌های قرمز خون فقط $8\ \mu\text{m}$ قطر دارند و در نتیجه می‌توانند از درون باریک‌ترین رگ‌های بدن عبور کنند.

اندازه سلول‌ها از حد معینی بزرگ‌تر و از حد معینی کوچک‌تر نمی‌شود

کوچک‌ترین اندازه سلول باید به قدری باشد که بتواند

به مقدار کافی DNA، پروتئین و اندامک‌های لازم برای زیستن و تولیدمثل کردن را در خود جای دهد. عامل محدودکننده اندازه سلول، نسبت سطح به حجم است: سطح سلول باید به اندازه‌ای باشد که بتواند به مقدار کافی مواد غذایی از محیط بگیرد و مواد زاید به محیط دفع کند. سلول‌های بزرگ‌تر، سطح بزرگ‌تری دارند، اما نسبت سطح به حجم آنها در مقایسه با سلول‌های کوچک‌تر هم‌شکل خود، کوچک‌تر است. برای درک بهتر به شکل ۸-۲ نگاه کنید. در این شکل، یک سلول مکعبی شکل بزرگ و ۲۷ سلول مکعب شکل کوچک نشان داده شده است (دایره‌های بنفش رنگ، هسته‌های سلول را نشان می‌دهند).

هر دو مورد، در مجموع حجم یکسانی دارند:

$$30\ \mu\text{m} \times 30\ \mu\text{m} \times 30\ \mu\text{m} = 27,000\ \mu\text{m}^3 = \text{حجم}$$

اما مساحت آن دو متفاوت است:

$$6 \times (30\ \mu\text{m} \times 30\ \mu\text{m}) = \text{مساحت مکعب بزرگ}$$

$$= 5400\ \mu\text{m}^2$$

$$6 \times (10\ \mu\text{m} \times 10\ \mu\text{m}) = \text{مساحت هر مکعب کوچک}$$

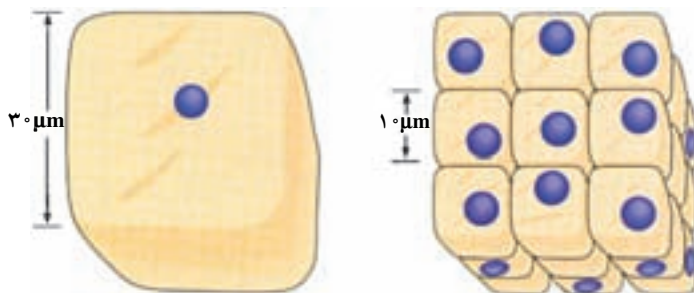
$$= 600\ \mu\text{m}^2$$

مجموع مساحت همه ۲۷ مکعب کوچک برابر است با

$$27 \times 600\ \mu\text{m}^2 = 16200\ \mu\text{m}^2$$

یعنی سه برابر مساحت مکعب بزرگ. پس می‌بینیم که نسبت سطح به حجم

در سلول بزرگ‌تر، کوچک‌تر است. در مواردی که حجم سلول



شکل ۸-۲- سمت چپ: سطح یک سلول مکعبی بزرگ $5400\ \mu\text{m}^2$ است. سمت راست: مجموع سطح این ۲۷ سلول $16200\ \mu\text{m}^2$ است.



فعالیت ۲-۳

۱- فرض کنید میکروسکوپ شما دارای یک عدسی چشمی و دو عدسی شیئی است. قدرت بزرگ‌نمایی عدسی چشمی $\times 10$ و قدرت بزرگ‌نمایی عدسی‌های شیئی $\times 10$ و $\times 40$ است. کمترین و بیشترین بزرگ‌نمایی میکروسکوپ شما چقدر است؟

۲- یک نمونه 0.5mm طول دارد. طول آن در زیر میکروسکوپ با این دو عدسی شیئی چقدر خواهد بود؟ فرض کنید تصویری که شما از نمونه کشیده‌اید، 2cm طول دارد. چگونه برای طرح خود مقیاس تهیه می‌کنید؟ چرا برای زیست‌شناسان اختصاص دادن مقیاس به تصویری که تهیه می‌کنند، لازم است؟

خودآزمایی ۲-۱

- ۱- قدرت تفکیک را تعریف کنید.
- ۲- انواع میکروسکوپ‌ها را نام ببرید.
- ۳- اندازه و شکل هر سلول به چه عواملی بستگی دارد؟
- ۴- چرا اندازه سلول‌ها از حد معینی بزرگ‌تر یا کوچک‌تر نمی‌شود؟

الکترونی استفاده کنیم. سلول‌های پروکاریوتی نیز از این قاعده مستثنی نیستند، چون بسیار ریزند. اندازه بیشتر سلول‌های پروکاریوتی بین $2\mu\text{m}$ تا $8\mu\text{m}$ است. سلول پروکاریوتی، هسته مشخص و سازمان یافته ندارد و DNA و پروتئین‌های همراه آن درون ناحیه هسته ماندنی به نام ناحیه نوکلئوئیدی قرار گرفته است. از آنجا که هیچ غشایی ناحیه نوکلئوئیدی را احاطه نمی‌کند، DNA و پروتئین‌های همراه آن در تماس مستقیم با دیگر محتویات سلول هستند. ریبوزوم‌ها، از دیگر اجزای سلول هستند که با توجه به اطلاعاتی که از DNA می‌رسد، آمینواسیدها را به یکدیگر متصل می‌کنند و پلی‌پپتید می‌سازند. چنان‌که می‌دانید، پروتئین‌ها از پلی‌پپتیدها تشکیل شده‌اند و DNA با واسطه‌هایی، نوع پروتئین را تعیین و از این راه، فعالیت‌های سلول را کنترل می‌کند.

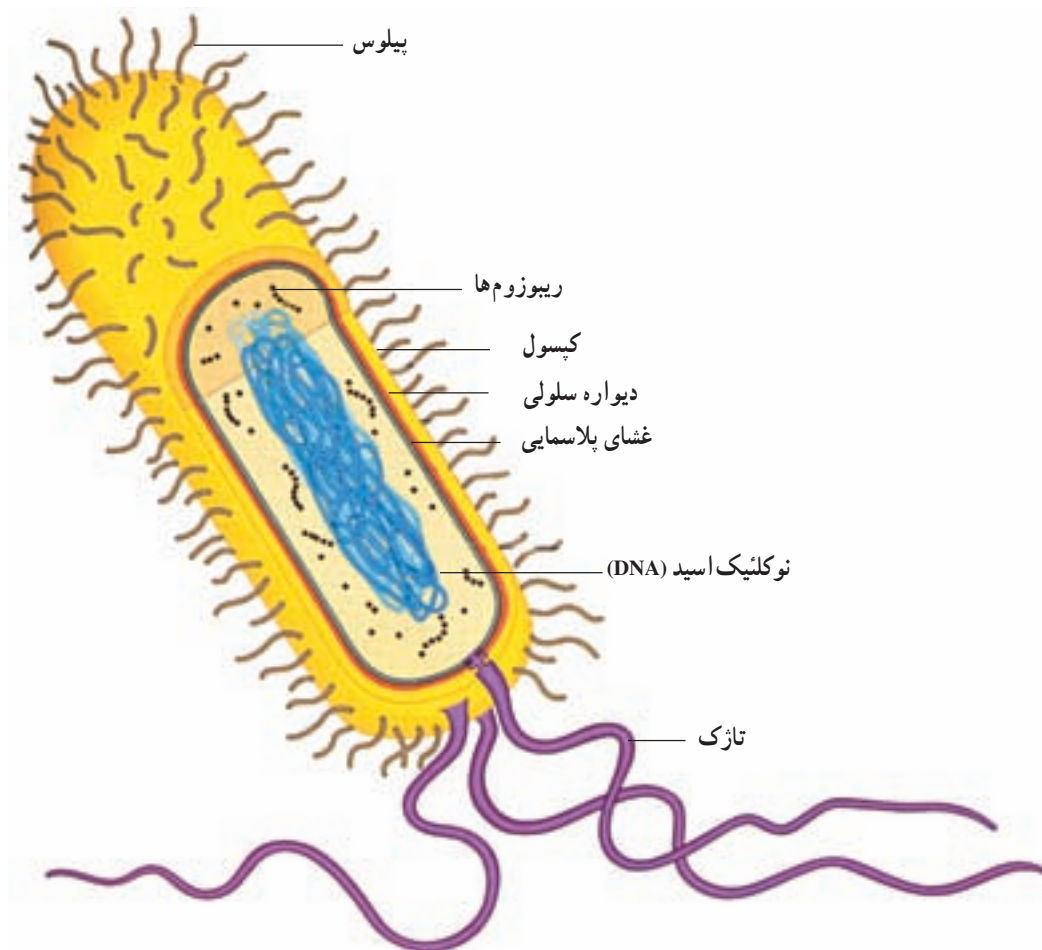
غشای پلاسمایی، سیتوپلاسم سلول باکتری را دربر می‌گیرد. در بیشتر باکتری‌ها، اطراف غشای پلاسمایی را دیواره‌ای تقریباً سخت فراگرفته که آن را دیواره سلولی باکتریایی می‌نامند. این دیواره از سلول محافظت و سلول را در حفظ کردن شکل، یاری می‌کند. در بعضی از باکتری‌ها، دیواره سلولی به وسیله پوشش چسبناکی به نام کپسول احاطه شده است. کپسول

خیلی زیاد باشد، سطح آن نمی‌تواند احتیاجات حجم را برآورده کند؛ بنابراین، نسبت سطح به حجم است که اجازه نمی‌دهد سلول از حد معینی بزرگ‌تر باشد.

وقتی سلول‌های زنده روی کره زمین پدید آمدند، فقط آنهایی زنده ماندند و تولیدمثل کردند که سطح کافی برای تأمین احتیاجات حجم خود را داشتند. خاطر نشان می‌کنیم که همه سلول‌ها مکعب کامل یا کره کامل نیستند. شکل‌های متعددی از سلول‌ها پدید آمده‌اند که بر محدودیت اندازه چیره شده‌اند. سلول‌های ماهیچه‌ای و عصبی می‌توانند بسیار دراز باشند، چون باریک‌اند و بنابراین به ازای هر واحد حجم، سطح بیشتری نسبت به سلول‌های کروی شکل دارند.

سلول‌های پروکاریوتی کوچک‌اند و ساختار ساده دارند

از عمر زمین، مدت زمان زیادی می‌گذرد. طی این مدت، دو نوع سلول، با ساختارهایی متفاوت، نسبت به یکدیگر، پدید آمده‌اند. سلول‌های پروکاریوتی که عبارت‌اند از باکتری‌ها و سیانوباکتری‌ها و سلول‌های یوکاریوتی که بقیه سلول‌ها هستند. در شکل ۲-۹ یک سلول باکتریایی نشان داده شده است. برای دیدن ساختار دقیق هر سلول، باید از میکروسکوپ



شکل ۹-۲- یک سلول باکتریایی $\times 50,000$

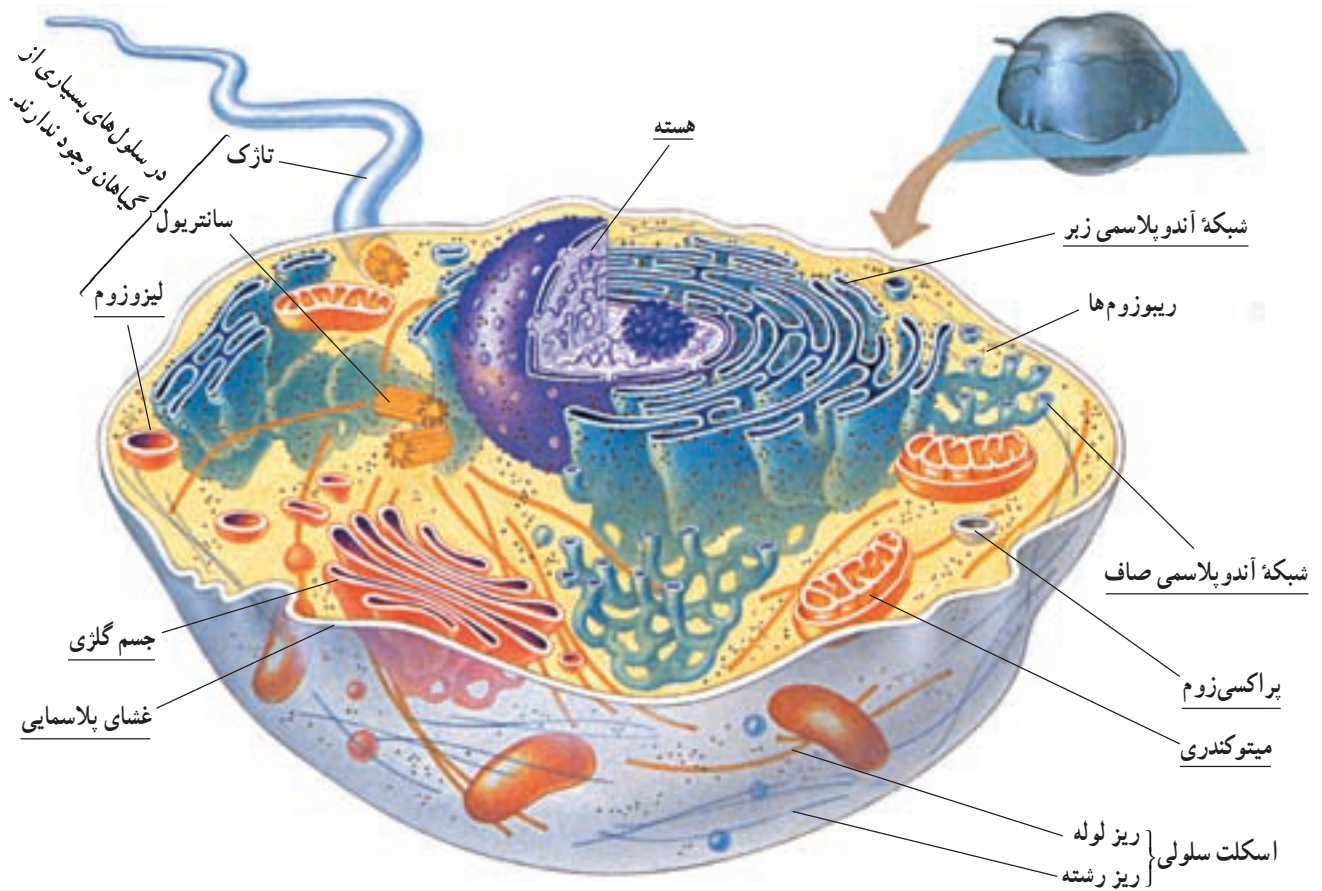
این قسمت، ساختار یک سلول جانوری و یک سلول گیاهی را به عنوان نمونه‌هایی از سلول‌های یوکاریوتی، بررسی می‌کنیم. شکل ۱۰-۲ یک سلول جانوری را نشان می‌دهد. جزئیاتی را که در شکل نشان داده شده است، با میکروسکوپ الکترونی گذاره می‌توان دید. در نگاه اول، درمی‌یابیم که سلول یوکاریوتی، از سلول پروکاریوتی پیچیده‌تر است. آشکارترین تفاوت، سلول‌های پروکاریوتی و یوکاریوتی این است که، اندامک‌های گوناگونی در سیتوپلاسم سلول‌های یوکاریوتی وجود دارد. توجه داشته باشید که بیشتر این اندامک‌ها را غشا می‌پوشاند.

در سلول‌های یوکاریوتی، غشاهایی سیتوپلاسم را به قسمت‌های مجزا تقسیم می‌کنند. زیست‌شناسان، قسمت‌هایی را که با غشاهایی احاطه شده‌اند، اندامک‌های غشادار می‌نامند (در شکل‌های ۱۰-۲ و ۱۱-۲ زیر نام هر یک از اندامک‌های

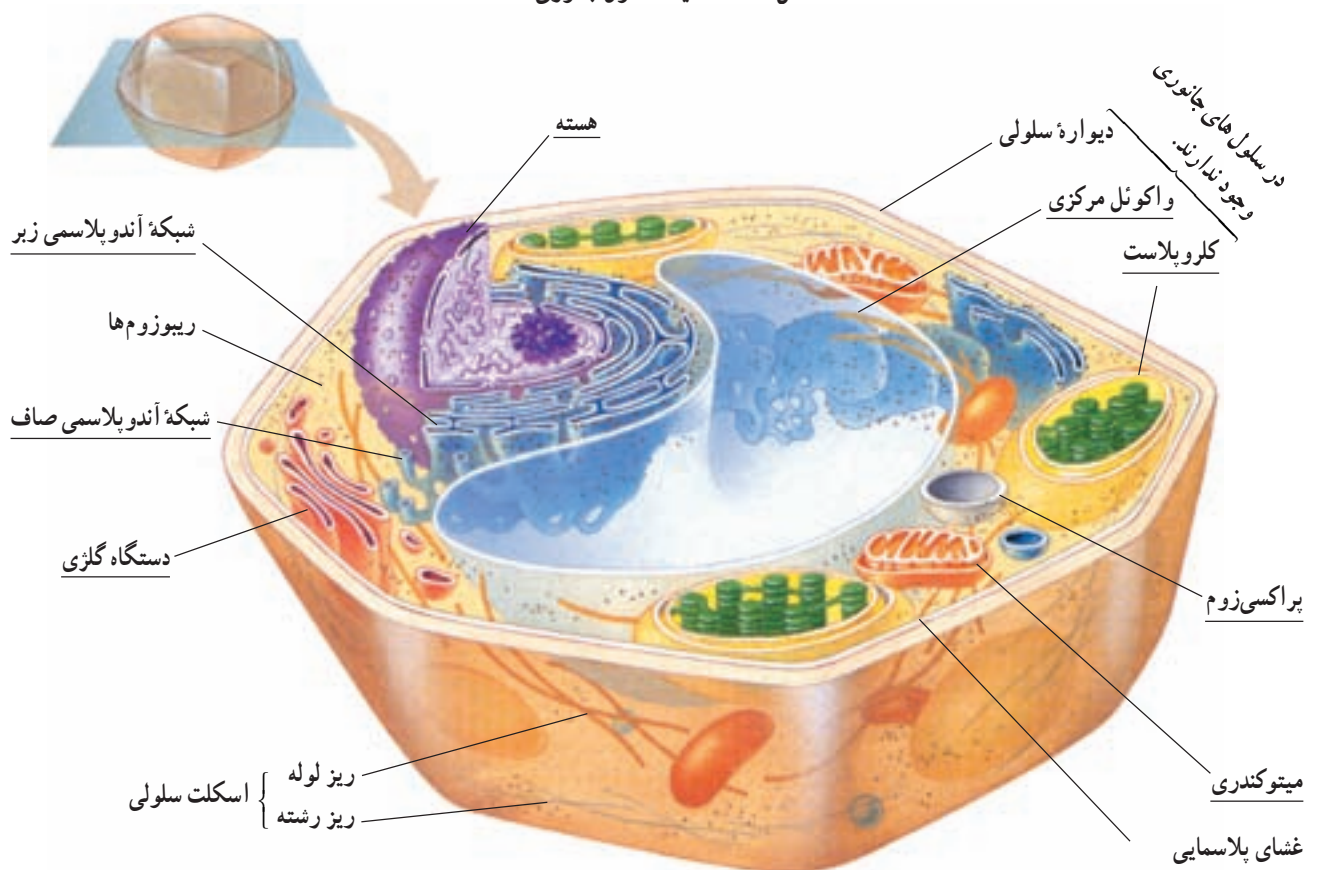
نیز باعث محافظت سلول می‌شود. همچنین، کپسول به بعضی از باکتری‌ها کمک می‌کند تا به سطوح مختلف، مثلاً به سنگ‌هایی که در مسیر جریان سریع آب در رودخانه قرار دارند یا به بافت‌های درون بدن آدمی بچسبند. بعضی از باکتری‌ها، برآمدگی‌هایی بر سطح خود دارند. این برآمدگی‌های مو مانند را اگر کوتاه باشند، پیلی (مفرد آن: پیلوس) می‌نامند. پیلی به چسبیدن باکتری به سطوح مختلف کمک می‌کند. برآمدگی‌های بلند را تاژک می‌نامند. تاژک با حرکت‌های خود باکتری را در محیط مایع پیرامون به جلو می‌راند.

درون سلول‌های یوکاریوتی بخش‌های عمل‌کننده مجزایی وجود دارد

همه سلول‌های یوکاریوتی، از هر نوعی که باشند -جانوری، گیاهی، آغازی یا فارچی- با یکدیگر شباهت‌های اساسی دارند، اما با سلول‌های پروکاریوتی بسیار متفاوت‌اند. در



شکل ۱۰-۲- یک سلول جانوری $\times 8000$



شکل ۱۱-۲- یک سلول گیاهی $\times 8000$

غشادار، خط کشیده شده است). اندامک‌های غشاداری که در شکل ۱-۲ دیده می‌شوند، عبارت‌اند از: هسته، شبکه آندوپلاسمی، جسم گلژی، میتوکندری، لیزوزوم و پراکسی‌زوم. توجه داشته باشید که در سلول زنده، بیشتر اندامک‌هایی رنگ‌اند و استفاده از رنگ در این شکل، فقط برای سهولت تشخیص آنهاست.

بسیاری از فعالیت‌های شیمیایی سلول، یا به عبارت دیگر متابولیسم سلولی، در فضای درون اندامک‌های غشادار انجام می‌گیرد. این فضاها از مواد سیال (روان) پر شده‌اند. در فضای درون هر اندامک، وضعیت خاصی که برای انجام واکنش‌های شیمیایی ویژه مورد نیاز است، ایجاد و حفظ می‌شود. این وضعیت در اندامک‌های گوناگون، متفاوت است. بنابراین، فرآیندهای متفاوت متابولیسمی که به وضعیت‌های متفاوتی نیاز دارند، می‌توانند به طور همزمان در یک سلول به انجام برسند؛ چون هر یک از آنها در اندامک جداگانه‌ای به وقوع می‌پیوندد. مثلاً در شبکه آندوپلاسمی هورمون‌های استروئیدی ساخته می‌شوند، در پراکسی‌زوم‌ها، که در مجاورت شبکه آندوپلاسمی قرار دارند، هیدروژن پراکسید (H_2O_2) تولید می‌شود. برای سلول سمی است و طی بعضی از واکنش‌های متابولیسمی، به عنوان محصول فرعی تولید می‌شود. چگونه استروئیدها از تخریب به وسیله H_2O_2 در امان می‌مانند؟ H_2O_2 در درون پراکسی‌زوم‌ها باقی می‌ماند و در همان‌جا، به سرعت به H_2O تبدیل می‌شود.

یکی دیگر از فواید غشاهای درون سلولی این است که این غشاها مجموع مساحت غشاهای سلول را به مقدار قابل توجهی افزایش می‌دهند. در سلول‌های یوکاریوتی، غشاهای درونی سطوحی را فراهم می‌کنند که در آنها فرآیندهای مهم متابولیسمی روی می‌دهند. در واقع بسیاری از آنزیم‌هایی که وجود آنها برای فرآیندهای متابولیسمی لازم است، درون غشای اندامک‌ها جای دارند. اگر غشاهای درونی موجود نبودند، سلول‌های یوکاریوتی احتمالاً سطح کافی برای پاسخ‌گویی به نیازهای متابولیسمی خود در اختیار نمی‌داشتند.

اندامک‌هایی که تاکنون از آنها نام برده شد، هم در سلول‌های جانوری و هم در سلول‌های گیاهی یافت می‌شوند. اگر شکل‌های ۱-۲ و ۱۱-۲ را با یکدیگر مقایسه کنید،

در خواهید یافت که استثناهایی هم در این مورد وجود دارد. برای مثال سانتیریول که از ساختارهای سلولی بدون غشا است و در سازمان‌دهی میکروتوبول‌ها، تشکیل دوک تقسیم و تشکیل تاژک و مژک‌ها دخالت دارد، در سلول‌های جانوری و گیاهان ابتدایی مثل خزه‌ها و سرخس‌ها وجود دارد؛ اما در گیاهان پیشرفته دیده نمی‌شود. سلول‌های جانوری ممکن است یک یا چند تاژک داشته باشند؛ اما به جز سلول‌های جنسی نر بعضی گونه‌های گیاهی، سلول‌های گیاهی تاژک ندارند. (تاژک سلول‌های یوکاریوتی از نظر ساختار و عمل با تاژک باکتری‌ها تفاوت دارد.)

سلول گیاهی اجزایی دارد که سلول جانوری از آنها بی‌بهره است. مثلاً سلول گیاهی (همانند سلول‌های قارچ‌ها و بسیاری از آغازیان) دیواره سلولی سخت و ضخیمی دارد. دیواره سلولی، از سلول محافظت می‌کند و سلول را در حفظ شکل باری می‌دهد. دیواره سلولی گیاهی، از نظر ساختار شیمیایی با دیواره سلولی باکتریایی متفاوت است و از سلولز ساخته شده است. برخلاف بیشتر سلول‌های جانوری، بسیاری از سلول‌های بالغ گیاهی به شکل چند وجهی هستند.

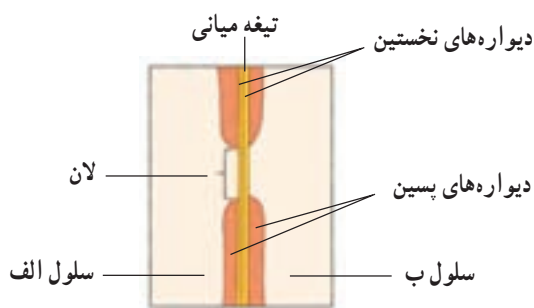

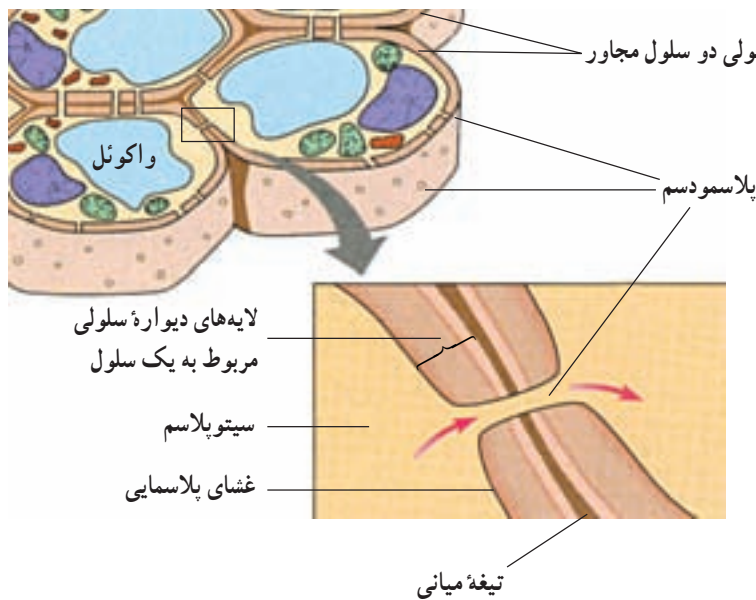
اندامک دیگری که در سلول‌های گیاهی وجود دارد، اما در سلول‌های جانوری یافت نمی‌شود، پلاست است. پلاست‌ها انواع متفاوتی دارند. در کلروپلاست‌ها فتوسنتز رخ می‌دهد (کلروپلاست در بعضی از آغازیان نیز وجود دارد). وجود یک واکوئل مرکزی بزرگ، ویژه بسیاری از سلول‌های گیاهی بالغ است. واکوئل کیسه‌ای از جنس غشاست که در خود آب و مواد شیمیایی گوناگونی را ذخیره می‌کند. در بیشتر سلول‌های گیاهی بالغ، واکوئل مرکزی آنزیم‌هایی دارد که گوارش سلولی را به انجام می‌رسانند. علاوه بر این، واکوئل‌ها با جذب آب اضافی و منبسط شدن می‌توانند به بزرگ شدن سلول کمک کنند.

گرچه تاکنون تأکید ما بر اندامک‌های غشادار بوده است، اما در سلول‌های یوکاریوتی اجزای بدون غشا نیز وجود دارد (در شکل‌های ۱-۲ و ۱۱-۲ زیر این ساختارها خط کشیده نشده است). از میان این اجزا می‌توان سانتیریول‌ها و اسکلت سلولی را نام برد. همه این‌ها از لوله‌هایی پروتئینی به نام ریزلوله (میکروتوبول)

به شکل ۱۲-۲ توجه کنید، دیواره سلولی چند لایه‌ای است. یکی از لایه‌ها بین سلول‌های مجاور مشترک است. این لایه تیغه میانی نام دارد. این لایه سلول‌های مجاور را به هم می‌چسباند. مجاور تیغه میانی لایه‌ای به نام دیواره نخستین قرار گرفته است. در بعضی سلول‌ها، به ویژه سلول‌های مُسن، در سطح درونی دیواره نخستین دیواره دیگری به نام دیواره دومین رسوب می‌کند و ضخامت دیواره را افزایش می‌دهد. دیواره سلولی سلول‌های گیاهی، ضخیم است، اما منافذی دارد که از طریق آنها ارتباط بین سلول‌های مجاور برقرار می‌شود. ماده زنده‌ای که درون این منافذ را پر می‌کند، پلاسمودسم

و رشته‌های پروتئینی به نام ریزرشته ساخته شده‌اند. نقطه‌های قهوه‌ای رنگی که در شکل‌ها دیده می‌شوند، ریبوزوم‌ها هستند. بعضی از ریبوزوم‌ها درون مایع سیتوپلاسمی قرار دارند و بعضی دیگر به بخش‌هایی از شبکه آندوپلاسمی و نیز غشای خارجی هسته چسبیده‌اند.

دیواره سلولی گیاهان که ضخامت آن ۱۰ تا ۱۰۰ برابر غشای پلاسمایی است، عمدتاً از رشته‌های سلولزی نازکی ساخته شده است. این رشته‌ها در سیمانی از جنس سایر پلی‌ساکاریدها و پروتئین قرار گرفته‌اند. در شکل ۱۲-۲ دیواره سلولی چند سلول گیاهی نشان داده شده است.



تصویری از ساختار دیواره سلولی زیر میکروسکوپ الکترونی (×۳۰,۰۰۰) جهت‌گیری رشته‌های سلولزی را تفسیر کنید.

شکل ۱۲-۲- دیواره سلولی سلول‌های گیاهی و ارتباط میان سلول‌ها

نسبت به مواد تراوایی نسبی دارد، یعنی فقط به بعضی مواد اجازه ورود یا خروج می‌دهد و برای این کار ساختار ویژه‌ای دارد که در شکل ۱۳-۲ نشان داده شده است.

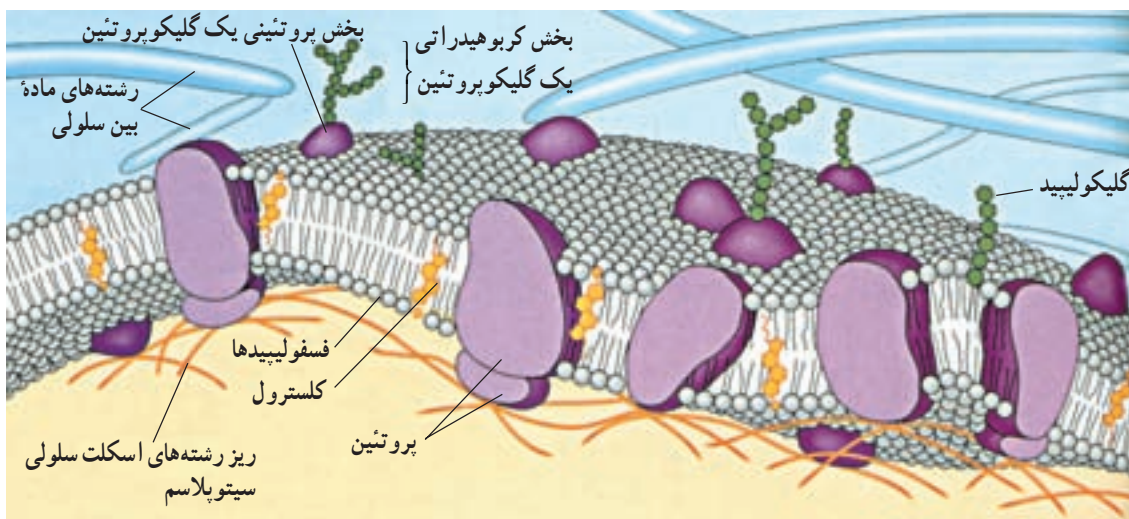
بیشترین تعداد مولکول‌های غشا، مولکول‌های فسفولیپیدی هستند. می‌دانیم بخشی از مولکول‌های فسفولیپیدی نیز مانند سایر مواد لیپیدی آب‌گریز هستند. بخش دیگر این مولکول‌ها آب دوست هستند. در نتیجه فسفولیپیدهای غشا به صورت دولایه‌ای به گونه‌ای قرار گرفته‌اند که سدی در برابر مولکول‌های آب و مواد محلول در آن، ایجاد می‌کند. البته این سد نسبت به آب کاملاً غیرقابل نفوذ نیست و مولکول‌های آب به علت کوچکی، می‌توانند به مقدار اندک از آن عبور کنند. مولکول‌های لیپیدی به آسانی از این بخش غشا عبور می‌کنند. به مولکول‌های درشت پروتئینی شکل ۱۳-۲ توجه کنید. بعضی از این مولکول‌های پروتئینی به ویژه آنها که بر سطح خارجی قرار گرفته‌اند، مولکول‌هایی پذیرنده هستند؛ یعنی به مولکول‌های دیگر متصل می‌شوند و از این راه به برقراری اتصال فیزیکی میان سلول‌ها و مولکول‌ها کمک می‌کنند. پروتئین‌هایی که در سراسر عرض غشا قرار دارند کانال‌ها یا منافذی را برای عبور مواد در غشا ایجاد می‌کنند. مولکول‌ها از یک سمت این پروتئین‌ها وارد و از سمت دیگر آن خارج می‌شوند. کانال‌های پروتئینی تخصصی عمل می‌کنند، یعنی فقط به یک نوع مولکول

(شکل ۲۴-۶) نام دارد. موادی از طریق پلاسمودسم‌ها از سلولی به سلول‌های مجاور منتقل می‌شود. آب، مواد غذایی و پیام‌های شیمیایی از جمله این مواد هستند.

دیواره سلولی در بعضی نقاط نازک‌تر می‌شود. این مناطق نازک‌تر لان نامیده می‌شوند. لان‌های سلول‌های مجاور، معمولاً در مجاورت یکدیگر قرار می‌گیرند و دیواره در آن قسمت در مجموع نازک‌تر از سایر بخش‌هاست.

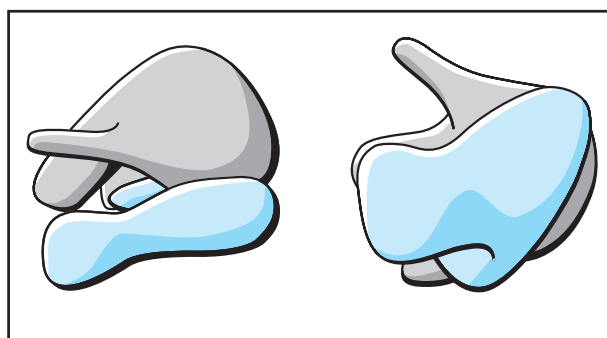
ساختار غشای سلولی برای کاری که انجام می‌دهد، مناسب است

یکی از کارهای غشای پلاسمایی، که پیرامون سلول را فراگرفته است، آن است که مانند دیواره‌های ظرفی که مواد درون خود را از محیط پیرامون جدا می‌کند، مواد درون سلول را از محیط اطراف جدا می‌کند؛ اما نمی‌توان غشای پلاسمایی را کاملاً شبیه دیواره‌های ظرف دانست چون، غشای پلاسمایی بعضی مواد را از خود عبور می‌دهد و از نفوذ بعضی دیگر، جلوگیری می‌کند. اگر کمی به این موضوع بیندیشید، خود به اهمیت آن پی خواهید برد. غشای سلولی برای آن که مرز مناسبی بین محتویات سلول و محیط پیرامونی به وجود آورد، باید به بسیاری مواد اجازه ورود یا خروج ندهد؛ اما سلول در همه حال تا وقتی که زنده است، به جذب یا دفع بعضی مواد نیاز دارد. بنابراین، غشای سلول



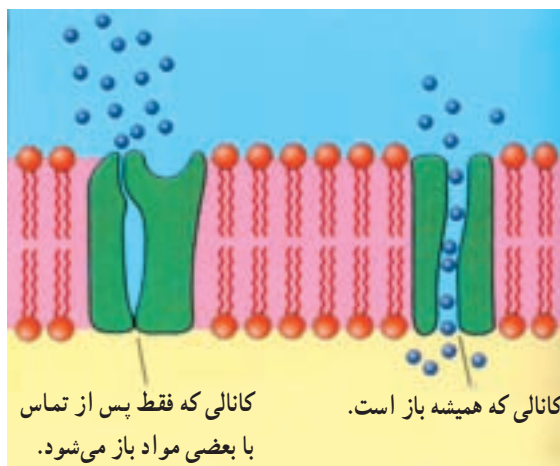
شکل ۱۳-۲ - ساختار غشا

سازمان درون سلولی از اجزای گوناگونی ساخته شده است
 ریبوزوم: ریبوزومها از اجزای بسیار ریز سلول هستند. این اجزا در سیتوپلاسم و نیز درون اندامک‌هایی، مانند میتوکندری و کلروپلاست یافت می‌شوند. وظیفه ریبوزومها مشارکت در پروتئین‌سازی است.
 هر ریبوزوم از دو بخش غیرمساوی تشکیل شده است. هر دو این بخش‌ها از پروتئین و انواع ویژه‌ای RNA که به آنها RNAهای ریبوزومی (به اختصار rRNA) می‌گویند، ساخته شده است. در شکل ۱۵-۲ نمایی از ساختار و اندازه این دو بخش، نسبت به یکدیگر، نشان داده شده است.



شکل ۱۵-۲- نماهایی از ساختار یک ریبوزوم از دو جهت مختلف.

اجازه عبور می‌دهند (مولکول‌های کوچک مانند آب نیز می‌توانند از این کانال‌ها عبور کنند). بعضی از این کانال‌ها همیشه باز هستند و بعضی از آن‌ها فقط در موقع عبور مواد باز می‌شوند. بعضی از پروتئین‌های غشا ناقل هستند. پروتئین‌های ناقل موادی مانند یون‌ها را وارد سلول می‌کنند (شکل ۱۴-۲).
 غشای پلاسمایی با دیواره ظرف تفاوت‌های فراوانی دارد. بنابر آنچه گفته شد، غشاها برای تنظیم وضعیت درون سلولی اهمیت زیادی دارند.



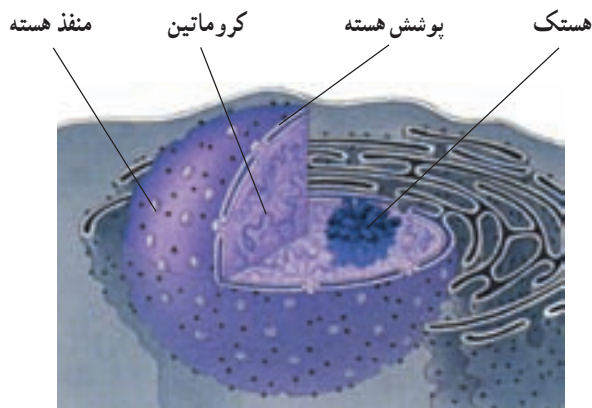
شکل ۱۴-۲- عبور مواد از غشا با کمک پروتئین‌های غشایی

خودآزمایی ۲-۲

- ۱- سلول‌های پروکاریوتی و یوکاریوتی چه شباهت‌ها و چه تفاوت‌هایی دارند؟
- ۲- شکل ساده‌ای از یک باکتری رسم کنید و قسمت‌های مختلفی را که رسم کرده‌اید، نام‌گذاری و کار هر قسمت را بیان کنید.
- ۳- وجود غشاهای درون سلولی چه مزایایی برای سلول‌ها دارد؟
- ۴- سانتیبول از چه چیزی ساخته شده و چه وظایفی را بر عهده دارد؟
- ۵- اندامک‌های غشادار و غیرغشادار یک سلول جانوری و یک سلول گیاهی را نام ببرید.
- ۶- چرا دیواره باکتری‌ها و قارچ‌ها یکپارچه، اما دیواره سلول‌های گیاهی منفذدار است؟
- ۷- ساختار دیواره سلول گیاهی را توضیح دهید.
- ۸- پلاسمودسم ولان را تعریف کنید.
- ۹- چه تفاوت‌هایی بین غشای پلاسمایی و دیواره ظرف وجود دارد؟
- ۱۰- پروتئین‌های غشا، چه کارهایی را انجام می‌دهند؟

دستگاه غشایی درونی از اندامک های غشادار تشکیل شده است گروهی از اندامک های یوکاریوتی از غشاهای به هم مرتبط تشکیل شده اند. بعضی از این غشاها به طور فیزیکی به هم پیوسته اند، اما بعضی دیگر از هم جدا هستند. در مجموع، این غشاها شبکه ای درون سیتوپلاسم تشکیل می دهند که زیست شناسان آن را **دستگاه غشایی درونی** می نامند. اندامک های این دستگاه در ساخت، ذخیره و ترشح مولکول های مهم زیستی با یکدیگر همکاری می کنند.

شبکه آندوپلاسمی، بهترین مثال برای معرفی آن قسمت از دستگاه غشایی درونی است که از غشاهای به هم پیوسته تشکیل شده است. واژه «آندوپلاسم» از زبان یونانی گرفته شده و به معنی «درون سلول» است. خواهیم دید که، دو نوع شبکه آندوپلاسمی وجود دارد: **شبکه آندوپلاسمی زبر** و **شبکه آندوپلاسمی صاف**. این دو اندامک از نظر ساختار و عمل با هم تفاوت دارند، اما غشای سازنده آنها، به هم پیوسته است. همچنین، غشای شبکه آندوپلاسمی به غشای خارجی پوشش هسته پیوسته است (شکل ۲-۱۶).



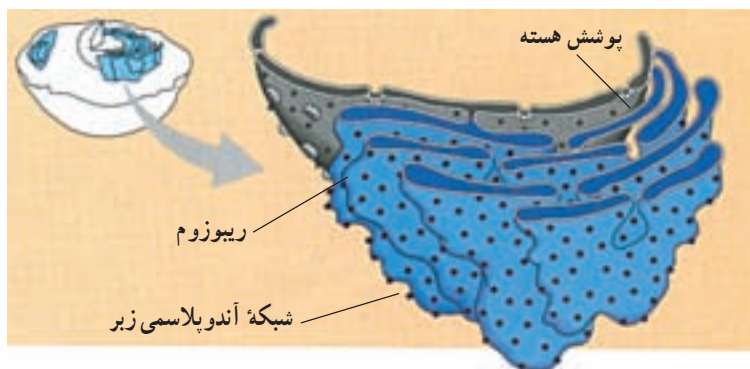
شکل ۲-۱۶ - هسته همراه با بخشی از سیتوپلاسم

ریبوزوم های سلول های پروکاریوتی ساختاری ساده تر و اندازه ای کوچک تر دارند و به ریبوزوم های درون میتوکندری ها و کلروپلاست های سلول های یوکاریوتی شبیه هستند؛ در حالی که ریبوزوم های موجود در ماده زمینه ای سیتوپلاسم (سیتوسل) سلول های یوکاریوتی و ریبوزوم های چسبیده به برخی بخش های شبکه آندوپلاسمی این سلول ها، ساختاری پیچیده تر و اندازه ای کمی بزرگ تر از ریبوزوم های سلول های پروکاریوتی دارند. زیست شناسان برای شباهتی که شرح داده شد اهمیت زیادی قائل هستند (آیا می دانید چرا؟).

هسته: بیشتر ماده ژنتیک سلول های یوکاریوتی در ساختار اندامک هسته جا دارد (شکل ۲-۱۶). اغلب سلول های یوکاریوتی یک هسته و بعضی دو یا چند هسته دارند. هسته مرکز تنظیم ژنتیک سلول یوکاریوتی است. DNA موجود در هسته فعالیت های سلول را رهبری می کند. هسته را پوشش هسته احاطه می کند. پوشش هسته از دو غشای منفذدار تشکیل شده است. تبادل مواد بین هسته و سیتوپلاسم از همین منافذ صورت می گیرد. درون هسته از مایعی به اسم **شیره هسته** پر شده است که DNA و پروتئین های متصل به آن، هستک یا هستک ها و پروتئین های تشکیل دهنده اسکلت هسته ای در آن قرار دارند. پروتئین های اسکلت هسته ای به صورت شبکه درهم رفته ای در هسته قرار دارند و موجب پایداری شکل هسته و پایداری پوشش هسته ای می شوند. درون هسته یک یا چند توده متراکم دیده می شود این توده از رشته ها و دانه هایی تشکیل شده است و **هستک** نام دارد. هستک، جای بخشی از DNA و پروتئین های متصل به آن، RNA و پروتئین است و محلی است که ریبوزوم ها در آن ساخته می شوند.

خودآزمایی ۲-۳

- ۱- ساختار و عمل ریبوزوم را توضیح دهید.
- ۲- جایگاه ریبوزوم در سلول، کجاست؟
- ۳- ساختار و عمل هسته را توضیح دهید.



شکل ۱۷-۲ بخشی از شبکه آندوپلاسمی زبر

شبکه آندوپلاسمی، فضای درون سلول را به دو قسمت

۱- پلی پپتید ساخته و به درون شبکه آندوپلاسمی وارد می شود.

۲- زنجیره های کوچکی از مولکول های قند به پلی پپتید اضافه می شود. بدین ترتیب یک مولکول گلیکوپروتئین حاصل و مولکول برای ارسال به خارج از شبکه آندوپلاسمی، آماده می شود.

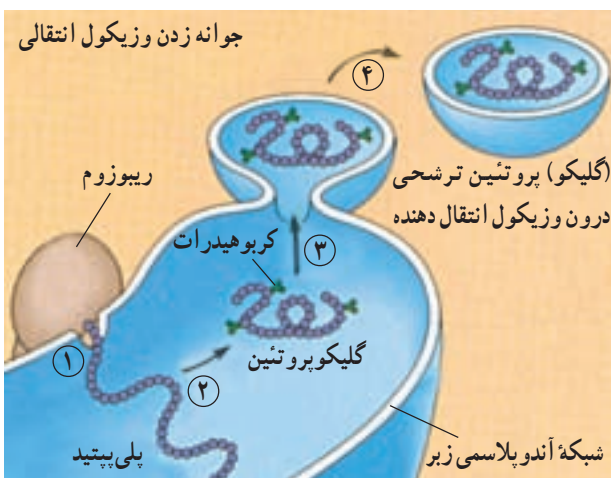
۳- شبکه آندوپلاسمی گلیکوپروتئین را در کیسه های ریزی به نام وزیکول (کیسه چه) انتقالی بسته بندی می کند.

۴- این وزیکول از غشای شبکه آندوپلاسمی به بیرون جوانه می زند. اکنون پروتئین ترشحی، به دستگاه گلژی منتقل می شود تا بقیه کارهای لازم برای ترشح آن، انجام شود. بعد از آماده شدن پروتئین برای ترشح، وزیکول انتقالی به سوی غشای پلاسمایی می رود تا محتویات خود را به خارج از سلول ترشح کند.

شبکه آندوپلاسمی و فضای درون شبکه آندوپلاسمی تقسیم می کند. تقسیم کردن فضای درون سلول به قسمت های مختلف، کار اصلی دستگاه غشایی درونی است.

شبکه آندوپلاسمی زبر: شبکه آندوپلاسمی زبر را از آن جهت زبر می خوانند که در ریزنگارهای میکروسکوپ الکترونی، روی آن دانه هایی دیده می شود (شکل ۱۷-۲). این دانه ها، ریبوزوم ها هستند. شبکه آندوپلاسمی زبر، از کیسه های پهنی ساخته شده است که به یکدیگر متصل اند. این شبکه دو کار مهم برعهده دارد: اول، غشاسازی. بعضی از پروتئین هایی که به وسیله ریبوزوم ها ساخته می شوند و نیز فسفولیپیدهایی که توسط آنزیم های شبکه آندوپلاسمی ساخته می شوند، درون غشای شبکه آندوپلاسمی جای می گیرند. در نتیجه، غشای شبکه آندوپلاسمی وسیع تر می شود، تا این که قسمتی از آن به دیگر اندامک ها فرستاده می شود.

دومین کار مهمی که شبکه آندوپلاسمی زبر انجام می دهد، ساخت پروتئین هایی است که قرار است به خارج از سلول ترشح شوند. از این پروتئین های ترشحی می توان پادتن ها را مثال زد. پادتن ها، مولکول های دفاعی بدن هستند که توسط گلبول های سفید خون ساخته و ترشح می شوند. هر مولکول پادتن از چند رشته پلی پپتید ساخته شده است. ریبوزوم های شبکه آندوپلاسمی زبر، پلی پپتیدهای مولکول های پادتن را می سازند. این پلی پپتیدها درون شبکه آندوپلاسمی کنار هم قرار می گیرند و به این ترتیب، پادتن کامل و فعال حاصل می شود. در شکل ۱۸-۲ ساخته شدن و بسته بندی پروتئینی ترشحی که فقط از یک رشته پلی پپتیدی



شکل ۱۸-۲ ساخته شدن و بسته بندی یک پروتئین ترشحی در شبکه آندوپلاسمی زبر

پیام عصبی به سلول ماهیچه‌ای می‌رسد یون کلسیم از شبکه آندوپلاسمی صاف نشت می‌کند، به درون سیتوپلاسم وارد و موجب انقباض سلول می‌شود.

جسم گلژی، به پاس پژوهش‌های کامیلو گلژی، زیست‌شناس و پزشک ایتالیایی، به این اسم نام‌گذاری شد. گلژی با استفاده از میکروسکوپ نوری و نیز روش‌های رنگ‌آمیزی سلول، موفق به کشف این اندامک شد. مشاهده جسم گلژی با میکروسکوپ الکترونی نشان می‌دهد که این اندامک از کیسه‌های پهنی که روی هم قرار گرفته‌اند، تشکیل شده است (شکل ۲۰-۲). جنس این کیسه‌ها از غشاست. همان‌گونه که در شکل می‌بینید، این کیسه‌ها، برخلاف کیسه‌های شبکه آندوپلاسمی، به‌طور فیزیکی به هم پیوسته نیستند. تعداد اجسام گلژی در هر سلول از چند عدد تا چند صد عدد است. این تعداد، به میزان فعالیت سلول در ترشح پروتئین‌ها و مواد ترشحی دیگر بستگی دارد.

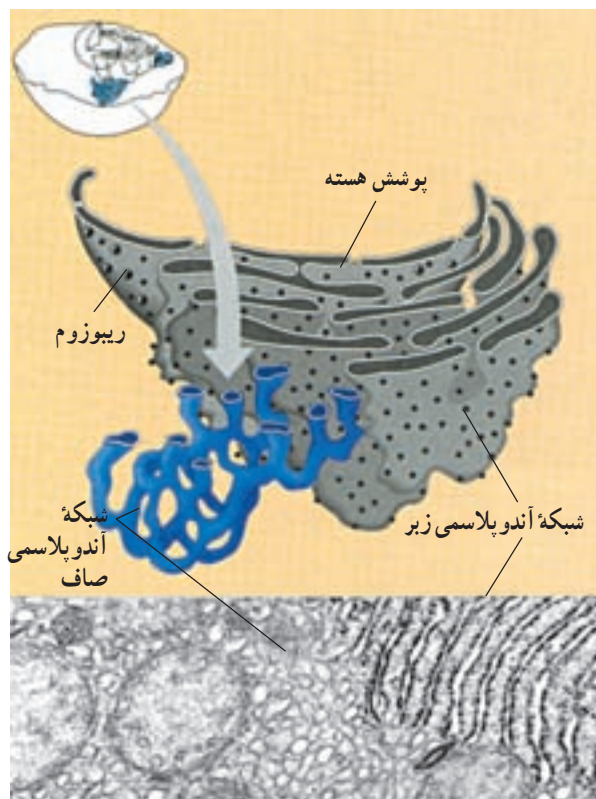
جسم گلژی با همکاری شبکه آندوپلاسمی کارهای متعددی انجام می‌دهد. مولکول‌هایی که توسط شبکه آندوپلاسمی تولید می‌شوند، به وسیله وزیکول‌های انتقالی به دستگاه گلژی می‌رسند. در دستگاه گلژی، این مولکول‌ها دستخوش تغییرات شیمیایی می‌شوند و در نتیجه این تغییرات، مولکول‌ها نشانه‌گذاری می‌شوند و بر حسب نشانه‌ای که دارند، به نقاط مختلف سلول فرستاده می‌شوند.

لیوزوم، جزء دیگر دستگاه غشایی درونی، است. شبکه آندوپلاسمی زبر و دستگاه گلژی لیوزوم‌ها را تولید می‌کنند. لیوزوم کیسه‌ای است غشایی (غشادار) که دارای آنزیم‌های تجزیه‌کننده است (شکل ۲۱-۲). به یاد بیاوریم که تقسیم کردن فضای درون سلول به قسمت‌های مختلف، کار اصلی دستگاه غشایی درونی است. غشای لیوزوم، در واقع پیرامون قسمتی را فرا گرفته است که آنزیم‌های گوارشی در آنجا ذخیره می‌شوند. بدین ترتیب دیگر قسمت‌های سیتوپلاسم از گزند آنزیم‌های گوارشی در امان می‌مانند. بدون لیوزوم، هیچ سلولی نمی‌تواند آنزیم‌های گوارشی را درون خود داشته باشد.

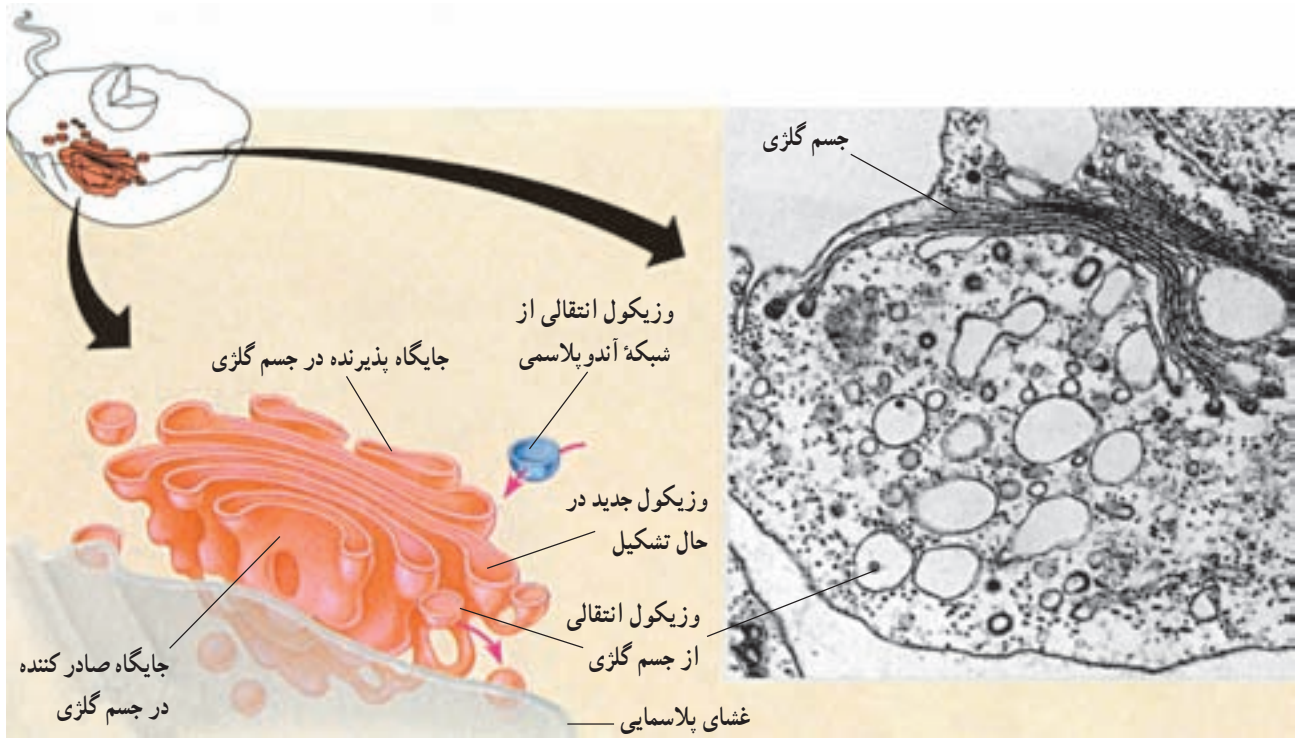
لیوزوم چند کار گوارشی متفاوت انجام می‌دهد. بسیاری از سلول‌ها، مواد غذایی را می‌بلعند، یعنی آن را از راه کیسه‌های

شبکه آندوپلاسمی صاف: شبکه به هم پیوسته‌ای از لوله‌ها و کیسه‌های غشادار و بدون ریبوزوم است (شکل ۱۹-۲) که درون غشای آن، آنزیم‌های متعددی جای گرفته است. این آنزیم‌ها کارهای اصلی این شبکه را انجام می‌دهند. یکی از مهم‌ترین کارهای شبکه آندوپلاسمی صاف، ساخت موادی مانند اسیدهای چرب، فسفولیپیدها و استروئیدهاست. هر یک از این فرآورده‌ها توسط نوع خاصی سلول تولید می‌شود.

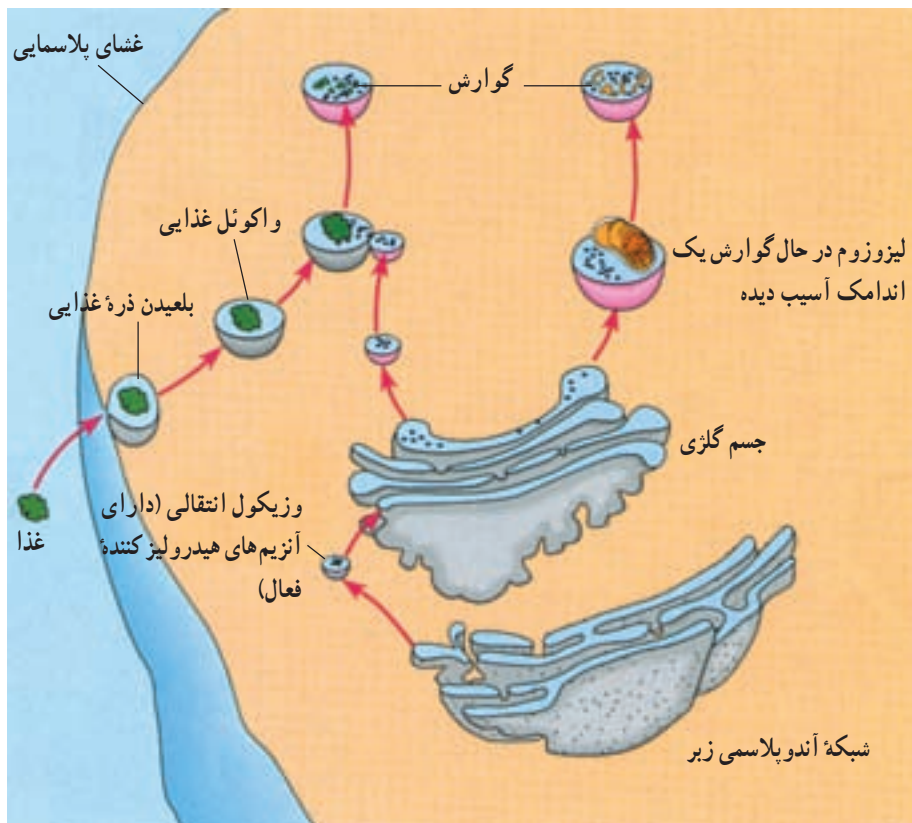
در سلول‌های جگر ما شبکه‌های آندوپلاسمی صاف گسترده‌ای وجود دارد که کارهای دیگری نیز انجام می‌دهند. در این شبکه آندوپلاسمی، آنزیم‌های خاصی وجود دارد که به تنظیم مقدار قندی که از سلول‌های جگر به جریان خون آزاد می‌شود، کمک می‌کند. همچنین آنزیم‌های دیگری وجود دارد که داروها و نیز مواد شیمیایی مضر را تجزیه می‌کنند. این کار سلول‌های جگر را سم‌زدایی می‌نامند. یکی دیگر از کارهای شبکه آندوپلاسمی صاف، ذخیره یون کلسیم است. در بافت ماهیچه‌ای یون کلسیم برای انقباض ماهیچه‌ها لازم است. وقتی



شکل ۱۹-۲- شبکه آندوپلاسمی صاف



شکل ۲۰-۲- جسم گلزی



شکل ۲۱-۲- خاستگاه و کار لیزوزوم ها

ممکن است رنگیزه‌هایی داشته باشند که سبب جذب حشرات به هنگام گرده افشانی می‌شوند. در بعضی از گیاهان واکوئل‌ها حاوی مواد سمی هستند و به این ترتیب گیاه در برابر جانوران گیاهخوار و بعضی از آفات گیاهی از خود دفاع می‌کند.

شکل ۲۲-۲. ب، نوع بسیار متفاوتی از واکوئل را در یک تک سلولی به نام پارامسی نشان می‌دهد. در این شکل، دو واکوئل ضربان‌دار دیده می‌شود که آب اضافی را از سلول جمع می‌کنند و آن را به بیرون می‌رانند. چنین فعالیتی برای آغازیانی که در آب شیرین زندگی می‌کنند، بسیار ضروری است. چون آب دائماً وارد آنها می‌شود، اگر راهی برای دفع آب اضافی وجود نداشته باشد، سلول آن قدر حجیم می‌شود که سرانجام می‌ترکد. در واقع واکوئل‌های ضربان‌دار برای حفظ محیط درونی سلول، حیاتی هستند.

نحوه ارتباط اندامک‌های دستگاه غشایی

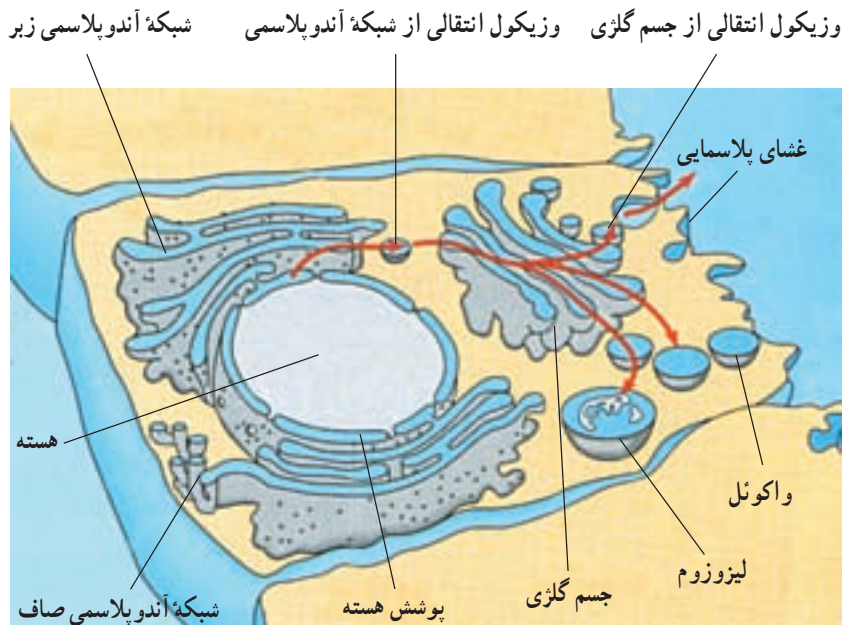
درونی: در شکل ۲۳-۲ خلاصه‌ای از نحوه ارتباط اندامک‌های مختلف دستگاه غشایی درونی نشان داده شده است. همان‌گونه که مشاهده می‌شود، پیوستگی‌های ساختاری مستقیمی بین پوشش هسته، شبکه آندوپلاسمی زبر و شبکه آندوپلاسمی صاف برقرار است. پیکان‌ها پیوستگی‌های کاری را در دستگاه غشایی درونی نشان می‌دهند. مثلاً وزیکول انتقالی در شبکه آندوپلاسمی ساخته می‌شود، بعد به جسم گلژی وارد می‌شود و سرانجام به لیزوزوم یا واکوئل تبدیل می‌شود. چه مطالب دیگری از این شکل قابل استنتاج اند؟

سیتوپلاسمی ریزی به نام واکوئل‌های غذایی به سیتوپلاسم وارد می‌کنند. لیزوزوم‌ها با پیوستن به واکوئل‌های غذایی، آنزیم‌های گوارشی را به درون واکوئل تخلیه و محتوای درون واکوئل را تجزیه می‌کنند. مولکول‌های کوچک حاصل از این گوارش، مثل آمینواسیدها، واکوئل را ترک می‌کنند و به مصرف سلول می‌رسند. یکی دیگر از کارهای لیزوزوم، بلع و گوارش اندامک‌های آسیب دیده یا پیر سلول است. از اجزای حاصل از تجزیه اندامک‌های آسیب‌دیده یا پیر، اندامک‌های جدیدی بازسازی می‌شود. لیزوزوم‌ها در نمو جنینی نیز نقشی حیاتی دارند. مثلاً آنزیم‌های لیزوزومی، بافت‌هایی را که در زمان جنینی بین انگشتان دست و پا قرار دارد، نابود و انگشتان را از یکدیگر جدا می‌کنند.

واکوئل‌ها، نیز همانند لیزوزوم‌ها کیسه‌هایی از جنس غشا هستند که به دستگاه غشایی درونی تعلق دارند. واکوئل‌ها، شکل و اندازه‌های متفاوتی دارند و کارهای مختلفی نیز انجام می‌دهند. پیش از این دیدیم که واکوئل‌های گوارشی و لیزوزوم‌ها با یکدیگر همکاری دارند. در شکل ۲۲-۲ الف، یک واکوئل مرکزی را درون یک سلول گیاهی بالغ می‌بینیم. این واکوئل را می‌توان به عنوان یک لیزوزوم بزرگ در نظر گرفت. واکوئل مرکزی، با جذب آب به بزرگ شدن سلول گیاهی کمک می‌کند. همچنین، مواد شیمیایی حیاتی یا فرآورده‌های دفعی حاصل از متابولیسم سلول را ذخیره می‌کند. واکوئل‌های مرکزی در گلبرگ گیاهان



شکل ۲۲-۲. الف. یک واکوئل مرکزی در یک سلول گیاهی. ب. واکوئل ضربان‌دار در پارامسی



شکل ۲۳-۲. ارتباط بخش‌های مختلف دستگاه غشایی درونی

خودآزمایی ۴-۲

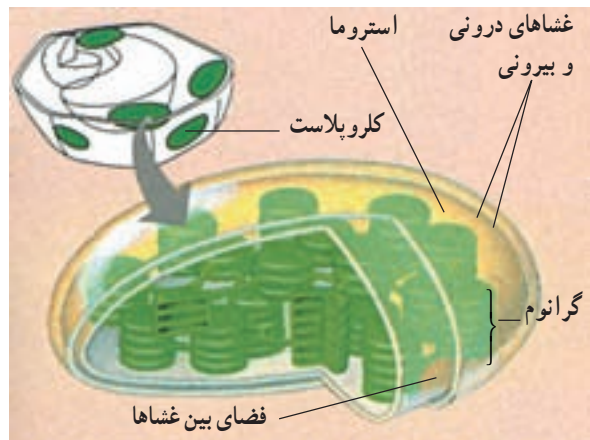
- ۱- دستگاه غشایی درونی از چه اندامک‌هایی تشکیل شده است؟
- ۲- شبکه آندوپلاسمی بر چند نوع است؟ نام ببرید.
- ۳- شبکه آندوپلاسمی زبر، چه وظایفی را بر عهده دارد؟
- ۴- سم‌زدایی بر عهده کدام یک از اندامک‌های سلول است؟
- ۵- جسم گلزی چیست و چه کارهایی را بر عهده دارد؟
- ۶- منشأ لیزوزوم کجاست؟
- ۷- کارهای لیزوزوم را نام ببرید.
- ۸- انواع واکوئل را نام ببرید و کار هر یک را بیان کنید.
- ۹- نحوه ارتباط اندامک‌های مختلف دستگاه غشایی درونی را توضیح دهید.

ساخته شده است. غشاها، فضای درون کلروپلاست را به سه قسمت تقسیم کرده‌اند. در شکل ۲۴-۲ این قسمت‌ها را می‌بینید. یک قسمت، فضای باریکی است که بین غشای خارجی و درونی کلروپلاست وجود دارد. قسمت دوم، فضایی است که توسط غشای درونی محصور شده است. این قسمت، توسط ماده سیالی به نام بستره پر شده است و در آن شبکه‌ای از لوله‌ها و قرص‌های غشادار توخالی، وجود دارد. فضای درون این لوله‌ها و قرص‌های

کلروپلاست، انجام فتوسنتز را بر عهده دارد و در گیاهان و بعضی از آغازیان، مانند جلبک‌ها یافت می‌شود. فتوسنتز، فرآیندی است که طی آن انرژی نوری خورشیدی جذب و به انرژی شیمیایی نهفته در مولکول‌های قند، تبدیل می‌شود. بخشی از این قندها برای تهیه مواد غذایی دیگر به کار می‌روند. دنیای زنده، تا حد زیادی مرهون انرژی‌ای است که فتوسنتز ذخیره می‌کند. با نگاهی به ساختار درونی کلروپلاست با میکروسکوپ الکترونی، نیروگاهی خورشیدی را خواهیم دید که بسیار موفق‌تر از هر آن چیزی عمل می‌کند که تاکنون توسط قدرت ابتکار و نبوغ آدمی

علاوه بر کلروپلاست‌ها، در سلول‌های گیاهان ممکن است انواع دیگری از پلاست‌ها دیده شوند که در آنها مواد متفاوتی، مثل نشاسته، ذرات رنگی، پروتئین‌ها و لیپیدها ذخیره می‌شوند. **میتوکندری:** میتوکندری، اندامکی است که انرژی شیمیایی را از شکلی به شکل دیگر تبدیل می‌کند. این اندامک، انجام تنفس سلولی را بر عهده دارد. تنفس سلولی، فرآیندی است که طی آن، انرژی شیمیایی غذاها مانند قندها، به انرژی شیمیایی مولکول سوختی سلول، یعنی ATP (آدنوزین تری فسفات) تبدیل می‌شود. ساختار میتوکندری همانند دیگر اندامک‌ها، با کاری که انجام می‌دهد، متناسب است (شکل ۲۶-۲). میتوکندری، همانند کلروپلاست، دارای دو غشاست، اما فضای درون آن فقط از دو قسمت تشکیل شده است: یک قسمت، فضای بین دو غشاست و قسمت دیگر، فضایی است که توسط غشای درونی محصور شده و با ماده‌ای سیال به نام **ماتریکس** پر شده است. بسیاری از واکنش‌های شیمیایی مربوط به تنفس سلولی، درون ماتریکس رخ می‌دهند. غشای درونی، بسیار چین‌خورده است و آنزیم‌هایی که

غشایی، سومین قسمت از فضاهای درون کلروپلاست است. توجه داشته باشید که این قرص‌ها به صورت دسته‌های چندتایی روی یکدیگر قرار می‌گیرند. هر دسته را یک **گرانوم** می‌نامیم. گرانوم‌ها مکان‌هایی هستند که در آن‌جا انرژی خورشیدی به دام می‌افتد. خواهیم دید که هر قسمت از کلروپلاست نقش ویژه‌ای را در تبدیل انرژی خورشیدی به انرژی شیمیایی ایفا می‌کند.



شکل ۲۴-۲- کلروپلاست و اجزای آن

۲-۴ فعالیت



مشاهده سلول‌های گیاهی

- ۱- یک پیاز را به دو بخش تقسیم کنید.
- ۲- یکی از فلس‌های ضخیم را از داخل پیاز جدا کنید.
- ۳- با کمک انبرک، یکی از لایه‌های نازک را از سطح داخل فلس پیاز جدا کنید.
- ۴- با کمک قیچی یک قطعه کوچک از آن، به ابعاد 5mm^2 تهیه کنید.
- ۵- قطعه کوچک از این لایه نازک را روی تیغه بگذارید و یک قطره محلول یددار رقیق روی آن بریزید. به طوری که محلول ید، سراسر نمونه را فرا بگیرد.
- ۶- یک تیغک روی نمونه بگذارید.



شکل ۲۵-۲

- ۷- تیغه را زیر میکروسکوپ ابتدا با بزرگ‌نمایی کم و سپس با بزرگ‌نمایی بالا، بررسی کنید. یک سطح از نمونه را که سلول‌های آن مشخص‌تر هستند، انتخاب و سپس ساختار آن سلول‌ها را با دقت مشاهده کنید.
- ۸- شکل یکی از سلول‌های پیاز را بکشید و بخش‌های مختلف آن را نام‌گذاری کنید؛ اگرچه پیاز بخشی از گیاه

- محسوب می‌شود و فلس‌های آن نوعی برگ هستند، ولی در سلول‌های آن هیچ کلروپلاستی پیدا نمی‌کنید. چرا؟
- ۹- خزهای را تهیه کنید و یکی از برگ‌های کوچک آن را به کمک قیچی جدا کنید.
 - ۱۰- برگ خز را با یک قطره آب، روی تیغه بگذارید و روی آن را با تیغک بیوشانید.
 - ۱۱- نمونه را با درشت‌نمایی کم، بررسی کنید. چه ساختارهایی می‌بینید که در سلول‌های پیاز نبودند؟ دلیل وجود آنها را در سلول‌های خز توضیح دهید.
 - ۱۲- یکی از مناسب‌ترین سلول‌ها را انتخاب کنید و آن را با بزرگ‌نمایی بالا ببینید.
 - ۱۳- شکلی از سلول‌های خز بکشید و جزئیات ساختاری آن را نام‌گذاری کنید.
 - ۱۴- چرا دیدن هسته در سلول‌های خز مشکل، یا غیرممکن است؟
 - ۱۵- برای دیدن هسته چه اقدامی می‌توان انجام داد؟

ساختن ATP را بر عهده دارند، درون این غشا و نیز بر سطح آن می‌شوند. افزایش سطح غشای درونی میتوکندری به نوبه خود جای گرفته‌اند. هر چین‌خوردگی، یک تیغه به نام کریستا را بوجود می‌آورد. کریستاها موجب افزایش سطح غشای درونی

خودآزمایی ۵-۲

- ۱- فضای درونی کلروپلاست و میتوکندری به چند قسمت تقسیم شده است؟
- ۲- انرژی خورشید در کدام قسمت کلروپلاست به دام می‌افتد؟
- ۳- وظیفه میتوکندری چیست؟
- ۴- منظور از «تنفس سلولی» چیست؟
- ۵- ساختمان میتوکندری و کلروپلاست را با یکدیگر مقایسه کنید.

فعالیت ۵-۲



- ۱- کلروپلاست و میتوکندری چه عمل مشترکی انجام می‌دهند؟ تفاوت کار آنها در چیست؟
 - ۲- غشاهای درونی سلول‌های یوکاریوتی چه فایده‌هایی برای آنها دارند؟
 - ۳- قطر نوعی سلول $20\ \mu\text{m}$ است. برای ساختن خطی فرضی با ضخامت یک سلول و به طول $1\ \text{cm}$ چند عدد از این سلول‌ها لازم است؟
 - ۴- دانش‌آموزی چند ریزنگار الکترونی که از یک مرکز تهیه عکس با کمک میکروسکوپ الکترونی، گرفته بود، به کلاس آورد تا به سایر دانش‌آموزان و معلم نشان دهد. این ریزنگارها عبارت بودند از: یک ریزنگار الکترونی از سلول‌های موش، دو ریزنگار الکترونی از سلول‌های برگ لوبیا و دو ریزنگار الکترونی از یک باکتری. متأسفانه او فراموش کرده بود نام تصاویر را یادداشت کند و نمی‌دانست کدام تصویر مربوط به کدام جاندار است. این عکس‌ها از بخشی از سلول تهیه شده بود و در آنها فقط چند جزء سلول قابل تشخیص بود. آیا شما می‌توانید با توجه به شرح این ریزنگارها، تشخیص دهید کدام عکس مربوط به کدام جاندار است؟
- عکس الف - کلروپلاست، چند ریبوزوم، هسته
عکس ب - دیواره سلولی، غشای پلاسمایی

عکس ج - میتوکندری، دیواره سلولی و غشای پلاسمایی

عکس د - غشای پلاسمایی، چند ریوزوم

عکس ه - هسته، شبکه آندوپلاسمی زیر

۵- فرض کنید سلولی کاملاً کروی شکل است و شعاعی به طول $10\mu\text{m}$ دارد. سطح این سلول چند میکرومتر مربع

وسعت دارد؟ حجم آن را نیز محاسبه کنید. نسبت سطح این سلول به حجم آن چقدر است؟

اکنون فرض کنید سلولی کروی شکل دیگری شعاعی به طول $20\mu\text{m}$ دارد. سطح، حجم و نسبت سطح به حجم این

سلول چقدر است؟ نسبت‌های سطح به حجم این دو سلول را با یکدیگر مقایسه کنید. از این مقایسه چه نتیجه‌ای می‌گیرید؟

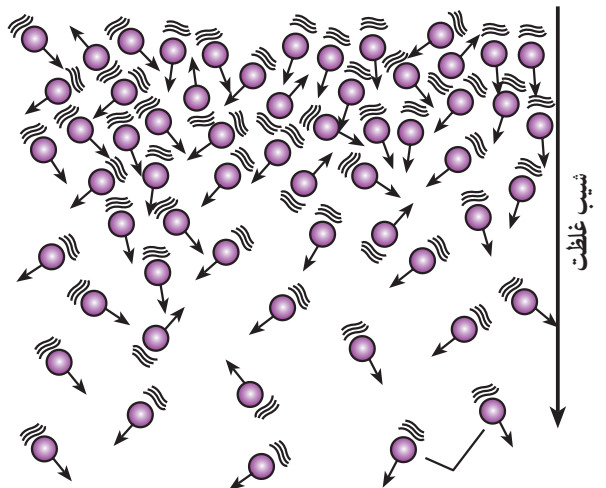
(یادآوری: $r =$ شعاع کره، $4\pi r^2 =$ مساحت کره و $\frac{4}{3}\pi r^3 =$ حجم کره و $\pi = 3.14$).

ناحیه می‌شود. از شکل می‌توانید استنباط کنید که مولکول‌ها به طور اتفاقی و در تمام جهات حرکت می‌کنند؛ به طوری که در مجموع، پس از مدتی حرکت مولکول‌ها موجب یکسان شدن غلظت در محیط این ماده بین دو ناحیه می‌شود. بنابراین شیب انتشار، یعنی حرکت مولکول‌ها، بیشتر در جهت یک نواحی غلظت در محیط است. به عبارت دیگر شیب انتشار از تراکم بیشتر به سمت تراکم کمتر است.

حرکت خالص مولکول‌ها را در انتشار می‌توان از طریق

مولکول‌ها از محل پُر تراکم به محل کم تراکم می‌روند.

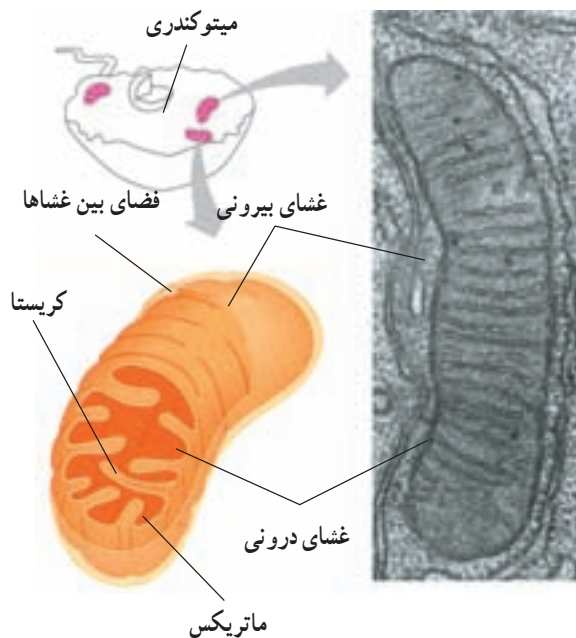
* ناحیه الف: $100,000$ مولکول محلول در این ناحیه وجود دارد.



* ناحیه ب: 1000 مولکول محلول در این ناحیه وجود دارد.

مولکول‌های محلول در حال جنبش

شکل ۲۷-۲- انتشار مولکول‌ها در جهت شیب انتشار



شکل ۲۶-۲- میتوکندری و بخش‌های آن

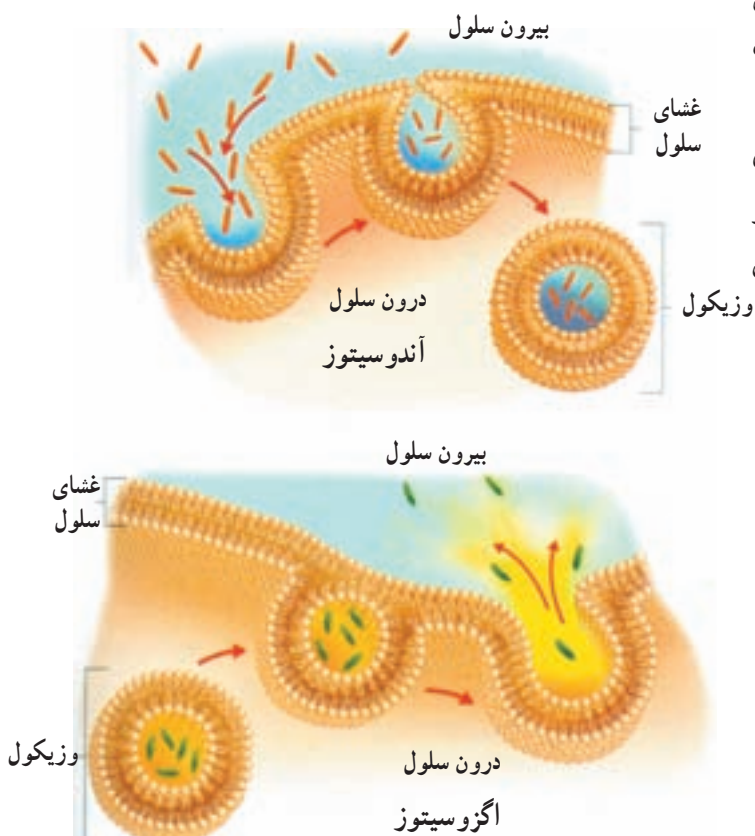
چگونه مواد به سلول وارد، یا از آن خارج می‌شوند

بسیاری از مواد از طریق انتشار به سلول وارد و یا از آن خارج می‌شوند. انتشار، یعنی حرکت ماده از جایی که تراکم آن بیشتر است به سوی محلی که تراکم همان ماده کمتر است. به عبارت دیگر، اختلاف غلظت (شیب غلظت) بین دو نقطه، باعث انتشار می‌شود.

به شکل ۲۷-۲ دقت کنید. همان‌طور که می‌بینید مولکول‌ها در این محیط به طور یکسان پخش نشده‌اند و بین دو ناحیه بالایی و پایینی، اختلاف غلظت وجود دارد. این اختلاف غلظت موجب پدیدار شدن شیب غلظت و یا شیب انتشار بین دو

پدیده انتشار مولکول‌ها در جهت شیب غلظت، از سلول خارج شوند؛ اما سلول با مصرف ATP و توسط ناقل‌های پروتئینی این مولکول‌ها را در جهت خلاف شیب غلظت، به درون سلول وارد می‌کند. به این نوع انتقال، انتقال فعال گفته می‌شود؛ بنابراین انتقال فعال، حرکت مواد از جای کم تراکم به سوی جای پرتراکم و برخلاف شیب غلظت است. ریشه‌های گیاهان بعضی مواد را به این طریق از خاک جذب می‌کنند.

فقط ذرات بسیار کوچک، مانند یون‌ها و مولکول‌های کوچک، می‌توانند به وسیله انتشار و انتقال فعال به سلول‌ها وارد، یا از آنها خارج شوند. بعضی سلول‌ها می‌توانند ذرات بزرگ‌تر را به وسیله فرآیندی که آندوسیتوز نامیده می‌شود، جذب کنند. آندوسیتوز واژه‌ای یونانی و به معنای «ورود به سلول» است. موجودات تک‌سلولی، مانند آمیب، به این روش تغذیه می‌کنند. آگزوسیتوز بر عکس آندوسیتوز است. این دو فرآیند به انرژی زیستی نیاز دارند (شکل ۲۹-۲).



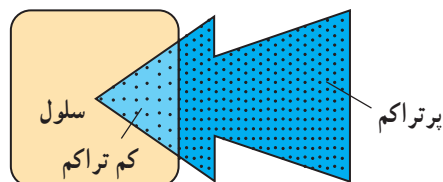
شکل ۲۹-۲- آندوسیتوز (بالا) و آگزوسیتوز (پایین)

تفریق تعداد مولکول‌هایی که به سمت غلظت بیشتر می‌روند از مولکول‌هایی که از این ناحیه دور می‌شوند و به سمت غلظت کمتر می‌روند، محاسبه کرد. مثلاً اگر 5° مولکول به سمت جای غلیظ‌تر بروند اما 3° مولکول از آن جا دور شوند، نتیجه آن حرکت 25° مولکول از جای دارای تراکم بیشتر به سوی جایی است که تراکم کمتر دارد.

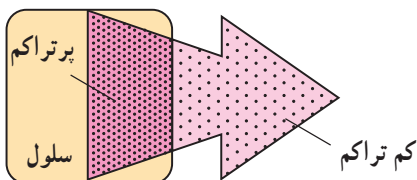
نتیجه نهایی انتشار یک ماده، یکسان شدن غلظت آن در همه نقاطی است که آن ماده قرار دارد. اکسیژن از طریق انتشار وارد سلول می‌شود و دی‌اکسید کربن از همین طریق از سلول خارج می‌شود (شکل ۲۸-۲). بعضی مواد به راحتی نمی‌توانند از غشای فسفولیپیدی سلول عبور کنند. این مواد به کمک کانال‌های پروتئینی (شکل ۱۴-۲) از عرض غشا می‌گذرند. در این پدیده نیز جهت حرکت مواد از جای پرتراکم به جای کم‌تراکم است (انتشار) و چون عبور مواد از عرض غشا، با کمک کانال‌ها انجام می‌گیرد، به این نوع انتشار، انتشار تسهیل شده گفته می‌شود.

انتشار یک فرآیند کاملاً فیزیکی است و از انرژی زیستی استفاده نمی‌کند. افزایش گرمای محیط باعث افزایش سرعت انتشار می‌شود. چرا؟

بعضی از مواد برخلاف شیب غلظت، از عرض غشای سلول عبور می‌کنند. وقتی غلظت یک مولکول داخل سلول بیشتر از غلظت آن در بیرون سلول باشد، این انتظار هست که براساس



الف- اکسیژن به درون سلول انتشار می‌یابد.



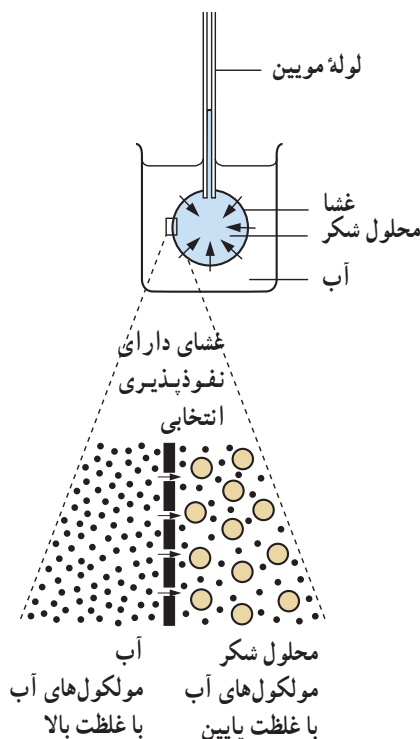
ب- دی‌اکسید کربن به بیرون از سلول انتشار می‌یابد.

شکل ۲۸-۲- انتشار

آب از طریق نوع خاصی از انتشار که اُسْمَز نامیده می‌شود، به سلول وارد و یا از آن خارج می‌شود.

کیسه‌ای که در شکل ۲-۳ می‌بینید، از غشای نازکی که خاصیت نفوذپذیری انتخابی دارد (مثلاً کاغذ سلوفان) ساخته شده است. این کیسه از محلول شکر پر شده است. انتهای باز کیسه به دور انتهای یک لوله موئین بسته شده است. کیسه در ظرف آب قرار دارد.

بعد از زمان کوتاهی، آب از ظرف به کیسه وارد می‌شود. در نتیجه محلول شکر در لوله موئین، بالا می‌رود فشاری که مایع درون لوله به مایع موجود در کیسه وارد می‌کند فشار اسمزی نام دارد. برای فهمیدن این که چرا این مسأله رخ می‌دهد، به شکل ۲-۳ نگاه کنید. مولکول‌های شکر از مولکول‌های آب بزرگ‌تر هستند. غشایی که کیسه از آن ساخته شده است، سوراخ‌های ریزی دارد. این سوراخ‌ها به اندازه‌ای هستند که فقط مولکول‌های آب از میان آنها عبور می‌کنند و به مولکول‌های شکر اجازه عبور نمی‌دهند. ما این نوع غشا را غشای دارای نفوذپذیری انتخابی می‌نامیم. انتشار آب از عرض یک غشای دارای نفوذپذیری



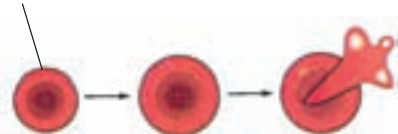
شکل ۲-۳- اسمز راه انتشار آب از غشای دارای تراوایی نسبی است.

انتخابی، اُسْمَز نامیده می‌شود. اسمز جایی روی می‌دهد که دو محلول با غلظت متفاوت آب، به وسیله یک غشای دارای نفوذپذیری انتخابی از یکدیگر جدا می‌شوند.

اسمز در سلول‌های انسانی: سلول‌های انسانی محتوی محلولی از نمک‌ها و مواد دیگرند که در آب حل شده‌اند و غشای سلول که نفوذپذیری انتخابی دارد، آنها را محصور می‌کند. فرض کنید یک گلبول قرمز خون را در آب خالص فرو برده‌اید. چه اتفاقی می‌افتد؟ آب از طریق اسمز وارد سلول می‌شود. سلول متورم می‌شود و سرانجام می‌ترکد (شکل ۲-۳۱). سلول به این دلیل می‌ترکد که غشای سطحی آن به قدری نازک و ظریف است که نمی‌تواند در مقابل فشار داخل سلول مقاومت کند. بدیهی است که در درون بدن ما سلول‌ها نباید در خطر ترکیدن قرار داشته باشند. چه چیزی از این رویداد جلوگیری می‌کند؟ خون و مایعات دیگر بدن ما غلظتی مشابه غلظت درون سلول‌ها دارند، در نتیجه آب نمی‌تواند بیش از حد به طریق اسمز وارد شود.

اسمز در سلول‌های گیاهی: سلول‌های گیاهی نیز، مثل سلول‌های جانوری غشای پلاسمایی دارند؛ اما در خارج از این غشا دیواره‌ای سلولی از جنس سلولز قرار دارد. در درون یک سلول گیاهی محلولی از نمک‌ها و سایر موادی که در آب حل شده‌اند، وجود دارد. بسیاری از این مواد در واکوئل‌ها قرار دارند. غشای پلاسمایی سلول‌های گیاهی، مثل غشای پلاسمایی سلول‌های جانوری، نفوذپذیری انتخابی دارد؛ اما دیواره سلولی نسبت به آب و موادی که در آن حل شده‌اند، به‌طور کامل تراوست. اگر یک سلول گیاهی را در آب ببریم چه اتفاقی می‌افتد؟

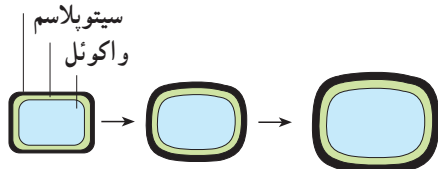
در این صورت آب از بیرون سلول، از میان دیواره سلولی و غشای پلاسمایی به درون واکوئل جریان می‌یابد. در نتیجه سلول باد می‌کند، اما نمی‌ترکد. این پدیده تورژسانس (آماس) نام دارد. علت این است که دیواره سلولی از منبسط شدن سلول به مقدار زیاد جلوگیری می‌کند. دیواره سلولی کشیده می‌شود، اما شکسته غشای سلول



شکل ۲-۳۱- گلبول قرمز انسان در آب متورم می‌شود و سرانجام می‌ترکد.

ندارند، برای آن که ساقه‌های خود را راست نگه دارند، به تورژسانس متکی‌اند. وقتی که چنین گیاهی پژمرده می‌شود، ساقه خم می‌شود.

دیواره سلولی



شکل ۲-۳۲ سلول‌های گیاهی در آب متورم می‌شوند، سپس تورژسانس حاصل می‌کنند، اما نمی‌ترکند.

(پاره) نمی‌شود (شکل ۲-۳۲).

تورژسانس در گیاهان خشکی بسیار مهم است. تورژسانس سلول‌ها، به گیاه کمک می‌کند تا استوار بمانند، مثلاً، وقتی همه سلول‌های یک برگ به طور کامل متورم شده باشند، به یکدیگر فشار وارد می‌کنند و برگ در حالتی گسترده و منبسط قرار می‌گیرد. اگر گیاه آب از دست بدهد، سلول‌ها تورم خود را از دست می‌دهند و برگ‌ها پژمرده می‌شوند. این پدیده پژمرده شدن پلاسمولیز نامیده می‌شود. گیاهان علفی که چوب زیادی

خودآزمایی ۶-۲

- ۱- فرآیند انتشار را تعریف کنید.
- ۲- منظور از انتقال فعال چیست؟
- ۳- سلول، ذرات بزرگ را توسط چه فرآیندی جذب می‌کند؟
- ۴- اسمز چیست؟
- ۵- منظور از غشای دارای نفوذپذیری انتخابی چیست؟
- ۶- تورژسانس چیست و چه موقع رخ می‌دهد؟

فعالیت ۶-۲



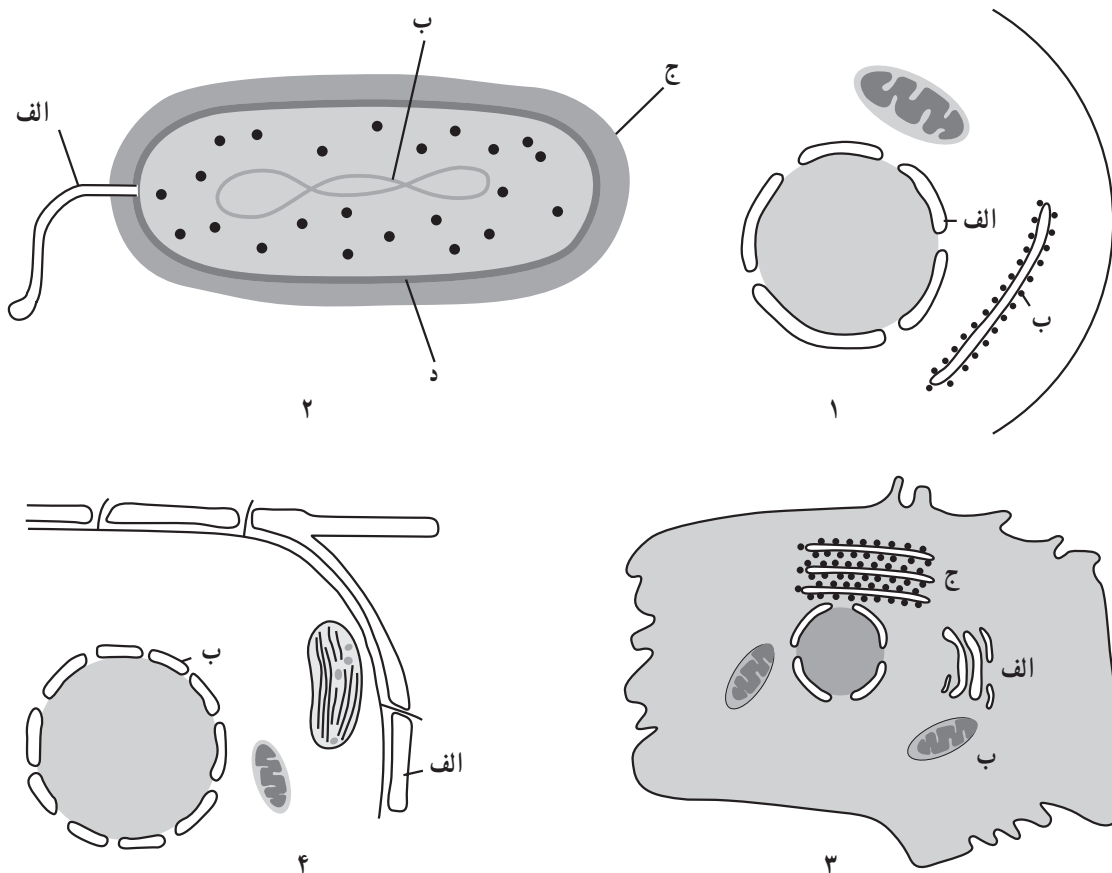
- ۱- برای هر یک از موارد زیر توضیحی ارائه دهید:
 - الف- اگر برگ‌های کاهو پژمرده شوند، می‌توان با قرار دادن آن در آب به مدت کوتاهی دوباره آن را تازه کرد.
 - ب- اگر روی تعدادی میوه توت‌فرنگی شکر بپاشید، عصاره آن به بیرون تراوش می‌کند.
- ۲- ممکن است تصور کنید، وقتی شخصی در آب شنا می‌کند، آب از پوست به طریقه اسمز وارد بدن او می‌شود، اما چنین نمی‌شود. چرا؟
- ۳- اگر یک گلبول قرمز خون و یک سلول گیاهی در محلولی فرو برده شوند که غلظت نمک‌های موجود در آن بیشتر از غلظت نمک‌های درون سلول‌ها باشد، چه اتفاقی برای هر کدام می‌افتد؟ چرا؟

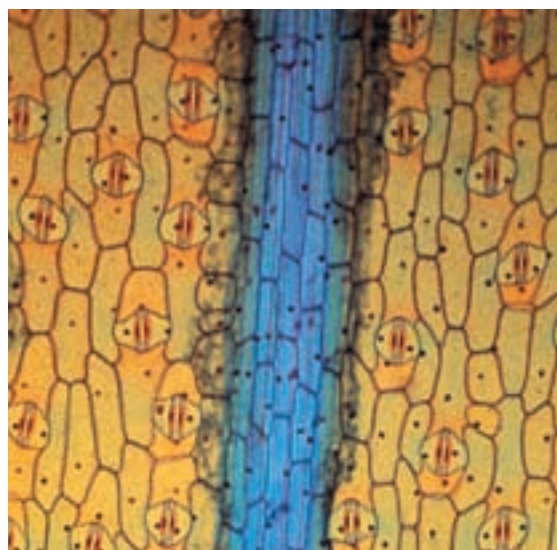
فعالیت ۷-۲



- ۱- اریترومايسين دارویی است که خاصیت آنتی‌بیوتیکی دارد. این دارو از پروتئین‌سازی در سلول‌های باکتری جلوگیری می‌کند، اما بر پروتئین‌سازی سلول‌های بدن ما چنین اثری ندارد. با توجه به اطلاعاتی که از این فصل به دست آورده‌اید، یک فرضیه برای وجود چنین خاصیتی بیان کنید. این آنتی‌بیوتیک چه اثری بر سلول‌های ما دارد؟
- ۲- فکر می‌کنید چرا تعداد میتوکندری‌های بعضی سلول‌های بدن بیشتر است؟ این سلول‌ها کدام‌اند؟
- ۳- در سال ۱۹۹۷ انسان توانست با کمک نوعی میکروسکوپ الکترونی بسیار پیشرفته، ذره‌ای به بزرگی ۴ اتم، یعنی

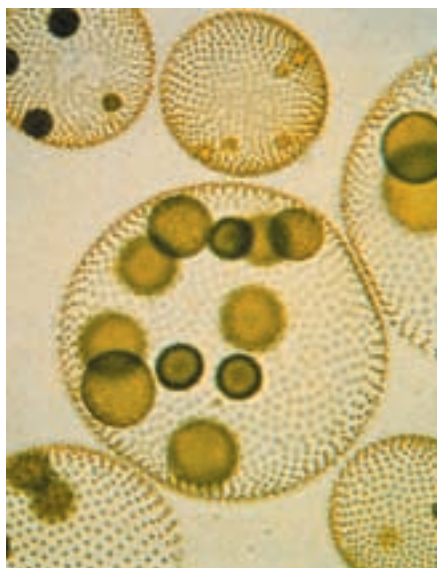
- یک نانومتر را ببیند. قدرت تفکیک این میکروسکوپ چقدر بوده است؟
- ۴- سلول‌های پروکاریوتی، کوچک‌تر و ساده‌تر از سلول‌های یوکاریوتی هستند. تحقیق کنید آیا توان زنده ماندن و تولید مثل کردن آنها نیز از سلول‌های یوکاریوتی کمتر است؟
- ۵- در شکل‌های زیر بخش‌های تعیین شده را نام‌گذاری کنید.





سازمان بندی سلول ها

تاژک ها به طرف بیرون از پیکر جاندار قرار می گیرند. جاندار هنگام حرکت در آب می چرخد. در بعضی از گونه های این جاندار سلول های خاصی که برای تولید مثل اختصاصی شده اند، وجود دارد (شکل ۱-۳).



شکل ۱-۳- کلنی ولوکس

سلول های درشتی که درون کلنی های ولوکس مشاهده می کنید، تقسیم می شوند و از تقسیم های آنها گره های جدید سلولی به وجود می آید. هر کلنی جدید که بدین ترتیب به وجود می آید، از هزاران سلول بسیار کوچک ساخته شده است. گره نوزاد، با هضم

پیکر بعضی جانداران که به آنها تک سلولی می گوئیم، فقط از یک سلول ساخته شده است. کارهای زیستی چنین جاندارانی درون همان سلول انجام می گیرد. آمیب آب شیرین یکی از جانداران تک سلولی است. بین آمیب هایی که در یک محیط زندگی می کنند، صرف نظر از موادی که از محیط می گیرند و از این نظر باهم رقابت می کنند و موادی که از خود ترشح می کنند، هیچ اتصال زیستی، مثلاً اتصال سیتوپلاسمی وجود ندارد.

پیکر جانداران پرسلولی از بیش از یک سلول ساخته شده است و این سلول ها در بدن جانداران پرسلولی، با یکدیگر اتصال زیستی برقرار کرده اند.

در پیکر ساده ترین جانداران پرسلولی، هر سلول صرف نظر از اتصالی که با سلول های مجاور دارد، به طور مستقل زندگی می کند.

چنین جاندارانی را که پیکر آنها از چندین سلول کم و بیش همانند و متصل به هم ساخته شده است، اصطلاحاً گُلنی می نامند. ولوکس و اسپروژیر دو جلبک سبز هستند که پیکر آنها به صورت گُلنی است. ولوکس جاندارانی ساکن آب شیرین است. پیکر آن به شکل کره تو خالی است و از یک لایه سلولی متشکل از هزاران سلول، تشکیل شده است، سلول ها کلروفیل دارند و هریک دارای دو تاژک هستند و به گونه ای در کنار یکدیگر قرار می گیرند که

چند سلول مادر، از درون آن خارج می‌شود و زندگی مستقل را در محیط ادامه می‌دهد. هماهنگ با یکدیگر وظایف خاصی را انجام می‌دهند، یک بافت را تشکیل می‌دهند. سال گذشته با بافت، اندام و دستگاه آشنا شدید.

بسیاری از جانداران پرسلولی، سلول‌های تخصصی دارند

در بسیاری از جانداران پرسلولی، سلول‌ها برای انجام وظایف خاص، اختصاصی شده‌اند. چون فرآیندهای زیستی در این جانداران پیچیده است، همه کارهای زیستی را یک سلول به تنهایی انجام نمی‌دهد. به عبارت دیگر در چنین جاندارانی بین سلول‌ها تقسیم کار صورت گرفته است. مثلاً ساختار بدن هیدر (شکل ۲-۴) بسیار ساده است و از چند نوع سلول ساخته شده است. هر گروه از این سلول‌ها، وظایف خاصی برعهده دارد. فرآیندی که طی آن سلول‌های جانداران برای انجام وظایف خاصی، شکل و ساختار خاصی پیدا می‌کنند، تمایز نام دارد. تمایز باعث تشکیل بافت‌های مختلف در جانداران می‌شود. مجموعه سلول‌هایی که در کنار یکدیگر قرار گرفته‌اند و در مهره‌داران چهار نوع بافت اصلی وجود دارد: بافت پوششی، بافت پیوندی، بافت ماهیچه‌ای و بافت عصبی. بافت پوششی: بافت پوششی یکی از ساده‌ترین بافت‌های جانوری است و سطح بدن و نیز سطح حفره‌ها و مجاری درون بدن، مانند دهان، معده، رگ‌ها و روده‌ها را می‌پوشاند. سلول‌های پوششی بسیار به یکدیگر نزدیک‌اند، یعنی بین آنها فضای بین سلولی اندکی وجود دارد. در زیر این بافت بخشی به نام غشای پایه وجود دارد. غشای پایه بافت پوششی را به بافت‌های زیر آن، متصل نگه می‌دارد و شبکه‌ای است از پروتئین‌های رشته‌ای و پلی‌ساکاریدهای چسبناک.

بیشتر بدانید

جدول ۱-۳- دستگاه‌های سازنده بدن آدمی

نام دستگاه	بخش‌های اصلی	وظایف اصلی
دستگاه گوارش	لوله گوارش، کبد و پانکراس	گوارش و جذب غذا
دستگاه تنفس	نای، نایژه‌ها و شش‌ها	جذب اکسیژن و دفع دی‌اکسیدکربن
دستگاه گردش خون	قلب، رگ‌ها و خون	انتقال مایعات درون بدن، اکسیژن، دی‌اکسیدکربن، مواد غذایی، هورمون‌ها و ...
دستگاه دفع ادرار	کلیه، مجاری ادرار، مثانه	دفع مواد زائد و سمی از خون به صورت مایع
دستگاه حس	چشم‌ها، گوش‌ها، زبان، بینی و پوست	درک اثرهای محیطی
دستگاه عصبی	مغز، نخاع و اعصاب	هدایت پیام‌های عصبی از یک بخش از بدن به بخش‌های دیگر
دستگاه حرکتی	ماهیچه‌ها و استخوان‌ها	حرکت و استحکام
دستگاه تولیدمثل	بیضه‌ها و تخمدان‌ها	تولیدمثل
دستگاه ایمنی	سلول‌های بدن، به‌ویژه گویچه‌های سفید	دفاع از بدن و ایمن‌سازی آن

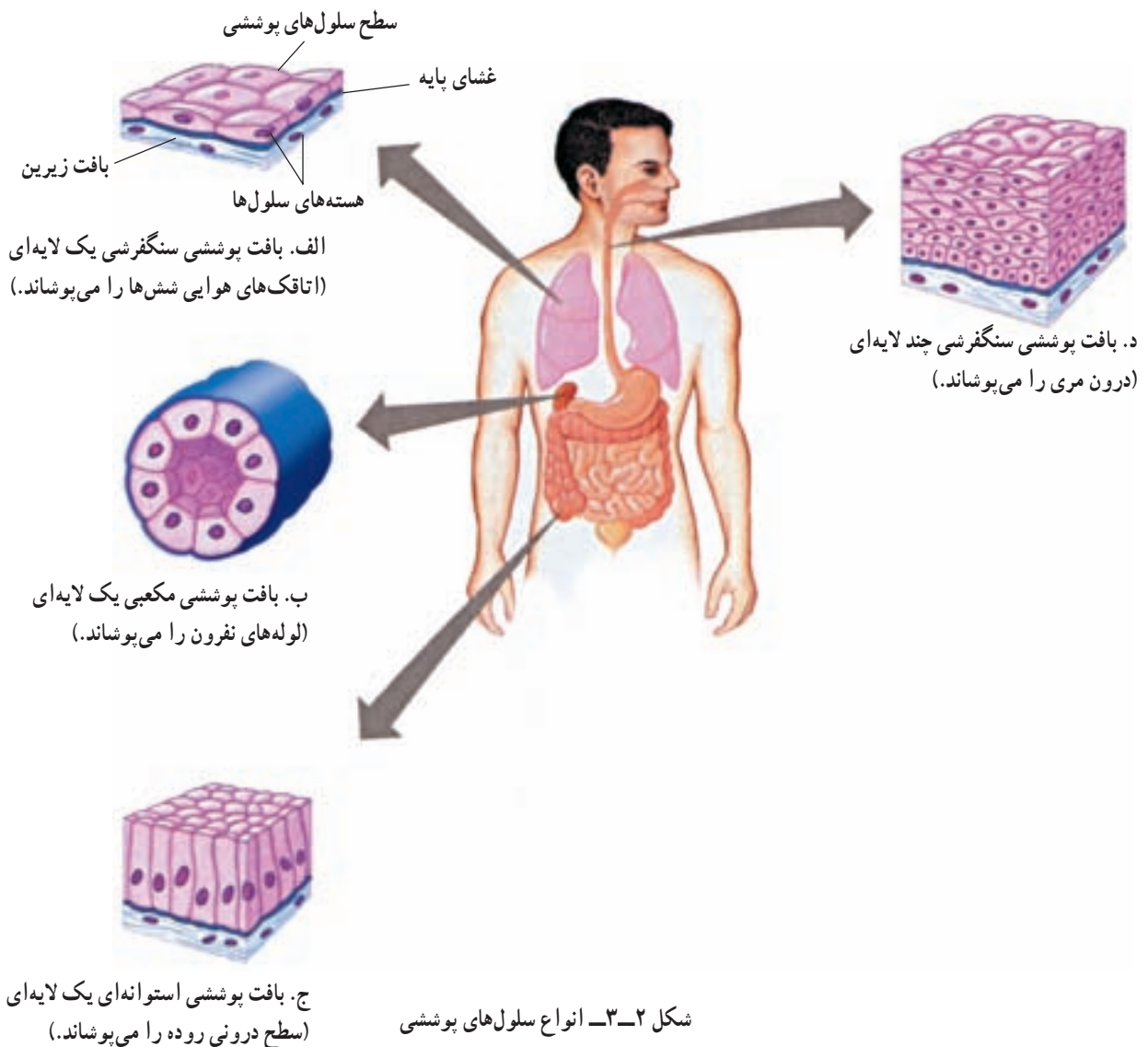
می‌شوند، بگیرند. این نوع بافت برای پوشاندن لوله گوارشی، به‌ویژه برای پوشاندن سطح درونی مری مناسب است.

سلول‌های پوشاننده سطح درونی مری دائماً در معرض غذاهای زبر و بنابراین در معرض فرسوده شدن و کنده شدن قرار دارند. پوست بدن ما نیز از بافت سنگفرشی چند لایه‌ای ساخته شده است که لایه‌ای ضخیم از سلول‌های مرده آن را می‌پوشاند. بافت پوششی سنگفرشی یک لایه‌ای برای تبادل مواد مناسب است. سطح خانه‌های ششی از این بافت پوشیده شده است. سطح درونی رگ‌های خونی ما نیز از بافت پوششی سنگفرشی یک لایه‌ای پوشیده شده است. سطح بعضی از سلول‌های پوششی موادی نرم، چسبنده و

انواع بافت‌های پوششی را می‌توان در دو گروه عمده جای داد: بافت‌های پوششی یک لایه‌ای (ساده) و بافت‌های پوششی چند لایه‌ای (مرکب).

شکل سلول‌های پوششی ممکن است سنگفرشی، مکعبی یا استوانه‌ای باشد (شکل ۲-۳). در شکل، بخش‌های الف، ب و ج بافت‌های پوششی یک لایه‌ای و بخش د نوعی بافت پوششی چند لایه‌ای است.

ساختار هر نوع بافت پوششی با وظیفه‌ای که آن بافت برعهده دارد، متناسب است. مثلاً سلول‌های بافت پوششی سنگفرشی چند لایه‌ای، دائماً در حال تقسیم‌اند تا سلول‌های جدید حاصل از تقسیم، جای سلول‌هایی را که از سطح آن کنده



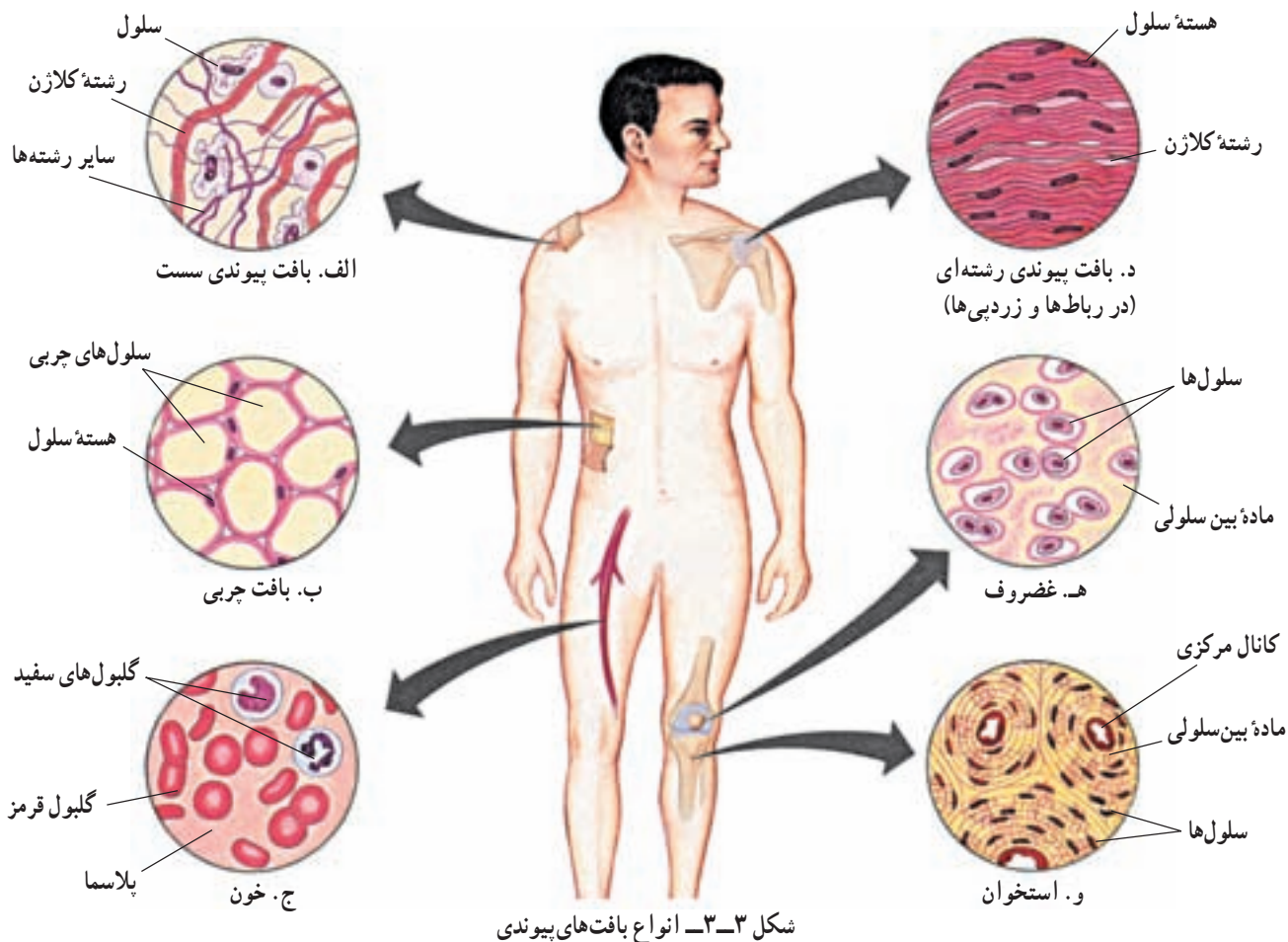
کلاژن و رشته‌های انعطاف‌پذیر (الاستیک) دو نوع از این رشته‌ها هستند که مقدارشان در انواع بافت پیوندی فرق می‌کند. رشته‌های کلاژن عمدتاً سبب استحکام بافت پیوندی می‌شوند، در حالی که رشته‌های انعطاف‌پذیر خاصیت ارتجاعی دارند. بافت پیوندی سست، بافت پیوندی رشته‌ای، بافت چربی، خون، استخوان و غضروف، شش نوع بافت پیوندی در انسان‌اند (شکل ۳-۳).

بافت پیوندی که بافت پوششی پوست را به ماهیچه‌های زیر آن وصل می‌کند، بافت پیوندی سست است. فاصله سلول‌ها در این بافت از هم زیاد است و شبکه‌ای از رشته‌های بافت پیوندی در آن وجود دارد. بافت پیوندی رشته‌ای در زردپی‌ها که ماهیچه‌ها را به استخوان‌ها و نیز در رباط‌ها که استخوان‌ها را به یک‌دیگر وصل می‌کنند، وجود دارد.

وظیفه بافت چربی عایق کردن بدن، ذخیره انرژی و ضربه‌گیری است. هر سلول چربی مقدار زیادی ماده چربی در

لج ترشح می‌کنند. سطح داخلی لوله گوارشی و لوله‌های تنفسی از این نوع بافت پوششی که غشای موکوزی (مخاطی) نامیده می‌شود، پوشیده شده است. این ماده لزج و چسبنده که موکوز نامیده می‌شود، در لوله تنفسی ذرات و گرد و غبار موجود در هوا را جذب می‌کند. حرکت مژک‌های سلول‌های این بافت، دائماً موکوز را همراه با موادی که به آن چسبیده‌اند، به سوی گلو می‌رانند.

بافت پیوندی: بین سلول‌های بافت پیوندی، برخلاف سلول‌های بافت پوششی، فضای بین سلولی فراوانی وجود دارد. این فضای بین سلولی را ماده‌ای زمینه‌ای پر می‌کند. ماده زمینه‌ای را سلول‌های بافت پیوندی می‌سازند و ترشح می‌کنند. این ماده ممکن است مایع، نیمه جامد یا جامد باشد و نیز ممکن است در آن شبکه‌ای از رشته‌های پروتئینی نیز یافت شوند. در انسان شش نوع بافت پیوندی یافت می‌شود (شکل ۳-۳). بافت پیوندی انواعی از رشته‌های پروتئینی دارد. رشته‌های



متصل می‌کنند. این بافت ماهیچه‌ای ارادی است، به همین دلیل ماهیچه‌ارادی نیز نامیده می‌شود. سلول‌های این بافت رشته‌ای هستند و در آنها بخش‌های تیره و روشن وجود دارد. به این دلیل به آنها ماهیچه‌مُخَطَط (خط‌دار) هم می‌گویند. تعداد سلول‌های ماهیچه‌مُخَطَط پس از تولد افزایش نمی‌یابد، چون این سلول‌ها تقسیم نمی‌شوند. بزرگ شدن ماهیچه‌ها با افزایش حجم آنها صورت می‌گیرد. ماهیچه‌قلبی منقبض‌کننده قلب است. این بافت نیز، مانند ماهیچه‌مُخَطَط، خط‌دار است، اما سلول‌های آن برخلاف سلول‌های ماهیچه‌اسکلتی، منشعب هستند.

سلول‌های ماهیچه‌ای صاف خط‌دار نیستند، به این دلیل به آنها صاف می‌گویند. ماهیچه‌های پیرامون لوله گوارشی، مثانه، مجاری ادرار، سرخرگ‌ها و سایر اندام‌های داخلی بدن که غیر ارادی کار می‌کنند از این نوع‌اند. شکل این سلول‌ها، دوکی است. این سلول‌ها به آهستگی منقبض می‌شوند و انقباض خود را مدت بیشتری نگه می‌دارند.

بافت عصبی شبکه‌ای ارتباطی در بدن تشکیل می‌دهد

ادامه زندگی یک جانور به توانایی پاسخ به محرک‌های محیطی وابسته است. لازم است که بخش‌های مختلف بدن یک جانور هماهنگ با یکدیگر عمل کنند. بافت عصبی

خود ذخیره دارد. در صورت مصرف شدن این چربی، سلول مذکور بار دیگر کوچک می‌شود.

ماده بین سلولی خون مایع است و پلاسما نامیده می‌شود. پلاسما از آب، نمک‌ها و پروتئین‌های حل شده در آن تشکیل شده است. گلبول‌های سفید، گلبول‌های قرمز و پلاکت‌ها در پلاسما شناورند. وظیفه بافت خونی انتقال مواد از یک بخش از بدن به بخش‌های دیگر و نیز ایمنی بخشی به بدن است.

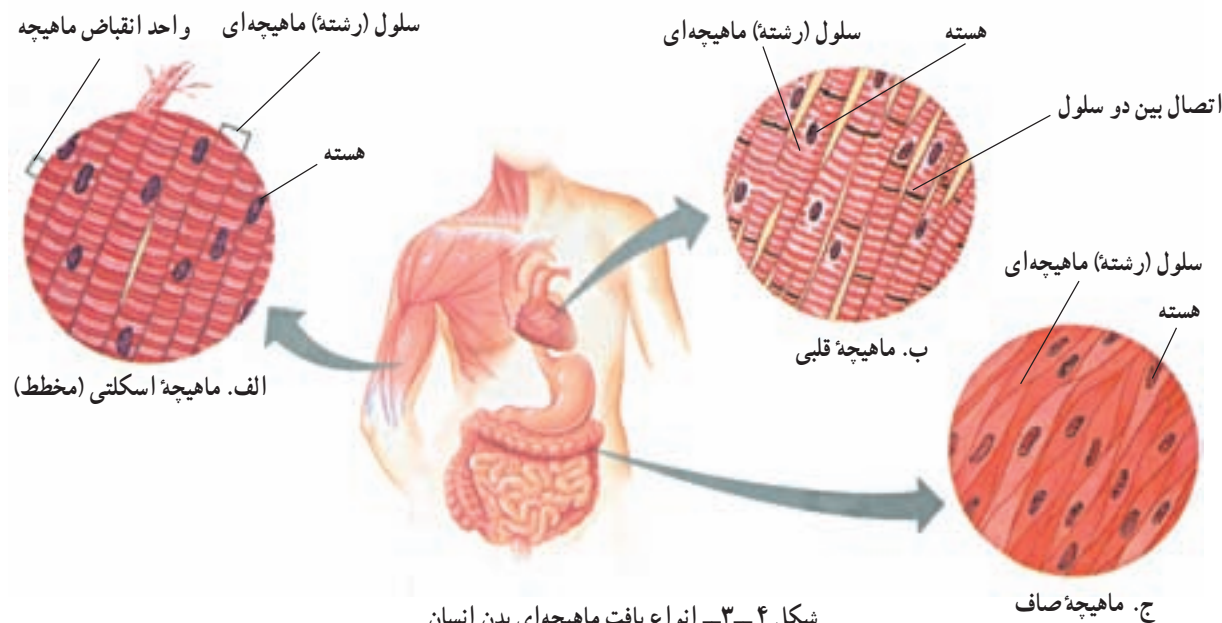
ماده بین سلولی غضروف، به آن قابلیت انعطاف پذیری و نیز مقاومت در برابر فشارهای مکانیکی را بدون پاره شدن می‌دهد. سر استخوان‌ها در محل مفصل‌ها، نوک بینی، لاله گوش و صفحه بین مهره‌ها غضروفی است.

استخوان سخت‌ترین نوع بافت پیوندی است و ماده بین سلولی آن شامل رشته‌های کلاژن و مواد کلسیم‌دار است.

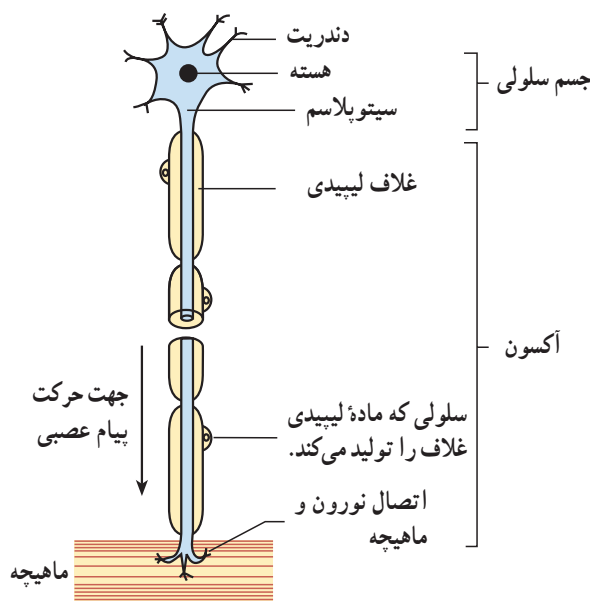
بافت ماهیچه‌ای باعث حرکت می‌شود

وزن بافت ماهیچه‌ای در بدن جانور از وزن سایر بافت‌های بدن بیشتر است. سه نوع بافت ماهیچه‌ای در بدن مهره‌داران وجود دارد: بافت ماهیچه‌ای اسکلتی، بافت ماهیچه‌ای قلبی و بافت ماهیچه‌ای صاف.

زردپی‌ها بافت ماهیچه‌ای اسکلتی را به استخوان‌ها



شکل ۴-۳- انواع بافت ماهیچه‌ای بدن انسان



شکل ۵-۳- یک سلول بافت عصبی (نورون)

شبکه‌ای ارتباطی در بدن تشکیل می‌دهد و پیام‌های عصبی را تولید و از بخشی از بدن به بخش دیگر هدایت می‌کند.

سلول‌های بافت عصبی نورون نام دارند و کاملاً تخصص‌یافته‌اند. هر نورون از یک جسم سلولی که هسته را در خود جای داده است و تعدادی اجزای رشته‌مانند، تشکیل شده است. رشته‌هایی که پیام‌های عصبی را به سوی جسم سلولی هدایت می‌کنند، دندریت و رشته‌هایی که، برعکس، پیام‌های عصبی را از جسم سلولی به سوی انتهای رشته می‌برند، آکسون نام دارند. درون بافت عصبی به جز نورون‌ها، نوعی دیگر سلول غیرعصبی وجود دارد. بعضی از این سلول‌ها به تغذیه نورون‌ها کمک می‌کنند و بعضی دیگر در پیرامون آکسون‌ها و دندریت‌ها می‌پیچند و آنها را عایق می‌کنند. این سلول‌ها نوروگلیا یا سلول‌های پشتیبان نامیده می‌شوند.

سازمان بندی سلول‌های گیاهان

در برش‌های ساقه و ریشه‌های گیاهان علفی سه بخش دیده

می‌شود: روپوست، پوست و استوانه مرکزی (شکل ۶-۳). سلول‌های روپوست پوشاننده سطح هستند. آوندهای گیاه که وظیفه هدایت مواد مختلف را در گیاه برعهده دارند، در استوانه مرکزی

خودآزمایی ۱-۳

- ۱- تمایز را تعریف کنید.
- ۲- بافت چیست؟
- ۳- چهار نوع بافت اصلی را در مهره‌داران نام ببرید.
- ۴- غشای پایه چیست؟
- ۵- ویژگی‌های بافت پوششی را بنویسید.
- ۶- دو نوع بافت پوششی را با یکدیگر مقایسه کنید.
- ۷- سلول‌های پوششی به چه شکلی دیده می‌شوند؟ نام ببرید و مثال بزنید.
- ۸- ویژگی‌های بافت پیوندی را شرح دهید.
- ۹- انواع بافت پیوندی بدن انسان را نام ببرید.
- ۱۰- کلاژن چیست؟
- ۱۱- وظایف بافت چربی کدام‌اند؟
- ۱۲- ویژگی‌های استخوان و غضروف را بنویسید.
- ۱۳- انواع بافت ماهیچه‌ای را با یکدیگر مقایسه کنید.
- ۱۴- کارهای بافت عصبی کدام‌اند؟
- ۱۵- بخش‌های مختلف نورون را معرفی کنید.

رأس ساقه وظیفه حفاظت از مریستم بر عهده‌ی برگ‌های جوان یا فلس‌های جوانه می‌باشد.

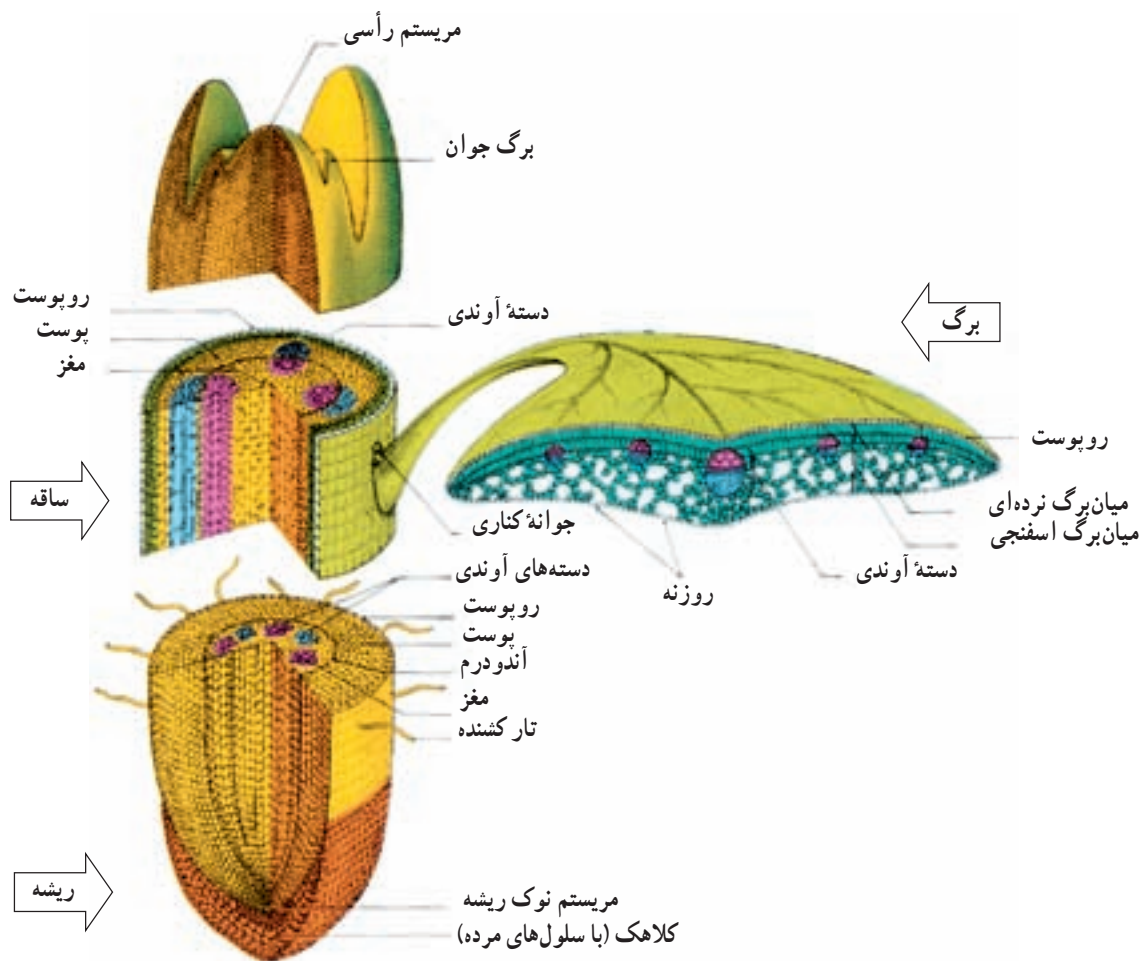
گروهی از سلول‌های رأسی سلول‌های بنیادی نام دارند. این سلول‌ها که هسته‌ی بزرگ دارند و فاقد واکنش هستند؛ تقسیم می‌شوند و مریستم‌ها را می‌سازند. این مریستم‌ها، به نوبه‌ی خود تقسیم می‌شوند و سه گروه بافت اصلی به نام‌های بافت رویوست (اپیدرم)، بافت‌های زمینه‌ای و بافت‌های هادی را به وجود می‌آورند. این سه نوع بافت اصلی در ساختار همه‌ی گیاهان علفی و جوان دیده می‌شوند.

رویوست: رویوست، علاوه بر ساقه، بخش‌های دیگر جوان گیاه، مانند برگ‌ها، میوه‌ها و بخش‌های گل را می‌پوشاند. لایه‌ای کوتینی به نام پوستک (کوتیکول) سلول‌های رویوستی را در اندام‌های هوایی گیاه می‌پوشاند. کوتین پلی‌مری از اسیدهای چرب طولیل است. پوستک از تبخیر آب، حمله میکروب‌ها

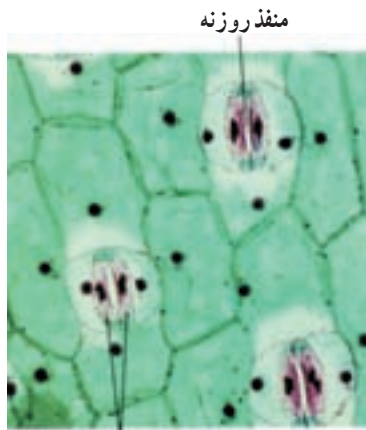
قرار دارند. درون استوانه‌ی مرکزی، علاوه بر آوندها، بافتی به نام مغز وجود دارد. بافتی که بین رویوست و استوانه‌ی مرکزی را پُر می‌کند، پوست نام دارد (شکل ۷-۳).

سلول‌های بسیاری از بخش‌های بدن جانوران، برای ترمیم، رشد، یا تولیدمثل تقسیم می‌شوند؛ اما در گیاهان تقسیم سلولی فقط در چند منطقه خاص که مناطق مریستمی نام دارند، انجام می‌شود. مناطق مریستمی محل‌های تولید بخش‌های مختلف گیاهی است. مهم‌ترین مناطق مریستمی موجود در گیاهان جوان و علفی، مریستم‌های رأسی هستند. این مریستم‌ها در نوک ساقه‌ها و شاخه‌های جانبی و نیز در نزدیکی نوک ریشه قرار دارند. در شکل ۶-۳ ساختار نوک ساقه و ریشه‌ی یک گیاه علفی نشان داده شده است.

کلاهک ریشه از مریستم نوک ریشه محافظت می‌کند. در



شکل ۶-۳- ساختار بخش‌های مختلف یک گیاه علفی



سلول‌های نگهبان ×۴۲۰

شکل ۸-۳ سلول‌های روپوستی برگ یک گیاه

بافت‌های زمینه‌ای: بافت‌های اصلی زمینه‌ای از

بافت‌های ساده‌ی زیر تشکیل شده‌اند.

بافت پارانشیمی: سلول‌های بافت پارانشیمی بزرگ‌اند، اما

دیواره‌های نازک دارند. دیوارهٔ دومین به‌ندرت در این سلول‌ها

به‌وجود می‌آید و بنابراین پروتوپلاسم آنها زنده و فعال است.

سلول‌های بافت پارانشیمی در فتوسنتز، ترشح، ذخیرهٔ مواد غذایی

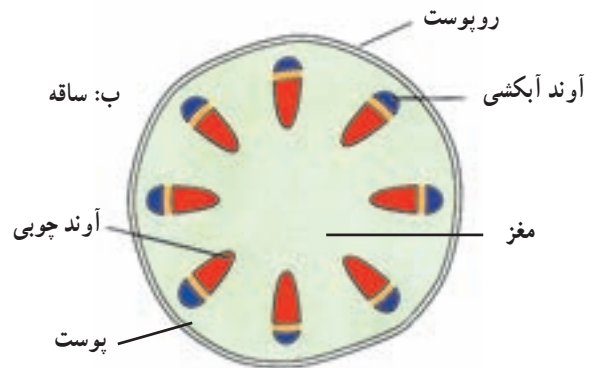
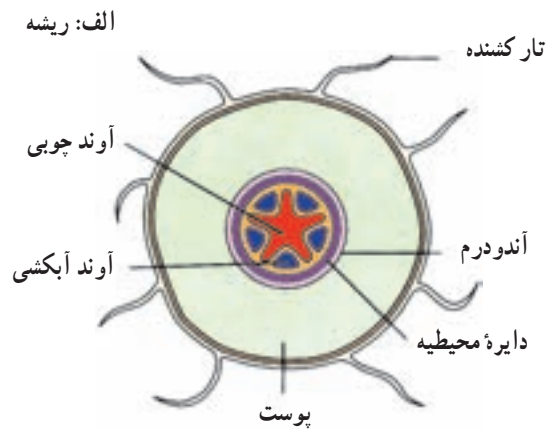
و آب دخالت دارند. بین سلول‌های پارانشیمی فضاهای بین سلولی

زیادی وجود دارد. پارانشیم فتوستنزکننده، کلرانسیم نام دارد و

در بخش‌های سبزرنگ گیاه دیده می‌شود. سلول‌های میان‌برگ

نوعی کلرانسیم هستند. سلول‌های جوان پارانشیمی تا حدودی

قدرت تقسیم‌شدن نیز دارند (شکل ۹-۳).



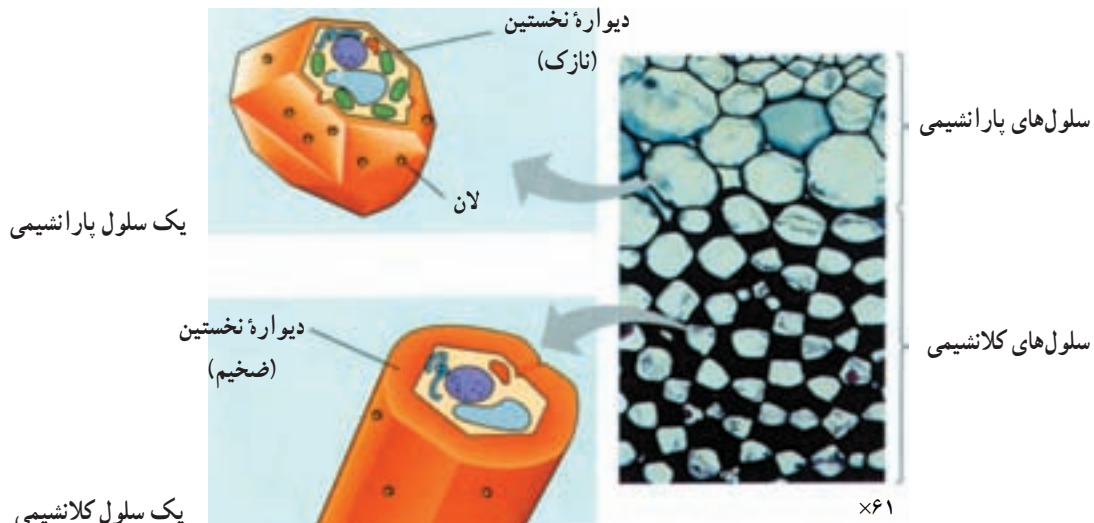
شکل ۷-۳ ساختار بخشی از ریشهٔ یک گیاه علفی (بالا) و بخشی از ساقهٔ همان گیاه (پایین).

و اثر سرما بر سلول‌های زیرین خود محافظت می‌کند. سلول‌های

نگهبان روزنه و گرک‌ها دونه‌ی سلول تمایز یافتهٔ روپوستی ساقه

هستند (شکل ۸-۳). تارکشنده از تمایز سلول‌های روپوست

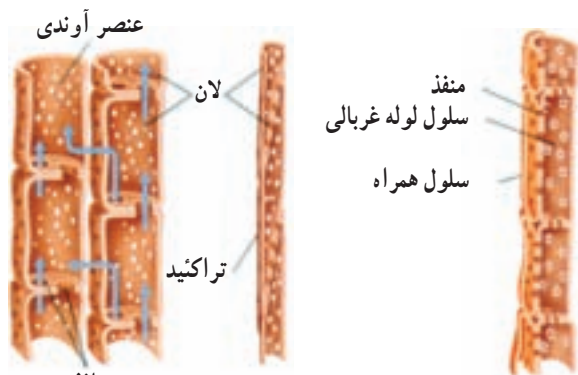
ریشه تشکیل می‌شود (شکل ۷-۳).



شکل ۹-۳ یک سلول پارانشیمی (بالا) و یک سلول کلانشیمی (پایین)

بافت های هادی: گیاهان برای ترابری آب و مواد محلول در آن دو نوع بافت هادی دارند: چوب و آبکش. سلول های هر دو نوع بافت پشت سر یکدیگر قرار می گیرند و لوله های باریکی به وجود می آورند. این لوله ها همانند یک شبکه لوله کشی کار می کنند و مایعات و مواد حل شده در آن را در سرتاسر گیاه به گردش در می آورند (شکل ۱۱-۳).

آوند چوبی: آوندهای چوبی در بافت هادی چوبی، هدایت آب و مواد معدنی (شیره خام) را از ریشه های گیاه به برگ های آن برعهده دارد. دیواره سلولی سلول های آوندهای چوبی ضخیم است. سلول های آوندهای چوبی، قبل از آن که هدایت آب و

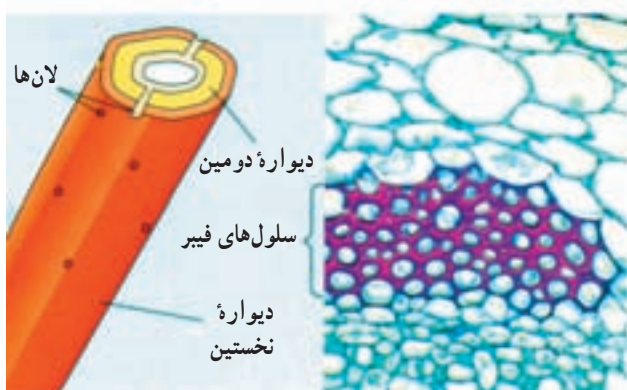


منافذ

سلول های هادی آوند چوبی، تراکئیدها و عناصر آوندی هستند. تراکئیدها باریک و دارای پایانه های مخروطی هستند. عناصر آوندی کوتاه تر، اما گشادتر از تراکئیدها هستند.

سلول های هادی آبکشی، سلول هایی غربالی هستند که لوله های غربالی را تشکیل می دهند. سلول های همراه در مجاورت لوله های غربالی قرار دارند.

شکل ۱۱-۳- نمای طولی آوندهای چوبی و آبکشی



فیبر

×۲۶۶

بافت کلانشیمی: بسیاری از سلول های بخش خارجی پوست ساقه های جوان، دیواره ای دارند که بعضی بخش های آن ضخیم تر است. این سلول ها، سلول های کلانشیمی نام دارند. سلول های کلانشیمی با دیواره های ضخیم سلولزی خود باعث استحکام و برافراشته ماندن ساقه ها و سایر بخش ها می شوند. این سلول ها قابلیت رشد خود را حفظ کرده اند و هماهنگ با رشد گیاه، رشد می کنند و گاه کلروپلاست دارند و فتوسنتز نیز انجام می دهند (شکل ۹-۳).

بافت اسکلرانشیمی: سلول های بافت اسکلرانشیمی برای استحکام بخشیدن به گیاه تمایز یافته اند. این سلول ها دیواره های دومین ضخیمی تشکیل می دهند که در آن ماده چوب (لیگنین) وجود دارد. چوبی شدن دیواره دومین باعث از بین رفتن پروتوپلاسم و مرگ سلول می شود. دو نوع سلول اسکلرانشیمی در گیاهان یافت می شود: فیبرها و اسکلرئیدها.

فیبرها سلول های دراز و کشیده ای هستند که در میان بافت های دیگر به ویژه در نزدیکی بافت های آوندی قرار گرفته اند. اسکلرئیدها سلول هایی کوتاه، گاه منشعب هستند و بیشتر در پوشش دانه ها و میوه ها یافت می شوند (شکل ۱۰-۳).

بافت های زمینه ای در ساقه در دو بخش پوست و مغز دیده می شوند. مغز بسیاری از ساقه های علفی از بافت پارانشیمی ساخته شده است. سلول های مغز دارای فضاهای بین سلولی فراوان هستند و معمولاً مواد غذایی ذخیره می کنند. بخشی از مغز که در میان دسته های آوندی قرار گرفته است، اشعه مغزی نام دارد.

دیواره سلولی ضخیم

دیواره دومین



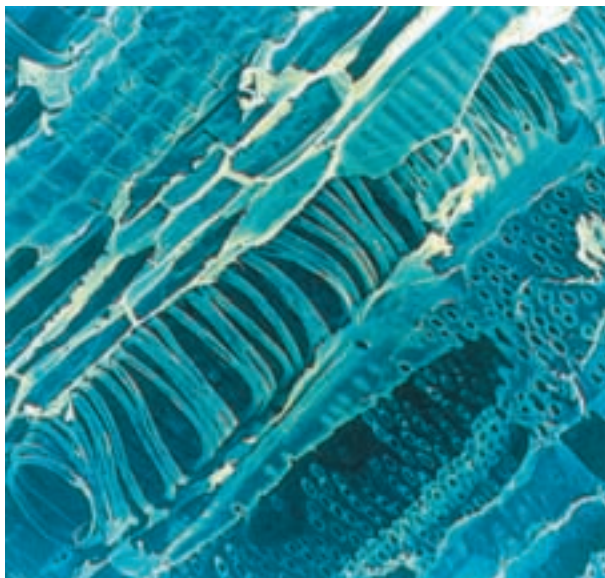
دیواره نخستین

لانها

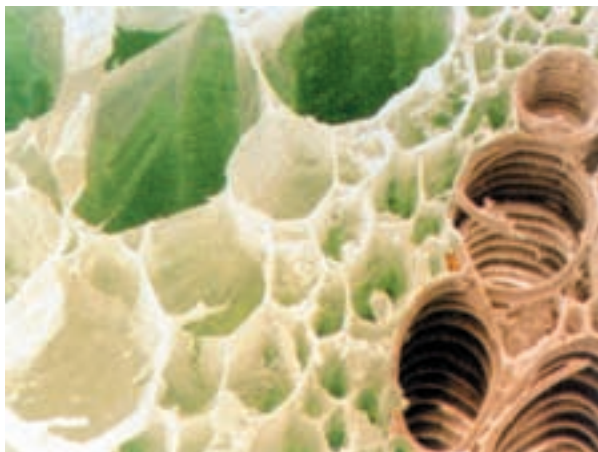
اسکلروئید

×۷۶۰

شکل ۱۰-۳- فیبر و اسکلوئید



الف



ب- آوند چوبی و سلول‌های پارانشیمی

شکل ۱۲-۳- تصویر مقطع طولی (الف) و عرضی (ب) سلول‌های آوند چوبی (۳۰۰ ×).

مواد معدنی را برعهده بگیرند، غشای سلولی، هسته و سیتوپلاسم خود را از دست می‌دهند. تنها قسمت باقی‌مانده این سلول‌ها دیواره سلولی است. یک نوع از سلول‌های آوند چوبی که در همه گیاهان آوندی یافت می‌شود، تراکئید است. تراکئیدها باریک و طویل هستند و در قسمت انتهایی شکل مخروطی پیدا می‌کنند. حرکت آب از هر تراکئید به تراکئید مجاور از راه لان‌ها که نواحی نازک دیواره هستند، انجام می‌شود. گیاهان گلدار نوع دیگری از سلول‌های آوند چوبی نیز دارند که عناصر آوندی نامیده می‌شوند. عناصر آوندی گشادتر از تراکئیدها هستند و در پایانه‌های خود دارای منافذ بزرگی هستند. این منافذ امکان جریان سریع‌تر آب را بین عناصر آوندی فراهم می‌کنند (شکل ۱۲-۳).

آوند آبکشی: بافت آوند آبکشی دارای سلول‌هایی است که هدایت قندها و مواد غذایی دیگری که در گیاه ساخته می‌شود (شیره پرورده) را در سرتاسر گیاه برعهده دارند. سلول‌های هادی آبکشی دارای دیواره سلولی، غشای پلاسمایی و سیتوپلاسم هستند. این سلول‌ها فاقد هسته و اندامک هستند، یا اندامک‌های آنها تغییر یافته است. لوله‌های هدایت‌کننده در آوند آبکشی لوله‌های غربالی نامیده می‌شوند. در لوله‌های غربالی، منافذ موجود در دیواره‌های میان سلول‌های مجاور سیتوپلاسم این سلول‌ها را به یکدیگر مرتبط می‌کنند و امکان عبور آزادانه مواد را از یک سلول به سلول دیگر فراهم می‌کنند. به علاوه در مجاورت لوله‌های غربالی سلول‌های همراه قرار دارند. سلول‌های همراه دارای اندامک هستند و در آنها سنتز پروتئین و دیگر واکنش‌های متابولیکی مورد نیاز سلول‌های لوله غربالی انجام می‌شود (شکل ۱۳-۳).

سلول همراه

سلول همراه صفحه غربالی



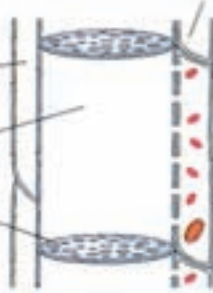
پارانشیم آبکشی

ج

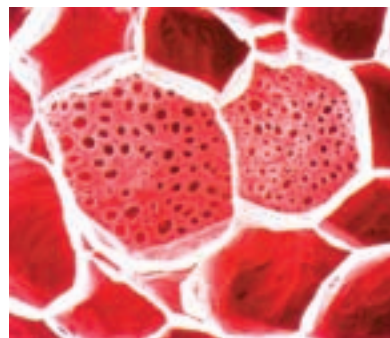
پارانشیم آبکشی

لوله غربالی

صفحه غربالی



ب



الف

شکل ۱۳-۳- تصویر مقطع عرضی سلول‌های آوند آبکشی (الف) (۶۵۰ ×). طرح مقاطع طولی (ب) و عرضی (ج) سلول‌های آوند آبکشی.

فعالیت ۳-۱



مشاهده روبوست برگ

- ۱- یک برگ گیاه تهیه کنید. برگ برای این کار مناسب تر است.
- ۲- روبوست آن را جدا و زیر میکروسکوپ بررسی کنید.
- ۳- آنچه را می بینید شرح دهید و طرحی از آن رسم کنید. فراموش نکنید شکل خود را نام گذاری کنید و مقیاس آن را هم ذکر کنید.

فعالیت ۳-۲



مشاهده بافت گیاهی

- ۱- یک میوه نرم، مانند گوجه فرنگی تهیه کنید.
- ۲- میوه را به دو نیم برش دهید.
- ۳- مقدار کمی از مواد نرم درون میوه را با کاردک بردارید.
- ۴- موادی را که خارج کرده‌اید، روی یک تیغه شیشه‌ای قرار دهید.
- ۵- یک قطره آب روی آن بریزید.
- ۶- آن را با تیغک ببوشانید.
- ۷- بافتی را که آماده کرده‌اید نخست با بزرگ‌نمایی کم و سپس با بزرگ‌نمایی زیاد زیر میکروسکوپ ببینید.
- ۸- مشخصات بافتی را که مشاهده می‌کنید شرح دهید.

فعالیت ۳-۳



مشاهده بافت های گیاهی

- معلم شما یک گیاه یا بخشی از آن را در اختیار شما قرار می‌دهد. به هر روشی که مناسب می‌دانید، بافت‌های مختلف تشکیل‌دهنده آن را مورد بررسی قرار دهید.
- روش خود را به‌طور کامل شرح دهید. هرگاه لازم می‌دانید از آنچه مشاهده می‌کنید طرح‌هایی رسم کنید. فراموش نکنید طرح‌ها را نام‌گذاری و مقیاس طرح‌ها را نیز ذکر کنید.

خودآزمایی ۳-۲

- ۱- اگر در بخشی از یک ساقه، یا ریشه گیاهی علفی برشی ایجاد کنیم در این برش، در زیر میکروسکوپ، سه منطقه دیده می‌شود. آنها را شرح دهید.
- ۲- سه نوع بافت اصلی در ساقه و ریشه گیاهان علفی یافت می‌شود. آنها را نام ببرید.

- ۳- اصطلاحات زیر را شرح دهید :
 - کوتین، پوستک، کلرانسیم و لیگنین
 - ۴- دو نوع سلول تمایز یافتهٔ روپوستی را نام ببرید.
 - ۵- ویژگی‌های بافت پارانشیمی کدام‌اند؟
 - ۶- بافت کلانشیمی را با پارانشیمی مقایسه کنید.
 - ۷- دو نوع بافت اسکلرانشیمی را شرح دهید.
 - ۸- ویژگی‌های بافت اسکلرانشیمی را شرح دهید.
 - ۹- اشعهٔ مغزی چیست؟
 - ۱۰- انواع بافت‌های را با یکدیگر مقایسه کنید.
 - ۱۱- تراکتید را با عنصر آوندی مقایسه کنید.
 - ۱۲- اصطلاحات زیر را تعریف کنید :
لوله‌های غربالی، سلول همراه
-



تغذیه و گوارش

ذرات موجود در آب در لای اندام‌های شانه مانند او گیر می‌کند. در این هنگام جانور این مواد را می‌بلعد و وارد معده خود می‌کند. پس از آن معده وال کوژپشت که در هر وعده می‌تواند در حدود نیم تن مواد غذایی را در خود جای دهد، گوارش را آغاز می‌کند. وزن غذای روزانه این وال به حدود ۲ تن می‌رسد. بنابراین غذای بزرگ‌ترین جانور از ریزترین جانوران تأمین می‌شود. تغذیه و گوارش در جانوران چهار مرحله اصلی دارد (شکل ۱-۴):

- ۱- بلع: یعنی فرو بردن غذا از دهان به معده.
- ۲- گوارش: که شامل دو نوع است: گوارش مکانیکی، یعنی خرد کردن ذرات درشت غذا به تکه‌های کوچک و گوارش

وال‌ها بزرگ‌ترین جانوران کره زمین هستند. وال کوژپشت که تصویر آن را در شکل ۱-۴ می‌بینید، از نظر اندازه، متوسط است. این وال ۱۶ متر درازا دارد.

وال کوژپشت جهت تأمین ماده و انرژی برای بدن ۷۲ تنی خود نیاز به غذای فراوان دارد. غذای این جانور ماهی‌های کوچک و خرچنگ‌های ریز ساکن دریاهاست. وال کوژپشت به جای دندان چند ردیف اندام شانه مانند در دو طرف آرواره بالای خود دارد. این جانور، برای غذا خوردن، نخست دهان و گلوی خود را باز می‌کند و مقدار زیادی آب به همراه جاندارانی که در آن شنا می‌کنند، وارد دهان و گلوی خود می‌کند. هنگامی که وال دهان خود را می‌بندد، آب از دهان خارج می‌شود، اما



شکل ۱-۴ - تغذیه وال کوژپشت

خاصی دارند. مثلاً آمیب، واکوئل گوارشی دارد که غذا را درون آن گوارش می‌دهد. بسیاری از اسفنج‌ها نیز به همین شیوه غذا را گوارش می‌دهند. آمیب و اسفنج فقط گوارش درون سلولی دارند.

بسیاری از جانداران، درون بدن خود، جایگاه خاصی برای گوارش غذا دارند. این جایگاه خاص در خارج از محیط داخلی، یعنی در خارج از خون و سلول‌های بدن است.

جانوران ساده و ابتدایی، مانند هیدر که از کیسه‌تنان است، کیسه گوارشی دارند. این کیسه فقط یک راه به خارج دارد و آن دهان جاندار است. کیسه گوارشی به گوارش و توزیع غذا بین سلول‌های جاندار می‌پردازد. هیدر می‌تواند ذرات غذایی بسیار بزرگ‌تر از سلول‌های خود را بی‌بلعد.

شکل ۲-۴، مراحل اصلی گوارش و جذب غذا را در بدن هیدر نشان می‌دهد. هیدر جاننداری صیاد است و صید خود را (که در این جانوعی سخت پوست کوچک است) بانیش‌های زهری خود می‌کشد. جاندار با کمک بازوهای خود شکار را وارد دهان

شیمیایی، یعنی تجزیه پلی‌مرها به مونومرهای سازنده آنها؛ چون پلی‌مرها مولکول‌های درشتی هستند و نمی‌توانند از غشای سلول‌ها عبور کنند و وارد سلول‌ها شوند. از سوی دیگر سلول‌ها به مونومرها نیاز دارند، تا بتوانند با آنها پلی‌مرهای مورد نیاز خود را بسازند.

۳- جذب: یعنی ورود مولکول‌های مونومر به سلول‌های پوشاننده سطح روده و سپس ورود آنها به درون خون.

۴- دفع مدفوع: یعنی خروج مواد گوارش نیافته و ترشحات لوله گوارشی از بدن.

گوارش غذا در جانوران مختلف، متفاوت است

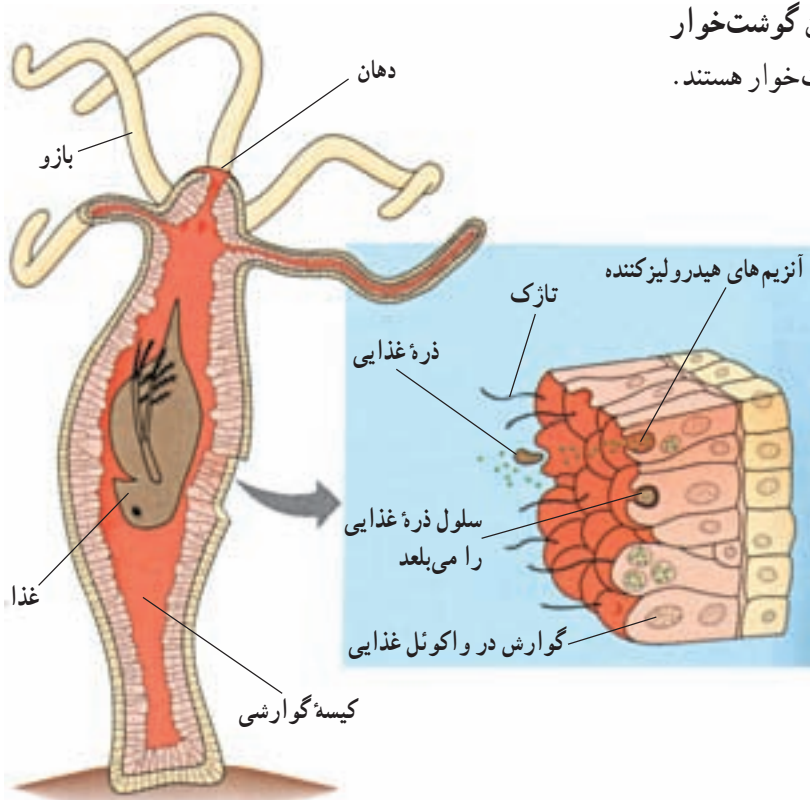
نوع غذا و روش‌های گوارش آن در جانوران مختلف، متفاوت است. کرم کدو نواری شکل است و به صورت انگل در روده انسان زندگی می‌کند، دهان و لوله گوارشی ندارد، و از پوست بدن خود مواد غذایی گوارش یافته را که درون روده وجود دارد، جذب می‌کند. جانوران دیگر کیسه گوارشی، یا لوله گوارش دارند و مواد غذایی را می‌بلعند.

گاو، گوسفند، آهو، گوزن، گوریل و بعضی از جانوران آبی گیاه‌خوار هستند. بعضی دیگر از جانوران گوشت‌خوار هستند. شیر، کوسه، عقاب، عنکبوت و مار گوشت‌خوار هستند.

گروهی از جانوران، هم مواد گیاهی و هم مواد جانوری می‌خورند. این جانوران همه چیزخوار نام دارند. انسان جاننداری همه چیزخوار است.

هر جاندار برای تغییر دادن و جذب و استفاده از غذا باید محیطی برای عمل کردن آنزیم‌های گوارشی ایجاد کند. این محیط باید در جایی در بیرون از سلول‌های جاندار باشد، تا آنزیم‌های گوارشی به مولکول‌های زیستی خود جاندار آسیب نرسانند.

جانداران تک سلولی نیز برای گوارش مواد غذایی، در درون خود، واکوئل‌های



شکل ۲-۴ - گوارش غذا در بدن هیدر

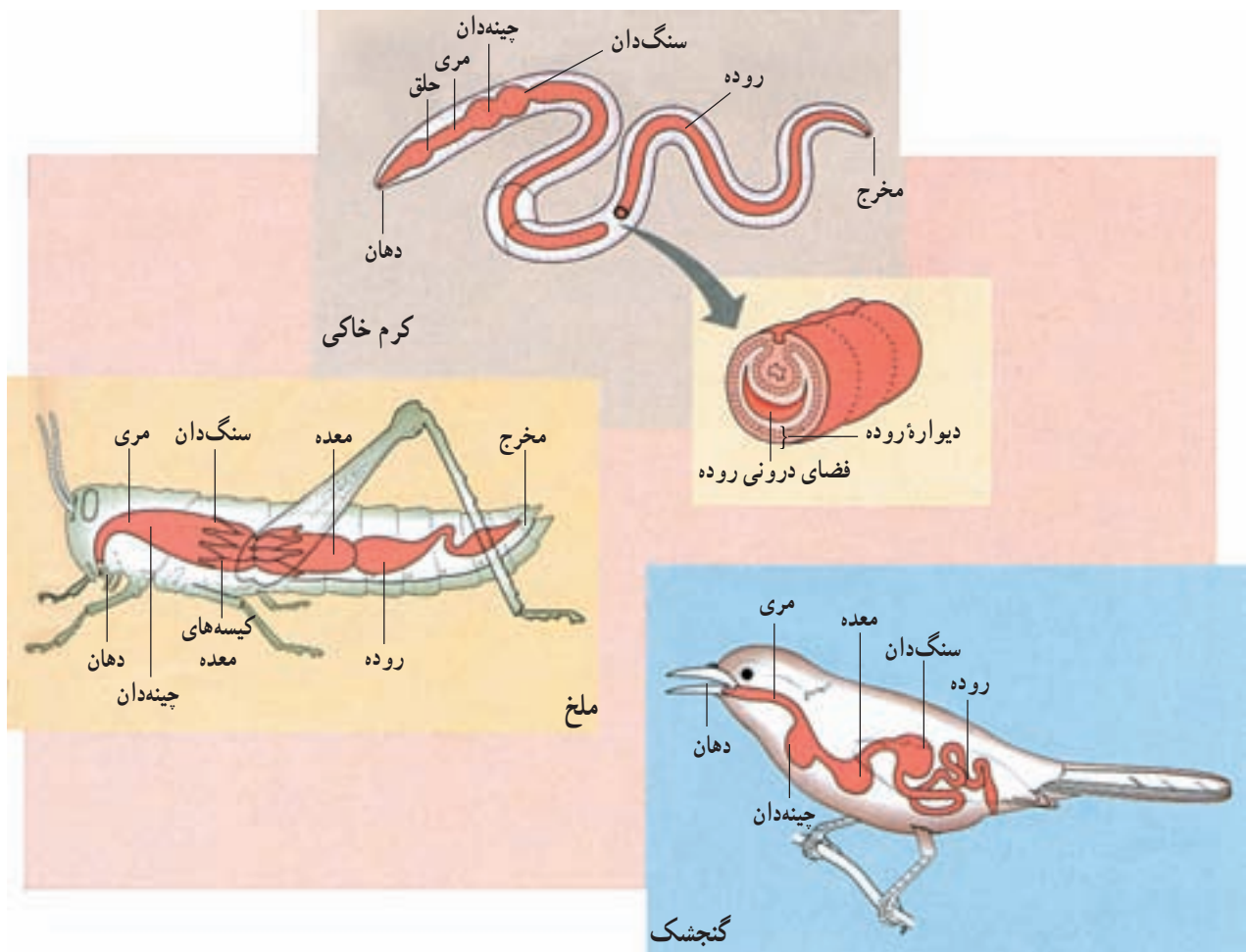
درون لوله گوارشی، یک طرفه و از سوی دهان به سوی مخرج است، بخش‌های مختلف لوله گوارشی برای انجام کارهای اختصاصی، شکل و عمل اختصاصی پیدا کرده‌اند. مثلاً غذا از دهان به گلو و از آنجا، از راه مری، به معده می‌رود. لوله گوارش بعضی جانوران دارای چین‌دهان و سنگ‌دان نیز هست. چین‌دهان محل نرم‌تر شدن و ذخیره موقتی غذاست.

معده و سنگ‌دان نیز محل ذخیره موقتی غذا هستند، اما ماهیچه‌های آنها بسیار قوی‌تر از ماهیچه‌های چین‌دهان است و می‌توانند غذا را تا حدودی خرد و آسیاب کنند.

روده که جایگاه اصلی گوارش و جذب غذاست، بین معده و مخرج قرار دارد. در جانوران مختلف، براساس نوع جانور و نوع غذایی که می‌خورند، بخش‌های مختلف لوله گوارشی متفاوت است. در شکل ۳-۴، دستگاه گوارش سه نوع جاندار

خود می‌کند. هنگامی که طعمه درون کیسه گوارشی هیدر قرار می‌گیرد، بعضی سلول‌های پوشاننده کیسه، آنزیم‌های هیدرولیزکننده ترشح می‌کنند. تاژک‌هایی که از بعضی سلول‌ها بیرون زده‌اند، غذا را با آنزیم‌های گوارشی مخلوط می‌کنند. آنزیم‌ها بخش نرم بدن صید را به ذرات کوچک‌تر تجزیه می‌کنند. هنگامی که بعضی بخش‌های بدن شکار به ذرات کاملاً ریز تبدیل شد، این ذرات وارد سلول‌های پوشاننده کیسه گوارشی می‌شوند و بقیه مراحل گوارشی خود را درون سلول‌ها می‌گذرانند. باقی‌مانده بدن صید که گوارش نیافته است، از راه دهان خارج می‌شود. بنابراین گوارش هیدر ابتدا برون سلولی و سپس درون سلولی است.

بسیاری از جانوران لوله گوارشی دارند. لوله گوارشی از دهان آغاز و به مخرج ختم می‌شود. جهت حرکت غذا نیز



شکل ۳-۴ - لوله گوارشی سه نوع جانور مختلف، کرم خاکی، ملخ و گنجشک

که غذاهای متفاوتی می‌خورند، نشان داده شده است.

وجود دارد که به درون معده راه دارند. جذب مواد غذایی در معده ملخ انجام می‌شود. نقش روده ملخ جذب آب و فشرده‌تر کردن مواد غذایی برای خارج کردن آنها از مخرج است.

طرح دستگاه گوارش پرندگان مانند گنجشک نیز بسیار شبیه طرح دستگاه گوارش دو جاننداری است که مورد بررسی قرار گرفت. چینه‌دان پرندگان آنها را قادر می‌سازد تا غذایی را که با سرعت بلعیده‌اند، درون آن ذخیره کنند. گوارش شیمیایی و مکانیکی غذاها درون معده آغاز می‌شود. بسیاری پرندگان همراه با غذا، سنگ‌ریزه نیز می‌خورند. این سنگ‌ریزه‌ها سنگ‌دان را توانا می‌سازند تا به آسیاب کردن غذا بپردازد. پرندگان دندان ندارند و به جای آن سنگ‌دان آسیاب کردن غذاها را عهده‌دار است. گوارش شیمیایی غذا درون روده پرنده ادامه می‌یابد. مواد غذایی و آب از روده جذب می‌شوند و مواد گوارش نیافتاده از مخرج خارج می‌شوند.

بعضی پرندگان، مانند گنجشک و مرغ خانگی همه چیز خوارند و از حشرات، دانه‌ها و میوه‌ها تغذیه می‌کنند؛ اما بعضی دیگر، مانند عقاب و جغد گوشت‌خوارند و از راه شکار موش، پرندگان کوچک، مار و حشرات تغذیه می‌کنند.

کرم خاکی جانوری همه چیز خوار است. این جانور درون خاک حرکت می‌کند و خاک سر راه خود، همراه با مواد آلی درون آن را می‌بلعد. این مواد از دهان به مری و از آنجا به چینه‌دان جانور برده می‌شوند. درون سنگ‌دان غذا به کمک سنگ‌ریزه‌هایی که وارد لوله گوارشی شده‌اند، آسیاب می‌شود. در روده، مواد آلی غذایی گوارش می‌یابند و مواد قابل جذب آن، جذب می‌شوند. در شکل ۳-۴ مشاهده می‌کنید که دیواره روده کرم خاکی برجسته است. این برجستگی سطح تماس روده را با غذا افزایش می‌دهد؛ بدین وسیله تعداد سلول‌هایی که در تماس با غذا قرار می‌گیرند، افزایش می‌یابد و کارایی روده بیشتر می‌شود. مواد گوارش نیافتده، خاک و سنگ‌ریزه‌ها از مخرج کرم خارج می‌شوند.

ملخ جانوری گیاه خوار است. صفحه‌های آرواره مانند آن که در اطراف دهان ملخ قرار دارد، برای خرد کردن غذا که عمدتاً برگ‌ها و بخش‌های تازه و نرم گیاهی هستند، به کار می‌رود. ملخ نیز مانند کرم خاکی چینه‌دان و سنگ‌دان دارد. غذایی که به ذرات ریز خرد شده است، از سنگ‌دان وارد معده می‌شود. معده جایگاه گوارش شیمیایی غذاست. در اطراف معده ملخ تعدادی کیسه

خودآزمایی ۱-۲

- ۱- مراحل اصلی تغذیه و گوارش را در جانوران نام ببرید.
- ۲- انواع گوارش را نام ببرید و هر یک را توضیح دهید.
- ۳- کرم کدو از چه طریقی مواد غذایی مورد نیاز خود را به دست می‌آورد؟
- ۴- منظور از گوارش درون سلولی چیست؟ جانورانی را نام ببرید که گوارش درون سلولی دارند.
- ۵- جانوری را نام ببرید که دارای کیسه گوارشی باشد.
- ۶- سلول‌های پوشاننده کیسه گوارشی هیدر چه اعمالی انجام می‌دهند؟ توضیح دهید.
- ۷- انواع گوارش در هیدر را توضیح دهید.
- ۸- چینه‌دان و سنگ‌دان چه نقشی در گوارش مواد غذایی دارند؟ جانورانی را نام ببرید که دارای چینه‌دان و سنگ‌دان باشند.
- ۹- در جاهای خالی کلمه‌های مناسب قرار دهید.
کرم خاکی: مواد غذایی ← دهان ← مری ← ← روده ←
گنجشک: مواد غذایی ← مری ← ← معده ← ← مخرج
- ۱۰- جذب مواد غذایی در چه قسمتی از لوله گوارشی ملخ انجام می‌گیرد و روده ملخ چه نقشی دارد؟

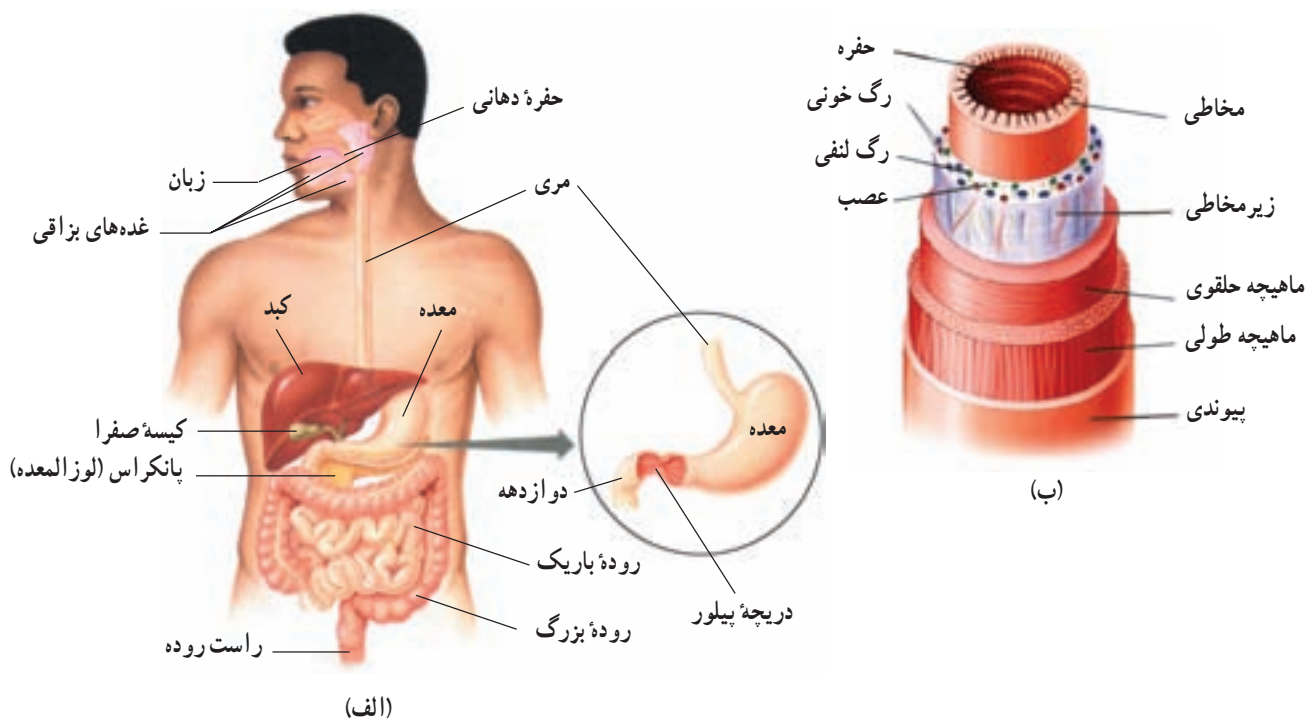
دستگاه گوارش انسان به تأمین آب و مواد غذایی مورد نیاز بدن کمک می کند

اغلب مواد غذایی مورد استفاده بدن به صورت مولکول‌های درشتی هستند که قبل از تغییرات فیزیکی و شیمیایی نمی‌توانند وارد خون شوند. این مواد در لوله گوارش خرد می‌شوند و با کمک آنزیم‌ها به مولکول‌های ساده‌تر تبدیل و سپس جذب خون می‌شوند.

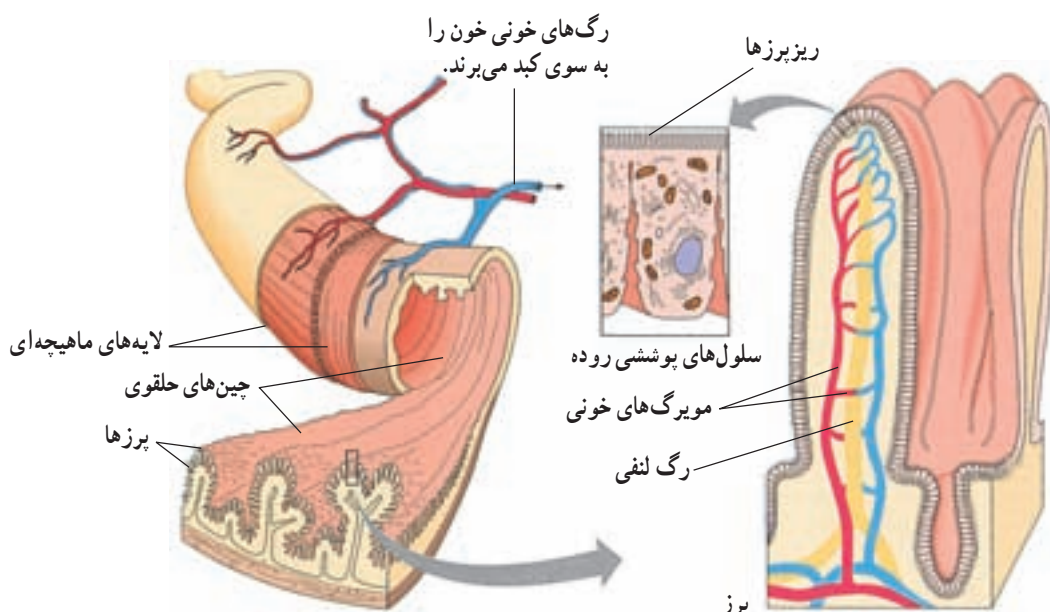
دستگاه گوارش انسان شامل لوله گوارشی و غده‌های گوارشی است (شکل ۴-۴ الف). غده‌های گوارشی، یعنی غده‌های بزاقی، غده‌های دیواره معده و روده، پانکراس و جگر آنزیم‌ها و مواد لازم را به این لوله می‌ریزند. لوله گوارشی، شامل دهان، حلق، مری، معده، روده باریک، روده بزرگ و راست روده است.

ساختار لوله گوارش: دیواره لوله گوارش، تقریباً در تمام طول آن، به ترتیب از خارج به داخل، شامل لایه‌های پیوندی، ماهیچه‌ای طولی، ماهیچه‌ای حلقوی، زیر مخاطی و مخاطی (بافت پوششی که مواد موکوزی ترشح می‌کند) است (شکل ۴-۴ ب).

لایه پیوندی خارجی در حفره شکمی بخشی از پرده صفاق یا روده بند را تشکیل می‌دهد که اندام‌های موجود در حفره شکمی را از خارج به هم وصل می‌کند. ماهیچه‌های دیواره لوله گوارش، در ناحیه دهان و ابتدای حلق از نوع مخطط و ارادی هستند و در قسمت‌های دیگر از نوع صافاند و به صورت غیرارادی به انقباض در می‌آیند. انقباض ماهیچه‌های لوله گوارش موجب خرد و نرم شدن مواد و حرکت آنها به سوی جلو می‌شود. در زیر مخاط یک لایه پیوندی با رگ‌های خونی فراوان مخاط را از ماهیچه‌ها جدا می‌کند. مخاط لوله گوارش از بافت پوششی با آستری پیوندی ساخته شده است. نوع بافت پوششی آن به گونه‌ای است که با کار آن هماهنگی زیادی دارد. این پوشش در دهان از نوع سنگفرشی چند لایه‌ای و در روده و معده از نوع استوانه‌ای یک لایه‌ای است. در مخاط لوله گوارش، سلول‌های ترشحی برون‌ریز و نیز سلول‌های پوششی جذب‌کننده مواد قرار دارند. در سطح داخلی لوله گوارش در اکثر نواحی چین‌های ریزی وجود دارد که سطح تماس مخاط و مواد غذایی را افزایش می‌دهند.

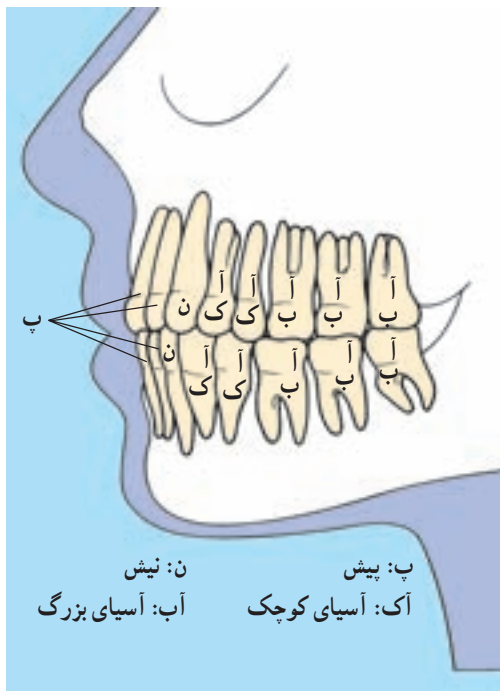


شکل ۴-۴ الف. دستگاه گوارش انسان. ب. لایه‌های بافتی آن



شکل ۴-۵ - ساختار بخشی از روده باریک

آنها نقش اصلی را دارند (شکل ۴-۶). ماهیچه‌های مخصوص جویدن که فک پایین را حرکت می‌دهند، در هنگام جویدن در بین دندان‌های دو آرواره نیروی شدیدی ایجاد می‌کنند. این نیرو در انسان تا حدود ۱۰۰ کیلوگرم بر سانتیمتر مربع می‌رسد.



شکل ۴-۶ - دندان‌های کامل یک انسان

ماهیچه‌های روده غذا را به جلو می‌رانند

حرکات لوله گوارش به صورت‌های دودی و موضعی (قطعه‌ای) است. حرکات دودی با انقباض ماهیچه‌ها و انتقال حرکت به تارهای ماهیچه‌ای جلوتر مواد را در طول روده به جلو می‌رانند. این حرکت‌ها هنگام پایان یافتن گوارش درون معده، به حدی شدید می‌شوند که موجب تخلیه آن می‌گردند. حرکات دودی در روده باریک ضعیف است و این حرکات مواد موجود در روده را، در هر نوبت فقط ۱۰ تا ۱۵ سانتیمتر، به جلو می‌برند؛ به طوری که رسیدن غذا به انتهای روده باریک چند ساعت طول می‌کشد. اتساع لوله گوارش باعث تحریک اعصاب دیواره آن و در نتیجه راه‌اندازی حرکات دودی می‌شود.

حرکات موضعی به صورت انقباض‌های جدا از یکدیگر محتویات روده را به قطعات جدا از یکدیگر تقسیم می‌کنند. تکرار این حرکات در ابتدای روده باریک بیش از انتهای آن است و این اختلاف باعث به جلو رانده شدن مواد می‌شود.

در شکل‌گیری حرکات دودی و موضعی، هر دو نوع ماهیچه طولی و حلقوی نقش دارند.

گوارش در دهان: حرکات جویدن و اثر آنزیم‌های موجود در بزاق بر مواد غذایی باعث گوارش مکانیکی و شیمیایی غذاها در دهان می‌شود. دندان‌ها در گرفتن لقمه غذایی و خرد کردن

بزاق کارهای مختلفی انجام می دهد

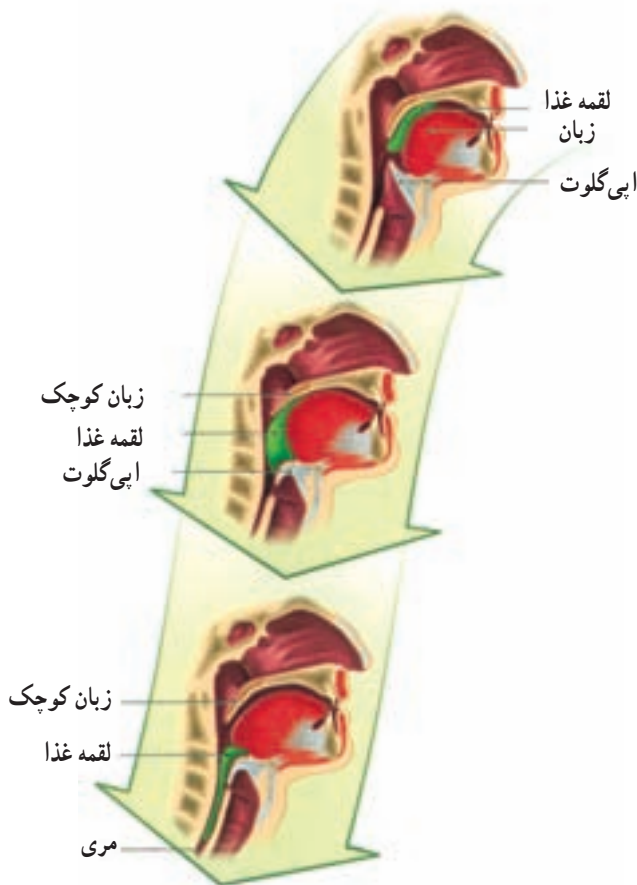
بزاق مخلوطی از ترشحات سه جفت غده بناگوشی، زیرآرواره‌ای و زیرزبانی و نیز غده‌های کوچک ترشح‌کننده موسین است. ترشح غده‌های بناگوشی رقیق‌تر و بیشتر از غده‌های دیگر است و در آن یک آمیلاز ضعیف به نام پتیالین وجود دارد که گوارش کربوهیدرات‌های غذا را آغاز و نشاسته را به مالتوز تبدیل می‌کند. ماده دیگری، به نام موسین، در بزاق یافت می‌شود که پس از جذب آب محلولی چسبناک به نام موکوز به وجود می‌آورد. موکوز باعث به هم چسباندن ذرات جویده شده و لغزنده و مناسب شدن آن برای انجام عمل بلع می‌شود. غده‌های ترشح‌کننده موسین در سراسر طول لوله گوارش وجود دارند. لیزوزیم موجود در بزاق دیواره سلولی باکتری‌های بیماری‌زا را از بین می‌برد و باعث ضدعفونی کردن حفره دهان می‌شود. ترشح دائمی بزاق محیط درون دهان را پیوسته مرطوب نگاه می‌دارد، به احساس چشایی کمک می‌کند، حرکت زبان و لب‌ها را در هنگام سخن گفتن تسهیل می‌کند. ترشح بزاق در هنگام خواب بسیار کاهش می‌یابد.

بلع، غذا را از دهان به معده می‌رساند

بلع انتقال لقمه غذایی جویده شده از دهان به معده است که به وسیله مرکز عصبی آن انجام می‌شود. غذا پس از جویده شدن با بالا آمدن زبان و چسبیدن به کام، به سوی گلو رانده می‌شود و گیرنده‌های مکانیکی دیواره گلو را تحریک و انعکاس بلع را ایجاد می‌کند. در هنگام بلع زبان کوچک به سمت بالا می‌رود و دهانه راه بینی را می‌بندد. راه نای نیز با بالا آمدن حنجره و پایین رفتن اپی‌گلوت بسته و غذا وارد مری می‌شود. مرکز بلع با اثر خود بر مرکز تنفس باعث قطع تنفس در هنگام بلع می‌شود. لقمه غذایی پس از ورود به مری با حرکات دودی مری حرکت می‌کند و به معده می‌رسد. نیروی جاذبه در حرکت لقمه نقش مهمی ندارد. ماهیچه‌های حلقوی بخش انتهایی مری (کاردیا) در حالت عادی منقبض است و از ورود محتویات معده به مری جلوگیری می‌کنند؛ ولی با رسیدن هر موج دودی به این ناحیه، انقباض ماهیچه‌ها از بین می‌رود و ورود غذا به معده تسهیل می‌شود. همراه با بلع آب و مواد غذایی مقداری هوا نیز وارد معده می‌شود.

غذا مدتی در معده می‌ماند

مواد غذایی قبل از ورود به روده، در معده بر اثر حرکات معده و آنزیم‌های شیره آن ریز، نرم و به طور نسبی هضم می‌شوند و به صورت ماده‌ای خمیری شکل به نام کیموس درمی‌آیند. کیموس سپس به تدریج به دوازدهه (قسمت ابتدایی روده باریک) (شکل ۴-۴) وارد می‌شود. سطح داخلی معده خالی چین‌خوردگی‌های زیادی دارد. این چین‌خوردگی‌ها با پر شدن معده از بین می‌روند. ماهیچه‌های صاف حلقوی (داخلی) و طولی (خارجی) دیواره معده، در نزدیکی پیلور (دریچه انتهایی معده) قشورتر از نواحی بالای معده هستند و انقباض شدیدتر دارند.



شکل ۷-۴ - گلو در هنگام بلع

حرکت معده به دو منظور صورت می گیرد

چند دقیقه پس از ورود غذا به معده انقباض‌های ضعیفی در ماهیچه‌های آن ظاهر می‌شود این انقباض‌ها که به تدریج شدیدتر و تعداد آنها بیشتر می‌شود، به صورت امواج دودی از زیر کاردیا شروع می‌شود و در طول معده به سوی پیلور به پیش می‌روند. انقباض‌های دودی در مجاورت پیلور شدیدتر و باعث نرم شدن مواد غذایی و مخلوط شدن آنها با شیرۀ معده می‌شوند. در پایان گوارش معدی، شدت این انقباض‌ها به حدی می‌رسد که در هر حرکت، بخشی از کیموس معده را به درون دوازدهه می‌راند و بقیۀ کیموس به علت بسته شدن مجدد پیلور به معده بازمی‌گردد. هرچه حجم کیموس بیشتر و کشیدگی دیوارۀ معده شدیدتر باشد، حرکات تخلیه‌ای معده نیز با شدت بیشتر صورت می‌گیرند، ولی ترکیب شیمیایی و حجم کیموس موجود در دوازدهه مهم‌ترین عامل مؤثر بر تخلیۀ معده است.

موکوزی ایجاد می‌کنند. این ماده سطح معده را لغزنده و مخاط آن را از اثر شیرۀ معده محافظت می‌کند. علاوه بر آن در دیوارۀ معده تعداد زیادی غدۀ ترشح‌کنندۀ شیرۀ معده وجود دارد که آنزیم‌ها، اسید کلریدریک و فاکتور داخلی معده را می‌سازند و ترشح می‌کنند. غده‌هایی که به پیلور نزدیک‌ترند، آنزیم‌های شیرۀ معده را می‌سازند و غده‌های بالاتر علاوه بر آنزیم، ترشح اسیدکلریدریک و فاکتور داخلی معده را نیز به عهده دارند.

فاکتور داخلی معده برای حفظ ویتامین B_{۱۲} و جذب

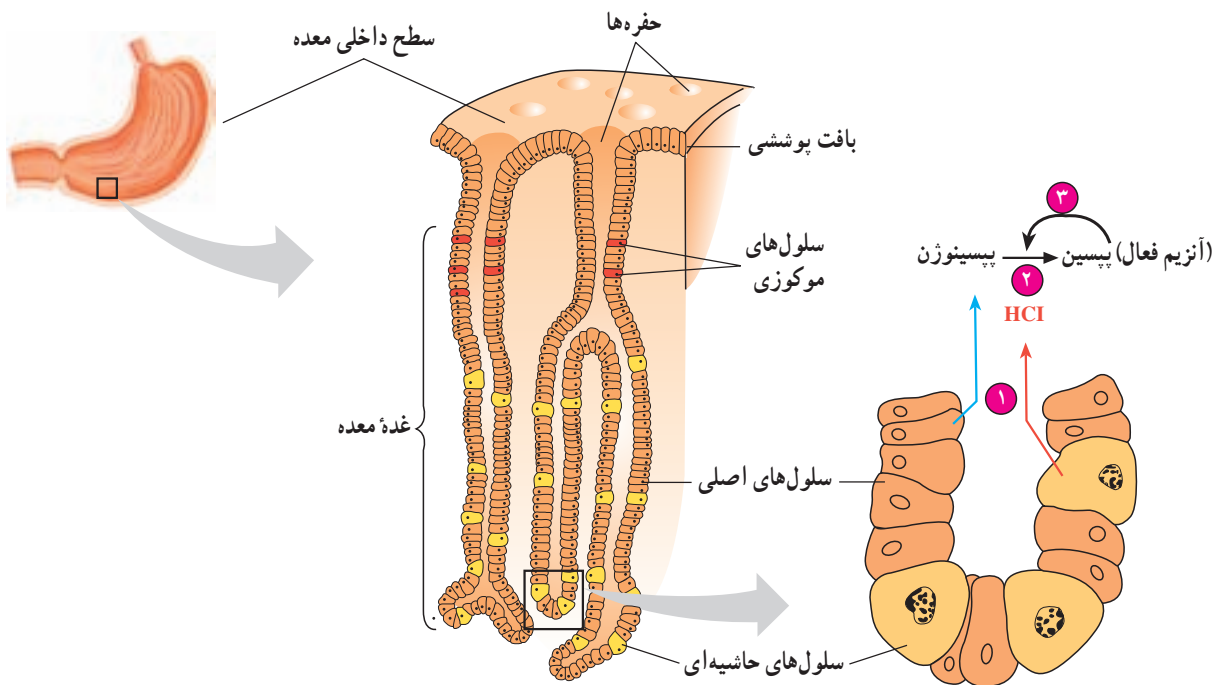
آن در روده ضروری است و با توجه به نقشی که این ویتامین در زایش طبیعی گلبول‌های قرمز خون دارد، برداشتن معده یا آسیب دیوارۀ آن باعث کاهش تعداد گلبول‌های قرمز خون می‌شود. آنزیم‌ها به وسیلۀ سلول‌های اصلی (پپتیک) و اسیدکلریدریک به وسیلۀ سلول‌های حاشیہ‌ای موجود در غدۀ دیوارۀ معده ترشح می‌شوند.

آنزیم‌های شیرۀ معده شامل چند پروتئاز است که به نام کلی

پپسینوژن خوانده می‌شوند. این مواد پس از تماس با اسیدکلریدریک به مولکول‌های کوچک‌تر تبدیل می‌شوند و به صورت پپسین فعال درمی‌آیند. همان‌گونه که در شکل ۸-۴

در معده مواد مختلفی ترشح می‌شود

سلول‌های ترشح‌کنندۀ موسین در سراسر سطح داخلی معده وجود دارند و با ترشح خود یک لایۀ ضخیم چسبنده و قلیایی



شکل ۸-۴ - غدۀ‌های معده

مشاهده می‌کنید، پپسین خود با اثر بر پپسینوژن، تبدیل آن را سریع‌تر می‌کند. پپسین پروتئین‌ها را به مولکول‌های کوچک‌تر پپتیدی تجزیه می‌کند. در شیرۀ معدۀ نوزادان آدمی و بسیاری از پستانداران آنزیم دیگری به نام رنین یافت می‌شود که پروتئین شیر (کازئین) را رسوب می‌دهد. از رنین به‌عنوان مایه پنیر در پنیرسازی استفاده می‌شود. ماده‌ای به نام گاسترین که به‌وسیله غده‌های مجاور پیلور به خون می‌ریزد، محرک ترشح اسیدکلریدریک و تا حدی آنزیم‌های شیرۀ معدۀ است.

استفراغ یک عمل دفاعی است

استفراغ یک انعکاس دفاعی است که هدف آن خالی کردن محتویات معده و بخش بالایی روده باریک، از راه دهان است. تحریک ناحیۀ گلو و گیرنده‌های معده و روده و بیماری‌های مختلف ممکن است این انعکاس را ایجاد کنند. استفراغ با یک دم عمیق و بسته شدن حنجره و بالا رفتن زبان کوچک آغاز می‌شود و با انقباض ماهیچه‌های شکم و سینه و افزایش فشار وارد بر معده، محتویات آن را از راه دهان خالی می‌کند.

بیشتر بدانید

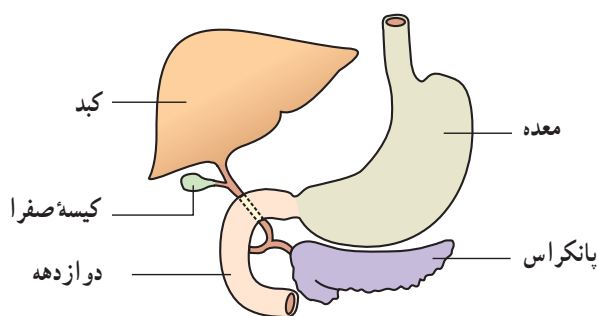
عفونت‌های باکتریایی موجب زخم معده می‌شوند.

شیرۀ گوارشی همراه با اسید بسیار قوی در معده، به ما کمک می‌کند تا بتوانیم انواع مختلف غذاها را گوارش دهیم. قدرت اسیدی بودن شیرۀ گوارش به قدری است که قادر است فولاد را در خود حل کند. معمولاً پوشش موکوزی دیوارۀ معده را از اثر تخریب‌کنندۀ شیرۀ گوارشی محافظت می‌کند؛ ولی این اثر محافظتی صددرصد نیست. وقتی محافظت کامل از دیوارۀ معده به عمل نیاید، به دیوارۀ معده آسیب وارد می‌شود و زخم‌هایی در آن به‌وجود می‌آید. این زخم‌ها زخم معده نام دارند. از علائم زخم معده معمولاً درد آزاردهنده در بخش بالایی معده است که ممکن است تا چند ساعت پس از صرف غذا، ادامه پیدا کند. تاکنون تصور بر این بوده است که زخم‌های معده بر اثر تولید بیش از حد پپسین، یا اسید، یا ترشح بسیار کم موکوز به‌وسیله پوشش معده، ایجاد می‌شود؛ ولی امروزه، شواهدی در دست است که یک باکتری مارپیچی شکل به نام هلیکوباکتری پیلوری^۱ علت اصلی این بیماری محسوب می‌شود. pH پایین معده، اکثر میکروب‌ها را به جز معدودی، از جمله هلیکوباکتری پیلوری را می‌کشد. این باکتری خود را به پوشش معده می‌چسباند و به‌نظر می‌رسد که اسیدیته اطراف خود را با ترکیبات قلیایی خود خنثی می‌کند. ظاهراً رشد باکتری در پی کاهش موضعی موکوز و آسیب پوشش معده آغاز می‌شود. در این حالت انواع مختلف گلبول‌های خونی برای از بین بردن عفونت به سوی دیواره مهاجرت می‌کنند. به‌دنبال حضور گلبول‌های خونی، بافت معده دچار التهاب خفیفی موسوم به گاستریت می‌شود. محققان تخمین می‌زنند که ۵۰٪ از جمعیت جهان به هلیکوباکتری پیلوری آلوده هستند. گاستریت حدود ۱۰ درصد از افرادی که آلوده شده‌اند، وقتی رو به وخامت می‌گذارد که سرعت تخریب سلول‌های دیواره معده به‌وسیله پپسین و اسیدکلریدریک، از سرعت ترمیم آنها بیشتر باشد، زخم‌های معده در این هنگام گسترش پیدا می‌کنند.

سرانجام، احتمال می‌رود که در دیوارۀ معده حفره‌ای ایجاد شود و از طریق این حفره، عفونت به داخل شکم سرایت کند و یا خونریزی خطرناک داخلی در پی آن بروز کند. شواهد، نشان می‌دهد که باکتری هلیکوباکتری پیلوری در انواع خاصی از سرطان معده نیز، دخالت دارد.

زخم‌های معده را معمولاً با ترکیبی از آنتی‌بیوتیک‌ها که باکتری‌ها را از بین می‌برند، درمان می‌کنند. همچنین، داروهایی که اسیدیته معده را کاهش می‌دهند، نیز در این مورد مفید خواهند بود. محققان تلاش می‌کنند تا واکنشی برای جلوگیری از ابتلا به عفونت هلیکوباکتری پیلوری تهیه کنند.

هنگامی که غذای هضم شده معده را ترک می‌کند مقداری شیرۀ معده با خود دارد، بنابراین احتمال دارد که در اولین بخش از روده کوچک که دوازدهه نامیده می‌شود، نیز زخم‌هایی ایجاد شود.



شکل ۹-۴- ارتباط جگر و پانکراس با روده باریک

دودی روده را شدت می دهند و قلیایی بودن صفرا به خنثی کردن کیموس کمک می کند. در ترکیب صفرا، رنگ ها، املاح، کلسترول و لسیتین (نوعی لیپید) وجود دارد. صفرا ابتدا به کیسه صفرا می رود و در آنجا غلیظ تر می شود. در صفرا دو ماده رنگی به نام های بیلی وردین و بیلی روبین وجود دارد که از تجزیه هموگلوبین گویچه های قرمز مرده به وجود می آیند. بخشی از مواد رنگی صفرا در روده دوباره جذب خون و از راه ادرار دفع می شود. رنگ زرد ادرار به همین علت است. بخشی دیگر از این مواد رنگی صفرا بر اثر آنزیم های گوارشی تغییر می کند و رنگ قهوه ای مدفوع را می سازد. رسوب کلسترول در کیسه صفرا یا مجاری خروج آن، سنگ های صفرا را ایجاد می کند. ورود رنگ های صفرا به خون که ممکن است بر اثر سنگ های صفرا یا بیماری های خونی و کبدی صورت گیرد، باعث بیماری یرقان یا زردی می شود.

روده باریک مکان اصلی گوارش شیمیایی و جذب غذاست

گوارش شیمیایی مواد در روده با اثر آنزیم های قوی شیره پانکراس و با کمک صفرا و آنزیم های آزاد شده از سلول های دیواره روده به پایان می رسد. دیواره داخلی روده باریک چین خوردگی های زیادی دارد که روی آنها پرزهای متعدد دیده می شود. این پرزها و چین خوردگی ها سطح تماس روده را با مواد غذایی افزایش می دهند. شیره پانکراس: بخش برون ریز پانکراس قوی ترین آنزیم های لوله گوارش را ترشح و به ابتدای دوازدهه وارد می کند. صفرا نیز به همین ناحیه از دوازدهه می ریزد (شکل ۹-۴). در شیره پانکراس، علاوه بر آنزیم ها مقدار زیادی بیکربنات سدیم برای از بین بردن اثر اسیدی کیموس معده و قلیایی کردن محیط روده وجود دارد که بیشترین قسمت آن در روده دوباره جذب می شود. هورمون سکرترین محرک مؤثری بر ترشح بیکربنات شیره پانکراس است. آنزیم های شیره پانکراس و عمل آنها در جدول ۱-۴ خلاصه شده است. پروتئازهای این شیره در پانکراس به صورت غیر فعال هستند و پس از ورود به روده به صورت فعال درمی آیند. عوامل عصبی و هورمونی ترشح شیره پانکراس را تنظیم می کنند.

عمل صفرا: صفرا یک ماده قلیایی است و جگر آن را می سازد و ترشح می کند. صفرا پس از ورود به روده باعث پراکنده شدن ذرات ریز چربی در آب و ایجاد یک امولسیون پایدار می شود و اثر لیپاز پانکراس را بر آنها آسان تر می کند. املاح صفرا حرکات

بیشتر بدانید

جدول ۱-۴- مواد موجود در شیره پانکراس و کارهای آنها

نام آنزیم	ماده غذایی مورد اثر	نتیجه عمل آنزیم
تریپسین	پروتئین	جدا کردن ارتباطات پپتیدی
کربوکسی پپتیداز	پروتئین و پپتید	جدا کردن آمینواسید از انتهای زنجیره
لیپاز	لیپید	ایجاد گلیسرول و اسید چرب
گلوکیدازها	کربوهیدرات ها	ایجاد قندهای ساده
(آمیلاز، لاکتاز، ساکاراز)	(پلی ساکاریدها)	
ریبونوکلئاز	اسید ریبونوکلئیک	جدا کردن مونونوکلئوتیدهای آزاد
دزکسی ریبونوکلئاز	اسید دزکسی ریبونوکلئیک	از اسیدهای نوکلئیک

ترشحات غده‌های دیواره روده: در دیواره روده باریک، علاوه بر غدد ترشح‌کننده موکوز غده‌های دیگری وجود دارد که مایعی نمکی ترشح و حرکت مواد در روده را آسان می‌کند. منشأ آنزیم‌هایی که در روده وجود دارند، اما از پانکراس ترشح نشده‌اند، سلول‌های پوششی دیواره روده است. عمر این سلول‌ها کوتاه است و پس از کهنه شدن از دیواره روده به درون آن می‌افتند و آنزیم‌های درونی آنها آزاد می‌شود.

جذب ورود مواد از لوله گوارش به خون است

مواد غذایی پس از گوارش به مولکول‌های کوچک قابل جذب تبدیل می‌شوند. فرآیند شیمیایی اصلی در این تغییرات هیدرولیز است. در پایان گوارش، کربوهیدرات‌ها به مونوساکارید، پروتئین‌ها به آمینو اسیدها و چربی‌ها به گلیسرول و اسیدهای چرب تبدیل می‌شوند. جذب مواد غذایی در روده صورت می‌گیرد ولی برخی مواد دارویی از مخاط دهان و معده نیز جذب می‌شوند. وجود چین‌ها و پرزهای درشت و ریز در مخاط روده، سطح جذب را چندین برابر افزایش می‌دهد. هر سلول پوشش مخاط روده صدها ریزبیرز دارد، به طوری که مساحت جذب در روده به حدود ۲۵۰ مترمربع می‌رسد. جذب مواد در روده با پدیده‌های انتشار و اسمز و انتقال فعال صورت می‌گیرد.

جذب اغلب قندهای ساده با انتقال فعال به وسیله سلول‌های پوششی مخاط و همراه با جذب سدیم و به کمک آن صورت می‌گیرد.

جذب آمینو اسیدها با انتقال فعال صورت می‌گیرد و وجود سدیم در روده برای انتقال برخی از آنها لازم است. آمینو اسیدهایی که از روده جذب می‌شوند از گوارش پروتئین‌های غذا و پروتئین‌های موجود در ترشحات لوله گوارش و سلول‌های مرده

و جدا شده بافت پوششی روده حاصل می‌شوند. چربی‌ها که پس از گوارش به مونوگلیسریدها، دی‌گلیسریدها و اسیدهای چرب تبدیل می‌شوند، به سهولت وارد سلول‌های پوششی مخاط روده می‌شوند و مجدداً به صورت تری‌گلیسرید درمی‌آیند و آن‌گاه وارد مویرگ‌های لنفی می‌شوند. علت آن که مواد چربی برخلاف سایر مواد آلی از راه لنفی جذب می‌شوند، این است که سطح خارجی مویرگ‌های خونی دیواره روده، مانند سایر مویرگ‌ها با لایه‌ای از پلی‌ساکاریدها پوشیده شده است که مانع ورود مولکول‌های چربی می‌شود. در حالی که در مویرگ‌های لنفی این لایه وجود ندارد. ویتامین‌های محلول در چربی (A, D, E, K) همراه با ذرات چربی جذب، اما سایر ویتامین‌ها به خون منتشر می‌شوند. ویتامین B_{۱۲} مولکول درشتی است که جذب آن به کمک یک پروتئین حامل (فاکتور داخلی معده) صورت می‌گیرد. ترکیبات معدنی روده از راه انتشار و یا انتقال فعال جذب می‌شوند. جذب آب در روده منحصراً از قوانین اسمز تبعیت می‌کند.

روده بزرگ: ابتدای روده بزرگ روده کور نام دارد و به زائیده آپاندیس ختم می‌شود. روده بزرگ شامل سه قسمت تقریباً مستقیم به نام‌های کولون بالارو (در سمت راست)، کولون افقی و کولون پایین‌رو (در سمت چپ) است. کولون پایین‌رو به راست روده و ماهیچه‌های حلقوی داخلی و خارجی منجر ختم می‌شود که اولی از ماهیچه‌های صاف (غیرارادی) و دومی از ماهیچه‌های مخطط (ارادی) ساخته شده است. موادی که وارد روده بزرگ می‌شوند، شامل آب و املاح، مقدار کمی مواد غذایی گوارش نیافته مانند سلولز و بقایای ترشحات غده‌های گوارشی است. دیواره روده بزرگ آب و املاح را جذب می‌کند و بدین طریق باعث غلیظ‌تر شدن مدفوع می‌شود. باکتری‌هایی

بیشتر بدانید

جذب غذا: فرض کنیم در غذای روزانه یک فرد بالغ در حدود ۵۰۰ گرم کربوهیدرات، ۲۰۰ گرم مواد پروتئینی و ۸۰ گرم چربی وجود دارد که حجم آن همراه با املاح و آب و ترشحات لوله گوارش، به حدود ۹ لیتر می‌رسد. از این مقدار فقط در حدود ۵/۰ لیتر باقی مانده به روده بزرگ وارد می‌شود و بقیه در روده باریک جذب خون می‌شود.

جانوری است. علاوه بر آن طولانی تر شدن روده سطح تماس پوشش درونی روده را با غذا افزایش می دهد و می دانیم که غلظت مواد غذایی قابل جذب در غذاهای گیاهی کمتر از مواد جانوری است.

نوزاد قورباغه که آبزی است گیاه خوار، اما قورباغه بالغ حشره خوار است. نسبت طول روده نوزاد قورباغه به طول بدن بسیار بیشتر از این نسبت در قورباغه بالغ است. هنگام دگرذیسی و تبدیل نوزاد قورباغه به قورباغه بالغ رشد روده نسبت به سایر اندامها اندک است.

پستانداران گیاه خوار عموماً روده بسیار طولیلی دارند. در بعضی از گیاه خواران، میکروب های تجزیه کننده سلولز، در روده بزرگ یا روده کور زندگی می کنند. دستگاه گوارش فیل و اسب از این نوع است. روده کور و روده بزرگ این جانوران مواد حاصل از گوارش سلولز را جذب می کند.

از آنجا که گوارش سلولز در روده باریک این جانوران انجام نمی شود، بسیاری از مواد غذایی موجود در روده آنها به صورت مدفوع دفع می شود.

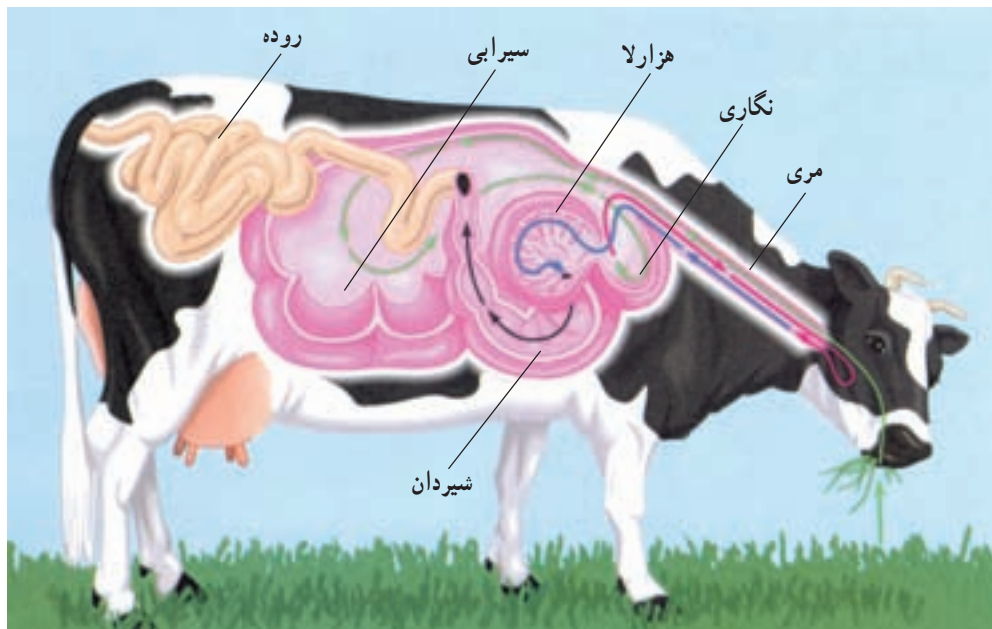
دستگاه گوارش نشخوارکنندگان، مانند گاو و گوزن برای

که در روده بزرگ زندگی می کنند، برخی مواد مانند سلولز را تجزیه و از گلوکز ایجاد شده برای تغذیه خود استفاده می کنند. مقدار کمی ویتامین های B و K نیز به وسیله این باکتری ها ساخته می شود و جذب خون می گردد. بخشی از گازهای روده، مانند هیدروژن، متان و سولفید هیدروژن مربوط به عمل تجزیه ای باکتری های روده است. مقدار کمی پتاسیم و موکوز از غده های دیواره روده بزرگ ترشح و دفع می شود. روده بزرگ تحرک زیادی ندارد.

سازش دستگاه گوارش علف خواران

طرح کلی دستگاه گوارش انسان را بررسی کردیم؛ اما دستگاه گوارش مهره داران با یکدیگر تفاوت هایی دارد. این تفاوت ها برای حداکثر استفاده از غذا و کارایی دستگاه گوارش ایجاد شده است.

طول لوله گوارش تعیین کننده نوع غذایی است که جاندار می خورد. طول روده گوشت خواران کوتاه تر از سایر جانوران است. بلندتر بودن طول روده فرصت بیشتری به آن می دهد تا مواد غذایی موجود در مواد گیاهی را بیشتر جذب کند. می دانیم که گوارش مواد گیاهی دشوارتر از گوارش گوشت و مواد



شکل ۱۰-۴ - دستگاه گوارش گاو، یک جانور نشخوارکننده

موجب گوارش شیمیایی غذا می‌شوند. در این جا غذا همراه با باکتری‌هایی که با آن وارد شده‌اند گوارش می‌یابد و مقدار زیادی از مواد غذایی آماده جذب می‌شوند. باکتری‌ها با سرعت بسیار تولیدمثل می‌کنند و بنابراین مقدار آنها تقریباً همیشه در لوله گوارشی جانور ثابت می‌ماند.

دستگاه گوارش نشخوارکنندگان به علت سازگاری بیشتری که برای زندگی باکتری‌های تجزیه‌کننده سلولز و گوارش کامل غذا پیدا کرده است، نسبت به علف‌خواران دیگر، مانند اسب و فیل کارایی بیشتری دارد.

استفاده از سلولز موجود در مواد غذایی سازگاری پیدا کرده است (شکل ۱۰-۴). معده این جانوران چهاربخشی است: جانور ابتدا مواد گیاهی را نیمه‌جویده می‌بلعد و وارد سیرابی و نگاری خود می‌کند. باکتری‌های تجزیه‌کننده سلولز در سیرابی و نگاری جانور زندگی می‌کنند و مقدار قابل توجهی از سلولز موجود در مواد گیاهی را تجزیه می‌کنند. جانور هنگام استراحت غذای موجود در سیرابی و نگاری را بار دیگر وارد دهان خود می‌کند و آن را دوباره می‌جوید و بار دیگر می‌بلعد. غذا این بار وارد هزارلا می‌شود و آب آن جذب می‌شود. پس از آن غذا به شیردان وارد می‌شود. در شیردان آنزیم‌های گوارشی جانور،

خودآزمایی ۲-۴

- ۱- بخش‌های مختلف دستگاه گوارش انسان را بنویسید.
- ۲- نقش غده‌های گوارشی را بنویسید.
- ۳- ساختار بافتی لوله گوارش را بنویسید.
- ۴- ماهیچه‌های دیواره لوله گوارش در چه قسمت‌هایی از نوع ارادی و در چه قسمت‌هایی از نوع غیرارادی هستند؟
- ۵- غذا چگونه در لوله گوارشی خرد و نرم می‌شود؟ توضیح دهید.
- ۶- مخاط از چه قسمت‌هایی تشکیل شده است؟
- ۷- داخلی‌ترین بافت لوله گوارشی از چه نوع بافتی است؟
- ۸- انواع حرکات لوله گوارشی را بنویسید و نقش آن‌ها را توضیح دهید.
- ۹- غده‌های ترشح‌کننده بزاق دهان را نام ببرید.
- ۱۰- مواد مختلف بزاق را نام ببرید.
- ۱۱- آنزیم‌های بزاق را نام ببرید و کار هر یک را بنویسید.
- ۱۲- موکوز چیست و چه کاری انجام می‌دهد.
- ۱۳- ترشح بزاق چه اهمیتی دارد؟
- ۱۴- در هنگام بلع غذا چگونه راه نای و بینی بسته می‌شود؟
- ۱۵- نتیجه حرکات معده چیست؟ توضیح دهید.
- ۱۶- کیموس را تعریف کنید.
- ۱۷- شیره معده از چه موادی درست شده است؟
- ۱۸- آنزیم‌های شیره معده چه نام دارند و چه عملی انجام می‌دهند؟
- ۱۹- رنین چیست و چه کاری انجام می‌دهد؟

- ۲۰- فاکتور داخلی معده چه اهمیتی دارد و از چه سلول‌هایی ترشح می‌شود؟
- ۲۱- گوارش نهایی مواد غذایی در کدام بخش از لوله گوارش انجام می‌گیرد؟ چرا؟
- ۲۲- شیرۀ پانکراس از چه موادی تشکیل شده است و به چه بخشی از روده باریک وارد می‌شود؟
- ۲۳- صفرا از چه موادی درست شده است و چه کاری انجام می‌دهد؟
- ۲۴- نحوه جذب قندها، اسیدهای آمینه و اسیدهای چرب را در روده باریک بنویسید.
- ۲۵- نقش روده بزرگ را در گوارش بنویسید.
- ۲۶- دستگاه گوارش نشخوارکنندگان چه سازگاری‌هایی دارد؟

فعالیت ۱- ۴



- ۱- چرا لوله گوارشی درون بدن پیچ و تاب خورده است و مستقیم نیست؟
- ۲- علت هر یک از موارد زیر را بیان کنید :
- الف - اگر لقمه‌ای نان را در دهان خود مدتی بیش از حد معمول نگه داریم، شیرین مزه می‌شود.
- ب - هنگامی که لقمه‌ای را می‌بلعیم، لقمه معمولاً از انتهای دهان وارد حفره بینی نمی‌شود.
- ۳- نوعی بیماری در گاو مشاهده می‌شود که در آن چین خوردگی‌های درون روده جانور از بین می‌روند و سطح روده از درون صاف می‌شود. در اثر این بیماری جانور لاغر می‌شود، فکر می‌کنید علت چیست؟
- ۴- گفته می‌شود بزاقی که هنگام غذا خوردن ترشح می‌شود، نسبت به بزاقی که قبل از غذا خوردن ترشح می‌شود، آنزیم بیشتری دارد. آزمایشی طراحی کنید که این موضوع را تأیید یا رد کند.
- ۵- بسیاری جانوران بزرگ جثه لوله گوارشی دارند که از یک سو به دهان و از سوی دیگر به مخرج منتهی می‌شود. چرا برای جانوران بزرگ جثه کارایی لوله گوارشی بیشتر از کیسه گوارشی است؟



تبادل گازها

است و خون فراوانی به ماهیچه‌های پروازی، می‌رسانند. در ماهیچه‌های پروازی آنها ماده‌ای شبیه به هموگلوبین، به نام میوگلوبین وجود دارد که می‌تواند همیشه مقداری اکسیژن ذخیره داشته باشد. بنابراین دستگاه تنفس این پرنده حداکثر کارایی و سازگاری را که برای جذب اکسیژن و دفع دی‌اکسید کربن لازم است، پیدا کرده است (شکل ۱-۵).

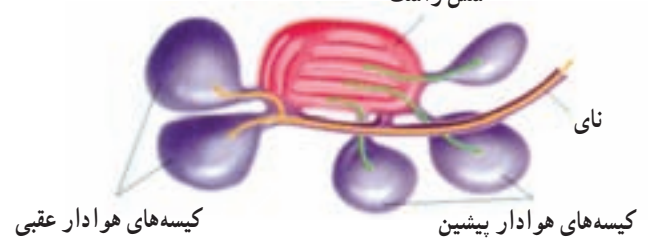
دستگاه تنفسی پرندگان در اساس با دستگاه تنفسی سایر مهره‌داران متفاوت است. جریان هوای درون شش‌های پرندگان یک طرفه و از عقب به سوی جلو است.

افرادی که برفراز کوه‌های هیمالیا، بین هندوستان و چین با هواپیما پرواز کرده‌اند، ممکن است دسته‌هایی از غازهای وحشی دیده باشند که در ارتفاع ۹ کیلومتری بالای سطح زمین، جایی که آدمی به علت سرمای شدید و کمبود اکسیژن، نمی‌تواند زندگی کند، در حال پرواز و مهاجرت‌اند.

یکی از عوامل ایجادکننده این سازگاری در غازهای وحشی، کارایی بالای شش‌های آنهاست که می‌توانند مقدار بسیار اندک اکسیژن هوا را جذب کنند. هموگلوبین آنها نیز قدرت پیوستگی زیادی با اکسیژن دارد. تعداد مویرگ‌های آنها فراوان

الف. دم

شش راست



کیسه‌های هوادار عقبی

کیسه‌های هوادار پیشین

شکل ۱-۵- دستگاه تنفسی پرندگان، تعداد کیسه‌های هوادار ۹ عدد است که یکی از آنها بین دو نیمه بدن مشترک است.

الف. هنگام دم هوا (پیکان‌های زردرنگ) عمدتاً (حدود ۷۰ درصد) به کیسه‌های هوادار عقبی می‌رود. در این حال هوای تهویه شده حاصل از دم قبلی (پیکان‌های سبزرنگ) به کیسه‌های هوادار پیشین منتقل می‌شود. ب. هنگام بازدم هوای تهویه نشده حاصل از دم (پیکان‌های زردرنگ) به درون شش‌ها وارد می‌شود. در این حال هوای تهویه شده حاصل از دم قبلی (پیکان‌های سبزرنگ) از کیسه‌های هوادار پیشین خارج می‌شود.

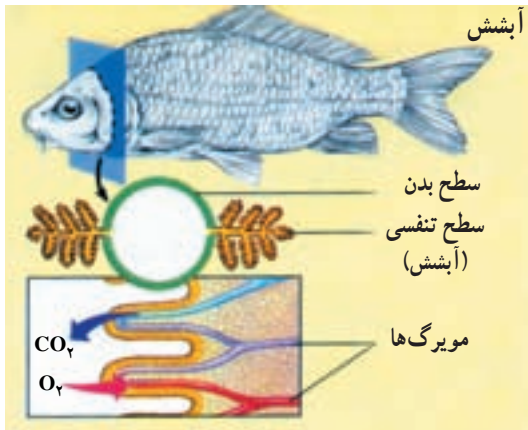
ب. بازدم



کار دستگاه تنفسی رساندن اکسیژن به بدن است

موجودات تک سلولی آبی اکسیژن مورد نیاز خود را از طریق انتشار می گیرند و دی اکسید کربن را نیز از همین طریق دفع می کنند.

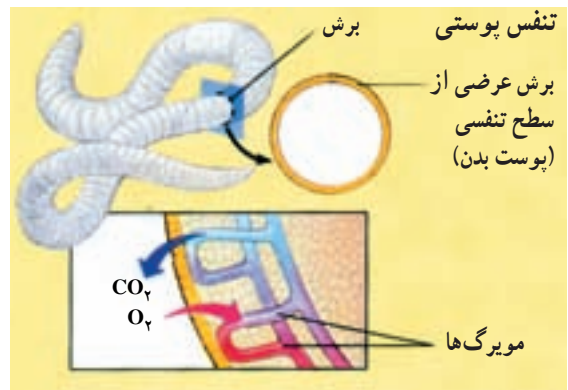
تنفس جانوران پر سلولی به شکل های گوناگونی انجام می شود. بعضی جانوران برای انجام تنفس از همه سطح بدن خود استفاده می کنند. به این نوع تنفس، تنفس پوستی می گویند. تنفس کرم خاکی پوستی است: اکسیژن از جدار نازک مویرگ های پوستی عبور می کند و وارد خون می شود. دی اکسید کربن نیز به همین طریق از بدن دفع می شود (شکل ۵-۲).



شکل ۵-۳- دستگاه تنفسی آبشش ماهی

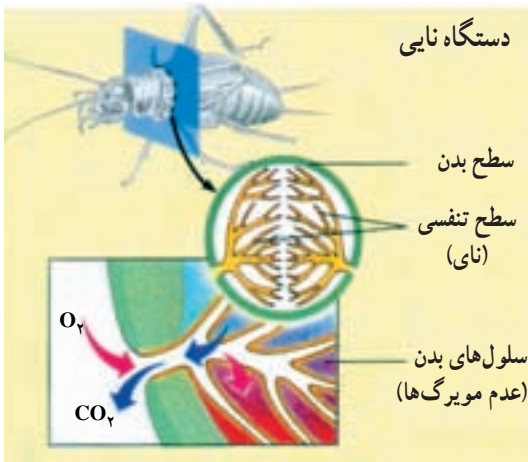
جذب اکسیژن موجود در هوا نیستند؛ بنابراین سطوح تنفسی (سطح مبادله اکسیژن و دی اکسید کربن) جانوران ساکن خشکی، به درون بدن منتقل شده است.

حشرات سیستم تنفسی متفاوتی دارند. این سیستم از تعدادی لوله های درونی به نام نای تشکیل شده است (شکل ۵-۴). شاخه های نای در سراسر بدن منشعب می شوند. تبادل گازها (اکسیژن و دی اکسید کربن) از این اتشعابات با سلول های بدن، به طور مستقیم و بدون نیاز به همکاری سیستم گردش مواد، انجام می گیرد.



شکل ۵-۲- تنفس کرم خاکی

کرم خاکی و موجودات دیگری که تنفس پوستی دارند باید در محیط های مرطوب و یا در آب زندگی کنند تا سطح بدن آنها همیشه مرطوب بماند. این جانوران معمولاً جثه کوچک دارند و بسیاری از آنها بدن دراز (کرم خاکی) یا پهن (کرم پهن) دارند. این سازگاری ها برای افزایش سطح تنفس انجام شده است. پوست بیشتر جانوران برای انجام تنفس مناسب نیست؛ بنابراین در بدن این جانوران بخش های ویژه ای برای تنفس تمایز یافته اند. ماهی ها با آبشش تنفس می کنند. در دو طرف سر ماهی ردیف هایی از آبشش ها قرار دارد (شکل ۵-۳). اکسیژن محلول در آب از سطح آبشش ها وارد مویرگ ها می شود و دی اکسید کربن در خلاف جهت اکسیژن از مویرگ ها به درون آب انتشار می یابند. در جانوران خشکی زی آبشش برای تنفس مناسب نیست، زیرا در نبود آب رشته های آبششی به هم می چسبند و آبشش ها قادر به



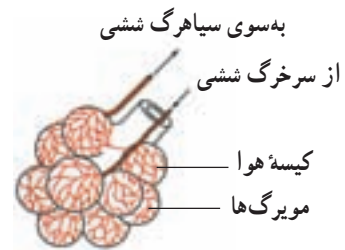
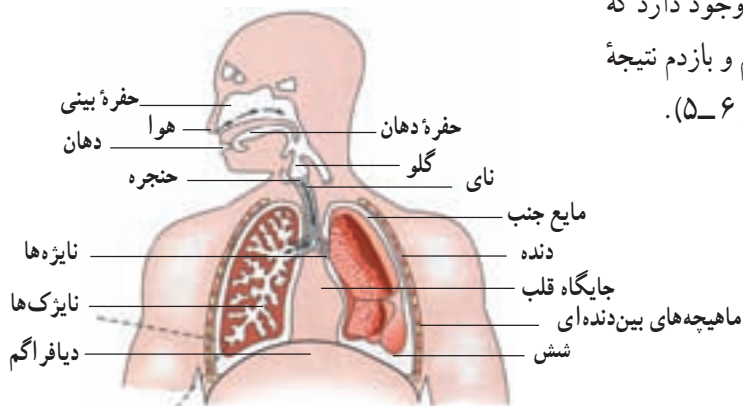
شکل ۵-۴- دستگاه تنفسی نایی حشرات

بیشتر مهره داران ساکن خشکی شش دارند. شش ها کیسه هایی هستند که جدار آن ها از یک لایه نازک سلول های پوششی درست شده است.

همان طور که در شکل ۵-۵ می بینید، سطوح داخلی



شکل ۵-۵- دستگاه تنفسی جانداران خشکی



شکل ۵-۶- شکل ساده‌ای از دستگاه تنفس انسان. تعداد نایزک‌ها و کیسه‌های هوایی در بدن انسان بسیار بیشتر از چیزی است که در شکل دیده می‌شود.

شش‌ها به دفعات چین خورده و سطح تنفس بزرگی تشکیل داده است. انتقال گازها بین شش‌ها و سلول‌های بدن با کمک سیستم گردش مواد انجام می‌گیرد.

دستگاه تنفسی انسان شامل شش‌ها، مجاری هوا و قفسه سینه است

حرکات تنفسی: دستگاه تنفس شامل شش‌ها، مجاری هوا و قفسه بسته سینه است که شش‌ها را در خود جای داده است. پرده دیواره جنب شش‌ها را به دیواره قفسه سینه مربوط می‌کند. مقدار کمی مایع در بین دو دیواره جنب وجود دارد که لغزنده است و حرکت شش‌ها را آسان می‌کند. دم و بازدم نتیجه تبعیت شش‌ها از حرکات قفسه سینه است (شکل ۵-۶).

خودآزمایی ۱-۵

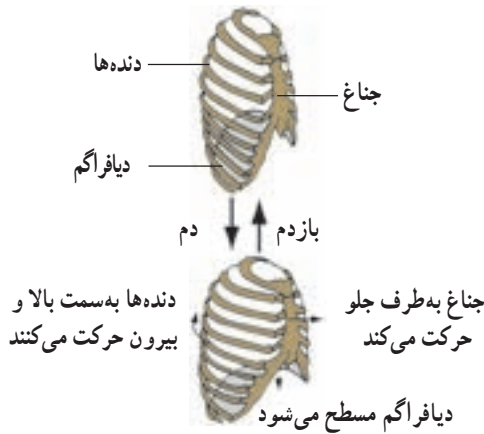
- ۱- نوع تنفس را در موجودات زیر بنویسید.
الف) کرم خاکی ب) ماهی ج) ملخ
- ۲- دستگاه تنفس پرندگان چه سازگاری‌هایی یافته است؟

فعالیت ۱-۵

ظرفیت شش‌های افراد مختلف مساوی نیست. با ساختن دستگاهی مانند شکل زیر، می‌توانید گنجایش شش‌های خود و همکلاسی‌هایتان را اندازه بگیرید.

برای دمیدن از طریق لوله، ابتدا نفس بسیار عمیقی بکشید و تا جایی که می‌توانید در لوله فوت کنید. بهتر است برای خنثی کردن وزن دستگاه در آب، درحالی که شما فوت می‌کنید، یک نفر دیگر، به آرامی ظرف را بالا بیاورد.

- ۱- آیا عددی که در اینجا نشان داده می‌شود، ظرفیت واقعی شش‌های شماست؟ دلیل بیاورید.
- ۲- چگونه می‌توانید به کمک این دستگاه، مقدار هوای دم و بازدم خود را نیز اندازه بگیرید؟



شکل ۷-۵- تغییر حجم قفسه سینه هنگام دم و بازدم

تزدیک به دو سوم هوای جاری دمی به شش‌ها می‌رسد و بقیه آن در مجاری تنفسی می‌ماند و نمی‌تواند دی‌اکسیدکربن و اکسیژن خود را با خون مبادله کند. این یک سوم هوا را هوای مرده می‌نامند.

پس از هر دم معمولی می‌توان با یک دم عمیق حجم بیشتری از هوا را به درون شش‌ها فرستاد. این حجم هوا را هوای ذخیره دمی یا هوای مکمل می‌نامند. هم‌چنین هوایی را که پس از هر بازدم معمولی و با یک بازدم عمیق می‌توان از شش‌ها خارج کرد، هوای ذخیره بازدمی می‌نامند.

به مجموع هوایی که هر فرد پس از یک دم عمیق، طی یک بازدم عمیق بیرون می‌دهد، ظرفیت حیاتی می‌گویند. پس از حداکثر بازدم، هنوز مقداری هوا درون شش‌ها باقی می‌ماند که به آن هوای باقی‌مانده می‌گویند. اگر حجم هوای جاری را در تعداد حرکات تنفس در یک دقیقه ضرب کنیم، حجم تنفسی در دقیقه به دست می‌آید.

در انسان و سایر پستانداران، قفسه سینه به وسیله پرده دیافراگم از حفره شکم جدا شده است.

دیفراگم با حرکت خود به پایین و بالا، حجم قفسه سینه را افزایش و کاهش می‌دهد و در تنفس آرام و طبیعی مهم‌ترین نقش را در حرکات شش‌ها دارد. بالا و پایین رفتن دنده‌ها (با کمک ماهیچه‌های بین دنده‌ای) و استخوان جناغ، با افزایش و کاهش حجم قفسه سینه به عمل دیافراگم کمک می‌کند. در تنفس شدید، انقباض عضلات شکم نیروهای قبلی را تقویت می‌کند. ماهیچه‌هایی که قفسه سینه را بالا می‌برند و حجم آن را افزایش می‌دهند ماهیچه‌های دم و ماهیچه‌هایی که قفسه سینه را پایین می‌برند، ماهیچه‌های بازدم به حساب می‌آیند (شکل ۷-۵).

ماده‌ای به نام سورفاکتانت از برخی سلول‌های دیواره کیسه‌های هوایی ترشح می‌شود، سطح داخلی این کیسه‌ها را می‌پوشاند و کشش سطحی مایع پوشاننده آنها را کاهش می‌دهد و باز شدن طبیعی آنها را تسهیل می‌کند. سورفاکتانت در اواخر دوران جنینی ساخته می‌شود به همین جهت بعضی از نوزادان زودرس که مقدار سورفاکتانت در آنها به مقدار کافی ساخته نمی‌شود، به زحمت تنفس می‌کنند.

اگر در جدار قفسه سینه شکافی ایجاد شود، شش‌ها به روی خود می‌خوابند و هوا به درون حفره سینه مکیده می‌شود. گنجایش شش‌های افراد مختلف با یکدیگر متفاوت است. هر یک از ما در هر دم (فرو بردن هوا به درون دستگاه تنفسی) و بازدم (خارج کردن هوا از دستگاه تنفسی) در حدود ۵۰۰ میلی‌لیتر هوا را جابه‌جا می‌کنیم. به این میزان هوا، هوای جاری گفته می‌شود.

خودآزمایی ۲-۵

۱- بخش‌های مختلف دستگاه تنفسی انسان را بنویسید.

۲- کار پرده جنب چیست؟

۳- ماهیچه‌های دم و بازدمی را نام ببرید.

۴- نقش دیافراگم در تنفس را بنویسید.

۵- ماهیچه‌های تنفسی را نام ببرید.

۶- نقش سورفاکتانت را در تنفس بنویسید.

۷- اصطلاحات زیر را تعریف کنید:

الف) هوای جاری

ب) ظرفیت شش‌ها

ج) هوای باقی‌مانده

د) هوای ذخیره دمی (مکمل)

ه) هوای مرده

و) هوای ذخیره بازدمی

هموگلوبین برای انتقال گازها در خون، به کار می رود

اکسیژن به مایع بین سلولی می شود و با افزایش جریان خون در بافت ها این انتشار نیز بیشتر می شود. هرچه مصرف اکسیژن سلول ها بیشتر باشد، فشار اکسیژن در مایع بین سلولی کم تر و ورود اکسیژن به آن شدید تر می شود. دی اکسید کربن ایجاد شده به وسیله سلول ها از مایع بین سلولی به داخل مویرگ ها منتشر می شود و چون انتشار آن بسیار سریع تر از اکسیژن صورت می گیرد، اختلاف فشار کم این ماده که از چند میلی متر جیوه بیشتر نیست، برای انتشار آن کافی است.

اعمال مجاری تنفس: بعد از نای و نایژه ها، مجاری تنفس

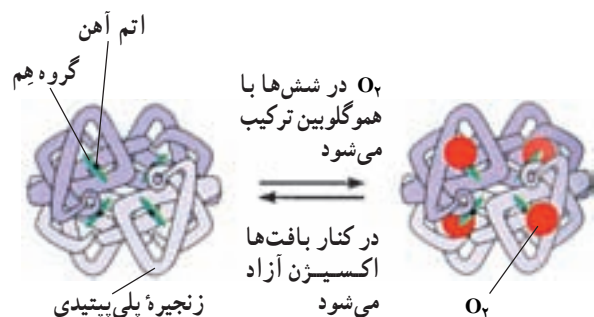
بیش از ۲۰ بار به انقباضات باریک تر به نام نایژک تقسیم می شوند. حلقه های غضروفی زیادی که در دیواره نای و نایژه ها وجود دارد، مجرای آنها را همیشه باز نگاه می دارد. در بیماری آسم نایژک ها تنگ می شوند و تنفس را مشکل می کنند. سطح داخلی دیواره مجاری هوا از بینی تا نایژک های انتهایی از یک بافت پوششی مژه دار پوشیده شده است و ترشحات مخاطی روی این سلول ها لایه چسبناکی به وجود می آورد که علاوه بر مرطوب کردن هوای تنفسی، ذرات ریز موجود در هوای دم را جذب می کند. حرکت ضربانی مژه ها به سوی حلق باعث رانده شدن این ترشحات به همراه ذرات خارجی به سوی گلو می شود.

سرفه و عطسه برای بیرون راندن مواد از راه های تنفسی انجام می شود

حساسیت زیاد نای، نایژه ها و مجاری بینی باعث می شود تا ورود گازها و مواد خارجی باعث واکنش سرفه یا عطسه شود. در این حالت هوا با فشار از راه دهان (سرفه) یا بینی (عطسه) همراه با مواد خارجی به بیرون رانده می شود. در شروع سرفه یا عطسه حنجره بسته می شود و هوا را در داخل شش ها محبوس می کند. سپس با باز شدن ناگهانی حنجره، هوا با فشار خارج می شود. عطسه بر اثر تحریک مجاری بینی ایجاد می شود و در آن زبان کوچک به پایین کشیده می شود و هوا از طریق بینی خارج می گردد.

تکلم: تکلم با شرکت دستگاه تنفس و مراکز عصبی تکلم صورت می گیرد. تولید صدا با ارتعاش تارهای صوتی حنجره و واژه سازی به وسیله لب ها، دهان و زبان صورت می گیرد.

در حدود ۹۷ درصد اکسیژن به وسیله هموگلوبین و بقیه به صورت محلول در پلاسما به بافت ها منتقل می شود. اگر فشار اکسیژن زیاد باشد مقدار بیشتری از آن با هموگلوبین ترکیب و هرگاه فشار اکسیژن کم باشد، اکسیژن از هموگلوبین رها می شود (شکل ۸-۵). در شرایط عادی که فشار اکسیژن در هوای کیسه های هوایی شش ها در حدود ۱۰۴ میلی متر جیوه است، هموگلوبین در حدود ۹۷ درصد توان خود اکسیژن می گیرد و در خون سیاهرگ هایی که از بافت ها باز می گردند، هموگلوبین هنوز در حدود ۷۸ درصد توسط اکسیژن اشباع شده است. وجود مونواکسید کربن که با هموگلوبین میل ترکیبی بسیار شدیدتر از اکسیژن دارد، مانع ترکیب اکسیژن با هموگلوبین و در نتیجه باعث مسمومیت و سرانجام مرگ می شود. تقریباً ۷۰ درصد دی اکسید کربن در خون به صورت بیکربنات درمی آید و به شش ها منتقل می شود. مقداری دی اکسید کربن با اثر آنزیم آنیدراز کربنیک که در غشای گلبول های قرمز وجود دارد، با آب ترکیب می شود و اسید کربنیک می سازد که بیشترین مقدار آن به یون های بیکربنات و هیدروژن تجزیه می شود. تقریباً ۲۳ درصد دی اکسید کربن که در بافت ها تولید می شود به صورت مستقیم با هموگلوبین ترکیب می شود. ۷ درصد باقی مانده نیز به صورت محلول در پلاسما انتقال می یابد.



شکل ۸-۵- هموگلوبین با چهار مولکول اکسیژن ترکیب می شود.

تنفس واقعی در سلول ها انجام می شود

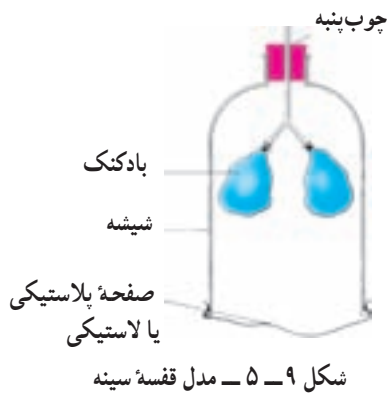
تنفس واقعی سلول های بدن با رسیدن اکسیژن به مایع بین سلولی صورت می گیرد. اختلاف فشار زیاد اکسیژن بین خون و مایع بین سلولی، در مجاورت مویرگ ها، موجب انتشار سریع



فعالیت ۲-۵

تغییرات فشار و حجم در مدل قفسه سینه

۱- دستگاهی مطابق طرح زیر بسازید؛ این مدل، مدل قفسه سینه و دستگاه تنفسی است. چه قسمت‌هایی از این مدل معادل شش‌ها، نای، نایزه‌ها، دنده‌ها و دیافراگم هستند؟



- ۲- به آرامی صفحه لاستیکی را به طرف پایین بکشید. با دقت به بادکنک‌ها نگاه کنید. چه اتفاقی می‌افتد؟ توضیح دهید.
- ۳- اکنون به پرسش‌های زیر پاسخ دهید.
- الف - وقتی که صفحه لاستیکی را به طرف پایین می‌کشید، حجم و فشار داخل ظرف چه تغییری می‌کند؟
- ب - با کمک پاسخ پرسش الف توضیح دهید که چرا بادکنک‌ها هنگام پایین کشیدن صفحه پلاستیکی پر از هوا می‌شوند؟
- ج - در این مدل از قفسه سینه انسان، نقش کدام یک از ماهیچه‌های مهم بدن در نظر گرفته نشده است؟

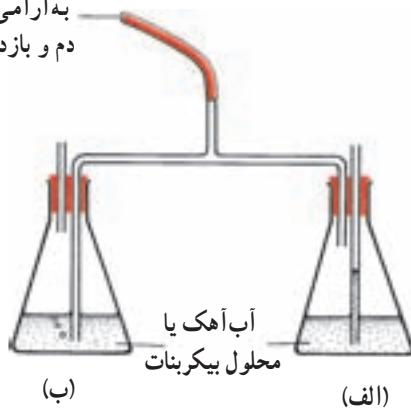


فعالیت ۳-۵

مقایسه مقدار دی‌اکسید کربن در هوای دم و بازدم

برای انجام این آزمایش می‌توانید از محلول آب‌آهک یا بی‌کربنات که معرف CO_2 هستند استفاده کنید. اگر دی‌اکسید کربن به آنها دمیده شود، آب‌آهک حالت شیری رنگ به خود می‌گیرد و محلول معرف بی‌کربنات زرد رنگ می‌شود.

به آرامی در این لوله دم و بازدم انجام دهید



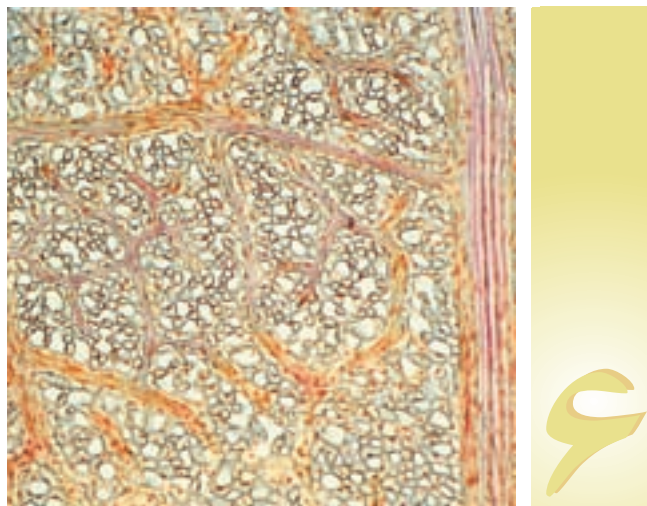
- الف - دستگاه را مطابق شکل سوار کنید. انتهای لوله طویل را در داخل محلول و انتهای لوله کوتاه را در بالای محلول قرار دهید.
- ب - به آرامی از طریق لوله مرکزی عمل دم و بازدم انجام دهید. در هنگام دم از انتهای کدام لوله حباب هوا خارج می‌شود؟ در هنگام بازدم چگونه؟
- ج - دم و بازدم را ادامه دهید تا رنگ معرف در یکی از لوله‌ها تغییر کند. آن را یادداشت کنید.
- د - چند دقیقه دیگر نیز به دم و بازدم ادامه دهید و تغییرات بعدی را که در رنگ هر دو لوله مشاهده می‌کنید، یادداشت کنید.

شکل ۱۰-۵ - مقایسه مقدار دی‌اکسید کربن هوای دم و بازدم

اکنون به پرسش‌های زیر پاسخ دهید :

- الف - به نظر شما چرا هوای دمی به یک لوله وارد می‌شود و هوای بازدمی به لوله دیگر؟
- ب - نخست در کدام لوله تغییر رنگ مشاهده کردید؟ در لوله هوای دمی و یا لوله‌ی بازدمی که حباب‌های هوا از آن خارج می‌شوند؟
- ج - آیا معرف در هر دو لوله سرانجام تغییر رنگ داد؟ این موضوع چه چیزی را برای ما روشن می‌کند؟

- ۱- نقش هموگلوبین را در تنفس بیان کنید.
 - ۲- چرا تنفس گاز مونواکسید کربن خطرناک است؟
 - ۳- بیشترین مقدار دی‌اکسید کربن به چه طریقی در خون حمل می‌شود؟
 - ۴- منظور از تنفس واقعی چیست؟
 - ۵- وجود ترشحات مخاطی در مجاری تنفسی چه اهمیتی دارد؟
 - ۶- با توجه به مسیر تنفس، در نقطه‌چین‌ها، کلمه‌های مناسب قرار دهید.
- بینی ← حلق ← نای ← ... ← ... ← کیسه‌ هوایی ← ... ← ... ← ... ← ... ← بینی
-



گردش مواد

در بدن خود دستگاهی به نام دستگاه گردش مواد دارند. کار این دستگاه به گردش درآوردن اکسیژن، دی اکسید کربن، مواد غذایی، هورمون‌ها و مواد دیگر در بدن است. در گیاهان نیز دستگاهی برای انتقال موادی که جذب می‌شود و نیز انتقال فرآورده‌هایی که در گیاه تولید می‌شود، وجود دارد.

دستگاه گردش خون در جانوران گوناگون، متفاوت است

کیسه تنان دستگاه گردش خون ندارند. بدن این جانوران از دو یا سه لایه سلولی ساخته شده است. بنابراین همه سلول‌ها می‌توانند به طور مستقل به تبادل مواد با محیط بپردازند. در کیسه تنان آب از دهان وارد کیسه گوارشی می‌شود و سپس بار دیگر از همان طریق از آن خارج می‌شود. کیسه تنان خون ندارند. عروس دریایی (شکل ۱-۶) نیز یک کیسه گوارشی دارد، اما این کیسه دارای لوله‌هایی است که به صورت شعاعی به یک لوله دایره‌ای دیگر متصل‌اند. سلول‌های پوشاننده درون این لوله‌ها مژک دارند و زنبق این مژک‌ها آب را در این لوله‌ها به حرکت درمی‌آورد. تنها این سلول‌ها به طور مستقیم با مواد غذایی موجود در آب در تماس‌اند، اما فاصله سایر سلول‌ها با آب، چندان زیاد نیست.

جانورانی که بدن آنها چندین لایه سلولی دارد به یک دستگاه گردش مواد و مایعی به نام خون نیازمندند. در جانوران دو نوع دستگاه گردش خون وجود دارد: بسیاری از بی‌مهرگان،

بدن ما دائماً تحت اثر نیروی گرانش زمین قرار دارد. نیروی گرانش زمین به رانده شدن خون به درون بخش‌های پایینی بدن کمک می‌کند. دستگاه گردش خون ما سازگاری جالبی با این گرانش پیدا کرده است. اگر این سازگاری نبود، خون درون پاهای ما جمع می‌شد و پاها متورم می‌شدند.

این سازگاری چگونه حاصل شده است؟ بخشی از این سازگاری، وجود قلب ماهیچه‌ای است، بخشی دیگر مربوط به تلمبه ماهیچه‌هاست؛ هنگامی که راه می‌رویم یا می‌دویم، فشاری که از سوی ماهیچه‌های در حال انقباض به رگ‌ها وارد می‌شود، خون درون آنها را به بالا، به سوی قلب می‌راند. در سیاهرگ‌های پاهای ما دریچه‌هایی وجود دارد که به سوی قلب، یک طرفه هستند. علاوه بر این‌ها، مقدار زیادی بافت پیوندی در پا وجود دارد. این بافت از متورم شدن بیش از حد رگ‌های پاها جلوگیری می‌کند. علی‌رغم این سازگاری‌ها، گاه نیروی گرانش زمین بیروز می‌شود؛ گاهی به علت ایستادن بیش از حد، به ویژه در افرادی که معمولاً ایستاده کار می‌کنند، خون در رگ‌های پاها جمع می‌شود. توانایی به گردش درآوردن خون، برخلاف جهت نیروی گرانش، برای جانوران اهمیت بسیار دارد.

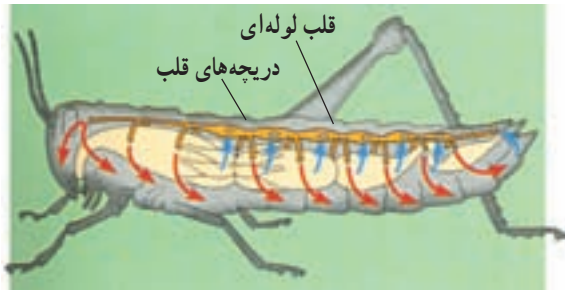
همه جانداران باید به تبادل مواد با محیط بپردازند و موادی را که از محیط جذب کرده‌اند در درون خود در جهت یا خلاف جهت گرانش زمین به گردش درآورند. بسیاری از جانوران

از این منافذ دریچه‌ای دارد که هنگام انقباض قلب بسته می‌شود. مهره‌داران دستگاه گردش خون بسته دارند. این دستگاه از قلب و شبکه‌ای از رگ‌ها ساخته شده است. خون در این نوع دستگاه گردش خون، هنگام گردش از رگ‌ها خارج نمی‌شود. دستگاه گردش خون ماهی (شکل ۴-۶)، نمونه‌ای از دستگاه گردش خون بسته است.

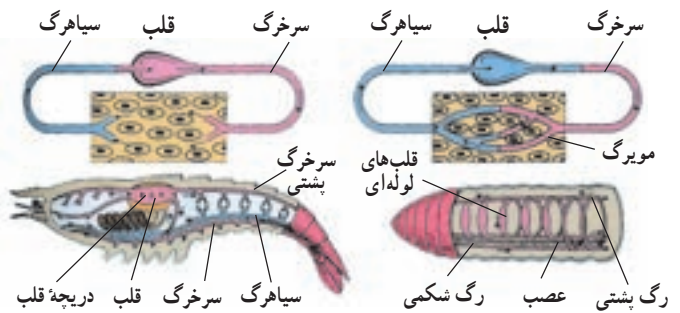


شکل ۱-۶- دستگاه گردش مواد در عروس دریایی: ساده‌ترین دستگاه گردش مواد در جانوران

مانند عنکبوتیان، خرچنگ دراز و ملخ گردش خون باز دارند. خون در بدن این جانداران درون رگ‌های بسته جریان ندارد، بلکه از انتهای باز بعضی رگ‌ها خارج می‌شود و در میان سلول‌ها گردش می‌کند (شکل ۲-۶).



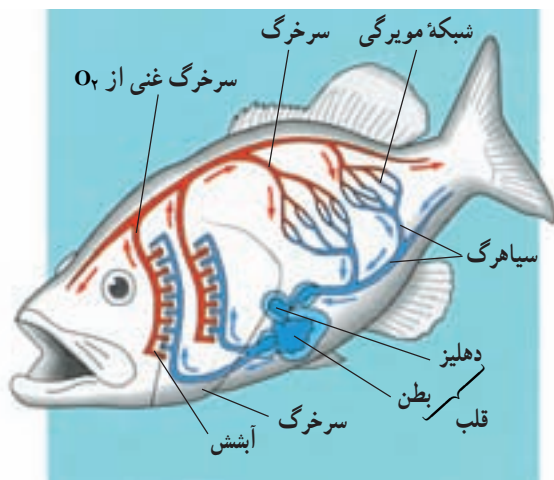
شکل ۳-۶- دستگاه گردش خون ملخ باز است.



گردش خون باز در خرچنگ دراز / گردش خون بسته در کرم خاکی

شکل ۲-۶- نمایش گردش خون بسته در کرم خاکی و گردش خون باز در خرچنگ دراز

قلب ملخ (شکل ۳-۶) لوله‌ای شکل است و خون را به سوی سر و سایر بخش‌های بدن می‌راند. مواد غذایی به‌طور مستقیم بین خون و سلول‌های ملخ مبادله می‌شوند و حرکت ماهیچه‌های بدن جانور خون را به بخش‌های عقبی بدن می‌راند. هنگام استراحت قلب، خون بار دیگر از طریق چند منفذ به قلب باز می‌گردد. هر یک



شکل ۴-۶- دستگاه گردش خون ماهی بسته است. (در ماهی‌های استخوانی معمولاً چهار جفت کمان آبششی و صدها هزار مویرگ آبششی وجود دارد.)

خودآزمایی ۱-۶

- ۱- چرا جانداران به دستگاه گردش مواد احتیاج دارند؟
- ۲- دستگاه گردش خون ما برای غلبه بر نیروی گرانش چه سازگاری‌هایی حاصل کرده است؟
- ۳- مواد در بدن عروس دریایی چگونه به گردش درمی‌آیند؟
- ۴- دستگاه گردش خون را در ملخ و ماهی، با یکدیگر مقایسه کنید.

گازها با محیط می‌پردازد. خونی که از آبشش‌ها خارج می‌شود، از راه سرخرگ پستی به سراسر بدن می‌رود و بار دیگر از سیاهرگ شکمی به قلب باز می‌گردد.

قلب این جانور دو حفره‌ای است و یک دهلیز و یک بطن دارد. خون از سیاهرگ وارد دهلیز می‌شود و از آنجا به بطن می‌رود. بطن خون را به درون سرخرگ می‌فرستد. خون از سرخرگ به آبشش‌ها می‌رود و در آنجا به تبادل

بیشتر بدانید

کاشف گردش ششی خون

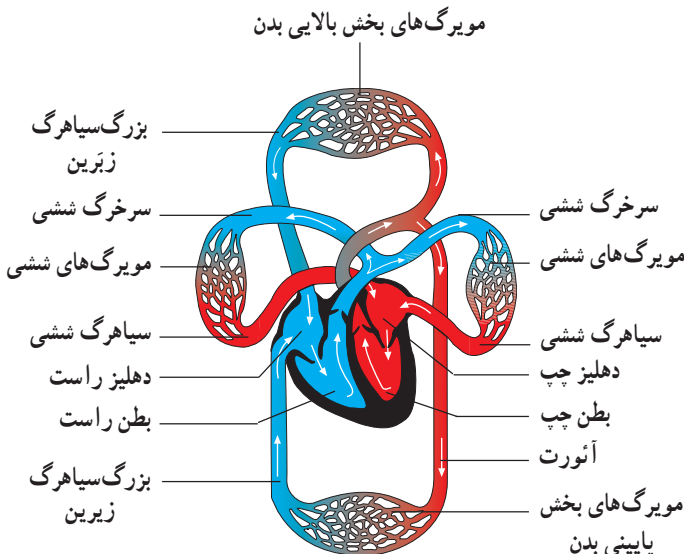
ابن نفیس دانشمند مسلمان قرن هفتم هجری است. پزشکی یکی از رشته‌هایی بود که ابن نفیس در آن تبحر داشت. او پزشکی را در بیمارستان بزرگ آن زمان دمشق آموخت و سپس کار خود را در بیمارستان‌های مصر دنبال کرد. ابن نفیس کاشف گردش کوچک خون (گردش خون میان قلب و شش‌ها) است. تا سال ۱۹۲۴ میلادی، این کشف را به یک اسپانیایی به نام میگوئل سروتو (Miguel Serveto) نسبت می‌دادند ولی در این سال یک دانشجوی مصری در رسالهٔ دکتری خود اثبات کرد که سیصد سال قبل از سروتو ابن نفیس برای اولین بار گردش ششی خون را توضیح داده است.

ابن نفیس اعتقاد داشت برای این که عمل هر یک از اعضای بدن را بشناسیم، باید فقط به نگاه دقیق و بررسی صادقانه دربارهٔ آن عضو تکیه کنیم، بدون ملاحظهٔ این که آیا با آنچه پیشینیان گفته‌اند، مطابقت دارد یا نه. به همین دلیل او بدن انسان و جانوران را تشریح کرد و توانست چیزهای جدیدی را کشف و تصورات دانشمندان قبل از خود را تصحیح کند. او در کتاب خود که شرحی بر بخش تشریح کتاب قانون ابن سیناست، نظریهٔ ویژهٔ خود را دربارهٔ گردش ششی خون عرضه کرده است. نظریهٔ او را پیشگام نظریهٔ گردش کلی خون می‌شمارند که ویلیام هاروی در قرن هفدهم میلادی ارائه کرده است.

ابن نفیس ضمن ارائهٔ نظریهٔ خود دربارهٔ گردش ششی خون، توضیح می‌دهد که دیوارهٔ میان دو بطن ضخیم است و آن‌طور که جالینوس فکر می‌کرد، مشبک نیست و سیاهرگ‌های ریه با هوا و یا دود پر نشده‌اند، بلکه درون آن‌ها خون جریان دارد. تغذیهٔ قلب هم از طریق سرخرگ‌های جدار آن انجام می‌شود و نه از طریق دهلیز چپ و داخل قلب. هم چنین برخلاف نظر ابن سینا قلب از سه حفره تشکیل نشده است.

دستگاه گردش خون انسان شامل قلب، رگ‌ها و خون است

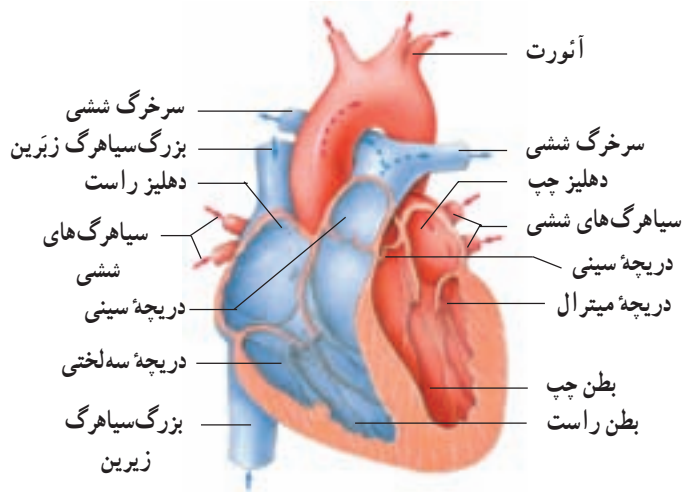
قلب: قلب تلمبهٔ مرکزی دستگاه گردش خون است و با زنبش‌های خود خون را در رگ‌ها به جریان می‌اندازد. جریان خون در ماهی‌ها به صورت ساده و در سایر مهره‌داران مضاعف است. منظور از ساده بودن جریان خون در ماهی‌ها این است که خون تیره‌ای (دارای CO_2 با تراکم بالا) که به قلب می‌آید با زنبش‌های قلب به آبشش‌ها می‌رود و پس از تبادلات گازی، دیگر به قلب بر نمی‌گردد، بلکه مستقیماً به بافت‌های بدن می‌رود. در حالی که در سایر مهره‌داران خون تیره از قلب ابتدا به شش‌ها می‌رود و پس از تبادل اکسیژن و دی‌اکسید کربن، به قلب باز می‌گردد و سپس بار دیگر در گردش عمومی خون به حرکت درمی‌آید و به اندام‌ها می‌رود (شکل ۵-۶).



شکل ۵-۶- مسیر جریان خون پستانداران و پرندگان

دهلیز و بطن را می پوشاند. لایه میانی ماهیچه ای و ضخیم و بخش قابل انقباض قلب است و لایه خارجی بافت پیوندی است که آبشامه قلب را می سازد. در ساختار قلب، علاوه بر بافت ماهیچه ای میوکارد، نوعی بافت ماهیچه ای دیگر نیز وجود دارد که بافت گرهی خوانده می شود و در تولید و هدایت تحریک های قلب نقش اساسی دارد.

ویژگی های ماهیچه قلب: میوکارد دهلیزها و میوکارد بطن ها، هر کدام جداگانه به صورت یک مجموعه تارهای ماهیچه ای به هم پیوسته به انقباض درمی آیند. زیرا تارهای (سلول های) ماهیچه ای هر یک از این ماهیچه ها به یکدیگر متصل هستند و تحریک یک تار به سهولت از راه این اتصال ها به تارهای دیگر انتشار می یابد. در محل ارتباط ماهیچه دهلیزها به ماهیچه بطن ها یک بافت پیوندی عایق وجود دارد، به طوری که انتشار تحریک از دهلیزها به بطن ها، فقط از طریق بافت گرهی صورت می گیرد. قلب ماهیچه ای خودکار است و بافت گرهی، کانون زایش تحریک و انقباض آن است. اعصاب قلب می توانند این انقباض ها را تند یا کند کنند. به انقباض درآمدن ماهیچه قلب را سیستول و بازگشت آن به حالت آرامش را دیاستول می گویند.



شکل ۶-۶- قلب انسان

قلب خزنندگان، پرندگان و پستانداران از چهار حفره، دو دهلیز در بالا و دو بطن در پایین، ساخته شده است. سمت راست قلب خون را به شش ها می فرستد. این مسیر را گردش کوچک (ششی) می نامند. سمت چپ قلب خونی را که از شش ها آمده است، در مسیر گردش بزرگ به جریان می اندازد. دیواره قلب از سه لایه داخلی (آندوکارد)، میانی (میوکارد) و خارجی (پریکارد) ساخته شده است. لایه داخلی از جنس بافت پوششی است که حفره های

فعالیت ۱-۶



تشریح قلب گوسفند

مواد لازم : قلب سالم. تشنگ تشریح، قیچی، سوند شیاردار

الف - مشاهده شکل ظاهری

- سطح پشتی، شکمی، چپ و راست قلب را مشخص کنید.

- ضخامت بطن ها را با هم مقایسه کنید. چرا بطن چپ دیواره قطورتری دارد؟ رگ های غذادهنده قلب (کرونر) را

مشاهده کنید.

- در قاعده قلب سرخرگ ها و سیاهرگ ها قابل مشاهده اند. با وارد کردن سوند یا مداد به داخل آنها و اینکه به کجا

می روند می توان آنها را از یکدیگر تمیز داد. دیواره سرخرگ ها و سیاهرگ ها را با هم مقایسه کنید.

ب - مشاهده بخش های درونی قلب

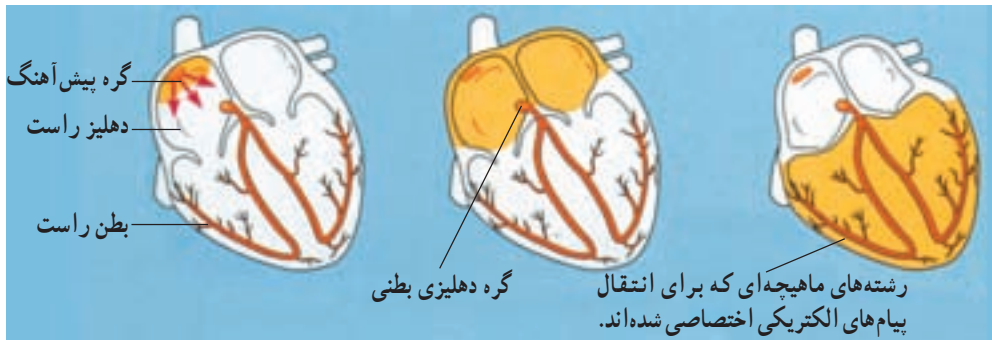
سوند شیاردار را از دهانه سرخرگ ششی به بطن راست وارد کنید. دیواره سرخرگ و بطن را در امتداد سوند با قیچی

ببرید. با باز کردن آن دریچه سینی، سه لختی، برآمدگی های ماهیچه ای و طناب های ارتجاعی را می توان دید.

- به همین روش سرخرگ آئورت و بطن چپ را شکاف دهید و جزئیات بطن چپ را مشاهده کنید.

- با عبور دادن سوند از میان دریچه های دو لختی و سه لختی به سمت بالا و بردن دیواره در مسیر سوند می توانید

دیواره داخلی دهلیزها و سیاهرگ های متصل به آنها را بهتر ببینید.



۱- گره پیش آهنگ پیام‌های الکتریکی را تولید می‌کند.

۲- پیام‌های الکتریکی در دهلیزها منتشر می‌شوند.

۳- پیام‌های الکتریکی در بطن‌ها منتشر می‌شوند.

شکل ۷-۶- بافت گرهی قلب و طرز کار آن

منتشر می‌شود. سرعت انتشار تحریک در گره دهلیزی - بطنی و الیاف دیواره بین دو بطن نسبتاً کم و در شبکه گرهی دیواره میوکارد زیاد است، به طوری که تحریک به سرعت و به صورت هم‌زمان ماهیچه هر دو بطن را فرا می‌گیرد.

دریچه‌های قلب و رگ‌ها: دریچه‌های دهلیزی - بطنی به صورت یک طرفه خون را از دهلیزها به بطن‌ها راه می‌دهند و بسته می‌شوند. این دریچه‌ها شامل دریچه دولختی (میترال) بین دهلیز چپ و بطن چپ و دریچه سه‌لختی، بین دهلیز راست و بطن راست است. این دریچه‌ها فاقد بافت ماهیچه‌ای هستند و جهت جریان خون آنها را باز یا بسته می‌کند. دریچه‌ها به وسیله رشته‌هایی به برجستگی‌های ماهیچه‌ای دیواره داخلی قلب اتصال دارند. در ابتدای آئورت و ابتدای سرخرگ ششی دریچه‌های سینینی شکل دیده می‌شوند. این دریچه‌ها در هنگام ورود خون به سرخرگ‌ها باز می‌شوند و از بازگشت خون از سرخرگ‌ها به درون بطن‌ها جلوگیری می‌کنند. در طول سیاهرگ‌های نواحی پایین بدن، دریچه‌های لانه کبوتری وجود دارد که به صورت یک طرفه به سوی قلب باز می‌شوند و بازگشت خون از سیاهرگ‌ها به قلب را تسهیل می‌کنند (شکل ۱۳-۶).

صداهای قلب: در هر دوره قلبی که شامل سیستول و دیاستول دهلیزها و بطن‌هاست، صداهایی از قلب شنیده می‌شود. این صداها را می‌توان به کمک گوشی طبی از سمت چپ قفسه سینه شنید. دو صدای اصلی از قلب به گوش می‌رسد. صدای اول طولانی‌تر و بم‌تر از صدای دوم است و در هنگام بسته شدن

بافت گرهی و خودکاری قلب: بافت گرهی که به علت نقش هدایت‌کننده خود بافت هادی نیز خوانده می‌شود، تحریک‌کننده میوکارد قلب است. هنگام به وجود آمدن قلب در جنین همه تارهای ماهیچه‌ای آن قادر به انقباض ذاتی هستند، ولی به تدریج با تمایز یافتن بافت ماهیچه‌ای قلب و افزایش قدرت انقباض تارها این خاصیت در میوکارد معمولی قلب از بین می‌رود و منحصراً در بافت گرهی قلب، باقی می‌ماند. بافت گرهی قلب انسان شامل یک گره سینوسی - دهلیزی، یک گره دهلیزی - بطنی و رشته‌هایی در دیواره بین دو بطن و در میوکارد بطن‌هاست. گره اول گره پیش‌آهنگ خوانده می‌شود و محل زایش تحریکات طبیعی قلب است. این گره در دیواره پشتی دهلیز راست و زیر منفذ بزرگ سیاهرگ زیرین قرار گرفته است و از گره دوم بزرگتر است. تارهای ماهیچه‌ای این گره متناوباً به صورت خود به خودی تحریک می‌شوند. این تحریک به سایر تارهای میوکارد قلب منتقل می‌شود و آنها را به انقباض درمی‌آورد. گره دهلیزی - بطنی در حد فاصل بین دهلیزها و بطن‌ها و کمی متمایل به دهلیز راست قرار گرفته است. چند رشته از جنس بافت گرهی، گره‌های سینوسی - دهلیزی و دهلیزی - بطنی را به یکدیگر مربوط می‌سازد. تحریکی که در گره سینوسی - دهلیزی ایجاد می‌شود، سراسر ماهیچه دهلیزها را فرا می‌گیرد و پس از رسیدن به گره دهلیزی - بطنی به الیاف گرهی موجود در دیواره دو بطن منتقل می‌شود و از این راه به نوک بطن و سراسر بافت گرهی که در ماهیچه میوکارد پراکنده است و بالاخره به ماهیچه میوکارد

یک پدیده الکتریکی کلی نیز تولید می کند. این پدیده الکتریکی با توجه به هادی بودن بافت های بدن تا سطح پوست منتشر می شود و ثبت آن الکتروکاردیوگرافی نام دارد. منحنی ثبت شده الکتروکاردیوگرام است که به نوار قلب نیز شهرت دارد. برای الکتروکاردیوگرافی الکترودهای دستگاه الکتروکاردیوگراف را بر روی پوست قرار می دهند و جریان الکتریکی قلب که به وسیله دستگاه تقویت می شود به صورت یک منحنی روی کاغذ رسم، یا روی یک صفحه حساس نمایان می شود. این منحنی ها را می توان از جلو قفسه سینه و یا از اندام ها (دست ها و پاها) ثبت کرد. شکل منحنی ها در انواع مختلف ثبت، کمی متفاوت است. در یک منحنی عادی الکتروکاردیوگرام سه موج ثبت می شود که با حروف P, QRS و T نشان داده می شوند. موج P کمی قبل از انقباض دهلیزها و موج QRS کمی قبل از انقباض بطن ها رسم می شود و بخش T نیز کمی پیش از پایان یافتن انقباض بطن ها و بازگشت آنها به حالت آرامش ثبت می شود. در بیماری های قلبی تغییراتی در این منحنی ها پدیدار می شود که از آنها برای تشخیص

دریچه های دهلیزی - بطنی ایجاد می شود. صدای دوم مربوط به بسته شدن دریچه های سرخرگی (سینی شکل) است. در برخی بیماری های قلب و در نقایص مادرزادی در جدار بین دهلیزها یا بطن ها، ممکن است صداهای غیرطبیعی و ممتد از قلب شنیده شود.

کار قلب: هر دوره کار قلب شامل انقباض دهلیزها، انقباض بطن ها و استراحت عمومی قلب است. این دوره در انسان، در حالت استراحت، به ترتیب $1/3$ ، $0/4$ و $0/4$ ثانیه طول می کشد. در پایان دیاستول در حدود 120 میلی لیتر خون در هر بطن جمع می شود که تقریباً 70 میلی لیتر آن در سیستول بعدی وارد سرخرگ ها می شود. به مقدار خونی که در هر ضربان از هر بطن خارج می شود حجم ضربه ای و به حاصل ضرب حجم ضربه ای در تعداد زنبش های قلب در دقیقه برون ده قلب می گویند.

کاردیوگرافی و الکتروکاردیوگرافی: ثبت حرکات مکانیکی و تغییرات فشار درون حفره های قلب را کاردیوگرافی و منحنی ثبت شده را کاردیوگرام می گویند. قلب در هر انقباض

فعالیت ۲-۶



سرعت طپش قلب خود را اندازه بگیرید

شما می توانید با لمس کردن محل نبض خود در مج دست، سرعت زنبش قلب خود را اندازه بگیرید.



محل احساس نبض

شکل ۸-۶

۱- روی صندلی یا نیمکت آرام بنشینید و کف یک دست خود را رو به بالا نگه دارید.
۲- با انگشت میانی دست دیگر محلی را که در شکل نشان داده شده است، به آرامی لمس کنید.

آیا حرکت نبض خود را احساس می کنید؟ اگر پاسخ منفی است مکان انگشت خود را کمی تغییر دهید تا هنگامی که نبض را احساس کنید.
۳- تعداد ضربان های نبض خود را که همیشه مساوی با ضربان های قلب تان است، به مدت یک دقیقه بشمارید.

۴- مرحله ۳ را چهار بار تکرار کنید و میانگین طپش قلب خود را در یک دقیقه به دست آورید. این عدد سرعت طپش قلب را در حال استراحت نشان می دهد.
۵- به مدت یک دقیقه بایستید.

۶- در حالی که هنوز ایستاده اید، ضربان های قلب خود را دو دقیقه، اندازه بگیرید. این کار را نیز پنج بار تکرار کنید و میانگین تعداد ضربان های قلب خود را در حالت ایستاده محاسبه کنید. بین دو عددی که به دست آورده اید چقدر تفاوت وجود دارد؟ فکر می کنید چرا این دو عدد متفاوت اند؟

سرخرگ‌ها با دیواره قابل ارتجاعی خود، بخشی از انرژی سیستول قلب را در دیواره خود ذخیره می‌کنند و در دیاستول به خون برمی‌گردانند و به این ترتیب پیوستگی خون در رگ‌ها را تأمین می‌کنند.

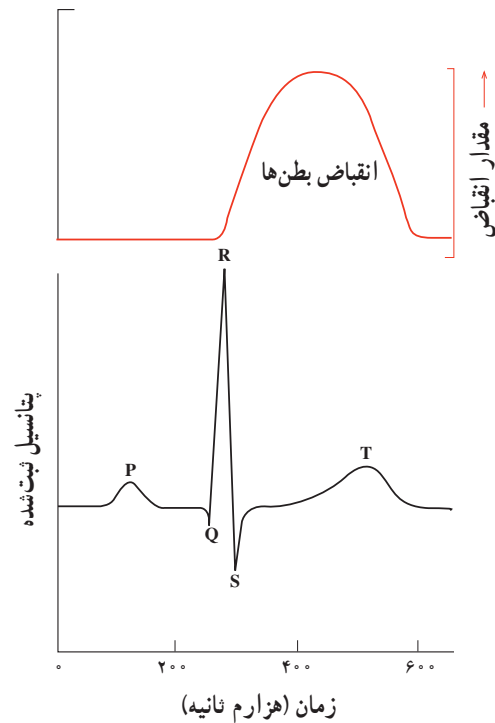
دیواره مویرگ‌ها فقط از یک ردیف سلول ساخته شده و باعث تبادلات بین خون و مایع بین‌سلولی می‌شود.

تعداد زیاد گلبول‌های قرمز و پروتئین‌های پلاسما از یک سو و کمی قطر رگ‌ها از سوی دیگر، نوعی مقاومت ایجاد می‌کنند و موجب می‌شوند که حرکت خون در رگ‌ها به فشار نسبتاً زیادی نیاز داشته باشد. سرعت سیر خون در وسط رگ‌ها بیش از کناره‌های آن است. سرعت متوسط خون در آئورت از رگ‌های دیگر بیشتر است.

توزیع خون در بافت‌ها: خون‌رسانی به بافت‌ها و کم و زیاد شدن آن با عوامل مختلف ارتباط دارد که قطر رگ‌ها و تعداد ضربان‌های قلب را تغییر می‌دهند. سرخرگ‌های کوچک در دیواره خود ماهیچه‌های صاف حلقوی فراوان دارند و مهم‌ترین نقش را در تغییر مقدار خون بافت‌ها به عهده دارند، زیرا ماهیچه‌های دیواره آنها بر اثر مواد شیمیایی و یا تحریک عصبی به سرعت به انقباض یا انبساط درمی‌آیند و قطر رگ را کم یا زیاد می‌کنند. اندام‌هایی که به طور طبیعی متابولیسم شدید دارند و یا به طور موقت فعال‌تر می‌شوند خون بیشتری را به سوی خود می‌کشند، زیرا تغییرات حاصل از متابولیسم، مانند کاهش اکسیژن و افزایش دی‌اکسیدکربن و گرما مستقیماً بر دیواره رگ‌ها اثر می‌کند و باعث گشاد شدن رگ‌ها می‌شود.

اما رگ‌های دیواره کیسه‌های هوایی شش‌ها در برابر کمبود اکسیژن تنگ می‌شوند. این سازگاری از ورود گازهای سمی به خون که ممکن است در هوای کم اکسیژن باشند، جلوگیری می‌کند. **فشار سرخرگی:** فشار خون در سرخرگ‌ها بین دو حد، یعنی حداکثر و حداقل، نوسان می‌کند و به علت خاصیت ارتجاعی دیواره آنها به صفر نمی‌رسد. فشار خون در مسیر گردش خون به تدریج پایین می‌آید. در انسان به علت وضعیت قائم بدن، فشار سرخرگی نسبتاً بالاست و خون‌رسانی به مغز را در حالت ایستاده تأمین می‌کند.

نوع بیماری استفاده می‌کنند. این تغییرات ممکن است در شکل منحنی، ارتفاع آن و یا زمان بخش‌های مختلف پدیدار شود. مثلاً بزرگ شدن قلب در مواردی، مانند فشار خون مزمن و تنگی دریچه‌ها باعث افزایش ارتفاع QRS و انفارکتوس قلب که ناشی از نرسیدن خون به میوکارد است، موجب کاهش این ارتفاع می‌شود و اگر تحریک ایجاد شده در گره سینوسی کندتر از حالت عادی به سوی بطن‌ها هدایت شود، فاصله زمانی P تا Q از حد طبیعی خود بیشتر می‌شود. بی‌نظمی‌های زنش قلب نیز روی منحنی‌های الکتروکاردیوگرام نمایان می‌شوند (شکل ۹-۶).



شکل ۹-۶ الکتروکاردیوگرام و ارتباط آن با انقباض بطن‌ها

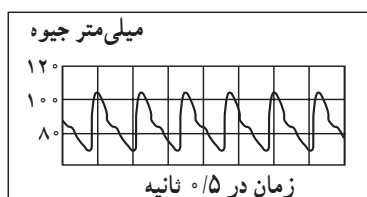
گردش خون در رگ‌ها: در هر دو مسیر گردش بزرگ و گردش کوچک، رگ‌ها شامل سرخرگ‌های بزرگ، سرخرگ‌های کوچک، مویرگ‌ها، سیاهرگ‌های کوچک و سیاهرگ‌های بزرگ است. بیشترین مقدار خون در سیاهرگ‌هاست. سیاهرگ‌ها با داشتن قطر زیاد و مقاومت کم دیواره خود، می‌توانند حجم زیادی خون را در خود جای دهند.

- ۱- منظور از دستگاه گردش خون ساده و مضاعف چیست؟ در هر مورد یک مثال ذکر کنید.
- ۲- خونی که از بخش‌های پایین بدن به طرف قلب می‌رود چه مسیرهایی را طی می‌کند تا به بافت مغز برسد؟
- ۳- لایه‌های مختلف دیواره قلب را نام ببرید. مهم‌ترین ویژگی ماهیچه قلب چیست؟
- ۴- نقش بافت هادی را در تولید و هدایت پیام الکتریکی قلب، شرح دهید.
- ۵- در هنگام دیاستول و سیستول چه دریچه‌هایی باز و چه دریچه‌هایی بسته هستند؟ هر یک از صداهای قلب مربوط به بسته شدن چه دریچه‌ای است؟
- ۶- براساس مثالی که در کتاب برای مدت‌زمان هر یک از مراحل ضربان قلب شرح داده شده است، قلب در هر دقیقه چند ضربان خواهد داشت؟ اگر حجم ضربه‌ای ۶۵ میلی‌لیتر باشد، برون‌ده قلب چقدر خواهد بود؟
- ۷- یک منحنی الکتروکاردیوگرام را رسم کنید. هر یک از مراحل آن را مختصراً توضیح دهید.

فعالیت ۳-۶



- ۱- فشار خون یک شخص را می‌توان با قراردادن دستگاه الکترونیکی حساس به فشار، درون یکی از سرخرگ‌ها به‌طور دائم اندازه گرفت. نمودار زیر تغییرات فشار خون شخصی را که به ترتیب فوق به‌دست آمده است، نشان می‌دهد:



شکل ۱۰-۶

- الف - فکر می‌کنید چرا فشار خون مرتب بالا و پایین می‌رود؟
- ب - چه عواملی ممکن است باعث افزایش تعداد این امواج در واحد زمان بشوند؟
- ۲- برای هر کدام از موارد زیر، حداقل یک دلیل ذکر کنید:
 - الف - دیواره بطن چپ بزرگ‌تر از دیواره بطن راست است.
 - ب - لایه ماهیچه‌ای موجود در دیواره سرخرگ‌ها ضخیم‌تر از لایه ماهیچه‌ای دیواره سیاهرگ‌هاست.
 - ج - دیواره مویرگ‌ها بسیار نازک است.
 - د - در سیاهرگ‌ها دریچه‌هایی وجود دارد.
- ۳- آزمایشی طراحی کنید که نشان دهد دیواره سرخرگ‌ها و سیاهرگ‌ها از نظر خاصیت کشسانی یکسان نیستند.
- ۴- سرعت متوسط خون در سرخرگ‌ها در حدود ۳۵ سانتی‌متر در ثانیه است، اما این سرعت در مویرگ‌ها ۵/۰ میلی‌متر در ثانیه است:

الف - سرعت حرکت خون در سرخرگ‌ها چند برابر سرعت حرکت خون در مویرگ‌هاست؟

ب - این تفاوت به چه علت است؟

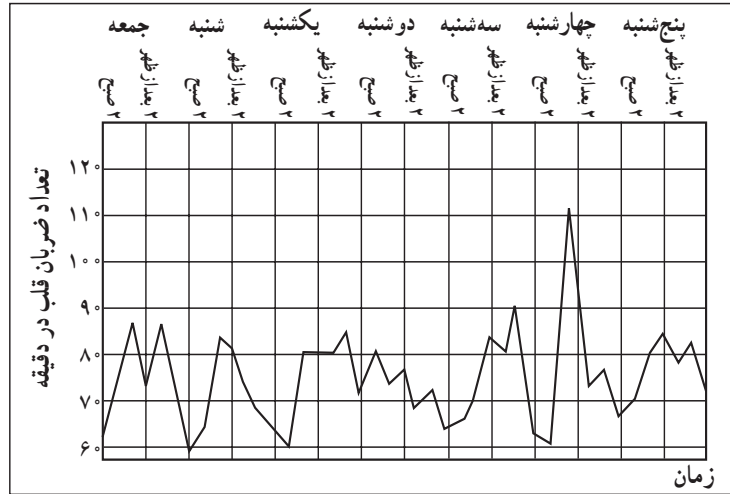
ج - چرا لازم است سرعت حرکت خون در مویرگ‌ها، به نسبت آهسته باشد؟

۵ - نمودار صفحه بعد تعداد ضربان‌های قلب یک بیمار را که هر ۴ ساعت یک‌بار اندازه‌گیری شده است، نشان می‌دهد.

الف - آیا می‌توانید تغییراتی تناوبی در تپش‌های قلب این بیمار ببینید؟ اگر پاسخ مثبت است، آن‌را توصیف کنید.

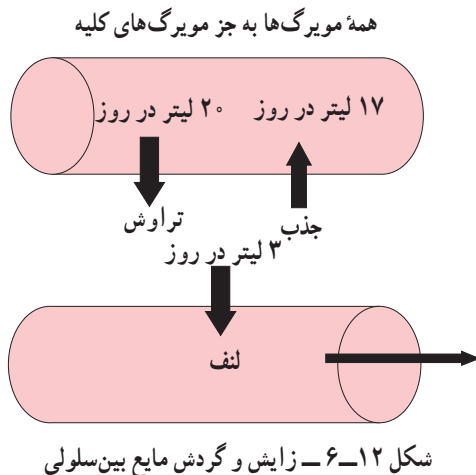
ب - آیا روش رسم نمودار برای نشان‌دادن حرکات قلب این بیمار را مناسب می‌دانید؟ پاسخ خود را شرح دهید.

ج - بیشترین و کمترین زنش های قلب چه هنگامی انجام شده اند؟
 د - چند دلیل برای ایجاد این بیشترین و کمترین زنش ها ذکر کنید.

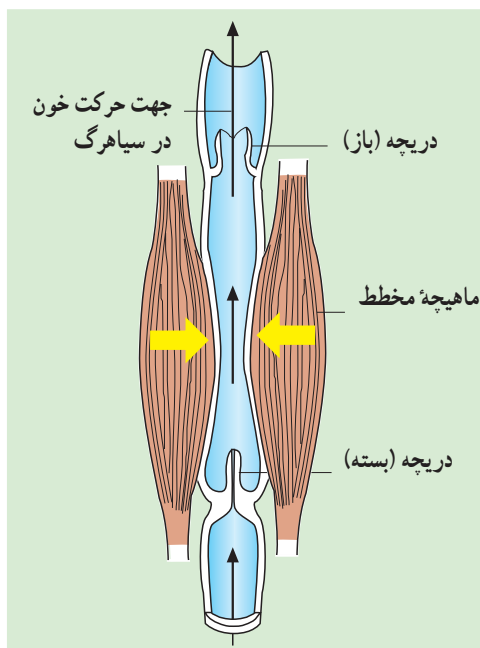


شکل ۱۱-۶

است. به همین جهت مقدار زیادی از ترکیبات پلاسما در ابتدای مویرگ ها به فضاهای بین سلولی می رود، ولی در حدود ۹۰ درصد حجم این مایع در انتهای مویرگ ها دوباره به درون خون برمی گردد و ۱۰ درصد باقی مانده به وسیله رگ های لنفی به گردش سیاهرگی بازگردانده می شود (شکل ۱۲-۶). کمبود پروتئین در خون، افزایش فشار درون سیاهرگ ها، بسته شدن رگ های لنفی، آسیب دیواره مویرگ ها و افزایش سدیم بدن از عوامل ایجاد خیز است. مویرگ های مغز نسبت به سایر مویرگ ها نفوذپذیری کمتری دارند و دیواره آنها از ورود بسیاری از مواد موجود در خون به مغز جلوگیری می کند.



گردش خون در مویرگ ها: مویرگ ها تبادل مواد بین خون و مایع میان بافتی را تأمین می کنند. دیواره مویرگ ها از یک ردیف سلول ساخته شده و نفوذپذیری آن زیاد است. در ابتدای هر مویرگ یک ماهیچه صاف حلقوی وجود دارد که به صورت یک دریچه عمل می کند و با انقباض و انبساط خود، دهانه مویرگ را بسته یا باز می کند. به این ترتیب در هر لحظه در اغلب بافت ها، فقط تعدادی از مویرگ ها باز هستند. اغلب مویرگ ها در دیواره خود منافذ زیادی دارند که باعث افزایش نفوذپذیری آنها می شود. از این منافذ علاوه بر آب و گازهای تنفسی مواد غذایی ساده و مولکول های ریز عبور می کنند، ولی گلبول های قرمز و پروتئین های درشت نمی گذرند. در تولید گردش و بازگشت مایع بین سلولی فشار تراوشی و تفاوت فشار اسمزی شرکت دارند و با یکدیگر مقابله می کنند. فشار تراوش نتیجه فشار خون است که در جهت بیرون راندن مواد از مویرگ اثر می کند. تفاوت فشار اسمزی بین پلاسما درون مویرگ و مایع بین سلولی در جهت عکس عمل می کند، زیرا فشار اسمزی پروتئین های پلاسما بیش از فشار اسمزی پروتئین های مایع میان بافتی است. در ابتدای مویرگ ها فشار تراوش بیش از فشار اسمزی است، در حالی که در انتهای مویرگ ها فشار اسمزی بیشتر



شکل ۱۳-۶ - حرکت خون در سیاهرگ‌ها

گردش خون در سیاهرگ‌ها: سیاهرگ‌ها بیشترین مقدار خون را در خود جا داده‌اند. قطر سیاهرگ‌ها بیشتر از سرخرگ‌ها و دیواره آنها کم مقاومت است. باقی مانده فشار سرخرگی باعث ادامه جریان خون در سیاهرگ‌ها می‌شود. علاوه بر آن فشار منفی (مکش) قفسه سینه که به سیاهرگ‌های این ناحیه منتقل می‌شود و فشاری که بر اثر پایین آمدن پرده دیافراگم در هنگام دم بر شکم وارد می‌شود و به خصوص حرکات موزون ماهیچه‌ها که به سیاهرگ‌های مجاور خود اثر می‌گذارند، کمک مؤثری به جریان خون در سیاهرگ‌ها می‌کند. وجود دریچه‌های سیاهرگی یک طرفی در اغلب سیاهرگ‌ها که به سوی قلب باز می‌شوند نیز بازگشت خون به قلب را تسهیل می‌کند و در موقع ایستادن اثر نامساعد نیروی گرانش زمین را بر گردش خون در سیاهرگ‌ها کاهش می‌دهد (شکل ۱۳-۶).

بیشتر بدانید

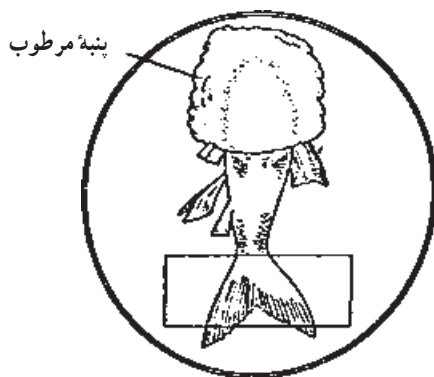
قلب در فضا

گرانش ناچیز و یا صفر در فضا، بر کار قلب تأثیر می‌گذارد. در حالت معمول، حدود ۳۰٪ از حجم خون در سیاهرگ‌های پاها وجود دارد. با حذف اثر گرانش، این خون در اندام‌های فوقانی تجمع می‌یابد. افزایش حجم مایعات در این اندام‌ها، سبب ارسال پیامی به مغز می‌شود که نتیجه آن کم شدن حس تشنگی، افزایش دفع مایعات از بدن و سرانجام کاهش حجم خون در فضانوردان است. کاهش حجم خون به کاهش کار قلب و در نتیجه چروکیدگی عضله قلبی می‌انجامد. بنابراین فضانوردان برای ممانعت از این اثرات منفی، باید روزانه تمرین‌هایی را با استفاده از وسایل مخصوصی انجام دهند تا خون بیشتری وارد پاهایشان شود.

۶-۴ فعالیت



مشاهده گردش خون ماهی



شکل ۱۴-۶ - طرز استفاده از باله دمی ماهی برای مشاهده جریان خون در رگ‌ها

بدن یک ماهی کوچک را مطابق شکل ۱۴-۶ در پنبه مرطوب بپیچید به طوری که فقط باله دمی آن بیرون باشد. ماهی را در ظرف پتری که اندکی آب دارد قرار دهید، روی باله دمی یک لام بگذارید تا آن را گسترده نگهدارد. حال آن قسمت از ظرف پتری را که حاوی باله و لام است در زیر میکروسکوپ قرار دهید و ابتدا با بزرگ‌نمایی کم و سپس با بزرگ‌نمایی متوسط آن را مشاهده کنید. در صورتی که ماهی به حد کافی کوچک باشد می‌توانید آن را روی لام مرطوب ببندید و باله دمی آزاد آن را در زیر میکروسکوپ ببینید.

گزارشی از آنچه مشاهده می‌کنید به معلم خود ارائه دهید.

روش های تشخیص بیماری های قلب و رگ ها

آزمون ورزش: یکی از راه های بررسی عملکرد قلب آزمون ورزش است. در این روش فعالیت راه رفتن و یا دویدن بر روی یک نقاله متحرک، شبیه سازی می شود. فشارخون و نوار قلب فرد را در این حالت اندازه گیری و ثبت می کنند. پزشک متخصص با بررسی و تفسیر نتایج به وجود تنگی در رگ های کرونری قلب پی می برد و یا انجام روش های دیگر را توصیه می کند. ثبت فعالیت های دستگاه گردش خون در یک دوره زمانی: متخصصان با متصل کردن دستگاه های الکترونیکی ویژه ای به بدن فرد، فشارخون و فعالیت الکتریکی قلب او را در مدت ۲۴ تا ۴۸ ساعت تحت نظر قرار می دهند. در این حالت فرد فعالیت های معمول خود را انجام می دهد. پزشکان با بررسی نمودارهای حاصل به چگونگی کار قلب و رگ ها در شرایط مختلف پی می برند.

آنژیوگرافی (رگ نگاری): تصویربرداری از رگ های اندام های مختلف بدن با استفاده از پرتو ایکس، آنژیوگرافی نام دارد. در این روش در قسمتی از سطح بدن که یک سرخرگ زیر آن قرار دارد، شکافی ایجاد و لوله ای را به درون سرخرگ وارد و به سوی رگ مورد نظر هدایت می کنند. سپس از طریق لوله، ماده جذب کننده پرتو ایکس را به درون رگ تزریق و با تاباندن این پرتو از رگ تصویربرداری می کنند. یکی از کاربردهای این روش بررسی وجود تنگی در رگ های کرونری قلب است. پس از آن برای برطرف کردن تنگی، درون رگ بسته شده، یک بادکنک کوچک قرار می دهند و آن را باد می کنند و چند ثانیه در این حالت نگاه می دارند تا رگ باز شود. گاهی هم لازم است با قرار دادن یک لوله مشبک فنی از بسته شدن دوباره رگ جلوگیری کنند.

اسکن قلب: این روش برای تشخیص خون رسانی سرخرگ های کرونری قلب در دو حالت همراه با آزمون ورزش و استراحت انجام می شود. در مرحله نخست فرد مدتی بر روی نقاله متحرک حرکت می کند، سپس یک رادیودارو به یکی از سیاهرگ های او تزریق می شود. پس از آن یک دستگاه آشکارساز پرتوهای حاصل از رادیوداروی موجود در بدن بیمار را به الکتروسیسته تبدیل و آنها را به صورت تصاویر رنگی ثبت می کند. در مرحله دوم بدون انجام ورزش به بیمار رادیودارو و تزریق و تصویربرداری انجام می شود. تصاویرهای حاصل از هر دو مرحله را متخصص پزشکی هسته ای و گزارش آزمون ورزش را نیز متخصص قلب و عروق تفسیر می کند. در این روش بخش های آسیب دیده قلب و تنگی موجود در رگ های آن مشخص می شوند.

خودآزمایی ۳-۶

- ۱- توزیع خون در بافت ها چگونه کنترل می شود، چه عواملی باعث گشاد شدن رگ های بافت ها می شوند؟
- ۲- تغییرات فشار خون در سرخرگ های گردش بزرگ و گردش ششی، چگونه است؟
- ۳- چه نوع سازگاری هایی بین ساختار دیواره سرخرگ ها و سیاهرگ ها و نقش هریک دیده می شود؟
- ۴- چه نیروهایی در تبادل مواد بین مویرگ ها و بافت ها دخالت دارند. نقش هریک در مبادله مواد چیست؟
- ۵- چه عواملی در بازگشت خون از سیاهرگ ها به قلب مؤثرند؟

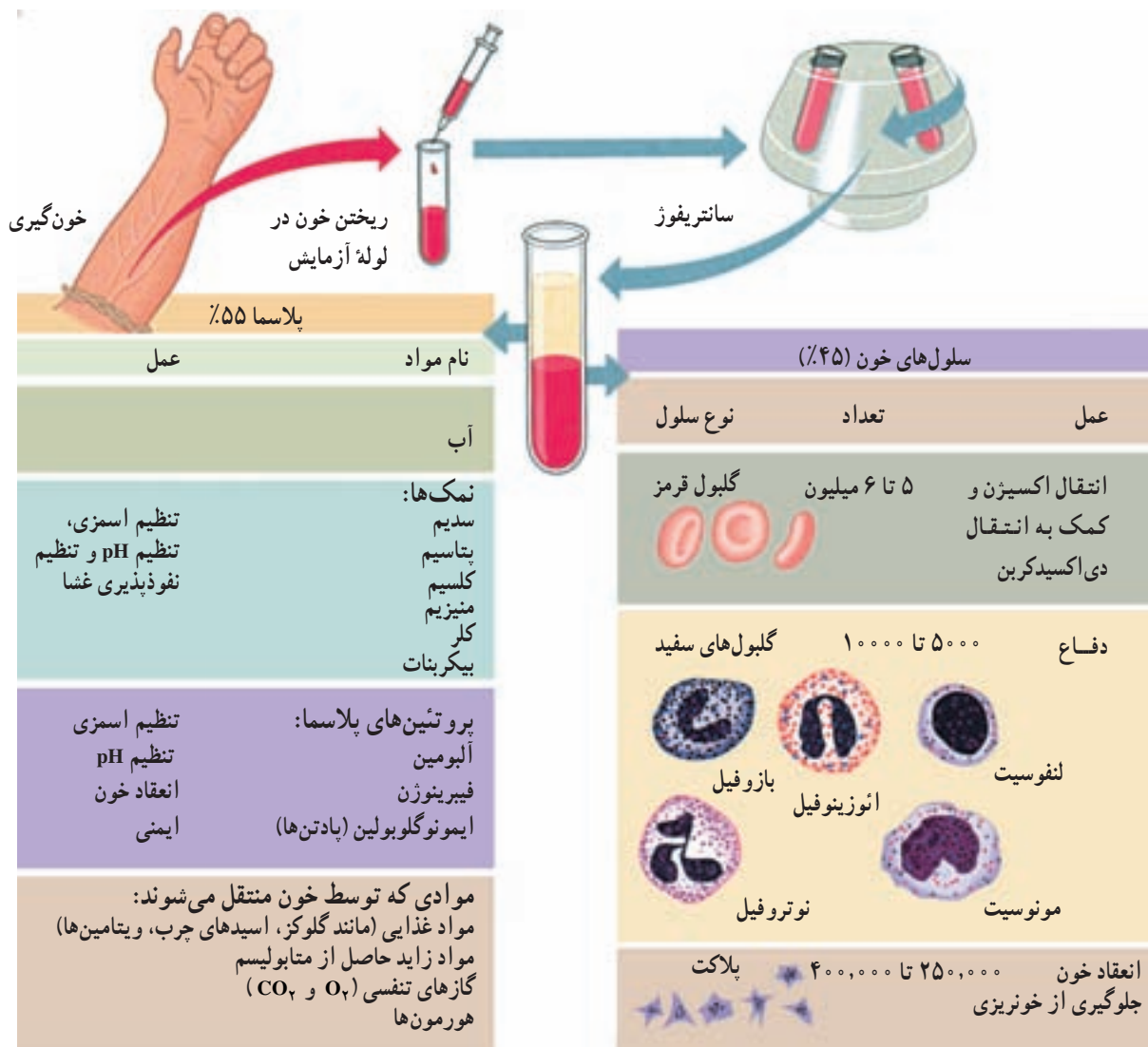
بدن و یکسان کردن دما در نواحی مختلف بدن کمک می کند. خون با عمل گلبول های سفید در ایمنی بدن و دفاع در برابر عوامل خارجی نقش اساسی دارد. در جانورانی که گردش خون بسته دارند، خون فقط با آن

خون مایعی است که درون رگ ها حرکت می کند
خون ارتباط شیمیایی بین سلول های بدن را امکان پذیر می سازد. حرکت خون در بدن علاوه بر انتقال مواد غذایی، اکسیژن و دی اکسید کربن، هورمون ها و مواد دیگر، به تنظیم دمای

این مایع همولنف نام دارد و نقش خون، مایع میان بافتی و لنف را داراست. در خون گلبول‌های قرمز، گلبول‌های سفید و پلاکت‌ها (گرده‌ها) در یک محیط مایع به نام پلاسما شناورند. در انسان بالغ خون در حدود ۸ درصد کل وزن بدن را تشکیل می‌دهد. ۵۵ درصد حجم خون را پلاسما و ۴۵ درصد آن را سلول‌های خونی تشکیل می‌دهند. نسبت حجم سلول‌ها به حجم خون هماتوکریت نام دارد که به درصد بیان می‌شود (شکل ۱۵-۶).

دسته از سلول‌هایی که در دیواره داخلی قلب و رگ‌ها قرار دارند، تماس مستقیم دارد. در این جانوران بخشی از پلاسما خون از دیواره مویرگ‌ها به فضاهای بین سلول‌ها نفوذ می‌کند و مایع میان بافتی را می‌سازد. این مایع پس از تغذیه سلول‌ها به وسیله رگ‌های لنفی جمع‌آوری و به سیاهرگ‌ها بازگردانده می‌شود. در جانورانی که گردش خون باز دارند در بین سرخرگ‌ها و سیاهرگ‌ها شبکه مویرگی کامل وجود ندارد و خون مستقیماً به فضای بین سلول‌های بدن وارد می‌شود و در مجاورت سلول‌ها جریان می‌یابد.

بیشتر بدانید



شکل ۱۵-۶- اجزای خون

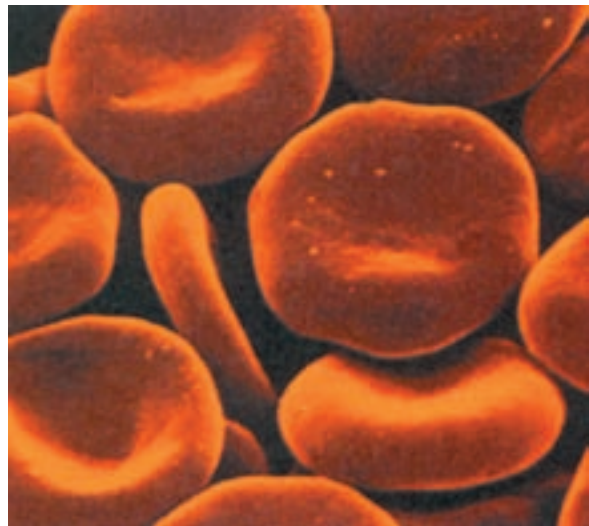
به بعد گلبول‌سازی فقط در مغز استخوان‌های پهن و بخش کوچکی از استخوان‌های دراز که به تنه متصل هستند، ادامه می‌یابد. عامل تنظیم‌کننده تولید گلبول‌های قرمز ماده‌ای به نام اریتروپویتین است که بر اثر کاهش اکسیژن‌رسانی به بافت‌ها از کلیه‌ها و کبد ترشح می‌شود و بر سلول‌های زاینده مغز استخوان اثر می‌کند و تولید گلبول‌های قرمز را افزایش می‌دهد. برای تولید گلبول‌های قرمز وجود ویتامین B_{۱۲} و اسید فولیک ضرورت دارد. همان‌طور که می‌دانید، با توجه به این که سلول‌های دیواره معده با ترشح گلیکوپروتئینی (پروتئین + کربوهیدرات) به نام فاکتور داخلی معده از تخریب ویتامین B_{۱۲} به وسیله آنزیم‌های معده جلوگیری می‌کند، آسیب مخاط معده باعث کم‌خونی وخیم می‌شود.

هموگلوبین پروتئین آهن‌داری است. در بدن فرد بالغ و سالم در حدود ۴ گرم آهن وجود دارد که بخش اصلی آن در هموگلوبین گلبول‌های قرمز و نیز در میوگلوبین ماهیچه‌هاست. کمبود آهن بدن باعث کوچک شدن گلبول‌های قرمز و کاهش هموگلوبین آنها می‌شود. هر مولکول هموگلوبین دارای یک بخش پروتئینی به نام گلوبین و یک بخش آهن‌دار به نام هم است.

مرگ گلبول‌های قرمز: عمر گلبول‌های قرمز پس از ورود به خون در حدود ۱۲۰ روز است. با افزایش سن آنها، از مقدار آنزیم‌های آنها کم و غشا شکننده می‌گردد. این گلبول‌ها در موقع عبور از مویرگ‌های باریک کبد و طحال آسیب می‌بینند و از بین می‌روند. هموگلوبین آزاد شده، به وسیله ماکروفاژها تجزیه می‌شود و آهن آن بار دیگر به مغز استخوان انتقال می‌یابد و برای ساخته شدن گلبول‌های جدید به کار می‌رود. گلوبین نیز وارد چرخه‌های متابولیک پروتئین‌ها می‌شود. بیلی‌روبین که ماده اصلی رنگی صفراست، به وسیله ماکروفاژها از تجزیه هموگلوبین به وجود می‌آید.

کاهش تعداد گلبول‌های قرمز و نیز کاهش مقدار هموگلوبین گلبول‌ها را آنمی، و به افزایش آنها پلی‌سیتمی می‌گویند. از دست دادن خون و کمبود آهن از علل مهم آنمی و کم‌رسیدن اکسیژن به بافت‌ها و یا پرکاری غیرطبیعی مغز استخوان علت اصلی پلی‌سیتمی است.

گلبول‌های قرمز (اریتروسیت‌ها): این سلول‌ها که در انسان و بسیاری دیگر از جانوران بدون هسته هستند، تقریباً همه اجزای سلولی خود را از دست داده‌اند و از ماده‌ای به نام هموگلوبین پر شده‌اند. در دو طرف مقعر هستند (شکل ۱۶-۶). شکل خاص گلبول‌های قرمز موجب می‌شود تا این سلول‌ها بتوانند تغییر شکل دهند و از مویرگ‌های باریکی که در برخی نواحی بدن از اندازه گلبول‌ها نیز کوچک‌تر هستند، عبور کنند. البته برخی از گلبول‌های پیر در عبور از این رگ‌ها، آسیب می‌بینند و از بین می‌روند. در ارتفاعات که فشار اکسیژن هوا کمتر است بر تعداد گلبول‌های قرمز خون افزوده می‌شود. گلبول‌های قرمز به وسیله هموگلوبین خود اکسیژن خون را حمل و بخش می‌کنند و نقش مختصری نیز در جابه‌جایی دی‌اکسیدکربن دارند. گلبول‌های قرمز علاوه بر آن با دارا بودن مقدار زیادی آنزیم انیدراز کربنیک (فصل ۵) در غشای خود به ترکیب آب و دی‌اکسیدکربن کمک می‌کنند و با این عمل خود در جابه‌جایی و دفع دی‌اکسیدکربن نیز نقش بسیار مهم دارند.



شکل ۱۶-۶ - گلبول‌های قرمز

زایش گلبول‌های قرمز: در دوره جنینی گلبول‌های قرمز ابتدا در کیسه زرده و سپس در کبد، طحال، گره‌های لنفی و مغز استخوان ساخته می‌شوند. مغز استخوان‌های دراز و پهن همچنان به تولید گویچه‌های قرمز ادامه می‌دهند و از حدود ۵ سالگی

- ۱- در هر میلی متر مکعب خون، به طور متوسط پنج میلیون گلبول قرمز وجود دارد. سطح هر گلبول قرمز 120 میکرومتر مربع و حجم خون انسان به طور متوسط 5 لیتر است :
 - الف - در خون انسان حدوداً چند گلبول قرمز وجود دارد؟
 - ب - مجموع سطوح گلبول های قرمز خون یک انسان چند مترمربع است؟
 - ج - وجود این سطح از گلبول قرمز، چه مزیتی دارد؟
- ۲- چرا از دست دادن بیش از دو لیتر خون خطرناک است؟
- ۳- پژوهشگری تعداد متوسط گلبول های قرمز افرادی را که در ارتفاع 5860 متری از سطح دریا زندگی می کنند و نیز تعداد متوسط گلبول های قرمز خون افرادی را که در کنار دریا زندگی می کنند، اندازه گرفته است :

در سطح دریا	۵ میلیون در هر میلی متر مکعب
در ارتفاع 5860 متری سطح دریا	$7/4$ میلیون در هر میلی متر مکعب

فکر می کنید دلیل این تفاوت چیست؟

اُتوزینوفیل ها از نظر ظاهری به نوتروفیل ها شباهت دارند ولی قدرت آندوسیتوز (فصل ۲) آنها کمتر است. اُتوزینوفیل ها در عفونت های انگلی افزایش می یابند و با ترشح موادی می توانند بسیاری از انگل ها را نابود سازند. در حساسیت ها (آلرژی ها) نیز تعداد اُتوزینوفیل ها زیاد می شود. بازوفیل ها در ترشح هیپارین که یک ماده ضد انعقاد خون است و هیستامین که گشاد کننده رگ هاست دخالت دارند.

مونوسیت ها به همراه نوتروفیل ها با حمله به باکتری ها، ویروس ها و سایر ذرات خارجی که به بدن وارد شده اند، آنها را از بین می برند. مونوسیت ها پس از خروج از خون و ورود به بافت های بدن به صورت سلول های درشتی به قطر 80 میکرون به نام ماکروفاژ درمی آیند و با داشتن لیزوزوم های فراوان در مبارزه با عوامل بیماری زا نقش مهمی دارند. مونوسیت ها و نوتروفیل ها دارای حرکات آمیبی شکل هستند و به کمک پدیده ای به نام دیپدز از منافذ رگ های خونی عبور می کنند.

گلبول های سفید: این سلول ها در مغز قرمز استخوان

ساخته می شوند و به تعداد تقریبی 7000 در هر میلی متر مکعب خون سیستم دفاعی بدن را می سازند. گلبول های سفید به دو نوع اصلی گرانولوسیت و آگرانولوسیت تقسیم می شوند. گرانولوسیت ها خود شامل سه گروه : نوتروفیل، اُتوزینوفیل و بازوفیل هستند. آگرانولوسیت ها به دو گروه لنفوسیت و مونوسیت تقسیم می شوند. طول عمر گلبول های سفید به جز مونوسیت هایی که در بافت ها به ماکروفاژ تبدیل می شوند و می توانند تا بیش از یک سال زنده بمانند، از چند ساعت تا چند هفته بیشتر نیست. مهم ترین اعمال گلبول های سفید به شرح زیر است : نوتروفیل ها سلول هایی هستند که تحرک زیاد دارند. این سلول ها با خاصیت تاکتیک شیمیایی به سوی ذرات خارجی یا بافت های در حال تخریب کشیده می شوند و با پدیده فاگوسیتوز موجب از بین رفتن آنها می شوند.



بازوفیل

نوتروفیل

مونوسیت

اُتوزینوفیل

لنفوسیت

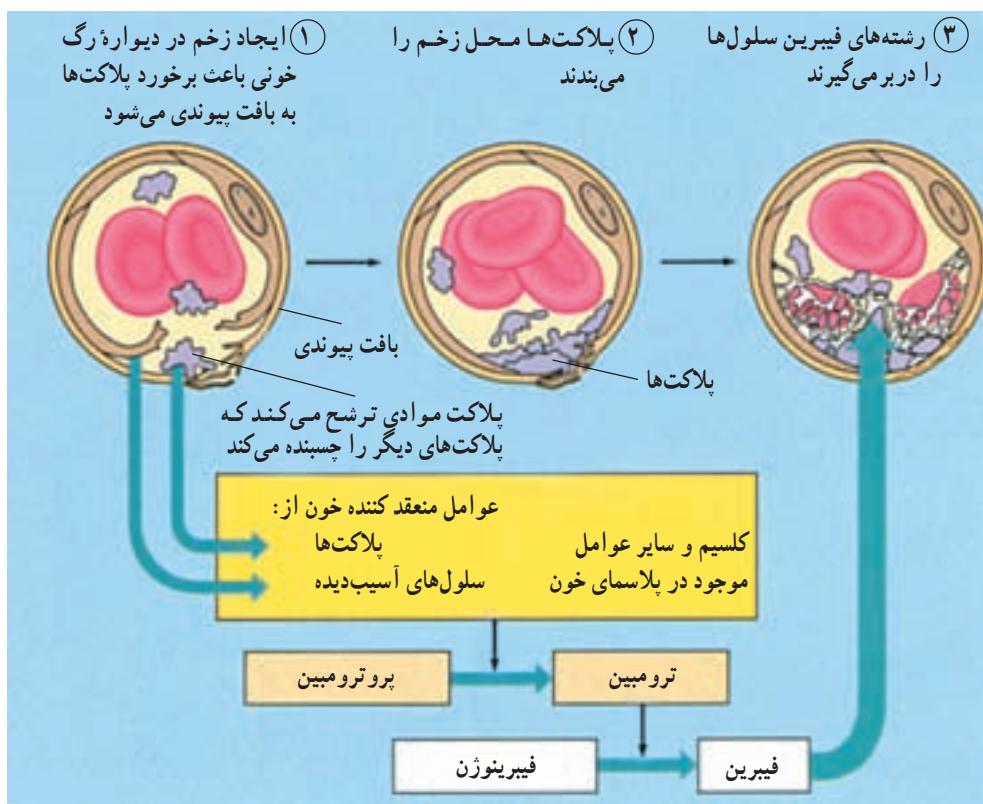
شکل ۱۷-۶- انواع گلبول های سفید خون

انعقاد خون: اگر یک رگ خونی پاره شود، برای جلوگیری از خونریزی تغییراتی در محل زخم رخ می‌دهد که اگر پارگی رگ زیاد نباشد، به بسته شدن آن منجر می‌شود. پلاکت‌ها در این واکنش‌ها نقش اساسی دارند.

انقباض ماهیچه‌های صاف دیواره رگ در محل بریدگی و آماس و به هم چسبیدن پلاکت‌ها و بالاخره لخته شدن خون مانع خونریزی می‌شود. در روند انعقاد، فیبرینوژن محلول در پلاسما، تحت تأثیر ماده‌ای به نام ترومبین به رشته‌های فیبرین تبدیل می‌شود و فیبرین گلبول‌های خون را با خود جمع می‌کند و لخته را می‌سازد. ترومبین از شکسته شدن یکی از پروتئین‌های پلاسما به نام پروترومبین به وجود می‌آید. این عمل تحت تأثیر ماده‌ای به نام ترومبوپلاستین صورت می‌گیرد که از بافت‌های آسیب‌دیده جدار رگ‌ها، یا از پلاکت‌ها آزاد می‌شود. وجود ویتامین K و کلسیم برای انجام روند انعقاد خون لازم است.

گروه‌های خونی: در سال گذشته با چهار گروه خون اصلی به نام‌های A و B و AB و O آشنا شدید و دیدید که نوع گروه خونی بستگی به نوع آنتی‌ژن موجود در غشاء گلبول قرمز دارد. علاوه بر آنتی‌ژن A و B گلبول‌های قرمز اکثر افراد دارای آنتی‌ژن دیگری به نام Rh نیز هستند.

آنتی‌ژن رزوس (Rh): به افرادی که آنتی‌ژن Rh دارند، Rh⁺ و به کسانی که فاقد آن هستند Rh⁻ می‌گویند. اگر خون Rh⁺ را به فرد Rh⁻ تزریق کنند، پادتن ضد Rh در خون او ساخته می‌شود به طوری که اگر چنین تزریقی تکرار شود، واکنش شدیدی در بدن میزبان پدید می‌آید. در بارداری‌هایی که Rh خون مادر منفی و Rh خون جنین مثبت باشد، به علت ورود مقداری آنتی‌ژن‌های Rh از خون جنین به خون مادر، پادتن‌های ضد Rh در بدن مادر به وجود آمده از جفت عبور می‌کنند و موجب آگلوتینه شدن خون جنین می‌شوند. این واکنش از حاملگی‌های دوم به بعد ظاهر می‌شود.



شکل ۱۸-۶- مراحل انعقاد خون

خودآزمایی ۴-۶

- ۱- مهم‌ترین اعمال خون را نام ببرید.
- ۲- نقش پروتئین‌های خون، گلبول‌های قرمز و هریک از گلبول‌های سفید و پلاکت‌ها را در جریان خون مختصراً توضیح دهید.
- ۳- هریک از موارد زیر در تولید گلبول قرمز چه نقشی را به عهده دارند؟ مغز قرمز استخوان، اریتروپویتین، فاکتور داخلی، آهن
- ۴- با رسم شکل مراحل انعقاد خون را تشریح کنید.

دارند، به گردش درمی‌آید و در این حالت مایع میان بافتی نامیده می‌شود. پروتئین‌ها و گلبول‌های خون از مویرگ خارج نمی‌شوند. بخشی از مایع میان بافتی پس از تبادل مواد با سلول‌ها بار دیگر به مویرگ‌ها باز می‌گردد؛ اما بخشی از آن به رگ‌های باریکی که مویرگ لنفی نامیده می‌شوند، وارد می‌شود. مایع مذکور هنگامی که درون دستگاه لنفی در جریان است، لنف نامیده می‌شود. لنف مایعی بی‌رنگ است.

دستگاه لنفی به گردش خون و نیز به ایمنی بدن کمک می‌کند
گاهی ممکن است پزشک زیر چانه و گردن ما را برای پیدا کردن «غده‌ها» لمس کرده باشد. متورم بودن این گره‌ها، علامت بیماری است. کار این گره‌ها چیست؟ برای یافتن پاسخ این پرسش، لازم است دستگاه گردش خون را بار دیگر مرور کنیم.
هنگامی که خون درون مویرگ‌ها حرکت می‌کند، مایعی از میان دیواره مویرگ‌ها به خارج آنها نشت می‌کند. این مایع که از پلاسما منشأ می‌گیرد، در بافت‌هایی که در مجاورت آن مویرگ قرار

فعالیت ۶-۶



- ۱- شخصی دندان درد گرفته است، اما پس از مدتی گره لنفی زیر گلوئی او متورم و دردناک شده است. علت آن چیست؟
- ۲- چرا وجود گره‌های لنفی فراوان در گلو و گردن لازم است؟

خودآزمایی ۵-۶

- ۱- مایع میان بافتی و لنف چگونه به وجود می‌آیند؟ تفاوت آنها با پلاسما در چیست؟
- ۲- نقش گره لنفی چیست؟ چند نوع گره لنفی نام ببرید.



شکل ۱۹-۶- بخشی از دستگاه لنفی در سر و گردن

ریشه‌ها گیاه را در خاک ثابت نگه می‌دارند، اما نقش مهم‌تر آنها جذب آب و یون‌های معدنی محلول از خاک است. در نزدیکی رأس ریشه، تارهای کشنده از لایه خارجی، یعنی روپوست (فصل ۳) ایجاد می‌شوند. تارهای کشنده فقط در منطقه کوچکی از ریشه، قابل مشاهده هستند. این تارها در اصل سلول‌های روپوستی طولیل شده‌ای هستند (شکل ۲۰-۶) که سطح وسیعی را برای جذب آب فراهم می‌کنند.

رگ‌های لنفی در همه جای بدن حضور دارند و شبکه‌ای به نام دستگاه لنفی تشکیل می‌دهند. لنف سرانجام به یکی از سیاهرگ‌های بدن می‌ریزد و به این طریق دوباره به خون باز می‌گردد. دریچه‌هایی که در رگ‌های لنفی قرار دارند، از بازگشت مایع درون آنها جلوگیری می‌کنند.

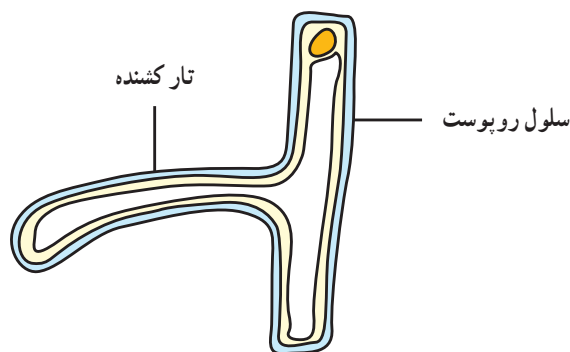
در مسیر رگ‌های لنفی برآمدگی‌هایی به نام گره لنفی وجود دارد. این گره‌ها اسفنجی هستند. لنف در میان حفره‌ها و مجاری اسفنج مانند این گره‌ها حرکت می‌کند و میکروب‌ها و ذرات درشت خود را در آن جا بر جای می‌گذارد. ماکروفاژها در این گره‌ها حضور دارند و با میکروب‌ها مبارزه می‌کنند.

فرض کنید اگر جایی در دهان شما دچار عفونت شده است، میکروب‌هایی که از طریق این عفونت به بدن شما راه پیدا کرده‌اند، در گره‌های لنفی گردن و زیر چانه به دام می‌افتند و مبارزه‌ای که در آن جا بین بدن و این باکتری‌ها درمی‌گیرد، باعث تورم این گره‌ها می‌شود. یزشک با لمس این گره‌ها از وضعیت آنها آگاه می‌شود و به بیمار بودن یا نبودن ما پی می‌برد. شایان ذکر است که این گره‌ها «غده» نیستند، چون ماده‌ای از خود به بیرون ترشح نمی‌کنند؛ اما در زبان عامیانه به آنها «غده» گفته می‌شود.

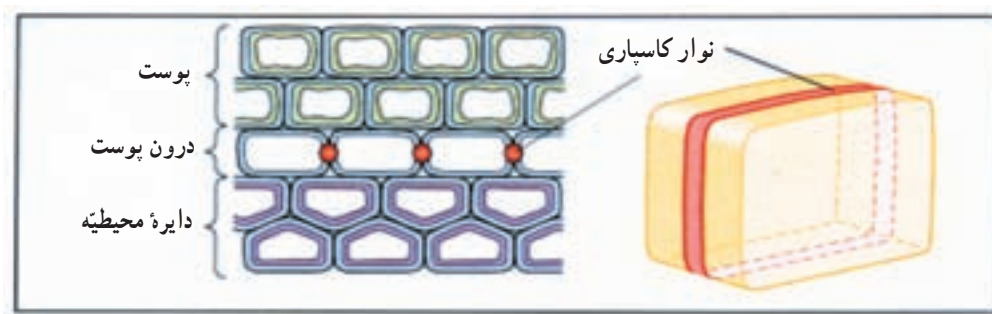
در اطراف گردن، زیر بغل و کشاله ران تعداد زیادی گره لنفی وجود دارد. لوزه‌ها نیز ساختار لنفی دارند.

انتقال مواد در گیاهان

نقش اصلی ریشه‌ها جذب آب و مواد معدنی است.



شکل ۲۰-۶- یک سلول تار کشنده



شکل ۲۱-۶- ساختار سلول‌های درون بوست

جذب آب

گیاهان برای فتوسنتز و نیز به منظور حفظ شادابی (آماس) سلولی به آب نیاز دارند. به منظور ترابری نمک‌های معدنی و مواد محلول آلی نیز آب مورد نیاز است. ریشه‌ها آب مورد نیاز بقیه بخش‌های گیاه را جذب می‌کنند.

اسمز

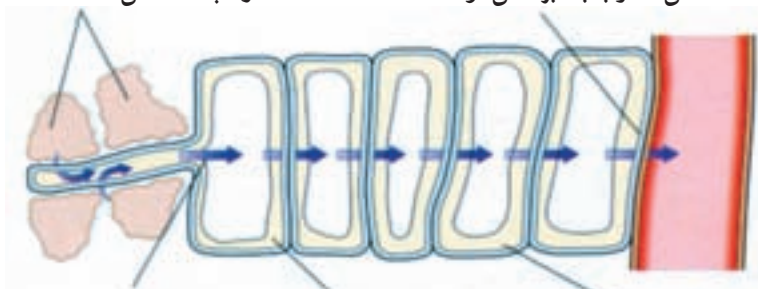
ذرات خاک موجود در اطراف ریشه‌ها را لایه‌ای نازک از آب می‌پوشاند. در این لایه نازک آب، یون‌های معدنی حل شده است. قسمت اعظم آبی که گیاه جذب می‌کند، از منطقه تارهای کشنده است. همان‌طوری که در شکل ۲۲-۶ مشخص است، فشار اسمزی آب را از این لایه نازک به درون سلول‌های تارهای کشنده وارد می‌کند.

درون بوست (آندودرم) درونی‌ترین لایه بوست را تشکیل می‌دهد. سلول‌های درون بوست دارای یک لایه مومی، به نام سوپرین (چوب پنبه) در اطراف خود هستند. این لایه چوب پنبه‌ای (که به آن آندودرمین نیز می‌گویند) نوار کاسپاری را تشکیل می‌دهد. سوپرین نسبت به آب نفوذناپذیر است. در نتیجه دیواره سلول‌های درون بوست در محل‌هایی که سوپرین وجود دارد، نسبت به آب نفوذناپذیر است. این امر در حرکت آب و یون‌های معدنی در عرض ریشه بسیار مهم است. در شکل ۲۱-۶ به ساختار سلول‌های درون بوست توجه کنید.

در ریشه برخی از گیاهان، چند لایه سطحی بوست به صورت برون بوست (اگزودرم) تمایز پیدا می‌کنند. در ریشه‌های دارای برون بوست، نوار کاسپاری در دیواره‌های جانبی (شعاعی و عرضی) این سلول‌ها قابل تشخیص است. وجود برون بوست، کنترل ورود یون‌های معدنی را دوچندان می‌کند.

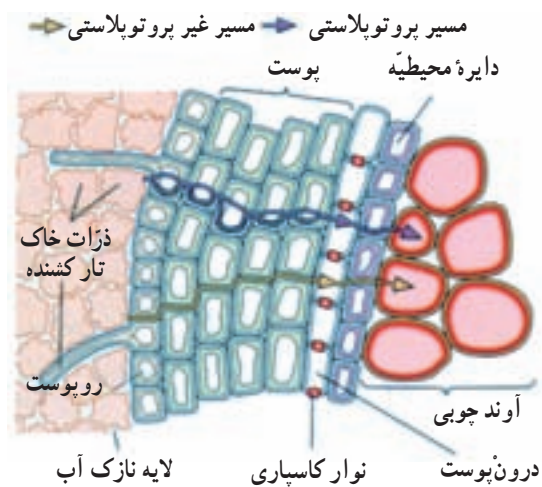
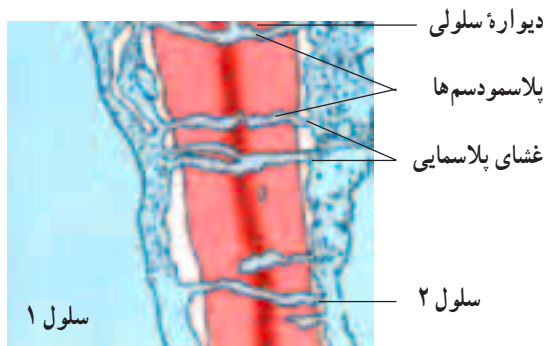
ذرات خاک را لایه نازکی از آب احاطه می‌کند.

آب به داخل آوند چوبی حرکت می‌کند و به بالا برده می‌شود.



و به همین ترتیب آب در عرض ریشه از یک سلول به سلول دیگر حرکت می‌کند. به محض ورود آب به سلول تار کشنده، پتانسیل آب سلول افزایش می‌یابد. بنابراین آب وارد سلول بعدی می‌شود. آب به روش اسمز از خاک وارد سلول تار کشنده ریشه می‌شود.

شکل ۲۲-۶- مسیر حرکت آب از خاک به آوند چوبی. آب همواره از محلی که پتانسیل آب در آنجا بیشتر است به محلی که پتانسیل آب کمتر دارد، حرکت می‌کند.



شکل ۲۳-۶- دو مسیر برای حرکت آب در عرض ریشه گیاه

شکل ۲۴-۶- تصویر (میکروسکوپ الکترونی) دو سلول گیاهی مجاور و پلاسمودسم‌های بین آنها (× ۶۸۰۰۰)

به دلیل اختلاف پتانسیل آب در سلول‌های عرض ریشه، آب جذب بخش‌های درونی‌تر می‌شود. در توضیح این مسئله می‌توان گفت که آب در آوند چوبی به صورت پیوسته به سمت بالا حرکت می‌کند و آب سلول‌های مجاور آوند جانشین آبی می‌شود که به بالاتر صعود کرده است. هنگامی که آب از این سلول‌ها به آوند چوبی می‌رود، پتانسیل آب این سلول‌ها کاهش می‌یابد و در نتیجه اختلاف فشار اسمزی، آب سلول‌های مجاور را به این سلول‌ها می‌راند. وقایعی که ذکر شد، در عرض ریشه به صورت پیوسته انجام می‌شود و در نتیجه یک حرکت پیوسته آب، از لایه نازک آب اطراف ذرات خاک، به درون ریشه و در عرض پوست ریشه به داخل آوند چوبی، صورت می‌گیرد.

مسیر غیر پروتوپلاستی

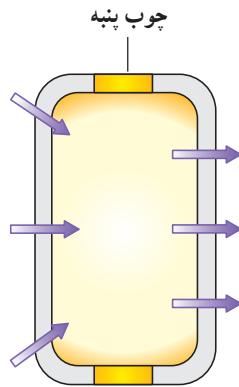
دیواره سلولی از رشته‌های سلولزی به همراه پلی ساکاریدهای بستری تشکیل شده است. بنابراین در دیواره برای حرکت مولکول‌های آب، فضای کافی وجود دارد. برخی

به محض ورود آب به سلول تار کشنده، پتانسیل آب سلول تار کشنده افزایش می‌یابد. حال پتانسیل آب این سلول بالاتر از پتانسیل آب سلول درونی‌تر مجاور آن است. بنابراین آب از سلول تار کشنده به سلول مجاور آن منتقل می‌شود. فرآیند انتقال آب از یک سلول به سلول مجاور درونی‌تر در عرض ریشه تکرار می‌شود تا آب وارد آوند چوبی شود.

آب در عرض ریشه از چند مسیر عبور می‌کند (شکل ۲۳-۶). دو راه عبور آب در عرض ریشه را نشان می‌دهد: مسیر پروتوپلاستی و مسیر غیر پروتوپلاستی.

مسیر پروتوپلاستی

لایه آب موجود در اطراف ذرات خاک، نسبت به سلول‌های تار کشنده ریشه دارای پتانسیل آب بالاتری است. در نتیجه فشار اسمزی آب را وارد سلول تار کشنده می‌کند. آب برای ورود به سلول، از دیواره سلولی و غشا عبور می‌کند. پلاسمودسم‌ها که از منافذ موجود در دیواره‌های سلولی عبور می‌کنند، سیتوپلاسم سلول‌های گیاهی مجاور را به یکدیگر مرتبط می‌کند (شکل ۲۴-۶). آب و مواد محلول در آن که از خاک وارد سیتوپلاسم سلول‌های تار کشنده شده است، از طریق پلاسمودسم‌ها از سیتوپلاسم یک سلول به سیتوپلاسم سلول مجاور وارد می‌شود. به این مسیر، مسیر پروتوپلاستی می‌گویند.



در یک سلول جوان درون پوست، نوار چوب پنبه (نوار کاسپاری) از حرکت آب و یون‌ها از طریق دیواره‌های جانبی جلوگیری می‌کند.

شکل ۲۵-۶- درون پوست و نوار کاسپاری، پایان مسیر غیر پروتوپلاستی است.

کشیده شدن آب از بالا

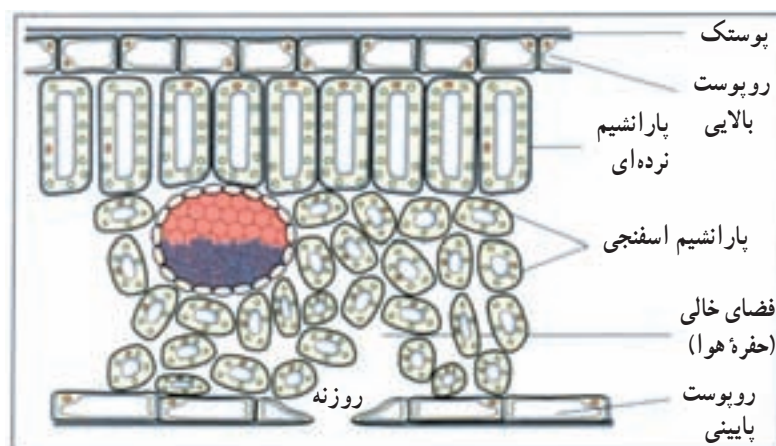
در شکل ۲۶-۶ حفره‌های هوایی درون برگ یک گیاه نمایش داده شده است. این فضاها همواره با بخار آب دیواره‌های سلولی میان برگ اسفنجی اشباع هستند. به محض تبخیر مقداری از آب هر سلول، این سلول به روش اسمز مقداری آب از سلول مجاور جذب می‌کند. بدین ترتیب هر سلول از سلول قبلی خود آب جذب می‌کند و سرانجام آخرین سلول آبی را که از دست داده است، از آوند چوبی می‌گیرد. هنگامی که آب در برگ با نیروی اسمزی از آوند چوبی خارج می‌شود، یک کشش (یا مکش) در ستون آب موجود در آوند چوبی ایجاد می‌شود. به این پدیده کشش تعرقی نیز می‌گویند.

از مولکول‌های آب که وارد ریشه می‌شوند، در عرض ریشه از طریق دیواره‌های سلولی و فضاها برون سلولی بین سلول‌ها حرکت می‌کنند. مولکول‌های آب به یکدیگر چسبیده‌اند (نیروی هم‌چسبی) و بنابراین آب در عرض ریشه به سمت آوند چوبی حرکت می‌کند. یون‌های معدنی محلول در آب نیز می‌توانند از راه مسیر غیر پروتوپلاستی حرکت کنند.

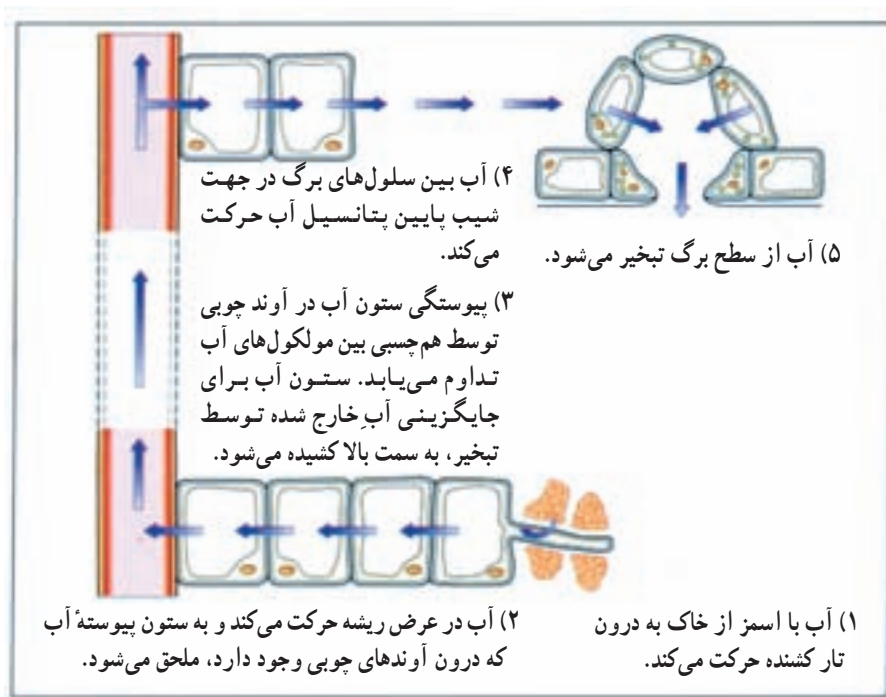
مسیر غیر پروتوپلاستی می‌تواند آب را در عرض پوست تا محل درون پوست حرکت دهد. در محل درون پوست، چوب پنبه موجود در نوار کاسپاری، از حرکت آب و یون‌های معدنی در مسیر غیر پروتوپلاستی جلوگیری می‌کند. از این رو آب و یون‌ها مجبور به ورود به درون سیتوپلاسم می‌شوند (شکل ۲۵-۶). به نظر می‌رسد که نوار کاسپاری راهی برای کنترل ورود آب و یون‌های معدنی به درون آوند چوبی فراهم می‌کند.

حرکت آب در داخل گیاه

حرکت آب در آوند چوبی وابسته به تعرق است. تعرق، یعنی خروج آب به صورت بخار از سطح گیاه که بیشتر توسط برگ‌ها انجام می‌شود. قسمت اعظم تعرق از طریق روزنه‌ها انجام می‌شود. روزنه‌ها به منظور مبادلهٔ گازها باز می‌شوند. به علاوه، آب از راه پوستک (کوتیکول) و عدسک‌ها نیز از گیاه خارج می‌شود. در برخی از گیاهان برگ‌ها در فاصله‌ای بیش از 100° متری بالای سطح زمین قرار دارند. در چنین گیاهانی آب و مواد معدنی چگونه به برگ‌ها می‌رسد؟



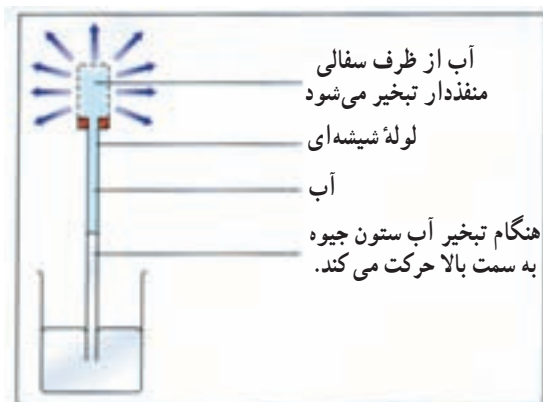
شکل ۲۶-۶- ساختار برگ



شکل ۲۷-۶- چگونگی حرکت آب در داخل گیاه مطابق نظریه هم‌چسبی - کشش

شده وصل کنیم، آب به تدریج در لوله شیشه‌ای بالا می‌رود (شکل ۲۹-۶). فشار ریشه‌ای آب را در آوند چوبی به بالا می‌رانند. همان طوری که می‌دانیم در زیر درون پوست لایه‌ای به نام دایره محیطیه (پرسیکل) قرار دارد. یون‌های محلول در آب به صورت فعال و با صرف انرژی از سلول‌های دایره محیطیه به درون آوند چوبی ترابری می‌شوند. ورود فعال یون‌ها به آوند چوبی باعث کاهش پتانسیل آب آوند چوبی می‌شود و این امر

مولکول‌های آب دارای هم‌چسبی هستند، یعنی توسط پیوندهایی به یکدیگر متصل و چسبیده هستند. نیروی هم‌چسبی توان ستون آب درون آوند چوبی را بسیار زیاد می‌کند و در نتیجه احتمال ایجاد گسستگی (حفره دار شدگی یا حباب دار شدگی) کاهش می‌یابد. هنگامی که تعرق به خروج آب از آوند چوبی برگ منجر می‌شود، کل ستون آبی که در آوند چوبی وجود دارد، به سمت بالا کشیده می‌شود. حرکت آب در داخل گیاه را نظریه هم‌چسبی - کشش تفسیر می‌کند (شکل ۲۷-۶).



شکل ۲۸-۶- آزمایشی برای نشان دادن نیروهای بالا برنده شیره خام (هم‌چسبی، دگرچسبی و کشش)

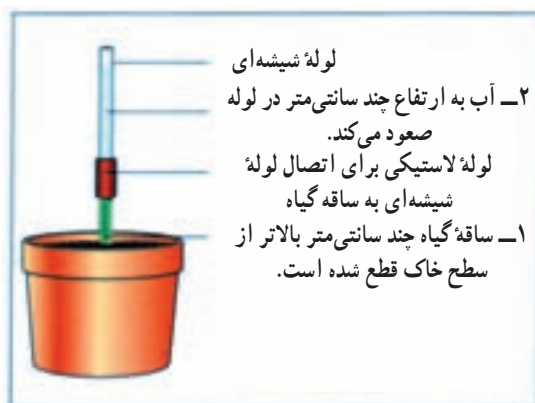
عامل دیگری که به کشیده شدن آب در آوند چوبی به سمت بالا کمک می‌کند و از گسستگی ستون آب جلوگیری می‌کند، چسبندگی مولکول‌های آب به دیواره‌های آوندهای چوبی است. این نیرو دگرچسبی نامیده می‌شود. می‌توان برای به نمایش درآوردن نظریه هم‌چسبی - کشش آزمایشی انجام داد (شکل ۲۸-۶).

رانده شدن آب از پایین

اگر ساقه گیاهی را که در گلدان کاشته شده است، درست در بالای ریشه قطع کنیم، و یک لوله شیشه‌ای را به ساقه بریده



شکل ۳-۶- تعریق در برگ یک گیاه که نشان دهنده وجود فشار ریشه‌ای است.



شکل ۲۹-۶- نمایش فشار ریشه‌ای

دارند، اما تعداد آنها در برگ بسیار بیشتر از سایر بخش‌هاست. فضاهای بین سلولی کندویی شکل که پر از هوا هستند سلول‌های میان‌برگ را که دیواره نازک دارند، احاطه می‌کنند. روزنه‌ها در تماس با این فضاها هستند.

هر روزنه را یک جفت سلول نگهبان لوبیایی شکل احاطه می‌کند. تغییرات فشار آب سلول‌های نگهبان، باعث باز و بسته شدن روزنه‌ها می‌شود (شکل ۳۱-۶). وقتی که سلول‌های نگهبان آب جذب می‌کنند، متورم می‌شوند و فشار آب (فشار آماس) در آنها افزایش می‌یابد. با این حال آرایش شعاعی رشته‌های سلولزی دیواره‌های سلولی اگرچه به سلول‌ها اجازه افزایش طول را می‌دهد، ولی از افزایش قطری آنها جلوگیری می‌کند (شکل ۳۲-۶). در نتیجه جذب آب توسط سلول‌های نگهبان باعث می‌شود که این دو سلول از یکدیگر دور شوند و با باز شدن روزنه‌ها تعرق انجام شود. هنگام خروج آب از سلول‌های نگهبان، این سلول کوتاه‌تر و به یکدیگر نزدیک‌تر می‌شوند. نزدیک شدن سلول‌های نگهبان به یکدیگر باعث بسته شدن روزنه و توقف تعرق می‌شود. بنابراین خروج آب از سلول‌های نگهبان باعث بسته شدن روزنه‌ها و در نتیجه توقف خروج بیشتر آب می‌شود.

گیاهان برای کاهش تعرق دارای سازش‌های متعددی هستند. داشتن روزنه‌های فرورفته و کاهش تعداد روزنه‌ها در اقلیم‌های خشک و سرد (درختان کاج)، یا گرم (تیره کاکتوس) و داشتن کُرک روی برگ‌ها از این سازش‌ها هستند. در گیاهان تیره گل‌ناز، روزنه‌ها در روز بسته و در شب باز هستند.

به ورود آب به درون آوند چوبی کمک می‌کند. نکته مهم این است که حرکت این یون‌های معدنی به درون آوند چوبی باعث ایجاد فشار ریشه‌ای می‌شود.

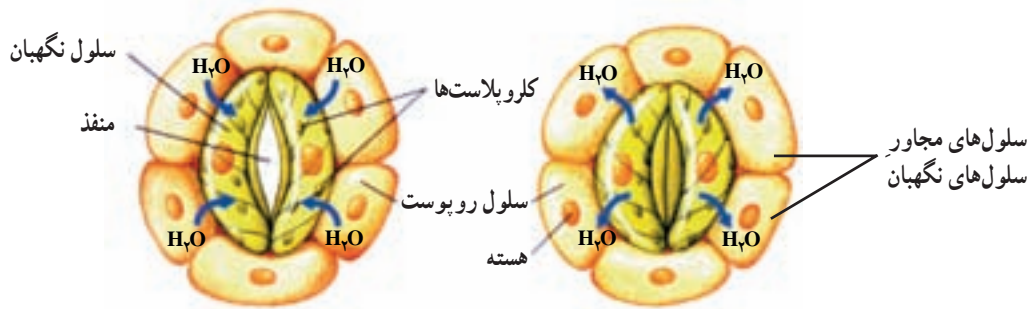
تعریق از نشانه‌های بارز فشار ریشه‌ای است

خروج آب از گیاه به صورت مایع تعریق نامیده می‌شود. این پدیده موقعی انجام می‌گیرد که فشار آب در داخل گیاه زیاد، اما شدت تعرق کمتر از شدت جذب باشد. این حالت در شب‌های تابستان که خاک هنوز گرم است و عمل جذب ادامه دارد، اما به علت سرد شدن هوا تعرق کاهش یافته است، مشاهده می‌شود. به علاوه در مواقعی که هوا گرم و اتمسفر اشباع از بخار آب است (در مناطق گرمسیری)، یعنی در شرایطی که سرعت جذب آب بالا، ولی تعرق پایین است، پدیده تعریق به علت افزایش فشار ریشه‌ای در گیاهان قابل مشاهده است.

تعریق از راه روزنه‌های ویژه‌ای به نام روزنه‌های آبی که در منتهی‌الیه آوندهای چوبی قرار دارند انجام می‌شود. دهانه این روزنه‌ها همواره باز است. روزنه‌های آبی در حاشیه برگ‌های لادن، عشقه، گوجه‌فرنگی و یا در انتهای برگ‌های گیاهان تیره گندم وجود دارد. خروج آب به صورت مایع از گیاه که به ویژه در سپیده صبح به خوبی قابل رؤیت است، نباید با شب‌نم اشتباه شود.

سلول‌های نگهبان و تعرق

روزنه‌ها در ساختار همه بخش‌های هوایی جوان گیاه وجود



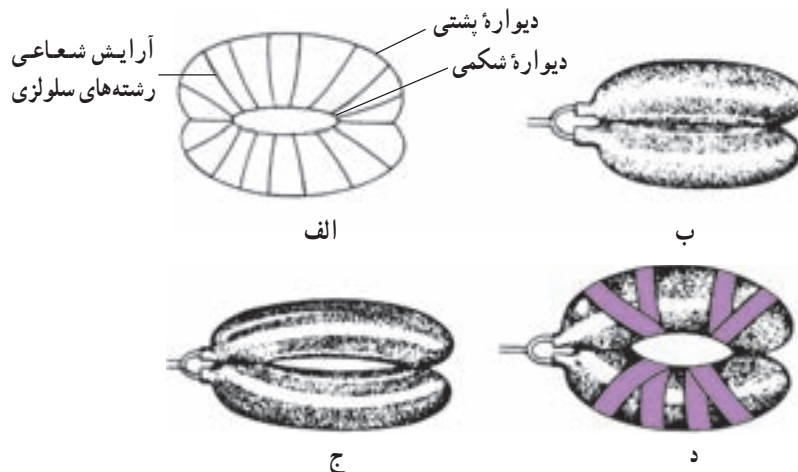
۱- سلول‌های نگاهبان پس از جذب آب انبساط طولی پیدا می‌کنند و از یکدیگر دور می‌شوند. در نتیجه روزنه‌ها باز می‌شود.

۲- سلول‌های نگاهبان آب از دست می‌دهند و کوتاه‌تر می‌شوند. با نزدیک شدن این سلول‌ها به یکدیگر روزنه بسته می‌شود.

شکل ۳۱-۶- تغییرات شکل سلول‌های نگاهبان باعث باز و بسته شدن روزنه‌ها می‌شود.

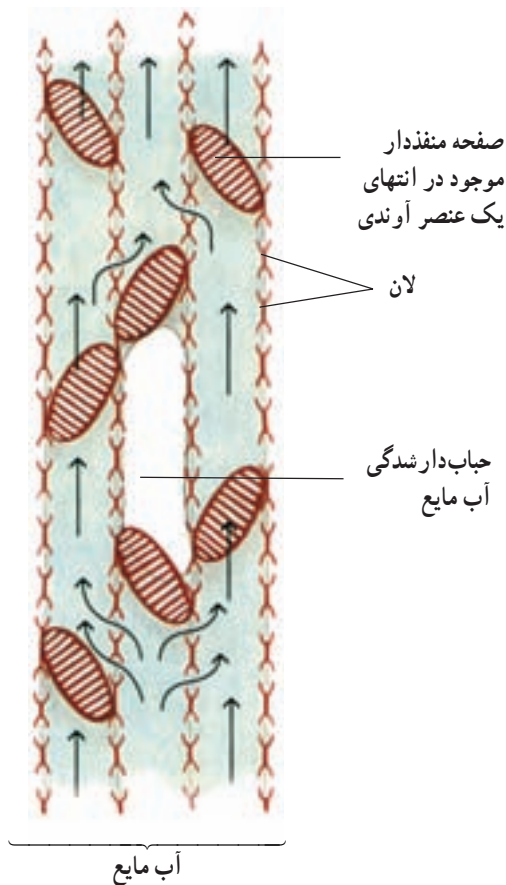
انبساط عرضی آنها جلوگیری می‌کند. نیروی دوم در محل تماس میان دو سلول نگاهبان مستقر است. هنگام انبساط، طول دیواره مشترک این دو سلول در محل تماس، ثابت باقی می‌ماند. در هنگام ورود آب به درون سلول‌های نگاهبان، دیواره‌های خارجی (پشتی) نسبت به دیواره‌های داخلی (شکمی) بیشتر منبسط می‌شوند و علت این امر طول بیشتر دیواره پشتی و ضخامت کمتر آن نسبت به دیواره شکمی است. نیروی حاصل از انبساط بیشتر دیواره پشتی از طریق رشته‌های شعاعی سلول‌ها به دیواره شکمی منتقل می‌شود و در نتیجه منفذ روزنه باز می‌شود.

جهت‌گیری شعاعی رشته‌های سلولزی دیواره‌های سلول‌های نگاهبان در باز شدن روزنه‌ها دخالت می‌کنند: همان‌طوری که در قسمت قبل نیز اشاره شد، ساختار سلول‌های نگاهبان نقش مهمی در باز و بسته شدن روزنه‌ها برعهده دارد. هنگام انبساط سلول‌های نگاهبان، دو نیروی فیزیکی باعث خمیده شدن این سلول‌ها و باز شدن منفذ روزنه می‌شود. یکی از این نیروها، آرایش شعاعی رشته‌های سلولزی دیواره سلول‌های نگاهبان است (شکل ۳۲-۶). این جهت‌گیری رشته‌های سلولزی امکان طولی شدن سلول‌های نگاهبان را فراهم می‌کند، اما از



شکل ۳۲-۶- مدلی برای نمایش آرایش شعاعی رشته‌های سلولزی در دیواره سلول‌های نگاهبان. (الف) یک جفت سلول نگاهبان که در دیواره سلولی آنها آرایش شعاعی رشته‌های سلولزی نشان داده شده است. (ب) دو بادکنک نسبتاً مسطح که در دو انتهای خود به یکدیگر چسبانیده شده‌اند. (ج) دو بادکنک مشابه شکل ب که در اثر فشار زیاد به طور کامل کشیده شده‌اند و در نتیجه یک مجرای باریک بین آن دو باز شده است. (د) یک جفت بادکنک که به منظور نشان دادن اثر آرایش شعاعی رشته‌های سلولزی، به دور آنها نوار چسب به صورت شعاعی چسبانیده شده است. در حالت اخیر مجرای باز شده بزرگتر از حالت ج است. چرا؟

حباب‌های هوا ممکن است پیوستگی شیرۀ خام را در آوند چوبی قطع کنند



شکل ۳۳-۶ - مدلی برای نمایش پدیده حباب‌دارشدگی در عناصر آوندی. بخار آب و هوا ممکن است باعث مسدود شدن یک عنصر آوندی شوند. در چنین حالتی آب و شیرۀ خام می‌توانند از راه لان‌ها از یک سلول آوندی حباب‌دار شده وارد عنصر آوندی مجاور شوند.

به سه دلیل حرکت ترکیبات آلی در یک گیاه نسبت به حرکت آب پیچیده‌تر است: نخست، آب در سلول‌های خالی آوند چوبی به صورت آزاد حرکت می‌کند، در حالی که ترکیبات آلی باید از طریق سیتوپلاسم سلول‌های زنده آوندهای آبکشی عبور کنند. دوم، آب در آوند چوبی فقط به سمت بالا حرکت می‌کند، در حالی که ترکیبات آلی در آوند آبکشی در همه جهات حرکت می‌کنند. سوم، آب می‌تواند از طریق غشاهای سلولی نیز منتشر شود، در حالی که ترکیبات آلی قادر به انتشار از غشای پلاسمایی نیستند. یک گیاه‌شناس آلمانی به نام ارنست مونش در سال ۱۹۲۴ یک مدل برای جابه‌جایی پیشنهاد کرد. مدل مونش که اغلب تحت عنوان مدل جریان فشاری یا مدل جریان توده‌ای نامیده می‌شود، در شکل ۳۴-۶ نشان داده شده است.

شیرۀ خام در درون خود دارای گازهای محلول (هوای محلول) است. هنگامی که تعرق شدید باشد، این گازها تمایل به خروج از شیرۀ خام پیدا می‌کنند و با پیوستن مولکول‌های گاز به یکدیگر یک حباب هوای بزرگ در آوند چوبی تشکیل می‌شود. این حباب‌های بزرگ در تداوم شیرۀ خام اختلال ایجاد می‌کنند (شکل ۳۳-۶). علاوه بر آن هنگامی که آوندهای چوبی یا تراکئیدهای گیاه در اثر نیش حشره یا شکستن شاخه آسیب می‌بینند، امکان بروز پدیده حباب‌دارشدگی افزایش می‌یابد. انجماد نیز به این پدیده سرعت می‌بخشد، چون هوا در یخ حل نمی‌شود. خوشبختانه به دلیل ساختار خاص لان‌های دیواره آوندهای چوبی و تراکئیدها، امکان انتشار این حباب‌ها از یک آوند به آوند دیگر بسیار کم است و بنابراین حباب‌ها در یک آوند چوبی یا تراکئید محصور می‌مانند. با این حال اگر فشار حاصل از این حباب‌ها زیاد باشد، ممکن است از یک آوند چوبی یا تراکئید به آوندها یا تراکئیدهای مجاور منتقل شوند. به این پدیده بذرافشانی هوا می‌گویند. افزایش فشار ریشه‌ای ممکن است باعث کاهش پدیده حباب‌دارشدگی شود.

حرکت مواد آلی در گیاه

ترکیبات آلی گیاهان، درون آوندهای آبکشی حرکت می‌کنند. گیاه‌شناسان بخشی از گیاه را که ترکیبات آلی مورد نیاز بخش‌های دیگر گیاه در آنجا تأمین می‌شود، منبع می‌نامند. مثلاً، برگ یک منبع است، زیرا با کمک فرآیند فتوسنتز نشاسته تولید می‌کند. ریشه‌ای که قند ذخیره می‌کند نیز منبع محسوب می‌شود. گیاه‌شناسان همچنین به بخشی از گیاه که ترکیبات آلی به آنجا هدایت می‌شوند و در آنجا به مصرف می‌رسند محل مصرف می‌گویند. بخش‌های در حال رشد، مانند نوک ریشه‌ها و نیز میوه‌های در حال تکوین مثال‌هایی از محل‌های مصرف هستند. بافت‌های ذخیره‌ای گیاه، هنگام وارد کردن ترکیبات آلی «محل‌های مصرف» و هنگام صدور ترکیبات آلی «محل‌های منبع» نامیده می‌شوند. حرکت ترکیبات آلی درون گیاه از منبع به محل مصرف جابه‌جایی نامیده می‌شود.

آوند چوبی آوند آبکشی قند آب



شکل ۳۴-۶ مدل جریان فشاری. این مدل جابه‌جایی را توصیف می‌کند.

این مدل را می‌توان در ۴ مرحله ذیل خلاصه کرد:

مرحله ۱: قندی که در سلول‌های برگ (منبع) تولید می‌شود به روش انتقال فعال وارد سلول‌های آوند آبکشی می‌شود (بارگیری آبکشی).

مرحله ۲: وقتی که غلظت قند در آوند آبکشی افزایش می‌یابد پتانسیل آب کاهش پیدا می‌کند. در نتیجه آب به روش اسمز از آوند چوبی وارد آوند آبکشی می‌شود.

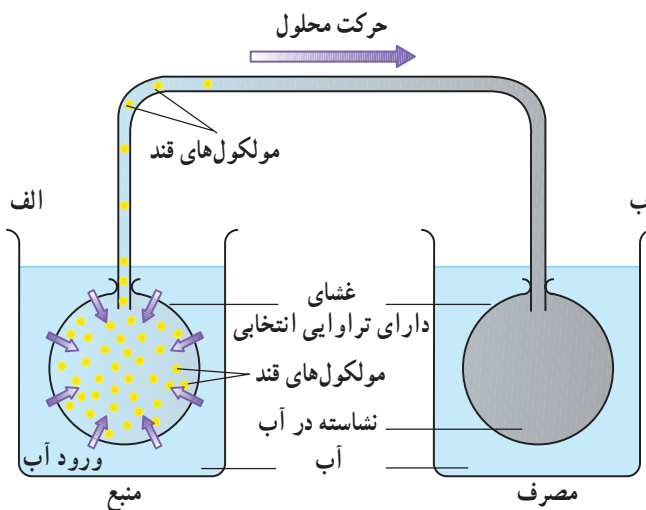
مرحله ۳: فشار در داخل سلول‌های آوند آبکشی افزایش می‌یابد و در نتیجه قند به همراه محتویات دیگر شیره پرورده به صورت جریان توده‌ای به حرکت درمی‌آید.

مرحله ۴: قند موجود در شیره پرورده به روش انتقال فعال وارد محل مصرف می‌شود (باربرداری آبکشی).

چگونه می‌توان مدل جریان فشاری را به صورت تجربی مورد آزمون قرار داد؟ به شکل ۳۵-۶ نگاه کنید. در ظرف الف کیسه‌ای با غشایی که دارای تراوایی انتخابی است و با محلول غلیظ قند پر شده است به منظور نمایش محل منبع، قرار دارد. در


ظرف ب نیز کیسه‌ای با همین مشخصات، اما دارای آب و نشاسته به منظور نمایش محل مصرف قرار دارد. در اطراف این کیسه‌ها آب خالص وجود دارد. در ظرف الف آب به روش اسمز وارد کیسه می‌شود. در نتیجه فشار افزایش می‌یابد و محلول قند از طریق لوله رابط از ظرف الف به ظرف ب حرکت می‌کند. در ظرف ب فقط مقدار اندکی آب وارد کیسه موجود در آن می‌شود. علت این پدیده آن است که نشاسته نامحلول است و بنابراین پتانسیل آب در کیسه موجود در ظرف ب بالاست و ورود آب به روش اسمز اندک است. بدین ترتیب قند از ظرف الف به ظرف ب به صورت توده‌ای حرکت می‌کند. در این آزمایش حرکت مورد اشاره پس از مدتی متوقف می‌شود؛ اما به عقیده طرفداران فرضیه جریان فشاری در صورتی که به صورت مداوم قند به کیسه موجود در ظرف الف اضافه شود این حرکت به صورت دائمی انجام خواهد شد.

آیا فرضیه جریان فشاری صحیح است؟ دانشمندان از صحت کامل فرضیه جریان فشاری مطمئن نیستند، سرعت حرکت ساکارز و آمینواسیدها در آوند آبکشی آنقدر سریع است که با روش نیروی غیر فعال جریان توده‌ای قابل توجیه نیست. بر اساس نتایج تحقیقات انجام شده، مواد حل شده مختلف با سرعت‌های متفاوت حرکت می‌کنند و حتی جهت حرکت مواد مختلف در آوند آبکشی متفاوت است. سلول‌های همراه که دارای میتوکندری‌های زیادی هستند، انرژی مورد نیاز برای حرکت فعال ترکیبات آلی آوند آبکشی را تأمین می‌کنند.



شکل ۳۵-۶ مدلی برای نمایش جریان فشاری (جریان توده‌ای).

شته‌ها به تعیین ترکیب شیرۀ پرورده کمک مهمی کرده‌اند یکی از راه‌های استخراج شیرۀ پرورده استفاده از برخی حشرات، مانند شته است. شته از شیرۀ پرورده تغذیه می‌کند. این حشرات که به صورت کلنی روی ساقه‌های گیاهان زندگی می‌کنند، خرطوم دهانی خود را تا محل آوندهای آبکشی در پوست فرو می‌کنند و مدت ۲ تا ۳ ساعت به همان حالت باقی می‌مانند (شکل ۳۶-۶). برای جمع‌آوری شیرۀ پرورده، نخست آنها را بی‌حس می‌کنند و سپس خرطوم آنها را قطع می‌کنند.



شکل ۳۶-۶- شته‌ها برای تغذیه، خرطوم خود را وارد آوند آبکش می‌کنند. با بریدن خرطوم این حشره، شیرۀ پرورده از انتهای خرطوم به بیرون تراوش می‌کند.

بیشتر بدانید

یکی از روش‌هایی که برای بررسی چگونگی انتقال مواد در گیاهان به کار می‌رود، استفاده از ایزوتوپ‌های رادیواکتیو به‌عنوان ماده‌ی نشاندار و ردیابی آن‌ها در بافت‌ها و سلول‌های گیاهان است. این روش از دهه ۱۹۴۰ به این طرف، کاربردهای فراوانی پیدا کرده است. گیاه‌شناسان برای اندازه‌گیری میزان جذب آب و مواد معدنی، تعیین مسیر عبور آب و مواد معدنی در ریشه و چگونگی حرکت مواد آلی در بخش‌های مختلف گیاهان از ایزوتوپ عنصرهایی مثل نیتروژن، فسفر، هیدروژن و کربن استفاده می‌کنند. این ایزوتوپ‌ها، فعالیت‌های معمول گیاهان را تغییر نمی‌دهند.

خودآزمایی ۶-۶

- ۱- شباهت‌های درون پوست و برون پوست را بنویسید.
- ۲- به نظر شما برون پوست چه وظایفی را برعهده دارد؟
- ۳- تفاوت‌های بین مسیر غیرپروتوپلاستی و مسیر پروتوپلاستی را بنویسید.
- ۴- هریک از بخش‌های مختلف دستگاهی که در شکل ۲۸-۶ نشان داده شده است، مشابه کدام بخش‌های گیاه هستند؟
- ۵- تعرق چه وظایفی در گیاهان برعهده دارد؟
- ۶- چه عواملی ممکن است بر تعرق مؤثر باشند؟
- ۷- شب‌هنگام، وقتی که تعرق بسیار پایین است، قطرات آب در حاشیۀ برگ‌های برخی از گیاهان ظاهر می‌شود. علت این امر را توضیح دهید.
- ۸- پدیده‌ی تعریق در کدام یک از گیاهان به‌خوبی دیده می‌شود؟
- ۹- چرا گیاهان تیره‌گل ناز روزنه‌های خود را در شب باز می‌کنند؟
- ۱۰- نحوه‌ی دخالت آرایش شعاعی رشته‌های سلولزی در باز شدن روزنه‌ها را توضیح دهید.
- ۱۱- حباب‌دار شدگی چیست؟ چه عواملی این پدیده را تشدید می‌کنند؟
- ۱۲- نقش فشار ریشه‌ای در حباب‌دار شدگی چیست؟

۱۳- در مدلی که در شکل ۳۵-۶ نشان داده شده است، چرا در ظرف ب نسبت به ظرف الف آب کمتری وارد کیسه می‌شود؟

۱۴- نقش شته‌ها در پژوهش‌های مربوط به شیرۀ پرورده چیست؟

فعالیت ۶-۷



تعیین سرعت خروج آب از گیاه

کاغذ آغشته به کلرید کبالت برای تشخیص رطوبت کاربرد دارد. این کاغذ هنگامی که خشک باشد، آبی رنگ است، اما پس از مرطوب شدن صورتی رنگ می‌شود.

با استفاده از کاغذ کلرید کبالت آزمایشی طراحی کنید که خروج آب را از موارد زیر تعیین کند:

۱- سطح بالایی و سطح زیرین برگ یک گیاه

۲- سطوح زیرین برگ‌های گیاهان مختلف

پس از تأیید معلم و در صورتی که کاغذ کلرید کبالت در اختیار دارید، آزمایشی که طراحی کرده‌اید، انجام دهید.

نتایجی را که از آزمایش خود می‌گیرید، یادداشت کنید و مورد بحث قرار دهید.

فعالیت ۶-۸



یک آشام‌سنج بسازید

از آشام‌سنج برای اندازه‌گیری سرعت صعود آب از ساقه گیاه استفاده می‌شود. با استفاده از دستورالعمل زیر یک آشام‌سنج بسازید:

۱- انتهای بریده شده یک شاخه گیاهی را با یک لوله پلاستیکی کوچک به یک لوله موئین متصل کنید.

۲- گیاه و لوله موئین را به طور عمودی در یک بشر آب قرار دهید. توجه داشته باشید که هوا وارد لوله نشود.

۳- دو علامت در طول لوله موئین بگذارید. فاصله بین این دو علامت ۱۰cm باشد.

۴- اکنون لوله موئین را از بشر خارج کنید، آب ته لوله را با دستمال کاغذی خشک کنید و دوباره آن را وارد بشر بکنید. به این وسیله یک حباب هوا در ابتدای لوله تشکیل می‌شود.

۵- مدت زمانی را که حباب هوا از نقطه پایینی که علامت‌گذاری کرده‌اید، به نقطه بالایی می‌رسد (یعنی ۱۰cm) اندازه‌گیری کنید.

۶- هنگامی که حباب هوا از علامت بالایی عبور کرد و بالاتر رفت، با فشار دادن محل لوله لاستیکی، حباب را به درون بشر بازگردانید و به جای آن آب را دوباره به درون لوله موئین بالا بکشید.

۷- اکنون با دستگاهی که ساخته‌اید آزمایش‌های زیر را انجام دهید:

الف - گیاه را در برابر باد قرار دهید و آزمایش را تکرار کنید.

ب - گیاه را در محیط مرطوب قرار دهید و آزمایش را تکرار کنید.

ج - مقداری وازلین روی سطح برگ‌های شاخه‌ای که مورد آزمایش قرار می‌دهید، بمالید تا روزنه‌ها بسته شوند و سپس آزمایش را تکرار کنید.

د - تعدادی از برگ‌های گیاه یا همه آنها را قطع کنید و آزمایش را تکرار کنید.

ه - گیاه را در موقعیت‌های دیگری، به انتخاب خود، قرار دهید و آزمایش را تکرار کنید.

و - چه نتیجه‌ای از این آزمایش‌ها می‌گیرید؟



تنظیم محیط داخلی و دفع مواد زاید

زاید در جانوران آبزی بیشتر آمونیاک (NH_3) است که بسیار سمی است، اما به آسانی از بدن جانوران آبزی، به آب پیرامونی، انتشار می‌یابد.

بی‌مهرگان کوچک، مانند کرم پهن پلاناریا، از همه سلول‌های سطحی بدن خود آمونیاک دفع می‌کنند. ماهی‌ها نیز با آبشش‌های خود آمونیاک دفع می‌کنند.

جانوران خشکی‌زی نمی‌توانند آمونیاک دفع کنند. این جانوران، آمونیاک را به موادی که کمتر سمی هستند، تبدیل می‌کنند. این مواد اوره و اوریک اسید هستند. جانوران خشکی‌زی می‌توانند اوره و اوریک اسید را مدتی در بدن خود نگه‌دارند و سپس به تناوب آنها را دفع کنند. جانوران باید برای تبدیل آمونیاک به اوره یا اوریک اسید، انرژی مصرف کنند.

پستانداران و دوزیستان اوره دفع می‌کنند. اوره با سرعت در آب حل می‌شود. سمیت اوره در حدود $100,000$ بار کمتر از آمونیاک است. بعضی جانوران هم اوره و هم اوریک اسید دفع می‌کنند و بعضی دیگر به تناسب زیستگاه خود، آمونیاک یا اوره دفع می‌کنند. مثلاً بعضی وزغ‌ها هنگامی که در آب هستند آمونیاک و وقتی که در خشکی به سر می‌برند، اوره دفع می‌کنند.

پرنده‌گان، حشرات و بسیاری از خزندگان اوریک اسید دفع می‌کنند. دفع اوریک اسید به آب چندانی احتیاج ندارد.

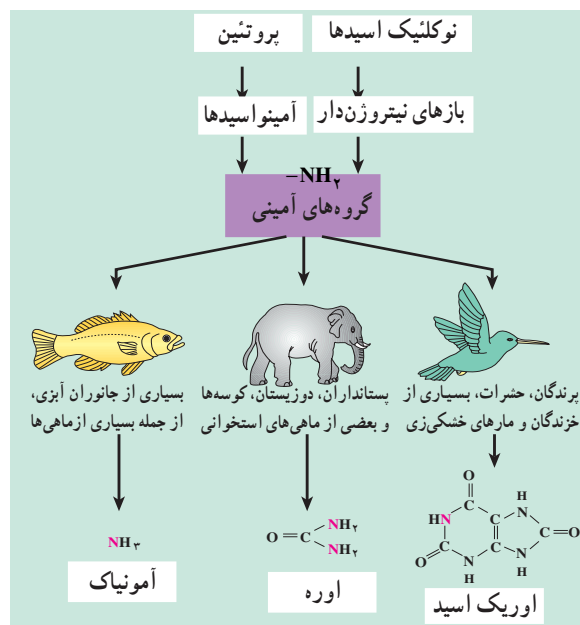
سلول‌های بدن جانوران پرسلولی در میان مایعی بین سلولی قرار دارند که گل آن را در بدن جانور، محیط داخلی می‌گویند. خون بخشی از این محیط است که مواد مورد نیاز سلول‌ها را به فضای بین سلولی منتقل می‌کند و نیز مواد دفعی سلول‌ها را به اندام‌های دفعی می‌برد. برای آن که سلول‌ها زنده بمانند و به طور طبیعی فعالیت کنند، محیط اطراف آنها باید حالت نسبتاً پایدار و یکنواختی داشته باشد. مجموعه‌ای اعمالی که در بدن جانداران پرسلولی، برای حفظ پایداری محیط داخلی انجام می‌شود، هم‌مؤسستازی نام دارد. هم‌مؤسستازی شامل اعمالی نظیر تنظیم قند، نمک، آب، اسید-باز، دما و نیز دفع مواد زاید است. شما به تدریج با چگونگی انجام آنها آشنا می‌شوید.

جانوران باید مواد زاید نیتروژن دار را دفع کنند

واکنش‌هایی که در بدن جانوران انجام می‌شود، منجر به تولید موادی زاید، به ویژه مواد زاید نیتروژن دار می‌شوند. بیشتر این مواد نیتروژن دار محصول سوختن آمینواسیدها هستند. جانوران باید این مواد زاید را که سمی هستند، از خود دفع کنند. مواد زاید نیتروژن داری که در بدن جانوران مختلف تولید و دفع می‌شود، یکسان نیستند. زیستگاه جانوران، عامل مهمی در این زمینه است. همان گونه که در شکل ۱-۷ می‌بینید، مواد

پالایش می‌دهند و مواد زاید آن را به صورت ادرار خارج می‌کنند. نفرون‌ها در انتهای خود به مجاری جمع‌کننده ادرار اتصال دارند. این مجاری، ادرار را به لگنچه تخلیه می‌کنند. مجرای میزناي ادرار را از لگنچه به مثانه می‌برد. در ابتدای هر نفرون یک شبکه مویرگی به نام گلومرول در داخل محفظه بسته کپسول بومن قرار دارد و در دنباله این کپسول بخش‌های دیگر لوله ادراری، شامل لوله خمیده نزدیک، لوله هنله و لوله خمیده دور، وجود دارند. این بخش‌ها ادرار را می‌سازند و سرانجام آن را به لوله جمع‌کننده می‌ریزند. دیواره لوله ادراری از یک ردیف سلول پوششی ساخته شده، ولی شکل و کار این سلول‌ها در نقاط مختلف متفاوت است. در ساختار کلی کلیه، دو بخش قشری و مرکزی دیده می‌شود. گلومرول‌ها در بخش قشری هستند و در زیر میکروسکوپ به آن منظره دانه‌دار می‌دهند. بخش مرکزی کلیه از هرم‌هایی ساخته شده که به علت وجود لوله‌های ادراری، مخطط به نظر می‌رسند. به هر کلیه یک سرخرگ کلیوی وارد می‌شود. انشعابات سرخرگ کلیوی از فواصل بین هرم‌ها عبور می‌کند و در بخش قشری به سرخرگ‌های کوچک‌تری تقسیم می‌شود. این انشعابات سرانجام گلومرول‌ها یا کلافه‌های درون کپسول‌های بومن را می‌سازند (شکل ۲-۷).

دو دیواره نفوذپذیر، یعنی دیواره مویرگ و دیواره کپسول بومن بین خون و حفره درون کپسول بومن وجود دارد. از گلومرول سرخرگ کوچکی خارج می‌شود که دوباره در اطراف لوله‌های پیچ خورده و لوله هنله انشعابات مویرگی جدیدی به نام شبکه دوم مویرگی می‌سازد. این مویرگ‌ها به یکدیگر می‌پیوندند و سیاهرگ‌های کوچکی به وجود می‌آورند که سرانجام سیاهرگ‌های کلیه را می‌سازند. این سیاهرگ‌ها خون را از کلیه بیرون می‌برند.



شکل ۱-۷- دفع مواد زاید نیتروژن‌دار در چند جاندار

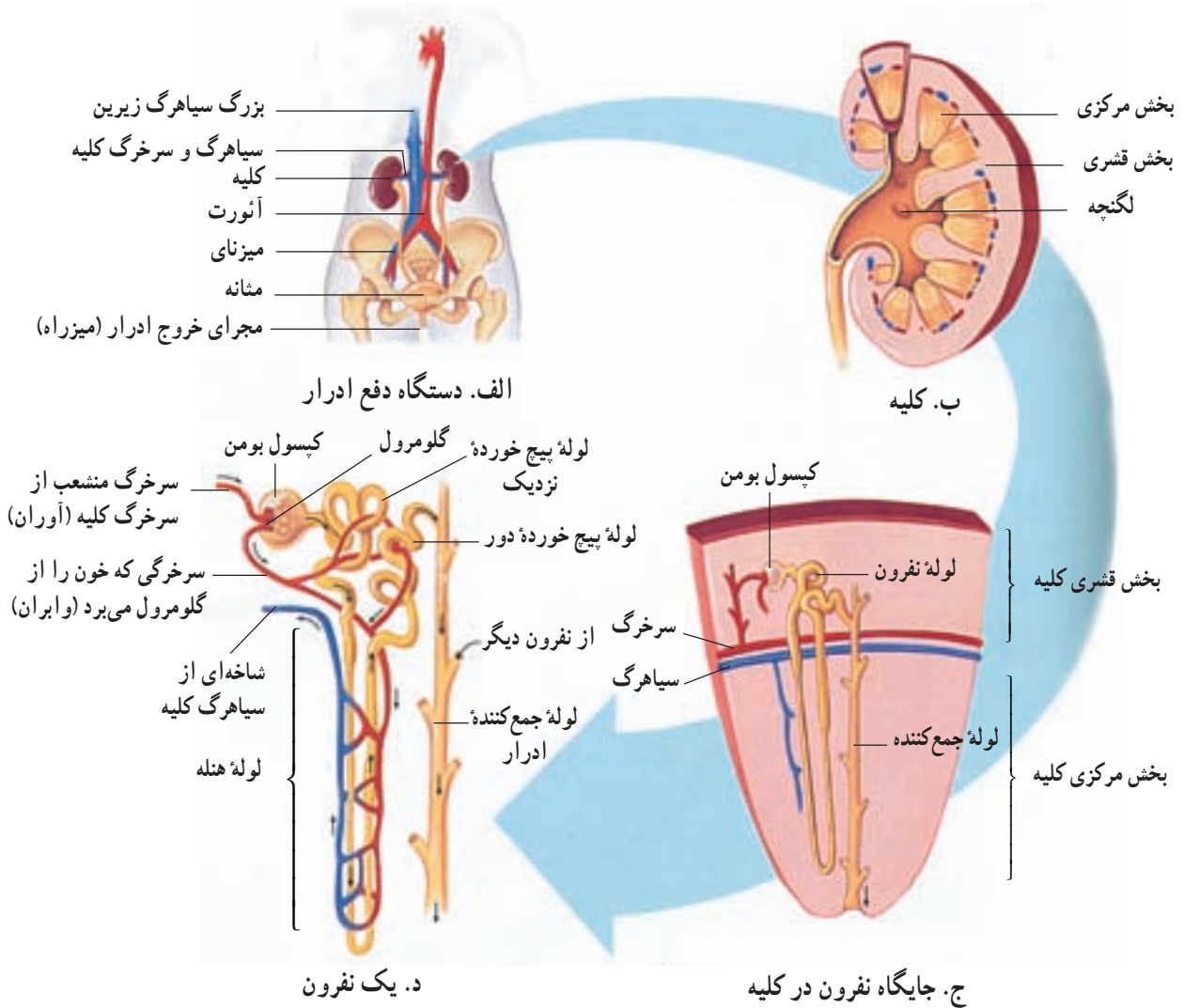
بنابراین دفع چنین ماده‌ای در جانوران ساکن مناطق خشک معمول‌تر است. سمی بودن اوریک اسید بسیار کمتر از اوره و آمونیاک است. جانوران مناطق خشک می‌توانند اوریک اسید را که نسبت به اوره و آمونیاک، فرمول پیچیده‌تری دارد، به شکل بلورهای جامد از خود دفع کنند. دفع اوریک اسید نسبت به دفع اوره به انرژی بیشتری نیاز دارد.

دستگاه دفع ادرار بسیاری مواد زاید بدن انسان را دفع می‌کند

اوره، اوریک اسید، کراتینین و مواد خارجی، مانند داروها و حشره‌کش‌ها از جمله موادی هستند که به وسیله کلیه‌ها دفع می‌شوند. ساختار کلیه‌ها: کلیه‌ها، به صورت قرینه، در دو طرف ستون مهره‌ها، در بخش پشتی شکم قرار دارند و هر کدام دارای تقریباً یک میلیون نفرون یا لوله سازنده ادرار هستند. نفرون‌ها خون را

خودآزمایی ۱-۷

- ۱- مایع میان بافتی چیست؟
 - ۲- هومئوستازی را شرح دهید.
 - ۳- عامل مهمی که در نوع مواد نیتروژن‌دار دفعی جانوران مؤثر است، چیست؟
 - ۴- نوع مواد دفعی جانوران زیر را بنویسید:
- الف) جانوران آبی (ب) جانوران خشکی‌زی (ج) پستانداران (د) دوزیستان (ه) پرندگان



شکل ۲-۷- دستگاه دفع ادرار انسان و بخش‌های آن

فعالیت ۱-۷



مشاهده کلیه

- ۱- یک کلیه گوسفند تهیه کنید.
- ۲- مانند شکل، آن را از طول برش دهید.
- ۳- در برش‌ها چه بخش‌هایی مشاهده می‌کنید؟ ادرار از کدام بخش کلیه خارج می‌شود، آن را بیابید. ادرار پس از خروج از کلیه به کجا می‌رود؟
- ۴- شکلی از برشی که تهیه کرده‌اید، رسم و آن را نام‌گذاری کنید.



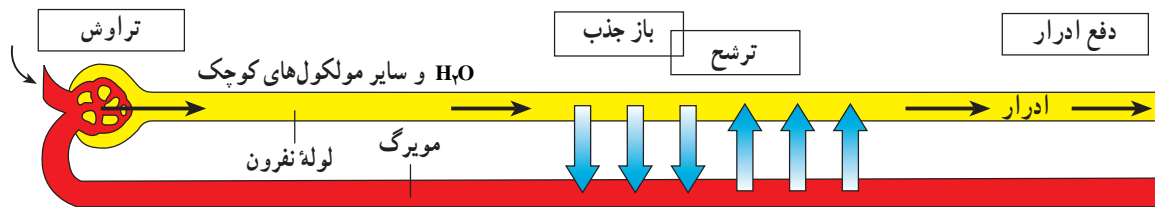
شکل ۳-۷

بازجذب: در حدود ۹۹ درصد موادی که در گلوبول‌ها تراوش شده‌اند، دوباره در مویرگ‌های اطراف لوله‌ی ادراری جذب خون می‌شوند و به این ترتیب از هدر رفتن موادی مانند گلوکز و سدیم جلوگیری می‌شود. بازجذب مواد به خون در کلیه‌ها به دو صورت فعال و غیرفعال صورت می‌گیرد: جذب فعال مواد برخلاف شیب انتشار آنها صورت می‌گیرد و به ATP نیاز دارد. بازجذب گلوکز به همین صورت است. بازجذب غیرفعال نتیجه‌ی اختلاف غلظت است، مثلاً در لوله‌ی جمع‌کننده‌ی ادرار تراکم اوره بیش از مایع بین‌سلولی است و در نتیجه مقداری اوره به مایع بین‌سلولی باز می‌گردد و به دنبال آن آب نیز باز جذب می‌شود.

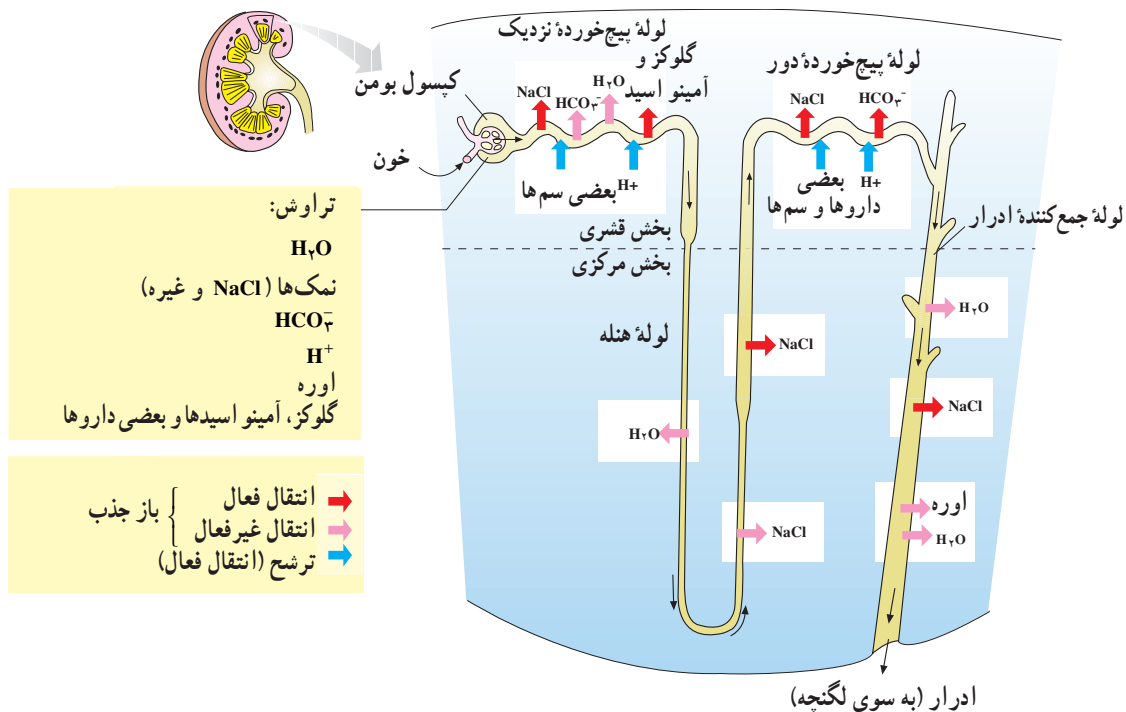
ترشح: در طول لوله‌ی ادراری برخی مواد از خون گرفته و به داخل لوله وارد می‌شوند. یون‌های هیدروژن و پتاسیم و بعضی داروها، مانند پنی‌سیلین از جمله این مواد است.

تشکیل ادرار: ساخته شدن ادرار نتیجه‌ی سه پدیده‌ی تراوش، بازجذب و ترشح مواد در نفرون‌هاست. حجم زیادی از مواد موجود در پلاسمای خون با عبور خون از گلوبول‌ها به درون کپسول بومن تراوش می‌شود. در دنباله‌ی لوله‌ی ادراری، پس از بازجذب بسیاری از این مواد به خون و ترشح مواد دیگر از خون به درون لوله، ترکیب نهایی ادرار مشخص می‌شود.

تراوش: دیواره‌ی مویرگ‌های گلوبول‌ها و دیواره‌ی کپسول بومن نسبت به گلبول‌های قرمز و مولکول‌های درشت، مانند پروتئین‌ها نفوذناپذیر است، ولی سایر مواد از آن می‌گذرند. فشارخون در مویرگ‌های گلوبول‌ها باعث تراوش پلاسما به درون نفرون می‌شود. وجود پروتئین‌های خون تا حدی از نیروی تراوش می‌کاهد. در انسان که کل پلاسمای خون در حدود ۳ لیتر است، حجم ماده‌ی تراوش شده به درون کپسول‌های بومن در هر شبانه‌روز تقریباً به ۱۸۰ لیتر می‌رسد.



شکل ۴-۷ - تشکیل ادرار



شکل ۵-۷ - تراوش، بازجذب و ترشح در یک نفرون

بررسی اثر نوشیدن آب فراوان بر تولید ادرار

آزمایشی طراحی کنید که اثر نوشیدن مقدار زیاد آب را بر سرعت و حجم ادرار تولید شده، نشان دهد. برای این کار، نخست به طور دقیق تعیین کنید می‌خواهید چه چیز را مورد بررسی قرار دهید. چه چیزهایی را باید اندازه بگیرید و این اندازه‌گیری را چگونه می‌خواهید انجام دهید. اجرای این آزمایش لازم نیست. معلم شما پس از طراحی آزمایش توضیحات لازم را برای شما خواهد داد. پس از شنیدن توضیحات، در این مورد نتیجه‌گیری کنید.

تخلیه ادرار: با ورود ادرار از دو میزنا به مثانه به تدریج

فشار درون مثانه افزایش می‌یابد و دیواره آن کشیده می‌شود. ورود ادرار به مثانه با واسطه حرکات دودی شکل ماهیچه‌های صاف دیواره میزنا صورت می‌گیرد. اگر کشش دیواره مثانه به حد خاصی برسد گیرنده‌های آن تحریک می‌شوند و با ارسال پیام‌های عصبی به نخاع انعکاس تخلیه مثانه را، فعال می‌کنند. در شخص بالغ این انعکاس به وسیله مراکز مغزی و به صورت ارادی قابل مهار یا تسهیل است. ماهیچه‌های صاف حلقوی که در نواحی

نقش کلیه‌ها در تنظیم تعادل اسید - باز در بدن: pH

محیط داخلی بدن ثابت و در حد تقریبی ۷/۴ نگهداری می‌شود. کلیه‌ها یکی از عوامل مهم تنظیم تعادل اسید - باز در بدن هستند به این ترتیب که با کم و زیاد کردن دفع هیدروژن و بیکربنات، از اسیدی شدن یا قلیایی شدن خون جلوگیری می‌کنند. هنگامی که محیط داخلی بدن به حالت قلیایی تغییر می‌کند، کلیه‌ها بیکربنات بیشتری دفع می‌کنند. در حالتی که خون وضعیت اسیدی پیدا کند، برعکس دفع هیدروژن در ادرار بیشتر می‌شود.

۱- کدام موادی که در ستون الف نوشته شده است در مایعات ستون ب وجود دارد؟

ستون الف	ستون ب
پروتئین	خون ورودی به کلیه
گلوکز	خون خروجی از کلیه
اوره	پلاسمایی که به کیسول بومن تراوش می‌شود
آب	ادراری که کلیه را ترک می‌کند

۲- هر یک از موارد زیر چه اثری بر مقدار و ترکیبات موجود در ادرار دارد؟

الف - خوردن مقدار زیادی غذای شور

ب - حمام رفتن و دوش گرفتن

ج - نوشیدن مقدار زیادی آب

د - بازی کردن فوتبال به مدت طولانی

ه - خوردن دو عدد آب‌نبات

۳- گفته می‌شود مقدار ادراری که در هوای گرم تولید می‌شود، کمتر از مقدار ادراری است که در هوای سرد

تولید می‌شود.

الف - آزمایشی برای درستی این فرضیه طراحی کنید.

ب - اگر این فرضیه درست باشد، به نظر شما علت چیست؟

پایینی مثانه قرار دارند، به صورت یک اسفنکتر داخلی عمل می کنند و معمولاً منقبض هستند و دهانه میزراه را بسته نگاه می دارند. کمی پایین تر در میزراه ماهیچه حلقوی دیگری از نوع

مخطط قرار دارد که ارادی است. در نوزادان و کودکانی که هنوز ارتباط مغز و نخاع آنها به طور کامل برقرار نشده است، تخلیه مثانه به صورت غیرارادی صورت می گیرد.

خودآزمایی ۲-۷

- ۱- کلیه های انسان چه موادی دفع می کنند؟ نام ببرید.
- ۲- ساختار کلیه انسان را شرح دهید.
- ۳- سه مرحله تشکیل ادرار را شرح دهید.
- ۴- چگونگی تخلیه ادرار را توضیح دهید.

فعالیت ۲-۷



متن زیر را بخوانید و سپس به پرسش های آن پاسخ دهید

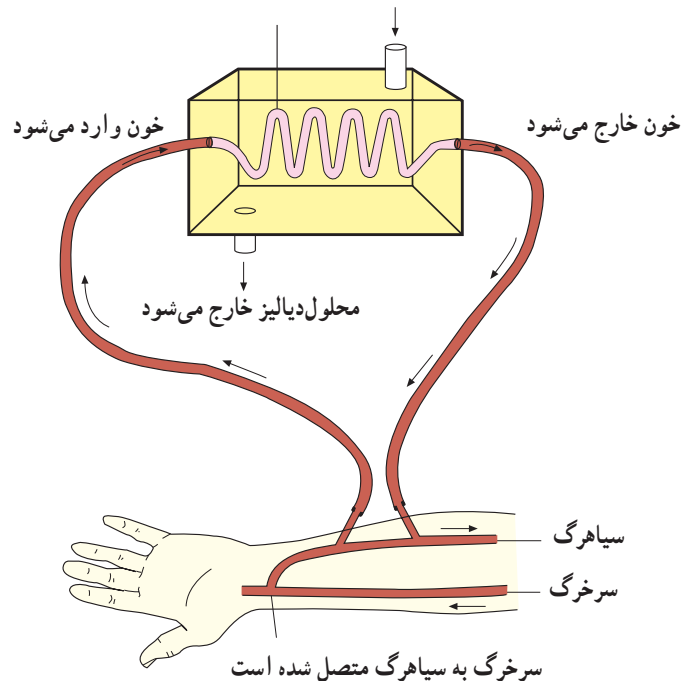
کلیه مصنوعی

کلیه های بعضی افراد به دلایل متعددی از کار می افتند. کلیه مصنوعی به این بیماران کمک فراوان می کند. برای استفاده از کلیه مصنوعی (انجام دیالیز)، نخست با جراحی کوچکی یکی از سرخرگ های دست را به یکی از سیاهرگ های آن متصل می کنند. سپس دو لوله به آن سیاهرگ متصل می کنند (شکل ۶-۷). خون از یکی از این لوله ها به سوی کلیه مصنوعی می رود و از لوله دیگر به بدن بازمی گردد.

چرا باید سیاهرگ را به سرخرگ متصل کرد؟ چون فشار خون سیاهرگی برای راندن خون به درون کلیه مصنوعی کافی نیست. چرا سرخرگ را مستقیماً به کلیه مصنوعی متصل نمی کنند؟ چون سرخرگ ها باریک تر از سیاهرگ ها هستند و برای چنین اتصالی مناسب نیستند. سیاهرگی که برای این کار انتخاب می شود، زیر پوست قرار دارد و دسترسی به آن آسان است. اگر به بازو و ساعد خود نگاه کنید، این سیاهرگ را خواهید دید.

خون در درون دستگاه در تماس غشای ویژه که از جنس نوعی ماده پلی مر، شبیه سلوفان است، قرار می گیرد. در

محلول دیالیز وارد می شود غشای دیالیز کننده



شکل ۶-۷- طرح ساده ای از دستگاه کلیه مصنوعی و طریقه اتصال آن به بدن. غشای دیالیز کننده ممکن است به صورت صفحات مسطح موازی با یکدیگر باشد، یا به صورتی که در شکل می بینید، به صورت لوله ای مارپیچی باشد. هدف از هر دو نوع طرح غشای دیالیز کننده، ایجاد سطح گسترده در محفظه ای کوچک است.

سوی دیگر این غشا، محلولی آبی از مواد مختلفی که بدن به آنها نیاز دارد، با همان غلظت‌های مورد نیاز بدن، قرار دارد. گلوکز و نمک از جمله این مواد هستند.

این غشا نفوذپذیری انتخابی دارد، یعنی به بعضی مواد اجازه عبور از خود را می‌دهد و به بعضی دیگر این اجازه را نمی‌دهد. چنین غشایی، غشای دیالیزکننده نام دارد و محلولی که در آن سوی آن قرار دارد، محلول دیالیز نامیده می‌شود. مواد زاید از خون به محلول دیالیز رانده می‌شوند، درحالی که پروتئین‌های درشت و گلبول‌ها درون خون باقی می‌مانند. محلول دیالیز، دائماً در حال جریان است و مواد زاید را بلافاصله از محل دفع دور می‌کند هنگامی که خون از دستگاه خارج می‌شود، غلظت مواد درون آن، با غلظت این مواد در محلول دیالیز تقریباً مساوی می‌شود. خون تصفیه شده، بدین طریق از کلیه مصنوعی خارج و بار دیگر وارد بدن می‌شود.

کسی که کلیه‌های او کاملاً از کار افتاده است باید تقریباً در هر هفته سه بار و هر بار در حدود پنج ساعت از وقت خود را با دستگاه کلیه مصنوعی بگذراند. امروزه دستگاه‌های قابل حمل کلیه مصنوعی به بازار عرضه شده است و کسانی که می‌خواهند از آن استفاده کنند، می‌توانند آموزش لازم را ببینند.

کلیه مصنوعی یکی از موارد کاربرد فناوری در زندگی روزانه است و تاکنون زندگی هزاران نفر را نجات داده است. ۱- غشای دیالیزکننده چه ساختاری می‌تواند داشته باشد؟ شکلی از برش عرضی آن رسم کنید و شرح دهید چرا پروتئین‌های درشت و گلبول‌های خون نمی‌توانند از آن عبور کنند.

۲- محلول دیالیز دارای موادی به صورت محلول است که غلظت آنها برابر با غلظت همین مواد در خون است. اهمیت این امر در چیست؟ چرا محلول دیالیز باید دائماً در جریان باشد و تعویض شود؟

۳- کلیه مصنوعی دستگاه گران‌قیمتی است. آیا فکر می‌کنید بهتر است برای تکمیل این اختراع سرمایه‌گذاری کرد یا همین سرمایه را صرف کارهای اساسی‌تر کرد؟

۴- تعداد دستگاه‌های کلیه مصنوعی به اندازه‌ای نیست که هرکسی که به آن نیاز دارد، بتواند به‌آسانی از آن استفاده کند. با در نظر گرفتن این که عدم استفاده از آن ممکن است باعث مرگ بیماران شود، فکر می‌کنید چه کسانی برای استفاده از آن در اولویت قرار دارند؟

دفع مواد زاید در گیاهان

مواد با انتشار از طریق روزنه‌ها، دفع می‌شوند.

برخی از مواد دفعی گیاهان ممکن است از طریق افتادن برگ‌ها و بخش‌هایی از پوست گیاهان چوبی، دفع شوند. موادی چون رزین، تانن و صمغ که در نتیجه متابولیسم گیاهان به وجود می‌آیند، در بخش‌هایی از گیاه، مثل مغز ساقه، انبار می‌شوند. در گیاهان علفی، مواد دفعی در واکوتل‌ها و دیواره سلول‌های آنها جمع می‌شوند. برخی از مواد دفعی گیاهان، نقش دفاعی دارند و از خورده شدن گیاه توسط جانوران گیاهخوار جلوگیری می‌کنند، یا گیاه را در مقابل عوامل بیماری‌زا، حفظ می‌کنند.

گیاهان مواد آلی مورد نیاز خود را با استفاده از مواد معدنی محیط، می‌سازند. در حالی که جانوران مواد آلی را از راه تغذیه به دست می‌آورند و سپس آنها را به مواد آلی مورد نیاز خود، تبدیل می‌کنند. در نتیجه متابولیسم گیاهان و جانوران تفاوت‌های زیادی دارند. بیشتر مواد دفعی حاصل از متابولیسم گیاهان شامل اکسیژن، دی‌اکسید کربن و آب است. اکسیژن در نتیجه فتوسنتز تولید و در تنفس سلولی مصرف می‌شود. دی‌اکسید کربن و آب نیز در تنفس سلولی تولید و به عنوان مواد اولیه فتوسنتز، مصرف می‌شوند. مقدار اضافی هر یک از این



- ۱- غذاهای جانوری، چون پروتئینی و در نتیجه آمینو اسید فراوان دارند، pH محیط داخلی بدن را اسیدی می‌کنند. غذاهای گیاهی برعکس باعث قلیایی شدن آن می‌شوند. بیان کنید کلیه‌ها چگونه pH محیط داخلی را ثابت نگه می‌دارند.
- ۲- با توجه به شکل ۷-۵ بیان کنید کدام قسمت‌های نفرون در بخش قشری و کدام قسمت‌های آن در بخش مرکزی قرار دارد.
- ۳- تحقیق کنید برای مراقبت از کلیه‌ها چه باید کرد.
- ۴- به جز کلیه‌ها، اندام دیگری هم در بدن وجود دارد که کار آنها ثابت نگه‌داشتن ترکیب مایع میان بافتی است. این اندام‌ها کدام‌اند و هر کدام چه موادی دفع می‌کنند؟
- ۵- اهمیت وجود شبکهٔ دوم مویرگی چیست؟

خودآزمایی ۷-۳

- ۱- مواد دفعی گیاهان کدام‌اند؟
- ۲- راه‌های دفع مواد را از گیاهان بنویسید.



حرکت

جانوران چگونه حرکت می کنند

بندهای پاهای مورچه، توخالی و لوله مانندند، اما استحکام آنها به اندازه ای است که در اثر نیروهایی که معمولاً مورچه با آنها سروکار دارد، نمی شکنند. ماهیچه های درون این لوله ها بسیار قدرتمند و درعین حال باریک اند. چون وزن بدن مورچه روی هر شش پا وارد می شود، نیرویی که به هر پا وارد می شود، چندان زیاد نیست.

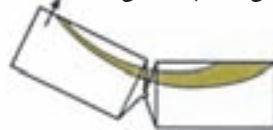
حرکت یکی از ویژگی های جانوران است. بسیاری از جانوران روی پاهای خود راه می روند یا می روند. تعداد پاها در جانوران دو، چهار، شش، هشت و در بعضی حتی بیشتر از هشت است. بعضی جانوران شنا می کنند، گروهی می خزند، بعضی دیگر پرواز می کنند و عده ای راه می روند یا می روند.

مورچه ها در سراسر خشکی های کره زمین، به جز مناطق پوشیده از برف و یخ، زندگی می کنند. این حشرات جاندارانی بسیار پرتحرک هستند. بدن مورچه، نمونه ای از هماهنگی ساختار با کار را نشان می دهد. مورچه ها نیز مانند سایر حشرات اسکلتی خارجی دارند که از جنس ماده محکمی به نام کیتین است. رشته های کیتینی که از جنس نوعی پلی ساکارید سخت و مستحکم هستند، درون ماده ای زمینه ای از جنس پروتئین قرار می گیرند و اسکلت خارجی حشره را می سازند.

هر یک از شش پای مورچه از چند بند ساخته شده است (شکل ۱-۸). بندها در محل مفصل ها به هم متصل می شوند.

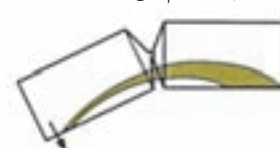


هنگامی که این ماهیچه منقبض می شود، پا بلند می شود.

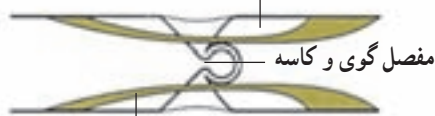


شکل ۱-۸- ساختار پای مورچه

هنگامی که این ماهیچه منقبض می شود، پا به طرف پایین خم می شود.



اسکلت بیرونی (کیتین)

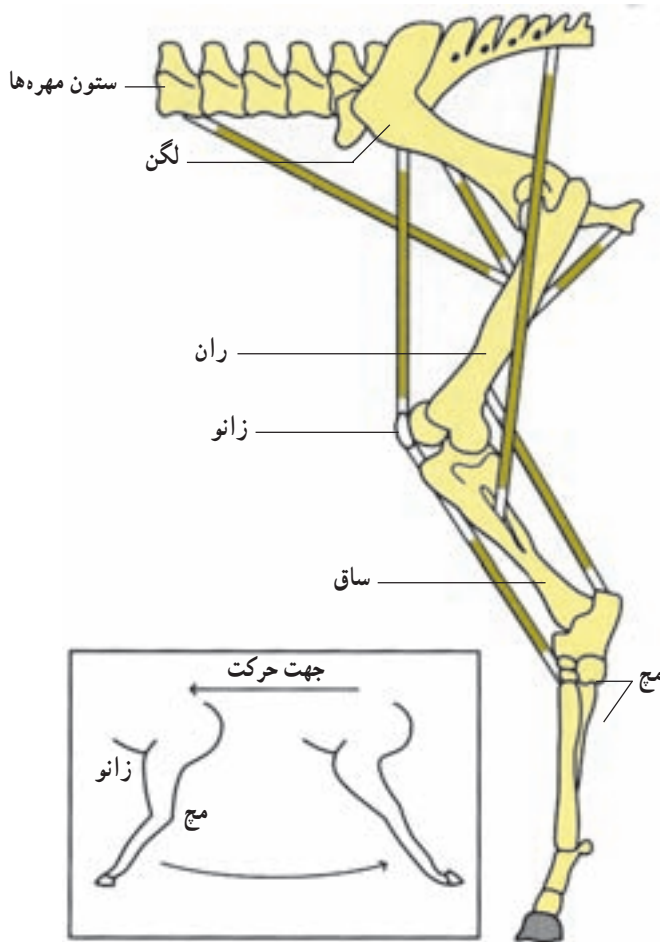


ماهیچه های درون

جانوران نیاز به حرکت دارند

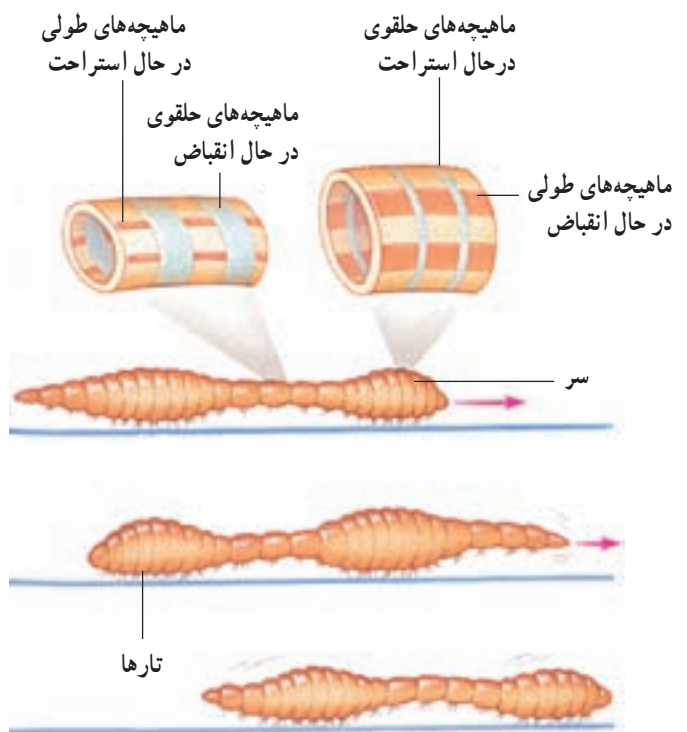
جانوران برای جستجوی غذا، فرار از دشمنان، یا برای یافتن جانوران دیگر، به حرکت کردن نیاز دارند. تعداد اندکی از جانداران ثابت‌اند و جابه‌جا نمی‌شوند. این جانوران عموماً آبی هستند و آب را در پیرامون خود به حرکت درمی‌آورند. شقایق دریایی که از کیسه‌تنان است و نیز اسفنج‌ها جانورانی ثابت‌اند. سایر جانوران متحرک هستند.

بعضی از جانوران بدون پا حرکت می‌کنند: بعضی جانوران، مانند کرم‌خاکی پا ندارند و با حرکت دادن ماهیچه‌های طولی و حلقوی زیر پوست خود جابه‌جا می‌شوند تا رهای سطح بدن کرم‌خاکی به این حرکت کمک می‌کنند (شکل ۲-۸). این جانور می‌تواند بدن خود را درازتر یا کوتاه‌تر کند و بدین طریق درون زمین یا بر سطح آن حرکت کند.



با به عقب حرکت می‌کند و سپس به حالت مستقیم درمی‌آید.

شکل ۳-۸- چگونگی حرکت اندام حرکتی عقبی اسب

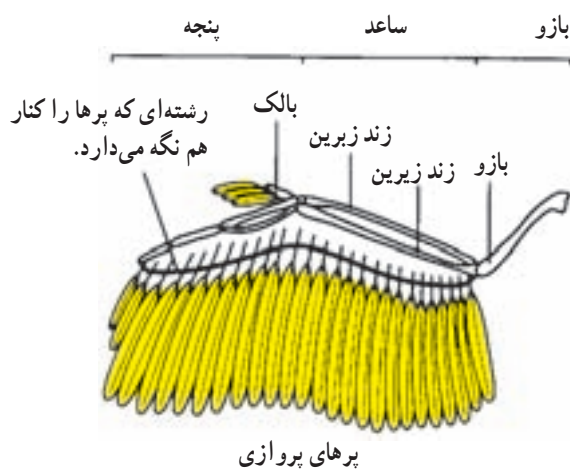


شکل ۲-۸- چگونگی حرکت کرم‌خاکی

بیشتر جانوران با کمک پاها حرکت می‌کنند: چگونگی حرکت پاهای حشرات در شکل ۱-۸ نشان داده شده است.

می‌کند. باله‌های سینه‌ای با کمک باله‌های پشتی و لگنی برای تغییر جهت حرکت به کار می‌روند (شکل ۴-۸). بسیاری از ماهی‌ها درون بدن خود بادکنک شنا دارند که به حرکات عمودی آنها کمک می‌کند.

پرواز: سه گروه از جانداران می‌توانند پرواز کنند: حشرات، پرندگان و خفاشان. پرندگان با کمک بال‌های خود که با پر پوشیده شده‌اند، پرواز می‌کنند (شکل ۵-۸).



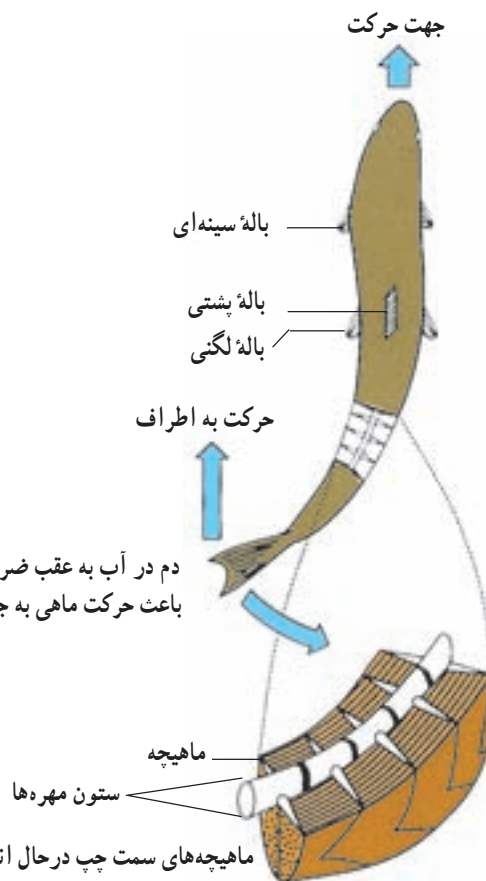
شکل ۵-۸ - بال یک پرنده

حرکت پرنده در هوا با حرکت دادن بال‌ها یا گاه بدون حرکت دادن آنهاست. پرواز پرنده شباهت زیادی به حرکت بادبادک در هوا دارد. هنگام حرکت، فشار هوای زیر بال‌ها افزایش می‌یابد و در همان حال از فشار هوای بالای بال‌ها کاسته می‌شود (شکل ۶-۸). نتیجه این تغییرات صعود پرنده است.

به نقش بالک در پرواز پرندگان توجه کنید. در شکل ۶-۸، سمت چپ، مشاهده می‌کنید که بدون بالک، جریان آشفته‌هوا در زیر و روی بال به وجود می‌آید. این جریان آشفته‌هوا از ادامه پرواز جلوگیری می‌کند.

شناکردن: ماهی با حرکت دادن باله‌دومی خود به چپ و راست، به جلو حرکت می‌کند (شکل ۴-۸). مساحت باله‌دومی به نسبت زیاد است. شکل دوکی بدن ماهی، حرکت آن را در آب آسان می‌کند.

اسکلت ماهی درونی است و جانور با حرکت دادن ماهیچه‌های دوسوی ستون مهره‌ها به طور متناوب، به جلو می‌رود. ماهی‌ها در حال حرکت مسیر خود را تغییر می‌دهند، به چپ، راست، پایین یا بالا می‌روند، به حرکت خود سرعت می‌بخشند، آن را کندتر می‌کنند، یا متوقف می‌شوند. حرکت باله‌های سینه‌ای به تندتر یا کندتر کردن حرکت ماهی، کمک



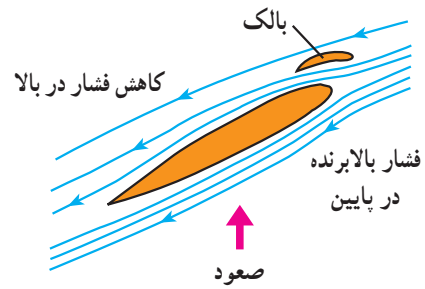
دم در آب به عقب ضربه می‌زند و باعث حرکت ماهی به جلو می‌شود.

ماهیچه‌های سمت چپ در حال انقباض هستند و ماهیچه‌های سمت راست استراحت می‌کنند.

شکل ۴-۸ - ماهی باله‌دومی خود را به چپ و راست، حرکت می‌دهد و جابه‌جا می‌شود.



ب - در صورتی که بالک وجود نمی‌داشت، پرنده نمی‌توانست صعود کند.



الف - بالک به صعود پرنده کمک می‌کند.

شکل ۸-۶ - نقش‌های بال و بالک هنگام پرواز

فعالیت ۸-۱



مشاهده حرکت جانوران

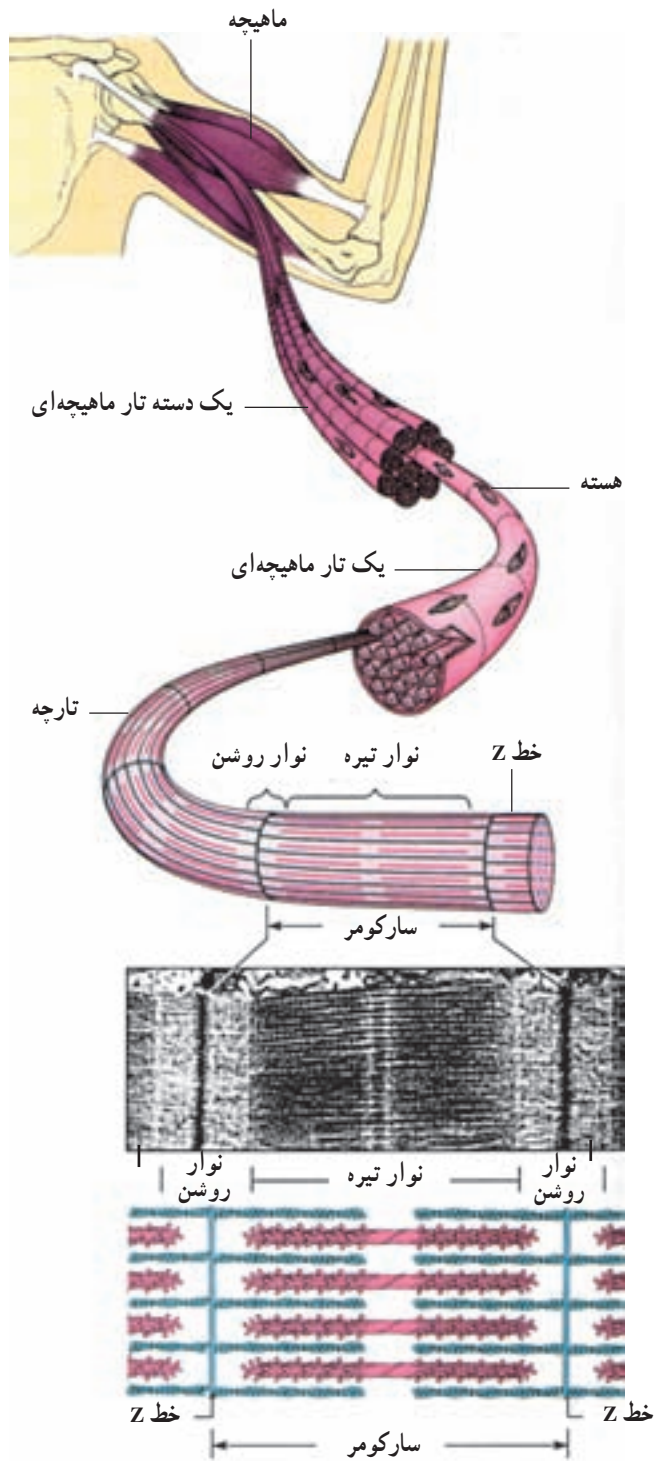
- ۱- چند جانور از جانوران زیر را در حال حرکت مشاهده کنید: کرم خاکی، خرچنگ و مویز. مواظب باشید به آنها آزار نرسانید. مشاهدات خود را شرح دهید.
- ۲- بعضی جانوران روی زمین سر می‌خورند و با سُریدن حرکت می‌کنند. در این باره در این فصل شرحی داده نشده است. تحقیق کنید کدام جانوران چنین حرکت می‌کنند؟ حرکت آنها چگونه است؟ شرح دهید.

تیره و روشن را که به آنها منظرهٔ منقطع (خط‌دار) می‌دهد، مشاهده می‌کنیم (شکل ۸-۷). در ماهیچهٔ قلبی نیز همین تناوب لایه‌های تیره و روشن وجود دارد، ولی ماهیچه‌های صاف وضع متجانس دارند و خط‌دار نیستند. هر تار ماهیچه‌ای از پوششی به نام سارکولم احاطه شده و درون آن چندین تارچه وجود دارد. هسته‌ها و تعدادی میتوکندری و کمی سارکوپلاسم (سیتوپلاسم معمولی سلول ماهیچه‌ای) در زیر سارکولم دیده می‌شود. هر تارچه از توالی تعدادی سارکومر درست شده است و هر سارکومر بخشی است که بین دو خط Z قرار دارد (شکل ۸-۷). پس از هر خط Z یک نوار روشن و در دنبال آن یک بخش تیره وجود دارد. این بخش تیره خود به وسیلهٔ یک صفحه بسیار روشن، به نام صفحهٔ هنسن به دو بخش برابر تقسیم شده است. پس از بخش تیره یک نوار روشن دیگر وجود دارد که به خط Z بعدی ختم می‌شود. در وسط صفحهٔ هنسن نیز خط تیرهٔ M دیده می‌شود.

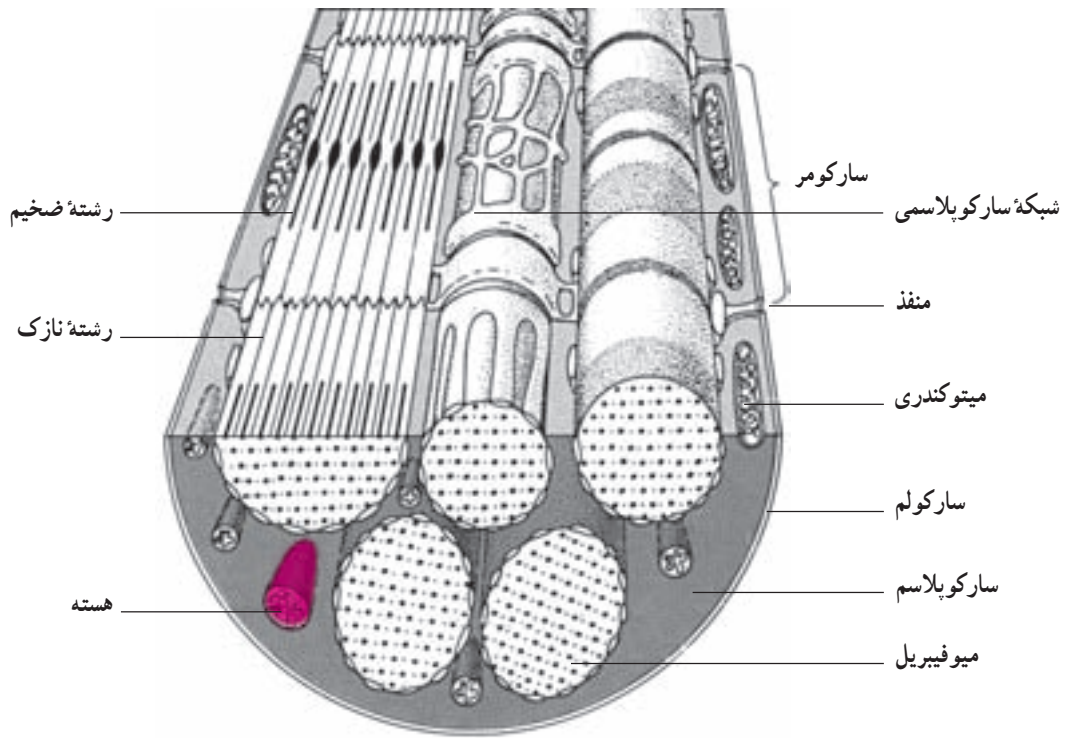
آدمی با کمک ماهیچه‌ها و استخوان‌ها حرکت می‌کند

ماهیچه‌ها: حرکت به صورت‌های مختلف در همهٔ سلول‌های زنده دیده می‌شود، ولی سلول‌های ماهیچه‌ای اختصاصاً برای حرکت تمایز یافته‌اند. سلول‌های ماهیچه‌ای به صورت تارهای قابل انقباض درآمده‌اند و به سه نوع ماهیچهٔ منقطع، ماهیچهٔ صاف و ماهیچهٔ قلبی تقسیم می‌شوند.

ساختار ماهیچهٔ منقطع (ماهیچهٔ اسکلتی): واحد ساختاری ماهیچه‌های منقطع تارهایی به قطر ۱۰ تا ۱۰۰ میکرون است که طول متفاوت دارند و میون نامیده می‌شوند. میون‌ها، در ماهیچه به وسیلهٔ سیمانی از بافت پیوندی در کنار یکدیگر قرار دارند و غلافی پیوندی مجموعه آنها را می‌پوشاند. این غلاف در سر تارها به هم می‌پیوندند و زردپی‌های دو سر ماهیچه‌ها را می‌سازند. زردپی از نوع بافت پیوندی بسیار مقاوم است و نیروی انقباض ماهیچه را به استخوان‌ها منتقل می‌کند. اگر یک تار ماهیچه‌ای منقطع را در زیر میکروسکوپ بررسی کنیم، وجود لایه‌های



شکل ۷-۸- ساختار ماهیچه، تار ماهیچه‌ای، تارچه و سارکومر



شکل ۸-۸- ساختار بخشی از یک سلول ماهیچه‌ای

در حالت آرامش، وجود دارد و باعث سختی نسبی آنها می‌شود، تونوس ماهیچه‌ای خوانده می‌شود. تونوس ماهیچه‌های گردن و تنه باعث حفظ وضعیت سر و تنه می‌شود. در حفظ تونوس ماهیچه‌ای، تارهای ماهیچه‌ای به نوبت به انقباض درمی‌آیند و در نتیجه ماهیچه خسته نمی‌شود. تونوس ماهیچه‌ها هنگام خواب رفتن متوقف می‌شود. به این دلیل هنگام به خواب رفتن گردن و پلک‌ها به پایین می‌افتند.

استخوان‌ها علاوه بر استحکام و حرکت و وظایف

دیگری نیز عهده‌دار هستند.

استخوان‌ها: اسکلت داخلی بدن مهره‌داران در بعضی

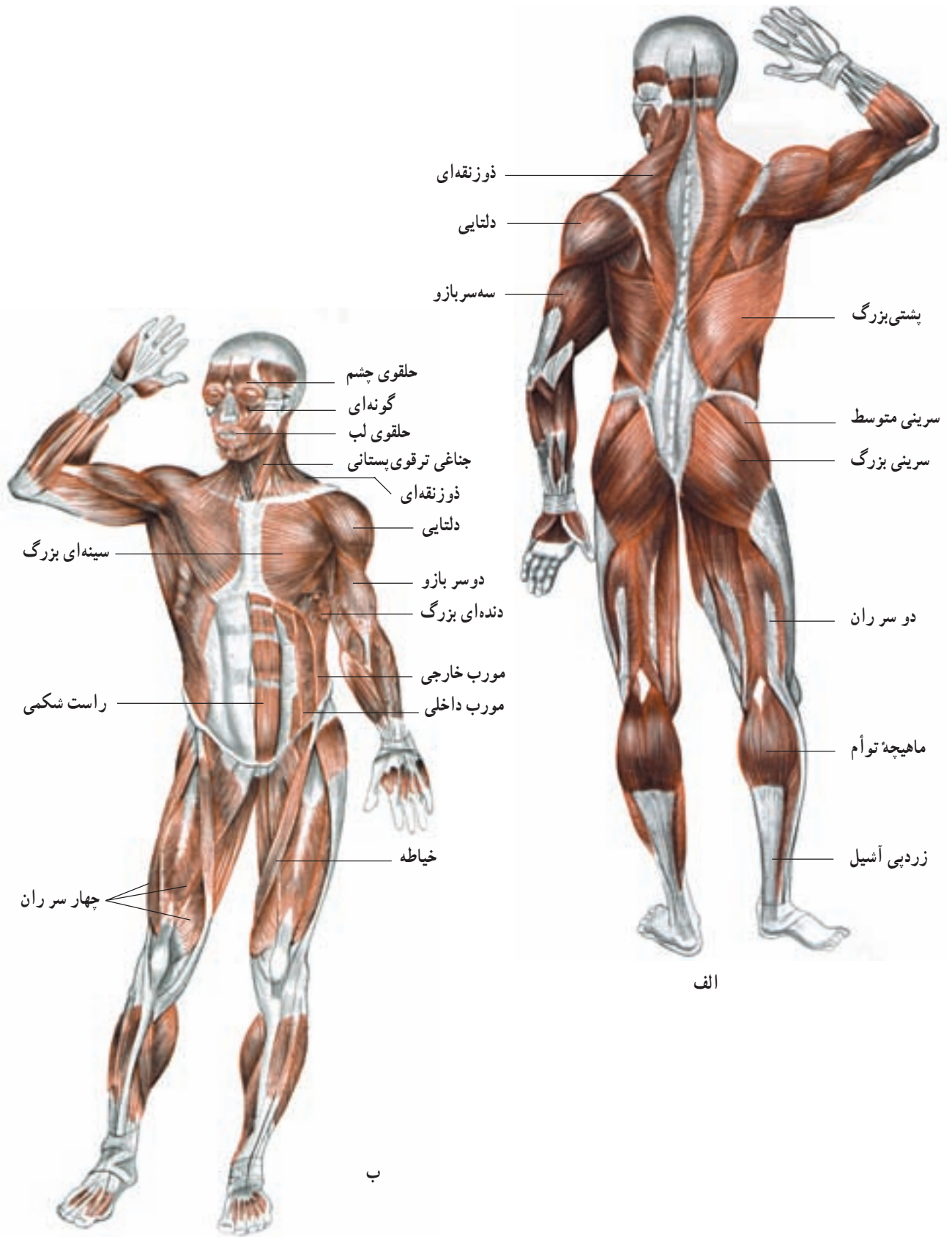
ماهی‌ها غضروفی، اما در سایر مهره‌داران استخوانی است. اسکلت محور و تکیه‌گاه ماهیچه‌های بدن است و بخش‌های سازنده آن با انقباض ماهیچه‌ها به حرکت درمی‌آیند. استخوان جمجمه مغز و استخوان‌های قفسه سینه، قلب و شش‌ها را از آسیب‌های مکانیکی خارجی محافظت می‌کنند. بیشترین تعداد عناصر سلولی خون در مغز استخوان ساخته می‌شوند.

شبکه آندوپلاسمی که در تارهای ماهیچه‌ای شبکه سارکوپلاسمی خوانده می‌شود، در سلول‌های ماهیچه‌ای گسترش زیاد یافته و اطراف هر تارچه را احاطه کرده است. این شبکه در فواصل منظم، در هر سارکومر، به صورت کیسه‌هایی متسع می‌شود و لوله‌های عرضی به درون سارکومر وارد می‌کند (شکل ۸-۸). شبکه آندوپلاسمی و لوله‌های عرضی آن، مقدار زیادی کلسیم ذخیره‌ای دارند و در انقباض نقش اساسی ایفا می‌کنند (فصل ۲).

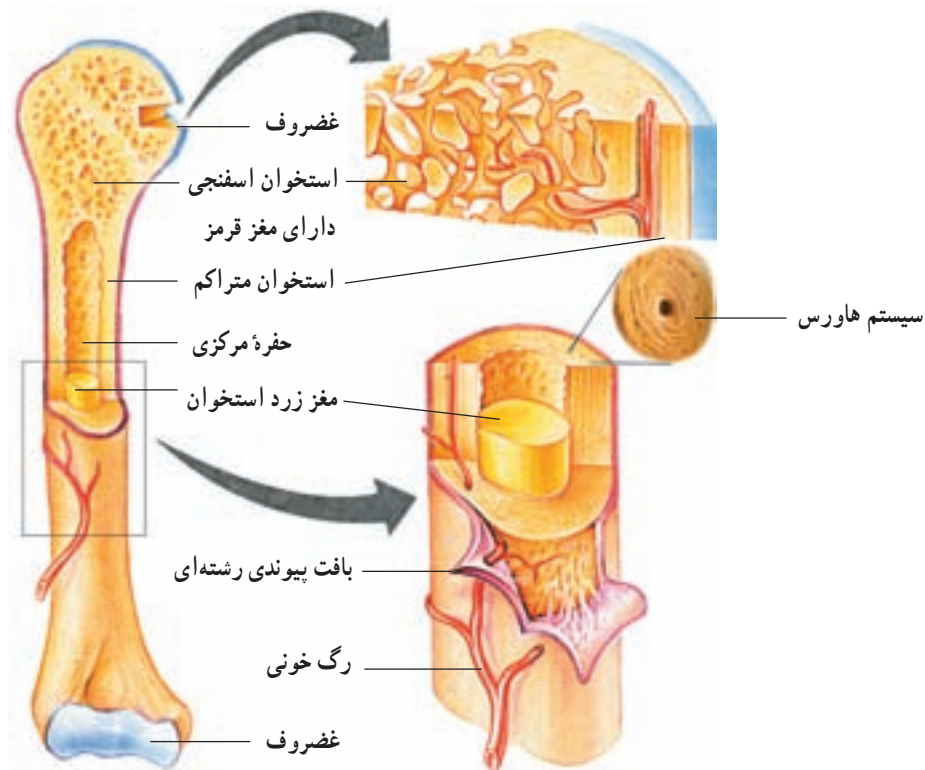
انقباض ایزوتونیک و ایزومتریک: انقباض ماهیچه

در صورتی ایزوتونیک (با کشش ثابت) است که طول ماهیچه تغییر کند. چنانچه انقباض ماهیچه به علت مقاومت شدیدی که در برابر آن وجود دارد، نتواند طول ماهیچه را کم کند، از نوع ایزومتریک است. نگاه داشتن یک وزنه بدون حرکت دادن آن نتیجه انقباض ایزومتریک، اما حرکات بدن از نوع ایزوتونیک است.

تونوس ماهیچه‌ای: انقباض خفیفی که در ماهیچه‌ها،



شکل ۹-۸- مهم‌ترین ماهیچه‌های بدن انسان



شکل ۱۰-۸- ساختار یک استخوان دراز و بخش‌های اسفنجی و متراکم آن

دایره‌های متحدالمرکز در اطراف یک مجرای هاورس در درون مادهٔ زمینهٔ استخوانی قرار گرفته‌اند و یک سیستم هاورس را می‌سازند. اجتماع سیستم‌های هاورس در اطراف مغز استخوان بافت استخوانی متراکم را به وجود می‌آورد.

در بافت اسفنجی سلول‌ها به صورت نامنظم، در کنار یکدیگر، قرار دارند و تیغه‌هایی از مادهٔ زمینهٔ استخوانی در بین آنها وجود دارد و مغز استخوان حفره‌های متعددی را که بین این تیغه‌ها تشکیل می‌شود، پر می‌کند.

بافت استخوانی: در بدن انسان و سایر مهره‌داران سه نوع استخوان: دراز (ران)، کوتاه (بند‌های انگشتان) و پهن (جمجمه) وجود دارد. ساختار بافتی این استخوان‌ها از دو نوع متراکم و اسفنجی است.

تنهٔ استخوان‌های دراز و بخش‌های خارجی استخوان‌های کوتاه و پهن از نوع متراکم و دوسر استخوان‌های دراز و بخش میانی استخوان‌های کوتاه و پهن از نوع اسفنجی (شکل ۱۰-۸) است. در بافت استخوانی متراکم سلول‌های استخوانی به صورت

فعالیت ۲-۸

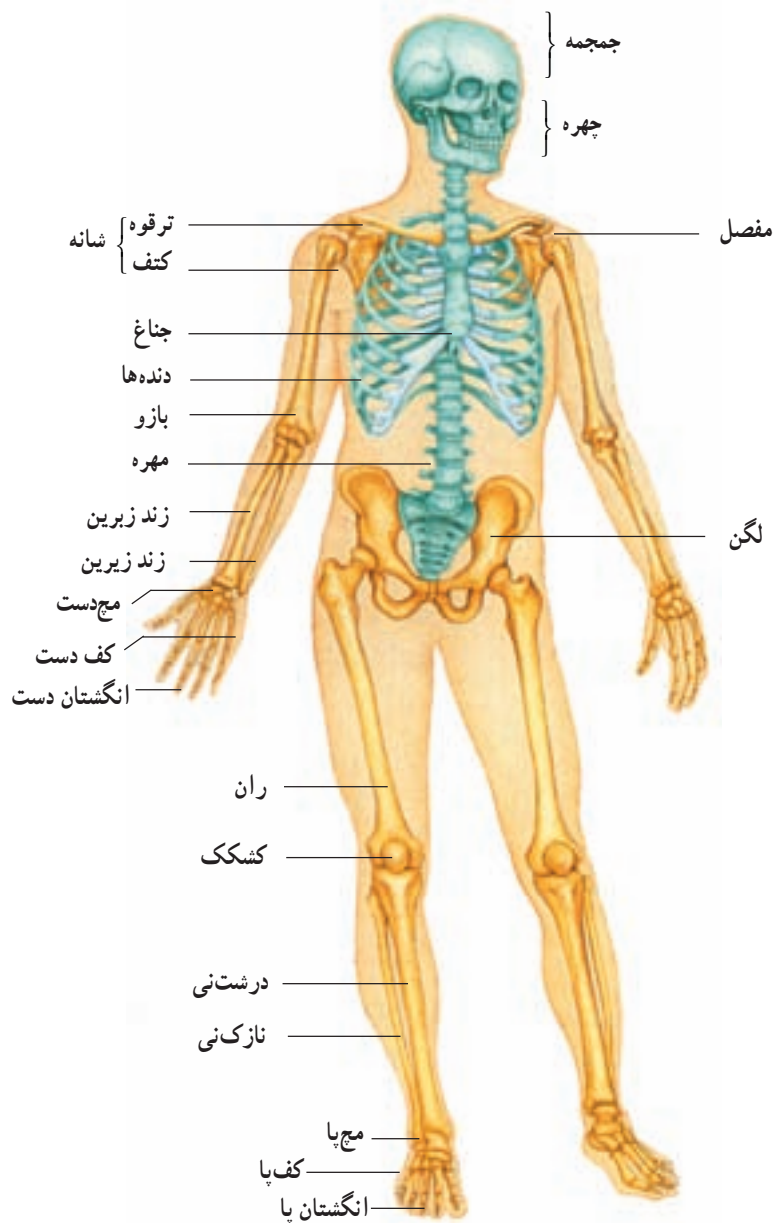


۱- معلم شما یک مدل اسکلت انسان، یا تصویری از آن را به شما نشان می‌دهد. بخش‌های زیر را در این اسکلت پیدا کنید:

جمجمه، آروارهٔ پایین، ستون مهره‌ها، دنده‌ها، جناغ، کتف، ترقوه، لگن، ساعد و ساق

۲- اکنون با رسم طرح‌های ساده‌ای از استخوان‌ها و مفصل‌های درگیر، حرکت‌های زیر را رسم کنید:

خم کردن زانو، بالا بردن بازو و خم کردن سر به پایین

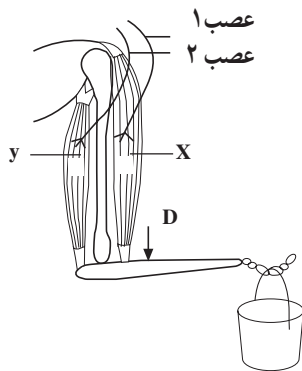


شکل ۱۱-۸- استخوان بندی بدن انسان

بیشتر بدانید

ورزش در فضا

کاهش حرکت و استفاده نکردن از عضلات و اسکلت، روند تحلیل و تخریب بافت عضلانی و استخوانی را تسریع می‌کند. این روند تخریبی در فضا به سبب ناچیز بودن گرانش و یا نبود آن سرعت بیشتری دارد. بنابراین فضانوردانی که به سفرهای فضایی طولانی می‌روند، در صورتی که در فضا به‌طور جدی ورزش نکنند، حجم زیادی از بافت استخوانی و عضلانی خود را از دست می‌دهند.



شکل ۱۲-۸

با توجه به شکل ۱۲-۸ به سؤالات زیر پاسخ دهید :

۱- هر یک از بخش‌هایی که در شکل مشاهده می‌کنید، چه کار(ها)یی انجام می‌دهند؟ ماهیچه‌ها، زردپی‌ها، رباط‌ها، مفصل.

۲- در این شکل می‌بینید که وقتی یکی از ماهیچه‌ها منقبض می‌شود، ماهیچه دیگر باید به حالت استراحت باشد : وقتی ماهیچه X منقبض می‌شود، ماهیچه Y استراحت می‌کند.

توضیح دهید چگونه چنین کاری امکان‌پذیر است. در توضیحات خود از واژه‌های زیر استفاده کنید : عصب ۱، عصب ۲، مغز، نخاع، هماهنگی، هماهنگ کننده.

۳- دست، برای بالا بردن سطل، به شکل اهرم کار می‌کند.

الف - نوع اهرمی را که در هنگام بالا بردن سطل ایجاد می‌شود، شرح دهید.

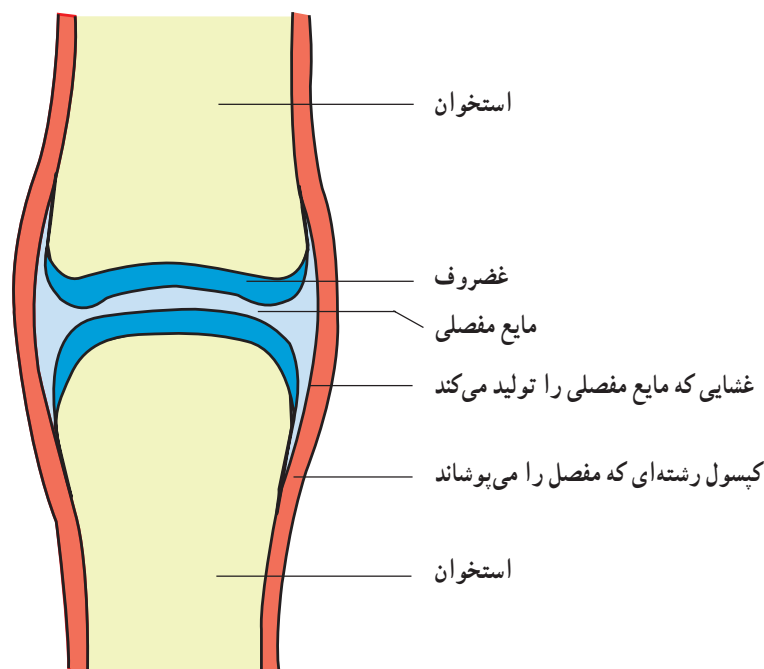
ب - اگر ماهیچه X به نقطه D متصل می‌بود، چه اثری بر کار این اهرم می‌گذاشت؟ در این حالت آیا به نیروی بیشتری نیاز می‌داشت یا به نیروی کمتری؟ چرا؟

ج - فکر می‌کنید چرا ماهیچه X این اندازه به مفصل آرنج نزدیک است؟

آسان می‌کند و اصطکاک میان آن دو را کاهش می‌دهد. مایع مفصلی مناسب‌ترین مایع برای کاهش دادن اصطکاک میان دو سطح است که روی هم می‌لغزند.

مفصل‌ها محل اتصال استخوان‌ها با یکدیگر هستند

به شکل (۱۳-۸) توجه کنید. در این شکل یک مفصل نشان داده شده است. مایعی به نام مایع مفصلی بین دو استخوان قرار دارد. این مایع لغزیدن دو استخوان را در مجاورت یکدیگر



شکل ۱۳-۸ - ساختار یک مفصل

دهید. این استخوان‌ها در جهات جلو و عقب حرکت می‌کنند. مفصل زانو از نوع لولایی است، چون کار آن با کار لولای در شبیه است.

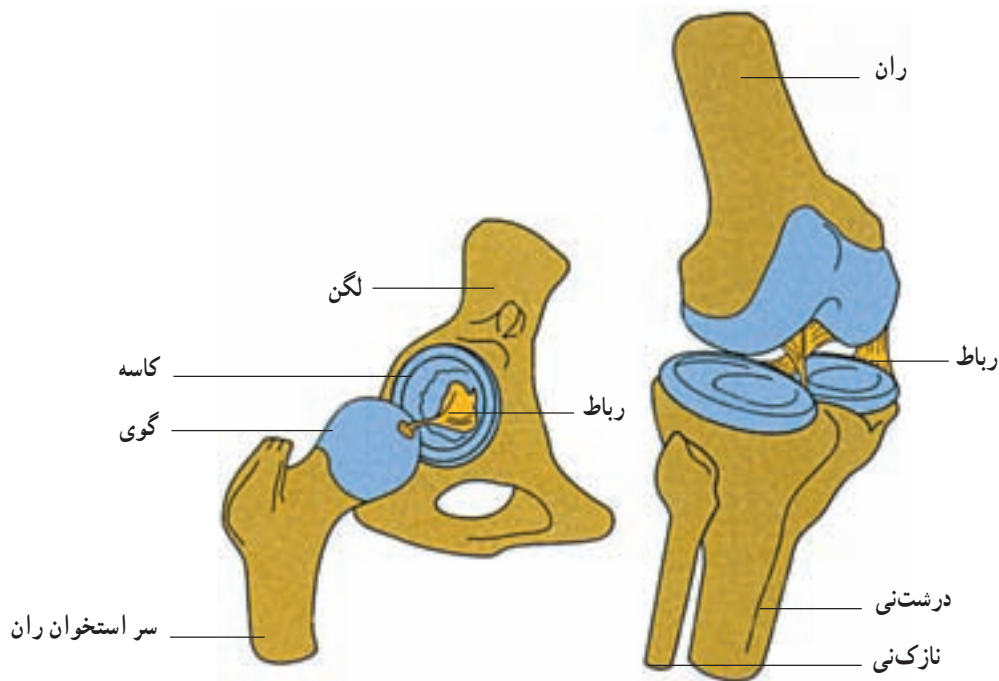
اتهای استخوان‌ها غضروفی است. غضروف از استخوان نرم‌تر است و حرکت استخوان‌ها را در محل مفصل‌ها آسان‌تر می‌کند.

مفصل‌ها نقاط ضعف اسکلت هستند. بنابراین نگهداری و محافظت از آنها لازم است.

رباط‌ها استخوان‌ها را در محل مفصل‌ها متصل به یکدیگر نگه می‌دارند

انواع مفصل: محل اتصال سر استخوان ران به استخوان نیم‌لگن از نوع گوی و کاسه است (شکل ۸-۱۴). مفصل گوی و کاسه باعث می‌شود استخوان‌ها بتوانند در همه جهات بچرخند. شما می‌توانید خود این ویژگی را آزمون کنید. هنگامی که ایستاده‌اید پای خود را به جلو، عقب، چپ و راست حرکت دهید و سپس آن را حول مفصل ران بچرخانید. اکنون سعی کنید استخوان‌های مفصل زانو را حرکت

اگر استخوان‌ها، در محل مفصل‌ها، با رشته‌هایی به یکدیگر متصل نبودند، به آسانی از یکدیگر جدا می‌شدند. کپسول رشته‌ای که محل مفصل را می‌پوشاند (شکل ۸-۱۳) و نیز رباط‌ها و حتی ماهیچه‌ها، دو استخوان را در محل مفصل‌ها، در اتصال با یکدیگر نگه می‌دارند. بعضی رباط‌ها در خارج از محل مفصل و بعضی دیگر درون آن هستند (شکل ۸-۱۴).



شکل ۸-۱۴ - دو نوع مفصل گوی و کاسه‌ای و لولایی. در هر دو مفصل کپسول رشته‌ای برداشته شده و استخوان‌ها در محل طبیعی خود از یکدیگر دورتر رسم شده‌اند.

فعالیت ۴-۸



مفصل شانه و مفصل آرنج از کدام نوع هستند؟ چرا؟

رابط‌ها حرکت‌های استخوان‌ها را در محل مفصل‌ها،
محدود می‌کنند.
- از بیماری‌های قلب و رگ‌ها جلوگیری می‌کند.
- توانایی بدن ما را برای انجام کارهای روزانه افزایش
می‌دهد.

ورزش و نرمش
بدن ما به دلایل متعددی به ورزش کردن نیازمند است. سلامتی داشته باشیم.
ورزش:
- وزن بدن ما را متعادل نگه می‌دارد.
- اعتماد به نفس ما را افزایش می‌دهد و توانایی ما را
در غلبه بر فشارها و مشکلات زندگی، افزایش می‌دهد.

بیشتر بدانید

ورزش عامل حفظ بهداشت بدن

ابن سینا دانشمند شهیر اسلامی در «کلیات قانون» درباره بهداشت به وسیله ورزش با دقت و تفصیل سخن گفته است. به نظر او اگر ورزش مطابق دستور پزشک و در زمان مناسب انجام شود، یک روش درمانی است که حتی می‌تواند جایگزین روش‌های دیگر هم شود. ابن سینا انواع ورزش‌ها را از نظر شدت، شرح می‌دهد و توصیه می‌کند که ورزش باید متنوع باشد و نباید فقط به یک نوع ورزش اکتفا کرد. هم‌چنین برای بیماری‌های مختلف ورزش‌های خاص لازم است.

فعالیت ۵-۸



شکل ۱۵-۸

توجه: اگر به بیماری قلبی مبتلا هستید، از انجام این فعالیت خودداری کنید.
برای انجام این فعالیت به یک چارپایه یا صندلی به ارتفاع تقریبی ۴۳ سانتی‌متر احتیاج دارید و شما باید در هر دقیقه ۳۰ بار روی آن بالا و پایین بروید. بنابراین برای هر بار بالا رفتن یا پایین آمدن ۲ ثانیه وقت دارید.

این فعالیت را دونفری انجام دهید: یک نفر زمان و ضربان‌های قلب را اندازه می‌گیرد و نفر دوم تمرین‌ها را انجام می‌دهد.

۱- به مدت ۵ دقیقه روی صندلی یا چارپایه بالا و پایین شوید.

۲- به مدت ۱ دقیقه بنشینید و استراحت کنید.

۳- تعداد ضربان‌های قلب خود را به مدت ۳۰ ثانیه اندازه‌گیری کنید و عددی را که به دست

می‌آورید، A بنامید.

۴- ۳۰ ثانیه دیگر استراحت کنید.

۵- بار دیگر به مدت ۳۰ ثانیه تعداد ضربان‌های قلب خود را اندازه بگیرید و عددی را که به دست می‌آورد B بنامید.

۶- ۳۰ ثانیه استراحت کنید.

۷- مجدداً، به مدت ۳۰ ثانیه تعداد ضربان‌های قلب خود را اندازه‌گیری کنید و عدد حاصل را C بنامید.

۸- اکنون محاسبه زیر را انجام دهید: $A + B + C$

۹- عددی را که به دست می‌آورد با اعداد جدول زیر مقایسه کنید :

اکنون به پرسش‌های زیر پاسخ دهید :

۱- در انجام این فعالیت، توانایی چه بخش‌هایی از بدن شما سنجیده می‌شود.

۲- آیا فکر می‌کنید چنین آزمایشی برای درک میزان آمادگی بدن مناسب است؟ چه تقاضایی در آن وجود دارد؟

جدول ۸-۱

پسر	دختر	آمادگی بدن برای انجام کارهای بدنی
۱۷۵ یا کمتر	۱۹۰ یا کمتر	زیاد
در حدود ۲۰۰	در حدود ۲۲۰	مناسب
در حدود ۲۱۵	در حدود ۲۳۵	کم
در حدود ۲۳۰	در حدود ۲۵۰	بسیار کم

خودآزمایی ۸-۱

- ۱- جانوران به چه علت‌هایی حرکت می‌کنند؟
- ۲- چه جانورانی بیشتر ثابت هستند؟ چرا؟
- ۳- چگونگی حرکت کرم‌خاکی را شرح دهید.
- ۴- اسکلت درونی و اسکلت بیرونی هر یک در چه جانورانی یافت می‌شود؟
- ۵- چگونگی شنا کردن ماهی را شرح دهید.
- ۶- بادکنک شنای ماهی‌ها چه کمکی در حرکت به آنها می‌کند؟
- ۷- نقش بالک را در پرواز پرندگان شرح دهید.
- ۸- اصطلاحات زیر را تعریف کنید :
میون، سارکوپلاسم، شبکه سارکوپلاسمی، سارکومر، تونوس ماهیچه‌ای
- ۹- چرا ماهیچه مخطط به این نام خوانده می‌شود؟ شرح دهید.
- ۱۰- انقباض ایزوتونیک را با انقباض ایزومتریک مقایسه کنید.
- ۱۱- سه نوع استخوان موجود در انسان را با یکدیگر مقایسه کنید.
- ۱۲- دو نوع بافت استخوانی را با یکدیگر مقایسه کنید.
- ۱۳- اصطلاحات زیر را شرح دهید : سیستم هاورس، مایع مفصلی، کپسول رشته‌ای، رباط
- ۱۴- انواع مفصل را نام ببرید و آنها را با یکدیگر مقایسه کنید.
- ۱۵- بدن انسان به چه دلایلی به ورزش نیازمند است؟ حداقل پنج مورد را شرح دهید.

گیاهان نیز حرکت می کنند

حرکت های فعال. باز شدن هاگدان ها و پراکنده شدن هاگ ها و نیز باز شدن میوه ها در اثر تغییر میزان رطوبت هوا صورت می گیرند و در نتیجه غیر فعال هستند؛ چون سلول هایی که چنین وظایفی برعهده دارند، مرده اند و حرکت های فعال فقط در بخش های زنده گیاه انجام می شوند.

در ظاهر به نظر می رسد گیاهان در زیستگاه خود ثابت اند و حرکت نمی کنند؛ اما با کمی دقت می توان حرکات گیاهان را نیز مشاهده کرد. به شکل ۸-۱۶ توجه کنید. آیا این شکل بیان کننده نوعی حرکت در گیاهان است؟ گیاهان دو نوع حرکت دارند: حرکت های غیر فعال و



شکل ۸-۱۶ - چرا ساقه این گیاهان نورسته به سمت پنجره خم شده اند؟

فعالیت ۸-۶



- ۱- یک مخروط (میوه) باز شده گیاه کاج را تهیه کنید.
- ۲- این مخروط را درون یک لیوان آب فرو ببرید.
- ۳- هر ۱۵ دقیقه یک بار به آن نگاه کنید.
- ۴- مشاهدات خود را یادداشت و تفسیر کنید.

پیچش، یعنی رشد مارپیچی نوک ساقه گیاهان پیچنده، از حرکت های خود به خودی است. پیچش به این علت به وجود می آید که در هر زمان سرعت رشد در بخشی از ساقه، بیشتر از سایر بخش هاست. وقتی نوک ساقه به جسم باریکی، مانند شاخه گیاهی دیگر برخورد کند، حرکت پیچشی باعث می شود ساقه به تکیه گاه محکم شود. نوک برگ بعضی گیاهان نیز پیچش انجام می دهد

حرکت های فعال: بعضی از حرکت های گیاهی در اثر عوامل درونی گیاه، مانند رشد نابرابر بخش های مختلف یک اندام، تغییر در حجم سلول به علت جذب یا ازدست دادن آب، صورت می گیرد. در این گونه حرکت ها، محرک های بیرونی، مانند نور، نیروی جاذبه و غیره دخالتی ندارند. چنین حرکت هایی، حرکت های خود به خودی نامیده می شوند.

(شکل ۱۷-۸). حرکت‌های گرایشی: پاسخ اندام‌های درحال رویش به محرک‌های خارجی، مانند نور، گرما، آب، مواد شیمیایی و جاذبه زمین است. گیاه به سوی این عوامل، یا به سمت مخالف آن، خم می‌شود، نورگرایی، زمین‌گرایی، شیمی‌گرایی، آب‌گرایی و گرماگرایی از انواع جنبش‌های گرایشی هستند. شکل ۱۶-۸، در واقع نوعی نورگرایی را نشان می‌دهد.

بعضی دیگر از حرکت‌های گیاه در اثر محرک‌های بیرونی انجام می‌شوند. این نوع حرکت‌های فعال حرکت‌های القایی نامیده می‌شوند. حرکت‌های القایی را می‌توان در سه گروه حرکت‌های گرایشی، حرکت‌های تاکتیکی و حرکت‌های تنجشی جای داد.



شکل ۱۷-۸ - پیچش نوک برگ گیاهان تیره پروانه‌واران

فعالیت ۷-۸

چند دانه لوبیا را در محیطی قرار دهید تا جوانه بزنند. اکنون با این دانه‌های تازه رویده، و نیز با چند دستمال کاغذی یا مقداری پنبه، چند سوزن و یک مقوا یا تخته بزرگ، آزمایشی طراحی و اجرا کنید که فرضیه زیر را مورد آزمون قرار دهد: «دانه‌های نورسته را در هر وضعیتی که قرار دهیم، ریشه به سمت زمین گرایش پیدا می‌کند». توجه داشته باشید نتیجه این آزمایش چند روز بعد به دست می‌آید. در این مدت دانه‌ها باید دائماً مرطوب باشند. روش کار خود را شرح و نتیجه آن را گزارش دهید. این آزمایش کدام یک از انواع حرکت‌های گرایشی را مورد آزمون قرار می‌دهد؟

قرار می‌گیرند. گل‌های بعضی گیاهان نیز هنگام روز باز و در شب بسته می‌شود. چنین حرکت‌هایی شب‌تنجی نامیده می‌شوند. گیاه حساس نیز برگ‌های مرکب دارد. لمس کردن یکی از این برگ‌ها باعث تاخوردن و بسته شدن فوری آن می‌شود. این حرکت لرزه‌تنجی نامیده می‌شود (شکل ۱۸-۸).

برگ گیاهان گوشتخوار نیز به برخورد اشیا و لمس حساس است. در اثر تماس بدن حشره یا جانور کوچک دیگر، حرکت‌هایی در برگ‌ها ایجاد می‌شود و جانور به دام می‌افتد. چنین حرکتی بساوش‌تنجی نامیده می‌شود.

حرکت‌های تاکتیکی: هنگامی انجام می‌شوند که سلول‌های گیاهی به سوی روشنایی، بعضی مواد شیمیایی و غیره حرکت می‌کنند. سلول نر گیاهان به سوی سلول‌های ماده جذب می‌شود و به سوی آن حرکت می‌کند. این حرکت، نوعی حرکت تاکتیکی است.

حرکت‌های تنجشی: بعضی گیاهان، مانند گل ابریشم، اقاویا برگ‌های مرکب دارند. برگچه‌های این گیاهان در هنگام روز گسترده می‌شوند، اما شب هنگام هر یک از دو برگچه‌ای که در برابر هم قرار دارند، تا می‌خورند، به یکدیگر نزدیک می‌شوند و در کنار هم



الف



ج



ب

شکل ۱۸-۸- الف و ب: بسته شدن برگ‌های گیاه حساس پس از لمس کردن و ج: برگ گیاه گوشتخوار دیونه حشره‌ای را شکار کرده است.

خودآزمایی ۲-۸

- ۱- دو نوع کلی از حرکت‌های گیاهی را با یکدیگر مقایسه کنید.
- ۲- چه عواملی را می‌شناسید که باعث حرکت‌های فعال گیاهی می‌شوند؟
- ۳- حرکت خود به خودی چیست؟ یک نمونه از این نوع حرکت‌ها را شرح دهید.
- ۴- حرکت القایی در گیاهان بر چند نوع‌اند؟ نام ببرید و آنها را شرح دهید.

فهرست منابع

- 1 - Michael Roberts; **Biology, Nelson Science**; Nelson; 1995.
- 2 - Campbell N. A. et al.; **Biology Concepts & Connections**; Addison Wesley Longman, inc.; 1997.
- 3 - **Biology , A Human Approach**; BSCS Student Edition; Kendall/Hunt Publication; 1997.
- 4 - James D. Mauseth; **Botany, an Introduction to Plant Biology**, Jones & Bartlett pub.;1998.
- 5 - Raven, P. H., Evert,R.F. and Eichhorn,S.E., **Biology of Plants**; W.H. Freeman and Company / worth Publication; 1999.
- 6 - Campbell N. A. et al.; **Biology** 5th edition; Addison Wesley Longman, inc.; 1999.
- 7 - Chris Lea, et al. **Biology**, Heinemann Educational publisher; 2000.
- 8 - George B. Johnson; **Biology, Principles & Explorations**; Holt, Rinehart and Winston, 2001.



معلمان محترم، صاحب نظران، دانش آموزان عزیز و اولیای آنان می توانند نظر اصلاحی خود را در بازه مطالب
این کتاب از طریق نامه به نشانی تهران .. صندوق پستی ۳۶۳ ۱۵۸۵۵ - گروه دسی مربوط و پیام نگار (Email)
talif@talif.sch.ir ارسال نمایند.

دفتر نشر نامه پیرزی، تألیف کتاب: دبی دسی