

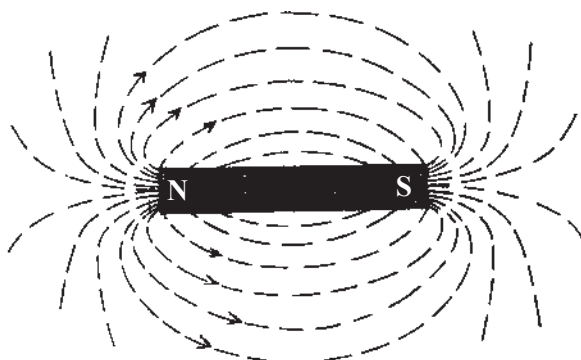
اصول کار ماشین‌های الکتریکی

هدف‌های رفتاری: از فراگیر انتظار می‌رود که در پایان این فصل بتواند:

- ماده‌ی مغناطیسی را توضیح دهد.
- انواع آهن‌ربا را بشناسد.
- طرز تشخیص قطب‌های آهن‌ربا را توضیح دهد.
- اثرات الکتریکی مغناطیس را توضیح دهد.
- اصول کار ترانسفورماتور را بیان کند.
- اصول کار ژنراتورها را توضیح دهد.
- اصول کار موتورهای الکتریکی را بیان کند.
- ساختمان و اصول کار موتورهای DC را توضیح دهد.
- اصول کار موتورهای AC را توضیح دهد.
- ساختمان و اصول کار موتورهای تک‌فاز را توضیح دهد.
- ساختمان و اصول کار موتورهای سه‌فاز را توضیح دهد.
- اتصالات ستاره و مثلث را بدانند.

۴-۱- تعریف آهن‌ربا

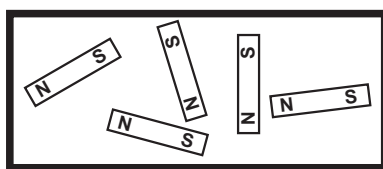
آهن‌ربا دارای خاصیتی است که می‌تواند ذرات کوچک آهن را به سمت خود جذب کند. از یک سر آهن‌ربا فوران مغناطیسی خارج می‌شود و این فوران‌ها به سر دیگر آن وارد می‌شوند. این خطوط فوران نامریی هستند. شکل ۴-۱ نشان می‌دهد که چگونه فوران از یک سر آهن‌ربا خارج و به سر دیگر آن وارد می‌شود. سرهای آهن‌ربا قطب‌های آن نام دارند. قطبی که فوران از آن خارج می‌شود قطب N و قطبی که فوران به آن وارد می‌شود قطب S نام دارد.



شکل ۴-۱

۴-۲- ماده‌ی مغناطیسی

تمام اجسام از آهن‌رباهای بسیار کوچک تشکیل یافته‌اند (مولکول‌های یک جسم در واقع نقش آهن‌ربا را دارند). در حالت عادی آهن‌رباهای کوچک به صورت منظم نیستند و فوران مغناطیسی برآیند صفر است. اگر به طریقی این آهن‌رباهای کوچک را منظم کنیم، جسم به آهن‌ربا تبدیل می‌شود. در بعضی اجسام مانند پلاستیک این کار غیرممکن است؛ ولی در اجسامی نظیر آهن، آهن‌رباهای کوچک به سادگی منظم می‌گردند، یعنی آهن به آهن‌ربا تبدیل می‌شود. به ماده‌ای که بتواند آهن‌رباهای کوچک را نظم دهد، ماده‌ی مغناطیسی گویند. شکل ۴-۲ آهن‌رباهای کوچک یک جسم را که در حالت عادی نامنظم هستند نشان می‌دهد.



شکل ۴-۲

۴-۳- انواع آهن‌ربا


آهن‌ربا بر دو نوع است که در زیر به آن اشاره می‌شود:

- * آهن‌ربای طبیعی: این آهن‌ربا به صورت طبیعی در معادن وجود دارد و با استخراج سنگ معدن و به وسیله‌ی ابزارهای مناسب آن را به صورت دلخواه درمی‌آورند.
- * آهن‌ربای مصنوعی: اگر از یک سیم جریان عبور کند، در اطراف آن سیم میدانی مغناطیسی


شبه آهن ربا ایجاد می شود. اگر یک قطعه آهن در مسیر فوران های مغناطیسی قرار گیرد، آهن ربا های کوچک آن منظم شده آهن به آهن ربا تبدیل می شود. اگر فوران قطع شود، آهن خاصیت آهن ربایی خود را از دست می دهد. اگر به جای آهن نرم از آهن سخت استفاده کنیم، هنگام قطع فوران مغناطیسی نظم آهن ربا های کوچک آهن به هم نمی خورد و آهن سخت به آهن ربا تبدیل می شود. در صنعت برای تهیه ی آهن ربای مصنوعی ابتدا یک مفتول با ترکیب مناسب آهن تهیه می کنند و سپس آن را در یک میدان مغناطیسی قوی قرار می دهند پس از مدتی مفتول به آهن ربا تبدیل می شود.

۴-۴- طرز تشخیص قطب های آهن ربا

برای تعیین قطب های آهن ربا از قطب نما استفاده می کنند. قطب نما خود یک آهن ربای کوچک است که قطب های آن از قبل مشخص شده است. چون در آهن ربا قطب های هم نام یک دیگر را دفع و قطب های غیر هم نام هم دیگر را جذب می کنند، با نزدیک کردن آهن ربا به قطب نما یک طرف قطب نما به سمت آهن ربا جذب می شود. در این صورت قطب آهن ربا مخالف قطب قطب نما است. شکل ۳-۴ این حالت را نشان می دهد.



میله ی مغناطیسی



قطب نما

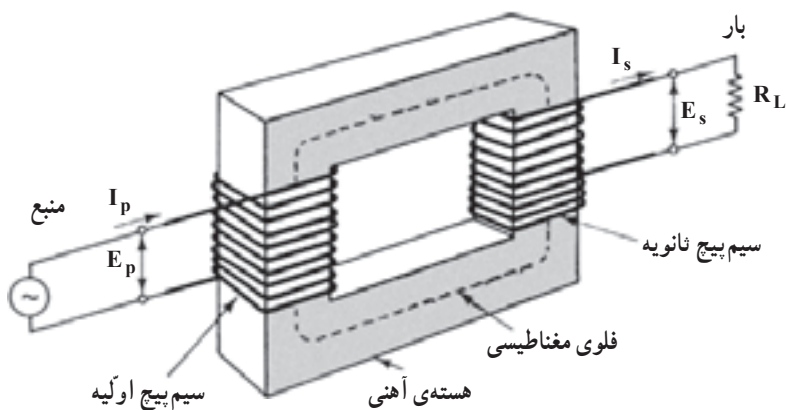

شکل ۳-۴

۴-۵- ترانسفورماتور

ترانسفورماتور دستگاهی است که یک ولتاژ متناوب (AC) را به ولتاژی کم تر یا بیش تر تبدیل می کند.

هر ترانسفورماتور یک سیم بیچ اولیه و یک یا چند سیم بیچ ثانویه دارد. اگر سیم بیچ اولیه را به یک منبع انرژی متناوب مثلاً برق شهر وصل کنیم، از سیم بیچ اولیه جریان I_1 عبور می کند و در اطراف آن میدان مغناطیسی ایجاد می شود. سیم بیچ ثانویه این میدان را قطع می کند و در دو سر سیم بیچ ولتاژ ایجاد می شود. اگر به دو سر سیم بیچ ثانویه مصرف کننده ای را وصل کنیم، از آن مصرف کننده جریان

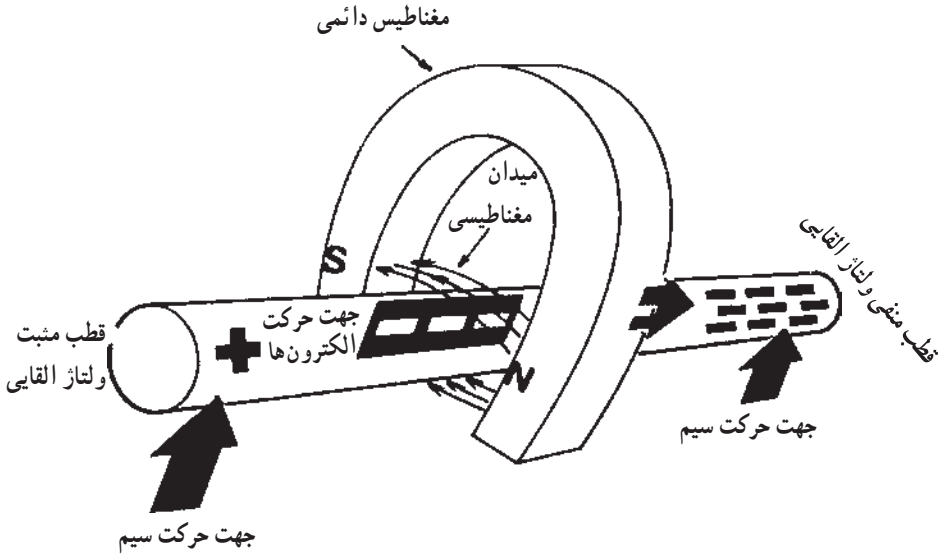
می‌گذرد. اگر ولتاژ اولیه U_1 و جریان آن I_1 باشد و ولتاژ ثانویه U_2 و جریان آن I_2 باشد، در حالت مطلوب، ترانسفورماتور همواره $U_1 \times I_1 = U_2 \times I_2$ است. سپس ترانسفورماتور قدرتی با جریان و ولتاژ معین را به همان قدرت ولی با ولتاژ و جریان دیگر تبدیل می‌کند. در شکل ۴-۴ ساختمان یک ترانسفورماتور و چند ترانسفورماتور ساخته شده را مشاهده می‌کنید.



شکل ۴-۴

۴-۶- ژنراتورها

ژنراتور دستگاهی است که انرژی مکانیکی را به انرژی الکتریکی تبدیل می‌کند. ژنراتورها در دو نوع DC و AC ساخته می‌شود. ژنراتورهای DC ولتاژ مستقیم (DC) تولید می‌کنند؛ در حالی که ژنراتورهای AC مولد ولتاژ متناوب (AC) هستند.



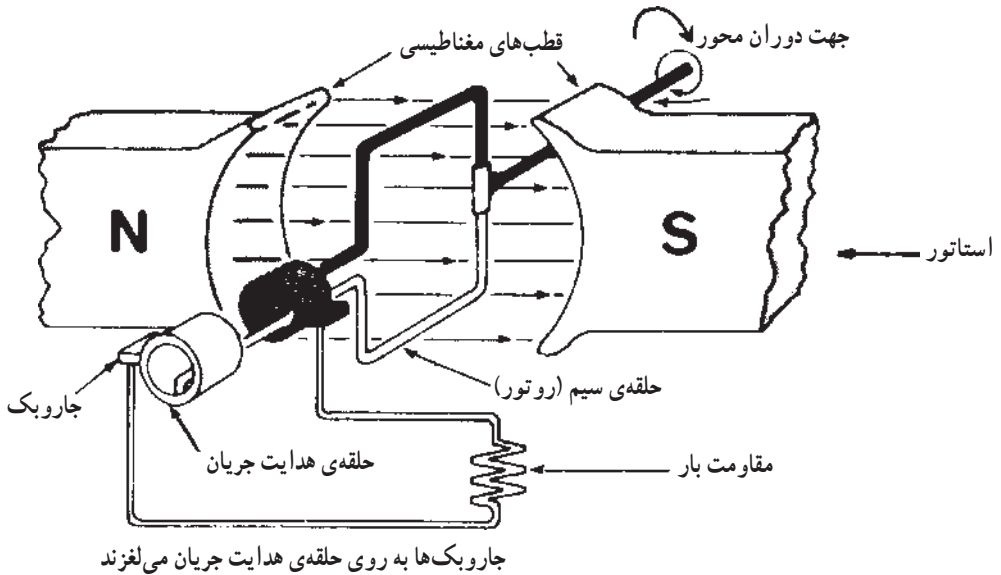
شکل ۴-۵- تولید ولتاژ با استفاده از حرکت وقتی یک سیم در میدان مغناطیسی حرکت داده می‌شود، الکترون‌های داخل سیم آزاد شده، در سیم به حرکت درمی‌آید.

همان‌طور که قبلاً بیان شد، هرگاه سیمی را در یک میدان مغناطیسی حرکت دهیم به طوری که خطوط میدان را قطع کند، در آن ولتاژی القا می‌شود که مقدار آن بستگی به طول سیم، سرعت حرکت سیم و شدت میدان مغناطیسی دارد. در شکل ۴-۵ تولید ولتاژ با استفاده از حرکت نشان داده شده است. هرگاه سرعت حرکت یکنواخت باشد و جهت آن تغییر نکند، ولتاژ القایی DC خواهد بود.

۴-۷- اساس کار ژنراتورهای AC

چنانچه مطابق شکل ۴-۶ یک حلقه را در میدان مغناطیسی دوران دهیم، در داخل حلقه ولتاژ متناوب سینوسی تولید می‌شود. کلیه مولدهای AC بر این اساس کار می‌کنند. اگر حلقه را ثابت نگاه داریم و میدان مغناطیسی را دوران دهیم، باز هم در حلقه ولتاژ AC القا می‌شود. چون حلقه در حال دوران است، برای دریافت ولتاژ از دو سر حلقه معمولاً از جاروبک‌های مخصوصی که روی

حلقه‌های استوانه‌ای می‌لغزد استفاده می‌کنند. حلقه‌های استوانه‌ای را کلکتور^۱ می‌گویند.



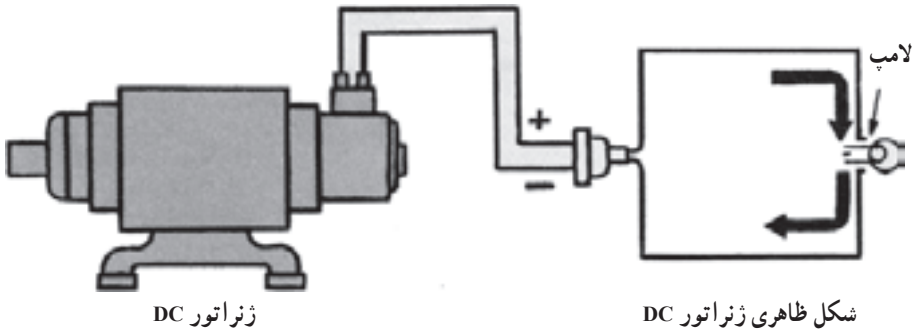
شکل ۴-۶- ساده‌ترین مولد AC

مقدار ولتاژ خروجی بستگی به سرعت حرکت حلقه، تعداد حلقه‌ها و شدت میدان مغناطیسی دارد. در صورتی که چند حلقه را به صورت کلاف درآوریم، میزان ولتاژ تولید شده بالا می‌رود. در ژنراتورها معمولاً تعداد کلاف‌ها و تعداد قطبین مغناطیس زیاد است و در مجموع یک مولد را به وجود می‌آورند.

۴-۸- روتور و استاتور

قسمت ثابت هر مولد را استاتور (Stator) و قسمت متحرک آن را روتور (Rotor) می‌نامند. در شکل ۴-۷ شکل ظاهری یک ژنراتور DC نشان داده شده است. در این نوع ژنراتور روتور در داخل استاتور جای می‌گیرد و دوران می‌کند. از انواع ژنراتورهای DC می‌توان دینام دوچرخه، دینام اتومبیل و ... و از انواع ژنراتورهای AC می‌توان مولدهای کوچک خانگی و مولدهای بزرگ شهری را نام برد. در ژنراتورهای DC به جای دو حلقه‌ی لغزنده از یک استوانه استفاده می‌کنند. معمولاً استوانه را به قطعات کوچک تقسیم می‌کنند تا بتوانند ولتاژ DC به دست آورند.

^۱ Collector




شکل ۴-۷- ساختمان داخلی یک ژنراتور ساده DC

۴-۹- موتورهای الکتریکی

موتورهای الکتریکی دستگاه‌هایی هستند که انرژی الکتریکی را به انرژی مکانیکی تبدیل می‌کنند. موتورها از نظر تغذیه‌ی برق به دو نوع DC (جریان مستقیم) و AC (جریان متناوب) تقسیم‌بندی می‌شوند. موتورهای AC نیز خود به دو دسته‌ی موتورهای تک فاز و موتورهای سه فاز تقسیم می‌شوند. از انواع موتورهای DC می‌توان موتور دستگاه ضبط صوت، اسباب‌بازی و استارت اتومبیل و از انواع موتورهای AC می‌توان موتور چرخ خیاطی و ماشین تراش را نام برد. در شکل ۴-۸ دو نمونه از موتورهای الکتریکی نشان داده شده است.



(الف) نوع AC



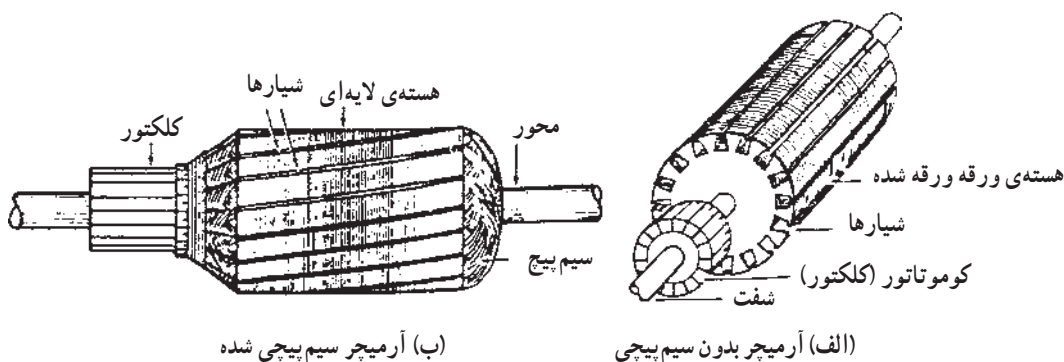
(ب) نوع DC

شکل ۴-۸

۴-۱۰- ساختمان و اصول کار موتورهای DC

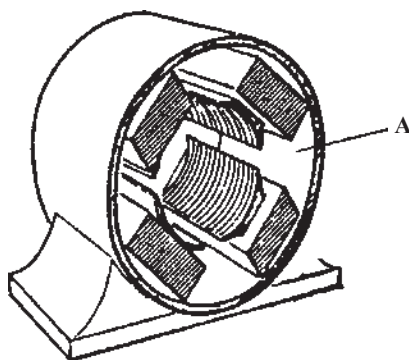
یک موتور DC از قسمت‌های زیر تشکیل یافته است: آرمیچر، قاب (بدنه)، قطب‌های میدان تحریک، کاسه‌های موتور (درپوش‌ها) و جاروبک‌ها.

* **آرمیچر:** آرمیچر قسمت گردان موتور است و از هسته‌ی فولادی ورقه ورقه شده با شیارهایی که در آن کلاف سیم پیچی قرار دارد، تشکیل یافته است. هسته روی یک محور فولادی پرس می‌شود و روی محور کلکتور قرار می‌گیرد. کلکتور جریان را از جاروبک‌های زغالی به کلاف داخل شیارها هدایت می‌کند. شکل ۹-۴ یک نمونه آرمیچر را نشان می‌دهد.



شکل ۹-۴

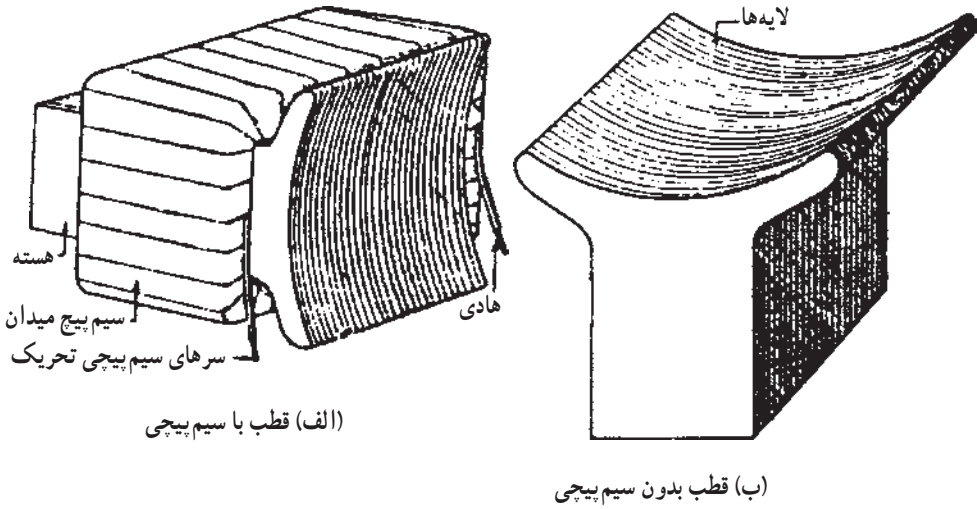
* **قاب بدنه:** بدنه‌ی موتور DC از فولاد یا آهن ریخته می‌شود و معمولاً مقطع آن به شکل دایره است. شکل ۱۰-۴ قاب بدنه‌ی یک موتور را نشان می‌دهد.



شکل ۱۰-۴

* **قطب‌های میدان تحریک:** قطب‌های میدان تحریک از فولاد ورقه ورقه شده درست می‌شود. در موتورهای کوچک قطب‌های موتورها با بدنه به صورت یکپارچه ساخته می‌شوند. شکل

۱۱-۴ قطب‌های میدان تحریک را نشان می‌دهد.



شکل ۱۱-۴

* کاسه‌های موتور (درپوش‌ها): درپوش‌ها که جارو نگه‌دارها هم روی آن سوار هستند، با پیچ و مهره به بدنه وصل می‌شوند. شکل ۱۲-۴ درپوش‌ها را نشان می‌دهد.



شکل ۱۲-۴

۴-۱۱- طرز کار موتور DC

ابتدا به وسیله‌ی جاروبک به سیم‌بندی آرمیچر ولتاژ اعمال می‌شود؛ سپس به سیم‌پیچ تحریک هم ولتاژ دیگری اعمال می‌گردد. با عبور جریان از سیم‌پیچ تحریک، در آن میدان مغناطیسی به وجود می‌آید. به این ترتیب بر هادی داخل آرمیچر نیرویی وارد شده باعث می‌شود آرمیچر بچرخد. کلکتور هم به طور مرتب جریان را در هادی که زیر یک قطب مشخص قرار گرفته است، در یک جهت نگاه می‌دارد.

۴-۱۲- موتورهای AC

موتورهای القایی از دو قسمت اصلی تشکیل یافته‌اند: قسمت ثابت (استاتور) و قسمت متحرک یا چرخان (رتور).

* استاتور: استاتور این موتورها مانند شکل ۴-۱۳ شیارهایی دارد که در داخل آن‌ها سیم‌پیچ‌ها قرار می‌گیرد تا میدان مغناطیسی لازم را برای گردش رتور ایجاد کند.

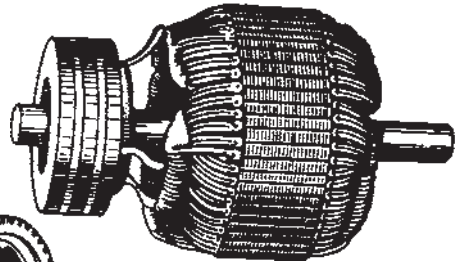


شکل ۴-۱۳

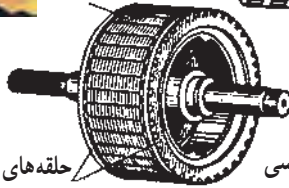
* رتور: رتور ممکن است از استوانه‌ی آهنی دارای ورقه‌های مخصوص فولادی که نسبت به هم عایق هستند، ساخته شود. این رتورها، رتور قفسی نام دارند. در بعضی از موتورهای القایی به جای رتور قفسی از رتور سیم‌پیچی شده استفاده می‌کنند. شکل ۴-۱۴ این دو نوع رتور را نشان می‌دهد.



هسته‌ی رتور



(ب) رتور سیم پیچی شده



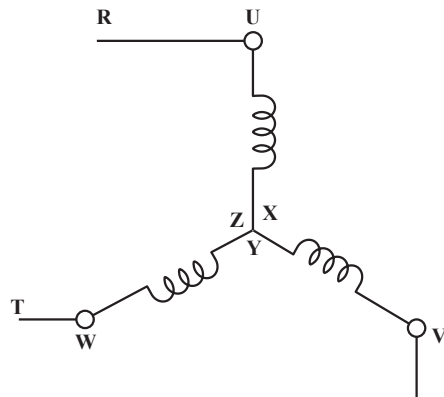
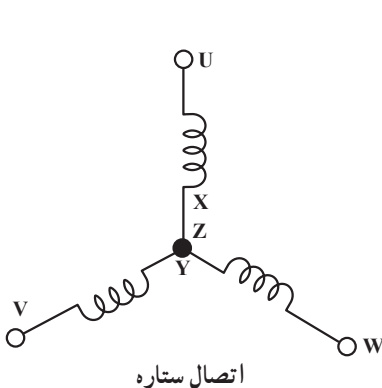
(الف) رتور قفسی حلقه‌های اتصال کوتاه

شکل ۴-۱۴

ساختمان موتورهای یک فاز القایی شبیه ساختمان موتورهای سه فاز است؛ با این تفاوت که در موتورهای القایی سه فاز سه سیم پیچ (برای هر فاز یک سیم پیچ) وجود دارد، ولی در موتورهای یک فاز دو سیم پیچ و گاهی در بعضی موتورهای خاص فقط یک سیم پیچ وجود دارد. در موتورهای سه فاز که سه سیم پیچ وجود دارد، این سه سیم پیچ در ارتباط با یکدیگر به دو صورت می‌توانند بسته شوند: اتصال ستاره؛ اتصال مثلث

۴-۱۳- اتصال ستاره یا Y

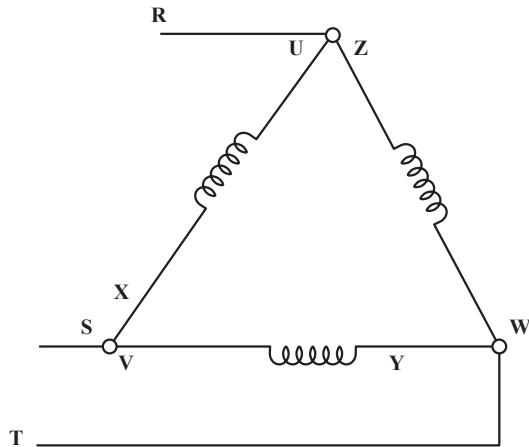
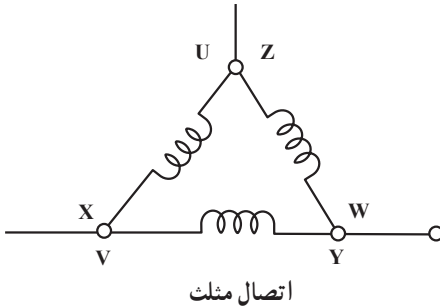
در اتصال ستاره یک سر کلاف‌ها را به صورت مشترک به یکدیگر وصل می‌کنیم، سپس سیم‌های فاز R و S و T را به سرهای باقی‌مانده متصل می‌کنیم. شکل ۴-۱۵ اتصال ستاره و اتصال سیم‌های فاز به کلاف‌های موتور را نشان می‌دهد. در این حالت سیم نول به محل اتصال X و Y و Z وصل می‌شود.



شکل ۴-۱۵

۴-۱۴- اتصال مثلث یا .

در این اتصال سر هر کلاف به ته کلاف بعدی وصل می‌شود و سیم‌های فاز به نقاط مشترک سرو ته کلاف اتصال می‌یابد. شکل ۴-۱۶ اتصال مثلث و اتصال سیم‌های فاز را به آن نشان می‌دهد.



شکل ۴-۱۶

۴-۱۵- طرز کار موتور AC

وقتی به سه سیم پیچ موتور سه فاز ولتاژ سه فاز وصل کنیم، یک میدان مغناطیسی در داخل استاتور به وجود می‌آید و در نتیجه، در هادی‌های رتور جریان القا می‌شود. جریان عبوری از هادی‌های رتور به نوبه‌ی خود یک میدان مغناطیسی ایجاد می‌کند. چون میدان مغناطیسی استاتور دوار است با میدان مغناطیسی رتور درگیر شده باعث به حرکت درآمدن رتور می‌شود.

پرسش

- ۱- ماده‌ی مغناطیسی را توضیح دهید.
- ۲- انواع آهن‌ربا را نام ببرید.
- ۳- آهن‌ربای مصنوعی را چگونه می‌سازند؟
- ۴- طرز تشخیص قطب‌های یک آهن‌ربا را شرح دهید.
- ۵- اگر بخواهیم برق شبکه (۲۲۰V) را به ۶ ولت تبدیل کنیم، از چه دستگاهی استفاده می‌کنیم؟
- ۶- نقش آرمیچر در موتور DC چیست؟
- ۷- یک موتور DC چگونه می‌چرخد؟
- ۸- یک موتور AC از چه قسمت‌هایی تشکیل شده است؟
- ۹- اتصال ستاره و مثلث را رسم کنید.
- ۱۰- طرز کار موتور AC را شرح دهید.

انواع کلیدها و تجهیزات تابلو

هدف‌های رفتاری: از فراگیر انتظار می‌رود که در پایان این فصل بتواند:

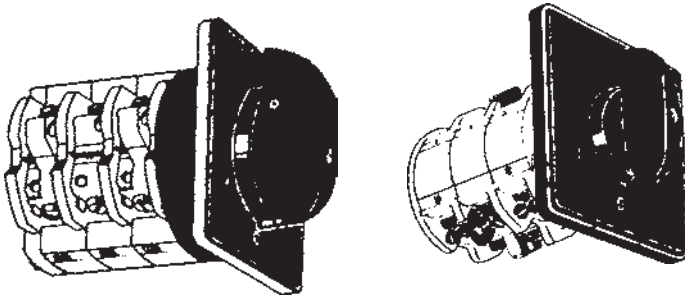
- انواع کلید را توضیح دهد.
- اصول کار کنتاکتور را توضیح دهد.
- اصول کار رله‌ی حرارتی را توضیح دهد.
- مدار فرمان و قدرت را توضیح دهد.
- انواع کابل‌ها و مشخصات آن‌ها را بداند.
- طرز کار میکروسوییچ‌ها را توضیح دهد.
- تابلوی برق و اجزای آن را توضیح دهد.

۵-۱- انواع کلید

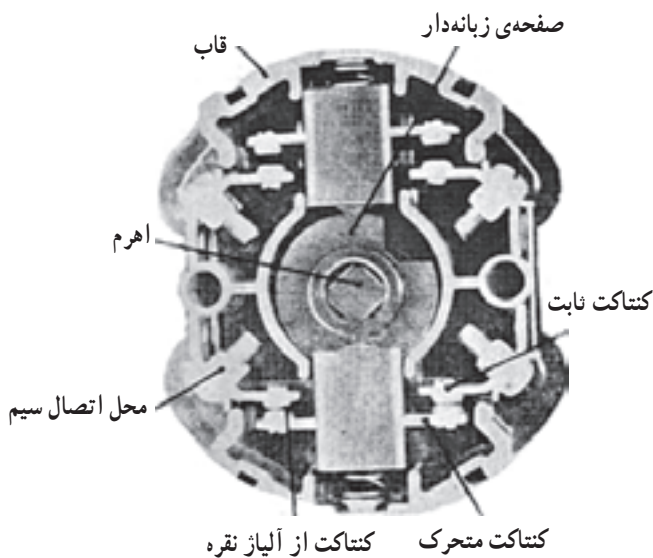
کلیدها به انواع مختلف زیر تقسیم‌بندی می‌شوند:

۵-۱-۱- کلیدهای دستی: در این کلیدها نیروی لازم برای قطع و وصل به وسیله‌ی دست

اعمال می‌شود. یک نوع رایج کلیدهای دستی کلید ساده‌ی زبانه‌ای است. شکل ۵-۱ این نوع کلید را نشان می‌دهد. در این کلیدها به کمک اهرم نیروی مکانیکی لازم را با دست به کلید وارد می‌کنند. با چرخاندن اهرم، صفحه‌ی زبانه‌دار حول محور خود می‌چرخد و کنتاکت‌های متحرک را به کنتاکت ثابت وصل می‌کند و در نتیجه مدار الکتریکی وصل می‌شود.



شکل ۵-۱

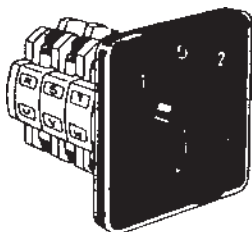


کنتاکت از آلیاژ نقره

ادامه‌ی شکل ۱-۵

انواع دیگر کلید زبانه‌ای کلید چپ گرد و راست گرد است. شکل ۲-۵ این کلید را نشان

می‌دهد.



شکل ۲-۵

۱-۵-۲- کلید ستاره مثلث زبانه‌ای: برای راه‌اندازی موتورهای ممکن است ابتدا موتور

را به صورت ستاره راه‌اندازی کنند تا جریان کمی از شبکه کشیده شود؛ سپس اتصالات موتور را به


صورت مثلث درآورند. برای این منظور از کلید ستاره مثلث زبانه‌ای استفاده می‌کنند. شکل ۳-۵

این کلید را نشان می‌دهد.



شکل ۳-۵

۳-۱-۵- کلیدهای مغناطیسی: در این کلیدها با اعمال جریان الکتریکی به قسمت تحریک آن تعدادی کنتاکت باز، بسته و تعدادی کنتاکت بسته، باز می‌شود. کنتاکتورها از انواع کلیدهای مغناطیسی هستند. شکل ۴-۵ نمونه‌هایی از کنتاکتورها را نشان می‌دهد.



شکل ۴-۵

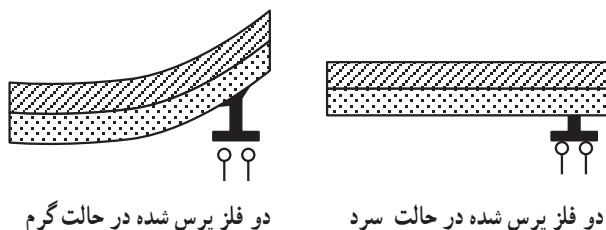
شستی یک کلید موقت است که معمولاً با فشار دست به حالت وصل (یا قطع) می‌رود و وقتی دست را از روی آن برداریم، به حالت اول خود باز می‌گردد. در شکل ۵-۵ چند نمونه کلید شستی را مشاهده می‌کنید.



شکل ۵-۵


۲-۵- رله‌ی حرارتی

اگر دو فلز مختلف را به هم پرس کرده این مجموعه را گرم کنیم، به علت ضریب انبساط متفاوت دو فلز، مجموعه خم می‌شود و در این حالت قادر می‌شود به کنتاکت‌ها فرمان بدهد. شکل ۶-۵ این حالت را نشان می‌دهد.



شکل ۶-۵

در رله‌ی حرارتی به دور مجموعه‌ی دو فلز، سیم مقاومت‌دار می‌پیچند و جریان مصرف‌کننده را از این سیم عبور می‌دهند. اگر جریان از مقدار تنظیم شده بیش‌تر شود، گرمای حاصل از افزایش جریان عبوری سبب خم شدن دو فلز می‌شود و در نتیجه، کنتاکتی را قطع یا وصل می‌کند. در شکل ۷-۵ نمونه‌ی چند رله‌ی حرارتی را مشاهده می‌کنید.



شکل ۷-۵

۳-۵- مدار فرمان و قدرت


۱-۳-۵- مدار فرمان: منظور از مدار فرمان، فرمان و کنترل کنتاکتور اصلی برای قطع و وصل مصرف‌کننده به شبکه است. در مدار فرمان برای راه‌اندازی کنتاکتورها و در نتیجه مصرف‌کننده‌ها و تغییر حالت مدار از کلید شستی استفاده می‌شود.


۵-۳-۲- مدار قدرت: منظور از مدار قدرت در نقشه‌ها، نشان دادن مسیرهای جریان

عبوری مصرف کننده است. در نقشه‌های مدار قدرت فیوزها، رله‌ی حرارتی و مصرف کننده‌ها نشان داده می‌شوند.

۵-۴- انواع کابل‌ها و مشخصات آن‌ها

کابل‌ها در تغذیه‌ی مصارف الکتریکی و بخش انرژی الکتریکی مورد استفاده قرار می‌گیرند. هر کابل با سطح مقطع معین قادر به انتقال مقدار معینی از جریان است. اگر جریانی بیش از حد مجاز از کابل عبور کند، باعث سوختن کابل می‌شود. سیم هادی کابل معمولاً از مس یا آلومینیوم ساخته می‌شود و عایق روی کابل از ماده‌ی پی‌وی‌سی (PVC) است که روی هادی کشیده می‌شود. برای تشخیص دادن سیم کابل‌ها از یک‌دیگر معمولاً عایق آن‌ها را رنگی می‌سازند. سیم کابل‌ها ممکن است از هادی مفتولی یا افشان باشد. شکل ۵-۸ انواع کابل‌ها را نشان می‌دهد.

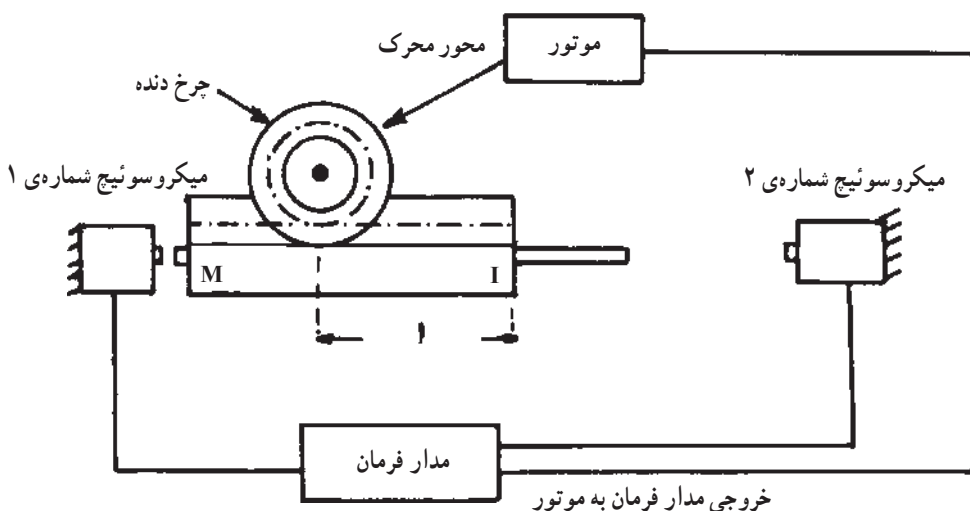




ادامه‌ی شکل ۵-۸

۵-۵- میکروسوئیچ‌ها (Micro Switches)

میکروسوئیچ‌ها کلیدهایی هستند که با اعمال ضربه یا فشار مکانیکی کار می‌کنند. در ماشین‌های نساجی از میکروسوئیچ به تعداد زیاد استفاده می‌شود. معمولاً در جایی که بخواهیم یک قطعه فاصله‌ی معینی را طی نماید و برگردد، از میکروسوئیچ استفاده می‌کنند. به عنوان مثال، در شکل ۵-۹ با استفاده از یک موتور و یک چرخ‌دنده، میله‌ی دندانه‌دار M فاصله‌ی I را طی می‌کند، سپس در انتهای فاصله با میکروسوئیچ شماره‌ی ۲ تماس پیدا کرده آن را وصل می‌کند.




شکل ۵-۹- طرز کار میکروسوئیچ

در این حالت مدارهای فرمان به کار می‌افتد و جهت حرکت عوض می‌شود و میله به محل اولیه باز می‌گردد. در محل اولیه با میکروسوییچ شماره‌ی ۱ برخورد کرده دوباره دور موتور را عوض می‌کند. بنابراین میله M به طور متناوب جلو و عقب می‌رود.


۵-۶- تابلوی برق و تجهیزات آن

تابلوی برق یک مرکز توزیع انرژی الکتریکی بین مصرف‌کننده‌ها است. تابلوهای برق با توجه به نیاز در ابعاد گوناگون و با تجهیزات مختلف ساخته می‌شود؛ مثلاً تابلوی برق یک منزل مسکونی تقریباً کوچک است. شکل ۵-۱۰ چند تابلو را نشان می‌دهد. یک کارخانه یا مرکز توزیع انرژی در



شکل ۵-۱۰

یک شهر نیاز به تابلوی بزرگ با تجهیزات بیشتر دارد. ورودی تابلو معمولاً برق شبکه‌ی سراسری و خروجی آن مصرف‌کننده‌ها است. برای اتصال تابلو به ورودی‌ها و خروجی‌ها معمولاً از ترمینال‌ها استفاده می‌کنند. شکل ۵-۱۱ این ترمینال‌ها را نشان می‌دهد.



شکل ۵-۱۱- نمونه‌هایی از انواع ترمینال‌ها که در تابلوهای توزیع به‌کار می‌روند.

در تابلوهای توزیع وسایلی جهت نشان دادن یا پارامترهای الکتریکی مانند توان مصرفی، ولتاژ، جریان، انرژی و نیز وسایل حفاظتی مانند رله‌های جریان اضافی و فیوزها نصب می‌شوند. این وسایل در تابلوهای بزرگ عبارتند از ولت‌متر، آمپر‌متر، وات‌متر، کنتور، کلید فیوز و کلید اتوماتیک.

پرسش

- ۱- انواع کلید را شرح دهید.
- ۲- رله‌ی حرارتی چگونه کار می‌کند؟
- ۳- مدار فرمان و مدار قدرت را توضیح دهید.
- ۴- میکروسوئیچ چیست و چه کاربردی دارد؟
- ۵- تجهیزات یک تابلوی برق صنعتی را نام ببرید.

بخش دوم

تأسیسات

آب

هدف‌های رفتاری: از فراگیر انتظار می‌رود که در پایان این فصل بتواند:

- آب در طبیعت را شرح دهد.
- ناخالصی‌های آب را توضیح دهد.
- تصفیه‌ی آب را با روش‌های فیزیکی و شیمیایی شرح دهد.
- انواع صافی‌ها را توضیح دهد.
- دستگاه‌های تصفیه را شرح دهد.

۶-۱- آب

یکی از ضروری‌ترین و فراوان‌ترین ترکیبات روی زمین، آب است. چون بسیاری از مواد جامد و مایع و گازی در آب حل می‌شوند، میکروب‌ها و املاح آن نیز بسیار است. آب در طبیعت به سه صورت؛ جامد، مایع و بخار وجود دارد، که هر کدام از این سه حالت در صنایع مختلف به کار می‌روند. در صنعت نساجی، آب نه تنها به عنوان یک ماده‌ی اساسی برای گرم کردن یا خشک کردن به کار می‌رود، بلکه بیش‌تر عملیات تکمیلی از قبیل شست‌وشو، سفیدگری، رنگرزی و چاپ در محیط آبی انجام می‌گردد. بنابراین مشخصات آب مورد مصرف در این صنعت اهمیت بسیاری دارد.

- نزولات آسمانی: این نوع آب، شامل آب باران و برف است. این آب‌ها قبل از رسیدن به زمین به علت گذشتن از جوّ زمین، گازهای اکسیژن و کربنیک را به صورت محلول در خود به سطح زمین می‌آورند. در شهرهای صنعتی که هوا آلوده است، قطرات باران و برف حاوی سولفید یدروژن و دی اکسید گوگرد و گاهی با مواد آلی و گرد و غبار همراه است.

- آب‌های سطحی: به آب رودخانه‌ها، دریاچه‌ها، دریاها و اقیانوس‌ها آب سطحی گویند. این آب‌ها علاوه بر مواد آلوده‌ی جوّی حاوی کربنات‌ها و بی‌کربنات‌های کلسیم، منیزیم، سدیم، پتاسیم و مقدار زیادی سولفات‌ها و کلریدهای فلزات مختلف هستند و میزان هر یک از این مواد، به جنس

زمین‌هایی که در مسیر حرکت آب قرار گرفته‌اند، بستگی دارد. هم‌چنین گاهی آب‌ها حاوی فلزات قیمتی و عناصر رادیواکتیو هستند. آبی که در هر لیتر آن تا یک گرم نمک وجود داشته باشد، آب شیرین و آبی که در هر لیتر آن بیش از یک گرم نمک وجود داشته باشد، آب شور خوانده می‌شود.

— آب‌های زیرزمینی: آب‌های زیرزمینی از نفوذ آب‌های سطحی به عمق زمین به وجود می‌آیند؛ مانند آب چاه‌ها و چشمه‌ها. معمولاً این آب‌ها به هنگام نفوذ در زمین مواد آهکی و املاح دیگری را در خود حل می‌کنند و به تدریج سنگین می‌شوند. این آب‌ها علاوه بر بی‌کربنات‌های کلسیم، منیزیم و احتمالاً آهن ممکن است حاوی بی‌کربنات سدیم و هم‌چنین گاز کربنیک آزاد باشند.

۲-۶- ناخالصی‌های آب

مواد جامد و املاح و گازهای محلولی که همراه با آب‌های طبیعی وجود دارند ناخالصی‌های آب نامیده می‌شوند. از نظر شیمیایی همه‌ی آب‌های موجود در طبیعت ناخالص‌اند، حتی آب باران هنگام رسیدن به زمین حاوی گازهای جوّی و مواد جامدی است که در هوا به صورت گرد و غبار وجود دارند. این ناخالصی‌ها در همه‌ی آب‌های زیرزمینی نیز به صورت محلول یا ذرات معلق وجود دارند؛ البته این آب‌ها چون مسافت زیادی را از میان سنگ‌ها و طبقات زمین طی می‌کنند معمولاً آن‌هایی که از نواحی سنگ‌های خارا و خاک‌های رُسی عبور می‌کنند از آب‌هایی که در نواحی سنگ‌های آهکی یافت می‌شوند، خالص‌تر هستند. هم‌چنین آب‌هایی که از مناطق سنگی عبور می‌کنند خالص‌تر از آب‌هایی هستند که از ناحیه‌ی خاکی عبور می‌کنند.

علاوه بر مواد محلول، مقدار زیادی ذرات معلق از قبیل گل، سیلیس و مواد آلی، در آب یافت می‌شوند. این ذرات و ناخالصی‌ها در آب‌های جاری مثل آب رودخانه‌ها و جویبارها بیش‌تراند. به عنوان نمونه، در آب چشمه‌های گرم، گازهای محلول و در آب چشمه‌های معدنی، املاح محلول و در آب رودخانه‌ها، مواد جامد معلق بسیاری یافت می‌شود.

۳-۶- تصفیه‌ی آب

منظور از تصفیه‌ی آب جداسازی مواد زائد از آب و از بین بردن ناخالصی‌های آن می‌باشد؛ به عنوان مثال آبی که در دیگ‌های بخار مورد استفاده قرار می‌گیرد، باید از گازها و نمک‌های محلول که موجب زنگ‌زدن و تولید رسوبات در جدار داخلی دیگ می‌شوند، پاک‌سازی شده باشد. آب خوردن نیز باید سبک و بدون ذرات معلق و میکروب باشد. آب به دو روش تصفیه می‌شود: الف) فیزیکی، ب) شیمیایی.

۶-۳-۱- تصفیه‌ی آب به روش فیزیکی

— روش تبخیر: استفاده از این روش، موجب می‌شود که مواد جامد حل شده در آب، از آن جدا شوند. اسیدهای محلول در آب که نقطه‌ی جوش آن‌ها بیش‌تر از نقطه‌ی جوش آب است، جدا می‌شوند. در این روش آب تصفیه نشده را حرارت داده، می‌جوشانند و بخارهای به دست آمده را با سردکردن، به مایع تبدیل می‌کنند. آب تهیه شده، آب مقطر و خالص است. این روش به دلیل صرف وقت و انرژی بسیار از لحاظ صنعتی در مقیاس زیاد، قابل استفاده نیست.

— روش دمیدن هوا: استفاده از این روش، خروج گازهای محلول در آب تصفیه نشده را ممکن می‌سازد. در این روش به وسیله‌ی دستگاه‌هایی به نام کمپرسور، هوا به داخل آب دمیده می‌شود تا گازهای مزاحمی (مانند گاز اکسیژن، دی‌اکسید کربن و سولفید تیدروژن) که موجب زنگ‌زدگی درون دستگاه‌های صنعتی هستند، از آن خارج شوند.

— روش ته‌نشینی: اگر هدف تصفیه‌ی آب جداسازی و حذف مواد معلق و کلوئیدی^۱ موجود در آن باشد، از روش ته‌نشینی به حالت ساده و یا به همراه مواد منعقدکننده استفاده می‌کنند. در این طریق آب مورد نظر را به وسیله‌ی کانال‌هایی وارد حوضچه‌های مستطیل شکل می‌کنند و سرعت حرکت آن را به حداقل می‌رسانند و یا در صورت لزوم، ساکن می‌کنند. با این کار مواد معلق در آب مانند شن، ماسه و خاک که وزن مخصوصشان از آب بیش‌تر است، به مرور ته‌نشین می‌شوند. هرچه وزن مخصوص اجسام شناور در آب سبک‌تر باشد، دیرتر ته‌نشین می‌شوند. پس از صاف شدن و رفع تیرگی، آب حوضچه‌ها به انبار مرکزی هدایت شده، پس از کلرزنی وارد لوله‌ی اصلی شهر می‌شود و لجن ته‌نشین شده از ذرات معلق را به وسیله‌ی الکترو پمپ‌های لجن کش، تخلیه می‌کنند.

— روش ته‌نشینی با مواد منعقدکننده: برخی از عناصر (مانند رسوبات خاک رسی، مواد آلی و معدنی، باکتری‌ها و مواد رنگ‌دار که معمولاً بار منفی دارند)، به حالت کلوئیدی در آب موجودند. اگر تمام این مواد دارای بار الکتریکی یکسان باشند، درون آب یک‌دیگر را دفع کرده، سبب حرکت مداوم ذرات می‌شود. اگر بار الکتریکی این ذرات را از بین ببریم یا خنثی کنیم، در این صورت به یک‌دیگر متصل شده، به ذرات بزرگ‌تر تبدیل می‌شوند و به علت سنگینی زیاد ته‌نشین می‌شوند.

این بارها با استفاده از مواد منعقدکننده، خنثی می‌شوند. مواد منعقدکننده در حوض مخلوط‌کننده به آب اضافه می‌شود و به وسیله‌ی دستگاه‌های همزن با آب مخلوط می‌شود؛ در نتیجه بین منعقدکننده و ناخالصی آب ترکیب شیمیایی انجام می‌گیرد و ذرات قابل رسوب تولید می‌شود. بر اثر به هم چسبیدن

۱- کلوئیدها: ذرات کلوئیدی در آب، از دیگر ذرات حل شده بزرگ‌ترند و قطر آن‌ها در حد ۹ میکرون است. مواد کلوئیدی که ته‌نشین نمی‌شوند، باعث تیرگی آب می‌شوند. این مواد ممکن است از مواد خاک رسی باشند.

ذرات و به وجود آمدن ذرات سنگین تر، آب از حوض «مخلوط کننده» به حوض دیگری به نام حوض «یکنواخت» کننده هدایت می شود و در این حوض، به آرامی هم زده می شود. در نتیجه ی این حرکت آرام و مخلوط شدن، امکان برخورد بین ذرات و چسبیدن آن ها به یک دیگر به وجود می آید؛ پس از این مرحله، آب به حوض دیگری به نام حوض «ته نشینی» هدایت می شود و در این جا ذرات درشت به وجود آمده، به صورت رسوبات و لجن، ته نشین می شوند و از دریاچه های تخلیه و یا به وسیله ی پمپ های لجن کش از حوض خارج می شوند. جدول ۶-۱ مواد منعقدکننده ای را که در تصفیه خانه های آب به کار می رود، با فرمول شیمیایی آن ها نشان می دهد و چون انتخاب هر یک از مواد منعقدکننده به pH آب و جنس مواد معلق در آب بستگی دارد، pH آب نیز در جدول درج شده است.

جدول ۶-۱- مواد منعقدکننده و pH آب

منعقدکننده	فرمول شیمیایی	pH
سولفات آلومینیوم (آلوم)	$Al_2(SO_4)_3 \cdot 18H_2O$	۴ تا ۷
سولفات و آهن II	$FeSO_4 \cdot 7H_2O$	۸/۵ و بالاتر
آهک	CaO
سولفات آهن III	$Fe_2(SO_4)_3$	۳/۵ تا ۷ و از ۹ بالاتر
کلرید آهن III	$FeCl_3$	۳/۵ تا ۶/۵ و از ۸/۵ به بالا
آلومینات سدیم	$Na_2Al_2O_4$	

— **صافی ها:** برای جدا کردن کلیه ی مواد به دست آمده از عمل انعقاد در آب، از صافی ها استفاده می شود. کار صافی ها عبور دادن آب از منافذ بسیار ریز و جدا کردن ذرات جامد معلق در آب است. در انتخاب صافی باید توجه خاصی به سهولت پاک کردن منافذ و ارزانی آن کرد. در اکثر تصفیه خانه های بزرگ از صافی های شنی استفاده می شود.

در ساختمان این نوع صافی ها دانه های گرد سنگ های سیلیس، مرمر، آنتراسیت به ابعاد مختلف بر روی یک دیگر قرار گرفته که آب از روی طبقات مختلف این سنگ ها عبور می کند. اگر آب برای تصفیه ی مقدماتی دیگ بخار مورد استفاده قرار گیرد، بهتر است که از سنگ های سیلیس استفاده

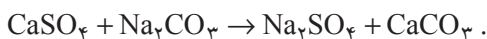
۱- pH نشان دهنده ی کیفیت اسیدی و بازی محیط محلول است و بین ۱۴- و تغییر می کند اگر pH محیط ۷- باشد محیط اسیدی و اگر ۷ باشد محیط خنثی از (۷-۱۴) محیط قلیایی است.

نشود، زیرا وجود مقدار کمی سیلیس، باعث خوردگی جدار داخلی دیگ می‌شود.

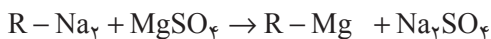
دانه‌های شن را برحسب بزرگی و کوچکی آن‌ها در داخل ظرف صافی روی هم قرار داده، آب را از روی آن‌ها عبور می‌دهند. آب در اثر گذشتن از بین ریگ‌ها، کلیه‌ی ذرات معلق را جا می‌گذارد و صاف و تصفیه شده، خارج می‌شود. لازم به یادآوری است که صافی‌ها پس از مدتی کار کردن، به علت بسته شدن سوراخ‌هایشان از کار می‌افتند؛ در این صورت مسیر عبور آب در صافی را برعکس می‌کنند تا ذرات «گیرکرده» در سوراخ‌های صافی، به صورت ذرات معلق در سطح صافی درآید و سپس با سرریز از سطح ورودی آن خارج شود. پس از این عمل صافی مجدداً آماده‌ی بهره‌برداری می‌شود.

۶-۳-۲- تصفیه‌ی آب به روش شیمیایی: آبی که در آن املاح کلسیم و منیزیم (Mg و Ca) وجود داشته باشد، «آب سخت» نامیده می‌شود و هر چه میزان این املاح بیش‌تر باشد، درجه‌ی سختی آب هم بیش‌تر است. برای جداسازی املاح کلسیم و منیزیم سخت، از روش‌های شیمیایی استفاده می‌شود. بعد از جداسازی، آب به دست آمده را «آب سبک یا نرم» می‌نامند. برای برطرف کردن املاح محلول در آب، دو روش وجود دارد:

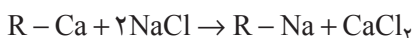
الف- روش رسوب‌دادن: در این روش با افزودن یک ماده‌ی شیمیایی، املاح محلول را به صورت نامحلول درآورده، رسوب می‌دهند. مهم‌ترین مواد رسوب‌دهنده، آهک و کربنات سدیم هستند. برای گرفتن سختی بیش‌تر آب، بهتر است که از مخلوط کربنات سدیم و آهک استفاده شود.



ب- روش استفاده از زئولیت‌ها: زئولیت‌ها دارای ترکیب پیچیده‌ای هستند ولی به طور مختصر می‌توان آن‌ها را با $\text{R}-\text{Na}_2$ نمایش داد، که R نماینده‌ی باقی‌مانده‌ی مولکول زئولیت است. هرگاه آب سخت را از روی زئولیت عبور دهیم، عمل تعویض «یون» صورت می‌گیرد و یون‌های کلسیم و منیزیم جای خود را به یون‌های سدیم می‌دهند.



به این ترتیب، آب سبکی به دست می‌آید که املاح کلسیم و منیزیم خود را به زئولیت داده است. پس از مدتی، تمام یون‌های سدیم زئولیت، با کلسیم و منیزیم جای‌گزین می‌شود، و اثر سختی‌گیری خود را از دست می‌دهد. برای احیای زئولیت محلول غلیظ نمک طعام به کار می‌رود.



و پس از شست‌وشوی زئولیت، می‌توان از آن دوباره استفاده کرد.

۶-۴- مصارف آب

آب باید برای هر مصرفی ویژگی خاصی داشته باشد به عنوان مثال آب‌هایی که در کشاورزی به کار می‌روند، باید شامل خصوصیتی باشند که برای رشد نباتات لازم است. آب‌هایی که دارای املاح معدنی محلول زیاد باشند (آب دریاچه‌ها و یا دریا‌های شور)، جهت مصارف کشاورزی، مفید نیست و چه بسا که باعث توقف رشد و یا از بین رفتن محصولات کشاورزی شوند.

آب آشامیدنی باید از نظر ناخالصی‌ها مورد بررسی و آزمایش قرار گرفته، با روش‌های فیزیکی و شیمیایی تصفیه شود. آب شرب باید بی‌بو، بی‌رنگ و عاری از وجود میکروب‌ها و یا باکتری‌های مولد امراضی مانند: حصبه، اسهال، وبا و ... باشد، برخی از نمک‌های محلول موجود در آب، مانند کلرید منیزیم، کلرید سدیم، سولفات منیزیم و سولفات سدیم برای انسان مفیدند و به هضم غذا نیز کمک می‌کنند بدین جهت آبی که این نمک‌ها را در حد لازم برای شرب دارا باشد، «آب بُرنده» نامیده می‌شود. بیش‌تر آب‌هایی که از طریق منابع مختلف تهیه می‌شوند، کم و بیش ناخالصی‌هایی دارند و با گرفتن این ناخالصی‌ها به وسیله‌ی دستگاه‌های تصفیه، آب به دست آمده مصرف صنعتی پیدا می‌کند.

۶-۵- تصفیه‌ی آب جهت مصارف صنعتی

قبل از این که آب را برای هر نوع مصرفی، مورد استفاده قرار دهند، نمونه‌ای از آن در آزمایشگاه‌ها بررسی می‌شود و میزان کلیه‌ی ناخالصی‌های آن بر حسب ppm^۱ (یک قسمت ناخالصی، در یک میلیون قسمت آب نمونه) تعیین می‌کنند. اعداد به دست آمده را در جدولی با اسم ناخالصی‌ها یادداشت می‌کنند.

^۱ ppm: PARTPER Million

جدول ۶-۲- نتیجه‌ی آزمایشگاهی شش نمونه‌ی آب

CO _۳ Ca	مقدار نیترات NO _۳ ⁻	مقدار کلرید Cl ⁻	مقدار سولفات SO _۴ ⁻	مقدار بی‌کربنات CO _۳ H ⁻	مقدار منیزیم به صورت Mg ⁺⁺	مقدار کلسیم به صورت Ca ⁺⁺	مقدار آهن به صورت Fe _۲ O _۳	مقدار SiO _۲	کم شدن وزن مقدار جامدات در اثر حرارت	مقدار جامد حل شده	نمونه
ppm	ppm	ppm	ppm	ppm	ppm	ppm	ppm	ppm	ppm	ppm	
۴۱۸	۲/۸	۵۴۸	۹۲	۱۹۶	۳۳	۱۱۳	۰/۴۸	۲۲	۸۰	۱۲۷۳	۱
۶	۰/۴۹	۱/۰	۷/۷	۱۱	۱/۲	۴/۵	۰/۰۴	۲/۶	۲/۵	۲۸	۲
۱۱	۰/۰	۸/۰	۴۰۴	۵۰۴	۷۴	۲۰۳	۰/۱۴	۱۶	—	۹۶۹	۳
۳۶۹	۱۳	۹/۶	۸۴	۳۳۹	۳۴	۹۲	۰/۰۹	۱۰	۱۷	۴۳۴	۴
۶۶	۰/۸	۱۳	۶۰	۲۷	۴/۶	۲۸	۰/۲	۸/۲	—	۱۴۸	۵
۶۲۵۰	۰/۹	۱۹۰۰۰	۲۶۴۰	۱۳۷	۱۲۷۰	۴۰۷	۰/۲	۲/۴	—	۳۴۳۰۰	۶ آب دریا

حال، با توجه به مصارف مختلف صنعتی، هر کدام از ناخالصی‌های موجود در آب نمونه که مزاحم دستگاه‌ها و یا کیفیت محصولات آن‌ها می‌شوند، تشخیص داده شده، به وسیله‌ی دستگاه‌های مختلف تصفیه و با روش‌های مناسب، در حد لزوم جدا می‌شوند.

جدول ۶-۳ نتیجه‌ی تصفیه‌ی یکی از نمونه‌های جدول ۶-۲ به روش رسوب دادن و استفاده از زئولیت را نشان می‌دهد که جهت مصرف در دیگ‌های بخار است.

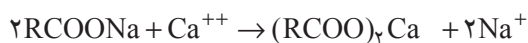
جدول ۶-۳- نتیجه‌ی تصفیه کردن به روش‌های مختلف

تصفیه شده به روش زئولیت سدیم		تصفیه شده به روش آهک کربنات سدیم		تصفیه نشده		یون یا ترکیب
epm	ppm	epm	ppm	epm	ppm	
۰/۰۰	۰	۰/۴۰	۶/۸	۰/۰۰	۰	تیدروکسیل (OH)
۰/۰۰	۰	۰/۲۰	۲۱	۰/۰۰	۰	کربنات (CO _۳)
۵/۶	۳۳۹	۰/۰۰	۰	۵/۵۶	۳۳۹	بی کربنات (HCO _۳)
۱/۷۵	۸۴	۱/۷۵	۸۴	۱/۷۵	۸۴	سولفات (SO _۴)
۰/۲۷	۹/۶	۰/۲۷	۹/۶	۰/۲۷	۹/۶	کلرید (Cl)
۰/۲۱	۱۳	۰/۲۱	۱۳	۰/۲۱	۱۳	نیترات (NO _۳)
۰/۳۳	۱۰	۰/۱۷	۵	۰/۳۳	۱۰	سیلیس (Si)
—	—	—	—	—	۰/۰۹	آهن (Fe)
۰/۱۰	۲	۰/۳۰	۶	۴/۶۰	۹۲	کلسیم (Ca)
۰/۰۴	۰/۵	۰/۰۸	۱	۲/۰۸	۳۴	منیزیم (Mg)
۷/۶۵	۱۷۶	۰/۹۵	۶۸	۰/۳۹	۹	سدیم (Na)
—	—	—	—	—	—	تیدروژن (H)
۰/۱۴	۷	۰/۳۸	۱۹	۷/۳۸	۳۶۹	سختی

یک قسمت در یک میلیون قسمت = ppm اکی والان گرم در یک میلیون قسمت = epm

۶-۶- اهمیت تصفیه‌ی آب در صنعت نساجی

در آب‌های سخت، وجود آهن و نمک‌های منیزیم و کلسیم مزاحمت زیادی ایجاد می‌کنند. علت دیر کف کردن صابون و یا کف نکردن آن در چنین آب‌هایی، ترکیب شدن صابون با این نمک‌هاست که منجر به تشکیل نمک‌های نامحلول می‌شود.



برخی از این نمک‌ها در آب با مواد مصرفی مانند صابون ترکیب می‌شوند و موادی را به وجود می‌آورند که عمل رنگرزی و شست و شو را با اشکال مواجه می‌کند.

تهیه‌ی آب صنعتی تصفیه شده در کارگاه‌های سفیدگری و رنگرزی برای کالاهای نساجی بسیار مهم است زیرا سختی موجود در آب با مواد رنگرزی موجود در حمام رنگرزی ترکیب شده،

رسوباتی از خود بر روی پارچه به جا می‌گذارند که باعث یک‌نواخت نبودن رنگ در پارچه می‌شود. در نتیجه پس از شست‌وشو و از بین رفتن رسوبات لکه‌هایی روی پارچه باقی می‌ماند و هم‌چنین مقاومت سایشی پارچه را کاهش می‌دهند. اگر ترکیبات آهنی و منگنز در آب باشد سبب رسوب و تغییر رنگ و یا لک شدن پارچه می‌شود. نمک‌های این فلزات در قسمت سفیدگری، باعث تجزیه‌ی محلول حمام سفیدگری می‌شوند. در شست‌وشو معمولاً مواد شوینده با املاح موجود در آب‌های سخت واکنش داده و رسوب می‌کند. بدین ترتیب قدرت شویندگی به مقدار قابل ملاحظه‌ای کاهش می‌یابد. البته امروزه رنگ‌زداها و یا مواد شوینده‌ای ساخته شده است که با استفاده از آن‌ها، در آب سخت هم پارچه رنگ‌رزی و یا شست‌وشو می‌شود.

۶-۷- موارد اختلاف آب آشامیدنی و صنعتی

کلیه‌ی آب‌های به دست آمده از منابع طبیعی ناخالصی دارند. وجود ناخالصی‌ها باعث ایجاد مشکلاتی در مصرف می‌شود؛ از بین بردن این اشکالات به وسیله‌ی دستگاه‌های تصفیه، نسبت به نوع مصرف آن (آشامیدنی یا صنعتی) متفاوت است، مثلاً وجود مواد کلوئیدی سبب تیرگی آب و کمبود فلوئور موجود در آب شده، باعث فساد دندان می‌شود و وجود باکتری‌های میکروسکوپی، باعث مریض شدن انسان و بودن نمک طعام در آب، باعث تغییر مزه‌ی آن می‌شود.

بنابراین، آبی که ناخالصی‌های فوق را داشته باشد، علاوه بر این که کیفیت مطلوب شرب را ندارد، مشکلات بهداشتی نیز ایجاد می‌کند. در صورتی که اگر هدف، مصرف صنعتی آب باشد، نسبت به نوع مصرف مثلاً در دیگ‌های بخار، از لحاظ بهداشتی مشکل‌چندانی ایجاد نمی‌کند.

جهت قابل شرب ساختن آب بیش‌تر ناخالصی‌های موجود به وسیله‌ی دستگاه‌های تصفیه گرفته می‌شوند و برای ضدعفونی کردن آب آشامیدنی از مواد شیمیایی مثل هیپوکلریت کلسیم استفاده می‌شود. ناگفته نماند که وجود بعضی از نمک‌های محلول در آب، در حد استاندارد، به گوارا و خوش مزه شدن آب کمک می‌کند. علل کاهش سختی آب‌های آشامیدنی شهری به قرار زیر است:

– جلوگیری از مصرف زیاد بودرهای لباس‌شویی و صابون (صابون در آب‌هایی که سختی زیاد دارند، کف نمی‌کند).

– کم کردن کار شست‌وشو و زیاد کردن عمر لباس‌ها

– جلوگیری از ته‌نشین شدن رسوبات در آب گرمکن‌ها

– بهتر کردن کیفیت آب در حمام‌ها

– گوارا کردن آب

– جلوگیری از ایجاد طعم نامطلوب آب.

آب‌های صنعتی نیز باید دارای خصوصیتی متناسب با موارد کاربردشان باشند، برای مثال آب‌های مصرفی در صنعت نساجی باید دارای سختی کمی باشند تا کیفیت محصولات به دست آمده بالا رود. جدول ۴-۶ مواد ناخالصی معمولی در آب را نشان می‌دهد و مشکلات ناشی از این مواد را (در صورتی که بیش از حد باشد) معین می‌کند.

جدول ۴-۶- جدول ناخالصی‌های معمولی در آب و اثرات آن‌ها

کیفیت ناخالصی	اسم ناخالصی	تولید علت یا اثرات آن در آب
مواد معلق	۱- باکتری‌ها	تولید بیماری
	۲- خزه و موجودات میکروسکوپی	تولید بو، رنگ، تیرگی
	۳- مواد کلوئیدی	تولید تیرگی
مواد محلول	کلسیم	بی‌کربنات
		کربنات
		سولفات
		کلرید
		منیزیم
	سدیم	بی‌کربنات
		کربنات
		سولفات
		فلورید
		کلرید
اکسید آهن منگنز رنگ‌های گیاهی	تولید مزه، رنگ، خوردگی فلزات، سختی تولید رنگ تولید رنگ، اسیدی کردن	
	گازها	تولید خوردگی در فلزات
		دی‌اکسیدکربن
SH _۲		
	نیتروژن	تولید بو، اسیدی کردن، خوردگی در فلزات

ناخالصی‌هایی که یک کارخانه‌ی صنعتی باید از آب خود خارج کند عبارت‌اند از :
 - مواد معلق مانند گل و لای و سیلیس که ممکن است به وسیله‌ی صافی‌های شنی از آب خارج شود.

- گازهای محلول در برخی از آب‌ها مانند گاز کربنیک، اکسیژن و سولفید یدروژن که مخصوصاً در دستگاه‌های صنعتی مزاحمت ایجاد می‌کنند و قبل از استفاده با حرارت دادن آب و عملیات دیگر، باید از آب خارج شوند.

املاح محلول در آب مخصوصاً بی‌کربنات و سولفات و کلریدهای کلسیم و منیزیم که به روش‌های مختلف از آب خارج می‌شوند.

۸-۶- انواع سختی آب

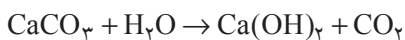
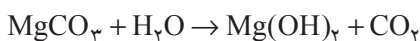
۸-۶-۱- سختی موقت: به طور کلی کربنات‌های کلسیم و منیزیم در آب نامحلول می‌باشد، اما وجود اکسید کربن آن‌ها را همواره به صورت بی‌کربنات‌های کلسیم و منیزیم محلول در آب در می‌آورد.



بنابراین سختی موقت آب مجموع بی‌کربنات کلسیم و بی‌کربنات منیزیم موجود در آب می‌باشد. این بی‌کربنات‌ها در اثر جوشیدن در آب تجزیه شده گاز کربنیک و رسوبات کربنات کلسیم و کربنات منیزیم تولید می‌کنند که در نتیجه، با برطرف کردن این رسوبات سختی موقت آب از بین می‌رود.



در صورتی که رسوبات برطرف نشوند با آب ترکیب شده، قشری از کربنات کلسیم و هیدروکسید منیزیم به دست می‌آید.



۸-۶-۲- سختی دائم: کلریدها، سولفات‌ها و یا نیترات‌های کلسیم و منیزیم در آب محلول می‌باشند. بودن یا نبودن دی‌اکسید کربن، در حلالیت آن‌ها در آب، اثری ندارد. این نمک‌ها در اثر جوشیدن در آب تجزیه شده، رسوب نمی‌دهند، در نتیجه وجود آن‌ها موجب سختی دائم آب می‌شود.

۶-۸-۳- سختی کل: مجموع نمک‌های کلسیم - منیزیم چه به صورت بی‌کربنات‌ها و چه به صورت نترات‌ها، کلریدها، سولفات‌ها و سیلیکات‌ها در آب‌های مختلف را، «سختی کل» می‌نامند و مقدار نسبی آن‌ها در آب‌های مختلف متفاوت است. به عبارت دیگر مجموع سختی موقت و سختی دائم را سختی کل می‌نامند.

۶-۹- دستگاه‌های تصفیه‌ی آب

دستگاه‌های تصفیه‌ی آب یا به طور کلی تصفیه‌خانه‌های آب به منظورهای مختلف طراحی و یا تأسیس می‌شوند؛ یعنی با توجه به ناخالصی‌های موجود در آب، نوع دستگاه‌های تصفیه را انتخاب می‌کنند. در اینجا سه نمونه از این دستگاه‌ها معرفی می‌شود:

- تصفیه‌خانه‌ی آب با صافی‌های تندشنی

- دستگاه صافی‌های فشاری

- دستگاه‌های سختی‌گیر

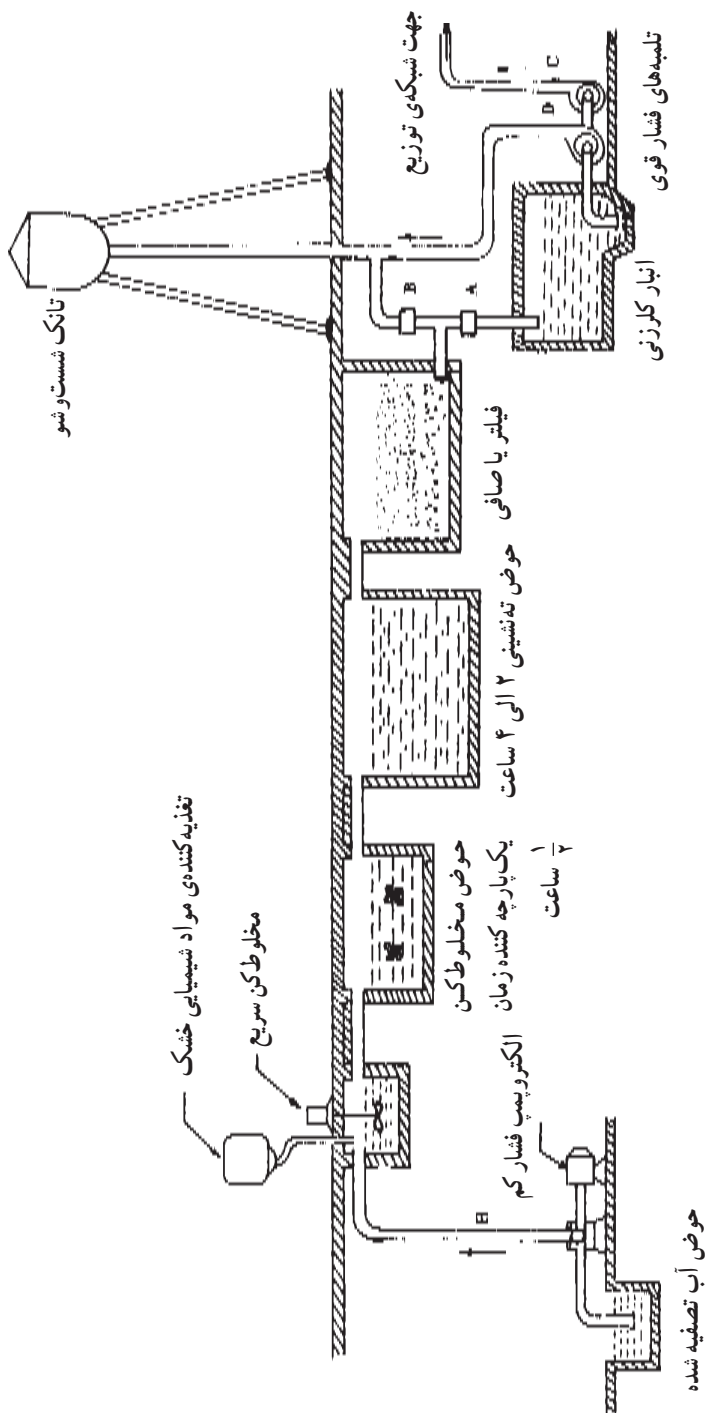
۶-۹-۱- تصفیه‌خانه‌ی آب با صافی‌های تندشنی: شکل ۶-۱ نمای یک تصفیه‌خانه‌ی ساده را نشان می‌دهد. باید توجه شود که در تصفیه‌خانه‌ی صافی‌های تندشنی، حتماً باید از منعقدکننده‌ها استفاده شود تا کیفیت تصفیه بالا باشد.

روش کار در این نوع تصفیه‌خانه‌ها بدین طریق است که آب به وسیله‌ی الکتروپمپ از منبع اصلی به حوض مخلوط‌کن منتقل می‌شود.

این حوض، مجهز به یک دستگاه همزنی است که با سرعت زیاد می‌چرخد، از طرفی مواد شیمیایی (منعقدکننده) به اندازه‌ی مورد نیاز، وارد حوض می‌شوند و به وسیله‌ی مخلوط‌کن با کلیه‌ی ذرات آب مخلوط می‌شوند، سپس آب وارد حوض دیگری به نام حوض «یک‌پارچه‌کننده» شده، ۳۰ دقیقه متوقف می‌شود. در این مدت، ترکیب شیمیایی بین مواد منعقدکننده و یون‌های Ca و Mg و سایر ناخالصی‌های محلول در آب انجام می‌شود و ذرات معلق در آب (کلوئید) درشت شده، به هم می‌چسبند. این مواد با دستگاه‌های همزن الکتریکی که با دور آرامی می‌چرخند مخلوط شده، وارد حوض دیگری به نام حوض «ته‌نشینی» می‌شوند، مدت توقف آن‌ها در این حوض ۲ الی ۴ ساعت است.

ذرات معلق در آب و املاح موجود در آن در اثر وزن خود به صورت لجن ته‌نشین می‌شوند. لجن به دست آمده را به وسیله‌ی پمپ‌های لجن‌کش بیرون می‌کشند و وارد خط فاضلاب می‌کنند. برای جداسازی ذرات ریز معلق، آب را وارد حوض فیلتر می‌کنند. آب ضمن عبور از طبقات صافی

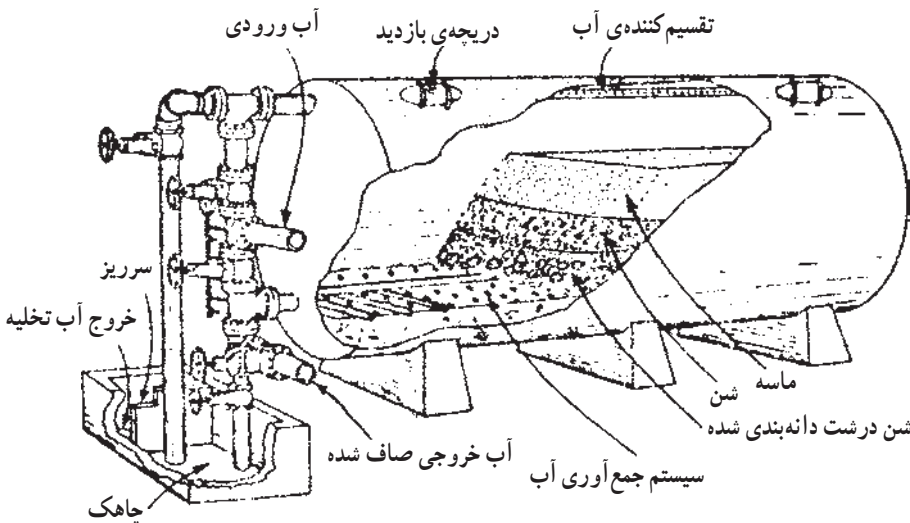
(فیلتر) که شامل طبقات ماسه‌شن و شن‌های درشت است کلیه ذرات معلق در خود را در لابه‌لای این طبقات جا می‌گذارد و پس از تصفیه‌شدن، وارد انبار دیگری به نام «انبار کلرزنی» می‌شود.



شکل ۱-۶- تصفیه‌خانه‌ی آب با صافی‌های تند شنی

در انبار کلرزی، برای از بین بردن میکروب‌ها و ضد عفونی کردن آب، گاز و یا مایع کلر به آن اضافه می‌شود و بدین طریق آب تصفیه شده از طریق تلمبه‌های فشارقوی به لوله‌های شبکه‌ی توزیع خط شهری تزریق می‌شود. صافی‌های تصفیه‌ی آب پس از مدتی کارکردن در اثر رسوبات ذرات چسبناک مسدود می‌شوند که برای پاک‌سازی صافی آن را شست‌وشو می‌دهند. نحوه‌ی کار بدین طریق است که تلمبه‌ی شماره‌ی D را راه‌اندازی می‌کنند تا آب در تانک شست‌وشو ذخیره شود. سپس شیر فلکه‌ی B را باز و شیر فلکه‌ی A را می‌بندند. آب از تانک شست‌وشو بر اثر فشار زیاد از قسمت پایینی صافی وارد شده، در جهت مسیر برعکس اولیه از لابه‌لای صافی عبور می‌کند و کلیه‌ی ذرات گیر کرده در طبقات صافی را به همراه خود به سطح صافی آورده، به صورت کف و لجن از محل سرریز صافی وارد خط فاضلاب می‌کند؛ این عمل تا تمیز شدن کامل صافی ادامه پیدا می‌کند.

۶-۹-۲- صافی‌های فشاری: شکل ۶-۲ دستگاه تصفیه‌ی صافی فشاری را نشان می‌دهد. در صافی‌های فشاری، فشار خروجی آن‌ها از یک اتمسفر بیش‌تر است. این صافی‌ها در تصفیه‌خانه‌های کوچک و هم‌چنین در کارخانه‌ها و استخرها مورد استفاده قرار می‌گیرند. طرز کار آن‌ها طوری است که آب، بعد از اضافه شدن مواد منعقد کننده، بدون به هم زده شدن و یک پارچه شدن و ته‌نشینی، وارد صافی می‌شود و آب تصفیه شده از خط خروجی آن بیرون می‌آید.



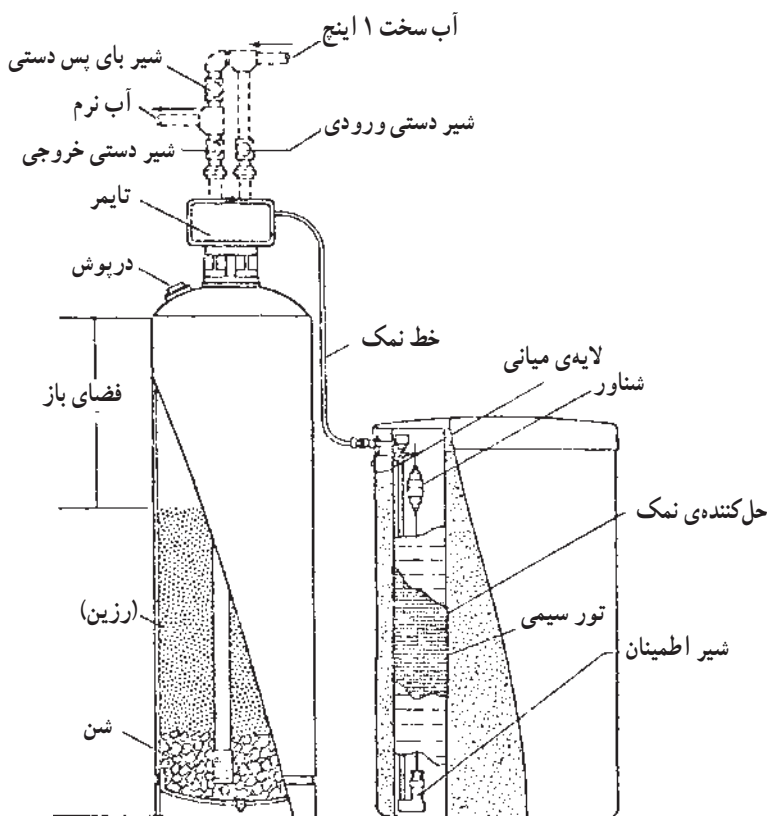
شکل ۶-۲- صافی فشاری

شکل ۶-۲ دستگاه صافی برش داده شده‌ای است که طرز قرارگرفتن لایه‌های ماسه، شن و شن‌های درشت و سیستم لوله‌کشی آن را نشان می‌دهد. معمولاً منعقدکننده‌های این نوع صافی‌ها،

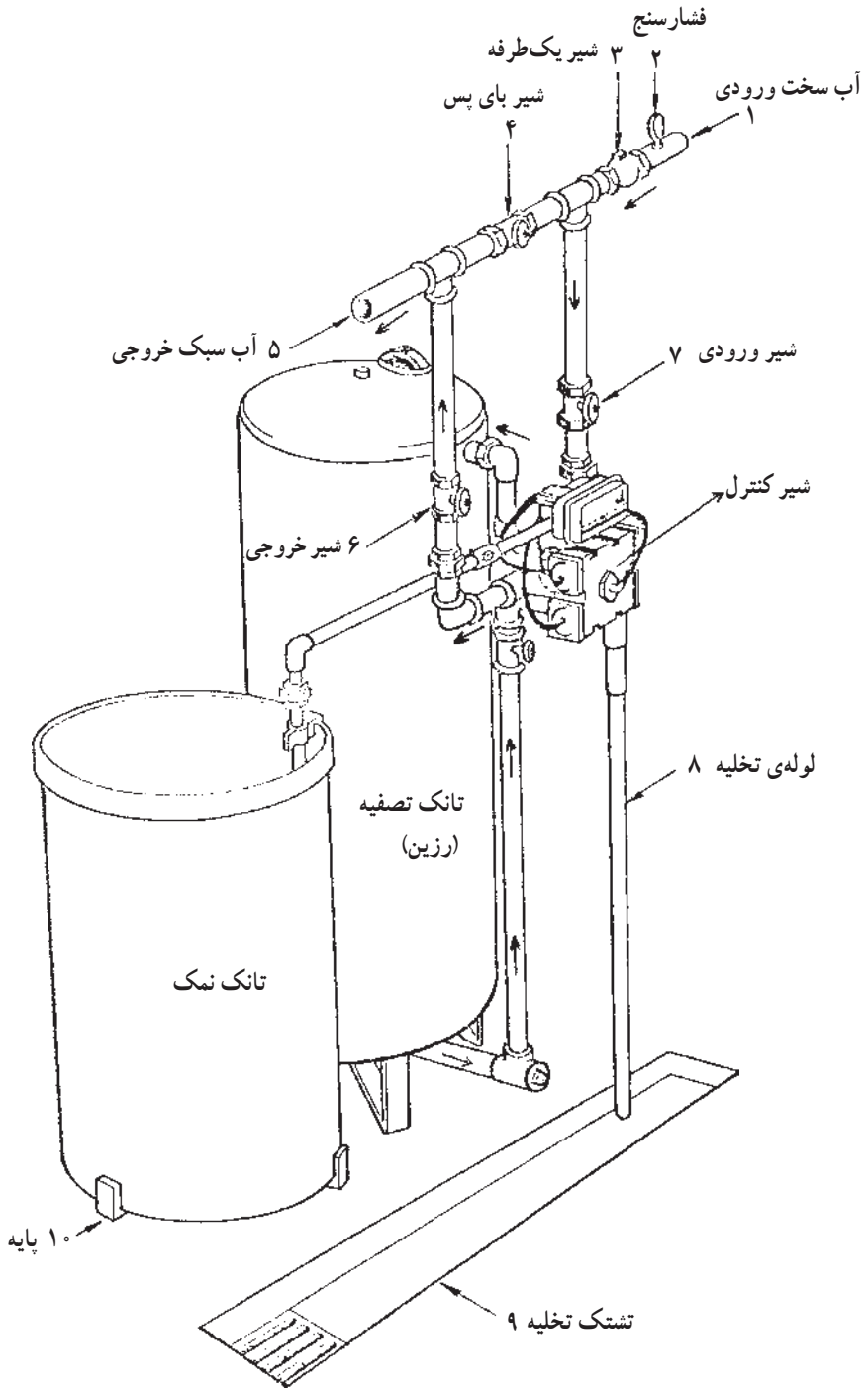
سولفات آلومینیم است که در یک محفظه‌ی کوچک، در خط ورودی آب به صافی، قرار می‌گیرند. مزیت این نوع صافی‌ها، کم حجم بودن آنهاست. آب خارج شده از این صافی‌ها اگر برای مصرف صنعتی باشد، احتیاج به کلر زنی ندارد ولی اگر مصرف بهداشتی و شرب داشته باشد، به کلر زنی نیاز دارد و برای آب‌هایی که گل و لای زیادی دارند از این صافی‌ها استفاده نمی‌شود.

۶-۹-۳- دستگاه‌های سختی‌گیر: دستگاه‌هایی که به این منظور ساخته می‌شوند، دارای

دو تانک استوانه‌ای شکل هستند. یکی از تانک‌ها، مجهز به سیستم لوله‌کشی آب و کنترل‌های برقی و شیرآلات است و قسمت درونی آن مثل صافی‌های شنی شامل لایه‌های شن درشت و مواد نرم‌کننده است. تانک دیگر، به منظور تأمین آب نمک به کار می‌رود و به وسیله‌ی لوله‌کشی، به تانک اولی مربوط می‌شود. شکل‌های ۳-۶ و ۴-۶ نمونه‌ای از این نوع دستگاه‌های تصفیه‌اند که در موتورخانه‌های بخار جزء نیازهای اساسی هستند و در قسمتی از موتورخانه، جهت تأمین آب تغذیه دیگرها نصب می‌شوند.



شکل ۳-۶- نمونه‌ی برش داده شده‌ی دستگاه تصفیه



شکل ۶-۴ - دستگاه تصفیه

با توجه به شکل ۶-۴ آب سخت ورودی، پس از عبور از شیر ورودی از طریق شیر کنترل، وارد قسمت بالای تانک سرپوشیده می‌شود و هنگام عبور از لایه لای رزین‌های تعویض‌کننده‌ی یونی (مثل زئولیت)، یون‌های کلسیم (Ca^{++}) و منیزیم (Mg^{++}) خود را از دست داده، سبک می‌شود و از قسمت پایین تانک به شیر کنترل برگشته، از راه آن وارد خط خروجی می‌شود. بدین طریق آب نرم یا سبک، پس از عبور از شیر خروجی جهت مصرف خارج می‌شود و این عمل تا زمانی که ماده‌ی تعویض‌کننده‌ی یونی درون تانک، از یون‌های Ca و Mg اشباع نشده، ادامه می‌یابد.

زمانی که رزین درون تانک، اشباع شد؛ مرحله‌ی بازسازی فرا می‌رسد. در این مرحله عمل سبک‌کردن آب متوقف شده، آب نمک از تانک دومی و از طریق شیر کنترل وارد قسمت بالای تانک می‌شود و ضمن عبور از لایه‌های رزین، یون‌های سدیم با یون‌های کلسیم و منیزیم عوض می‌شود و رزین دوباره بازسازی و آماده‌ی بهره‌برداری می‌شود. پس از بازسازی رزین، مرحله‌ی شست‌وشو فرا می‌رسد. بدین طریق که آب ورودی، به وسیله‌ی شیر کنترل، از قسمت بالای تانک وارد می‌شود و ارتباط لوله‌ی تخلیه با قسمت پایینی تانک به وسیله‌ی شیر کنترل برقرار می‌شود. آب نمکی که یون آن عوض شده است، همراه با سختی‌های جدا شده از رزین، از تانک تخلیه می‌شود. به این ترتیب درون تانک، شست‌وشو شده، دستگاه برای استفاده‌ی مجدد، آماده می‌شود. تنظیم این مراحل، به طور خودکار انجام می‌گیرد.

بعضی از این دستگاه‌ها خودکار نیستند و کلیه‌ی مراحل آن‌ها به صورت دستی انجام می‌گیرد. بدین طریق که کنترل‌آب را در خط مصرف قرار می‌دهند و شماره‌ی صفحه‌ی کنترل‌آب را یادداشت می‌کنند؛ وقتی که میزان آب مصرفی تصفیه شده، به حد ظرفیت تصفیه‌ی دستگاه سختی‌گیر رسید، شیر فلکه‌ی خروجی را بسته، برای بازسازی مواد شیمیایی درون دستگاه، اقدام می‌کنند و این اقدام در موتورخانه به صورت دستی انجام می‌گیرد.

پرسش

- ۱- انواع آب‌ها را برحسب منشأ طبیعی آن‌ها نام برده، درباره‌ی هر یک، توضیح دهید.
- ۲- چرا در بعضی از کشورها، باران‌های اسیدی می‌بارد؟
- ۳- روش‌های تصفیه‌ی آب به طریق فیزیکی را نام برده، هر کدام را شرح دهید.
- ۴- با ذکر نام چند منعقدکننده، توضیح دهید که چگونه منعقدکننده‌ها باعث تصفیه‌ی آب می‌شوند.
- ۵- مفاهیم زیر را تعریف کنید:
آب سبک، آب برنده، سختی دائم، سختی موقت، سختی کل
- ۶- آب تصفیه نشده باعث ایجاد چه مشکلاتی در رنگرزی و عملیات تکمیلی می‌شود؟ توضیح دهید.
- ۷- دلایل جداکردن سختی آب شرب شهری را توضیح دهید.
- ۸- روش تصفیه‌ی آب به وسیله‌ی زئولیت‌ها و رسوب‌دادن را شرح دهید.
- ۹- دستگاه سختی‌گیر رزین‌های تعویض‌کننده‌ی یونی (مثل زئولیت‌ها) را شرح دهید.