

فصل سوم

## جغرافیای انسانی ایران

جغرافیای انسانی، مطالعه فعالیت‌های انسان و نتایج

این فعالیت‌ها می‌باشد.

در این فصل، شما با ویژگی‌های جمعیت، تقسیمات

کشوری، سکونتگاه‌ها و توان‌های اقتصادی ایران آشنا

می‌شوید.



## ویژگی‌های جمعیت ایران

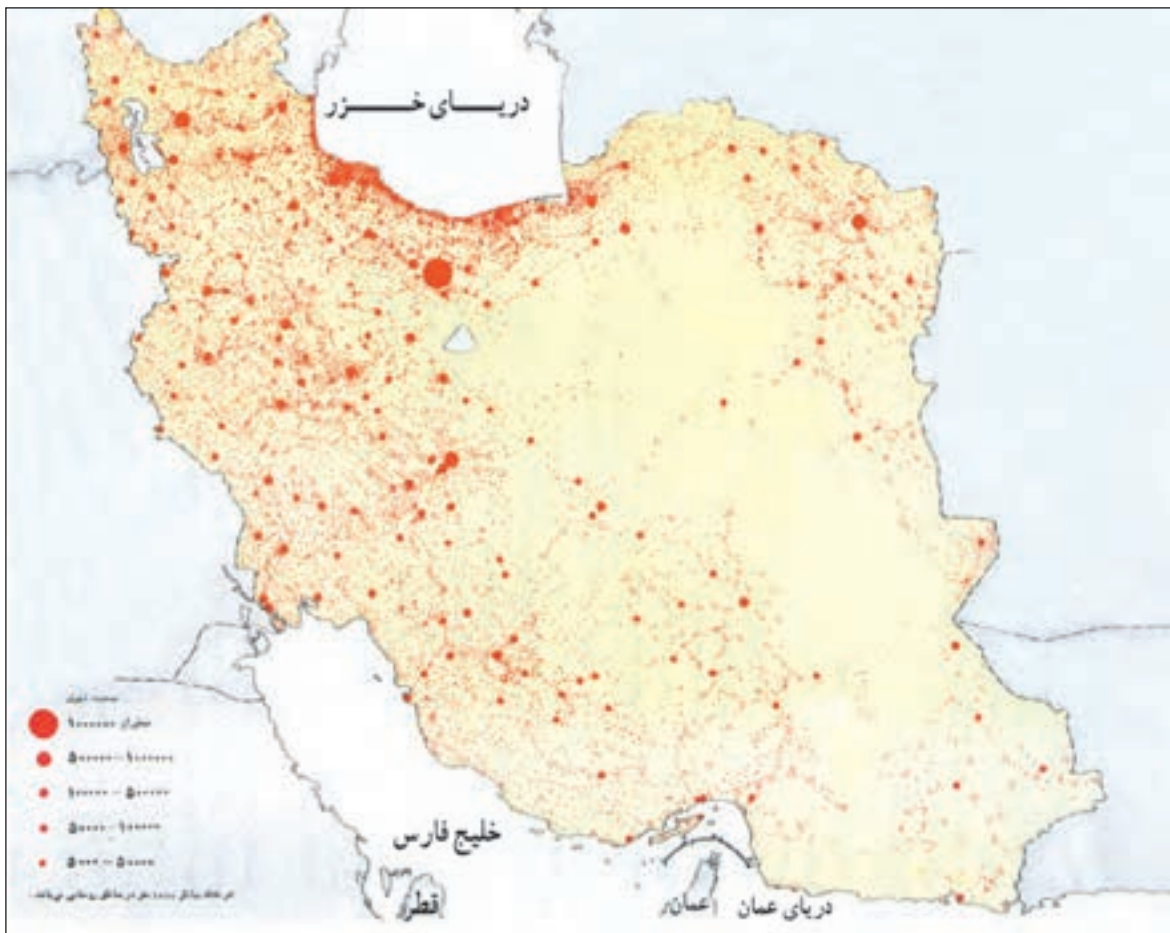
### پراکندگی جمعیت در ایران

به نقشه پراکندگی جمعیت ایران، به دقت نگاه کنید و به سؤالات پاسخ دهید.

۱ آیا جمعیت در همه‌جای کشور ما یکسان پراکنده شده است؟

۲ کدام نقاط، پرجمعیت و کدام یک کم‌جمعیت هستند؟

۳ آیا جایی دیده می‌شود که از جمعیت خالی باشد؟



نقشه پراکندگی جمعیت در ایران

پراکندگی جمعیت در مکان‌ها از عوامل متعددی، تأثیر می‌گیرد. نقشه‌های روبه‌رو بیانگر بعضی عوامل اثرگذار در پراکندگی جمعیت کشور ماست. پس از مرور این نقشه‌ها، درباره عوامل مؤثر بر پراکندگی جمعیت در کشور، با یکدیگر گفت‌وگو کنید.



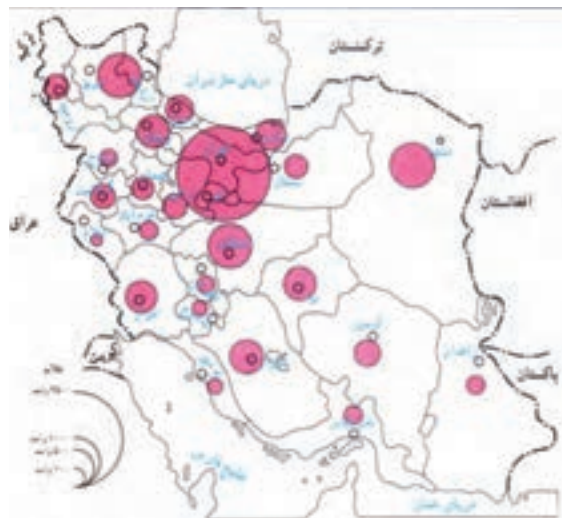
تقسیم نواحی برحسب رودهای دائمی و موقت



نقشه ناهمواری های ایران



تقسیم نواحی برحسب منابع نفتی



تقسیم نواحی برحسب صنایع

جغرافی دانان در مطالعه پراکندگی جمعیت، عوامل طبیعی و انسانی را مورد توجه قرار می دهند. آنان معتقدند که نقشه پراکندگی جمعیت، پیوسته در حال تغییر است. در دهه های اخیر، نقش انسان به عنوان عامل تأثیرگذار در پراکندگی جمعیت، نسبت به گذشته، افزایش چشمگیری داشته است.

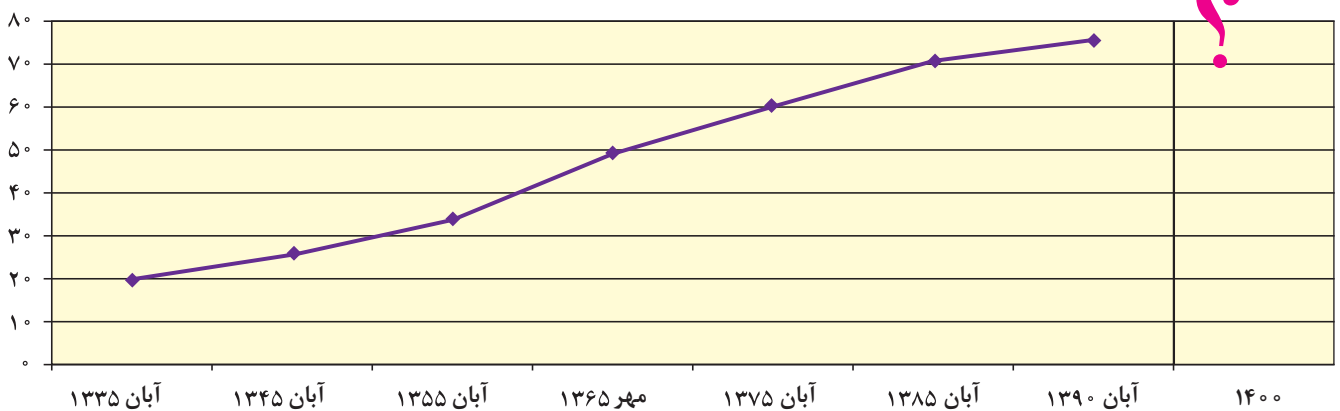
اطلاعات داده شده به شما کمک می کند که عوامل انسانی اثرگذار را بر پراکندگی جمعیت شناسایی کنید.

<p><b>سرمایه و فناوری</b></p> 	<p><b>حمل و نقل و ارتباطات</b></p> 
<p><b>پیشینه و سابقه تاریخی</b></p> 	<p><b>ایجاد مراکز رفاهی</b></p> 

### رشد جمعیت

طبق آخرین آمار سرشماری عمومی نفوس و مسکن در سال ۱۳۹۲، جمعیت ایران ۷۷,۱۸۹,۶۶۹ نفر است. به نمودار جمعیت ایران توجه کنید. با توجه به روند افزایش جمعیت ایران طی دهه های اخیر، چه تغییر و تحولاتی را در آینده پیش بینی می کنید؟

میلیون نفر





یکی از مباحث مهم جمعیت، بررسی میزان افزایش و کاهش جمعیت هر کشور است. متخصصان برای دستیابی به میزان افزایش و کاهش جمعیت، رشد طبیعی جمعیت را اندازه‌گیری می‌کنند. برای اندازه‌گیری رشد طبیعی جمعیت، میزان مولید و مرگ و میر را در یک سال مشخص از هم کم، و بر تعداد کل جمعیت تقسیم، و سپس آن را به درصد بیان می‌کنند.

$$\text{رشد طبیعی جمعیت} = \frac{\text{میزان مرگ و میر} - \text{میزان مولید}}{\text{کل جمعیت همان سال}} \times 100$$

اگر میزان مولید ایران در سال ۱۳۹۲ بیش از ۱,۴۰۰,۰۰۰ نفر و مرگ و میر آن ۳۴۰,۹۹۰ نفر باشد، میزان رشد طبیعی ایران، چند درصد است؟

میزان رشد طبیعی چند کشور در جدول زیر آورده شده است. میزان رشد ایران را که به دست آوردید در جدول زیر قرار دهید. میزان رشد کشور ما به کدام کشور نزدیک‌تر است؟ کمترین و بیشترین میزان رشد، متعلق به کدام کشورهاست؟ آیا اطلاع از میزان رشد برای برنامه‌ریزان کشورها مهم است؟ چرا؟

کشور	آلمان	مکزیک	چین	پاکستان	فرانسه	نیجر	لیبی	ایران
میزان رشد طبیعی (به درصد)	۰ >	۱/۵	۰/۷	۲	۱ >	۳/۵	۴	

با توجه به اطلاعات به دست آمده، دریافتید که میزان رشد طبیعی جمعیت در جهان، یکسان نیست. برخی از کشورهای جهان رشد بیش از ۳/۵ درصد و برخی رشد منفی دارند. البته نکته مهم در رشد جمعیت، این است که نه تنها عامل طبیعی زاد و ولد در آن نقش دارد، بلکه مهاجرت از عوامل تأثیرگذار بر رشد جمعیت کشورها به شمار می‌رود. مولید و مرگ و میر، رشد طبیعی جمعیت را نشان می‌دهد که اگر مهاجرت را به آن اضافه یا از آن کم کنیم، رشد مطلق جمعیت را به دست خواهیم آورد. با کمک معلم خود و با استفاده از فرمول درصد رشد طبیعی جمعیت، فرمول رشد مطلق جمعیت را در پیرایند (کادر) زیر بنویسید:

$$\text{رشد مطلق جمعیت} = \dots \pm \dots \times 100$$

معمولاً برنامه‌ریزان برای برنامه‌ریزی‌های مختلف اجتماعی، اقتصادی، آموزشی و فرهنگی، به آینده‌نگری جمعیتی نیاز دارند. قانون ۷۰، زمان دو برابر شدن جمعیت هر کشور را نشان می‌دهد. اطلاع از میزان رشد جمعیت، پایه محاسبه فرمول دو برابر شدن جمعیت است. زمان به دست آمده سبب می‌شود تا برای آینده، پیش‌بینی‌های لازم را انجام دهند. به نظر شما چند سال طول می‌کشد تا جمعیت کشور ما دو برابر شود؟

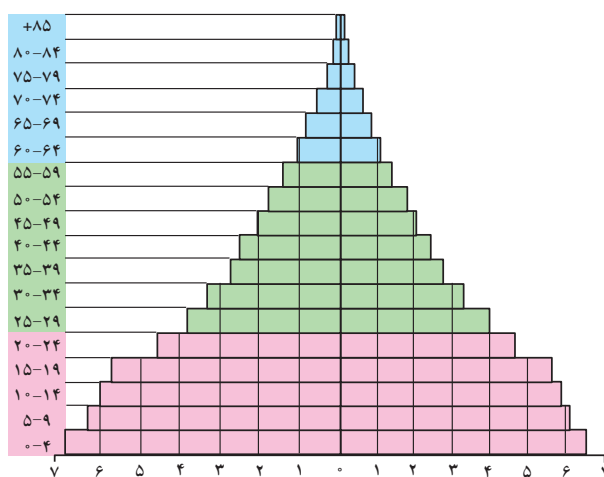
$$\frac{70}{\text{نرخ رشد جمعیت}} = \text{مدت زمان دو برابر شدن جمعیت}$$

## فعالیت

میزان رشد استان محل زندگی خود را از کتاب استان‌شناسی یا سایت مرکز آمار (درگاه آمار ملی ایران) بگیرید و آن را با کشور مقایسه کنید. وضعیت استان خود را از این نظر مورد بحث و گفت‌وگو قرار دهید.

## ساختمان جمعیت

در گذشته، آمار جمعیت نقش مهمی در تصمیم‌گیری‌های برنامه‌ریزان داشت. اما امروزه آنان برای برنامه‌ریزی دقیق مجبورند علاوه بر تعداد جمعیت، عوامل دیگر جمعیتی را نیز در نظر بگیرند. کدام ویژگی‌های جمعیتی را می‌شناسید که در سرشماری‌ها به آنها توجه می‌شود و سرشماران، اطلاعات مربوط به آنها را جمع‌آوری می‌کنند؟



اکنون در مطالعات جمعیتی، بررسی ساختمان یا ترکیب جمعیت از اهمیت خاصی برخوردار است. ساختمان جمعیت، ویژگی‌های قابل اندازه‌گیری جمعیت را مورد بررسی قرار می‌دهد. اطلاع از وضعیت سنی و جنسی جمعیت هر کشور از موارد قابل توجه برنامه‌ریزان است. جمعیت کره زمین از لحاظ نسبت جنسی جز در زمان‌های خاص، تفاوت چندانی ندارد؛ اما در طول زمان، نسبت سنی در کشورها دچار تغییراتی می‌شود. متخصصان به دلیل اهمیت نسبت سنی در برنامه‌ریزی هر کشور از لحاظ سنی، جمعیت را به گروه‌های مختلفی دسته‌بندی کرده‌اند. هرم سنی هر کشور به برنامه‌ریزان

کمک می‌کند که با ساختمان سنی جمعیت آن کشور آشنا شوند و از آن برای برنامه‌ریزی استفاده کنند؛ به عنوان نمونه برای تحقق برنامه‌های تأمین اجتماعی، بهبود وضعیت سالمندان، ارتقای سطح سلامت جامعه، تأمین شغل برای حال و آینده، ایجاد فرصت‌های تحصیلی، تفریحی و رفاهی برای جوانان، امنیت ملی، جلوگیری از پیری جمعیتی، از اطلاعات و آمارهای سنی و جنسی جمعیت کمک می‌گیرند.



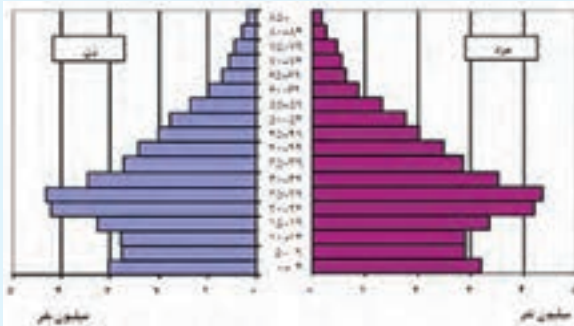
در هرم سنی صفحه قبل، زیرگروه‌های سنی را چند ساله تقسیم‌بندی کرده‌اند؟  
 با توجه به رنگ‌های داده شده، تقسیم‌بندی سه گروه سنی کودکان و نوجوانان، بزرگسالان و سالمندان را در پیرامند زیر بنویسید:

تولد تا ..... کودکان و نوجوانان  
 ..... - ..... بزرگسالان  
 ..... - ..... سالمندان

## فعالیت

۱- با توجه به نقش و اهمیت اطلاعات و آمار در برنامه‌ریزی‌های اقتصادی و اجتماعی کشورها به عنوان عضو خانواده، جایگاه سرشماری و جمع‌آوری اطلاعات را مورد بررسی و تجزیه و تحلیل قرار دهید.

۲- به هرم سنی ایران در سال ۱۳۹۰ توجه کنید.



گروه‌های سنی ایران را مورد بررسی قرار دهید.

بیشترین جمعیت در کدام گروه سنی مشاهده می‌شود؟ این گروه سنی چه ویژگی‌هایی دارد؟

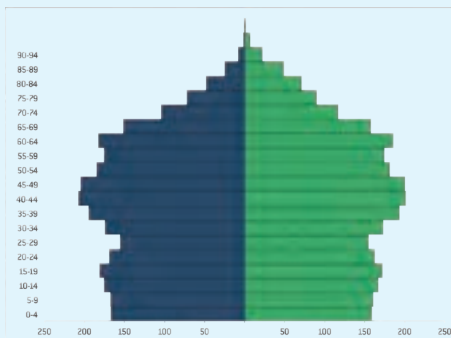
چه مزایا و محدودیت‌هایی را برای کشور ما ایجاد می‌کنند؟

۳- با کمک هرم‌های سنی زیر، به سؤالات پاسخ دهید.

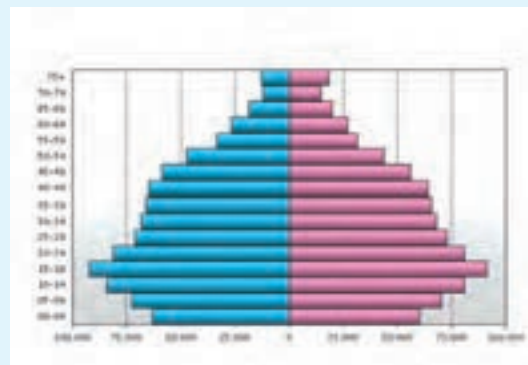
- میزان رشد موالیید در کدام کشور بیشتر است؟

- کدام کشور، افراد سالمند بیشتری دارد؟ پیامدهای آن چیست؟

- کدام کشور درصد جمعیت فعال اقتصادی بیشتر، و چه مزایا و محدودیت‌هایی پیش‌رو دارد؟



هرم سنی دانمارک



هرم سنی آندونزی

۴- به نظر شما یک هرم سنی مطلوب (جمعیت مناسب برای حال و آینده) چه شکلی دارد؟ به صورت شماتیک، هرم مناسب جمعیتی رسم کنید. دلایل خود را از چگونگی رسم هرم سنی ارائه کنید.

## سیاست‌های جمعیتی

در دهه‌های اخیر، دولت‌ها پیوسته سعی کرده‌اند میزان رشد جمعیت را کنترل کنند. میزان رشد جمعیت در برنامه‌ریزی ملی کشورها نقش دارد.

ایران هم، از جمله کشورهایی است که تغییرات جمعیتی زیادی در دهه‌های اخیر داشته است. در ۸۰ سال اخیر بر اثر گسترش بهداشت و واکسیناسیون، لوله‌کشی و بهبود آب آشامیدنی، رونق صادرات نفت و واردات مواد غذایی؛ میزان مرگ‌ومیر کاهش یافته و این کاهش، سبب افزایش سریع جمعیت شده است. جدول زیر، متوسط رشد سالانه جمعیت ایران را در سال‌های ۵۵ تا ۸۵ نشان می‌دهد.

سال	۱۳۵۵	۱۳۶۵	۱۳۷۵	۱۳۸۵
میزان رشد	۲/۷	۳/۹	۱/۵	۱/۶

جدول متوسط میزان رشد جمعیت ایران

بیشترین و کمترین رشد جمعیت به کدام سال‌ها مربوط است؟ چرا؟ سیاست‌های کاهش جمعیت، سبب کاهش رشد در سال ۱۳۹۰ (۱/۴ درصد) شد. این کاهش در آینده می‌تواند مشکلاتی برای کشور ما ایجاد کند که از جمله می‌توان به برهم خوردن تعادل جمعیتی، کاهش نیروی فعال و تضعیف نیروی دفاعی کشور، اشاره کرد.

اگر سیاست کنترل جمعیت در ابعاد شدید ادامه پیدا کند، جمعیت کشور به تدریج دچار پیری و در نهایت مشکلات دیگری در بر خواهد داشت. اساساً نباید سیاست کنترل جمعیت به گونه‌ای باشد که هرم سنی کشور به سمت سالمندی و کهنسالی حرکت کند، زیرا این پدیده مانع اصلی بر سر راه توسعه اقتصادی جامعه خواهد بود.

## مهاجرت

مهاجرت از عوامل مهم در تغییرات جمعیت به‌شمار می‌رود. با پیشرفت فناوری و وسایل حمل و نقل، حرکت و جابه‌جایی نسبت به گذشته افزایش یافته است. افراد در مهاجرت بین دو واحد جغرافیایی جابه‌جا می‌شوند. بعضی از متخصصان، مهاجرت از ابتدای قرن بیستم تا به حال را در سه شکل بیان کرده‌اند.

۱ مهاجرت روستاییان به شهر که باعث جذب نیروی انسانی جوان از روستا به شهر می‌شود. این مهاجرت در اقتصاد کشور با از دست دادن نیروی کار روستا و افزایش جمعیت فعال اقتصادی شهر، خود را نشان می‌دهد.

۲ مهاجرت‌های گروهی که براساس تصمیمات سیاسی انجام می‌شود.

۳ مهاجرت که افراد از یک کشور به کشور دیگر جابه‌جا می‌شوند.

مهاجرت به هر شکلی که انجام شود، برای کشوری که افراد از آن خارج می‌شوند (مهاجر فرست) و همچنین برای کشوری که افراد به آن وارد می‌شوند (مهاجرپذیر) تغییرات اجتماعی، اقتصادی، فرهنگی و محیط زیستی را به همراه دارد. در کشور ما، مهاجرت روستاییان به شهرها از مهم‌ترین مهاجرت‌ها در دهه‌های اخیر به‌شمار می‌رود.

نکته قابل توجه در مهاجرت این است که اعضای یک خانواده با هم به دنیا نمی‌آیند و با هم از دنیا نمی‌روند (مگر در سوانح)، ولی اغلب، اعضای خانوارها با هم مهاجرت می‌کنند و حتی در مواردی، چندین خانواده یا کلیه ساکنان یک محل یا منطقه به‌خاطر عامل یا عوامل مشترک، جابه‌جا می‌شوند. به همین خاطر، مطالعه مهاجرت در بحث تغییرات جمعیت مهم است.



نقشهٔ زیر، مسیر عمدهٔ مهاجرت در کشور ایران، طی سال‌های ۹۰-۱۳۷۵ را نشان می‌دهد. کدام استان‌های ایران، مهاجرپذیر و کدام مهاجرفرست هستند؟ مهاجرپذیرترین استان کدام است؟

مسیرهای عمدهٔ مهاجرت طی سال‌های ۱۳۷۵ تا ۱۳۹۰



اطلاعات زیر به برخی از عوامل انسانی و طبیعی که در ایران سبب مهاجرت شده است، اشاره دارد.

آریایی‌ها از شمال دریای خزر به علت  
سرما و از دست دادن چراگاه‌ها، به  
سمت جنوب دریای خزر (ایران)  
مهاجرت کردند.

شاه عباس برای حفظ مرزهای شمالی  
ایران، تعدادی از قبایل کُرد را، که به  
رزم‌آوری و سلحشوری، مشهور بودند  
به نواحی شمال‌شرقی کشور فرستاد.

پس از اصلاحات ارضی در دههٔ ۴۰،  
تعداد زیادی از روستاییان به علت  
نداشتن زمین و مشکلات اقتصادی به  
شهرهای بزرگ مهاجرت کردند.

خشک شدن منابع آب منطقه سیستان،  
که ناشی از بی‌توجهی به بند تاریخی  
هیرمند بود، باعث مهاجرت سیستانی‌ها  
به سرزمین گرگان شد.

فعالیت

دربارهٔ ویژگی‌های جمعیت استان خود، بحث و گفت‌وگو کنید. استان شما در مورد مهاجرت، ترکیب سنی و جنسی چه وضعیتی دارد؟

### آغاز جنگ تحمیلی،

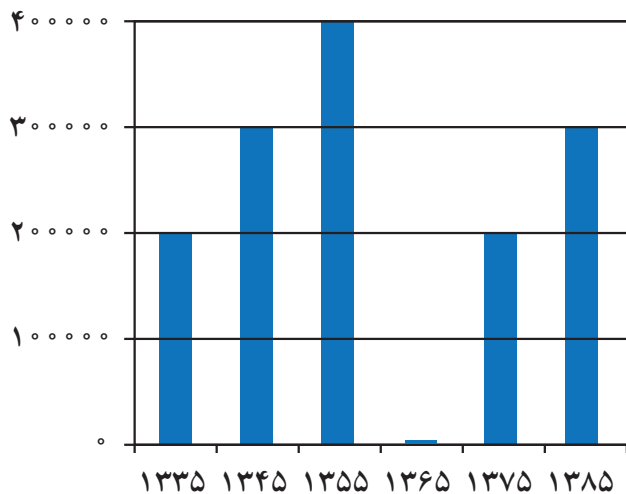
۱۳۵۹



### پالایشگاه آبادان

بزرگ‌ترین پالایشگاه جهان،

۱۳۱۷



نمودار تغییرات جمعیتی شهر آبادان ۱۳۳۵-۱۳۸۵

### ایجاد منطقه آزاد اقتصادی اروند

در آبادان، ۱۳۹۲



### آبادان صادرکننده

فراورده‌های نفتی،

۱۳۴۲



## فعالیت

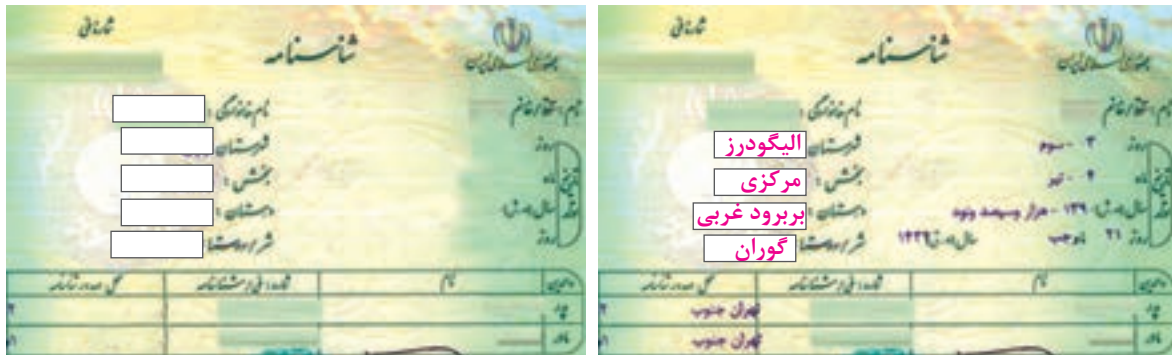
به اطلاعات داده شده از شهر آبادان، توجه کنید. این اطلاعات، تغییرات جمعیتی این شهر را طی چند دهه نشان می‌دهد. با توجه به سؤالات داده شده، با یکدیگر بحث و گفت‌وگو کنید؛ سپس پاسخ خود را ارائه کنید.

– مهاجرت اجباری و اختیاری مربوط به چه سال‌هایی می‌باشد؟

– عوامل انسانی و طبیعی اثرگذار بر این نوع مهاجرت‌ها، کدام است؟

## تقسیمات کشوری ایران

به تصاویر شناسنامه‌های زیر توجه کنید. به نظر شما موارد مشخص شده با رنگ سفید به چه مفهوم جغرافیایی در ایران اشاره دارد؟



## فعالیت

صفحه خالی شناسنامه را با مشخصات خود پر کنید و نام هر کدام از تقسیمات ذکر شده را با توجه به صفحه اول شناسنامه خودتان تکمیل نمایید.

## - سابقه تقسیمات کشوری در ایران

سابقه تقسیمات کشوری در ایران به زمان داریوش اول، پادشاه هخامنشی برمی‌گردد که برای اداره بهتر، آن را به قسمت‌هایی به نام ساتراپ تقسیم کرده بود. تقسیمات سرزمینی را به ایرانیان نسبت می‌دهند. در زمان ساسانیان، کشور به سرزمین (ایالت)، حوزه (استان)، قسوق (شهرستان) و رستاک (دهستان) تقسیم شده بود. پس از ورود اسلام به ایران، خلیفه مسلمین برای هر شهر، حاکمی تعیین کرد و تمام کارها به حاکمان سپرده شد و هر کدام از آنها بر ولایتی حکمرانی می‌کردند. بعد از حمله مغول از تقسیم‌بندی ایالتی استفاده، و ایران به ایالات متعددی تقسیم شد. در زمان صفویه، افشاریه و زندیه، عناصر اصلی تقسیمات کشوری به ترتیب، عبارت بود از: ایالت، ولایت، بلوک و قصبه.

ایران در زمان قاجاریه، دارای چهار ایالت ۱- آذربایجان ۲- خراسان و سیستان ۳- فارس و بندر ۴- کرمان و بلوچستان و ۲۳ ولایت بود.





در سال ۱۳۱۶ با تصویب قانون تقسیمات کشوری، ایران به ده استان و ۴۹ شهرستان تقسیم شد. در این قانون، هر استان به چند شهرستان و هر شهرستان به چند بخش و هر بخش به چند دهستان و هر دهستان به چند قصبه تقسیم شد.



نقشه تقسیمات کشوری ایران در آبان ماه ۱۳۱۶

## تقسیمات کشوری در ایران

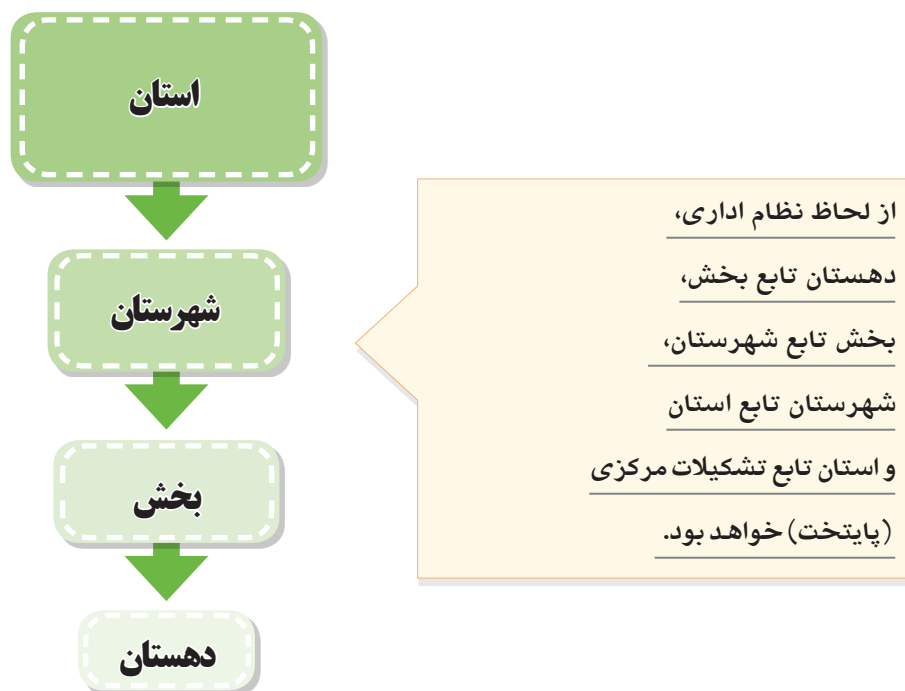
برای اداره بهتر کشور، مناسب‌تر این است که آن را به واحدهای کوچک‌تری تقسیم کنند. این کار به منظور عرضه خدمات مناسب‌تر و تأمین نیازهای مردم در حال حاضر با اداره مطلوب‌تر صورت می‌گیرد. این تقسیمات، متناسب با موقعیت و زمان، تغییر می‌یابد. تقسیمات کشوری ایران در حال حاضر عبارت است از:

**استان:** واحدی از تقسیمات کشوری است که با محدوده جغرافیایی معین، از به هم پیوستن چند شهرستان هم‌جوار با توجه به موقعیت‌های سیاسی، اجتماعی، فرهنگی، اقتصادی و طبیعی تشکیل می‌شود. استان، توسط استاندار اداره می‌شود.

**شهرستان:** واحدی از تقسیمات کشوری با محدوده جغرافیایی معین است که از به هم پیوستن چند بخش هم جوار تشکیل شده که از نظر عوامل طبیعی و اوضاع اجتماعی، اقتصادی، سیاسی و فرهنگی، واحد متناسب و همگنی را به وجود آورده است. شهرستان توسط فرماندار اداره می‌شود.

**بخش:** واحدی از تقسیمات کشوری با محدوده جغرافیایی معین است که از به هم پیوستن چند دهستان هم جوار، شامل چندین مزرعه، مکان، روستا و احیاناً شهر تشکیل شده که از نظر عوامل طبیعی و اوضاع اجتماعی، فرهنگی، اقتصادی و سیاسی، واحد همگنی را به وجود آورده است. بخش، توسط بخشدار اداره می‌شود.

**دهستان:** کوچک‌ترین واحد تقسیمات کشوری با محدوده جغرافیایی معین است که از به هم پیوستن چند روستا، مکان و مزرعه هم جوار تشکیل می‌شود و از لحاظ محیط طبیعی، فرهنگی، اقتصادی و اجتماعی همگن است و امکان خدمات‌رسانی و برنامه‌ریزی در سامانه و شبکه‌ای واحد را فراهم می‌سازد. دهستان توسط ده‌دار اداره می‌شود.



### بیشتر بدانیم

براساس آخرین تقسیمات کشوری تا پایان سال ۱۳۹۳، کشور ایران از ۳۱ استان، ۴۲۹ شهرستان، ۱۰۵۷ بخش، ۲۵۸۹ دهستان و ۱۲۴۳ شهر، تشکیل یافته است.

روستا	شهر	دهستان	بخش	شهرستان	استان	کشور	واحد تقسیمات کشوری
دهیار	شهردار	ده‌دار	بخشدار	فرماندار	استاندار	وزیر کشور	مسئول
دهیاری	شهرداری	دهداری	بخشداری	فرمانداری	استانداری	وزارت کشور	واحد اداری



نقشه تقسیمات کشوری در ایران

- |                         |                       |
|-------------------------|-----------------------|
| ۱۷- فارس                | ۱- آذربایجان غربی     |
| ۱۸- قزوین               | ۲- آذربایجان شرقی     |
| ۱۹- قم                  | ۳- اردبیل             |
| ۲۰- کردستان             | ۴- اصفهان             |
| ۲۱- کرمان               | ۵- البرز              |
| ۲۲- کرمانشاه            | ۶- ایلام              |
| ۲۳- کهگیلویه و بویراحمد | ۷- بوشهر              |
| ۲۴- گلستان              | ۸- تهران              |
| ۲۵- گیلان               | ۹- چهارمحال و بختیاری |
| ۲۶- لرستان              | ۱۰- خراسان جنوبی      |
| ۲۷- مازندران            | ۱۱- خراسان رضوی       |
| ۲۸- مرکزی               | ۱۲- خراسان شمالی      |
| ۲۹- هرمزگان             | ۱۳- خوزستان           |
| ۳۰- همدان               | ۱۴- زنجان             |
| ۳۱- یزد                 | ۱۵- سمنان             |
|                         | ۱۶- سیستان و بلوچستان |



## تقسیمات کشوری از دیدگاه نقشه



## فعالیت

با توجه به مطالب کتاب استان‌شناسی خود:

- ۱- به طور گروهی، نقشه استان خود را ترسیم، و شهرستان‌های آن را مشخص کنید.
- ۲- با مراجعه به بخش تقسیمات کشوری، وضعیت محل زندگی خود را از نظر قرارگیری در شهرستان، بخش، روستا و شهر، مشخص، و مانند تصاویر بالا برای هر کدام، نقشه‌ای تهیه کنید.
- ۳- با مراجعه به سایت اینترنتی استانداری یا اداره سیاسی محل زندگی خود، جدیدترین تغییرات تقسیمات کشوری استان خود را تهیه، و به کلاس گزارش کنید.

## سکونتگاه‌های شهری و روستایی

### شکل‌گیری سکونتگاه‌ها

به‌عنوان درس توجه کنید. به نظر شما سکونتگاه چه مفهومی دارد؟ کدام یک از تصاویر زیر معنای سکونتگاه را به نمایش می‌گذارد؟



خانه

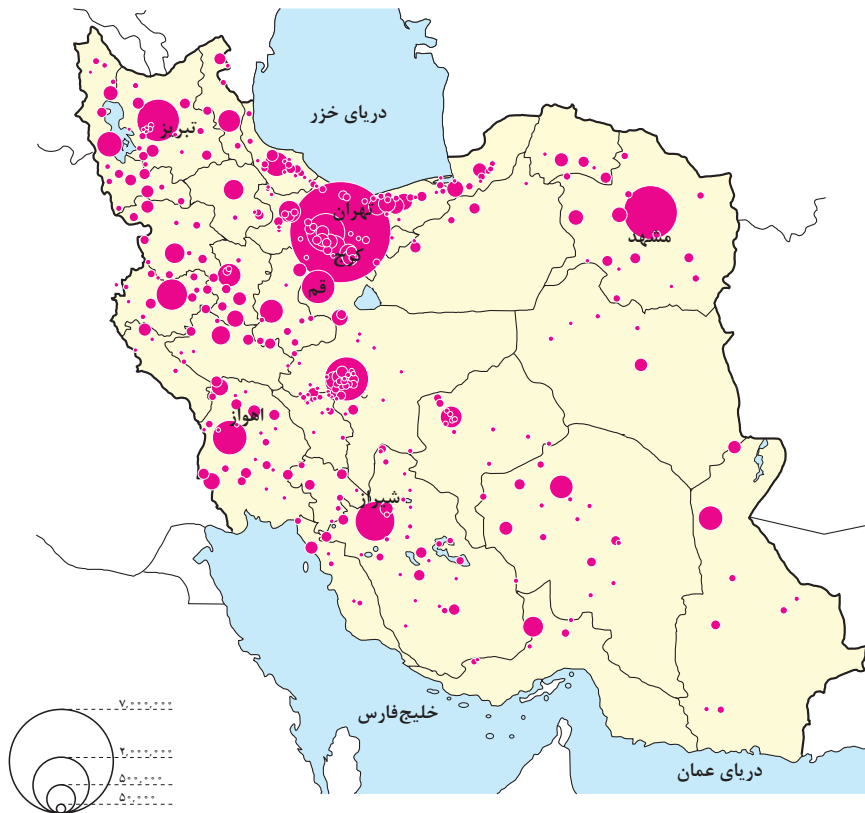


سکونتگاه

شاید از نظر شما هر دو تصویر، سکونتگاه را به نمایش گذاشته است؛ اما از دیدگاه دانش جغرافیا، سکونتگاه محلی است از مجموعه مساکن که عوامل طبیعی و انسانی در شکل‌گیری آن نقش دارند. هر شهر و روستا یک سکونتگاه است.

عواملی در شکل‌گیری سکونتگاه‌های شهری و روستایی ایران نقش دارند. آب، بین این عوامل، بیشترین اهمیت را داشته است. بسیاری از سکونتگاه‌های اولیه، در کنار رودها به‌وجود آمده است. آب در هر مکان، در تمایل انسان به کار کشاورزی و ساکن شدن به‌صورت دائم در مکان، عامل مهمی است. با ساکن شدن انسان در یک مکان، اولین سکونتگاه‌ها به نام روستا پدید آمد. افزایش جمعیت در سکونتگاه‌های روستایی، زمینه‌ساز ایجاد شهرهای اولیه شد. به نظر شما به‌جز آب، چه عامل یا عواملی در شکل‌گیری سکونتگاه‌ها اثرگذار است؟ اگر در زمان شکل‌گیری یک سکونتگاه روستایی آب به اندازه کافی باشد اما خاک، حاصلخیزی لازم را نداشته باشد، چه وضعی پیش می‌آید؟ اطلاعات داده شده به شما کمک می‌کند که علاوه بر آب، سایر عوامل اثرگذار را در شکل‌گیری سکونتگاه‌ها شناسایی کنید.

عرض‌های جغرافیایی	درصد شهر	تعداد شهر	درصد شهرها	ارتفاع
۳۵ تا ۴۰ درجه	۶۳٪	۴۴۹	۲۷٪	زیر سطح دریا تا ۵۰۰ متر
۳۰ تا ۳۵ درجه	۳۳٪	۴۱۴	۱۳٪	۵۰۰-۱۰۰۰
۲۵ تا ۳۰ درجه	۱۳٪	۳۹۸	۵۳٪	۱۰۰۰-۲۰۰۰
			۷٪	۲۰۰۰ به بالا



نقشه پراکندهی جغرافیای نقاط شهری ایران در سال ۱۳۹۰

آیا می‌دانید بزرگ‌ترین شهرهای ایران در گذشته، در مسیر راه‌های کاروان‌رو و بازرگانی داخلی یا خارجی شکل گرفته است؟



نقشه راه ابریشم

۱- آیا نقش عوامل اثرگذار بر شکل‌گیری سکونتگاه‌ها در گذشته و اکنون یکسان است؟ چه عواملی در سال‌های اخیر در شکل‌گیری سکونتگاه‌ها اثر بیشتری دارد؟

۲- با استفاده از مطالب کتاب استان‌شناسی و کمک معلم و هم‌کلاسی‌هایتان، علت شکل‌گیری شهر یا روستای محل زندگی خود را بررسی، و به‌صورت گزارش به کلاس ارائه کنید.

### عوامل اثرگذار در گسترش سکونتگاه‌ها

عوامل اثرگذار مانند آب، خاک، شیب زمین و... نه تنها در پیدایش سکونتگاه‌ها، بلکه در تغییرات به‌وجود آمده در آنها نقش دارد. اوضاع جغرافیایی (طبیعی، انسانی) مناسب، در گسترش سکونتگاه‌ها اثرگذار است. بسیاری از سکونتگاه‌های شهری و روستایی ایران گسترش چشمگیری داشته است. چه شهرها و روستاهایی را می‌شناسید که در دهه‌های اخیر گسترش یافته است؟ چه عوامل طبیعی و انسانی بر این گسترش اثر گذاشته است؟ گاهی عوامل طبیعی یا انسانی، موقعیتی به‌وجود می‌آورد که یک سکونتگاه اعتبار خود را از دست می‌دهد یا از بین می‌رود؛ به‌طور مثال شهر باستانی بیشاپور، که در شمال غربی کازرون قرار دارد در زمان ساسانیان از اهمیت ارتباطی مهمی در ایران برخوردار بود. این شهر تا قرن هفتم هجری، آباد و مسکونی بود. جنگ و بیماری سبب از بین رفتن این شهر شد.



شهر بیشاپور

به‌تساوی مربوط به دو سکونتگاه توجه کنید. چه عاملی بر چگونگی گسترش این سکونتگاه‌ها اثر دارد؟ این عامل بر چگونگی گسترش این سکونتگاه‌ها، چه تأثیری داشته است؟





پلان شهر تهران

روستای هیر قزوین

## انواع سکونتگاه

تصاویر زیر، انواع سکونتگاه‌ها از نظر شیوه زندگی در ایران را معرفی می‌کند.



زندگی عشایری



زندگی روستایی



زندگی شهری

قدیمی‌ترین نوع سکونتگاه که در ایران شناخته شده است، سکونتگاه عشایری است. در این شیوه زندگی، سکونت و یک‌جانشینی دائمی دیده نمی‌شود. عشایر به‌طور مستقیم از منابع طبیعی استفاده می‌کنند. در ایران، وجود کوه‌های البرز و زاگرس و نیز دشت‌های پست و هموار مجاور آنها از قرن‌ها پیش اوضاع مساعدی را برای دامپروری فراهم کرده است. عشایر، زندگی اجتماعی قبیله‌ای دارند و از ایل و طایفه تشکیل شده‌اند و پیوندهای خویشاوندی با هم دارند. ایل سون، بختیاری، قشقایی و ترکمن از ایلات عمده کشور ایران هستند.

روستا، محلی است که فعالیت اغلب ساکنان آن به زمین وابسته است و بیشتر روستاییان به کشاورزی و دامداری اشتغال دارند. فضای باز اطراف روستاها، چشم‌اندازهای طبیعی زیبایی را برای روستاییان فراهم کرده است. روستاییان نسبت به آداب و رسوم محل زندگی خود، پایبند هستند. بسیاری از روستاییان در کاشت، داشت و برداشت محصول، با یکدیگر همکاری می‌کنند. آب و هوای پاک، اوضاع زندگی بهتر و سالم‌تر را برای روستاییان فراهم آورده است. معمولاً در روستاها، عرضه خدماتی نظیر بیمارستان، فروشگاه و حمل و نقل عمومی، کمتر و محدودتر است.


اگر جمعیت هر سکونتگاه به تعداد معینی برسد، طبق قانون، آن را شهر تلقی می‌کنند. ملاک تبدیل هر سکونتگاه روستایی به شهری در ایران به تشخیص وزارت کشور، جمعیت ۱۰/۰۰۰ نفر و داشتن شهرداری است. جمعیت زیاد شهرها به خدمات و تسهیلات بیشتری نیاز دارد. جمعیت زیاد سبب شده است خانه‌ها فشرده و محله‌ها پرتراکم شود. بیشتر مردم سکونتگاه شهری، در بخش خدمات و صنعت شاغل هستند. در شهرها تفاوت بسیاری در ارزش‌ها، آداب و رسوم و شیوه زندگی مردم وجود دارد.

تفاوت این سه نوع سکونتگاه را با توجه به اطلاعات داده شده، در جدول زیر بنویسید:

خدمات و تسهیلات	روابط اجتماعی	معیشت	جمعیت	نوع زندگی
				شهری
				روستایی
				عشایری

### شکل سکونتگاه‌ها

هر سکونتگاه از اجزای مختلفی تشکیل شده است. اجزای سکونتگاه‌های روستایی شامل خانه‌ها، مزارع، چراگاه‌ها، باغ‌ها، مکان‌های عمومی، مساجد، میدان‌ها و شبکه‌ی معابر یا راه‌ها است. اجزای سکونتگاه شهری اغلب شامل کاشانه‌ها، خیابان‌ها، میدان‌ها، مکان‌های آموزشی و تفریحی، دانشگاهی، بازار و مراکز درمانی است. چگونگی قرارگیری پدیده‌های طبیعی و انسانی در سکونتگاه‌ها، شکل‌های مختلفی از سکونتگاه را به وجود آورده است. به شکل‌های زیر نگاه کنید. آیا می‌توانید تفاوت‌های آنها را پیدا کنید؟ اکنون می‌توانید دو طبقه‌بندی کلی از شکل سکونتگاه‌های روستایی را نام ببرید؟



در روستای پراکنده، خانه‌ها با فاصله از هم قرار دارد. به نظر شما زمین‌های کشاورزی در این روستاها کجا قرار دارد؟ چه مشکلاتی برای کشت در این روستاها وجود دارد؟ روستاهای متمرکز تحت تأثیر پدیده‌های اطراف خود است؛ به طور مثال روستاهایی که در منطقه‌ی ساحلی و یا کناره‌ی یک رود قرار دارد و یا در امتداد یک جاده شکل می‌گیرد، چگونه دیده می‌شود؟ روستاهایی که در اطراف چشمه‌ها، چاه‌ها و مظهر قنات‌ها گسترش می‌یابد، چه شکلی است؟ روستاهایی که در دامنه‌ی یک کوه استقرار یافته، چه شکلی است؟



روستای پلکانی



روستای میدانگاهی



روستای خطی

## فعالیت

– به نظر شما، در کدام مناطق جغرافیایی ایران روستاهای متمرکز و در کدام مناطق روستاهای پراکنده وجود دارد؟ چرا؟



اصفهان شطرنجی

سکونتگاه‌های شهری هم شکل‌های گوناگون دارد. شهرها با توجه به چگونگی پیدایش و کارکردهای مختلف خود، شکل‌های متفاوت دارد. برخی از شهرها شکل ترکیبی دارند. این شهرها در دوره‌های مختلف گسترش پیدا کرده است. به همین دلیل شکل این شهرها از نوع ترکیبی است. به تصاویری از شهرهای ایران توجه کنید. آیا شکل‌گیری و گسترش این شهرها یکسان است؟ با کمک تصاویر با یکدیگر گفت‌وگو کنید.



بندرعباس خطی

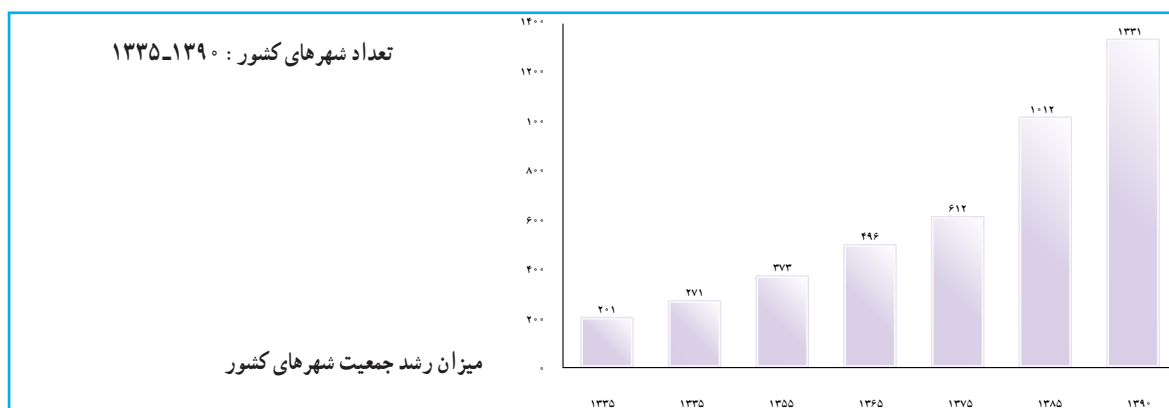
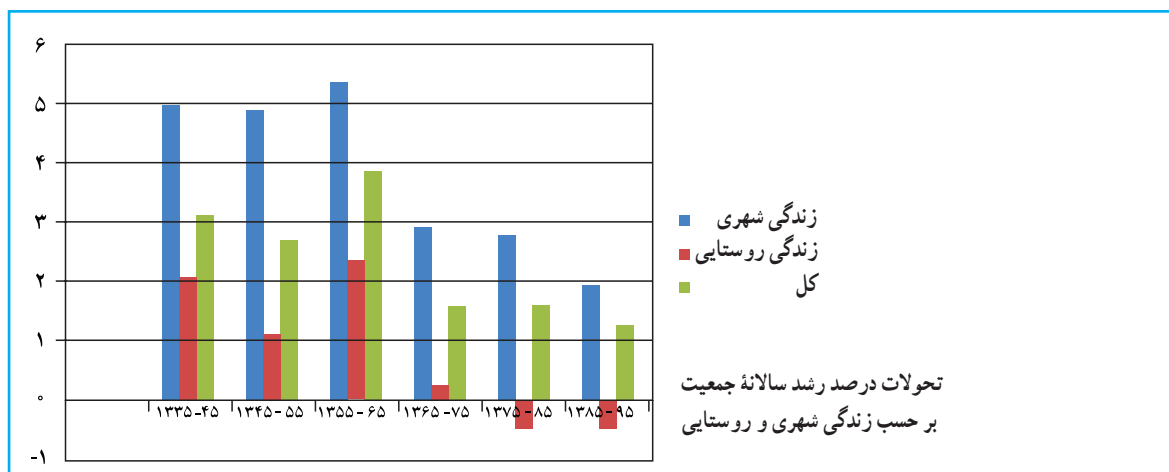


همدان شعاعی



## تغییرات جمعیتی سکونتگاه‌های ایران

افزایش جمعیت سبب شده است که شکل‌های سکونتگاه‌ها به تدریج تغییر یابد. رشد سریع جمعیت از یک‌سو، بر تعداد جمعیت شهرها افزوده و از سوی دیگر با تبدیل نقاط روستایی به شهر (تأسیس شهرداری)، تعداد نقاط شهری را افزایش داده است. در سه دهه اخیر، ایران شاهد تغییرات زیادی در جمعیت و ظاهر سکونتگاه‌های خود بوده است. این تغییرات در شیوه زندگی اجتماعی - اقتصادی آنان هم اثر داشته است. اطلاعات زیر به شما کمک می‌کند که روند تغییرات جمعیت ایران را در دهه‌های اخیر بهتر متوجه شوید.



## پیدایش شهرهای پرجمعیت؛ خوب یا بد؟

در دهه‌های اخیر، شهرنشینی در جهان گسترش یافته و رشد شتابان شهرنشینی سبب ایجاد شهرهایی با جمعیت میلیونی شده است. کشور ما هم در دهه‌های اخیر، رشد سریع شهرنشینی داشته است. از حدود سال ۱۳۶۰ ه. ش بیش از ۵۰٪ از جمعیت کشور در شهرها زندگی می‌کنند. پدیده گرایش به شهرنشینی در همه جای کشور به چشم می‌خورد؛ اما در سال‌های اخیر ۸ شهر ایران، جمعیت بیشتری را در خود جای داده است. جدول صفحه بعد، ۸ شهر کشور را نشان می‌دهد که در سال ۱۳۹۰ بیش از یک میلیون نفر جمعیت داشته است. در ایران به شهرهایی که جمعیت بیش از یک میلیون نفر داشته باشد، کلان شهر می‌گویند. در کدام قسمت از کشور تعداد بیشتری کلان شهر دیده می‌شود؟



جمعیت کلان شهرهای ایران در سال‌های ۱۳۸۵ و ۱۳۹۰\*

رتبه کشور	نام شهر	۱۳۸۵	۱۳۹۰
۱	تهران	۷/۷۰۵/۰۳۶	۸/۱۵۴/۰۵۱
۲	مشهد	۲/۴۱۰/۸۰۰	۲/۴۹/۳۷۴
۳	اصفهان	۱/۵۸۳/۶۰۹	۱/۷۵۶/۱۲۶
۴	کرج	۱/۳۷۷/۴۵۰	۱/۶۱۴/۶۲۶
۵	تبریز	۱/۳۷۸/۹۳۵	۱/۴۹۴/۹۸۸
۶	شیراز	۱/۲۱۴/۸۰۸	۱/۴۶۰/۶۶۵
۷	اهواز	۹۶۹/۸۴۳	۱/۱۱۳/۰۳۱
۸	قم	۹۵۱/۹۱۸	۱/۰۷۴/۰۳۶

\* مأخذ: مرکز آمار ایران

در درس جمعیت، با جاذبه‌های شهری آشنا شده‌اید. مهاجرت در تغییر جمعیت شهری تأثیر زیادی داشته است. باینکه شهرها به دلایل امکانات و تسهیلات، مورد توجه مهاجران بوده‌اند اما در شهرها، مخصوصاً شهرهای بزرگ، مشکلات و نارسایی‌هایی به چشم می‌خورد. این نارسایی‌ها در زمینه‌های مختلف اجتماعی، اقتصادی و زیست محیطی، زندگی در این شهرها را دشوار کرده است. به اطلاعات داده شده توجه کنید. عواملی که سبب ایجاد وضعیت نامناسب زندگی شهری می‌شود را نام ببرید.

در روزهای اخیر بر اثر آلودگی هوا، شمار بیماران تنفسی تا ۶۰ درصد افزایش یافته است. آلودگی هوا در تهران به طور متوسط، موجب کاهش ۵ سال از عمر تهرانی‌ها شده است.

طی یک دهه گذشته، رشد قیمت مسکن، شتاب فزاینده‌ای داشته است. شهرهای بزرگ کشور وضعیت دشوارتری در این زمینه داشته است.



– در کلاس خود دو گروه مخالف و موافق زندگی در شهرهای بزرگ را تشکیل دهید. روی تخته کلاس دو ستون رسم کنید. دلایل موافقت هر گروه را از نوع زندگی موردنظر بنویسید. در پایان، نظرات خود را جمع‌بندی کنید.

### نقش سکونتگاه‌ها

نقش هر سکونتگاه براساس وضع جغرافیایی آن، اعم از انسانی یا طبیعی تعیین می‌شود؛ به‌طور مثال، شهرهای مقدس مشهد و قم به دلیل وجود زیارتگاه‌ها مورد توجه زائران است. این شهرها را «زیارتگاهی» می‌نامند. شهرهای تهران و تبریز به دلیل اقامت دانشجویان از سراسر کشور، نقش دانشگاهی هم دارد. شهرهای اصفهان و اراک به دلیل وجود کارخانه‌های مهم و متعدد، نقش صنعتی دارد. اکنون با توجه به مکانی که در تصاویر به نمایش گذاشته شده است، آیا می‌توانید نقش سکونتگاه مربوط به هر تصویر را تعیین کنید؟



درباره نقش سکونتگاه‌ها به نکته‌های زیر توجه کنید.

- ◉ امروز اغلب سکونتگاه‌ها چند نقش دارد و این نقش‌ها را با هم ایفا می‌کند.
- ◉ نقش سکونتگاه در چهره و سیمای آنها منعکس می‌شود. سیمای سکونتگاه دانشگاهی با سکونتگاه صنعتی تفاوت دارد.
- ◉ ممکن است نقش سکونتگاه در طول زمان تغییر کند یا تکامل و توسعه یابد؛ مثلاً سکونتگاه صنعتی به تدریج نقش‌های اداری و سیاسی را نیز به عهده بگیرد.

۱- با توجه به وضع جغرافیایی و یا نقش سکونتگاه، جدول زیر را کامل کنید.

نمونه	نقش سکونتگاه	وضع جغرافیایی	نمونه	نقش سکونتگاه	وضع جغرافیایی
	اداری و سیاسی	.....	سرعین	بندری	قرار گرفتن در کنار دریا
پیرانشهر	نظامی			.....	چشمه آب معدنی
	.....	مفاخر تاریخی		زیارتگاهی	.....
	بنایی تاریخی	.....		معدنی	.....
	.....	.....		.....	دانشگاه‌های بزرگ

۲- شغل بیشتر مردم شهر و یا روستایی که شما در آنجا زندگی می‌کنید، چیست؟ چه امکان یا وضعی در محل زندگی شما به چشم می‌خورد که سبب روی آوری مردم به این شغل یا شغل‌ها شده است؟ توضیح دهید.

### شهرگزیزی

با توجه به مشکلات شهرهای بزرگ در سال‌های اخیر از جمله آلودگی هوا، گرانی مسکن و آسیب‌های اجتماعی، حرکت جمعیت از شهرهای بزرگ به مکان‌های کوچک‌تر یا روستاها آغاز شده است. این پدیده را «شهرگزیزی یا مهاجرت معکوس» می‌گویند.



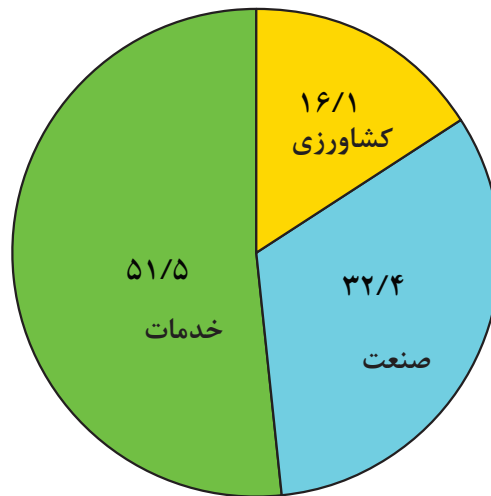
روستایی در منطقه طالقان

بسیاری از شهرنشینان آرزوی رفتن به مکانی شبیه به تصویر بالا را دارند. برخی از مردم با رفتن به این مکان‌ها در روزهای تعطیل، به رفع خستگی در طول هفته می‌پردازند؛ اما برخی از مردم اقامت کوتاه مدت در این مکان‌ها آنها را راضی نمی‌کند. این افراد ترجیح می‌دهند با تملک خانه‌ای در نواحی دارای مواهب طبیعی، از امکانات آنجا بهره‌مند شوند.

- در گروه‌های کلاسی خود، پیامدهای مثبت و منفی ناشی از مهاجرت معکوس را مورد بررسی قرار دهید.

## توان‌های اقتصادی ایران

در درس‌های گذشته خواندید که کشور عزیز ما به علت موقعیت نسبی و ریاضی، وجود ناهمواری‌ها، وضعیت آب و هوایی و جمعیت توانمند، استعدادها و توان خاصی دارد. بهره‌گیری از توان‌های محیطی، با هدف تأمین معاش و توجه به ابعاد مکانی در برنامه‌ریزی‌ها، به عدالت اجتماعی و اقتصادی و تعادل منطقه‌ای انواع فعالیت‌ها منجر می‌شود. ساماندهی فعالیت‌های انسان در مکان، براساس توان محیطی می‌تواند از صدمات ناشی از بهره‌گیری انسان از محیط بکاهد و زمینه‌های رسیدن به توسعه پایدار را فراهم سازد. توسعه پایدار به معنای تأمین نیازهای امروز، بدون کاستن از توانمندی‌های نسل‌های آینده است. بنابراین، شناخت توان‌های جغرافیایی و درک صحیح ظرفیت‌های محیطی ایران، راه‌حل مناسبی برای رسیدن به اهداف توسعه پایدار است. در این درس با توان‌های اقتصادی، که می‌تواند در رسیدن ما به توسعه اقتصادی نقش مهمی داشته باشد، آشنا می‌شویم.



نمودار سهم شاغلان بخش‌های مختلف اقتصادی در ایران

به نمودار بالا توجه کنید. چه نتیجه‌ای از آن می‌گیرید؟

## بخش کشاورزی

یکی از اساسی‌ترین نیازهای انسان، نیاز به غذا است. به‌منظور برطرف کردن این نیاز، شکلی از رابطه بین انسان و محیط طبیعی ایجاد شده است که آن را «کشاورزی» می‌نامیم. این بخش به دلیل ایفای نقش حیاتی در تأمین مواد غذایی سالم، خودکفایی، ایجاد اشتغال و بهره‌مندی صحیح از مواهب الهی مانند آب و خاک، در اقتصاد کشور نقش بسیار مهمی دارد. کشاورزی از فعالیت‌های اساسی و زیربنایی در اقتصاد ایران است که در سایه تلاش روستاییان زحمتکش محصولات با کیفیت به بازار عرضه می‌شود. این بخش شامل فعالیت‌های گوناگونی است. مهم‌ترین فعالیت‌ها در این بخش عبارت است از: زراعت، باغداری و دامداری.





پرورش دام - لرستان

کشت گندم - ملایر - همدان

باغ انگور - ارومیه - آذربایجان غربی

به تصاویر زیر نگاه کنید. به نظر شما این فعالیت‌ها کدام یک از بخش‌های دیگر کشاورزی را پوشش می‌دهد؟ کدام شرایط اقلیمی و جغرافیایی در ایجاد این نوع فعالیت‌ها تأثیرگذار است؟



..... ۱

..... ۲

..... ۳



تنوع وضعیت آب و هوایی در ایران، موقعیت مساعدی را برای تولید انواع محصولات زراعی فراهم آورده است. انواع غلات، حبوبات، سبزیجات و محصولات جالیزی، نباتات علوفه‌ای و محصولات صنعتی، از جمله محصولاتی است که در اقصی نقاط ایران کشت می‌شود.



برداشت سیب زمینی - البرز



برداشت گندم - فارس

با اینکه فعالیت‌های زراعی در کشورمان بسیار گوناگون است، محدودیت در منابع آب و خاک، بهره‌وری کم، وجود آفات و خسارات طبیعی، نوسانات آب و هوایی، بی‌ثباتی در قیمت محصولات و... از جمله مشکلات تولیدات زراعی در کشور است که باعث شده است کشورمان در تأمین برخی محصولات زراعی به واردات وابسته باشد.

## باغداری

اختلاف شدید درجه حرارت روزانه و سالانه در نواحی مختلف ایران، سبب ایجاد تنوع فراوان در تولیدات باغی شده است. کشور ما برای تولیدات باغی از مزیت‌های زیادی برخوردار است؛ زیرا امکان کشت انواع گوناگون میوه‌های سردسیری، نیمه‌گرمسیری و گرمسیری را دارد. این بخش از کشاورزی، از مهم‌ترین اقلام صادراتی کشور است که هر ساله ارز فراوانی را وارد کشور می‌کند. گونه‌های بی‌نظیری مانند پسته، انار و خرما، ایرانی در جهان بی‌همتاست.



پسته - رفسنجان - کرمان



انار ساوه - مرکزی



خرما - آبپخش - بوشهر

با توجه به استعدادهای متفاوت نواحی مختلف کشور در زمینه تولیدات باغی، هر استانی میوه‌های ویژه خود را تولید می‌کند. جدول زیر، پراکندگی تولید سالانه میوه را در کشور ما نشان می‌دهد.

نام محصول	میزان تولید (میلیون تن)	استان‌های اصلی تولیدکننده
سیب درختی	۳/۴	آذربایجان غربی، آذربایجان شرقی، تهران، فارس
انگور	۳/۱	فارس، همدان، خراسان رضوی، قزوین
پرتقال	۱/۹	مازندران، فارس، کرمان
خرما	۱/۱	کرمان، سیستان و بلوچستان، خوزستان، بوشهر
انار	۹	فارس، مرکزی، خراسان رضوی، یزد
پسته	۲۴	کرمان، خراسان رضوی، یزد، فارس

جدول پراکندگی تولید سالانه میوه در کشور

امروزه با توجه به مشکل کاهش منابع آبی کشور، توصیه می‌شود محور توسعه کشاورزی از زراعت به توسعه باغداری با روش‌های مدرن آبیاری تغییر یابد. این موضوع را در کلاس طرح نموده و در مورد آن بحث کنید.

استفاده از کشت گلخانه‌ای، یکی از روش‌هایی است که بین باغداران ایرانی رایج شده است؛ زیرا مزایای فراوانی دارد؛ از جمله:

- ۱- کاهش مصرف آب
- ۲- تولید در همه طول سال و همه جا
- ۳- کنترل بهتر وضعیت کشت



کشت گلخانه‌ای توت فرنگی - هشتگرد البرز

## فعالیت

- ۱- علت و تنوع پراکندگی محصولات باغی و زراعی را در استان خود بررسی کنید.
- ۲- آیا در استان محل زندگی شما کشت گلخانه‌ای رواج دارد؟ چه نوع محصولی در آنجا کشت می‌شود؟

## دامداری

بسیاری از مواد غذایی که ما مصرف می‌کنیم، مستقیم یا غیرمستقیم از راه دامداری به دست می‌آید. گستردگی زیاد در عرض جغرافیایی، وجود گونه‌های متنوع دامی، تنوع اقلیمی و تنوع گونه‌های گیاهی، وضع مناسبی را برای کشورمان به‌منظور پرورش انواع دام فراهم کرده است. علاوه بر آن روند روبه رشد صنایع تبدیلی، وجود نیروی انسانی متخصص و ماهر و استفاده از روش‌های علمی در مجموع، باعث رشد این بخش از اقتصاد کشور ما شده است.



پرورش بلدرچین - گالیکش - استان گلستان



پرورش شترمرغ - استان اصفهان



پرورش شتر - استان هرمزگان



تولید محصولات دامی باعث رونق صنایع غذایی در کشور شده است. این صنایع در اقتصاد غذایی، اشتغال، تولید ناخالص داخلی، امنیت غذایی و صادرات کشور نقش مهمی دارد. یکی از تولیدکنندگان محصولات دامی، عشایر غیور و زحمت کش هستند، هر چند جمعیت عشایری کمتر از ۲٪ از جمعیت کشور است، آنان ۲۵٪ واحد دامی و ۲۰٪ از تولید پروتئین مربوط به دام را به خود اختصاص داده‌اند.

## فعالیت

- ۱- در استان محل زندگی شما کدام گروه از تولیدات دامی و صنایع غذایی وجود دارد؟
- ۲- آیا ارتباطی بین محیطی محل زندگی شما با این فعالیت‌ها وجود دارد؟

### بخش صنعت و معدن

صنعت شامل مجموعه فعالیت‌هایی است که به تغییر شکل فیزیکی یا شیمیایی مواد مختلف و تبدیل آنها به محصولات جدید منجر می‌شود؛ اعم از اینکه این تغییرات با دست یا ماشین در کارگاه و یا منزل انجام شود. بخش صنعت، محرک اصلی رشد، موفقیت و نوآوری کشورها به‌شمار می‌رود. فعالیت در این بخش به ایجاد اشتغال منجر خواهد شد. بسیاری از مشاغل به‌طور مستقیم یا غیرمستقیم به صنعت وابسته است. بخش صنعت در تجارت، تحقیق، توسعه و بهره‌وری سهم قابل توجهی دارد.



**تقسیم‌بندی صنایع در ایران:** صنایع اصلی کشور را می‌توانیم به دو گروه «صنایع دستی» و «صنایع ماشینی» تقسیم‌بندی کنیم.



**صنایع دستی:** به آن دسته از فعالیت‌هایی گفته می‌شود که عمدتاً با استفاده از مواد اولیه بومی و به کارگیری ابزار و وسایل ساده دستی، در قسمتی از مراحل اساسی تولید و به ساخت محصولی منجر می‌شود که در هر واحد آن ذوق هنری و خلاقیت فکری صنعتگر به‌گونه‌ای تجلی می‌یابد.



به تصاویر زیر نگاه کنید. آیا تصاویر زیر می‌تواند فرهنگ و دیدگاه مناطق تولیدکننده آن را نشان دهد؟



کارگاه سفال - لالچین - همدان



کارگاه شیشه‌گری - اسلام شهر - تهران

یکی از صنایع دستی مهم ایران فرش دستبافت است. کشور ما یکی از صادرکنندگان عمده این فرش در جهان است که به دلیل بافت و نقش و نگار خاص، از اهمیت و شهرت بین‌المللی برخوردار است.

## فعالیت

کدام صنایع دستی در محل زندگی شما پر رونق است؟ چرا؟

**صنایع ماشینی:** شامل صنایع نفت و گاز، پتروشیمی، فلزات اساسی، خودروسازی، ماشین‌سازی، صنایع شیمیایی و صنایع غذایی می‌شود.



تولید فولاد - اهواز



ذوب آهن - اصفهان

صنایع مربوط به فلزات اساسی، از جمله صنایع ماشینی است که شامل صنعت فولاد، آلومینیوم، مس، سرب و روی می‌شود. بخش زیادی از صادرات غیرنفتی کشور را این بخش صنعتی پوشش می‌دهد.

**صنایع خودروسازی:** صنعت خودروسازی یکی از شاخه‌های توسعه یافتگی کشور است که می‌تواند فرصت‌های شغلی بسیاری برای کشور فراهم آورد و از جمله صناعی است که در سند چشم‌انداز به آن توجه خاصی شده است. دو شرکت بزرگ ایران خودرو و پارس خودرو (سایپا)، بخش عمده‌ای از خودروهای کشور را تولید می‌کنند.



کارخانه ایران خودرو - تهران

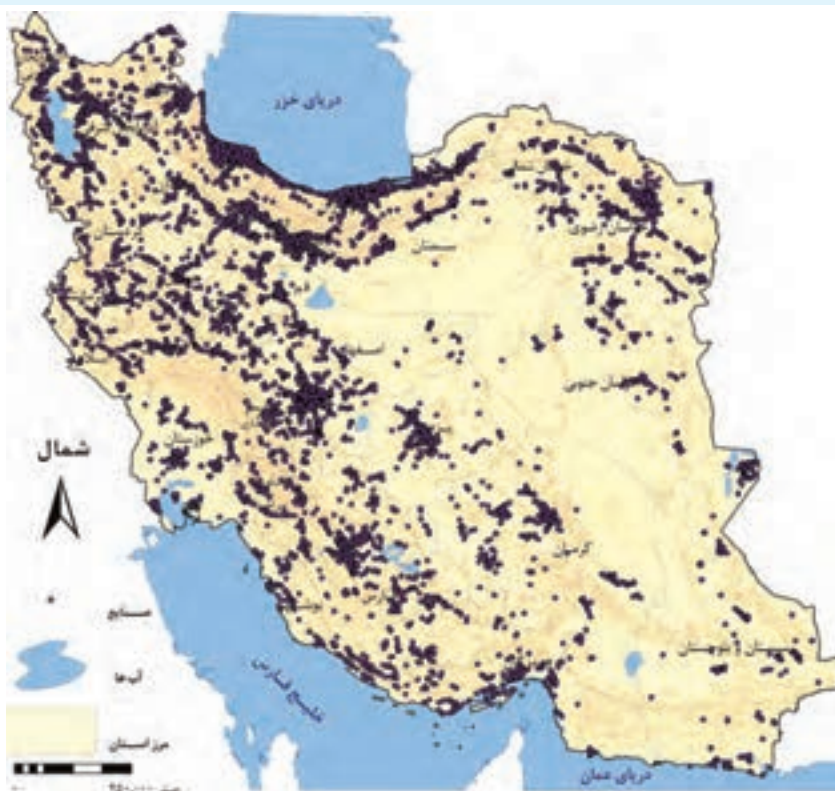
**صنایع پتروشیمی:** از جمله صنایع مهم کشورمان صنعت پتروشیمی است که بعد از نفت و گاز، بزرگ‌ترین بخش صنعتی کشور به‌شمار می‌رود. مواد پتروشیمی در تولید انواع لاستیک، پلاستیک، شوینده، چسب، کود، رنگ، الیاف مصنوعی و... کاربرد دارد.



پتروشیمی - بندر امام خمینی

## فعالیت

در استان شما کدام صنایع ماشینی وجود دارد؟ دلایل تولید این محصولات را بیان کنید.



نقشه پراکندگی صنایع ایران





**خدمات:** به زنجیره فعالیت‌های مالی، مدیریتی، بهداشتی، آموزشی، انتظامی، اطلاعاتی، گردشگری، تجارت و بازرگانی که به‌طور غیرمستقیم در بهبود کیفیت و کمیت تولیدات کشور مؤثرند، «خدمات» گویند. این خدمات در کشور ما به‌وسیله بخش خصوصی و دولتی به مردم عرضه می‌شود. به تصاویر زیر نگاه کنید و نوع خدمات آنها را تعیین کنید.



**گردشگری:** یکی از خدمات مهم، که امروزه مورد توجه بسیاری از کشورها قرار دارد، گردشگری است. گردشگری در ردیف شغل‌های پر درآمد، پاک و کم هزینه است که برای کشور میزبان می‌تواند اشتغال‌زایی، توسعه و رونق اقتصادی، و ارتباطات جهانی سازنده ایجاد کند. کشور ما برای جذب گردشگران داخلی یا خارجی توانمندی‌های فراوانی دارد؛ به شکلی که سازمان جهانی گردشگری (WTO) ایران را از نظر جاذبه‌های طبیعی، در رتبه پنجم و از نظر جاذبه‌های تاریخی و فرهنگی در رتبه دهم جهانی قرار داده است. موارد زیر توانمندی‌های متعدد ایران را برای گسترش این بخش از خدمات نشان می‌دهد.

**۷** وجود مراکز گوناگون فرهنگی مانند موزه‌ها، جشنواره‌ها، نمایشگاه‌ها، مراکز علمی و تفریحی، مراکز خرید، مراکز درمانی و... که هر کدام مقصد بسیاری از گردشگران داخلی و خارجی است.

**۸** وجود مراکز ارزشمند دینی، مذهبی، زیارتگاهی و اماکن مقدس کشور

**۱** موقعیت ریاضی کشورمان و گستردگی آن در عرض جغرافیایی باعث تنوع اقلیمی و چشم‌اندازهای طبیعی شده است.

**۶** وجود تمدنی با ریشه‌هایی در اعماق تاریخ، از هزاره‌های قبل از میلاد تاکنون، کشور ما را به یکی از خاستگاه‌های تمدن بشری تبدیل نموده است که پیامد آن، وجود بیش از یک میلیون اثر باستانی و تاریخی در کشور است. این توانمندی، جاذب میلیون‌ها گردشگر، محقق و علاقه‌مند از داخل و خارج کشور است.

## گردشگری

**۵** در کشور ما بیش از ۱۶۰ نوع صنایع دستی وجود دارد که این توانمندی، گردشگران علاقه‌مند خاص خود را دارد.

**۴** تنوع قومی و فرهنگی در کشور که به همراه خود مجموعه‌ای از آیین‌ها، لباس‌ها، خوراکی‌ها، آهنگ‌ها، مراسم و گویش‌های محلی را ایجاد کرده و زمینه‌های گردشگری اجتماعی-فرهنگی را فراهم آورده است.

**۳** تنوع زیستی ایران با وجود زیست‌بوم‌های بسیار گوناگون گیاهی و جانوری در کشور برای گردشگری علمی و طبیعت‌گردی بسیار مناسب است.

**۲** بیکره‌بندی طبیعی این سرزمین، برخورداری از موقعیت دریایی و خشکی، وجود کوه‌های بلند، دشت‌های وسیع، سواحل گوناگون و بیابان‌های شگفت‌انگیز گردشگری زمین‌گردی (ژئوتوریسم) را ایجاد کرده است.





## فعالیت

- ۱- با توجه به جاذبه‌های گردشگری ایران، هر یک از تصاویر بالا را شماره‌گذاری نمایید.
- ۲- در استان محل زندگی شما چه جاذبه‌های طبیعی و تاریخی و فرهنگی وجود دارد؟ آنها را در کلاس ارائه نمایید.
- ۳- به منظور حفظ و نگهداری این جاذبه‌ها چه اقداماتی می‌توان انجام داد؟



معلمان محترم، صاحب نظران، دانش آموزان عزیز و اولیای آنان می توانند نظر اصلاحی خود را در باره مطالب

این کتاب از طریق نامه به نشانی تهران - صندوق پستی ۱۵۸۷۵/۴۸۷۴ - گروه دسی مربوط و یا پیام نگار (Email)

talif@talif.sch.ir ارسال نمایند.

دقت نمایند کتاب های دسی ابتدایی و متوسطه نظری