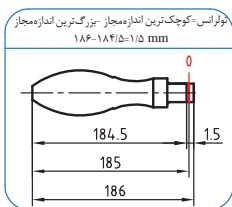
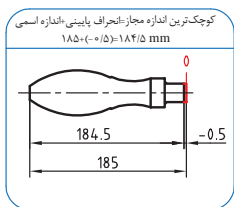
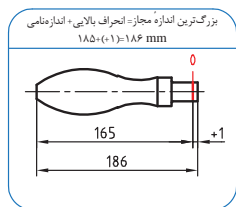
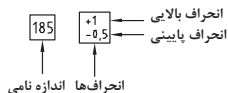
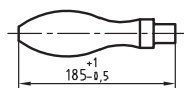


فصل ۲

استانداردهای نقشه‌کشی

تولرانس‌های ابعادی عمومی



جدول تولرانس‌های عمومی و آزاد بر حسب درجه تولرانس

اندازه نامی درجه تولرانس	از ۰/۵ تا ۳	بالای ۳ تا ۶	بالای ۶ تا ۳۰	بالای ۳۰ تا ۱۲۰	بالای ۱۲۰ تا ۴۰۰	بالای ۴۰۰ تا ۱۰۰۰	بالای ۱۰۰۰ تا ۲۰۰۰	بالای ۲۰۰۰ تا ۴۰۰۰
ظریف f	± 0.05	± 0.05	± 0.05	± 0.15	± 0.2	± 0.3	± 0.5	-
متوسط m	± 0.1		± 0.2	± 0.3	± 0.5	± 0.8	± 1.2	± 2
خشن c	± 0.2	± 0.3	± 0.5	± 0.8	± 1.2	± 2	± 3	± 4
خیلی خشن v	-	± 0.5	± 1	± 1.5	± 2.5	± 4	± 6	± 8

محدوده انحراف اندازه‌ها برای اندازه‌های نامی با توجه به ضلع کوتاه‌تر زاویه (بر حسب میلی‌متر)

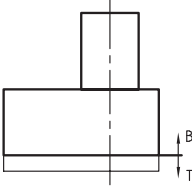
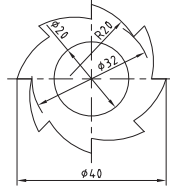

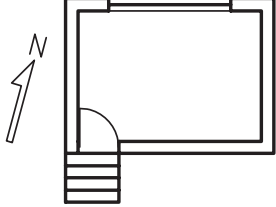
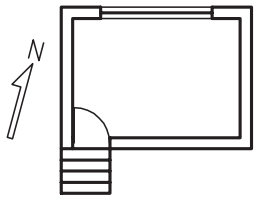

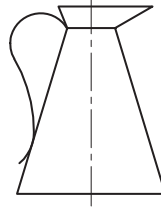
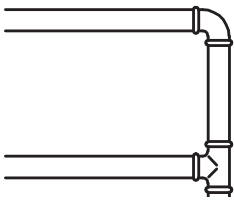
اندازه نامی	درجه تولرانس	۱۰ تا	بالای ۱۰ تا ۵۰	بالای ۵۰ تا ۱۲۰	بالای ۱۲۰ تا ۴۰۰	بالای ۴۰۰
ظریف f	f	$\pm 0.1^\circ$	$\pm 0.3^\circ$	$\pm 0.5^\circ$	$\pm 1^\circ$	$\pm 5^\circ$
متوسط m						
خشن c	c	$\pm 0.1^\circ 30'$	$\pm 1^\circ$	$\pm 2.5^\circ$	$\pm 5^\circ$	$\pm 10^\circ$
خیلی خشن v	v	$\pm 3^\circ$	$\pm 3^\circ$	$\pm 1^\circ$	$\pm 3^\circ$	$\pm 20^\circ$

محدوده انحراف اندازه‌ها برای اندازه‌های شعاع قوس‌ها، بخ‌ها و ارتفاع خزینه‌ها (بر حسب میلی‌متر)

اندازه نامی	درجه تولرانس	از ۰/۵ تا ۳	بالای ۳ تا ۶	بالای ۶
ظریف f	f	± 0.2	± 0.5	± 1
متوسط m				
خشن c	c	± 0.4	± 1	± 2
خیلی خشن v	v			

نقشه در حرفه‌های مختلف

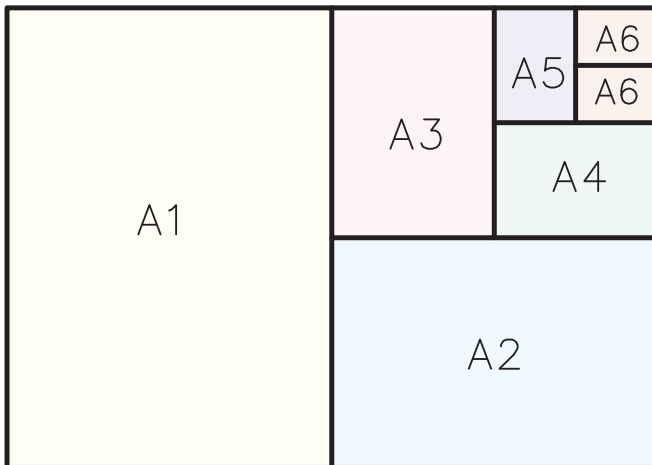
با آنکه مطالب و عناوین پایه در همه نقشه‌کشی‌ها یکسان است، اما نقشه‌ها در حرفه‌های مختلف تفاوت‌هایی را با هم خواهند داشت. به نمونه‌هایی نگاه کنید.

 <p>ریخته‌گری</p>	 <p>ماشین ابزار</p>
 <p>صنایع چوب</p>	 <p>ساختمان</p>
 <p>الکترونیک</p>	 <p>برق</p>
 <p>صنایع فلزی</p>	 <p>تاسیسات</p>

DIN	آلمان	AS	استرالیا	ISIRI	ایران
ASA	آمریکا	BS	انگلستان	UNI	ایتالیا
FN	فرانسه	Gost	روسیه	CAS	چین
				CSA	کانادا

ضمناً استانداردهای ISO در مورد نقشه‌کشی (و نیز در موارد دیگر) با یک شماره منتشر می‌شوند. برای نمونه به چند مورد توجه کنید (که پس از انتشار تا زمانی که منسوخه اعلام نشوند اعتبار خواهند داشت). برای نمونه:

ISO - ۱۲۸	اصول نقشه‌کشی
ISO - ۱۲۹	اندازه‌گذاری
ISO - ۲۰۶	تولرانس‌های ابعادی
ISO - ۱۱۰۱	تولرانس‌های هندسی
ISO - ۲۷۶۸	تولرانس‌های هندسی




$$A_0 = 1\text{m}^2 = 1000000\text{mm}^2$$

$$\frac{a}{b} = \sqrt{2}$$

اندازه کاغذهای نقشه‌کشی برحسب میلی‌متر

A_0	۱۱۸۹×۸۴۱	A_3	۴۲۰×۲۹۷
A_1	۸۴۱×۵۹۴	A_4	۲۹۷×۲۱۰
A_2	۵۹۴×۴۲۰	A_5	۲۱۰×۱۴۸

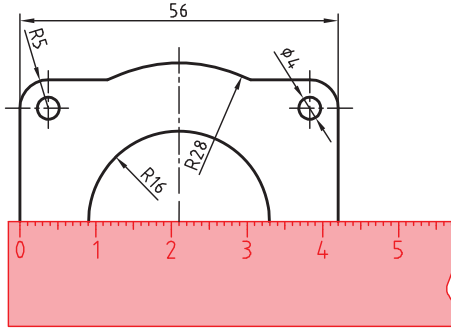
این جدول، گروه‌های خط و کاربرد آنها در کاغذهای گوناگون را نشان می‌دهد.

مناسب برای کاغذ	پهنای خط اصلی	خط نازک d''	خط متوسط d'	خط اصلی d	گروه
خیلی بزرگ		۱	۱/۴	۲	۱
A_0		۰/۷	۱	۱/۴	۲
A_0		۰/۵	۰/۷	۱	۳
$A_0 - A_1$		۰/۳۵	۰/۵	۰/۷	۴
$A_0 - A_1 - A_2 - (A_3)$		۰/۲۵	۰/۳۵	۰/۵	۵
$A_2 - A_3 - A_4$		۰/۱۸	۰/۲۵	۰/۳۵	۶
$A_4 - A_5$		۰/۱۳	۰/۱۸	۰/۲۵	۷

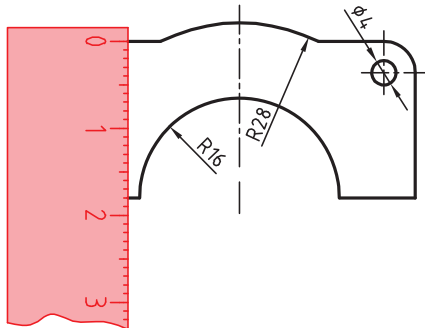
تعیین مقیاس نقشه

گاهی با تصویربرداری، چاپ یا کپی نقشه، مقیاس آن تغییر می‌کند. برای تعیین مقیاس نقشه‌ای که دارای اندازه‌گذاری است باید یکی از اندازه‌های طولی (ترجیحاً یکی از اندازه‌های بزرگ‌تر) را با خط‌کش اندازه‌گیری کرد و آن را بر عدد اندازه‌ای که روی نقشه نوشته شده است تقسیم نمود تا مقیاس نقشه به دست آید. با داشتن مقیاس می‌توان بقیه طول‌هایی که اندازه‌گذاری نشده‌اند را نیز تعیین کرد.

در نقشه داده شده، طول قطعه ۴۲ میلی‌متر اندازه‌گیری شده است. بنابراین مقیاس نقشه $0/75$ یا



است. ارتفاع قطعه نیز که اندازه‌گذاری نشده است با خط‌کش ۱۸ میلی‌متر اندازه‌گیری شد که در واقع $24 = \frac{18}{0/75}$ میلی‌متر است.



الف) قطر دایره محیطی چندضلعی منتظم معین است. طبق جدول می‌توان با توجه به تعداد ضلع چندضلعی (n) و قطر دایره محیطی (D)، ضریب K مشخص است. پس دهانه پرگار به اندازه $LN=KD$ باز و دایره تقسیم می‌شود (Ln طول ضلع چندضلعی).

'K	n	'K	n	'K	n	'K	n
۲۴,۱۹۸۵	۷۶	۱۶,۸۸۰۳	۵۱	۸,۹۳۱۴	۲۶	---	۱
۲۴,۵۱۶۷	۷۷	۱۷,۱۹۸۴	۵۲	۹,۲۴۹۱	۲۷	---	۲
۲۴,۸۳۴۹	۷۸	۱۷,۵۱۶۶	۵۳	۹,۵۶۶۸	۲۸	۱,۱۵۴۷	۳
۲۵,۱۵۳۱	۷۹	۱۷,۸۳۴۷	۵۴	۹,۸۸۴۵	۲۹	۱,۴۱۴۲	۴
۲۵,۴۷۱۴	۸۰	۱۸,۱۵۲۹	۵۵	۱۰,۲۰۲۳	۳۰	۱,۷۰۱۳	۵
۲۵,۷۸۹۶	۸۱	۱۸,۴۷۱۰	۵۶	۱۰,۵۲۰۱	۳۱	۲,۰۰۰۰	۶
۲۶,۱۰۷۸	۸۲	۱۸,۷۸۹۲	۵۷	۱۰,۸۳۸۰	۳۲	۲,۳۰۴۸	۷
۲۶,۴۲۶۱	۸۳	۱۹,۱۰۷۳	۵۸	۱۱,۱۵۵۸	۳۳	۲,۶۱۳۱	۸
۲۶,۷۴۴۳	۸۴	۱۹,۴۲۵۵	۵۹	۱۱,۴۷۳۷	۳۴	۲,۹۲۳۸	۹
۲۷,۰۶۲۵	۸۵	۱۹,۷۴۳۷	۶۰	۱۱,۷۹۱۶	۳۵	۳,۲۳۶۱	۱۰
۲۷,۳۸۰۸	۸۶	۲۰,۰۶۱۹	۶۱	۱۲,۱۰۹۶	۳۶	۳,۵۴۹۵	۱۱
۲۷,۶۹۹۰	۸۷	۲۰,۳۸۰۰	۶۲	۱۲,۴۲۷۵	۳۷	۳,۸۶۳۷	۱۲
۲۸,۰۱۷۲	۸۸	۲۰,۶۹۸۲	۶۳	۱۲,۷۴۵۵	۳۸	۴,۱۷۸۶	۱۳
۲۸,۳۳۵۵	۸۹	۲۱,۰۱۶۴	۶۴	۱۳,۰۶۳۵	۳۹	۴,۴۹۴۰	۱۴
۲۸,۶۵۳۷	۹۰	۲۱,۳۳۴۶	۶۵	۱۳,۳۸۱۵	۴۰	۴,۸۰۹۷	۱۵
۲۸,۹۷۲۰	۹۱	۲۱,۶۵۲۸	۶۶	۱۳,۶۹۹۵	۴۱	۵,۱۲۵۸	۱۶
۲۹,۲۹۰۲	۹۲	۲۱,۹۷۱۰	۶۷	۱۴,۰۱۷۶	۴۲	۵,۴۴۲۲	۱۷
۲۹,۶۰۸۵	۹۳	۲۲,۲۸۹۲	۶۸	۱۴,۳۳۵۶	۴۳	۵,۷۵۸۸	۱۸
۲۹,۹۲۶۷	۹۴	۲۲,۶۰۷۴	۶۹	۱۴,۶۵۳۷	۴۴	۶,۰۷۵۵	۱۹
۳۰,۲۴۵۰	۹۵	۲۲,۹۲۵۶	۷۰	۱۴,۹۷۱۷	۴۵	۶,۳۹۲۵	۲۰
۳۰,۵۶۳۲	۹۶	۲۳,۲۴۳۸	۷۱	۱۵,۲۸۹۸	۴۶	۶,۷۰۹۵	۲۱
۳۰,۸۸۱۵	۹۷	۲۳,۵۶۲۰	۷۲	۱۵,۶۰۷۹	۴۷	۷,۰۲۶۷	۲۲
۳۱,۱۹۹۷	۹۸	۲۳,۸۸۰۲	۷۳	۱۵,۹۲۶۰	۴۸	۷,۳۴۳۹	۲۳
۳۱,۵۱۸۰	۹۹	۱۶,۸۸۰۳	۷۴	۱۶,۲۴۴۱	۴۹	۷,۶۶۱۳	۲۴
۳۱,۸۳۶۳	۱۰۰	۱۷,۱۹۸۴	۷۵	۱۶,۵۶۲۲	۵۰	۸,۰۱۳۸	۲۵

ب) و در صورت داشتن طول چندضلعی می‌توان پس از به دست آوردن قطر دایره محیطی طبق

$$\text{رابطه } D = \frac{L_n}{\sin \frac{180^\circ}{n}} = L_n \times K' \text{ را می‌دهد. جدول ضرایب } K' \text{ آن را در دایره ساخت.}$$

'K	n	'K	n	'K	n	'K	n
۲۴,۱۹۸۵	۷۶	۱۶,۸۸۰۳	۵۱	۸,۹۳۱۴	۲۶	---	۱
۲۴,۵۱۶۷	۷۷	۱۷,۱۹۸۴	۵۲	۹,۲۴۹۱	۲۷	---	۲
۲۴,۸۳۴۹	۷۸	۱۷,۵۱۶۶	۵۳	۹,۵۶۶۸	۲۸	۱,۱۵۴۷	۳
۲۵,۱۵۳۱	۷۹	۱۷,۸۳۴۷	۵۴	۹,۸۸۴۵	۲۹	۱,۴۱۴۲	۴
۲۵,۴۷۱۴	۸۰	۱۸,۱۵۲۹	۵۵	۱۰,۲۰۲۳	۳۰	۱,۷۰۱۳	۵
۲۵,۷۸۹۶	۸۱	۱۸,۴۷۱۰	۵۶	۱۰,۵۲۰۱	۳۱	۲,۰۰۰۰	۶
۲۶,۱۰۷۸	۸۲	۱۸,۷۸۹۲	۵۷	۱۰,۸۳۸۰	۳۲	۲,۳۰۴۸	۷
۲۶,۴۲۶۱	۸۳	۱۹,۱۰۷۳	۵۸	۱۱,۱۵۵۸	۳۳	۲,۶۱۳۱	۸
۲۶,۷۴۴۳	۸۴	۱۹,۴۲۵۵	۵۹	۱۱,۴۷۳۷	۳۴	۲,۹۲۳۸	۹
۲۷,۰۶۲۵	۸۵	۱۹,۷۴۳۷	۶۰	۱۱,۷۹۱۶	۳۵	۳,۲۳۶۱	۱۰
۲۷,۳۸۰۸	۸۶	۲۰,۰۶۱۹	۶۱	۱۲,۱۰۹۶	۳۶	۳,۵۴۹۵	۱۱
۲۷,۶۹۹۰	۸۷	۲۰,۳۸۰۰	۶۲	۱۲,۴۲۷۵	۳۷	۳,۸۶۳۷	۱۲
۲۸,۰۱۷۲	۸۸	۲۰,۶۹۸۲	۶۳	۱۲,۷۴۵۵	۳۸	۴,۱۷۸۶	۱۳
۲۸,۳۳۵۵	۸۹	۲۱,۰۱۶۴	۶۴	۱۳,۰۶۳۵	۳۹	۴,۴۹۴۰	۱۴
۲۸,۶۵۳۷	۹۰	۲۱,۳۳۴۶	۶۵	۱۳,۳۸۱۵	۴۰	۴,۸۰۹۷	۱۵
۲۸,۹۷۲۰	۹۱	۲۱,۶۵۲۸	۶۶	۱۳,۶۹۹۵	۴۱	۵,۱۲۵۸	۱۶
۲۹,۲۹۰۲	۹۲	۲۱,۹۷۱۰	۶۷	۱۴,۰۱۷۶	۴۲	۵,۴۴۲۲	۱۷
۲۹,۶۰۸۵	۹۳	۲۲,۲۸۹۲	۶۸	۱۴,۳۳۵۶	۴۳	۵,۷۵۸۸	۱۸
۲۹,۹۲۶۷	۹۴	۲۲,۶۰۷۴	۶۹	۱۴,۶۵۳۷	۴۴	۶,۰۷۵۵	۱۹
۳۰,۲۴۵۰	۹۵	۲۲,۹۲۵۶	۷۰	۱۴,۹۷۱۷	۴۵	۶,۳۹۲۵	۲۰
۳۰,۵۶۳۲	۹۶	۲۳,۲۴۳۸	۷۱	۱۵,۲۸۹۸	۴۶	۶,۷۰۹۵	۲۱
۳۰,۸۸۱۵	۹۷	۲۳,۵۶۲۰	۷۲	۱۵,۶۰۷۹	۴۷	۷,۰۲۶۷	۲۲
۳۱,۱۹۹۷	۹۸	۲۳,۸۸۰۲	۷۳	۱۵,۹۲۶۰	۴۸	۷,۳۴۳۹	۲۳
۳۱,۵۱۸۰	۹۹	۱۶,۸۸۰۳	۷۴	۱۶,۲۴۴۱	۴۹	۷,۶۶۱۳	۲۴
۳۱,۸۳۶۳	۱۰۰	۱۷,۱۹۸۴	۷۵	۱۶,۵۶۲۲	۵۰	۸,۰۱۳۸	۲۵

خط مماس بر دایره از نقطه‌ای خارج از دایره

روش اول: به کمک دو گونیا

۱ ابتدا یک ضلع قائمه گونیا را طوری قرار دهید که از نقطه A گذشته و بر دایره به صورت ظاهری مماس باشد.

۲ گونیای دوم را زیر گونیای اول قرار دهید.

۳ در حالی که گونیای دوم ثابت است گونیای اول را طوری حرکت دهید که لبه قائمه آن از مرکز دایره بگذرد. در این حالت روی دایره یک خط نازک رسم کنید.

۴ حال با مشخص شدن نقطه مماس، خط مماس را رسم کنید.

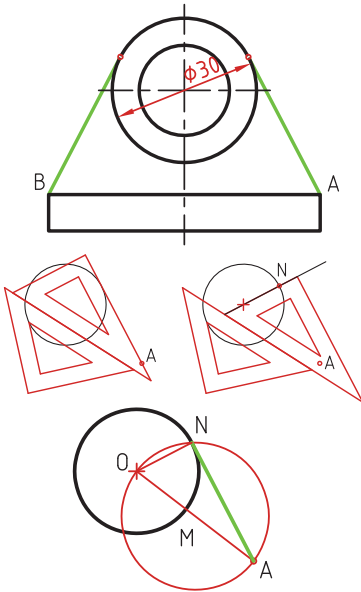
روش دوم: ترسیمی

۱ خطی از نقطه A به مرکز دایره رسم کنید.

۲ نقطه M وسط OA را پیدا کنید.

۳ به مرکز M دایره MA را رسم کنید.

۴ نقطه N محل تقاطع دو دایره نقطه مماس است.



خط مماس دو دایره

۱ ابتدا یک ضلع قائمه گونیا را طوری قرار دهید که بر دایره به صورت ظاهری مماس باشد.

۲ گونیای دوم را زیر گونیای اول قرار دهید.

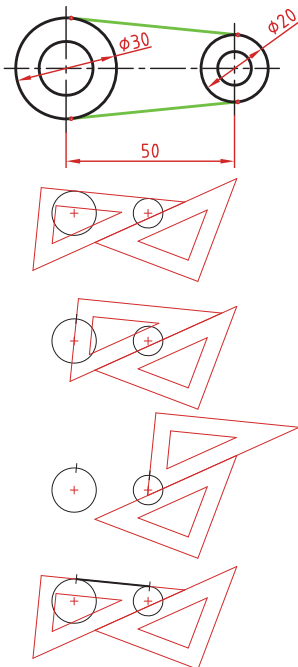
۳ در حالی که گونیای دوم ثابت است گونیای اول را طوری حرکت دهید که لبه قائمه آن از مرکز دایره بگذرد. در این حالت روی دایره یک خط نازک رسم کنید.

۴ برای دایره دوم نیز همین مرحله را تکرار کنید.

۵ حال با مشخص شدن نقاط مماس، خط مماس را رسم کنید.

رسم قوس‌های مماس

۶ برای ترسیم قوس مماس علاوه بر معلوم بودن شعاع مماس نیاز به مشخص کردن نقاط مماس و مرکز قوس مماس است.

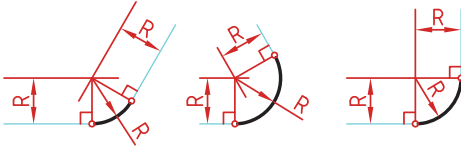
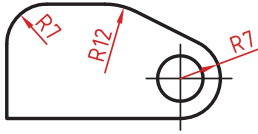


مماس بین دو خط متقاطع

۱ خطی موازی ضلع اول به فاصله R رسم کنید.

۲ خطی موازی ضلع دوم به فاصله R رسم کنید. محل تقاطع این دو خط مرکز قوس مماس است.

۳ از مرکز مماس بر اضلاع عمود کنید تا نقاط مماس به دست آید.

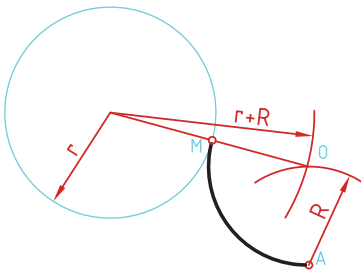
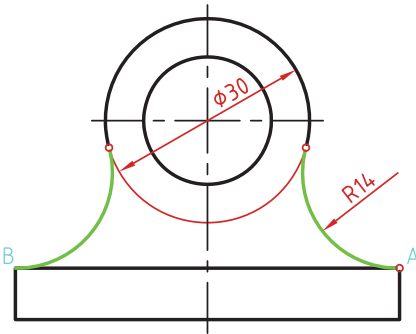


مماس از یک نقطه بر دایره

۱ به مرکز A کمانی به شعاع R (شعاع معلوم مماس) رسم کنید.

۲ به مرکز دایره کمانی به شعاع $r+R$ (شعاع دایره به علاوه شعاع معلوم مماس) رسم کنید. محل تقاطع این دو کمان (O) مرکز قوس مماس است.

۳ از مرکز مماس، خطی به مرکز دایره رسم کنید تا نقطه مماس M به دست آید.



مماس بین خط و دایره

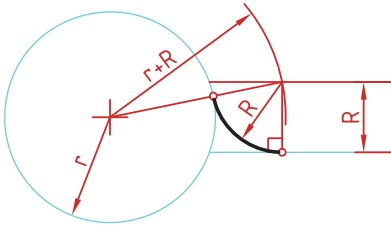
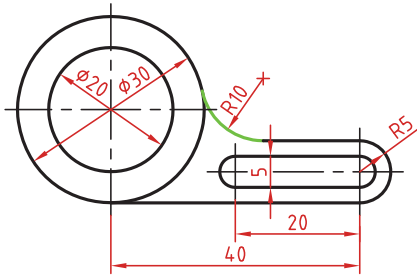
برای تعیین مرکز قوس مماس باید ابتدا توجه نمود که مماس در داخل دایره و یا خارج دایره و همین‌طور در کدام سمت خط قرار دارد. در صورتی که مماس داخل دایره باشد از $r-R$ و اگر خارج دایره بود از $r+R$ برای شعاع کمان استفاده کنید.

۱ خطی موازی خط به فاصله R رسم کنید (بالای خط).

۲ کمانی به شعاع $r+R$ (شعاع دایره به علاوه شعاع معلوم مماس) رسم کنید. محل تقاطع این خط و کمان، مرکز قوس مماس است.

۳ از مرکز مماس بر خط عمود کنید تا نقطه مماس روی خط به دست آید.

۴ از مرکز مماس خطی به مرکز دایره رسم کنید تا نقطه مماس روی دایره نیز به دست آید.



مماس بین دو دایره (مماس خارج)

در این مماس فاصله مرکز قوس مماس با مرکز دایره مجموع دو شعاع است. دایره‌های معلوم را در موقعیت مورد نظر ترسیم کنید.

کمانی به شعاع r_1+R (شعاع دایره اول به علاوه شعاع معلوم مماس) رسم کنید.

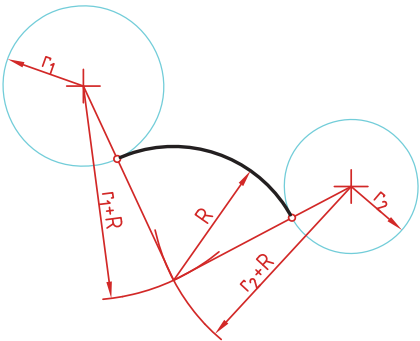
کمانی به شعاع r_2+R (شعاع دایره دوم به علاوه شعاع معلوم مماس) رسم کنید.

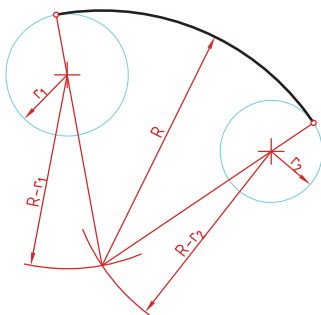
از مرکز مماس، خطی به مرکز دایره اول رسم کنید تا نقطه مماس روی این دایره به دست آید.

از مرکز مماس خطی به مرکز دایره دوم رسم کنید تا نقطه مماس روی این دایره نیز به دست آید.

مماس بین دو دایره (مماس داخل)

در این مماس فاصله مرکز قوس مماس با مرکز دایره تفاضل شعاع مماس با شعاع دایره است.

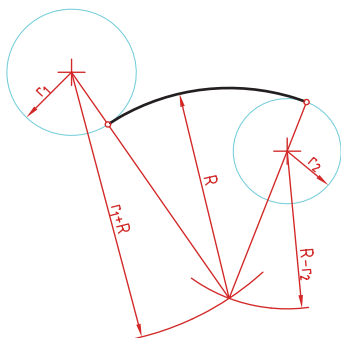




دایره‌های معلوم را در موقعیت مورد نظر ترسیم کنید.
 از مرکز دایره اول کمانی به شعاع $R - r_1$ (شعاع مماس منهای دایره اول) رسم کنید.
 از مرکز دایره دوم کمانی به شعاع $R - r_2$ (شعاع مماس منهای دایره دوم) رسم کنید.
 از مرکز مماس خطی به مرکز دایره اول رسم کرده و امتداد دهید تا نقطه مماس روی این دایره به دست آید.
 از مرکز مماس خطی به مرکز دایره دوم رسم کرده و امتداد دهید تا نقطه مماس روی این دایره نیز به دست آید.

مماس محدب مقعر (مماس ترکیبی)

در این مماس فاصله مرکز قوس مماس با مرکز یکی از دایره‌ها مجموع دو شعاع است و با دایره دیگر تفاضل شعاع مماس با شعاع دایره است.

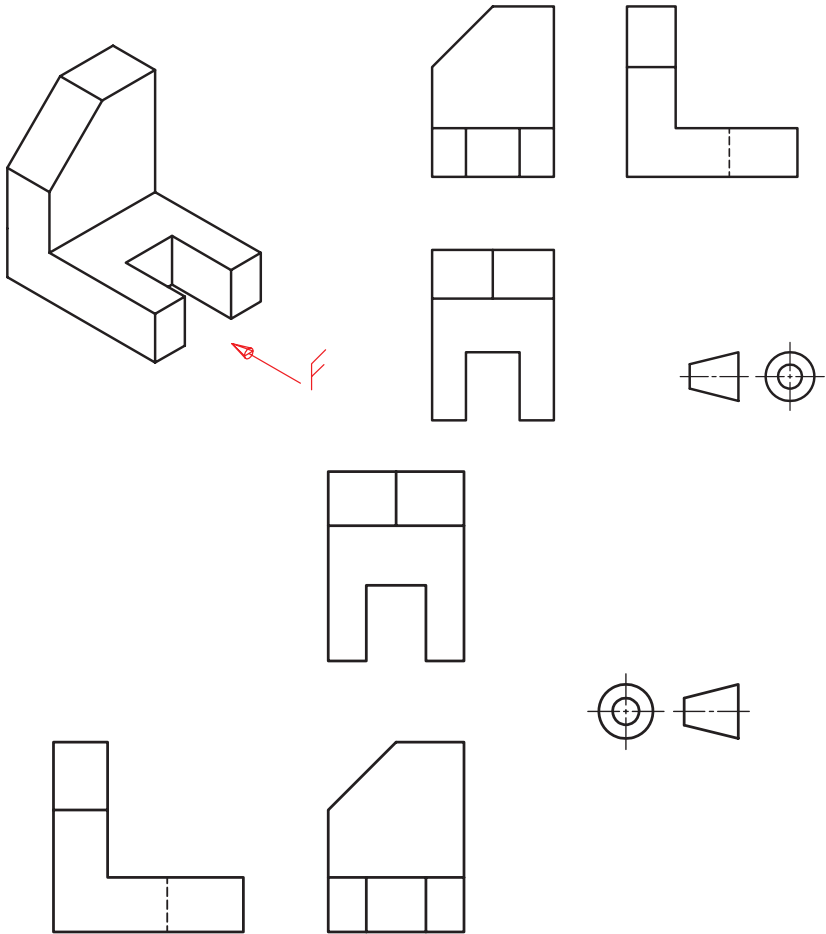


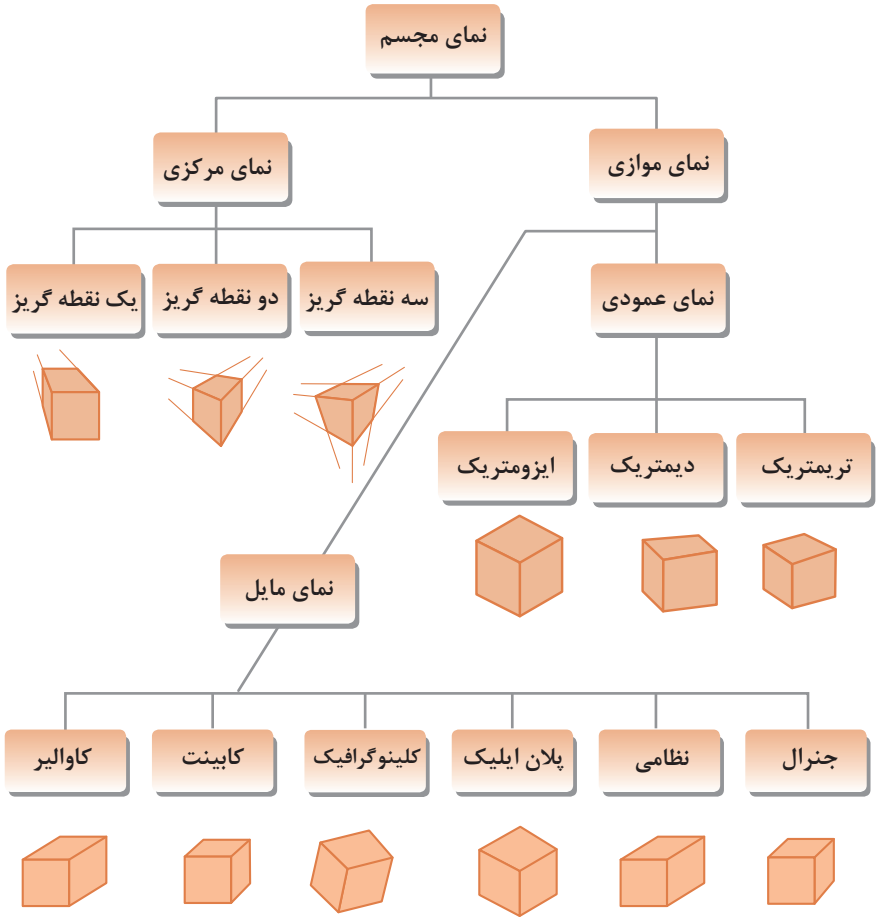
دایره‌های معلوم را در موقعیت مورد نظر ترسیم کنید.
 کمانی به شعاع $r_1 + R$ (شعاع دایره‌ای که خارج از قوس مماس قرار دارد به علاوه شعاع معلوم قوس مماس) رسم کنید.
 کمانی به شعاع $R - r_2$ (شعاع مماس منهای شعاع دایره‌ای که داخل قوس مماس قرار دارد) رسم کنید.
 از مرکز مماس خطی به مرکز دایره اول رسم کنید تا نقطه مماس روی این دایره به دست آید.
 از مرکز مماس خطی به مرکز دایره دوم رسم کرده و امتداد دهید تا نقطه مماس روی این دایره نیز به دست آید.

رسم نما (در روش‌های مختلف)

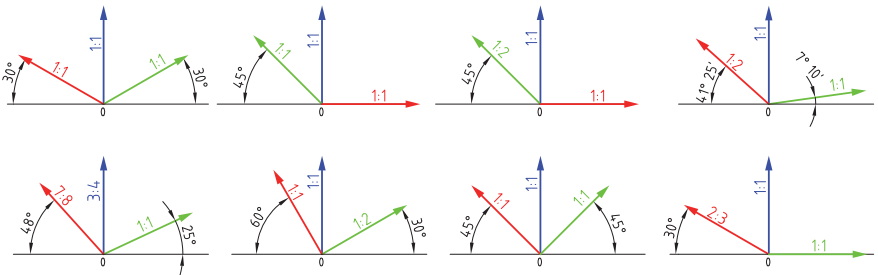
رسم نما از قطعات در دو روش فرجهٔ اول و فرجهٔ سوم انجام می‌شود. فرجهٔ اول را با علامت‌های E یا $\ominus \oplus$ مشخص می‌کنند. در ایران این روش متداول است. در این روش نمای افقی در زیر نمای روبه‌رو و دید از چپ در سمت راست نمای روبه‌رو ترسیم می‌شود.

در فرجهٔ سوم که با A یا $\oplus \ominus$ مشخص می‌شود، نمای از بالا در بالای نمای روبه‌رو و دید از راست در سمت راست نمای روبه‌رو رسم می‌شود.





زاویه و مقیاس انواع تصویر مجسم موازی



روش ترسیم دایره در تصویر مجسم ایزومتريک

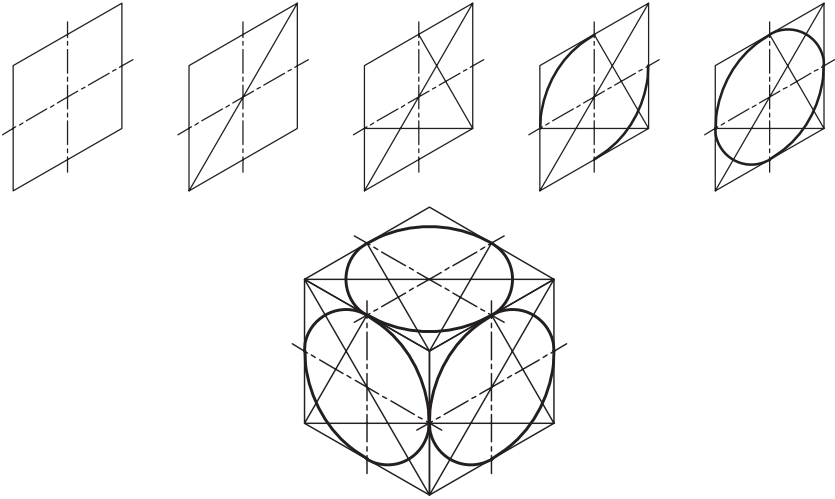
مرحله ۱- ترسیم خطوط محور

مرحله ۲- ترسیم خطوط موازی با محورها به فاصله شعاع دایره از مرکز به طوری که یک متوازی الاضلاع تشکیل شود.

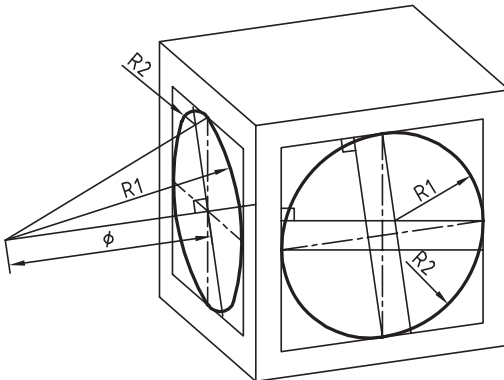
مرحله ۳- ترسیم خطوط از گوشه باز متوازی الاضلاع به محل تقاطع محورها با اضلاع

مرحله ۴- ترسیم قوس‌های بزرگ به مرکزیت گوشه باز متوازی الاضلاع

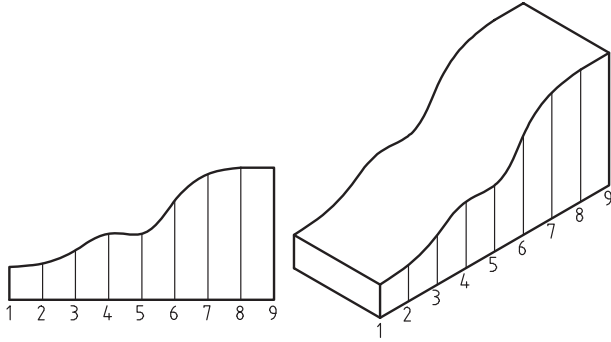
مرحله ۵- ترسیم قوس‌های کوچک به مرکزیت محل تقاطع خطوط ترسیمی از گوشه‌ها



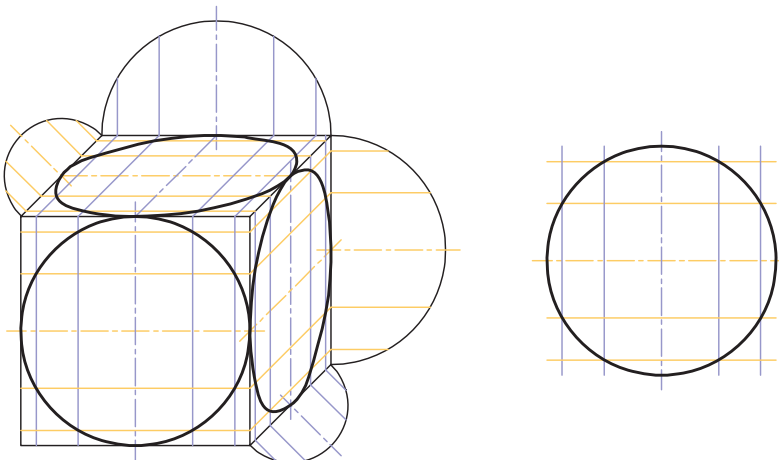
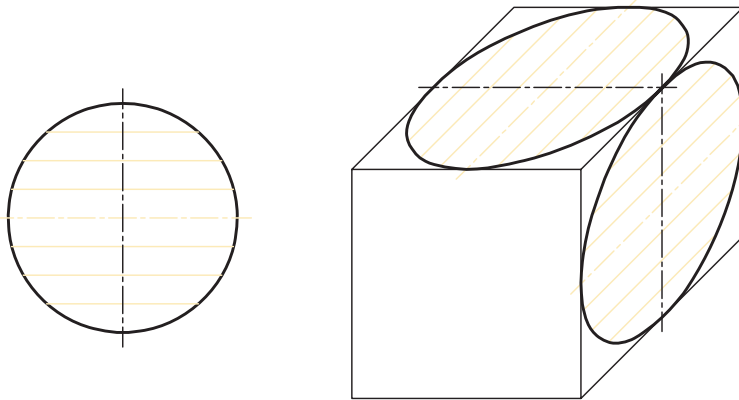
ترسیم دایره در تصویر مجسم دیمتریک



ترسیم منحنی‌های نامنظم در تصویر مجسم



روش ترسیم دایره به روش نقطه‌یابی در تصویر مجسم



اصول و قواعد برش براساس استاندارد ISO

اصول زیر در مورد هاشور در برش باید رعایت شود:

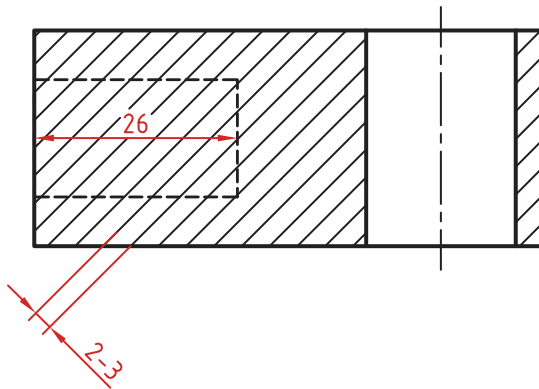
هاشور با خط نازک رسم می‌شود. فاصله هاشورها بین ۲ تا ۳ میلی‌متر در کاغذهای A۳ و A۴ مناسب است.


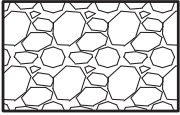
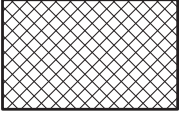
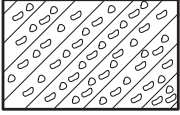
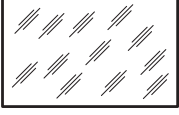


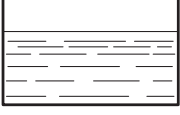

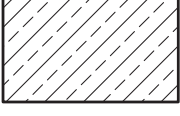
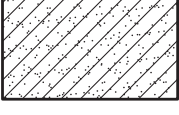

زاویه هاشورها معمولاً ۴۵ درجه است. هاشور به خط چین تکیه نمی‌کند. هاشور می‌تواند گاهی به خط محور یا خط نازک متکی شود.

هاشور از روی خط اصلی نمی‌گذرد. در داخل هاشور می‌توان اندازه‌گذاری کرد (در محل نوشتن عدد اندازه، باید خطوط هاشور پاک شود).

هاشور در سطوح بزرگ می‌تواند ناقص باشد. در قطعات با ضخامت کم می‌توان به جای هاشور سطح را سیاه کرد.

قطعات کنار یکدیگر در برش را می‌توان کمی نسبت به هم فاصله داد. هاشورهای معرفی شده عمومی است، اما برای برخی مواد هاشور مخصوص وجود دارد.



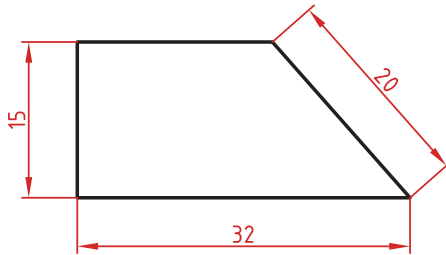
	فولاد- فلزات سخت - چدن		بتن
	غیر فلزات به استثنای آنها که در جدول هست و همچنین برخی فلزات نرم مثل روی و سرب		بتن مسلح
	شیشه و سایر اجسام شفاف		آجر
	چوب در جهت الیاف		مایعات
	چوب در مقطع		آجر نسوز - آجر ضد اسید
	شن و ماسه		خاک

اصول اندازه گذاری مطابق ISO – ۱۲۹

در نقشه هیچ اندازه‌ای نباید تکرار شود.
نقشه باید کاملاً اندازه‌گذاری شود و نیاز به اندازه دیگری نداشته باشد.
واحد اندازه‌گیری در نقشه‌های صنعتی میلی‌متر است و باید اندازه واقعی قطعه نوشته شود.
اندازه‌های کوچک‌تر قبل از اندازه‌های بزرگ‌تر درج شود تا خطوط اندازه و رابط یکدیگر را قطع نکنند.
فلش اندازه می‌تواند به خط اصلی و در صورت نیاز به خط‌چین تکیه کند.
اندازه‌ها را می‌توان در صورت نیاز داخل نقشه و روی نماهای مختلف درج کرد.
اندازه هر جزء باید در جایی درج شود که بهتر آن جزء را نمایش دهد.
اجزای یک اندازه باید تماماً در یک نما باشد.

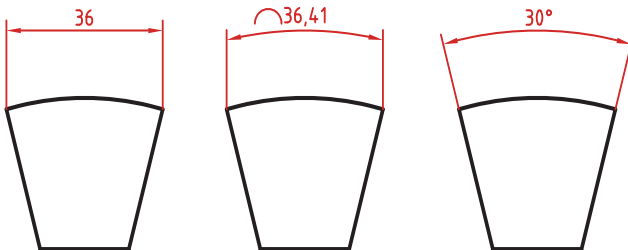
اندازه‌گذاری طولی

این اندازه‌ها شامل اندازه‌های افقی، عمودی و مورب است.
در اندازه‌های افقی عدد اندازه وسط خط اندازه و بالای آن نوشته می‌شود.
در اندازه‌های عمودی عدد اندازه وسط خط اندازه و سمت چپ آن (از پایین به بالا) نوشته می‌شود.



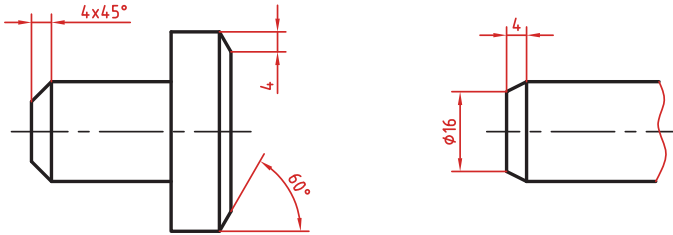
اندازه‌گذاری طول کمان، طول وتر و زاویه رأس کمان

در اندازه‌گذاری طول کمان، قبل از عدد اندازه و یا بالای آن یک کمان گذاشته می‌شود.
اگر زاویه رأس کمان بیشتر از 90° درجه باشد، خطوط رابط اندازه به صورت شعاعی خواهد بود.



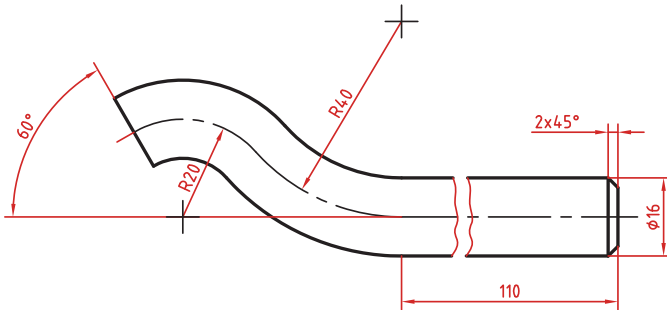
اندازه‌گذاری پخ‌ها

پخ‌های ۴۵ درجه با یک اندازه طولی مشخص می‌شود.
پخ‌های غیر ۴۵ درجه با یک اندازه طولی و یک زاویه و یا دو اندازه طولی نشان داده می‌شوند.



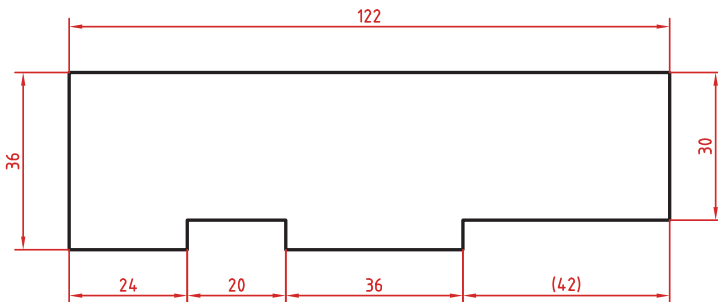
اندازه کوتاه شده

اگر طول قطعه‌ای که دارای شکلی یکنواخت است زیاد باشد می‌توان آن را با خط شکسته کوتاه کرد اما اندازه آن باید کامل نوشته شود.



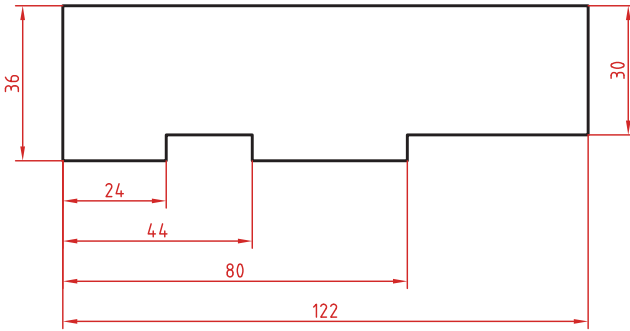
اندازه‌گذاری زنجیره‌ای

در این روش تمام اندازه‌ها به صورت ردیفی روی یک خط اندازه مشترک داده می‌شود. انتهای یک اندازه، ابتدای اندازه بعدی است.



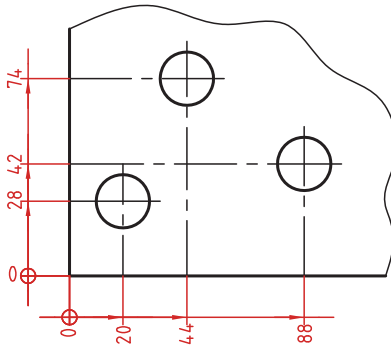
اندازه‌گذاری پله‌ای

در این روش اندازه‌ها نسبت به یک سطح مبنا گذاشته می‌شوند. فاصله بین خطوط اندازه ۷ میلی‌متر است.



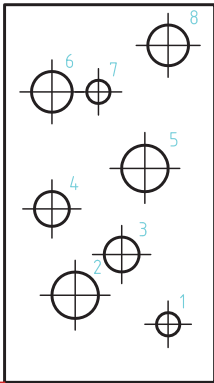
اندازه‌گذاری مختصاتی

در این روش اندازه‌ها نسبت به یک نقطه مشترک (نقطه صفر یا نقطه مبنا) گذاشته می‌شوند.



اندازه‌گذاری جدولی

برای اندازه‌گذاری موقعیت سوراخ‌ها زمانی که تعداد آنها زیاد باشد از این روش استفاده می‌شود. در جدول علاوه بر موقعیت مرکز سوراخ می‌توان قطر، عمق و دیگر مشخصات سوراخ را نیز قید کرد.



	X	Y	φ
1	56	20	8
2	24	30	16
3	40	44	12
4	16	60	12
5	48	74	16
6	16	100	14
7	24	100	8
8	56	116	14

علائم و نشانه‌ها

علائم و نشانه‌هایی که در اندازه‌گذاری مورد استفاده قرار می‌گیرند عبارت‌اند از:
 ϕ (فی): قبل از عدد اندازه قطر دایره نوشته می‌شود.

R: همیشه قبل از عدد اندازه شعاع دایره و کمان حرف R گذاشته می‌شود.

S: قبل از درج شعاع یا قطر کره باید حرف S که مخفف (Sphere) است آورده شود.

$^{\circ}$ (علامت درجه): در اندازه‌گذاری زاویه باید حتماً علامت درجه و در صورت نیز علامت دقیقه و ثانیه درج شود.

\square (مربع): اگر اندازه مربوط به یک مقطع مربعی باشد قبل از عدد اندازه علامت مربع درج می‌شود.

\square (کمان): در اندازه‌گذاری طول کمان قبل یا بالای عدد اندازه کمان گذاشته می‌شود.

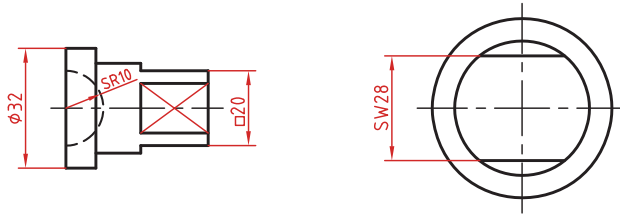
SW: آچارخور را با حروف SW نمایش می‌دهند.

t: ضخامت قطعه کار را با حرف t نشان می‌دهند.

(): اندازه‌های کمکی داخل پرانتز نوشته می‌شود.

—: زیر اعداد اندازه‌هایی که با مقیاس نمی‌خواند خط کشیده می‌شود.

\square : اندازه خام و پیش‌ساخته قطعه را داخل کروشه نشان می‌دهند.



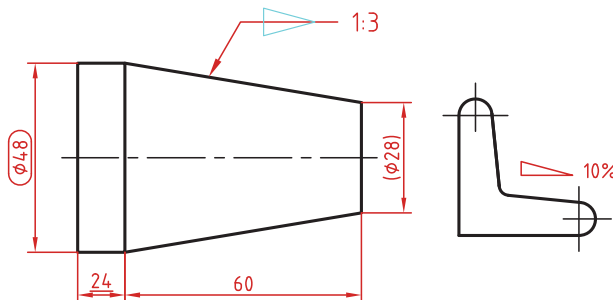
کادر گرد: اندازه‌های بازرسی و کنترل و اندازه‌هایی که با دقت خاصی توسط سفارش‌دهنده خواسته شده است در کادر گرد قرار می‌گیرد.

کادر چهارگوش: اندازه‌های دقیق تئوری در کادر چهارگوش قرار می‌گیرد.

\blacktriangleleft : شیب سطوح را به درصد یا به صورت یک نسبت عددی بعد از این علامت که جهت آن باید مطابق با شیب سطح باشد نشان می‌دهند.

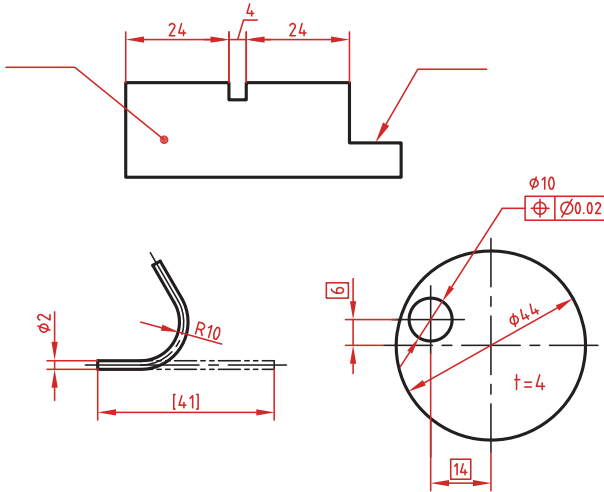
\blacktriangleright : میزان باریک‌شدگی مخروط و هرم به صورت یک نسبت عددی بعد از این علامت نوشته می‌شود. جهت این علامت نیز باید مطابق با باریک شدن قطعه باشد.

به نقشه‌های زیر که علائم فوق در آنها نشان داده شده است دقت کنید.

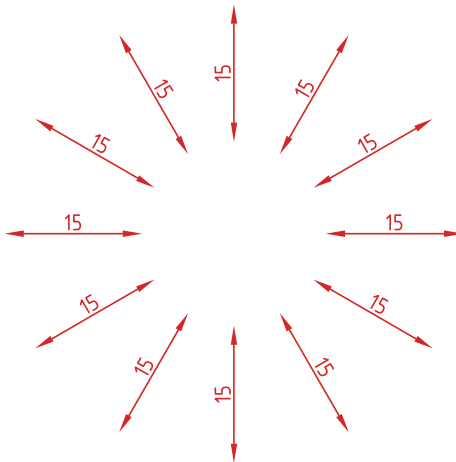


خط راهنما

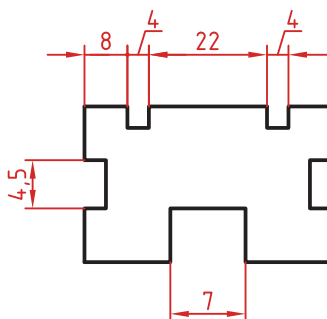
خط راهنما خطی است که به یک جزء اشاره می‌کند و اطلاعاتی را به آن نسبت می‌دهد. اگر انتهای خط راهنما داخل جزء باشد با یک نقطه توپر نشان داده می‌شود. اگر خط راهنما به لبه یک جزء اشاره کند با فلش معمولی نشان داده می‌شود. انتهای خطوط راهنمایی که به یک خط اندازه یا خط راهنمای دیگر اشاره می‌کنند فلش یا نقطه توپر گذاشته نمی‌شود.



در اندازه‌های مورب عدد اندازه طبق الگوی زیر نوشته می‌شود.

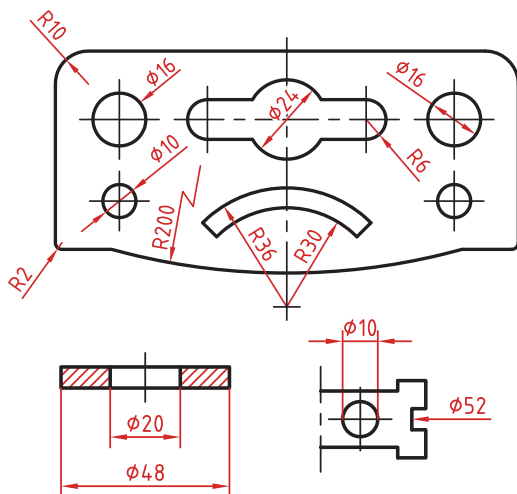


وقتی طول خط اندازه کمتر از ۱۰ میلی‌متر باشد فلش بیرون ترسیم می‌شود. عدد اندازه نیز اگر فضای کافی نداشته باشد می‌تواند در امتداد خط اندازه نوشته شود.
در اندازه‌های پی‌درپی اگر فضای کافی برای درج فلش توپر نباشد به جای آن از نقطه توپر استفاده می‌شود. در این اندازه‌ها اگر فضای کافی برای درج عدد اندازه نیز نباشد می‌توان با خط راهنما عدد اندازه را نمایش داد.



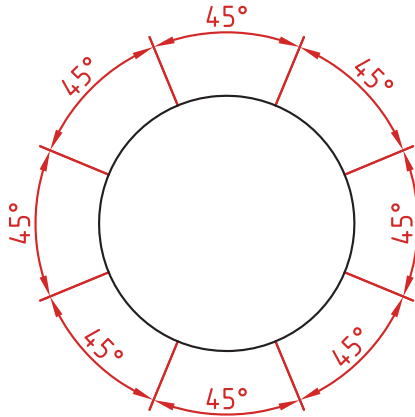
اندازه‌گذاری قطری و شعاعی

این اندازه‌ها شامل اندازه‌های قطر و شعاع دایره و کمان است.
اندازه‌گذاری شعاع با حرف R و اندازه‌گذاری قطر با حرف Φ نشان داده می‌شود.
خط اندازه یا امتداد آن باید از مرکز دایره بگذرد.
در صورتی که داخل دایره یا کمان جای کافی برای درج عدد اندازه و فلش نباشد می‌توان آنها را در بیرون درج کرد.
اندازه قطری را به صورت طولی نیز می‌توان ارائه کرد اما علامت Φ را نباید فراموش نمود.
اندازه قطری با یک فلش و بیرون دایره نیز قابل ارائه است.
در صورتی که مرکز دایره خارج از کادر و نقشه بوده و یا با ناهای دیگر تداخل داشته باشد می‌توان با شکستگی خط اندازه آن را کوتاه کرد.
قبل از عدد اندازه شعاع و قطر «کره» با حرف S نوشته شود.



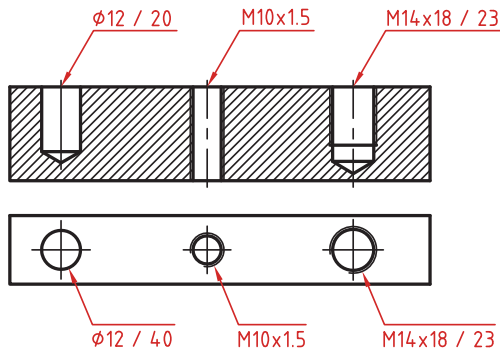
اندازه گذاری زاویه ای

خط رابط اندازه در امتداد اضلاع زاویه ترسیم می شود.
خط اندازه کمانی است که مرکز آن همان رأس زاویه است.
بعد از عدد اندازه علامت درجه گذاشته می شود.
جهت و موقعیت عدد اندازه زاویه مطابق با الگوی زیر است.



اندازه سوراخ

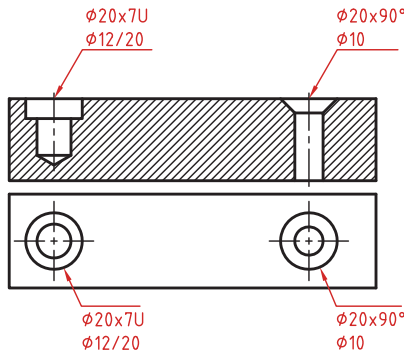
اطلاعات مربوط به سوراخ را در صورت لزوم می توان با یک اندازه نشان داد.
عمق سوراخ با یک اسلش از قطر سوراخ جدا می شود (۲۱ / ۲۰).
گام سوراخ با یک ضربدر از اندازه اسمی سوراخ جدا می شود (M۱۰ × ۱/۵).
طول رزوه و عمق سوراخ با یک اسلش از هم جدا می شوند (M۱۴ × ۱۸ / ۲۳).



سوراخ‌های پله‌دار زیر هم نوشته می‌شوند. اندازه بزرگ‌تر اول نوشته شده و

عمق پله با حرف U مشخص می‌شود $(\begin{matrix} U\ 2\ 0\ 5\ \Phi \\ 0\ 5\ \backslash\ 1\ 2\ \Phi \end{matrix})$.

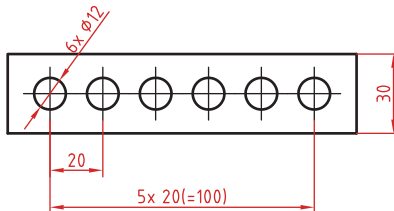
در سوراخ‌های خزینه‌دار قطر بزرگ و زاویه خزینه ابتدا نوشته می‌شود $(\begin{matrix} \Phi 20 \times 90^\circ \\ \Phi 10 \end{matrix})$.



اندازه‌گذاری عناصر تکراری

در اندازه‌گذاری عناصر و سوراخ‌های یکسان کافی است تعداد آنها را در ابتدای اندازه یکی از آنها ذکر کرد.

در عناصر تکراری یکی از عناصر به صورت مجزا اندازه‌گذاری می‌شود (مثلاً فاصله ۲۰ در شکل زیر). تعداد عناصر و اندازه بین آنها نوشته می‌شود. می‌توان فاصله کلی را نیز به صورت اندازه کمکی قید کرد.



اندازه جای خار

اندازه جای خار روی شفت وهاب ب شکل زیر توجه کنید.

